

Education Consultant India Ltd.

Notations :

- 1.Options shown in green color and with ✓ icon are correct.
- 2.Options shown in red color and with ✗ icon are incorrect.

Question Paper Name :	Junior Assistant 7
Subject Name :	Junior Assistant
Creation Date :	2021-08-31 11:52:48
Duration :	120
Total Marks :	200
Display Marks:	Yes
Calculator :	None
Magnifying Glass Required? :	No
Ruler Required? :	No
Eraser Required? :	No
Scratch Pad Required? :	No
Rough Sketch/Notepad Required? :	No
Protractor Required? :	No
Show Watermark on Console? :	Yes
Highlighter :	No
Auto Save on Console? (SA type of questions will be always auto saved) :	No

General Ability1

Group Number :	1
Group Id :	275228213
Group Maximum Duration :	0
Group Minimum Duration :	0

Show Attended Group? :	No
Edit Attended Group? :	No
Break time :	0
Group Marks :	20
Is this Group for Examiner? :	No

General Ability1

Section Id :	275228315
Section Number :	1
Section type :	Online
Mandatory or Optional :	Mandatory
Number of Questions :	20
Number of Questions to be attempted :	20
Section Marks :	20
Enable Mark as Answered Mark for Review and Clear Response :	Yes
Sub-Section Number :	1
Sub-Section Id :	275228378
Question Shuffling Allowed :	Yes

Question Number : 1 Question Id : 2752286034 Question Type : MCQ Option Shuffling : Yes Is Question Mandatory : No Option Orientation : Vertical

Correct Marks : 1 Wrong Marks : 0.25

Find the wrong term in the following series:

A, I, P, V, B, E

Options :

1. ✘ I
2. ✘ P
3. ✘ V
4. ✔ B

Question Number : 1 Question Id : 2752286034 Question Type : MCQ Option Shuffling : Yes Is Question Mandatory : No Option

Orientation : Vertical

Correct Marks : 1 Wrong Marks : 0.25

निम्नलिखित श्रृंखला में गलत पद ज्ञात करें:

A, I, P, V, B, E

Options :

1. ✘ I
2. ✘ P
3. ✘ V
4. ✔ B

Question Number : 2 Question Id : 2752286035 Question Type : MCQ Option Shuffling : Yes Is Question Mandatory : No Option

Orientation : Vertical

Correct Marks : 1 Wrong Marks : 0.25

Find the missing term in the following series:

DF, HJ, LN, _____, TV

Options :

1. ✔ PR
2. ✘ NQ
3. ✘ MP
4. ✘ PT

Question Number : 2 Question Id : 2752286035 Question Type : MCQ Option Shuffling : Yes Is Question Mandatory : No Option

Orientation : Vertical

Correct Marks : 1 Wrong Marks : 0.25

निम्नलिखित श्रृंखला में लुप्त पद ज्ञात करें:

DF, HJ, LN, _____, TV

Options :

1. ✔ PR
2. ✘ NQ
3. ✘ MP

4. ✖ PT

Question Number : 3 Question Id : 2752286036 Question Type : MCQ Option Shuffling : Yes Is Question Mandatory : No Option Orientation : Vertical

Correct Marks : 1 Wrong Marks : 0.25

Complete the following letter series:

HGF, MLK, RQP, WVU, _____

Options :

1. ✖ ACY
2. ✖ DCX
3. ✔ BAZ
4. ✖ CDW

Question Number : 3 Question Id : 2752286036 Question Type : MCQ Option Shuffling : Yes Is Question Mandatory : No Option Orientation : Vertical

Correct Marks : 1 Wrong Marks : 0.25

निम्नलिखित अक्षर श्रृंखला को पूरा करें:

HGF, MLK, RQP, WVU, _____

Options :

1. ✖ ACY
2. ✖ DCX
3. ✔ BAZ
4. ✖ CDW

Question Number : 4 Question Id : 2752286037 Question Type : MCQ Option Shuffling : Yes Is Question Mandatory : No Option Orientation : Vertical

Correct Marks : 1 Wrong Marks : 0.25

Find the missing term in the following series:

V3X, _____, P9R, M12O

Options :

1. ✘ S6V
2. ✔ S6U
3. ✘ Q6V
4. ✘ R6U

Question Number : 4 Question Id : 2752286037 Question Type : MCQ Option Shuffling : Yes Is Question Mandatory : No Option Orientation : Vertical

Correct Marks : 1 Wrong Marks : 0.25

निम्नलिखित श्रृंखला में लुप्त पद ज्ञात करें:

V3X, _____, P9R, M12O

Options :

1. ✘ S6V
2. ✔ S6U
3. ✘ Q6V
4. ✘ R6U

Question Number : 5 Question Id : 2752286038 Question Type : MCQ Option Shuffling : Yes Is Question Mandatory : No Option Orientation : Vertical

Correct Marks : 1 Wrong Marks : 0.25

Out of the given options, three are similar in a certain manner. However, one option is NOT like the other three. Select the option which is different from the rest.

Options :

1. ✘ Student : Class
2. ✘ Doctor: Hospital
3. ✘ Artist : Theatre
4. ✔ Chef : University

Question Number : 5 Question Id : 2752286038 Question Type : MCQ Option Shuffling : Yes Is Question Mandatory : No Option Orientation : Vertical

Correct Marks : 1 Wrong Marks : 0.25

दिए गए विकल्पों में से तीन एक निश्चित तरीके से समान हैं। हालाँकि, एक विकल्प अन्य तीन की तरह नहीं है। उस विकल्प का चयन करें जो अन्य से अलग है।

Options :

1. ✘ छात्र : कक्षा
2. ✘ चिकित्सक : अस्पताल
3. ✘ कलाकार : थियेटर
4. ✔ बावर्ची : विश्वविद्यालय

Question Number : 6 Question Id : 2752286039 Question Type : MCQ Option Shuffling : Yes Is Question Mandatory : No Option Orientation : Vertical

Correct Marks : 1 Wrong Marks : 0.25

Out of the given options, three are similar in a certain manner. However, one option is NOT like the other three. Select the option which is different from the rest.

Options :

1. ✔ YAC
2. ✘ JHF
3. ✘ ECA
4. ✘ FDB

Question Number : 6 Question Id : 2752286039 Question Type : MCQ Option Shuffling : Yes Is Question Mandatory : No Option Orientation : Vertical

Correct Marks : 1 Wrong Marks : 0.25

दिए गए विकल्पों में से तीन एक निश्चित तरीके से समान हैं। हालाँकि, एक विकल्प अन्य तीन की तरह नहीं है। उस विकल्प का चयन करें जो अन्य से अलग है।

Options :

1. ✔ YAC
2. ✘ JHF
3. ✘ ECA
4. ✘ FDB

Question Number : 7 Question Id : 2752286040 Question Type : MCQ Option Shuffling : Yes Is Question Mandatory : No Option Orientation : Vertical

Correct Marks : 1 Wrong Marks : 0.25

Out of the given options, three are similar in a certain manner. However, one option is NOT like the other three. Select the option which is different from the rest.

Options :

1. ✖ Shirt
2. ✖ Sweater
3. ✖ Jacket
4. ✔ Skirt

Question Number : 7 Question Id : 2752286040 Question Type : MCQ Option Shuffling : Yes Is Question Mandatory : No Option Orientation : Vertical

Correct Marks : 1 Wrong Marks : 0.25

दिए गए विकल्पों में से तीन एक निश्चित तरीके से समान हैं। हालाँकि, एक विकल्प अन्य तीन की तरह नहीं है। उस विकल्प का चयन करें जो अन्य से अलग है।

Options :

1. ✖ शर्ट
2. ✖ स्वेटर
3. ✖ जैकेट
4. ✔ स्कर्ट

Question Number : 8 Question Id : 2752286041 Question Type : MCQ Option Shuffling : Yes Is Question Mandatory : No Option Orientation : Vertical

Correct Marks : 1 Wrong Marks : 0.25

Out of the given options, three are similar in a certain manner. However, one option is NOT like the other three. Select the option which is different from the rest.

Options :

1. ✖ MC : IG
2. ✖ QL : MP
3. ✔ DX : GU
4. ✖ KP : GT

Question Number : 8 Question Id : 2752286041 Question Type : MCQ Option Shuffling : Yes Is Question Mandatory : No Option Orientation : Vertical

Correct Marks : 1 Wrong Marks : 0.25

दिए गए विकल्पों में से तीन एक निश्चित तरीके से समान हैं। हालाँकि, एक विकल्प अन्य तीन की तरह नहीं है। उस विकल्प का चयन करें जो अन्य से अलग है।

Options :

1. ✘ MC : IG
2. ✘ QL : MP
3. ✔ DX : GU
4. ✘ KP : GT

Question Number : 9 Question Id : 2752286042 Question Type : MCQ Option Shuffling : Yes Is Question Mandatory : No Option Orientation : Vertical

Correct Marks : 1 Wrong Marks : 0.25

Select the option that is related to the third term on the same basis as the second term is related to the first term.

EHK : ILO :: DQW : ?

Options :

1. ✘ ESB
2. ✔ HUA
3. ✘ GTN
4. ✘ IVB

Question Number : 9 Question Id : 2752286042 Question Type : MCQ Option Shuffling : Yes Is Question Mandatory : No Option Orientation : Vertical

Correct Marks : 1 Wrong Marks : 0.25

उस विकल्प का चयन करें जो तीसरे पद से उसी प्रकार से संबंधित है जिस प्रकार से दूसरा पद पहले पद से संबंधित है।

EHK : ILO :: DQW : ?

Options :

1. ✘ ESB
2. ✔ HUA
3. ✘ GTN
4. ✘ IVB

Question Number : 10 Question Id : 2752286043 Question Type : MCQ Option Shuffling : Yes Is Question Mandatory : No Option Orientation : Vertical

Correct Marks : 1 Wrong Marks : 0.25

Select the option that is related to the third term on the same basis as the second term is related to the first term.

Screwdriver : Screw :: Hammer : ?

Options :

1. ✘ Nut
2. ✘ Iron
3. ✔ Nail
4. ✘ Handle

Question Number : 10 Question Id : 2752286043 Question Type : MCQ Option Shuffling : Yes Is Question Mandatory : No Option Orientation : Vertical

Correct Marks : 1 Wrong Marks : 0.25

उस विकल्प का चयन करें जो तीसरे पद से उसी प्रकार से संबंधित है जिस प्रकार से दूसरा पद पहले पद से संबंधित है।

स्कूड्राइवर : पेंच :: हथौड़ा : ?

Options :

1. ✘ नट
2. ✘ लोहा
3. ✔ कील
4. ✘ हैंडल

Question Number : 11 Question Id : 2752286044 Question Type : MCQ Option Shuffling : Yes Is Question Mandatory : No Option Orientation : Vertical

Correct Marks : 1 Wrong Marks : 0.25

Select the pair that is related on the same basis to the pair given in the question.

Stallion : Mare :: ?

Options :

1. ✘ Hen : Chicken
2. ✘ Lioness : Lion
3. ✔ Bull : Cow
4. ✘ Bitch : Dog

Question Number : 11 Question Id : 2752286044 Question Type : MCQ Option Shuffling : Yes Is Question Mandatory : No Option Orientation : Vertical

Correct Marks : 1 Wrong Marks : 0.25

उस जोड़ी का चयन करें जो प्रश्न में दी गई जोड़ी से समान प्रकार से संबंधित है।

घोड़ा : घोड़ी :: ?

Options :

1. ✘ मुर्गी : चूज़ा
2. ✘ शेरनी : शेर
3. ✔ बैल : गाय
4. ✘ कुतिया : कुत्ता

Question Number : 12 Question Id : 2752286045 Question Type : MCQ Option Shuffling : Yes Is Question Mandatory : No Option Orientation : Vertical

Correct Marks : 1 Wrong Marks : 0.25

Select the pair that is related on the same basis to the pair given in the question.

IRX : KUB :: ?

Options :

1. ✘ QCK : OXM
2. ✘ BRK : FUL
3. ✘ HMW : JPZ
4. ✔ MUD : OXH

Question Number : 12 Question Id : 2752286045 Question Type : MCQ Option Shuffling : Yes Is Question Mandatory : No Option Orientation : Vertical

Correct Marks : 1 Wrong Marks : 0.25

उस जोड़ी का चयन करें जो प्रश्न में दी गई जोड़ी से समान प्रकार से संबंधित है।

IRX : KUB :: ?

Options :

1. ✘ QCK : OXM
2. ✘ BRK : FUL

3. ✘ HMW : JPZ

4. ✔ MUD : OXH

Question Number : 13 Question Id : 2752286046 Question Type : MCQ Option Shuffling : Yes Is Question Mandatory : No Option Orientation : Vertical

Correct Marks : 1 Wrong Marks : 0.25

If car is bus, bus is scooter, scooter is bicycle, bicycle is boat, boat is aeroplane, aeroplane is helicopter, helicopter is bullock cart, then which of the following is a transport that can be used in water?

Options :

1. ✔ aeroplane

2. ✘ helicopter

3. ✘ bullock cart

4. ✘ boat

Question Number : 13 Question Id : 2752286046 Question Type : MCQ Option Shuffling : Yes Is Question Mandatory : No Option Orientation : Vertical

Correct Marks : 1 Wrong Marks : 0.25

यदि कार बस है, बस स्कूटर है, स्कूटर साइकिल है, साइकिल नाव है, नाव हवाई जहाज है, हवाई जहाज हेलीकॉप्टर है, हेलीकॉप्टर बैलगाड़ी है, तो निम्नलिखित में से कौन सा परिवहन पानी में इस्तेमाल किया जा सकता है?

Options :

1. ✔ हवाई जहाज

2. ✘ हेलीकॉप्टर

3. ✘ बैलगाड़ी

4. ✘ नाव

Question Number : 14 Question Id : 2752286047 Question Type : MCQ Option Shuffling : Yes Is Question Mandatory : No Option Orientation : Vertical

Correct Marks : 1 Wrong Marks : 0.25

If MATCH = 42, BELIEF = 56, then what is the code for MUSCULAR?

Options :

1. ✘ 70

2. ✘ 81

3. ✓ 90

4. ✗ 100

Question Number : 14 Question Id : 2752286047 Question Type : MCQ Option Shuffling : Yes Is Question Mandatory : No Option Orientation : Vertical

Correct Marks : 1 Wrong Marks : 0.25

यदि MATCH = 42, BELIEF = 56 है, तो MUSCULAR के लिए कोड क्या है?

Options :

1. ✗ 70

2. ✗ 81

3. ✓ 90

4. ✗ 100

Question Number : 15 Question Id : 2752286048 Question Type : MCQ Option Shuffling : Yes Is Question Mandatory : No Option Orientation : Vertical

Correct Marks : 1 Wrong Marks : 0.25

If FLAMINGO is coded as AMFLNGOI, then what is the code for PANDEMIC?

Options :

1. ✗ CMIPEDNA

2. ✗ DNPMIECA

3. ✗ ANDPCMIE

4. ✓ NDPAMICE

Question Number : 15 Question Id : 2752286048 Question Type : MCQ Option Shuffling : Yes Is Question Mandatory : No Option Orientation : Vertical

Correct Marks : 1 Wrong Marks : 0.25

यदि FLAMINGO को AMFLNGOI के रूप में कोडित किया गया है, तो PANDEMIC के लिए कोड क्या है?

Options :

1. ✗ CMIPEDNA

2. ✗ DNPMIECA

3. ✗ ANDPCMIE

4. ✓ NDPAMICE

Question Number : 16 Question Id : 2752286049 Question Type : MCQ Option Shuffling : Yes Is Question Mandatory : No Option Orientation : Vertical

Correct Marks : 1 Wrong Marks : 0.25

In a certain code language,
2351 means grapes are very sour
4359 means these are the grapes
3851 means grapes are very healthy
what is the code for very?

Options :

1. ✖ 3
2. ✖ 8
3. ✖ 5
4. ✔ 1

Question Number : 16 Question Id : 2752286049 Question Type : MCQ Option Shuffling : Yes Is Question Mandatory : No Option Orientation : Vertical

Correct Marks : 1 Wrong Marks : 0.25

एक निश्चित कोड भाषा में,
2351 का अर्थ है grapes are very sour
4359 का अर्थ है these are the grapes
3851 का अर्थ है grapes are very healthy
very के लिए कोड क्या है?

Options :

1. ✖ 3
2. ✖ 8
3. ✖ 5
4. ✔ 1

Question Number : 17 Question Id : 2752286050 Question Type : MCQ Option Shuffling : Yes Is Question Mandatory : No Option Orientation : Vertical

Correct Marks : 1 Wrong Marks : 0.25

Arrange the following in a logical sequence:

1. Death
2. Toddler
3. Adult
4. Birth
5. Teen

Options :

1. ✘ 1, 5, 3, 4, 2
2. ✔ 4, 2, 5, 3, 1
3. ✘ 1, 3, 5, 4, 2
4. ✘ 4, 2, 5, 1, 3

Question Number : 17 Question Id : 2752286050 Question Type : MCQ Option Shuffling : Yes Is Question Mandatory : No Option Orientation : Vertical

Correct Marks : 1 Wrong Marks : 0.25

निम्नलिखित को तार्किक क्रम में व्यवस्थित करें:

1. मृत्यु
2. बच्चा
3. वयस्क
4. जन्म
5. किशोर

Options :

1. ✘ 1, 5, 3, 4, 2
2. ✔ 4, 2, 5, 3, 1
3. ✘ 1, 3, 5, 4, 2
4. ✘ 4, 2, 5, 1, 3

Question Number : 18 Question Id : 2752286051 Question Type : MCQ Option Shuffling : Yes Is Question Mandatory : No Option Orientation : Vertical

Correct Marks : 1 Wrong Marks : 0.25

Aman is shorter than Smriti, but not as short as Micky. Priyank is shorter than Sam, but taller than Smriti. Who is the shortest of all?

Options :

1. ✘ Sam

2. ✘ Aman
3. ✔ Micky
4. ✘ Priyank

Question Number : 18 Question Id : 2752286051 Question Type : MCQ Option Shuffling : Yes Is Question Mandatory : No Option Orientation : Vertical

Correct Marks : 1 Wrong Marks : 0.25

अमन स्मृति से छोटा है, लेकिन मिकी जितना छोटा नहीं है। प्रियंक सैम से छोटा है, लेकिन स्मृति से लंबा है। सब में सबसे छोटा कौन है?

Options :

1. ✘ सैम
2. ✘ अमन
3. ✔ मिकी
4. ✘ प्रियंक

Question Number : 19 Question Id : 2752286052 Question Type : MCQ Option Shuffling : Yes Is Question Mandatory : No Option Orientation : Vertical

Correct Marks : 1 Wrong Marks : 0.25

Prachi said to Manish, "You are my mother's father's son-in-laws' son." How is Manish related to Prachi, if Manish's mother has no siblings?

Options :

1. ✔ Brother
2. ✘ Father
3. ✘ Son
4. ✘ Brother-in-law

Question Number : 19 Question Id : 2752286052 Question Type : MCQ Option Shuffling : Yes Is Question Mandatory : No Option Orientation : Vertical

Correct Marks : 1 Wrong Marks : 0.25

प्राची ने मनीष से कहा, "तुम मेरी माता के पिता के दामाद के बेटे हो।" मनीष प्राची से कैसे संबंधित है, यदि मनीष की माता के कोई भाई-बहन नहीं है?

Options :

1. ✔ भाई
2. ✘ पिता

3. ✘ बेटा
4. ✘ साला

Question Number : 20 Question Id : 2752286053 Question Type : MCQ Option Shuffling : Yes Is Question Mandatory : No Option Orientation : Vertical

Correct Marks : 1 Wrong Marks : 0.25

Anjali, Bidisha, Charlie and Diksha compare their weights. The total weight of Anjali and Bidhisha together is equal to the total weight of Charlie and Diksha together. But the total weight of Bidhisha and Diksha together is more than that of Anjali and Charlie together. Anjali's weight is more than that of Bidhisha's. Who among all weigh the least?

Options :

1. ✘ Bidhisha
2. ✘ Anjali
3. ✔ Charlie
4. ✘ Diksha

Question Number : 20 Question Id : 2752286053 Question Type : MCQ Option Shuffling : Yes Is Question Mandatory : No Option Orientation : Vertical

Correct Marks : 1 Wrong Marks : 0.25

अंजलि, बिदिशा, चार्ली और दीक्षा अपने वज़न की तुलना करते हैं। अंजलि और बिदिशा का कुल मिलाकर वजन, चार्ली और दीक्षा के कुल मिलाकर वजन के बराबर है। लेकिन बिदिशा और दीक्षा का कुल मिलाकर वजन, अंजलि और चार्ली के कुल मिलाकर वजन से अधिक है। अंजलि का वजन बिदिशा से अधिक है। सभी में से किसका वजन सबसे कम है?

Options :

1. ✘ बिदिशा
2. ✘ अंजलि
3. ✔ चार्ली
4. ✘ दीक्षा

General Ability2

Group Number :

2

Group Id :

275228214

Group Maximum Duration :

0

Group Minimum Duration :	0
Show Attended Group? :	No
Edit Attended Group? :	No
Break time :	0
Group Marks :	20
Is this Group for Examiner? :	No

General Ability2

Section Id :	275228316
Section Number :	1
Section type :	Online
Mandatory or Optional :	Mandatory
Number of Questions :	20
Number of Questions to be attempted :	20
Section Marks :	20
Enable Mark as Answered Mark for Review and Clear Response :	Yes
Sub-Section Number :	1
Sub-Section Id :	275228379
Question Shuffling Allowed :	Yes

Question Number : 21 Question Id : 2752286054 Question Type : MCQ Option Shuffling : Yes Is Question Mandatory : No Option Orientation : Vertical

Correct Marks : 1 Wrong Marks : 0.25

In the question one statement is given, followed by two course of actions, I and II. You have to consider the statements to be true even if it seems to be at variance from commonly known facts. You have to decide which of the given course of actions, if any, follows from the given statements.

Statement: Steps should be taken to develop rural areas in India.

Course of Actions:

I : Each village in the rural area should have access to electricity.

II : There should be a formal education system in the rural areas.

Options :

1. ✘ Only I follows
2. ✘ Only II follows
3. ✔ Both I and II follows
4. ✘ Neither I nor II follows

Question Number : 21 Question Id : 2752286054 Question Type : MCQ Option Shuffling : Yes Is Question Mandatory : No Option Orientation : Vertical

Correct Marks : 1 Wrong Marks : 0.25

प्रश्न में एक कथन दिया गया है, जिसके बाद कार्रवाई के दो क्रम I और II दिए गए हैं। आपको उन कथनों को सत्य मानना है, भले ही यह सामान्यतः ज्ञात तथ्य से भिन्न प्रतीत हो। आपको यह निर्णय लेना है कि दिए गए कार्रवाई के क्रम में से कौन सी, यदि कोई हो, तो दिए गए कथन का अनुसरण करता है।

कथन: भारत में ग्रामीण क्षेत्रों को विकसित करने के लिए कदम उठाए जाने चाहिए।

कार्रवाई का क्रम:

I: ग्रामीण क्षेत्र में स्थित प्रत्येक गांव की बिजली तक पहुंच होनी चाहिए।

II: ग्रामीण क्षेत्रों में एक औपचारिक शिक्षा प्रणाली होनी चाहिए।

Options :

1. ✘ केवल I अनुसरण करता है
2. ✘ केवल II अनुसरण करता है
3. ✔ I और II दोनों अनुसरण करते हैं
4. ✘ न I और न ही II अनुसरण करता है

Question Number : 22 Question Id : 2752286055 Question Type : MCQ Option Shuffling : Yes Is Question Mandatory : No Option Orientation : Vertical

Correct Marks : 1 Wrong Marks : 0.25

In the question two statements are given, followed by two conclusions, I and II. You have to consider the statements to be true even if it seems to be at variance from commonly known facts. You have to decide which of the given conclusions, if any, follows from the given statements.

Statement 1 : All pencils are pens.

Statement 2 : No pens are books.

Conclusion I : Some books are pencils.

Conclusion II : Some pencils are pens.

Options :

1. ✘ Only conclusion I follows
2. ✔ Only conclusion II follows
3. ✘ Both conclusions I and II follow
4. ✘ Neither conclusion I nor II follows

Question Number : 22 Question Id : 2752286055 Question Type : MCQ Option Shuffling : Yes Is Question Mandatory : No Option Orientation : Vertical

Correct Marks : 1 Wrong Marks : 0.25

प्रश्न में दो कथन दिए गए हैं, जिसके बाद दो निष्कर्ष I और II दिए गए हैं। आपको उन कथनों को सत्य मानना है, भले ही यह सामान्यतः ज्ञात तथ्य से भिन्न प्रतीत हो। आपको यह निर्णय लेना है कि दिए गए निष्कर्षों में से कौन सा, यदि कोई हो, तो दिए गए कथनों का अनुसरण करता है।

कथन 1: सभी पेंसिल कलम हैं।

कथन 2: कोई कलम किताबें नहीं हैं।

निष्कर्ष I: कुछ किताबें पेंसिल हैं।

निष्कर्ष II: कुछ पेंसिल कलम हैं।

Options :

1. ✘ केवल निष्कर्ष I अनुसरण करता है
2. ✔ केवल निष्कर्ष II अनुसरण करता है
3. ✘ I और II दोनों निष्कर्ष अनुसरण करते हैं
4. ✘ न I और न ही II निष्कर्ष अनुसरण करता है

Question Number : 23 Question Id : 2752286056 Question Type : MCQ Option Shuffling : Yes Is Question Mandatory : No Option Orientation : Vertical

Correct Marks : 1 Wrong Marks : 0.25

In the question two statements are given, followed by three conclusions, I, II and III. You have to consider the statements to be true even if it seems to be at variance from commonly known facts. You have to decide which of the given conclusions, if any, follows from the given statements.

Statement 1 : All watchmen are bodyguards.

Statement 2 : All trainers are bodyguards.

Conclusion I : Some trainers are watchmen.

Conclusion II : Some bodyguards are watchmen.

Conclusion III : Some bodyguards are trainers

Options :

1. ✘ Only conclusion I follows
2. ✘ Only conclusion I and II follows
3. ✔ Only conclusion II and III follows
4. ✘ All conclusions I, II and III follow

Question Number : 23 Question Id : 2752286056 Question Type : MCQ Option Shuffling : Yes Is Question Mandatory : No Option Orientation : Vertical

Correct Marks : 1 Wrong Marks : 0.25

प्रश्न में दो कथन दिए गए हैं, जिसके बाद तीन निष्कर्ष I, II और III दिए गए हैं। आपको उन कथनों को सत्य मानना है, भले ही यह सामान्यतः ज्ञात तथ्य से भिन्न प्रतीत हो। आपको यह निर्णय लेना है कि दिए गए निष्कर्षों में से कौन सा, यदि कोई हो, तो दिए गए कथनों का अनुसरण करता है।

कथन 1: सभी चौकीदार अंगरक्षक हैं।

कथन 2: सभी प्रशिक्षक अंगरक्षक हैं।

निष्कर्ष I: कुछ प्रशिक्षक चौकीदार हैं।

निष्कर्ष II: कुछ अंगरक्षक चौकीदार हैं।

निष्कर्ष III: कुछ अंगरक्षक प्रशिक्षक हैं

Options :

1. ✘ केवल निष्कर्ष I अनुसरण करता है
2. ✘ केवल निष्कर्ष I और II अनुसरण करते हैं
3. ✔ केवल निष्कर्ष II और III अनुसरण करते हैं
4. ✘ सभी निष्कर्ष I, II और III अनुसरण करते हैं

Question Number : 24 Question Id : 2752286057 Question Type : MCQ Option Shuffling : Yes Is Question Mandatory : No Option Orientation : Vertical

Correct Marks : 1 Wrong Marks : 0.25

In the question, one statement is given, followed by two arguments I and II. You have to consider the statement to be true even if it seems to be at variance from commonly known facts. You have to decide which of the given arguments, if any, supports the given statement.

Statement: Should there be only one type of fashion in the entire country?

Arguments:

- I. Yes, it will promote equality among the residents of the country.
- II. No, the culture of people staying in different regions of the country is different.

Options :

1. ✘ Only argument I is strong
2. ✔ Only argument II is strong
3. ✘ Both argument I and argument II is strong
4. ✘ Neither argument I nor argument II is strong

Question Number : 24 Question Id : 2752286057 Question Type : MCQ Option Shuffling : Yes Is Question Mandatory : No Option Orientation : Vertical

Correct Marks : 1 Wrong Marks : 0.25

प्रश्न में एक कथन दिया गया है, जिसके बाद दो तर्क I और II दिए गए हैं। आपको उन कथनों को सत्य मानना है, भले ही यह सामान्यतः ज्ञात तथ्य से भिन्न प्रतीत हो। आपको यह निर्णय लेना है कि दिए गए तर्कों में से कौन सा, यदि कोई हो, तो दिए गए कथन का अनुसरण करता है।

कथन: क्या पूरे देश में केवल एक ही प्रकार का फैशन होना चाहिए?

तर्क:

- I. हाँ, यह देश के निवासियों के बीच समानता को बढ़ावा देगा।
- II. नहीं, देश के विभिन्न क्षेत्रों में रहने वाले लोगों की संस्कृति अलग-अलग है।

Options :

1. ✘ केवल तर्क I सबल है
2. ✔ केवल तर्क II सबल है
3. ✘ तर्क I और तर्क II दोनों सबल है
4. ✘ न तर्क I और न ही II सबल है

Question Number : 25 Question Id : 2752286058 Question Type : MCQ Option Shuffling : Yes Is Question Mandatory : No Option Orientation : Vertical

Correct Marks : 1 Wrong Marks : 0.25

Select the option that is related to the third term on the same basis as the second term is related to the first term.

50 : 7 :: 82 : ?

Options :

1. ✘ 5
2. ✘ 18
3. ✘ 12
4. ✔ 9

Question Number : 25 Question Id : 2752286058 Question Type : MCQ Option Shuffling : Yes Is Question Mandatory : No Option Orientation : Vertical

Correct Marks : 1 Wrong Marks : 0.25

उस विकल्प का चयन करें जो तीसरे पद से उसी प्रकार से संबंधित है जिस प्रकार से दूसरा पद पहले पद से संबंधित है।

50 : 7 :: 82 : ?

Options :

1. ✘ 5
2. ✘ 18
3. ✘ 12
4. ✔ 9

Question Number : 26 Question Id : 2752286059 Question Type : MCQ Option Shuffling : Yes Is Question Mandatory : No Option Orientation : Vertical

Correct Marks : 1 Wrong Marks : 0.25

Which two signs should be interchanged to make the given equation correct?

$18 \div 3 + 2 \times 10 - 6 = 16$

Options :

1. ✘ \div and \times
2. ✘ \div and $-$
3. ✔ $+$ and \times
4. ✘ $+$ and $-$

Question Number : 26 Question Id : 2752286059 Question Type : MCQ Option Shuffling : Yes Is Question Mandatory : No Option Orientation : Vertical

Correct Marks : 1 Wrong Marks : 0.25

नीचे दिए गए समीकरण को सही बनाने के लिए किन दो चिन्हों को परस्पर बदलना चाहिए?

$$18 \div 3 + 2 \times 10 - 6 = 16$$

Options :

1. ✘ \div और \times
2. ✘ \div और $-$
3. ✔ $+$ और \times
4. ✘ $+$ और $-$

Question Number : 27 Question Id : 2752286060 Question Type : MCQ Option Shuffling : Yes Is Question Mandatory : No Option Orientation : Vertical

Correct Marks : 1 Wrong Marks : 0.25

Complete the following number series:

17, 50, 149, 446, _____

Options :

1. ✔ 1337
2. ✘ 1252
3. ✘ 1783
4. ✘ 1461

Question Number : 27 Question Id : 2752286060 Question Type : MCQ Option Shuffling : Yes Is Question Mandatory : No Option Orientation : Vertical

Correct Marks : 1 Wrong Marks : 0.25

निम्नलिखित संख्या श्रृंखला को पूरा करें:

17, 50, 149, 446, _____

Options :

1. ✔ 1337
2. ✘ 1252
3. ✘ 1783
4. ✘ 1461

Question Number : 28 Question Id : 2752286061 Question Type : MCQ Option Shuffling : Yes Is Question Mandatory : No Option Orientation : Vertical

Correct Marks : 1 Wrong Marks : 0.25

Complete the following number series:

17, 14, 19, 12, _____

Options :

1. ✘ 24

2. ✘ 23

3. ✔ 21

4. ✘ 22

Question Number : 28 Question Id : 2752286061 Question Type : MCQ Option Shuffling : Yes Is Question Mandatory : No Option Orientation : Vertical

Correct Marks : 1 Wrong Marks : 0.25

निम्नलिखित संख्या श्रृंखला को पूरा करें:

17, 14, 19, 12, _____

Options :

1. ✘ 24

2. ✘ 23

3. ✔ 21




4. ✘ 22

Question Number : 29 Question Id : 2752286062 Question Type : MCQ Option Shuffling : Yes Is Question Mandatory : No Option Orientation : Vertical

Correct Marks : 1 Wrong Marks : 0.25

Which of the following Venn diagrams best represents the relationship between lion, carnivorous and goat?

Options :




Question Number : 29 Question Id : 2752286062 Question Type : MCQ Option Shuffling : Yes Is Question Mandatory : No Option Orientation : Vertical


Correct Marks : 1 Wrong Marks : 0.25

निम्नलिखित में से कौन सा वेन आरेख शेर, मांसभक्षी और बकरी के बीच के संबंध को सबसे अच्छा दर्शाता है?

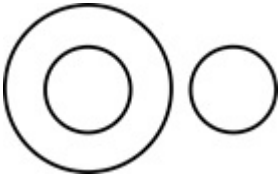
Options :



2. ✘



3. ✔



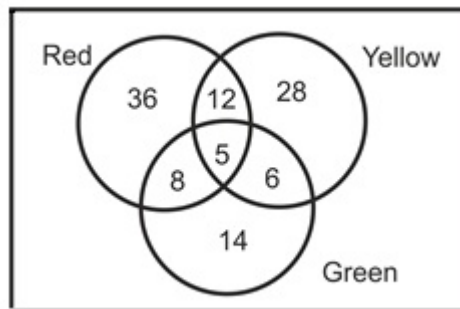
4. ✘



Question Number : 30 Question Id : 2752286063 Question Type : MCQ Option Shuffling : Yes Is Question Mandatory : No Option Orientation : Vertical

Correct Marks : 1 Wrong Marks : 0.25

The given Venn diagram shows the number of people who painted their house in red, yellow and green. How many of these people have painted their house yellow and green only?



Options :

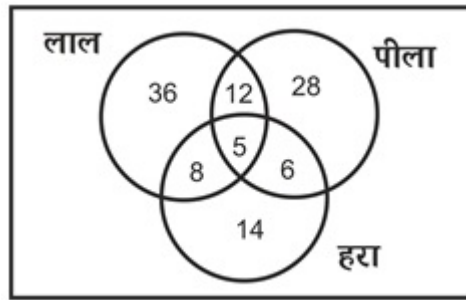
1. ✘ 5

2. ✓ 6
3. ✗ 14
4. ✗ 8

Question Number : 30 Question Id : 2752286063 Question Type : MCQ Option Shuffling : Yes Is Question Mandatory : No Option Orientation : Vertical

Correct Marks : 1 Wrong Marks : 0.25

दिए गए वेन आरेख में उन लोगों की संख्या को दर्शाया गया है जिन्होंने अपने घर को लाल, पीले और हरे रंग में रंगा है। इनमें से कितने लोगों ने अपने घर को केवल पीले और हरे रंग से रंगा है?



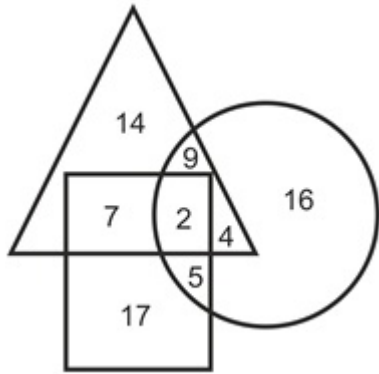
Options :

1. ✗ 5
2. ✓ 6
3. ✗ 14
4. ✗ 8

Question Number : 31 Question Id : 2752286064 Question Type : MCQ Option Shuffling : Yes Is Question Mandatory : No Option Orientation : Vertical

Correct Marks : 1 Wrong Marks : 0.25

In the following figure, triangle represents fathers, rectangle represents engineers, circle represents pilots. How many fathers are pilots only?



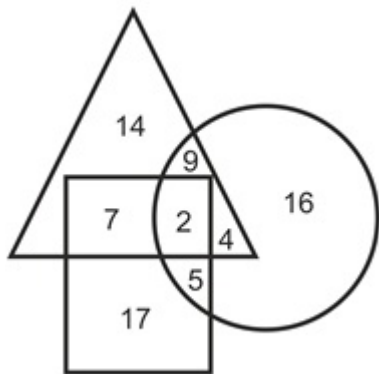
Options :

1. ✘ 16
2. ✘ 9
3. ✘ 4
4. ✔ 13

Question Number : 31 Question Id : 2752286064 Question Type : MCQ Option Shuffling : Yes Is Question Mandatory : No Option Orientation : Vertical

Correct Marks : 1 Wrong Marks : 0.25

निम्नलिखित आकृति में, त्रिभुज पिताओं का प्रतिनिधित्व करता है, आयत इंजीनियरों का प्रतिनिधित्व करता है, वृत्त पायलटों का प्रतिनिधित्व करता है। कितने पिता केवल पायलट हैं?



Options :

1. ✘ 16
2. ✘ 9

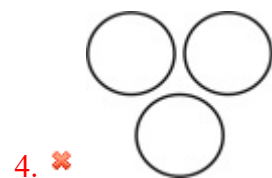
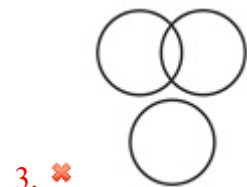
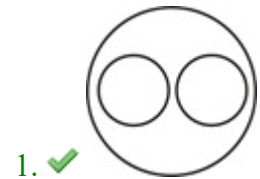
- 3. ✘ 4
- 4. ✔ 13

Question Number : 32 Question Id : 2752286065 Question Type : MCQ Option Shuffling : Yes Is Question Mandatory : No Option Orientation : Vertical

Correct Marks : 1 Wrong Marks : 0.25

Which of the following Venn diagrams best represents the relationship between vegetables, onions and potatoes?

Options :

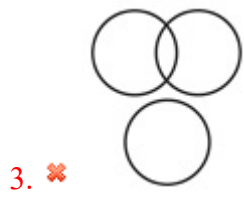
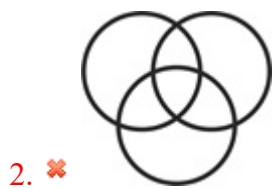


Question Number : 32 Question Id : 2752286065 Question Type : MCQ Option Shuffling : Yes Is Question Mandatory : No Option Orientation : Vertical

Correct Marks : 1 Wrong Marks : 0.25

निम्नलिखित में से कौन सा वेन आरेख सब्जियां, प्याज और आलू के बीच के संबंध को सबसे अच्छा दर्शाता है?

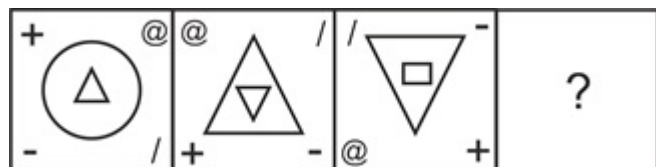
Options :



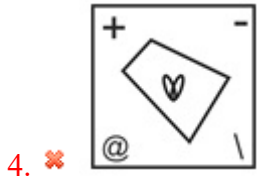
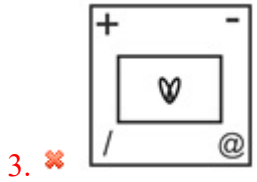
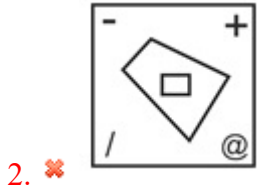
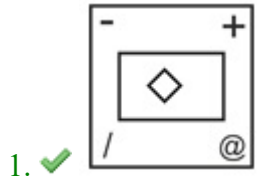
Question Number : 33 Question Id : 2752286066 Question Type : MCQ Option Shuffling : Yes Is Question Mandatory : No Option Orientation : Vertical

Correct Marks : 1 Wrong Marks : 0.25

Which of the following answer figure completes the series of the question figure?



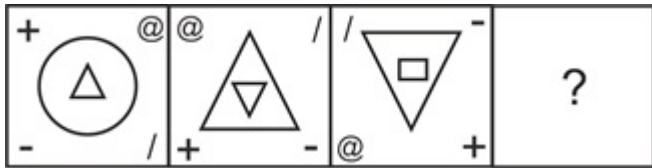
Options :



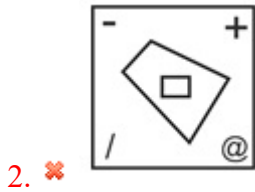
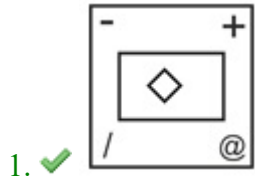
Question Number : 33 Question Id : 2752286066 Question Type : MCQ Option Shuffling : Yes Is Question Mandatory : No Option Orientation : Vertical

Correct Marks : 1 Wrong Marks : 0.25

निम्नलिखित में से कौन सी उत्तर आकृति प्रश्न आकृति की श्रृंखला को पूरा करती है?



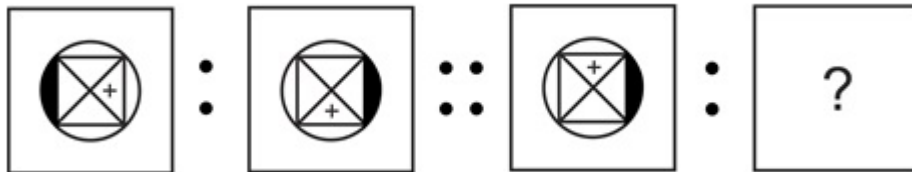
Options :



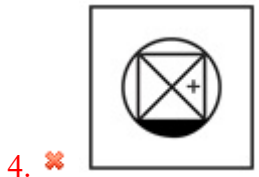
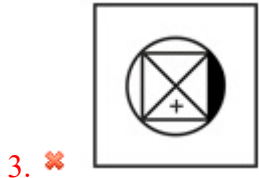
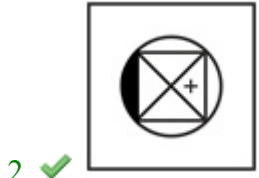
Question Number : 34 Question Id : 2752286067 Question Type : MCQ Option Shuffling : Yes Is Question Mandatory : No Option Orientation : Vertical

Correct Marks : 1 Wrong Marks : 0.25

Select the option that is related to the third image on the same basis as the second image is related to the first image.



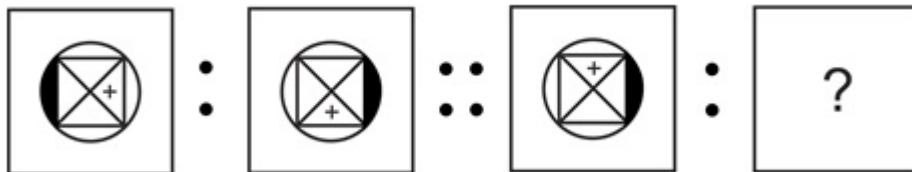
Options :



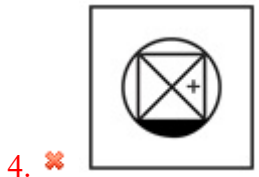
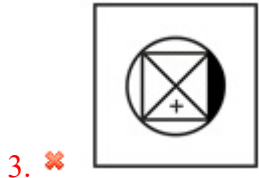
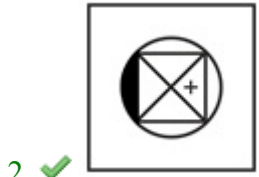
Question Number : 34 Question Id : 2752286067 Question Type : MCQ Option Shuffling : Yes Is Question Mandatory : No Option Orientation : Vertical

Correct Marks : 1 Wrong Marks : 0.25

उस विकल्प का चयन करें जो तीसरी छवि से उसी प्रकार से संबंधित है जिस प्रकार से दूसरी छवि पहली छवि से संबंधित है।



Options :




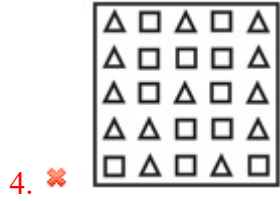
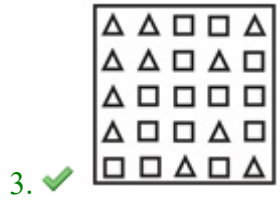
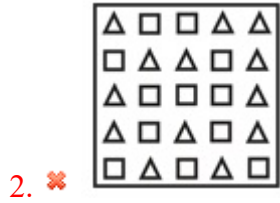
Question Number : 35 Question Id : 2752286068 Question Type : MCQ Option Shuffling : Yes Is Question Mandatory : No Option Orientation : Vertical

Correct Marks : 1 Wrong Marks : 0.25

Out of the given options, three are similar in a certain manner. However, one option is NOT like the other three. Select the option which is different from the rest.

Options :



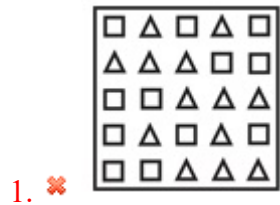


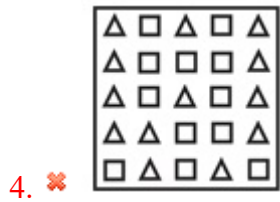
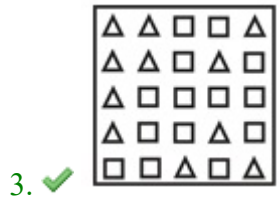
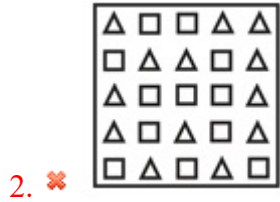
Question Number : 35 Question Id : 2752286068 Question Type : MCQ Option Shuffling : Yes Is Question Mandatory : No Option Orientation : Vertical

Correct Marks : 1 Wrong Marks : 0.25

दिए गए विकल्पों में से तीन एक निश्चित तरीके से समान हैं। हालाँकि, एक विकल्प अन्य तीन की तरह नहीं है। उस विकल्प का चयन करें जो अन्य से अलग है।

Options :

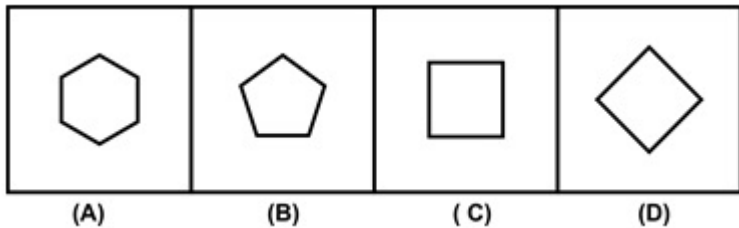




Question Number : 36 Question Id : 2752286069 Question Type : MCQ Option Shuffling : Yes Is Question Mandatory : No Option Orientation : Vertical

Correct Marks : 1 Wrong Marks : 0.25

Which of the following options is the wrong figure in the series?



Options :

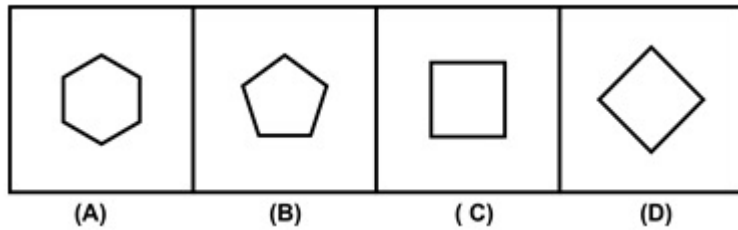
- 1. ✘ Image A
- 2. ✘ Image B
- 3. ✘ Image C

4. ✓ Image D

Question Number : 36 Question Id : 2752286069 Question Type : MCQ Option Shuffling : Yes Is Question Mandatory : No Option Orientation : Vertical

Correct Marks : 1 Wrong Marks : 0.25

निम्नलिखित में से कौन सा विकल्प श्रृंखला में गलत आकृति है?



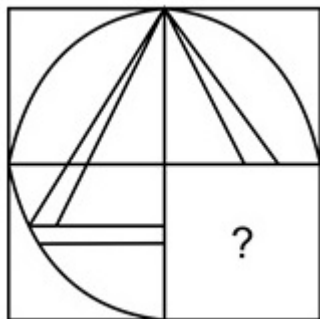
Options :

1. ✘ छवि A
2. ✘ छवि B
3. ✘ छवि C
4. ✓ छवि D

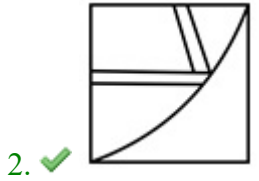
Question Number : 37 Question Id : 2752286070 Question Type : MCQ Option Shuffling : Yes Is Question Mandatory : No Option Orientation : Vertical

Correct Marks : 1 Wrong Marks : 0.25

Which of the following answer figure patterns can be combined to make the question figure?



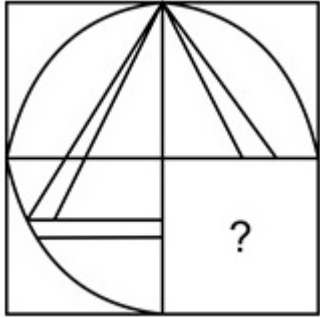
Options :



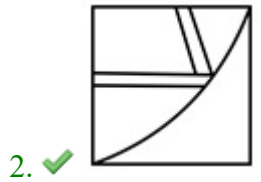
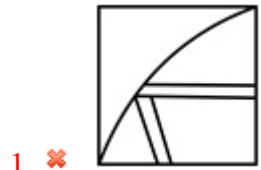
Question Number : 37 Question Id : 2752286070 Question Type : MCQ Option Shuffling : Yes Is Question Mandatory : No Option Orientation : Vertical

Correct Marks : 1 Wrong Marks : 0.25

निम्नलिखित में से कौन सी उत्तर आकृति पैटर्न को प्रश्न आकृति बनाने के लिए जोड़ा जा सकता है?



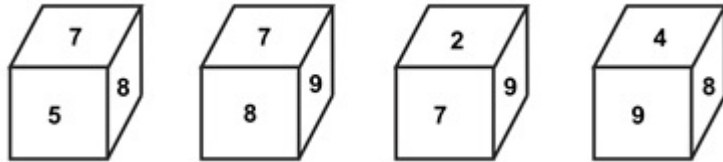
Options :



Question Number : 38 Question Id : 2752286071 Question Type : MCQ Option Shuffling : Yes Is Question Mandatory : No Option Orientation : Vertical

Correct Marks : 1 Wrong Marks : 0.25

In the following question, four position of the same dice is given. Which number will be at the face opposite to the face having the 7?



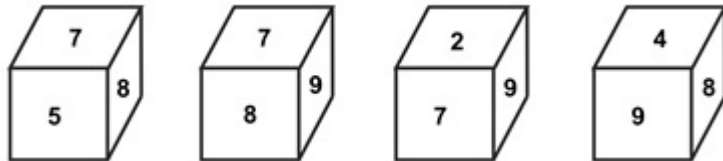
Options :

1. ✓ 4
2. ✗ 8
3. ✗ 9
4. ✗ 5

Question Number : 38 Question Id : 2752286071 Question Type : MCQ Option Shuffling : Yes Is Question Mandatory : No Option Orientation : Vertical

Correct Marks : 1 Wrong Marks : 0.25

निम्नलिखित प्रश्न में, एक ही पासे की चार स्थिति दी गई है। 7 वाले फलक के विपरीत स्थित फलक पर कौन सी संख्या होगी?



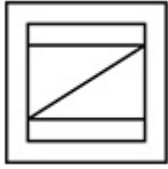
Options :

1. ✓ 4
2. ✗ 8
3. ✗ 9
4. ✗ 5

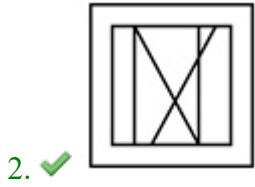
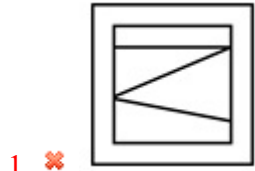
Question Number : 39 Question Id : 2752286072 Question Type : MCQ Option Shuffling : Yes Is Question Mandatory : No Option Orientation : Vertical

Correct Marks : 1 Wrong Marks : 0.25

From the given answer figures, select the one in which the question figure is hidden/embedded.



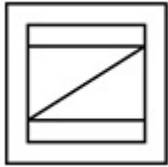
Options :



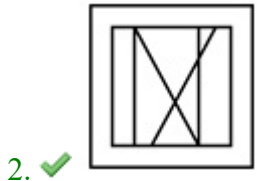
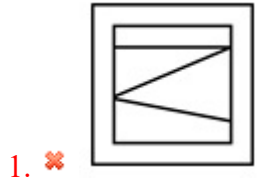
Question Number : 39 Question Id : 2752286072 Question Type : MCQ Option Shuffling : Yes Is Question Mandatory : No Option Orientation : Vertical

Correct Marks : 1 Wrong Marks : 0.25

दी गई उत्तर आकृति से, उस आकृति का चयन करें जिसमें प्रश्न आकृति छिपी/सन्निहित है।



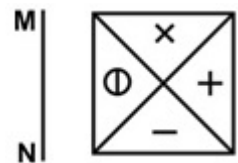
Options :



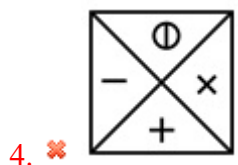
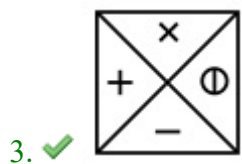
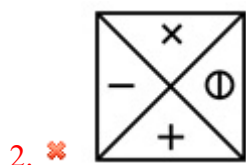
Question Number : 40 Question Id : 2752286073 Question Type : MCQ Option Shuffling : Yes Is Question Mandatory : No Option Orientation : Vertical

Correct Marks : 1 Wrong Marks : 0.25

If a mirror is placed on the line MN, then which of the answer figures is the right image of the given figure?



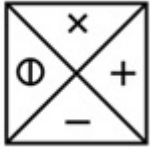
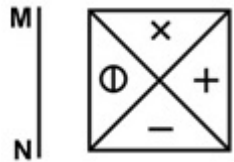
Options :



Question Number : 40 Question Id : 2752286073 Question Type : MCQ Option Shuffling : Yes Is Question Mandatory : No Option Orientation : Vertical

Correct Marks : 1 Wrong Marks : 0.25

यदि एक दर्पण को रेखा MN पर रखा गया है, तो कौन सी उत्तर आकृति दी गई आकृति का सही दर्पण प्रतिबिंब है?

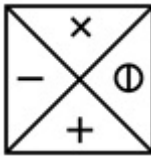


Options :

1. ✘



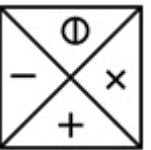
2. ✘



3. ✔



4. ✘



General Awareness1

Group Number :

3

Group Id :

275228215

Group Maximum Duration :

0

Group Minimum Duration :

0

Show Attended Group? :

No

Edit Attended Group? :	No
Break time :	0
Group Marks :	20
Is this Group for Examiner? :	No

General Awareness1

Section Id :	275228317
Section Number :	1
Section type :	Online
Mandatory or Optional :	Mandatory
Number of Questions :	20
Number of Questions to be attempted :	20
Section Marks :	20
Enable Mark as Answered Mark for Review and Clear Response :	Yes
Sub-Section Number :	1
Sub-Section Id :	275228380
Question Shuffling Allowed :	Yes

Question Number : 41 Question Id : 2752286074 Question Type : MCQ Option Shuffling : Yes Is Question Mandatory : No Option Orientation : Vertical

Correct Marks : 1 Wrong Marks : 0.25

Rani ki Vav or 'Queen's Stepwell' is a unique stepwell located in which of the following states?

Options :

1. ✓ Gujarat
2. ✗ Madhya Pradesh
3. ✗ Maharashtra
4. ✗ Tamil Nadu

Question Number : 41 Question Id : 2752286074 Question Type : MCQ Option Shuffling : Yes Is Question Mandatory : No Option Orientation : Vertical

Correct Marks : 1 Wrong Marks : 0.25

रानी की वाव या 'रानी की बावड़ी' निम्नलिखित में से किस राज्य में स्थित एक अनूठी बावड़ी है?

Options :

1. ✓ गुजरात
2. ✗ मध्य प्रदेश
3. ✗ महाराष्ट्र
4. ✗ तमिल नाडु

Question Number : 42 Question Id : 2752286075 Question Type : MCQ Option Shuffling : Yes Is Question Mandatory : No Option Orientation : Vertical

Correct Marks : 1 Wrong Marks : 0.25

Dhanuyatra is a great mass festival of Odisha which is based on the noble deeds of Lord _____.

Options :

1. ✗ Ram
2. ✗ Ganesh
3. ✓ Krishna
4. ✗ Hanuman

Question Number : 42 Question Id : 2752286075 Question Type : MCQ Option Shuffling : Yes Is Question Mandatory : No Option Orientation : Vertical

Correct Marks : 1 Wrong Marks : 0.25

धनुयात्रा ओडिशा का एक महान सामूहिक त्योहार है जो भगवान _____ के महान कार्यों पर आधारित है।

Options :

1. ✗ राम
2. ✗ गणेश
3. ✓ कृष्णा
4. ✗ हनुमान

Question Number : 43 Question Id : 2752286076 Question Type : MCQ Option Shuffling : Yes Is Question Mandatory : No Option Orientation : Vertical

Correct Marks : 1 Wrong Marks : 0.25

Morulem is a traditional folk dance in Goa performed during which of the following festivals?

Options :

1. ✘ Sunburn Festival
2. ✔ Shigmo Festival
3. ✘ Carnival
4. ✘ Lokrang Festival

Question Number : 43 Question Id : 2752286076 Question Type : MCQ Option Shuffling : Yes Is Question Mandatory : No Option Orientation : Vertical

Correct Marks : 1 Wrong Marks : 0.25

मोरुलेम गोवा में एक पारंपरिक लोक नृत्य है, निम्नलिखित त्योहारों में से किस के दौरान किया जाता है?

Options :

1. ✘ सनबर्न त्यौहार
2. ✔ शिगमो त्यौहार
3. ✘ कार्निवल
4. ✘ लोकरंग त्यौहार

Question Number : 44 Question Id : 2752286077 Question Type : MCQ Option Shuffling : Yes Is Question Mandatory : No Option Orientation : Vertical

Correct Marks : 1 Wrong Marks : 0.25

Ainchaliyan is a type of religious songs often sung to a newly wed bride or to an unmarried girl, who is expected to get married in near future. It is associated with which of the following states?

Options :

1. ✔ Himachal Pradesh
2. ✘ Uttar Pradesh
3. ✘ Haryana
4. ✘ Punjab

Question Number : 44 Question Id : 2752286077 Question Type : MCQ Option Shuffling : Yes Is Question Mandatory : No Option Orientation : Vertical

Correct Marks : 1 Wrong Marks : 0.25

आंचलियान एक प्रकार का धार्मिक गीत है जिसे अक्सर नवविवाहित दुल्हन या अविवाहित लड़की के लिए गाया जाता है, जिसकी निकट भविष्य में शादी होनी है। यह निम्नलिखित में से किस राज्य से जुड़ा है?

Options :

1. ✓ हिमाचल प्रदेश
2. ✗ उत्तर प्रदेश
3. ✗ हरियाणा
4. ✗ पंजाब

Question Number : 45 Question Id : 2752286078 Question Type : MCQ Option Shuffling : Yes Is Question Mandatory : No Option Orientation : Vertical

Correct Marks : 1 Wrong Marks : 0.25

Which of the following banks primarily focuses on the development of MSME (Micro, Small and Medium Enterprise) sector?

Options :

1. ✗ State Bank of India
2. ✓ Small Industries Development Bank of India
3. ✗ National Bank For Agriculture & Rural Development
4. ✗ Reserve Bank of India

Question Number : 45 Question Id : 2752286078 Question Type : MCQ Option Shuffling : Yes Is Question Mandatory : No Option Orientation : Vertical

Correct Marks : 1 Wrong Marks : 0.25

निम्नलिखित में से कौन सा बैंक मुख्य रूप से MSME (सूक्ष्म, लघु एवं मध्यम उद्योग) के विकास पर केंद्रित है?

Options :

1. ✗ भारतीय स्टेट बैंक
2. ✓ भारतीय लघु उद्योग विकास बैंक
3. ✗ राष्ट्रीय कृषि और ग्रामीण विकास बैंक
4. ✗ भारतीय रिज़र्व बैंक

Question Number : 46 Question Id : 2752286079 Question Type : MCQ Option Shuffling : Yes Is Question Mandatory : No Option Orientation : Vertical

Correct Marks : 1 Wrong Marks : 0.25

Who among the following holds the record of presenting the most number of financial budgets as of April 2020?

Options :

1. ✘ Yashwant Sinha
2. ✘ Nirmala Sitharaman
3. ✔ Morarji Desai
4. ✘ Pranab Mukherjee

Question Number : 46 Question Id : 2752286079 Question Type : MCQ Option Shuffling : Yes Is Question Mandatory : No Option Orientation : Vertical

Correct Marks : 1 Wrong Marks : 0.25

निम्नलिखित में से कौन अप्रैल 2020 तक सबसे अधिक वित्तीय बजट पेश करने का रिकॉर्ड रखता है?

Options :

1. ✘ यशवंत सिन्हा
2. ✘ निर्मला सीतारामन्
3. ✔ मोरारजी देसाई
4. ✘ प्रणब मुखर्जी

Question Number : 47 Question Id : 2752286080 Question Type : MCQ Option Shuffling : Yes Is Question Mandatory : No Option Orientation : Vertical

Correct Marks : 1 Wrong Marks : 0.25

When was Export-Import Bank of India established?

Options :

1. ✘ 1975
2. ✘ 1970
3. ✘ 1996
4. ✔ 1982

Question Number : 47 Question Id : 2752286080 Question Type : MCQ Option Shuffling : Yes Is Question Mandatory : No Option Orientation : Vertical

Correct Marks : 1 Wrong Marks : 0.25

भारतीय निर्यात-आयात बैंक की स्थापना कब की गई थी?

Options :

1. ✘ 1975

2. ✘ 1970
3. ✘ 1996
4. ✔ 1982

Question Number : 48 Question Id : 2752286081 Question Type : MCQ Option Shuffling : Yes Is Question Mandatory : No Option Orientation : Vertical

Correct Marks : 1 Wrong Marks : 0.25

Which among the following taxes is imposed on the bodies that have negative externality?

Options :

1. ✔ Pigouvian tax
2. ✘ Tobin tax
3. ✘ Octroi tax
4. ✘ Smith tax

Question Number : 48 Question Id : 2752286081 Question Type : MCQ Option Shuffling : Yes Is Question Mandatory : No Option Orientation : Vertical

Correct Marks : 1 Wrong Marks : 0.25

निम्नलिखित करों में से कौन सा नकारात्मक बहिर्भाव वाले निकायों पर लगाया जाता है?

Options :

1. ✔ पिगोवियन कर
2. ✘ टोबिन कर
3. ✘ नगर शुल्क कर (ओक्ट्रॉइ टैक्स)
4. ✘ स्मिथ कर

Question Number : 49 Question Id : 2752286082 Question Type : MCQ Option Shuffling : Yes Is Question Mandatory : No Option Orientation : Vertical

Correct Marks : 1 Wrong Marks : 0.25

_____ = GDP (Gross Domestic Product) + NFIA (net factor income from abroad).

Options :

1. ✘ Net Domestic Product
2. ✘ Net National Product

3. ✘ Net national expenditure

4. ✔ Gross National Product

Question Number : 49 Question Id : 2752286082 Question Type : MCQ Option Shuffling : Yes Is Question Mandatory : No Option Orientation : Vertical

Correct Marks : 1 Wrong Marks : 0.25

_____ = GDP (सकल घरेलू उत्पाद) + NFIA (विदेश से शुद्ध कारक आय)।

Options :

1. ✘ निवल देशीय उत्पाद

2. ✘ शुद्ध राष्ट्रीय उत्पाद

3. ✘ शुद्ध राष्ट्रीय व्यय

4. ✔ सकल राष्ट्रीय उत्पाद

Question Number : 50 Question Id : 2752286083 Question Type : MCQ Option Shuffling : Yes Is Question Mandatory : No Option Orientation : Vertical

Correct Marks : 1 Wrong Marks : 0.25

_____ is the chemical process in which different types of chemical reactions involved in controlling the living state of the cells in an organism.

Options :

1. ✔ Metabolism

2. ✘ Respiration

3. ✘ Transportation

4. ✘ Reproduction

Question Number : 50 Question Id : 2752286083 Question Type : MCQ Option Shuffling : Yes Is Question Mandatory : No Option Orientation : Vertical

Correct Marks : 1 Wrong Marks : 0.25

_____ एक रासायनिक प्रक्रिया है जिसमें जीव में कोशिकाओं की जीवित अवस्था को नियंत्रित करने के लिए विभिन्न प्रकार की रासायनिक प्रतिक्रियाएं शामिल होती हैं।

Options :

1. ✔ चयापचय

2. ✘ श्वसन

3. ✖ परिवहन

4. ✖ प्रजनन

Question Number : 51 Question Id : 2752286084 Question Type : MCQ Option Shuffling : Yes Is Question Mandatory : No Option Orientation : Vertical

Correct Marks : 1 Wrong Marks : 0.25

The lens focuses light on the back of the eye. The back of the eye is known as _____.

Options :

1. ✖ cornea

2. ✖ iris

3. ✖ lens

4. ✔ retina

Question Number : 51 Question Id : 2752286084 Question Type : MCQ Option Shuffling : Yes Is Question Mandatory : No Option Orientation : Vertical

Correct Marks : 1 Wrong Marks : 0.25

लेंस आँख के पीछे प्रकाश को केन्द्रित करता है। आँख के पीछे के भाग को _____ के नाम से जाना जाता है।

Options :

1. ✖ स्वच्छमण्डल

2. ✖ ईरिस

3. ✖ लेंस

4. ✔ दृष्टि पटल

Question Number : 52 Question Id : 2752286085 Question Type : MCQ Option Shuffling : Yes Is Question Mandatory : No Option Orientation : Vertical

Correct Marks : 1 Wrong Marks : 0.25

Which among the following national parks is located in Manipur?

Options :

1. ✖ Coringa Wildlife Sanctuary

2. ✔ Keibul Lamjao National Park

3. ✖ Jim Corbett National Park

4. ✘ Nagarhole National Park

Question Number : 52 Question Id : 2752286085 Question Type : MCQ Option Shuffling : Yes Is Question Mandatory : No Option Orientation : Vertical

Correct Marks : 1 Wrong Marks : 0.25

निम्नलिखित राष्ट्रीय उद्यानों में से कौन सा मणिपुर में स्थित है?

Options :

1. ✘ कोरिंगा वन्यजीव अभयारण्य
2. ✔ केयबुल लामजाओ राष्ट्रीय उद्यान
3. ✘ जिम कॉर्बेट राष्ट्रीय उद्यान
4. ✘ नागरहोल राष्ट्रीय उद्यान

Question Number : 53 Question Id : 2752286086 Question Type : MCQ Option Shuffling : Yes Is Question Mandatory : No Option Orientation : Vertical

Correct Marks : 1 Wrong Marks : 0.25

Parrot belongs to which of the following classes of vertebrates?

Options :

1. ✘ Reptilla
2. ✘ Amphibia
3. ✔ Aves
4. ✘ Pisces

Question Number : 53 Question Id : 2752286086 Question Type : MCQ Option Shuffling : Yes Is Question Mandatory : No Option Orientation : Vertical

Correct Marks : 1 Wrong Marks : 0.25

तोता निम्नलिखित में से किस कशेरुकियों के वर्ग से संबंधित है?

Options :

1. ✘ सरीसृप
2. ✘ उभयचर
3. ✔ एविस
4. ✘ मत्स्य वर्ग (पाइसइस)

Question Number : 54 Question Id : 2752286087 Question Type : MCQ Option Shuffling : Yes Is Question Mandatory : No Option Orientation : Vertical

Correct Marks : 1 Wrong Marks : 0.25

Rickets is caused due to the deficiency of which of the following vitamins?

Options :

1. ✘ Vitamin A
2. ✘ Vitamin E
3. ✘ Vitamin C
4. ✔ Vitamin D

Question Number : 54 Question Id : 2752286087 Question Type : MCQ Option Shuffling : Yes Is Question Mandatory : No Option Orientation : Vertical

Correct Marks : 1 Wrong Marks : 0.25

सूखा रोग निम्नलिखित विटामिन में से किसकी कमी के कारण होता है?

Options :

1. ✘ विटामिन A
2. ✘ विटामिन E
3. ✘ विटामिन C
4. ✔ विटामिन D

Question Number : 55 Question Id : 2752286088 Question Type : MCQ Option Shuffling : Yes Is Question Mandatory : No Option Orientation : Vertical

Correct Marks : 1 Wrong Marks : 0.25

Which among the following lines separates India and Pakistan?

Options :

1. ✘ Durand Line
2. ✘ MacMohan Line
3. ✘ Hindenburg Line
4. ✔ Radcliffe Line

Question Number : 55 Question Id : 2752286088 Question Type : MCQ Option Shuffling : Yes Is Question Mandatory : No Option

Orientation : Vertical

Correct Marks : 1 Wrong Marks : 0.25

निम्नलिखित में से कौन सी रेखा भारत और पाकिस्तान को अलग करती है?

Options :

1. ✘ डूरण्ड रेखा
2. ✘ मैकमोहन रेखा
3. ✘ हिंडनबर्ग रेखा
4. ✔ रैडक्लिफ़ रेखा

Question Number : 56 Question Id : 2752286089 Question Type : MCQ Option Shuffling : Yes Is Question Mandatory : No Option

Orientation : Vertical

Correct Marks : 1 Wrong Marks : 0.25

Indravati river is the tributary of which of the following rivers?

Options :

1. ✘ Krishna
2. ✔ Godavari
3. ✘ Narmada
4. ✘ Mahanadi

Question Number : 56 Question Id : 2752286089 Question Type : MCQ Option Shuffling : Yes Is Question Mandatory : No Option

Orientation : Vertical

Correct Marks : 1 Wrong Marks : 0.25

इंद्रावती नदी निम्नलिखित में से किस नदी की उपनदी है?

Options :

1. ✘ कृष्णा
2. ✔ गोदावरी
3. ✘ नर्मदा
4. ✘ महानदी

Question Number : 57 Question Id : 2752286090 Question Type : MCQ Option Shuffling : Yes Is Question Mandatory : No Option

Orientation : Vertical

Correct Marks : 1 Wrong Marks : 0.25

Which among the following type of mountains is also known as "Mountains of Accumulation"?

Options :

1. ✘ Block Mountains
2. ✘ Residual Mountains
3. ✔ Volcanic Mountains
4. ✘ Fold Mountains

Question Number : 57 Question Id : 2752286090 Question Type : MCQ Option Shuffling : Yes Is Question Mandatory : No Option Orientation : Vertical

Correct Marks : 1 Wrong Marks : 0.25

निम्नलिखित में से किस पर्वत को "संचित पर्वत" के रूप में भी जाना जाता है?

Options :

1. ✘ खण्ड पर्वत
2. ✘ अवशिष्ट पर्वत
3. ✔ ज्वालामुखी पर्वत
4. ✘ वलित पर्वत

Question Number : 58 Question Id : 2752286091 Question Type : MCQ Option Shuffling : Yes Is Question Mandatory : No Option Orientation : Vertical

Correct Marks : 1 Wrong Marks : 0.25

Which among the following soils is formed as a result of high leaching?

Options :

1. ✔ Laterite
2. ✘ Black
3. ✘ Red
4. ✘ Arid

Question Number : 58 Question Id : 2752286091 Question Type : MCQ Option Shuffling : Yes Is Question Mandatory : No Option Orientation : Vertical

Correct Marks : 1 Wrong Marks : 0.25

निम्नलिखित में से कौन सी मृदा में उच्च निक्षालन के परिणामस्वरूप बनती है?

Options :

1. ✓ लैटेराइट
2. ✘ काला
3. ✘ लाल
4. ✘ शुष्क

Question Number : 59 Question Id : 2752286092 Question Type : MCQ Option Shuffling : Yes Is Question Mandatory : No Option Orientation : Vertical

Correct Marks : 1 Wrong Marks : 0.25

Who among the following was the founder of the Chalukya Dynasty?

Options :

1. ✘ Aditya I
2. ✘ Krishna I
3. ✓ Pulakeshin I
4. ✘ Kokalla I

Question Number : 59 Question Id : 2752286092 Question Type : MCQ Option Shuffling : Yes Is Question Mandatory : No Option Orientation : Vertical

Correct Marks : 1 Wrong Marks : 0.25

निम्नलिखित में से कौन चालुक्य राजवंश के संस्थापक थे?

Options :

1. ✘ आदित्य I
2. ✘ कृष्ण I
3. ✓ पुलकेसि I
4. ✘ कोकला I

Question Number : 60 Question Id : 2752286093 Question Type : MCQ Option Shuffling : Yes Is Question Mandatory : No Option Orientation : Vertical

Correct Marks : 1 Wrong Marks : 0.25

The Bengal Sati Regulation which banned the Sati practice in all jurisdictions of British India was passed in _____.

Options :

1. ✘ 1792
2. ✘ 1838
3. ✘ 1850
4. ✔ 1829

Question Number : 60 Question Id : 2752286093 Question Type : MCQ Option Shuffling : Yes Is Question Mandatory : No Option Orientation : Vertical

Correct Marks : 1 Wrong Marks : 0.25

बंगाल सती विनियमन जिसने ब्रिटिश भारत के सभी न्यायालयों में सती प्रथा पर प्रतिबंध लगा दिया था, _____ में पारित किया गया था।

Options :

1. ✘ 1792
2. ✘ 1838
3. ✘ 1850
4. ✔ 1829

General Awareness2

Group Number :	4
Group Id :	275228216
Group Maximum Duration :	0
Group Minimum Duration :	0
Show Attended Group? :	No
Edit Attended Group? :	No
Break time :	0
Group Marks :	20
Is this Group for Examiner? :	No

General Awareness2

Section Id :	275228318
Section Number :	1

Section type :	Online
Mandatory or Optional :	Mandatory
Number of Questions :	20
Number of Questions to be attempted :	20
Section Marks :	20
Enable Mark as Answered Mark for Review and Clear Response :	Yes
Sub-Section Number :	1
Sub-Section Id :	275228381
Question Shuffling Allowed :	Yes

Question Number : 61 Question Id : 2752286094 Question Type : MCQ Option Shuffling : Yes Is Question Mandatory : No Option Orientation : Vertical

Correct Marks : 1 Wrong Marks : 0.25

The Simla Conference of _____ was a meeting between the Viceroy of India Lord Wavell and the major political leaders of British India at Simla.

Options :

1. ✓ 1945
2. ✗ 1919
3. ✗ 1928
4. ✗ 1936

Question Number : 61 Question Id : 2752286094 Question Type : MCQ Option Shuffling : Yes Is Question Mandatory : No Option Orientation : Vertical

Correct Marks : 1 Wrong Marks : 0.25

_____ का शिमला सम्मेलन भारत के वायसराय लॉर्ड वेवेल और ब्रिटिश भारत के प्रमुख राजनीतिक नेताओं के बीच शिमला में हुई एक बैठक थी।

Options :

1. ✓ 1945
2. ✗ 1919
3. ✗ 1928
4. ✗ 1936

Question Number : 62 Question Id : 2752286095 Question Type : MCQ Option Shuffling : Yes Is Question Mandatory : No Option Orientation : Vertical

Correct Marks : 1 Wrong Marks : 0.25

The Indian Council Act passed in 1909 was popularly known as _____.

Options :

1. ✘ Wavell Plan
2. ✘ Charter Act
3. ✔ Morley Minto Reforms
4. ✘ Pitt's India Act

Question Number : 62 Question Id : 2752286095 Question Type : MCQ Option Shuffling : Yes Is Question Mandatory : No Option Orientation : Vertical

Correct Marks : 1 Wrong Marks : 0.25

1909 में पारित भारतीय परिषद अधिनियम को _____ के लोकप्रिय नाम से जाना जाता था।

Options :

1. ✘ वेवेल योजना
2. ✘ चार्टर अधिनियम
3. ✔ मॉर्ले मिंटो सुधार
4. ✘ पिट का भारत अधिनियम

Question Number : 63 Question Id : 2752286096 Question Type : MCQ Option Shuffling : Yes Is Question Mandatory : No Option Orientation : Vertical

Correct Marks : 1 Wrong Marks : 0.25

The Surat Split was the splitting of the Indian National Congress into two groups - the Extremists and the Moderates - at the Surat session in _____.

Options :

1. ✘ 1918
2. ✔ 1907
3. ✘ 1932
4. ✘ 1885

Question Number : 63 Question Id : 2752286096 Question Type : MCQ Option Shuffling : Yes Is Question Mandatory : No Option Orientation : Vertical

Correct Marks : 1 Wrong Marks : 0.25

_____ में सूरत सत्र में हुए सूरत विभाजन, भारतीय राष्ट्रीय कांग्रेस के दो समूहों - उग्रवादियों और नरमपंथियों का विभाजन था।

Options :

1. ✘ 1918
2. ✔ 1907
3. ✘ 1932
4. ✘ 1885

Question Number : 64 Question Id : 2752286097 Question Type : MCQ Option Shuffling : Yes Is Question Mandatory : No Option Orientation : Vertical

Correct Marks : 1 Wrong Marks : 0.25

For which of the following films did Bhanu Athaiya receive an oscar for the best costume designer?

Options :

1. ✘ Swades
2. ✘ Lagaan: Once Upon a Time in India
3. ✔ Gandhi
4. ✘ Slumdog Millionaire

Question Number : 64 Question Id : 2752286097 Question Type : MCQ Option Shuffling : Yes Is Question Mandatory : No Option Orientation : Vertical

Correct Marks : 1 Wrong Marks : 0.25

निम्नलिखित में से किस फिल्म के लिए भानु अथैया को सर्वश्रेष्ठ कॉस्ट्यूम डिजाइनर के लिए ऑस्कर मिला?

Options :

1. ✘ स्वदेस
2. ✘ लगान: वंस अपॉन ए टाइम इन इंडिया
3. ✔ गांधी
4. ✘ स्लमडॉग मिलियनेर

Question Number : 65 Question Id : 2752286098 Question Type : MCQ Option Shuffling : Yes Is Question Mandatory : No Option Orientation : Vertical

Correct Marks : 1 Wrong Marks : 0.25

Which among the following books is written by Salman Rushdie?

Options :

1. ✘ The King of Dark Chamber
2. ✘ The End of Imagination
3. ✘ Between the Assassinations
4. ✔ The Enchantress of Florence

Question Number : 65 Question Id : 2752286098 Question Type : MCQ Option Shuffling : Yes Is Question Mandatory : No Option Orientation : Vertical

Correct Marks : 1 Wrong Marks : 0.25

सलमान रुश्दी ने निम्नलिखित में से कौन सी किताब लिखी है?

Options :

1. ✘ द किंग ऑफ़ डार्क चैम्बर
2. ✘ द एन्ड ऑफ़ इमेजिनेशन
3. ✘ बिटवीन द अस्ससिनेशन
4. ✔ द एंचेंट्रेस ऑफ़ फ्लोरेंस

Question Number : 66 Question Id : 2752286099 Question Type : MCQ Option Shuffling : Yes Is Question Mandatory : No Option Orientation : Vertical

Correct Marks : 1 Wrong Marks : 0.25

Who among the following was the first chairman of the ISRO?

Options :

1. ✘ Satish Dhawan
2. ✔ Vikram Sarabhai
3. ✘ Shailesh Nayak
4. ✘ A. S. Kiran Kumar

Question Number : 66 Question Id : 2752286099 Question Type : MCQ Option Shuffling : Yes Is Question Mandatory : No Option Orientation : Vertical

Correct Marks : 1 Wrong Marks : 0.25

निम्नलिखित में से कौन इसरो (ISRO) के पहले अध्यक्ष थे?

Options :

1. ✘ सतीश धवन
2. ✔ विक्रम साराभाई
3. ✘ शैलेश नायक
4. ✘ ऐ. एस. किरण कुमार

Question Number : 67 Question Id : 2752286100 Question Type : MCQ Option Shuffling : Yes Is Question Mandatory : No Option Orientation : Vertical

Correct Marks : 1 Wrong Marks : 0.25

Where was the first session of United Nations held?

Options :

1. ✔ London
2. ✘ Paris
3. ✘ Geneva
4. ✘ New York

Question Number : 67 Question Id : 2752286100 Question Type : MCQ Option Shuffling : Yes Is Question Mandatory : No Option Orientation : Vertical

Correct Marks : 1 Wrong Marks : 0.25

संयुक्त राष्ट्र का पहला सत्र कहाँ आयोजित किया गया था?

Options :

1. ✔ लंदन
2. ✘ पेरिस
3. ✘ जिनेवा
4. ✘ न्यूयॉर्क

Question Number : 68 Question Id : 2752286101 Question Type : MCQ Option Shuffling : Yes Is Question Mandatory : No Option Orientation : Vertical

Correct Marks : 1 Wrong Marks : 0.25

Who among the following famous NBA players died in a helicopter crash in January 2020?

Options :

1. ✘ Kevin Durant

2. ✓ Kobe Bryant
3. ✗ James Harden
4. ✗ Stephen Curry

Question Number : 68 Question Id : 2752286101 Question Type : MCQ Option Shuffling : Yes Is Question Mandatory : No Option Orientation : Vertical

Correct Marks : 1 Wrong Marks : 0.25

निम्नलिखित प्रसिद्ध NBA खिलाड़ियों में से कौन जनवरी 2020 में एक हेलीकॉप्टर दुर्घटना में मारा गया?

Options :

1. ✗ केविन ड्यूरेंट
2. ✓ कोबी ब्रायंट
3. ✗ जेम्स हार्डन
4. ✗ स्टीफन करी

Question Number : 69 Question Id : 2752286102 Question Type : MCQ Option Shuffling : Yes Is Question Mandatory : No Option Orientation : Vertical

Correct Marks : 1 Wrong Marks : 0.25

Which among the following state's cabinets passed a resolution to abolish the Legislative Council on 27th January 2020?

Options :

1. ✗ Tamil Nadu
2. ✗ Maharashtra
3. ✓ Andhra Pradesh
4. ✗ Madhya Pradesh

Question Number : 69 Question Id : 2752286102 Question Type : MCQ Option Shuffling : Yes Is Question Mandatory : No Option Orientation : Vertical

Correct Marks : 1 Wrong Marks : 0.25

निम्नलिखित में से किस राज्य के मंत्रिमंडल ने 27 जनवरी 2020 को विधान परिषद को समाप्त करने का प्रस्ताव पारित किया?

Options :

1. ✗ तमिल नाडु
2. ✗ महाराष्ट्र

3. ✓ आंध्र प्रदेश

4. ✗ मध्य प्रदेश

Question Number : 70 Question Id : 2752286103 Question Type : MCQ Option Shuffling : Yes Is Question Mandatory : No Option Orientation : Vertical

Correct Marks : 1 Wrong Marks : 0.25

The Innovation Cell of the Ministry of Human Resources Development and All India Council for Technical Education in collaboration with Forge and InnovatioCuris launched a mega online challenge called _____ to test the ability of students to innovate.

Options :

1. ✓ SAMADHAN

2. ✗ PARIKSHA

3. ✗ JEEVAN

4. ✗ SUVIDHA

Question Number : 70 Question Id : 2752286103 Question Type : MCQ Option Shuffling : Yes Is Question Mandatory : No Option Orientation : Vertical

Correct Marks : 1 Wrong Marks : 0.25

फोर्ज और इनोवेशियोक्यूरिस के सहयोग से मानव संसाधन मंत्रालय के इनोवेशन सेल और अखिल भारतीय तकनीकी शिक्षा परिषद ने छात्रों की नवाचार की क्षमता का परीक्षण करने के लिए _____ नामक एक मेगा ऑनलाइन चैलेंज शुरू की।

Options :

1. ✓ समाधान

2. ✗ परीक्षा

3. ✗ जीवन

4. ✗ सुविधा

Question Number : 71 Question Id : 2752286104 Question Type : MCQ Option Shuffling : Yes Is Question Mandatory : No Option Orientation : Vertical

Correct Marks : 1 Wrong Marks : 0.25

What is the rank of India as per Global Talent Competitive Index (GTCI) 2020 released at the annual meeting of the World Economic Forum (WEF)?

Options :

1. ✗ 85

2. ✘ 63
3. ✘ 54
4. ✔ 72

Question Number : 71 Question Id : 2752286104 Question Type : MCQ Option Shuffling : Yes Is Question Mandatory : No Option Orientation : Vertical

Correct Marks : 1 Wrong Marks : 0.25

विश्व आर्थिक मंच की वार्षिक बैठक में जारी वैश्विक प्रतिभा प्रतियोगी सूचकांक 2020 के अनुसार भारत का रैंक क्या है?

Options :

1. ✘ 85
2. ✘ 63
3. ✘ 54
4. ✔ 72

Question Number : 72 Question Id : 2752286105 Question Type : MCQ Option Shuffling : Yes Is Question Mandatory : No Option Orientation : Vertical

Correct Marks : 1 Wrong Marks : 0.25

Article 29 and 30 of the Indian Constitution deals with the _____.

Options :

1. ✘ Right to Freedom
2. ✘ Right to Equality
3. ✘ Right Against Exploitation
4. ✔ Cultural and Educational Rights

Question Number : 72 Question Id : 2752286105 Question Type : MCQ Option Shuffling : Yes Is Question Mandatory : No Option Orientation : Vertical

Correct Marks : 1 Wrong Marks : 0.25

भारतीय संविधान का अनुच्छेद 29 और 30 _____ से संबंधित है।

Options :

1. ✘ स्वतंत्रता का अधिकार
2. ✘ समानता का अधिकार

3. ✘ शोषण के खिलाफ अधिकार
4. ✔ सांस्कृतिक और शैक्षिक अधिकार

Question Number : 73 Question Id : 2752286106 Question Type : MCQ Option Shuffling : Yes Is Question Mandatory : No Option Orientation : Vertical

Correct Marks : 1 Wrong Marks : 0.25

The concept of "Freedom of trade and commerce" in the Indian Constitution is borrowed from the constitution of which of the following countries?

Options :

1. ✔ Australia
2. ✘ Canada
3. ✘ United States
4. ✘ Japan

Question Number : 73 Question Id : 2752286106 Question Type : MCQ Option Shuffling : Yes Is Question Mandatory : No Option Orientation : Vertical

Correct Marks : 1 Wrong Marks : 0.25

भारतीय संविधान में "व्यापार और वाणिज्य की स्वतंत्रता" की अवधारणा निम्नलिखित में से किस देश के संविधान से उधार ली गई है?

Options :

1. ✔ ऑस्ट्रेलिया
2. ✘ कनाडा
3. ✘ संयुक्त राज्य
4. ✘ जापान

Question Number : 74 Question Id : 2752286107 Question Type : MCQ Option Shuffling : Yes Is Question Mandatory : No Option Orientation : Vertical

Correct Marks : 1 Wrong Marks : 0.25

Which among the following constitutional amendments incorporated Goa, Daman and Diu in the Indian Union?

Options :

1. ✘ 5th
2. ✘ 18th
3. ✘ 22nd

4. ✓ 12th

Question Number : 74 Question Id : 2752286107 Question Type : MCQ Option Shuffling : Yes Is Question Mandatory : No Option Orientation : Vertical

Correct Marks : 1 Wrong Marks : 0.25

निम्नलिखित में से किस संवैधानिक संशोधन ने गोवा, दमन और दीव को भारतीय संघ में शामिल किया?

Options :

1. ✘ 5वें
2. ✘ 18वें
3. ✘ 22वें
4. ✓ 12वें

Question Number : 75 Question Id : 2752286108 Question Type : MCQ Option Shuffling : Yes Is Question Mandatory : No Option Orientation : Vertical

Correct Marks : 1 Wrong Marks : 0.25

In which year did Lord Mountbatten address the Constituent Assembly for the last time?

Options :

1. ✘ 1945
2. ✘ 1946
3. ✓ 1947
4. ✘ 1948

Question Number : 75 Question Id : 2752286108 Question Type : MCQ Option Shuffling : Yes Is Question Mandatory : No Option Orientation : Vertical

Correct Marks : 1 Wrong Marks : 0.25

लॉर्ड माउंटबेटन ने आखिरी बार किस वर्ष में संविधान सभा को संबोधित किया था?

Options :

1. ✘ 1945
2. ✘ 1946
3. ✓ 1947
4. ✘ 1948

Question Number : 76 Question Id : 2752286109 Question Type : MCQ Option Shuffling : Yes Is Question Mandatory : No Option Orientation : Vertical

Correct Marks : 1 Wrong Marks : 0.25

How many teams participated in the 1975 Cricket World Cup?

Options :

1. ✘ 12
2. ✘ 10
3. ✔ 8
4. ✘ 14

Question Number : 76 Question Id : 2752286109 Question Type : MCQ Option Shuffling : Yes Is Question Mandatory : No Option Orientation : Vertical

Correct Marks : 1 Wrong Marks : 0.25

1975 के क्रिकेट विश्व कप में कितनी टीमों ने भाग लिया?

Options :

1. ✘ 12
2. ✘ 10
3. ✔ 8
4. ✘ 14

Question Number : 77 Question Id : 2752286110 Question Type : MCQ Option Shuffling : Yes Is Question Mandatory : No Option Orientation : Vertical

Correct Marks : 1 Wrong Marks : 0.25

Who among the following holds the record of winning the most ATP Masters 1000 singles titles in tennis as of April 2020?

Options :

1. ✔ Rafael Nadal
2. ✘ Novak Djokovic
3. ✘ Roger Federer
4. ✘ Andy Murray

Question Number : 77 Question Id : 2752286110 Question Type : MCQ Option Shuffling : Yes Is Question Mandatory : No Option

Orientation : Vertical

Correct Marks : 1 Wrong Marks : 0.25

निम्नलिखित में से कौन अप्रैल 2020 तक टेनिस में सर्वाधिक ATP मास्टर्स 1000 एकल खिताब जीतने का रिकॉर्ड रखता है?

Options :

1. ✓ रफ़ाएल नडाल
2. ✗ नोवाक जोकोविच
3. ✗ रोजर फ़ेडरर
4. ✗ एंडी मुर्रे

Question Number : 78 Question Id : 2752286111 Question Type : MCQ Option Shuffling : Yes Is Question Mandatory : No Option

Orientation : Vertical

Correct Marks : 1 Wrong Marks : 0.25

Who among the following Indian women has scored the highest aggregate runs in the Women's ODI cricket format as of April 2020?

Options :

1. ✗ Harmanpreet Kaur
2. ✗ Smriti Mandhana
3. ✓ Mithali Raj
4. ✗ Deepti Sharma

Question Number : 78 Question Id : 2752286111 Question Type : MCQ Option Shuffling : Yes Is Question Mandatory : No Option

Orientation : Vertical

Correct Marks : 1 Wrong Marks : 0.25

निम्नलिखित में से किस भारतीय महिला ने अप्रैल 2020 तक महिला ODI क्रिकेट प्रारूप में सबसे अधिक रन बनाए हैं?

Options :

1. ✗ हरमनप्रीत कौर
2. ✗ स्मृति मंधाना
3. ✓ मिताली राज
4. ✗ दीप्ति शर्मा

Question Number : 79 Question Id : 2752286112 Question Type : MCQ Option Shuffling : Yes Is Question Mandatory : No Option

Orientation : Vertical

Correct Marks : 1 Wrong Marks : 0.25

Which among the following teams holds the record of the highest team score in the Under 19 Cricket World Cup as of April 2020?

Options :

1. ✘ England
2. ✔ Australia
3. ✘ India
4. ✘ New Zealand

Question Number : 79 Question Id : 2752286112 Question Type : MCQ Option Shuffling : Yes Is Question Mandatory : No Option Orientation : Vertical

Correct Marks : 1 Wrong Marks : 0.25

निम्नलिखित में से कौन सी टीम अप्रैल 2020 तक अंडर 19 क्रिकेट विश्व कप में सर्वोच्च टीम स्कोर का रिकॉर्ड रखती है?

Options :

1. ✘ इंग्लैण्ड
2. ✔ ऑस्ट्रेलिया
3. ✘ भारत
4. ✘ न्यूज़ीलैण्ड

Question Number : 80 Question Id : 2752286113 Question Type : MCQ Option Shuffling : Yes Is Question Mandatory : No Option Orientation : Vertical

Correct Marks : 1 Wrong Marks : 0.25

The Beighton Cup is associated with which of the following sports?

Options :

1. ✘ Cricket
2. ✘ Golf
3. ✘ Table Tennis
4. ✔ Hockey

Question Number : 80 Question Id : 2752286113 Question Type : MCQ Option Shuffling : Yes Is Question Mandatory : No Option Orientation : Vertical

Correct Marks : 1 Wrong Marks : 0.25

बेटन कप निम्नलिखित में से किस खेल से जुड़ा है?

Options :

1. ✖ क्रिकेट
2. ✖ गोल्फ़
3. ✖ टेबल टेनिस
4. ✔ हॉकी

Arithmetic Ability1

Group Number :	5
Group Id :	275228217
Group Maximum Duration :	0
Group Minimum Duration :	0
Show Attended Group? :	No
Edit Attended Group? :	No
Break time :	0
Group Marks :	20
Is this Group for Examiner? :	No

Arithmetic Ability1

Section Id :	275228319
Section Number :	1
Section type :	Online
Mandatory or Optional :	Mandatory
Number of Questions :	20
Number of Questions to be attempted :	20
Section Marks :	20
Enable Mark as Answered Mark for Review and Clear Response :	Yes
Sub-Section Number :	1
Sub-Section Id :	275228382
Question Shuffling Allowed :	Yes

Question Number : 81 Question Id : 2752286114 Question Type : MCQ Option Shuffling : Yes Is Question Mandatory : No Option Orientation : Vertical

Correct Marks : 1 Wrong Marks : 0.25

What is the least number by which 588 must be multiplied to make it a perfect square?

Options :

1. ✘ 2
2. ✔ 3
3. ✘ 6
4. ✘ 9

Question Number : 81 Question Id : 2752286114 Question Type : MCQ Option Shuffling : Yes Is Question Mandatory : No Option Orientation : Vertical

Correct Marks : 1 Wrong Marks : 0.25

न्यूनतम संख्या क्या है जिसके द्वारा 588 को गुणा किया जाना चाहिए ताकि वह एक पूर्ण वर्ग बने?

Options :

1. ✘ 2
2. ✔ 3
3. ✘ 6
4. ✘ 9

Question Number : 82 Question Id : 2752286115 Question Type : MCQ Option Shuffling : Yes Is Question Mandatory : No Option Orientation : Vertical

Correct Marks : 1 Wrong Marks : 0.25

The product of fractions M and N is $\frac{9}{8}$. What is the value of fraction N if fraction M is half of fraction N?

Options :

1. ✘ $\frac{3}{4}$
2. ✘ $\frac{9}{16}$
3. ✔ $\frac{3}{2}$
4. ✘ $\frac{9}{4}$

Question Number : 82 Question Id : 2752286115 Question Type : MCQ Option Shuffling : Yes Is Question Mandatory : No Option Orientation : Vertical

Correct Marks : 1 Wrong Marks : 0.25

भिन्न M और N का गुणनफल $9/8$ है। यदि भिन्न M, भिन्न N का आधा है, तो भिन्न N का मान क्या है?

Options :

1. ✘ $3/4$
2. ✘ $9/16$
3. ✔ $3/2$
4. ✘ $9/4$

Question Number : 83 Question Id : 2752286116 Question Type : MCQ Option Shuffling : Yes Is Question Mandatory : No Option Orientation : Vertical

Correct Marks : 1 Wrong Marks : 0.25

The product of LCM and HCF of two numbers is 216. The difference of the two numbers is 6. What are the numbers?

Options :

1. ✔ 12,18
2. ✘ 22,28
3. ✘ 18,22
4. ✘ 28,32

Question Number : 83 Question Id : 2752286116 Question Type : MCQ Option Shuffling : Yes Is Question Mandatory : No Option Orientation : Vertical

Correct Marks : 1 Wrong Marks : 0.25

दो संख्याओं के लघुत्तम समापवर्तक और महत्तम समापवर्तक का गुणनफल 216 है। दो संख्याओं का अंतर 6 है। संख्याएँ क्या हैं?

Options :

1. ✔ 12,18
2. ✘ 22,28
3. ✘ 18,22
4. ✘ 28,32

Question Number : 84 Question Id : 2752286117 Question Type : MCQ Option Shuffling : Yes Is Question Mandatory : No Option Orientation : Vertical

Correct Marks : 1 Wrong Marks : 0.25

A contractor pays Rs. 100 to a worker for each day and the worker forfeits Rs. 40 for each day if he is idle. At the end of 30 days, the worker gets

Rs. 2300. For how many days the worker was idle?

Options :

1. ✖ 7 days
2. ✔ 5 days
3. ✖ 8 days
4. ✖ 6 days

Question Number : 84 Question Id : 2752286117 Question Type : MCQ Option Shuffling : Yes Is Question Mandatory : No Option Orientation : Vertical

Correct Marks : 1 Wrong Marks : 0.25

एक ठेकेदार प्रत्येक दिन के लिए एक मज़दूर को 100 रुपए का भुगतान करता है और मज़दूर प्रत्येक दिन के लिए 40 रुपए खो देता है यदि वह बेकार है। 30 दिनों के अंत में, मज़दूर को 2300 रुपए मिलते हैं। मज़दूर कितने दिनों के लिए बेकार था?

Options :

1. ✖ 7 दिन
2. ✔ 5 दिन
3. ✖ 8 दिन
4. ✖ 6 दिन

Question Number : 85 Question Id : 2752286118 Question Type : MCQ Option Shuffling : Yes Is Question Mandatory : No Option Orientation : Vertical

Correct Marks : 1 Wrong Marks : 0.25

What is the average of 15, 17, 19, 21.....35, 37, 39?

Options :

1. ✖ 21
2. ✖ 23
3. ✖ 25
4. ✔ 27

Question Number : 85 Question Id : 2752286118 Question Type : MCQ Option Shuffling : Yes Is Question Mandatory : No Option Orientation : Vertical

Correct Marks : 1 Wrong Marks : 0.25

15, 17, 19, 21 35, 37, 39 का औसत क्या है?

Options :

1. ✘ 21
2. ✘ 23
3. ✘ 25
4. ✔ 27

Question Number : 86 Question Id : 2752286119 Question Type : MCQ Option Shuffling : Yes Is Question Mandatory : No Option Orientation : Vertical

Correct Marks : 1 Wrong Marks : 0.25

What is the single equivalent discount of 5 percent, 8 percent and 14 percent?

Options :

1. ✔ 24.836 percent
2. ✘ 27 percent
3. ✘ 26.32 percent
4. ✘ 25.15 percent

Question Number : 86 Question Id : 2752286119 Question Type : MCQ Option Shuffling : Yes Is Question Mandatory : No Option Orientation : Vertical

Correct Marks : 1 Wrong Marks : 0.25

5 प्रतिशत, 8 प्रतिशत और 14 प्रतिशत के समकक्ष एकल छूट क्या है?

Options :

1. ✔ 24.836 प्रतिशत
2. ✘ 27 प्रतिशत
3. ✘ 26.32 प्रतिशत
4. ✘ 25.15 प्रतिशत

Question Number : 87 Question Id : 2752286120 Question Type : MCQ Option Shuffling : Yes Is Question Mandatory : No Option Orientation : Vertical

Correct Marks : 1 Wrong Marks : 0.25

There are two house groups - Red group and Blue group in a school, consisting of 40 and 50 students respectively. If the average weight of red group is 52 Kg and that of Blue group is 45 Kg, then what is the average weight of all group students?

Options :

1. ✘ 45
2. ✘ 43
3. ✘ 46.55
4. ✔ 48.11

Question Number : 87 Question Id : 2752286120 Question Type : MCQ Option Shuffling : Yes Is Question Mandatory : No Option Orientation : Vertical

Correct Marks : 1 Wrong Marks : 0.25

एक विद्यालय में दो हाउस ग्रुप - रेड ग्रुप और ब्लू ग्रुप हैं, जिनमें क्रमशः 40 और 50 छात्र हैं। यदि रेड ग्रुप का औसत वजन 52 kg है और ब्लू ग्रुप का वजन 45 kg है, तो सभी समूह के छात्रों का औसत वजन क्या है?

Options :

1. ✘ 45
2. ✘ 43
3. ✘ 46.55
4. ✔ 48.11

Question Number : 88 Question Id : 2752286121 Question Type : MCQ Option Shuffling : Yes Is Question Mandatory : No Option Orientation : Vertical

Correct Marks : 1 Wrong Marks : 0.25

Present population of a city is 70000. It increases at the rate of 4 percent per year. What will be the population after 2 years ?

Options :

1. ✘ 75752
2. ✘ 72754
3. ✔ 75712
4. ✘ 73425

Question Number : 88 Question Id : 2752286121 Question Type : MCQ Option Shuffling : Yes Is Question Mandatory : No Option Orientation : Vertical

Correct Marks : 1 Wrong Marks : 0.25

एक शहर की वर्तमान जनसंख्या 70000 है। यह प्रति वर्ष 4 प्रतिशत की दर से बढ़ती है। 2 वर्ष बाद जनसंख्या क्या होगी?

Options :

1. ✘ 75752

2. ✘ 72754

3. ✔ 75712

4. ✘ 73425

Question Number : 89 Question Id : 2752286122 Question Type : MCQ Option Shuffling : Yes Is Question Mandatory : No Option Orientation : Vertical

Correct Marks : 1 Wrong Marks : 0.25

The students need to get 45 percent to pass an exam. Abhishek got 120 marks and fails by 60 marks. What were the maximum marks for the exam?

Options :

1. ✘ 300

2. ✔ 400

3. ✘ 500

4. ✘ 600

Question Number : 89 Question Id : 2752286122 Question Type : MCQ Option Shuffling : Yes Is Question Mandatory : No Option Orientation : Vertical

Correct Marks : 1 Wrong Marks : 0.25

छात्रों को एक परीक्षा में उत्तीर्ण होने के लिए 45 प्रतिशत प्राप्त करने की आवश्यकता है। अभिषेक को 120 अंक मिलते हैं और 60 अंकों से विफल हो जाता है। परीक्षा के लिए अधिकतम अंक क्या थे?

Options :

1. ✘ 300

2. ✔ 400

3. ✘ 500

4. ✘ 600

Question Number : 90 Question Id : 2752286123 Question Type : MCQ Option Shuffling : Yes Is Question Mandatory : No Option Orientation : Vertical

Correct Marks : 1 Wrong Marks : 0.25

For the sale, a shopkeeper first increased the rate of its products by 15 percent and then offered a discount of 15 percent. What is the change in the rate of products in comparison to the original?

Options :

1. ✓ 2.25 percent
2. ✗ 2 percent
3. ✗ 1.50 percent
4. ✗ 1 percent

Question Number : 90 Question Id : 2752286123 Question Type : MCQ Option Shuffling : Yes Is Question Mandatory : No Option Orientation : Vertical

Correct Marks : 1 Wrong Marks : 0.25

बिक्री के लिए, एक दुकानदार ने पहले अपने उत्पादों की दर में 15 प्रतिशत की वृद्धि की और फिर 15 प्रतिशत की छूट दी। मूल की तुलना में उत्पादों की दर में परिवर्तन क्या है?

Options :

1. ✓ 2.25 प्रतिशत
2. ✗ 2 प्रतिशत
3. ✗ 1.50 प्रतिशत
4. ✗ 1 प्रतिशत

Question Number : 91 Question Id : 2752286124 Question Type : MCQ Option Shuffling : Yes Is Question Mandatory : No Option Orientation : Vertical

Correct Marks : 1 Wrong Marks : 0.25

Price of gram flour is 20 percent costlier than wheat flour. How much percent is the price of wheat flour is less than gram flour?

Options :

1. ✗ 83.33 percent
2. ✗ 76.23 percent
3. ✗ 25.11 percent
4. ✓ 16.67 percent

Question Number : 91 Question Id : 2752286124 Question Type : MCQ Option Shuffling : Yes Is Question Mandatory : No Option Orientation : Vertical

Correct Marks : 1 Wrong Marks : 0.25

गेहूं के आटे की तुलना में बेसन की लागत 20 प्रतिशत महंगी है। गेहूं के आटे की लागत बेसन से कितने प्रतिशत कम है?

Options :

1. ✘ 83.33 प्रतिशत
2. ✘ 76.23 प्रतिशत
3. ✘ 25.11 प्रतिशत
4. ✔ 16.67 प्रतिशत

Question Number : 92 Question Id : 2752286125 Question Type : MCQ Option Shuffling : Yes Is Question Mandatory : No Option Orientation : Vertical

Correct Marks : 1 Wrong Marks : 0.25

A boy bought an old music system for Rs. 1000 and spent Rs. 200 on repairing it. He sold it for Rs. 1140 to his friend. What is his loss percent?

Options :

1. ✘ 20 percent
2. ✘ 16 percent
3. ✘ 8 percent
4. ✔ 5 percent

Question Number : 92 Question Id : 2752286125 Question Type : MCQ Option Shuffling : Yes Is Question Mandatory : No Option Orientation : Vertical

Correct Marks : 1 Wrong Marks : 0.25

एक लड़के ने 1000 रुपए में एक पुराना संगीत सयंत्र खरीदा और इसकी मरम्मत पर 200 रुपए खर्च किए। उसने अपने दोस्त को 1140 रुपए में इसे बेच दिया। उसका हानि प्रतिशत क्या है?

Options :

1. ✘ 20 प्रतिशत
2. ✘ 16 प्रतिशत
3. ✘ 8 प्रतिशत
4. ✔ 5 प्रतिशत

Question Number : 93 Question Id : 2752286126 Question Type : MCQ Option Shuffling : Yes Is Question Mandatory : No Option Orientation : Vertical

Correct Marks : 1 Wrong Marks : 0.25

A dealer makes a profit of 10 percent even after giving a 10 percent discount on the marked price of a dining set. If he makes a profit of Rs. 900 on the sale of the dining set, what is the marked price?

Options :

1. ✘ Rs. 9000
2. ✘ Rs. 8500
3. ✔ Rs. 11000
4. ✘ Rs. 10200

Question Number : 93 Question Id : 2752286126 Question Type : MCQ Option Shuffling : Yes Is Question Mandatory : No Option Orientation : Vertical

Correct Marks : 1 Wrong Marks : 0.25

एक विक्रेता डाइनिंग सेट की चिह्नित मूल्य पर 10 प्रतिशत की छूट देने के बाद भी 10 प्रतिशत का लाभ अर्जित करता है। यदि वह डाइनिंग सेट की बिक्री पर 900 रुपए का लाभ अर्जित करता है, तो चिह्नित मूल्य क्या है?

Options :

1. ✘ 9000 रुपए
2. ✘ 8500 रुपए
3. ✔ 11000 रुपए
4. ✘ 10200 रुपए

Question Number : 94 Question Id : 2752286127 Question Type : MCQ Option Shuffling : Yes Is Question Mandatory : No Option Orientation : Vertical

Correct Marks : 1 Wrong Marks : 0.25

Shabana offers a discount of 8 percent on a product and still makes a profit of 15 percent, what is the actual cost of the product if the marked price of that product is Rs. 1200 ?

Options :

1. ✘ Rs. 1104
2. ✔ Rs. 960
3. ✘ Rs. 1180
4. ✘ Rs. 1080

Question Number : 94 Question Id : 2752286127 Question Type : MCQ Option Shuffling : Yes Is Question Mandatory : No Option Orientation : Vertical

Correct Marks : 1 Wrong Marks : 0.25

शबाना किसी उत्पाद पर 8 प्रतिशत की छूट देती है और फिर भी 15 प्रतिशत का लाभ अर्जित करती है, उत्पाद की वास्तविक लागत क्या है यदि उस उत्पाद का चिह्नित मूल्य 1200 रुपए हैं?

Options :

1. ✘ 1104 रूपए
2. ✔ 960 रूपए
3. ✘ 1180 रूपए
4. ✘ 1080 रूपए

Question Number : 95 Question Id : 2752286128 Question Type : MCQ Option Shuffling : Yes Is Question Mandatory : No Option Orientation : Vertical

Correct Marks : 1 Wrong Marks : 0.25

In 200 liters of a mixture, milk and water are in the ratio 7 : 3. How much water should now be added so that the ratio of milk and water becomes 2 : 1?

Options :

1. ✔ 10 liters
2. ✘ 14 liters
3. ✘ 12 liters
4. ✘ 20 liters

Question Number : 95 Question Id : 2752286128 Question Type : MCQ Option Shuffling : Yes Is Question Mandatory : No Option Orientation : Vertical

Correct Marks : 1 Wrong Marks : 0.25

200 लीटर के मिश्रण में, दूध और पानी 7 : 3 के अनुपात में हैं। अब कितना पानी जोड़ा जाना चाहिए ताकि दूध और पानी का अनुपात 2 : 1 हो जाए?

Options :

1. ✔ 10 लीटर
2. ✘ 14 लीटर
3. ✘ 12 लीटर
4. ✘ 20 लीटर

Question Number : 96 Question Id : 2752286129 Question Type : MCQ Option Shuffling : Yes Is Question Mandatory : No Option Orientation : Vertical

Correct Marks : 1 Wrong Marks : 0.25

In a bag there are notes of Rs. 10, Rs. 20 and Rs. 50 in the proportion 3 : 4 : 5. If there are in all Rs. 1800. What is the number of notes of Rs. 50?

Options :

1. ✘ 15
2. ✘ 20
3. ✔ 25
4. ✘ 30

Question Number : 96 Question Id : 2752286129 Question Type : MCQ Option Shuffling : Yes Is Question Mandatory : No Option Orientation : Vertical

Correct Marks : 1 Wrong Marks : 0.25

एक बैग में 10 रुपए, 20 रुपए और 50 रुपए की नोटें, 3 : 4 : 5 के अनुपात में हैं। यदि उसमें कुल मिलाकर 1800 रुपए हैं। तो 50 रुपए की नोटों की संख्या कितनी है?

Options :

1. ✘ 15
2. ✘ 20
3. ✔ 25
4. ✘ 30

Question Number : 97 Question Id : 2752286130 Question Type : MCQ Option Shuffling : Yes Is Question Mandatory : No Option Orientation : Vertical

Correct Marks : 1 Wrong Marks : 0.25

Three numbers are in the ratio 7 : 2 : 8. Sum of the, difference of first and second number and sum of second and third number is 90. What are the numbers?

Options :

1. ✔ 42 , 12 , 48
2. ✘ 14 , 4 , 16
3. ✘ 21 , 6 , 24
4. ✘ 28 , 8 , 32

Question Number : 97 Question Id : 2752286130 Question Type : MCQ Option Shuffling : Yes Is Question Mandatory : No Option Orientation : Vertical

Correct Marks : 1 Wrong Marks : 0.25

तीन संख्याएँ 7 : 2 : 8 के अनुपात में हैं। पहली और दूसरी संख्या का अंतर और दूसरी और तीसरी संख्या के योग, का योग 90 है। संख्याएँ क्या हैं?

Options :

1. ✓ 42 , 12 , 48
2. ✗ 14 , 4 , 16
3. ✗ 21 , 6 , 24
4. ✗ 28 , 8 , 32

Question Number : 98 Question Id : 2752286131 Question Type : MCQ Option Shuffling : Yes Is Question Mandatory : No Option Orientation : Vertical

Correct Marks : 1 Wrong Marks : 0.25

The ratio of incomes of Sunil and Raju is 5 : 2. The ratio of their savings is 13 : 4. If each of them spend Rs. 4000 from their incomes. What are the incomes of both?

Options :

1. ✗ Rs. 10000 , Rs. 4000
2. ✗ Rs. 6000 , Rs.2000
3. ✓ Rs. 30000 , Rs. 12000
4. ✗ Rs. 20000, Rs. 8000

Question Number : 98 Question Id : 2752286131 Question Type : MCQ Option Shuffling : Yes Is Question Mandatory : No Option Orientation : Vertical

Correct Marks : 1 Wrong Marks : 0.25

सुनील और राजू की आय का अनुपात 5 : 2 है। उनकी बचत का अनुपात 13 : 4 है। यदि उनमें से प्रत्येक उनके आय से 4000 रुपए खर्च करते हैं। तो दोनों की आय क्या है?

Options :

1. ✗ 10000 रुपए, 4000 रुपए
2. ✗ 6000 रुपए, 2000 रुपए
3. ✓ 30000 रुपए, 12000 रुपए
4. ✗ 20000 रुपए, 8000 रुपए

Question Number : 99 Question Id : 2752286132 Question Type : MCQ Option Shuffling : Yes Is Question Mandatory : No Option Orientation : Vertical

Correct Marks : 1 Wrong Marks : 0.25

What should be the least number of years in which the simple interest on Rs. 2500 at 4.5 percent p.a. will be an exact number of rupees?

Options :

1. ✘ 1
2. ✔ 2
3. ✘ 3
4. ✘ 4

Question Number : 99 Question Id : 2752286132 Question Type : MCQ Option Shuffling : Yes Is Question Mandatory : No Option Orientation : Vertical

Correct Marks : 1 Wrong Marks : 0.25

कम से कम कितने वर्ष होने चाहिए जिसमें प्रति वर्ष 4.5 प्रतिशत की दर से 2500 रुपए पर का साधारण ब्याज, रुपए की संख्या का सटीक होगा?

Options :

1. ✘ 1
2. ✔ 2
3. ✘ 3
4. ✘ 4

Question Number : 100 Question Id : 2752286133 Question Type : MCQ Option Shuffling : Yes Is Question Mandatory : No Option Orientation : Vertical

Correct Marks : 1 Wrong Marks : 0.25

The difference in simple interest and compound interest on a certain sum of money in 2 years at 12 percent p.a. is Rs. 1728. What is the sum?

Options :

1. ✔ Rs. 120000
2. ✘ Rs. 98000
3. ✘ Rs. 60000
4. ✘ Rs. 12000

Question Number : 100 Question Id : 2752286133 Question Type : MCQ Option Shuffling : Yes Is Question Mandatory : No Option Orientation : Vertical

Correct Marks : 1 Wrong Marks : 0.25

प्रति वर्ष 12 प्रतिशत पर 2 वर्ष में एक निश्चित धन राशि पर साधारण ब्याज और चक्रवृद्धि ब्याज का अंतर 1728 रुपए हैं। राशि क्या है?

Options :

1. ✔ 120000 रुपए

2. ✖ 98000 रुपए
3. ✖ 60000 रुपए
4. ✖ 12000 रुपए

Arithmetic Ability2

Group Number :	6
Group Id :	275228218
Group Maximum Duration :	0
Group Minimum Duration :	0
Show Attended Group? :	No
Edit Attended Group? :	No
Break time :	0
Group Marks :	20
Is this Group for Examiner? :	No

Arithmetic Ability2

Section Id :	275228320
Section Number :	1
Section type :	Online
Mandatory or Optional :	Mandatory
Number of Questions :	20
Number of Questions to be attempted :	20
Section Marks :	20
Enable Mark as Answered Mark for Review and Clear Response :	Yes
Sub-Section Number :	1
Sub-Section Id :	275228383
Question Shuffling Allowed :	Yes

Question Number : 101 Question Id : 2752286134 Question Type : MCQ Option Shuffling : Yes Is Question Mandatory : No Option Orientation : Vertical

Correct Marks : 1 Wrong Marks : 0.25

On a sum of money, the simple interest for 2 years is Rs. 200, while the compound interest is Rs. 205, the rate of interest is same in both cases. What is the rate of interest?

Options :

1. ✘ 10 percent
2. ✘ 8 percent
3. ✘ 4 percent
4. ✔ 5 percent

Question Number : 101 Question Id : 2752286134 Question Type : MCQ Option Shuffling : Yes Is Question Mandatory : No Option Orientation : Vertical

Correct Marks : 1 Wrong Marks : 0.25

एक राशि पर, 2 वर्ष के लिए साधारण ब्याज 200 रुपए हैं, जबकि चक्रवृद्धि ब्याज 205 रुपए हैं, दोनों मामलों में ब्याज दर समान है। ब्याज दर क्या है?

Options :

1. ✘ 10 प्रतिशत
2. ✘ 8 प्रतिशत
3. ✘ 4 प्रतिशत
4. ✔ 5 प्रतिशत

Question Number : 102 Question Id : 2752286135 Question Type : MCQ Option Shuffling : Yes Is Question Mandatory : No Option Orientation : Vertical

Correct Marks : 1 Wrong Marks : 0.25

A sum of Rs. 50000 is lent out at the rate of 6 percent p.a. compounded annually. What will be the amount after 3 years?

Options :

1. ✘ Rs. 60000
2. ✔ Rs. 59550.80
3. ✘ Rs. 55050.50
4. ✘ Rs. 58570.25

Question Number : 102 Question Id : 2752286135 Question Type : MCQ Option Shuffling : Yes Is Question Mandatory : No Option Orientation : Vertical

Correct Marks : 1 Wrong Marks : 0.25

चक्रवृद्धि वार्षिक रूप से 6 प्रतिशत प्रति वर्ष की दर से 50000 रुपए की राशि उधार दी गई है। 3 वर्ष बाद राशि क्या होगी?

Options :

1. ✘ 60000 रुपए
2. ✔ 59550.80 रुपए
3. ✘ 55050.50 रुपए
4. ✘ 58570.25 रुपए

Question Number : 103 Question Id : 2752286136 Question Type : MCQ Option Shuffling : Yes Is Question Mandatory : No Option Orientation : Vertical

Correct Marks : 1 Wrong Marks : 0.25

Ankit and Dharesh start from a point and go in opposite directions with speeds of 3.5 km/hr and 10.5 km/hr respectively. After how much time will they be 77 km apart from each other?

Options :

1. ✘ 6 hours 15 minutes
2. ✘ 3 hours 15 minutes
3. ✔ 5 hours 30 minutes
4. ✘ 11 hours 10 minutes

Question Number : 103 Question Id : 2752286136 Question Type : MCQ Option Shuffling : Yes Is Question Mandatory : No Option Orientation : Vertical

Correct Marks : 1 Wrong Marks : 0.25

अंकित और धारेश एक बिंदु से शुरू करते हैं और क्रमशः 3.5 km/hr और 10.5 km/hr की गति से विपरीत दिशाओं में जाते हैं। कितने समय बाद वे एक-दूसरे से 77 km की दूरी पर होंगे?

Options :

1. ✘ 6 घंटे 15 मिनट
2. ✘ 3 घंटे 15 मिनट
3. ✔ 5 घंटे 30 मिनट
4. ✘ 11 घंटे 10 मिनट

Question Number : 104 Question Id : 2752286137 Question Type : MCQ Option Shuffling : Yes Is Question Mandatory : No Option Orientation : Vertical

Correct Marks : 1 Wrong Marks : 0.25

Two friends Kim and Joy jog the same distance every morning with speeds of 2 km/hr and 3 km/hr respectively. Joy always starts jogging 15 min late and finishes 15 min earlier than Kim. How much distance each covers while jogging every morning?

Options :

1. ✘ 10 Km
2. ✘ 5 Km
3. ✔ 3 Km
4. ✘ 6 Km

Question Number : 104 Question Id : 2752286137 Question Type : MCQ Option Shuffling : Yes Is Question Mandatory : No Option Orientation : Vertical

Correct Marks : 1 Wrong Marks : 0.25

दो दोस्त किम और जॉय हर सुबह क्रमशः 2 km/hr और 3 km/hr की गति से समान दूरी जोग करते हैं। जॉय हमेशा 15 मिनट देर से जोग करना शुरू करता है और किम से 15 मिनट पहले समाप्त करता है। हर सुबह जॉगिंग करते समय प्रत्येक कितनी दूरी तय करता है?

Options :

1. ✘ 10 Km
2. ✘ 5 Km
3. ✔ 3 Km
4. ✘ 6 Km

Question Number : 105 Question Id : 2752286138 Question Type : MCQ Option Shuffling : Yes Is Question Mandatory : No Option Orientation : Vertical

Correct Marks : 1 Wrong Marks : 0.25

From a local bus stand, buses leave after every 6 minutes with an average speed of 40 km/hr. A person coming from opposite direction meets the buses after every 5 minutes. What is the speed of the person?

Options :

1. ✘ 4 Km/hr
2. ✔ 8 Km/hr
3. ✘ 10 Km/hr
4. ✘ 15 Km/hr

Question Number : 105 Question Id : 2752286138 Question Type : MCQ Option Shuffling : Yes Is Question Mandatory : No Option Orientation : Vertical

Correct Marks : 1 Wrong Marks : 0.25

एक स्थानीय बस स्टैंड से, 40 km/hr की औसत गति से हर 6 मिनट के बाद बसें निकलती हैं। विपरीत दिशा से आने वाला व्यक्ति हर 5 मिनट के बाद बसों से मिलता है। व्यक्ति की गति क्या है?

Options :

1. ✘ 4 Km/hr
2. ✔ 8 Km/hr
3. ✘ 10 Km/hr
4. ✘ 15 Km/hr

Question Number : 106 Question Id : 2752286139 Question Type : MCQ Option Shuffling : Yes Is Question Mandatory : No Option Orientation : Vertical

Correct Marks : 1 Wrong Marks : 0.25

Machine A can complete a task in 18 days. Machine B is 50 percent more efficient. In how many days will Machine B finishes the same task?

Options :

1. ✘ 8 days
2. ✘ 10 days
3. ✔ 12 days
4. ✘ 15 days

Question Number : 106 Question Id : 2752286139 Question Type : MCQ Option Shuffling : Yes Is Question Mandatory : No Option Orientation : Vertical

Correct Marks : 1 Wrong Marks : 0.25

मशीन A, 18 दिनों में एक कार्य पूरा कर सकता है। मशीन B 50 प्रतिशत अधिक कुशल है। मशीन B समान कार्य को कितने दिनों में पूरा करेगा?

Options :

1. ✘ 8 दिन
2. ✘ 10 दिन
3. ✔ 12 दिन
4. ✘ 15 दिन

Question Number : 107 Question Id : 2752286140 Question Type : MCQ Option Shuffling : Yes Is Question Mandatory : No Option Orientation : Vertical

Correct Marks : 1 Wrong Marks : 0.25

Three pipes of different diameters takes 40, 30 and 24 minutes respectively to fill a tank. If all these three pipes opened together, then in how many minutes will the tank get filled?

Options :

1. ✓ 10 minutes
2. ✗ 8 minutes
3. ✗ 18 minutes
4. ✗ 16 minutes

Question Number : 107 Question Id : 2752286140 Question Type : MCQ Option Shuffling : Yes Is Question Mandatory : No Option Orientation : Vertical

Correct Marks : 1 Wrong Marks : 0.25

एक टंकी को भरने के लिए विभिन्न व्यास के तीन पाइपों को क्रमशः 40, 30 और 24 मिनट लगते हैं। यदि इन तीनों पाइपों को एक साथ खोला जाता है, तो टंकी कितने मिनट में भर जाएगी?

Options :

1. ✓ 10 मिनट
2. ✗ 8 मिनट
3. ✗ 18 मिनट
4. ✗ 16 मिनट

Question Number : 108 Question Id : 2752286141 Question Type : MCQ Option Shuffling : Yes Is Question Mandatory : No Option Orientation : Vertical

Correct Marks : 1 Wrong Marks : 0.25

Two friends Saurabh and Harshit can complete a work in 3 and 6 days separately. In how many days will they finish the work if Saurabh begins and they work on alternate days?

Options :

1. ✗ 10 days
2. ✗ 8 days
3. ✓ 4 days
4. ✗ 15 days

Question Number : 108 Question Id : 2752286141 Question Type : MCQ Option Shuffling : Yes Is Question Mandatory : No Option Orientation : Vertical

Correct Marks : 1 Wrong Marks : 0.25

दो दोस्त सौरभ और हर्षित अलग-अलग 3 और 6 दिनों में एक काम पूरा कर सकते हैं। यदि सौरभ शुरू करता है और वे वैकल्पिक दिनों में काम करते हैं तो वे कितने दिनों में काम पूरा करेंगे?

Options :

1. ✘ 10 दिन
2. ✘ 8 दिन
3. ✔ 4 दिन
4. ✘ 15 दिन

Question Number : 109 Question Id : 2752286142 Question Type : MCQ Option Shuffling : Yes Is Question Mandatory : No Option Orientation : Vertical

Correct Marks : 1 Wrong Marks : 0.25

A task can be completed by 12 men and 10 women in 3 days, or by 6 men and 8 women in 5 days. If 3 men and 5 women work together, then in how many days they will finish the task?

Options :

1. ✔ 9 days
2. ✘ 18 days
3. ✘ 24 days
4. ✘ 14 days

Question Number : 109 Question Id : 2752286142 Question Type : MCQ Option Shuffling : Yes Is Question Mandatory : No Option Orientation : Vertical

Correct Marks : 1 Wrong Marks : 0.25

12 पुरुषों और 10 महिलाओं द्वारा एक कार्य 3 दिनों में पूरा किया जा सकता है, या 6 पुरुषों और 8 महिलाओं द्वारा 5 दिनों में पूरा किया जा सकता है। यदि 3 पुरुष और 5 महिलाएं एक साथ काम करते हैं, तो वे कितने दिनों में कार्य पूरा करेंगे?

Options :

1. ✔ 9 दिन
2. ✘ 18 दिन
3. ✘ 24 दिन
4. ✘ 14 दिन

Question Number : 110 Question Id : 2752286143 Question Type : MCQ Option Shuffling : Yes Is Question Mandatory : No Option Orientation : Vertical

Correct Marks : 1 Wrong Marks : 0.25

What is the volume of a cone whose diameter is 12.6 cm and height is 4.9 cm?

Options :

1. ✘ 104.652 cu cm
2. ✔ 203.742 cu cm
3. ✘ 404.126 cu cm
4. ✘ 254.236 cu cm

Question Number : 110 Question Id : 2752286143 Question Type : MCQ Option Shuffling : Yes Is Question Mandatory : No Option Orientation : Vertical

Correct Marks : 1 Wrong Marks : 0.25

एक शंकु का आयतन क्या है जिसका व्यास 12.6 cm और ऊंचाई 4.9 cm है?

Options :

1. ✘ 104.652 cu cm
2. ✔ 203.742 cu cm
3. ✘ 404.126 cu cm
4. ✘ 254.236 cu cm

Question Number : 111 Question Id : 2752286144 Question Type : MCQ Option Shuffling : Yes Is Question Mandatory : No Option Orientation : Vertical

Correct Marks : 1 Wrong Marks : 0.25

A solid cylinder has a hemisphere at its bottom and a cone at its top. The radius of the solid is 3.5 m, height of the cone is 2 m and height of the cylinder is 7 m. What is the volume of the resultant solid shape? Radii of all three are same.

Options :

1. ✔ 385 cu m
2. ✘ 495 cu m
3. ✘ 545 cu m
4. ✘ 595 cu m

Question Number : 111 Question Id : 2752286144 Question Type : MCQ Option Shuffling : Yes Is Question Mandatory : No Option

Orientation : Vertical

Correct Marks : 1 Wrong Marks : 0.25

एक ठोस बेलन में उसके तल में एक गोलार्ध होता है और इसके शीर्ष पर एक शंकु होता है। ठोस की त्रिज्या 3.5 m है, शंकु की ऊंचाई 2 m है और बेलन की ऊंचाई 7 m है। परिणामी ठोस आकृति का आयतन क्या है? तीनों की त्रिज्या समान है।

Options :

1. ✓ 385 cu m
2. ✗ 495 cu m
3. ✗ 545 cu m
4. ✗ 595 cu m

Question Number : 112 Question Id : 2752286145 Question Type : MCQ Option Shuffling : Yes Is Question Mandatory : No Option

Orientation : Vertical

Correct Marks : 1 Wrong Marks : 0.25

A sphere of radius 4.2 cm is cut into two equal parts. What is the total surface area of each part?

Options :

1. ✗ 332.64 sq cm
2. ✓ 166.32 sq cm
3. ✗ 282 sq cm
4. ✗ 189.36 sq cm

Question Number : 112 Question Id : 2752286145 Question Type : MCQ Option Shuffling : Yes Is Question Mandatory : No Option

Orientation : Vertical

Correct Marks : 1 Wrong Marks : 0.25

4.2 cm त्रिज्या के एक गोले को दो समान भागों में काटा जाता है। प्रत्येक भाग का कुल पृष्ठीय क्षेत्रफल क्या है?

Options :

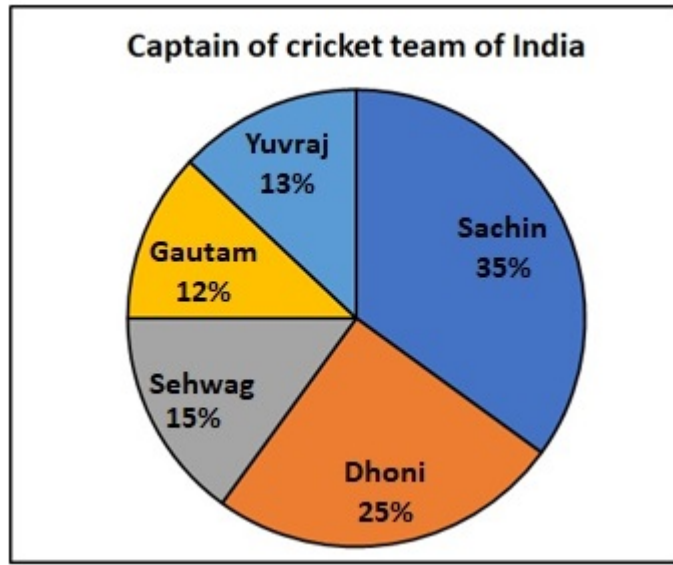
1. ✗ 332.64 sq cm
2. ✓ 166.32 sq cm
3. ✗ 282 sq cm
4. ✗ 189.36 sq cm

Question Number : 113 Question Id : 2752286146 Question Type : MCQ Option Shuffling : Yes Is Question Mandatory : No Option

Orientation : Vertical

Correct Marks : 1 Wrong Marks : 0.25

A survey was carried out among 1000 people to find who they want as the captain of the one-day cricket team of India. How many people wanted Sehwag as the captain?



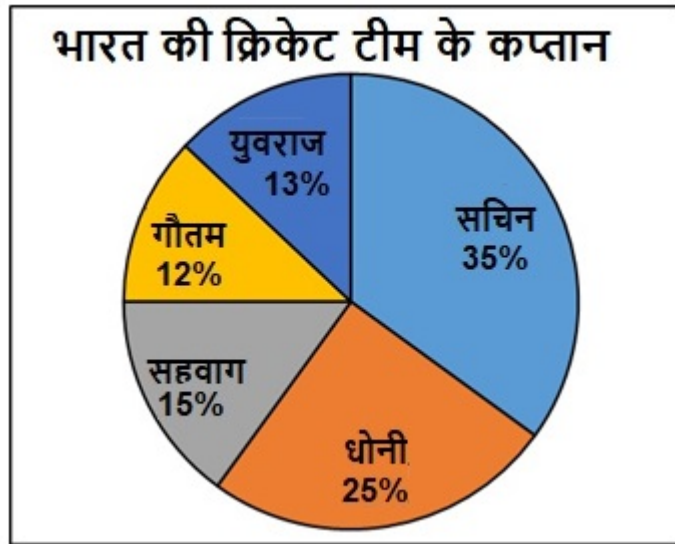
Options :

1. ✘ 250
2. ✘ 120
3. ✔ 150
4. ✘ 350

Question Number : 113 Question Id : 2752286146 Question Type : MCQ Option Shuffling : Yes Is Question Mandatory : No Option Orientation : Vertical

Correct Marks : 1 Wrong Marks : 0.25

1000 लोगों के बीच एक सर्वेक्षण किया गया था ताकि पता चल सके कि वे भारत के एक दिवसीय क्रिकेट टीम के कप्तान के रूप में किसे देखना चाहते हैं। सहवाग को कप्तान के रूप में कितने लोग देखना चाहते थे?



Options :

1. ✘ 250
2. ✘ 120
3. ✔ 150
4. ✘ 350

Question Number : 114 Question Id : 2752286147 Question Type : MCQ Option Shuffling : Yes Is Question Mandatory : No Option Orientation : Vertical

Correct Marks : 1 Wrong Marks : 0.25

The following table shows the exports of coal, bauxite and iron (in thousands of tonnes) over a six month period. What was the average value of coal exported over the 6 month period?

Months	Exports (in thousand of tonnes)		
	Coal	Bauxite	Iron
January	15	8	10
February	18	14	12
March	20	22	14
April	27	26	18
May	25	24	16
June	16	18	11

Options :

1. ✘ 22.16
2. ✔ 20.16
3. ✘ 20.33
4. ✘ 24.33

Question Number : 114 Question Id : 2752286147 Question Type : MCQ Option Shuffling : Yes Is Question Mandatory : No Option Orientation : Vertical

Correct Marks : 1 Wrong Marks : 0.25

निम्नलिखित तालिका छह महीने की अवधि में कोयला, बॉक्साइट और लोहे (हजारों टन में) के निर्यात को दर्शाती है। 6 महीने की अवधि में निर्यात किए गए कोयले का औसत मूल्य क्या था?

महीने	निर्यात (हजार टन में)		
	कोयला	बॉक्साइट	लोहा
जनवरी	15	8	10
फरवरी	18	14	12
मार्च	20	22	14
अप्रैल	27	26	18
मई	25	24	16
जून	16	18	11

Options :

1. ✘ 22.16
2. ✔ 20.16
3. ✘ 20.33
4. ✘ 24.33

Question Number : 115 Question Id : 2752286148 Question Type : MCQ Option Shuffling : Yes Is Question Mandatory : No Option Orientation : Vertical

Correct Marks : 1 Wrong Marks : 0.25

The following table shows the expenditure (in rupees) of a company per annum over the years. What is the average amount (in rupees) of the tax which the company had to pay during the period?

Years	Item of expenditure (in lakhs)			
	Salary	Bonus	Interest	Taxes
2001	180	1	24	80
2002	210	1.5	25.8	100
2003	240	1.8	24.5	84
2004	360	2	26.7	98
2005	350	2	30	96

Options :

1. ✔ 91.6 lakhs
2. ✘ 84 lakhs
3. ✘ 98.2 lakhs
4. ✘ 96.5 lakhs

Question Number : 115 Question Id : 2752286148 Question Type : MCQ Option Shuffling : Yes Is Question Mandatory : No Option Orientation : Vertical

Correct Marks : 1 Wrong Marks : 0.25

निम्नलिखित तालिका पिछले कुछ वर्षों में किसी कंपनी का प्रतिवर्ष व्यय (रुपए में) को दर्शाती है। कर की औसत राशि (रुपए में) क्या है जो कंपनी को अवधि के दौरान भुगतान करना पड़ा?

वर्ष	व्यय की वस्तु (लाख में)			
	वेतन	अधिलाभ	ब्याज	कर
2001	180	1	24	80
2002	210	1.5	25.8	100
2003	240	1.8	24.5	84
2004	360	2	26.7	98
2005	350	2	30	96

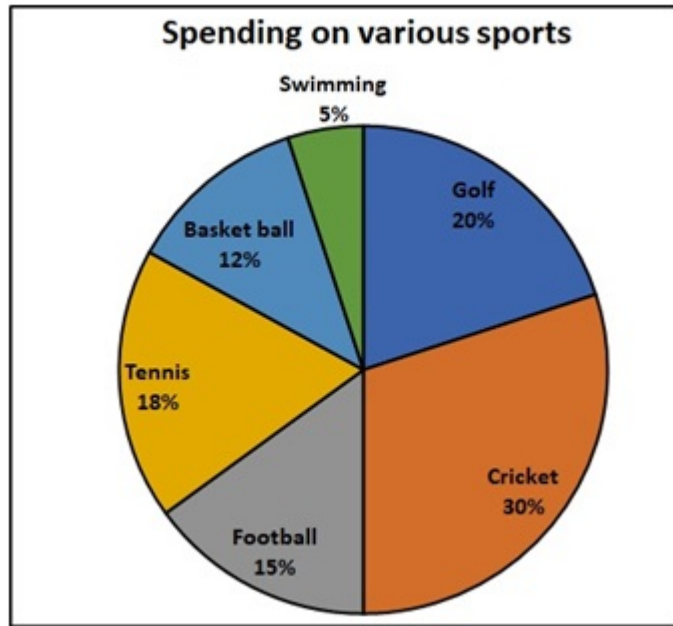
Options :

1. ✓ 91.6 लाख
2. ✗ 84 लाख
3. ✗ 98.2 लाख
4. ✗ 96.5 लाख

Question Number : 116 Question Id : 2752286149 Question Type : MCQ Option Shuffling : Yes Is Question Mandatory : No Option Orientation : Vertical

Correct Marks : 1 Wrong Marks : 0.25

The pie chart shows the spending of a college on various sports during the year 2010. The college spends Rs. 400000 on sports. What is the ratio of the amount spent on football, basketball and swimming to that spent on golf, cricket and tennis?



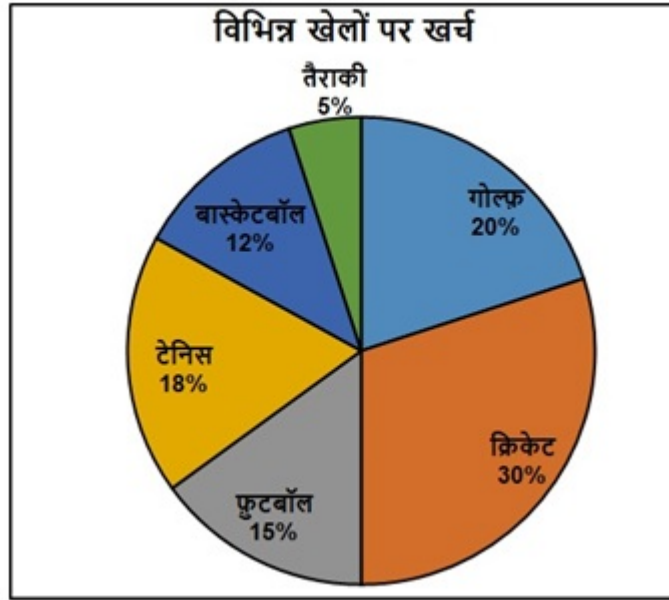
Options :

1. ✘ 8 : 9
2. ✔ 8 : 17
3. ✘ 4 : 5
4. ✘ 3 : 2

Question Number : 116 Question Id : 2752286149 Question Type : MCQ Option Shuffling : Yes Is Question Mandatory : No Option Orientation : Vertical

Correct Marks : 1 Wrong Marks : 0.25

पाई चार्ट वर्ष 2010 के दौरान विभिन्न खेलों पर एक महाविद्यालय के व्यय को दर्शाता है। महाविद्यालय खेलों पर 400000 रुपए खर्च करता है। फुटबॉल, बास्केटबॉल और तैराकी पर खर्च की गई राशि से, गोल्फ़, क्रिकेट और टेनिस पर खर्च की गई राशि का क्या अनुपात क्या है?



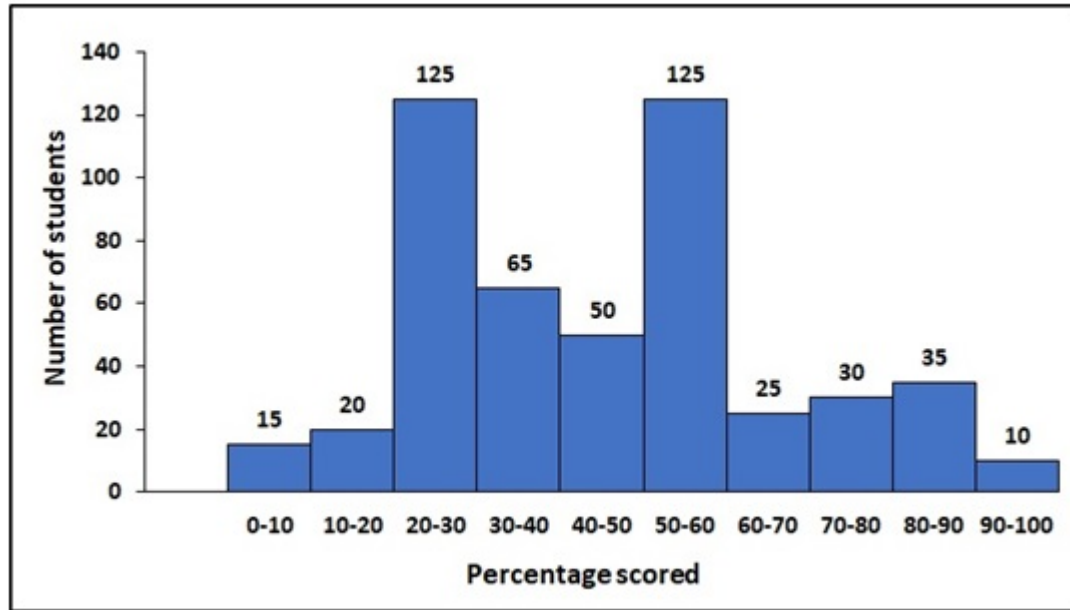
Options :

1. ✘ 8 : 9
2. ✔ 8 : 17
3. ✘ 4 : 5
4. ✘ 3 : 2

Question Number : 117 Question Id : 2752286150 Question Type : MCQ Option Shuffling : Yes Is Question Mandatory : No Option Orientation : Vertical

Correct Marks : 1 Wrong Marks : 0.25

The following histogram shows the number of students with the corresponding percentage scored in the entrance exam for a college. If the college decided to admit only students who had scored above 60 percent in the exam. How many students got admission in the college ?



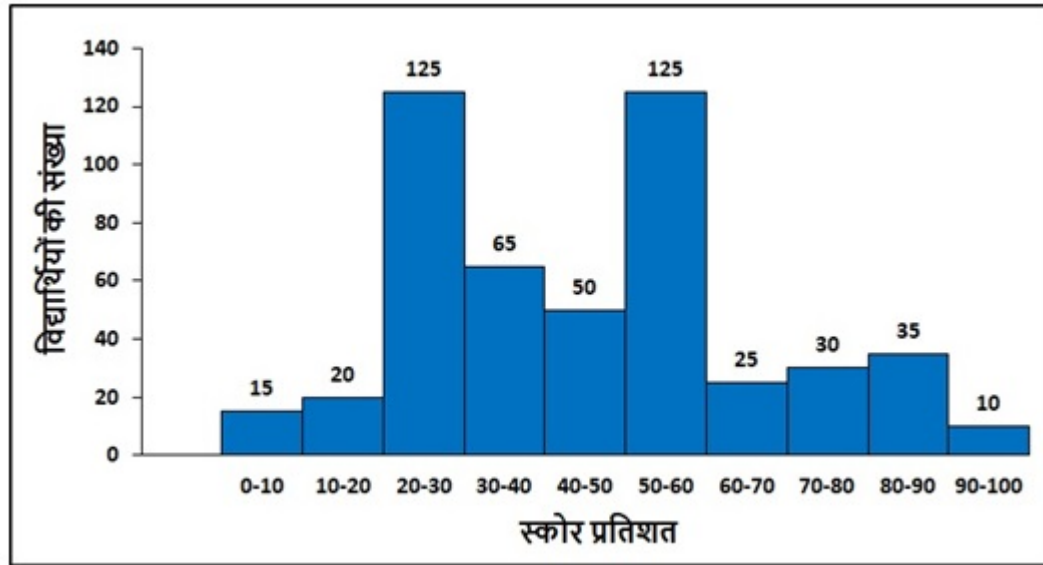
Options :

1. ✘ 70
2. ✘ 180
3. ✔ 100
4. ✘ 90

Question Number : 117 Question Id : 2752286150 Question Type : MCQ Option Shuffling : Yes Is Question Mandatory : No Option Orientation : Vertical

Correct Marks : 1 Wrong Marks : 0.25

निम्नलिखित आयतचित्र एक महाविद्यालय के लिए प्रवेश परीक्षा में स्कोर किए गए तत्स्थानी प्रतिशत के साथ छात्रों की संख्या को दर्शाता है। महाविद्यालय ने केवल उन छात्रों को प्रवेश देने का फैसला किया, जिन्होंने परीक्षा में 60 प्रतिशत से ऊपर अंक प्राप्त किए थे। महाविद्यालय में कितने छात्रों को प्रवेश मिला?



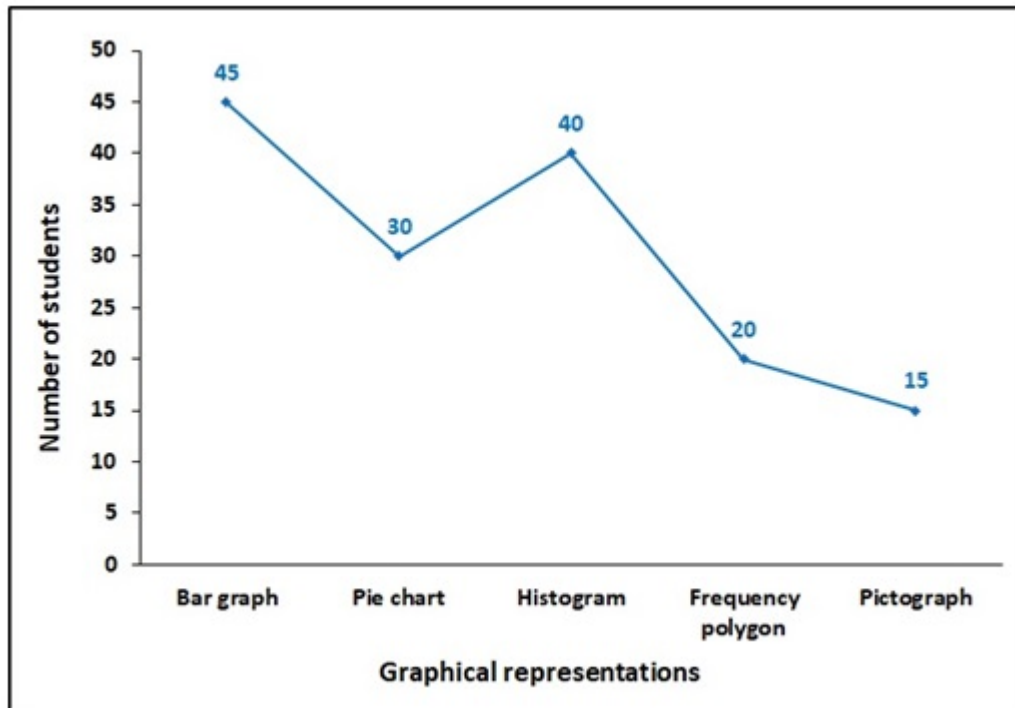
Options :

1. ✘ 70
2. ✘ 180
3. ✔ 100
4. ✘ 90

Question Number : 118 Question Id : 2752286151 Question Type : MCQ Option Shuffling : Yes Is Question Mandatory : No Option Orientation : Vertical

Correct Marks : 1 Wrong Marks : 0.25

A survey was conducted to find out the popularity of graphical representation. How much percent of total students like bar graph?



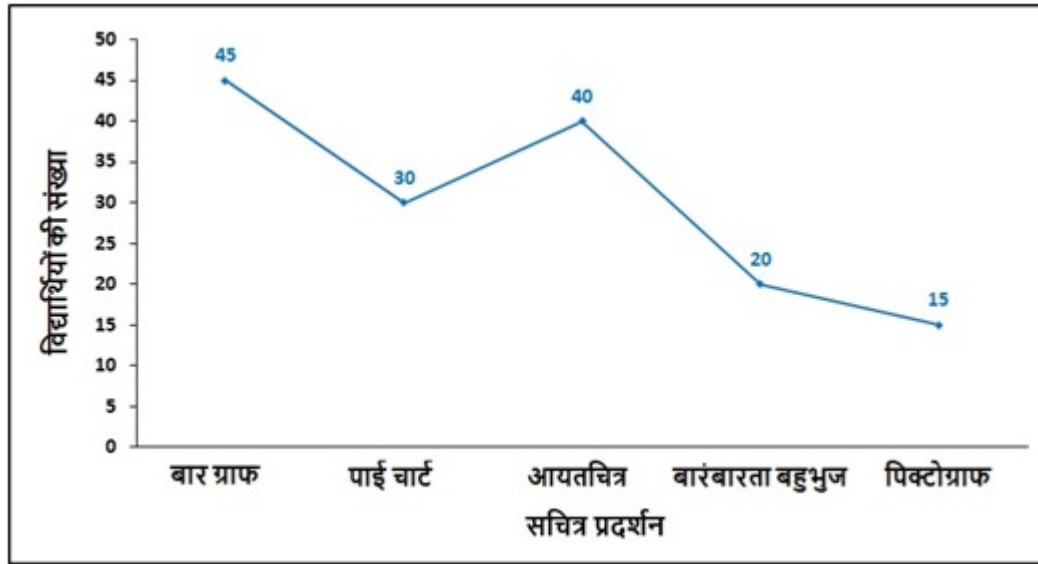
Options :

1. ✘ 20 percent
2. ✘ 45 percent
3. ✔ 30 percent
4. ✘ 50 percent

Question Number : 118 Question Id : 2752286151 Question Type : MCQ Option Shuffling : Yes Is Question Mandatory : No Option Orientation : Vertical

Correct Marks : 1 Wrong Marks : 0.25

सचित्र प्रदर्शन (ग्राफिकल रिप्रजेंटेशन) की लोकप्रियता का पता लगाने के लिए एक सर्वेक्षण किया गया था। कुल छात्रों के कितने प्रतिशत को बार ग्राफ पसंद हैं?



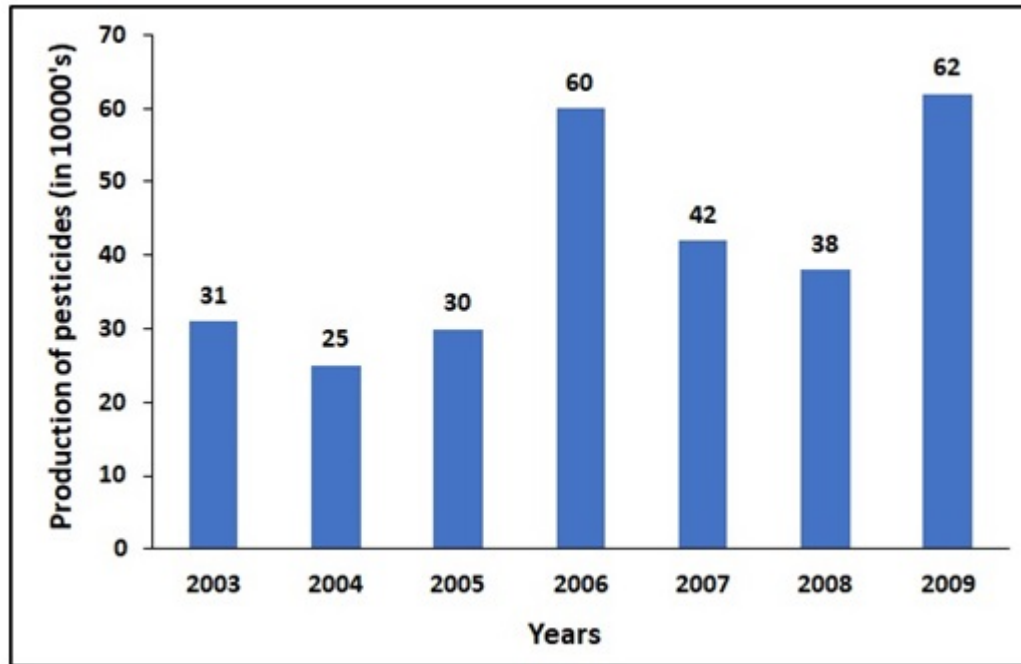
Options :

1. ✘ 20 प्रतिशत
2. ✘ 45 प्रतिशत
3. ✔ 30 प्रतिशत
4. ✘ 50 प्रतिशत

Question Number : 119 Question Id : 2752286152 Question Type : MCQ Option Shuffling : Yes Is Question Mandatory : No Option Orientation : Vertical

Correct Marks : 1 Wrong Marks : 0.25

The following bar graph shows the production of pesticides (in kg) by a company (in thousands) over the years. What was the percentage increase in production of pesticides in 2009 compared to that in 2003?



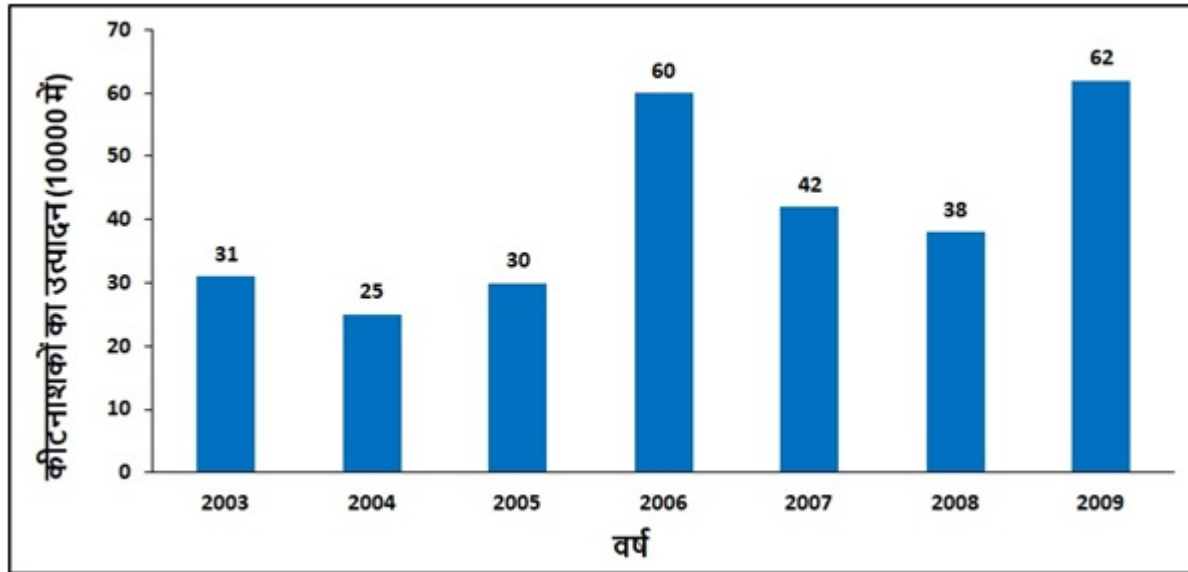
Options :

1. ✓ 100 percent
2. ✗ 60 percent
3. ✗ 80 percent
4. ✗ 120 percent

Question Number : 119 Question Id : 2752286152 Question Type : MCQ Option Shuffling : Yes Is Question Mandatory : No Option Orientation : Vertical

Correct Marks : 1 Wrong Marks : 0.25

निम्नलिखित बार ग्राफ पिछले कुछ वर्षों में एक कंपनी (हजारों में) द्वारा कीटनाशकों के उत्पादन (kg में) को दर्शाता है। 2003 में हुए उत्पादन की तुलना में 2009 में कीटनाशकों के उत्पादन में प्रतिशत वृद्धि क्या थी?



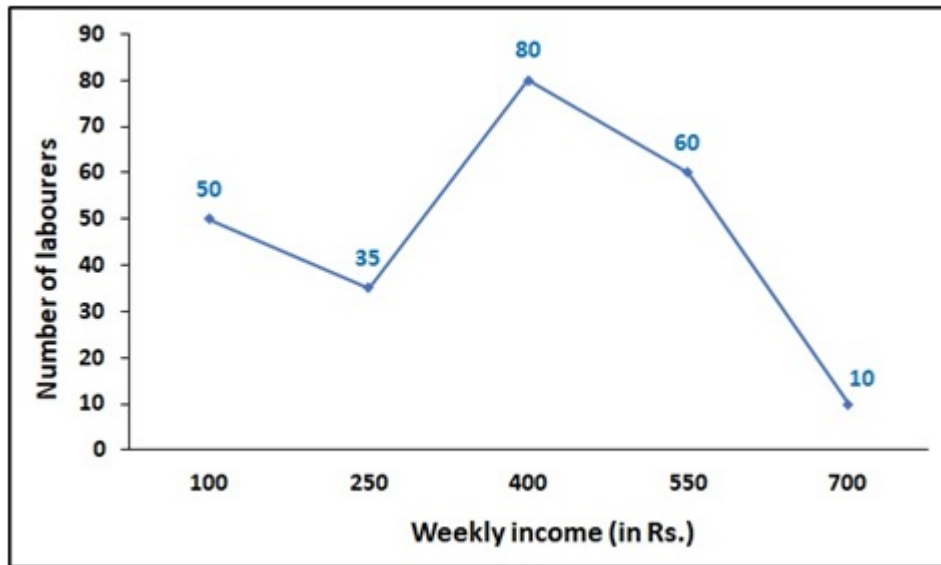
Options :

1. ✓ 100 प्रतिशत
2. ✗ 60 प्रतिशत
3. ✗ 80 प्रतिशत
4. ✗ 120 प्रतिशत

Question Number : 120 Question Id : 2752286153 Question Type : MCQ Option Shuffling : Yes Is Question Mandatory : No Option Orientation : Vertical

Correct Marks : 1 Wrong Marks : 0.25

The following frequency polygon displays the weekly income of laborers of a factory. If laborers got Rs. 100 as diwali bonus then, how many laborers got Rs. 350 or more as their weekly income (including bonus) on diwali week?



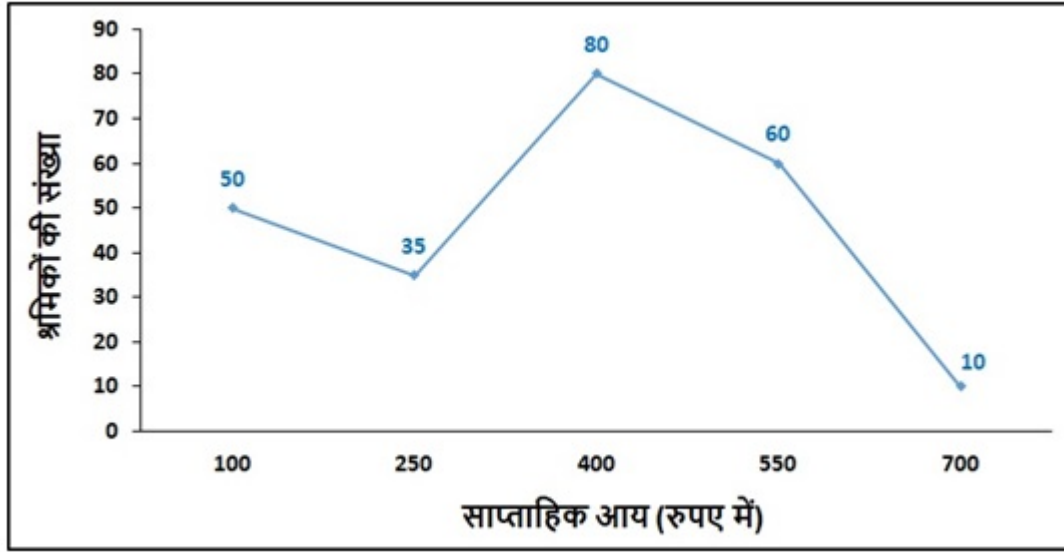
Options :

1. ✘ 150
2. ✘ 180
3. ✘ 200
4. ✔ 185

Question Number : 120 Question Id : 2752286153 Question Type : MCQ Option Shuffling : Yes Is Question Mandatory : No Option Orientation : Vertical

Correct Marks : 1 Wrong Marks : 0.25

निम्नलिखित बारंबारता बहुभुज एक कारखाने के श्रमिकों की साप्ताहिक आय को दर्शाता है। यदि श्रमिकों को दिवाली अधिलाभ के रूप में 100 रुपए मिलते हैं, तो कितने श्रमिकों को दिवाली सप्ताह में उनकी साप्ताहिक आय (अधिलाभ सहित) के रूप में 350 रुपए या उससे अधिक मिलते हैं?



Options :

1. ✘ 150
2. ✘ 180
3. ✘ 200
4. ✔ 185

General English1

Group Number :	7
Group Id :	275228219
Group Maximum Duration :	0
Group Minimum Duration :	0
Show Attended Group? :	No
Edit Attended Group? :	No
Break time :	0
Group Marks :	20
Is this Group for Examiner? :	No

General English1

Section Id :	275228321
Section Number :	1
Section type :	Online
Mandatory or Optional :	Mandatory
Number of Questions :	20
Number of Questions to be attempted :	20
Section Marks :	20
Enable Mark as Answered Mark for Review and Clear Response :	Yes
Sub-Section Number :	1
Sub-Section Id :	275228384
Question Shuffling Allowed :	Yes

Question Number : 121 Question Id : 2752286154 Question Type : MCQ Option Shuffling : Yes Is Question Mandatory : No Option Orientation : Vertical

Correct Marks : 1 Wrong Marks : 0.25

Find the part of the given sentence that has an error in it. If there is no error, choose 'No error'.

The newly introduced stringently policies on income tax filing and collection (1)/ will certainly bring about a substantial increase (2)/ in revenue generated from income tax. (3)/ No Error (4)

Options :

1. ✓ The newly introduced stringently policies on income tax filing and collection
2. ✗ will certainly bring about a substantial increase
3. ✗ in revenue generated from income tax.
4. ✗ No error

Question Number : 121 Question Id : 2752286154 Question Type : MCQ Option Shuffling : Yes Is Question Mandatory : No Option Orientation : Vertical

Correct Marks : 1 Wrong Marks : 0.25

Find the part of the given sentence that has an error in it. If there is no error, choose 'No error'.

The newly introduced stringently policies on income tax filing and collection (1)/ will certainly bring about a substantial increase (2)/ in revenue generated from income tax. (3)/ No Error (4)

Options :

1. ✓ The newly introduced stringently policies on income tax filing and collection
2. ✗ will certainly bring about a substantial increase
3. ✗ in revenue generated from income tax.
4. ✗ No error

Question Number : 122 Question Id : 2752286155 Question Type : MCQ Option Shuffling : Yes Is Question Mandatory : No Option Orientation : Vertical

Correct Marks : 1 Wrong Marks : 0.25

Find the part of the given sentence that has an error in it. If there is no error, choose 'No error'.

The mission Chandrayaan 2 could be a success, (1)/ had it not lost contact with the ISRO (2)/ in its final moments of descent. (3)/ No Error (4)

Options :

1. ✓ The mission Chandrayaan 2 could be a success,
2. ✗ had it not lost contact with the ISRO
3. ✗ in its final moments of descent.
4. ✗ No error

Question Number : 122 Question Id : 2752286155 Question Type : MCQ Option Shuffling : Yes Is Question Mandatory : No Option Orientation : Vertical

Correct Marks : 1 Wrong Marks : 0.25

Find the part of the given sentence that has an error in it. If there is no error, choose 'No error'.

The mission Chandrayaan 2 could be a success, (1)/ had it not lost contact with the ISRO (2)/ in its final moments of descent. (3)/ No Error (4)

Options :

1. ✓ The mission Chandrayaan 2 could be a success,
2. ✗ had it not lost contact with the ISRO
3. ✗ in its final moments of descent.
4. ✗ No error

Question Number : 123 Question Id : 2752286156 Question Type : MCQ Option Shuffling : Yes Is Question Mandatory : No Option Orientation : Vertical

Correct Marks : 1 Wrong Marks : 0.25

Find the part of the given sentence that has an error in it. If there is no error, choose 'No error'.

In his memoirs, he has been quoted been saying that, (1)/ "It is my faith, based on experience, that if one's heart is pure, (2)/ calamity brings in its trained men and measures to fight it." (3) No Error (4)

Options :

1. ✓ In his memoirs, he has been quoted been saying that,
2. ✗ "It is my faith, based on experience, that if one's heart is pure,
3. ✗ calamity brings in its trained men and measures to fight it."
4. ✗ No error

Question Number : 123 Question Id : 2752286156 Question Type : MCQ Option Shuffling : Yes Is Question Mandatory : No Option Orientation : Vertical

Correct Marks : 1 Wrong Marks : 0.25

Find the part of the given sentence that has an error in it. If there is no error, choose 'No error'.

In his memoirs, he has been quoted been saying that, (1)/ "It is my faith, based on experience, that if one's heart is pure, (2)/ calamity brings in its trained men and measures to fight it." (3) No Error (4)

Options :

1. ✓ In his memoirs, he has been quoted been saying that,
2. ✗ "It is my faith, based on experience, that if one's heart is pure,
3. ✗ calamity brings in its trained men and measures to fight it."
4. ✗ No error

Question Number : 124 Question Id : 2752286157 Question Type : MCQ Option Shuffling : Yes Is Question Mandatory : No Option Orientation : Vertical

Correct Marks : 1 Wrong Marks : 0.25

Find the part of the given sentence that has an error in it. If there is no error, choose 'No error'.

Everyone were absolutely perplexed (1)/ by his decision to not participate (2)/ in the upcoming assembly elections. (3)/ No Error (4)

Options :

1. ✓ Everyone were absolutely perplexed
2. ✗ by his decision to not participate
3. ✗ in the upcoming assembly elections.

4. ✘ No error

Question Number : 124 Question Id : 2752286157 Question Type : MCQ Option Shuffling : Yes Is Question Mandatory : No Option Orientation : Vertical

Correct Marks : 1 Wrong Marks : 0.25

Find the part of the given sentence that has an error in it. If there is no error, choose 'No error'.

Everyone were absolutely perplexed (1)/ by his decision to not participate (2)/ in the upcoming assembly elections. (3)/ No Error (4)

Options :

1. ✔ Everyone were absolutely perplexed
2. ✘ by his decision to not participate
3. ✘ in the upcoming assembly elections.
4. ✘ No error

Question Number : 125 Question Id : 2752286158 Question Type : MCQ Option Shuffling : Yes Is Question Mandatory : No Option Orientation : Vertical

Correct Marks : 1 Wrong Marks : 0.25

Find the part of the given sentence that has an error in it. If there is no error, choose 'No error'.

The government has acknowledged its fault in the plummeting economy today; (1)/ owing to its various egregious and farfetched policies (2)/ which were assured to never yield any results. (3)/ No Error (4)

Options :

1. ✔ The government has acknowledged its fault in the plummeting economy today;
2. ✘ owing to its various egregious and farfetched policies
3. ✘ which were assured to never yield any results.
4. ✘ No error

Question Number : 125 Question Id : 2752286158 Question Type : MCQ Option Shuffling : Yes Is Question Mandatory : No Option Orientation : Vertical

Correct Marks : 1 Wrong Marks : 0.25

Find the part of the given sentence that has an error in it. If there is no error, choose 'No error'.

The government has acknowledged its fault in the plummeting economy today; (1)/ owing to its various egregious and farfetched policies (2)/ which were assured to never yield any results. (3)/ No Error (4)

Options :

1. ✓ The government has acknowledged its fault in the plummeting economy today;
2. ✗ owing to its various egregious and farfetched policies
3. ✗ which were assured to never yield any results.
4. ✗ No error

Question Number : 126 Question Id : 2752286159 Question Type : MCQ Option Shuffling : Yes Is Question Mandatory : No Option Orientation : Vertical

Correct Marks : 1 Wrong Marks : 0.25

Select the word segment that substitutes (replaces) the bracketed word segment correctly and completes the sentence meaningfully. Select the option 'no correction required' if the sentence is correct as given.

Gandhi completed his studies in England and became a lawyer, (for he practised law in South Africa) as he was racially discriminated in England.

Options :

1. ✓ but he practised law in South Africa
2. ✗ as, he practiced law in South Africa
3. ✗ but he practice law in South Africa
4. ✗ No corrections required

Question Number : 126 Question Id : 2752286159 Question Type : MCQ Option Shuffling : Yes Is Question Mandatory : No Option Orientation : Vertical

Correct Marks : 1 Wrong Marks : 0.25

Select the word segment that substitutes (replaces) the bracketed word segment correctly and completes the sentence meaningfully. Select the option 'no correction required' if the sentence is correct as given.

Gandhi completed his studies in England and became a lawyer, (for he practised law in South Africa) as he was racially discriminated in England.

Options :

1. ✓ but he practised law in South Africa
2. ✗ as, he practiced law in South Africa
3. ✗ but he practice law in South Africa
4. ✗ No corrections required

Question Number : 127 Question Id : 2752286160 Question Type : MCQ Option Shuffling : Yes Is Question Mandatory : No Option Orientation : Vertical

Correct Marks : 1 Wrong Marks : 0.25

Select the word segment that substitutes (replaces) the bracketed word segment correctly and completes the sentence meaningfully. Select the option 'no correction required' if the sentence is correct as given.

His (malicious intent could have been seen) when he decided to murder his entire family.

Options :

1. ✓ malicious intent was seen
2. ✗ malicious intent would have been seen
3. ✗ malicious intent should be seen
4. ✗ No corrections required

Question Number : 127 Question Id : 2752286160 Question Type : MCQ Option Shuffling : Yes Is Question Mandatory : No Option Orientation : Vertical

Correct Marks : 1 Wrong Marks : 0.25

Select the word segment that substitutes (replaces) the bracketed word segment correctly and completes the sentence meaningfully. Select the option 'no correction required' if the sentence is correct as given.

His (malicious intent could have been seen) when he decided to murder his entire family.

Options :

1. ✓ malicious intent was seen
2. ✗ malicious intent would have been seen
3. ✗ malicious intent should be seen
4. ✗ No corrections required

Question Number : 128 Question Id : 2752286161 Question Type : MCQ Option Shuffling : Yes Is Question Mandatory : No Option Orientation : Vertical

Correct Marks : 1 Wrong Marks : 0.25

Select the word segment that substitutes (replaces) the bracketed word segment correctly and completes the sentence meaningfully. Select the option 'no correction required' if the sentence is correct as given.

(As the country copes from the aftermath of the horrors of Mumbai), the hard work of reconstruction, of rebuilding and of reimagining our country has begun.

Options :

1. ✘ As the country copes in the aftermath of the horrors of Mumbai
2. ✔ As the country copes with the aftermath of the horrors of Mumbai
3. ✘ As the country copes within the aftermath of the horrors of Mumbai
4. ✘ No corrections required

Question Number : 128 Question Id : 2752286161 Question Type : MCQ Option Shuffling : Yes Is Question Mandatory : No Option Orientation : Vertical

Correct Marks : 1 Wrong Marks : 0.25

Select the word segment that substitutes (replaces) the bracketed word segment correctly and completes the sentence meaningfully. Select the option 'no correction required' if the sentence is correct as given.

(As the country copes from the aftermath of the horrors of Mumbai), the hard work of reconstruction, of rebuilding and of reimagining our country has begun.

Options :

1. ✘ As the country copes in the aftermath of the horrors of Mumbai
2. ✔ As the country copes with the aftermath of the horrors of Mumbai
3. ✘ As the country copes within the aftermath of the horrors of Mumbai
4. ✘ No corrections required

Question Number : 129 Question Id : 2752286162 Question Type : MCQ Option Shuffling : Yes Is Question Mandatory : No Option Orientation : Vertical

Correct Marks : 1 Wrong Marks : 0.25

Select the word segment that substitutes (replaces) the bracketed word segment correctly and completes the sentence meaningfully. Select the option 'no correction required' if the sentence is correct as given.

(The latest edition of the Official Highway Code includes), new drug driving laws, HGV speed limit changes on single and dual carriageways.

Options :

1. ✘ The latest edition of the Official Highway Code included
2. ✘ The latest edition of the Official Highway Code include
3. ✘ The latest edition of the Official Highway Code is included
4. ✔ No corrections required

Question Number : 129 Question Id : 2752286162 Question Type : MCQ Option Shuffling : Yes Is Question Mandatory : No Option Orientation : Vertical

Correct Marks : 1 Wrong Marks : 0.25

Select the word segment that substitutes (replaces) the bracketed word segment correctly and completes the sentence meaningfully. Select the option 'no correction required' if the sentence is correct as given.

(The latest edition of the Official Highway Code includes), new drug driving laws, HGV speed limit changes on single and dual carriageways.

Options :

1. ✘ The latest edition of the Official Highway Code included
2. ✘ The latest edition of the Official Highway Code include
3. ✘ The latest edition of the Official Highway Code is included
4. ✔ No corrections required

Question Number : 130 Question Id : 2752286163 Question Type : MCQ Option Shuffling : Yes Is Question Mandatory : No Option Orientation : Vertical

Correct Marks : 1 Wrong Marks : 0.25

Fill in the blank with appropriate word.

You can't just _____ that kind of data from these results.

Options :

1. ✘ exudate
2. ✘ exalt
3. ✔ extrapolate
4. ✘ expedite

Question Number : 130 Question Id : 2752286163 Question Type : MCQ Option Shuffling : Yes Is Question Mandatory : No Option Orientation : Vertical

Correct Marks : 1 Wrong Marks : 0.25

Fill in the blank with appropriate word.

You can't just _____ that kind of data from these results.

Options :

1. ✘ exudate
2. ✘ exalt
3. ✔ extrapolate
4. ✘ expedite

Question Number : 131 Question Id : 2752286164 Question Type : MCQ Option Shuffling : Yes Is Question Mandatory : No Option Orientation : Vertical

Correct Marks : 1 Wrong Marks : 0.25

Fill in the blank with appropriate word.

Their relationship had reached a point where it was _____.

Options :

1. ✘ sociable
2. ✘ insatiable
3. ✘ communicable
4. ✔ irreconcilable

Question Number : 131 Question Id : 2752286164 Question Type : MCQ Option Shuffling : Yes Is Question Mandatory : No Option Orientation : Vertical

Correct Marks : 1 Wrong Marks : 0.25

Fill in the blank with appropriate word.

Their relationship had reached a point where it was _____.

Options :

1. ✘ sociable
2. ✘ insatiable
3. ✘ communicable
4. ✔ irreconcilable

Question Number : 132 Question Id : 2752286165 Question Type : MCQ Option Shuffling : Yes Is Question Mandatory : No Option Orientation : Vertical

Correct Marks : 1 Wrong Marks : 0.25

Fill in the blank with appropriate word.

The massages were quite pleasantly _____.

Options :

1. ✘ endowing
2. ✘ enumerating
3. ✘ facilitating
4. ✔ rejuvenating

Question Number : 132 Question Id : 2752286165 Question Type : MCQ Option Shuffling : Yes Is Question Mandatory : No Option Orientation : Vertical

Correct Marks : 1 Wrong Marks : 0.25

Fill in the blank with appropriate word.

The massages were quite pleasantly _____.

Options :

1. ✘ endowing
2. ✘ enumerating
3. ✘ facilitating
4. ✔ rejuvenating

Question Number : 133 Question Id : 2752286166 Question Type : MCQ Option Shuffling : Yes Is Question Mandatory : No Option Orientation : Vertical

Correct Marks : 1 Wrong Marks : 0.25

Fill in the blank with appropriate word.

The scientists have provided numerous _____ researches, to prove their hypothesis.

Options :

1. ✘ imminent
2. ✘ empathetic
3. ✔ empirical
4. ✘ epiphanic

Question Number : 133 Question Id : 2752286166 Question Type : MCQ Option Shuffling : Yes Is Question Mandatory : No Option

Orientation : Vertical

Correct Marks : 1 Wrong Marks : 0.25

Fill in the blank with appropriate word.

The scientists have provided numerous _____ researches, to prove their hypothesis.

Options :

1. ✘ imminent
2. ✘ empathetic
3. ✔ empirical
4. ✘ epiphanic

Question Number : 134 Question Id : 2752286167 Question Type : MCQ Option Shuffling : Yes Is Question Mandatory : No Option

Orientation : Vertical

Correct Marks : 1 Wrong Marks : 0.25

The question below consist of a set of labelled sentences. Out of four options given, select the most logical order of the sentences which form a paragraph.

The pivotal engineering and scientific success of the Twentieth century was the Manhattan Project.

- P. The only cloud hanging over the impressive achievement of the atomic researchers and engineers is what their success truly meant; hundreds of thousands of innocent lives obliterated.
- Q. The Manhattan Project assimilated concepts and leaders from all scientific fields and engineering disciplines to construct the first two atomic bombs.
- R. The presence of communication amid scientific minds was equally important to the success of the Manhattan Project as scientific intellect was.
- S. From the study of nuclear physics and chemistry to the practical engineering and processing of uranium 235 and plutonium 239 and the final construction of the weapons, scientific knowledge grew at an exponential rate to critical levels.

Yet this grave definition of success cannot diminish the impressive collaboration and efficiency of the Manhattan Project.

Options :

1. ✘ QSPR
2. ✔ QSRP
3. ✘ QPRS
4. ✘ QPSR

Question Number : 134 Question Id : 2752286167 Question Type : MCQ Option Shuffling : Yes Is Question Mandatory : No Option Orientation : Vertical

Correct Marks : 1 Wrong Marks : 0.25

The question below consist of a set of labelled sentences. Out of four options given, select the most logical order of the sentences which form a paragraph.

The pivotal engineering and scientific success of the Twentieth century was the Manhattan Project.

P. The only cloud hanging over the impressive achievement of the atomic researchers and engineers is what their success truly meant; hundreds of thousands of innocent lives obliterated.

Q. The Manhattan Project assimilated concepts and leaders from all scientific fields and engineering disciplines to construct the first two atomic bombs.

R. The presence of communication amid scientific minds was equally important to the success of the Manhattan Project as scientific intellect was.

S. From the study of nuclear physics and chemistry to the practical engineering and processing of uranium 235 and plutonium 239 and the final construction of the weapons, scientific knowledge grew at an exponential rate to critical levels.

Yet this grave definition of success cannot diminish the impressive collaboration and efficiency of the Manhattan Project.

Options :

1. ✘ QSPR
2. ✔ QSRP
3. ✘ QPRS
4. ✘ QPSR

Question Number : 135 Question Id : 2752286168 Question Type : MCQ Option Shuffling : Yes Is Question Mandatory : No Option Orientation : Vertical

Correct Marks : 1 Wrong Marks : 0.25

Some parts of a sentence have been jumbled up, and labelled P, Q, R and S. Select the option that gives the correct sequence in which these parts can be rearranged to form a meaningful and grammatically correct sentence.

The cacophony of deafening noises

P. memories I have from

Q. is one of the more vivid

R. my time I

S. served in the

pre-Iraq war.

Options :

1. ✘ QPSR
2. ✘ QPSP
3. ✔ QPRS
4. ✘ QSPR

Question Number : 135 Question Id : 2752286168 Question Type : MCQ Option Shuffling : Yes Is Question Mandatory : No Option Orientation : Vertical

Correct Marks : 1 Wrong Marks : 0.25

Some parts of a sentence have been jumbled up, and labelled P, Q, R and S. Select the option that gives the correct sequence in which these parts can be rearranged to form a meaningful and grammatically correct sentence.

The cacophony of deafening noises

- P. memories I have from
- Q. is one of the more vivid
- R. my time I
- S. served in the

pre-Iraq war.

Options :

1. ✘ QPSR
2. ✘ QPSP
3. ✔ QPRS
4. ✘ QSPR

Question Number : 136 Question Id : 2752286169 Question Type : MCQ Option Shuffling : Yes Is Question Mandatory : No Option Orientation : Vertical

Correct Marks : 1 Wrong Marks : 0.25

Some parts of a sentence have been jumbled up, and labelled P, Q, R and S. Select the option that gives the correct sequence in which these parts can be rearranged to form a meaningful and grammatically correct sentence.

The employees of the restaurant

P. they were given leave without an
Q. and if something urgent cropped up
R. were well paid, well fed, well rested, well clothed
S. eyebrow raised and in the

blink of an eye.

Options :

1. ✘ RPSQ
2. ✘ RPQS
3. ✘ PSQP
4. ✔ RQPS

Question Number : 136 Question Id : 2752286169 Question Type : MCQ Option Shuffling : Yes Is Question Mandatory : No Option Orientation : Vertical

Correct Marks : 1 Wrong Marks : 0.25

Some parts of a sentence have been jumbled up, and labelled P, Q, R and S. Select the option that gives the correct sequence in which these parts can be rearranged to form a meaningful and grammatically correct sentence.

The employees of the restaurant

P. they were given leave without an
Q. and if something urgent cropped up
R. were well paid, well fed, well rested, well clothed
S. eyebrow raised and in the

blink of an eye.

Options :

1. ✘ RPSQ
2. ✘ RPQS
3. ✘ PSQP
4. ✔ RQPS

Question Number : 137 Question Id : 2752286170 Question Type : MCQ Option Shuffling : Yes Is Question Mandatory : No Option Orientation : Vertical

Correct Marks : 1 Wrong Marks : 0.25

The question below consist of a set of labelled sentences. Out of four options given, select the most logical order of the sentences which form a paragraph.

Google's history began in 1995 when Larry Page met Sergey Brin.

P. At the time Larry Page was a Ph.D. student at Stanford University, and Sergey was considering studying there.

Q. In 1996 Larry and Sergey began working on a search engine called BackRub.

R. This engine worked on the Stanford servers for more than a year which eventually clogged up the bandwidth and hence Google.com was registered on September 15th, 1997.

S. The name came from the algorithms ranking for how many "back-links" a page has.

Google, is a play on words of "googol" which is a mathematical term for the number 1 followed by 100 zeros. It is rumoured that this reflects the founders' mission to organize the infinite amount of information on the internet.

Options :

1. ✓ PQSR

2. ✗ PQRS

3. ✗ PSQR

4. ✗ PRSQ

Question Number : 137 Question Id : 2752286170 Question Type : MCQ Option Shuffling : Yes Is Question Mandatory : No Option Orientation : Vertical

Correct Marks : 1 Wrong Marks : 0.25

The question below consist of a set of labelled sentences. Out of four options given, select the most logical order of the sentences which form a paragraph.

Google's history began in 1995 when Larry Page met Sergey Brin.

P. At the time Larry Page was a Ph.D. student at Stanford University, and Sergey was considering studying there.

Q. In 1996 Larry and Sergey began working on a search engine called BackRub.

R. This engine worked on the Stanford servers for more than a year which eventually clogged up the bandwidth and hence Google.com was registered on September 15th, 1997.

S. The name came from the algorithms ranking for how many "back-links" a page has.

Google, is a play on words of "googol" which is a mathematical term for the number 1 followed by 100 zeros. It is rumoured that this reflects the founders' mission to organize the infinite amount of information on the internet.

Options :

1. ✓ PQSR
2. ✗ PQRS
3. ✗ PSQR
4. ✗ PRSQ

Question Number : 138 Question Id : 2752286171 Question Type : MCQ Option Shuffling : Yes Is Question Mandatory : No Option Orientation : Vertical

Correct Marks : 1 Wrong Marks : 0.25

Select the word that is closest in meaning (SYNONYM) to the word given below

Subversive

Options :

1. ✓ Insurgent
2. ✗ Obedient
3. ✗ Legitimate
4. ✗ Admissible

Question Number : 138 Question Id : 2752286171 Question Type : MCQ Option Shuffling : Yes Is Question Mandatory : No Option Orientation : Vertical

Correct Marks : 1 Wrong Marks : 0.25

Select the word that is closest in meaning (SYNONYM) to the word given below

Subversive

Options :

1. ✓ Insurgent
2. ✗ Obedient
3. ✗ Legitimate
4. ✗ Admissible

Question Number : 139 Question Id : 2752286172 Question Type : MCQ Option Shuffling : Yes Is Question Mandatory : No Option Orientation : Vertical

Correct Marks : 1 Wrong Marks : 0.25

Select the word that is opposite in meaning (ANTONYM) to the word given below

Polygamy

Options :

1. ✘ Endogamy
2. ✘ Misogamy
3. ✘ Homogamy
4. ✔ Monogamy

Question Number : 139 Question Id : 2752286172 Question Type : MCQ Option Shuffling : Yes Is Question Mandatory : No Option Orientation : Vertical

Correct Marks : 1 Wrong Marks : 0.25

Select the word that is opposite in meaning (ANTONYM) to the word given below

Polygamy

Options :

1. ✘ Endogamy
2. ✘ Misogamy
3. ✘ Homogamy
4. ✔ Monogamy

Question Number : 140 Question Id : 2752286173 Question Type : MCQ Option Shuffling : Yes Is Question Mandatory : No Option Orientation : Vertical

Correct Marks : 1 Wrong Marks : 0.25

Select the word that is closest in meaning (SYNONYM) to the word given below

Subterranean

Options :

1. ✘ Overt
2. ✔ Underground
3. ✘ Terrestrial
4. ✘ Subcutaneous

Question Number : 140 Question Id : 2752286173 Question Type : MCQ Option Shuffling : Yes Is Question Mandatory : No Option

Orientation : Vertical

Correct Marks : 1 Wrong Marks : 0.25

Select the word that is closest in meaning (SYNONYM) to the word given below

Subterranean

Options :

1. ✘ Overt
2. ✔ Underground
3. ✘ Terrestrial
4. ✘ Subcutaneous

General English2

Group Number :	8
Group Id :	275228220
Group Maximum Duration :	0
Group Minimum Duration :	0
Show Attended Group? :	No
Edit Attended Group? :	No
Break time :	0
Group Marks :	20
Is this Group for Examiner? :	No

General English2

Section Id :	275228322
Section Number :	1
Section type :	Online
Mandatory or Optional :	Mandatory
Number of Questions :	16
Number of Questions to be attempted :	16
Section Marks :	20

Enable Mark as Answered Mark for Review and Clear Response : Yes
Sub-Section Number : 1
Sub-Section Id : 275228385
Question Shuffling Allowed : Yes

Question Number : 141 Question Id : 2752286174 Question Type : MCQ Option Shuffling : Yes Is Question Mandatory : No Option Orientation : Vertical

Correct Marks : 1 Wrong Marks : 0.25

Select the word that is opposite in meaning (ANTONYM) to the word given below

Besiege

Options :

1. ✘ Smother
2. ✘ Skirt
3. ✘ Palisade
4. ✔ Defend

Question Number : 141 Question Id : 2752286174 Question Type : MCQ Option Shuffling : Yes Is Question Mandatory : No Option Orientation : Vertical

Correct Marks : 1 Wrong Marks : 0.25

Select the word that is opposite in meaning (ANTONYM) to the word given below

Besiege

Options :

1. ✘ Smother
2. ✘ Skirt
3. ✘ Palisade
4. ✔ Defend

Question Number : 142 Question Id : 2752286175 Question Type : MCQ Option Shuffling : Yes Is Question Mandatory : No Option Orientation : Vertical

Correct Marks : 1 Wrong Marks : 0.25

Select the word that is closest in meaning (SYNONYM) to the word given below

Equestrian

Options :

1. ✘ Pedantic
2. ✘ Pleasant
3. ✘ Callisthenics
4. ✔ Horseman

Question Number : 142 Question Id : 2752286175 Question Type : MCQ Option Shuffling : Yes Is Question Mandatory : No Option Orientation : Vertical

Correct Marks : 1 Wrong Marks : 0.25

Select the word that is closest in meaning (SYNONYM) to the word given below

Equestrian

Options :

1. ✘ Pedantic
2. ✘ Pleasant
3. ✘ Callisthenics
4. ✔ Horseman

Question Number : 143 Question Id : 2752286176 Question Type : MCQ Option Shuffling : Yes Is Question Mandatory : No Option Orientation : Vertical

Correct Marks : 1 Wrong Marks : 0.25

Four words are given, out of which only one word is spelt correctly. Choose the correctly spelt word.

Options :

1. ✔ Palatable
2. ✘ Palateble
3. ✘ Paletable
4. ✘ Peletable

Question Number : 143 Question Id : 2752286176 Question Type : MCQ Option Shuffling : Yes Is Question Mandatory : No Option Orientation : Vertical

Correct Marks : 1 Wrong Marks : 0.25

Four words are given, out of which only one word is spelt correctly. Choose the correctly spelt word.

Options :

1. ✓ Palatable
2. ✗ Palateble
3. ✗ Paletable
4. ✗ Peletable

Question Number : 144 Question Id : 2752286177 Question Type : MCQ Option Shuffling : Yes Is Question Mandatory : No Option Orientation : Vertical

Correct Marks : 1 Wrong Marks : 0.25

Four words are given, out of which only one word is spelt correctly. Choose the correctly spelt word.

Options :

1. ✗ Asthete
2. ✗ Acsthete
3. ✓ Aesthete
4. ✗ Ascthete

Question Number : 144 Question Id : 2752286177 Question Type : MCQ Option Shuffling : Yes Is Question Mandatory : No Option Orientation : Vertical

Correct Marks : 1 Wrong Marks : 0.25

Four words are given, out of which only one word is spelt correctly. Choose the correctly spelt word.

Options :

1. ✗ Asthete
2. ✗ Acsthete
3. ✓ Aesthete
4. ✗ Ascthete

Question Number : 145 Question Id : 2752286178 Question Type : MCQ Option Shuffling : Yes Is Question Mandatory : No Option Orientation : Vertical

Correct Marks : 1 Wrong Marks : 0.25

Four words are given, out of which only one word is spelt correctly. Choose the correctly spelt word.

Options :

1. ✓ Alliteration
2. ✗ Aliteration
3. ✗ Aliteretion
4. ✗ Alliterasion

Question Number : 145 Question Id : 2752286178 Question Type : MCQ Option Shuffling : Yes Is Question Mandatory : No Option Orientation : Vertical

Correct Marks : 1 Wrong Marks : 0.25

Four words are given, out of which only one word is spelt correctly. Choose the correctly spelt word.

Options :

1. ✓ Alliteration
2. ✗ Aliteration
3. ✗ Aliteretion
4. ✗ Alliterasion

Question Number : 146 Question Id : 2752286179 Question Type : MCQ Option Shuffling : Yes Is Question Mandatory : No Option Orientation : Vertical

Correct Marks : 1 Wrong Marks : 0.25

Four words are given, out of which only one word is spelt correctly. Choose the correctly spelt word.

Options :

1. ✗ Convalascence
2. ✗ Convalesence
3. ✓ Convalescence
4. ✗ Convelence

Question Number : 146 Question Id : 2752286179 Question Type : MCQ Option Shuffling : Yes Is Question Mandatory : No Option Orientation : Vertical

Correct Marks : 1 Wrong Marks : 0.25

Four words are given, out of which only one word is spelt correctly. Choose the correctly spelt word.

Options :

1. ✗ Convalascence
2. ✗ Convalesence

3. ✓ Convalescence

4. ✗ Convelence

Question Number : 147 Question Id : 2752286180 Question Type : MCQ Option Shuffling : Yes Is Question Mandatory : No Option Orientation : Vertical

Correct Marks : 1 Wrong Marks : 0.25

Four words are given, out of which only one word is spelt correctly. Choose the correctly spelt word.

Options :

1. ✓ Consanguinity

2. ✗ Consaguinity

3. ✗ Consanuity

4. ✗ Consagnuity

Question Number : 147 Question Id : 2752286180 Question Type : MCQ Option Shuffling : Yes Is Question Mandatory : No Option Orientation : Vertical

Correct Marks : 1 Wrong Marks : 0.25

Four words are given, out of which only one word is spelt correctly. Choose the correctly spelt word.

Options :

1. ✓ Consanguinity

2. ✗ Consaguinity

3. ✗ Consanuity

4. ✗ Consagnuity

Question Number : 148 Question Id : 2752286181 Question Type : MCQ Option Shuffling : Yes Is Question Mandatory : No Option Orientation : Vertical

Correct Marks : 1 Wrong Marks : 0.25

Select the most appropriate meaning of the given idiom

Feet of clay

Options :

1. ✗ Advance in harmony

2. ✓ A fundamental flaw or weakness in a person otherwise revered.

3. ✘ To drive rashly
4. ✘ To be a good dancer

Question Number : 148 Question Id : 2752286181 Question Type : MCQ Option Shuffling : Yes Is Question Mandatory : No Option Orientation : Vertical

Correct Marks : 1 Wrong Marks : 0.25

Select the most appropriate meaning of the given idiom

Feet of clay

Options :

1. ✘ Advance in harmony
2. ✔ A fundamental flaw or weakness in a person otherwise revered.
3. ✘ To drive rashly
4. ✘ To be a good dancer

Question Number : 149 Question Id : 2752286182 Question Type : MCQ Option Shuffling : Yes Is Question Mandatory : No Option Orientation : Vertical

Correct Marks : 1 Wrong Marks : 0.25

Select the most appropriate meaning of the given idiom

A skeleton in the cupboard

Options :

1. ✔ A past event which is kept secret, something embarrassing or shameful
2. ✘ A secret which is revealed by someone.
3. ✘ Shared secrets between family members
4. ✘ A secret of someone which is kept hidden from everyone else in the family.

Question Number : 149 Question Id : 2752286182 Question Type : MCQ Option Shuffling : Yes Is Question Mandatory : No Option Orientation : Vertical

Correct Marks : 1 Wrong Marks : 0.25

Select the most appropriate meaning of the given idiom

A skeleton in the cupboard

Options :

1. ✓ A past event which is kept secret, something embarrassing or shameful
2. ✗ A secret which is revealed by someone.
3. ✗ Shared secrets between family members
4. ✗ A secret of someone which is kept hidden from everyone else in the family.

Question Number : 150 Question Id : 2752286183 Question Type : MCQ Option Shuffling : Yes Is Question Mandatory : No Option Orientation : Vertical

Correct Marks : 1 Wrong Marks : 0.25

Select the most appropriate meaning of the given idiom

Gird up one's loins

Options :

1. ✗ The end part of something
2. ✗ Not having a prepared action before time
3. ✗ With one's own efforts
4. ✓ Get ready for the job

Question Number : 150 Question Id : 2752286183 Question Type : MCQ Option Shuffling : Yes Is Question Mandatory : No Option Orientation : Vertical

Correct Marks : 1 Wrong Marks : 0.25

Select the most appropriate meaning of the given idiom

Gird up one's loins

Options :

1. ✗ The end part of something
2. ✗ Not having a prepared action before time
3. ✗ With one's own efforts
4. ✓ Get ready for the job

Question Number : 151 Question Id : 2752286184 Question Type : MCQ Option Shuffling : Yes Is Question Mandatory : No Option Orientation : Vertical

Correct Marks : 1 Wrong Marks : 0.25

Select the most appropriate meaning of the given idiom

The thin end of the wedge.

Options :

1. ✘ Someone who is against the religion
2. ✘ To admit something readily
3. ✔ Beginning of something bad which seems harmless in the present but is likely to become worse in future.
4. ✘ Watching all actions closely

Question Number : 151 Question Id : 2752286184 Question Type : MCQ Option Shuffling : Yes Is Question Mandatory : No Option Orientation : Vertical

Correct Marks : 1 Wrong Marks : 0.25

Select the most appropriate meaning of the given idiom

The thin end of the wedge.

Options :

1. ✘ Someone who is against the religion
2. ✘ To admit something readily
3. ✔ Beginning of something bad which seems harmless in the present but is likely to become worse in future.
4. ✘ Watching all actions closely

Question Number : 152 Question Id : 2752286185 Question Type : MCQ Option Shuffling : Yes Is Question Mandatory : No Option Orientation : Vertical

Correct Marks : 1 Wrong Marks : 0.25

Select the most appropriate 'one word' for the expressions given below

Impossible to stop or prevent.

Options :

1. ✘ Deplorable
2. ✘ Exorable
3. ✘ Uninsurable
4. ✔ Inexorable

Question Number : 152 Question Id : 2752286185 Question Type : MCQ Option Shuffling : Yes Is Question Mandatory : No Option Orientation : Vertical

Correct Marks : 1 Wrong Marks : 0.25

Select the most appropriate 'one word' for the expressions given below

Impossible to stop or prevent.

Options :

1. ✘ Deplorable
2. ✘ Exorable
3. ✘ Uninsurable
4. ✔ Inexorable

Question Number : 153 Question Id : 2752286186 Question Type : MCQ Option Shuffling : Yes Is Question Mandatory : No Option Orientation : Vertical

Correct Marks : 1 Wrong Marks : 0.25

Select the most appropriate 'one word' for the expressions given below

The joint control of a state's affairs by other states.

Options :

1. ✔ Condominium
2. ✘ Biennium
3. ✘ Meconium
4. ✘ Dominion

Question Number : 153 Question Id : 2752286186 Question Type : MCQ Option Shuffling : Yes Is Question Mandatory : No Option Orientation : Vertical

Correct Marks : 1 Wrong Marks : 0.25

Select the most appropriate 'one word' for the expressions given below

The joint control of a state's affairs by other states.

Options :

1. ✔ Condominium
2. ✘ Biennium

3. ✘ Meconium

4. ✘ Dominionium

Question Number : 154 Question Id : 2752286187 Question Type : MCQ Option Shuffling : Yes Is Question Mandatory : No Option Orientation : Vertical

Correct Marks : 1 Wrong Marks : 0.25

Select the most appropriate 'one word' for the expressions given below

A remark or statement, especially one with a moral content, that has been used too often to be interesting or thoughtful.

Options :

1. ✘ Habitude

2. ✔ Platitude

3. ✘ Solitude

4. ✘ Finitude

Question Number : 154 Question Id : 2752286187 Question Type : MCQ Option Shuffling : Yes Is Question Mandatory : No Option Orientation : Vertical

Correct Marks : 1 Wrong Marks : 0.25

Select the most appropriate 'one word' for the expressions given below

A remark or statement, especially one with a moral content, that has been used too often to be interesting or thoughtful.

Options :

1. ✘ Habitude

2. ✔ Platitude

3. ✘ Solitude

4. ✘ Finitude

Question Number : 155 Question Id : 2752286188 Question Type : MCQ Option Shuffling : Yes Is Question Mandatory : No Option Orientation : Vertical

Correct Marks : 1 Wrong Marks : 0.25

Select the most appropriate 'one word' for the expressions given below

A person who is dissatisfied and rebellious.

Options :

1. ✘ Synod
2. ✘ Interregnum
3. ✔ Malcontent
4. ✘ Monomaniac

Question Number : 155 Question Id : 2752286188 Question Type : MCQ Option Shuffling : Yes Is Question Mandatory : No Option Orientation : Vertical

Correct Marks : 1 Wrong Marks : 0.25

Select the most appropriate 'one word' for the expressions given below

A person who is dissatisfied and rebellious.

Options :

1. ✘ Synod
2. ✘ Interregnum
3. ✔ Malcontent
4. ✘ Monomaniac

Sub-Section Number : 2
Sub-Section Id : 275228386
Question Shuffling Allowed : Yes

Question Id : 2752286189 Question Type : COMPREHENSION Sub Question Shuffling Allowed : Yes Group Comprehension Questions : No

Question Numbers : (156 to 160)

Read the following information carefully and answer the given questions.

The New Yorker article, "A Star in a Bottle" explained the ambitious project upon which, world-wide physicists and engineers are embarking on: the creation of an artificial "star", which humanity hopes to use for its energy to power our civilization. This "artificial star" is essentially a controlled fusion reaction which, when successful, releases a massive amount of energy (gamma rays, in compliance with $E=mc^2$) that they can then harness as electricity. The current machine (work in progress) is the International Thermonuclear Experimental Reactor (ITER). This is an international project, which China, the U.S., Russia, and several European countries are participating in. The collaborators at ITER hope to use the machine to solve a major problem humanity faces as a civilization- the pollution in the atmosphere created by the burning of fossil fuels. The ITER project began during the Cold War in the mid-21st century. Apart from the obvious economic and environmental assets of such a machine, the curiosity of American physicists in the 21st century also acted as a major catalyst. In the early 1980's the Argentinian president, Juan Peron,

incorrectly announced that his scientists had successfully constructed a fusion machine of such sorts. Americans, despite the fact that Peron's claim was a fraud, began to ponder and wonder that a thermonuclear fusion machine would look like. At that point, the U.S. government began to pour large amounts of money into the project, and was constantly disrupted by numerous set-backs and obstacles. One of the major problems the entire international collaboration faced was the issue of cost and each country's economic devotion to the project. The author claimed that as science and its frontier continued to advance, both the cost and complexity of further exploration sky rockets as well, which the ITER project clearly portrays.

Sub questions

Question Number : 156 Question Id : 2752286190 Question Type : MCQ Option Shuffling : Yes Is Question Mandatory : No Option Orientation : Vertical

Correct Marks : 1 Wrong Marks : 0.25

According to the passage, what is major problem which the project ITER hopes to solve?

Options :

1. ✓ Reduction in pollution caused by the usage of fossil fuels
2. ✗ Reduction in the stress put on renewable resources
3. ✗ Solving the electricity crisis
4. ✗ Cost efficiency and energy saving

Question Number : 157 Question Id : 2752286191 Question Type : MCQ Option Shuffling : Yes Is Question Mandatory : No Option Orientation : Vertical

Correct Marks : 1 Wrong Marks : 0.25

According to which country's fraudulent claim did America become curious about a thermonuclear fusion?

Options :

1. ✗ The U.K.
2. ✗ China
3. ✗ Russia
4. ✓ Argentina

Question Number : 158 Question Id : 2752286192 Question Type : MCQ Option Shuffling : Yes Is Question Mandatory : No Option Orientation : Vertical

Correct Marks : 1 Wrong Marks : 0.25

When did the project ITER begin?

Options :

1. ✓ In the middle of 21st century

- ✘ During the Second World War
- ✘ At the start of 21st century
- ✘ In the middle of First World War

Question Number : 159 Question Id : 2752286193 Question Type : MCQ Option Shuffling : Yes Is Question Mandatory : No Option Orientation : Vertical

Correct Marks : 1 Wrong Marks : 0.25

According to the passage, which of the following given statements is incorrect?

Options :

- ✘ ITER is an international project, and its participants are China, the U.S., Russia, and several European countries.
- ✔ Artificial star' is essentially a controlled fission reaction, similar to a nuclear bomb.
- ✘ International Thermonuclear Experimental Reactor is the name of the machine which is under development for harnessing the thermonuclear energy.
- ✘ In the early 1980's the Argentinian president, Juan Peron, incorrectly announced that his scientists had successfully constructed a thermonuclear fusion machine.

Question Number : 160 Question Id : 2752286194 Question Type : MCQ Option Shuffling : Yes Is Question Mandatory : No Option Orientation : Vertical

Correct Marks : 1 Wrong Marks : 0.25

According to the passage, out of the numerous problems which the ITER project faced, which is the one mentioned in the passage.

Options :

- ✘ The impracticality of the existence of such a machine.
- ✔ The cost of such a project and receiving the economic aid from the collaborators.
- ✘ The complexity of the programme.
- ✘ The security threats which accompanies while harnessing nuclear energy.

Question Id : 2752286189 Question Type : COMPREHENSION Sub Question Shuffling Allowed : Yes Group Comprehension Questions : No

Question Numbers : (156 to 160)

Read the following information carefully and answer the given questions.

The New Yorker article, "A Star in a Bottle" explained the ambitious project upon which, world-wide physicists and engineers are embarking on: the creation of an artificial "star", which humanity hopes to use for its energy to power our civilization. This "artificial star" is essentially a controlled fusion reaction which, when successful, releases a massive amount of energy (gamma rays, in compliance with $E=mc^2$) that they can

then harness as electricity. The current machine (work in progress) is the International Thermonuclear Experimental Reactor (ITER). This is an international project, which China, the U.S., Russia, and several European countries are participating in. The collaborators at ITER hope to use the machine to solve a major problem humanity faces as a civilization- the pollution in the atmosphere created by the burning of fossil fuels. The ITER project began during the Cold War in the mid-21st century. Apart from the obvious economic and environmental assets of such a machine, the curiosity of American physicists in the 21st century also acted as a major catalyst. In the early 1980's the Argentinian president, Juan Peron, incorrectly announced that his scientists had successfully constructed a fusion machine of such sorts. Americans, despite the fact that Peron's claim was a fraud, began to ponder and wonder that a thermonuclear fusion machine would look like. At that point, the U.S. government began to pour large amounts of money into the project, and was constantly disrupted by numerous set-backs and obstacles. One of the major problems the entire international collaboration faced was the issue of cost and each country's economic devotion to the project. The author claimed that as science and its frontier continued to advance, both the cost and complexity of further exploration sky rockets as well, which the ITER project clearly portrays.

Sub questions

Question Number : 156 Question Id : 2752286190 Question Type : MCQ Option Shuffling : Yes Is Question Mandatory : No Option Orientation : Vertical

Correct Marks : 1 Wrong Marks : 0.25

According to the passage, what is major problem which the project ITER hopes to solve?

Options :

1. ✓ Reduction in pollution caused by the usage of fossil fuels
2. ✗ Reduction in the stress put on renewable resources
3. ✗ Solving the electricity crisis
4. ✗ Cost efficiency and energy saving

Question Number : 157 Question Id : 2752286191 Question Type : MCQ Option Shuffling : Yes Is Question Mandatory : No Option Orientation : Vertical

Correct Marks : 1 Wrong Marks : 0.25

According to which country's fraudulent claim did America become curious about a thermonuclear fusion?

Options :

1. ✗ The U.K.
2. ✗ China
3. ✗ Russia
4. ✓ Argentina

Question Number : 158 Question Id : 2752286192 Question Type : MCQ Option Shuffling : Yes Is Question Mandatory : No Option Orientation : Vertical

Correct Marks : 1 Wrong Marks : 0.25

When did the project ITER begin?

Options :

1. ✓ In the middle of 21st century
2. ✗ During the Second World War
3. ✗ At the start of 21st century
4. ✗ In the middle of First World War

Question Number : 159 Question Id : 2752286193 Question Type : MCQ Option Shuffling : Yes Is Question Mandatory : No Option Orientation : Vertical

Correct Marks : 1 Wrong Marks : 0.25

According to the passage, which of the following given statements is incorrect?

Options :

1. ✗ ITER is an international project, and its participants are China, the U.S., Russia, and several European countries.
2. ✓ Artificial star' is essentially a controlled fission reaction, similar to a nuclear bomb.
3. ✗ International Thermonuclear Experimental Reactor is the name of the machine which is under development for harnessing the thermonuclear energy.
4. ✗ In the early 1980's the Argentinian president, Juan Peron, incorrectly announced that his scientists had successfully constructed a thermonuclear fusion machine.

Question Number : 160 Question Id : 2752286194 Question Type : MCQ Option Shuffling : Yes Is Question Mandatory : No Option Orientation : Vertical

Correct Marks : 1 Wrong Marks : 0.25

According to the passage, out of the numerous problems which the ITER project faced, which is the one mentioned in the passage.

Options :

1. ✗ The impracticality of the existence of such a machine.
2. ✓ The cost of such a project and receiving the economic aid from the collaborators.
3. ✗ The complexity of the programme.
4. ✗ The security threats which accompanies while harnessing nuclear energy.

General Hindi1

Group Number :	9
Group Id :	275228221
Group Maximum Duration :	0
Group Minimum Duration :	0
Show Attended Group? :	No
Edit Attended Group? :	No
Break time :	0
Group Marks :	20
Is this Group for Examiner? :	No

General Hindi1

Section Id :	275228323
Section Number :	1
Section type :	Online
Mandatory or Optional :	Mandatory
Number of Questions :	20
Number of Questions to be attempted :	20
Section Marks :	20
Enable Mark as Answered Mark for Review and Clear Response :	Yes
Sub-Section Number :	1
Sub-Section Id :	275228387
Question Shuffling Allowed :	Yes

Question Number : 161 Question Id : 2752286195 Question Type : MCQ Option Shuffling : Yes Is Question Mandatory : No Option Orientation : Vertical

Correct Marks : 1 Wrong Marks : 0.25

निम्नलिखित प्रश्न में, चार विकल्पों में से, उस विकल्प का चयन करें जो क्रिया के भेद वाला सही विकल्प हो।

दीपक खाकर खेलने गया।

Options :

1. ✓ पूर्वकालिक क्रिया
2. ✗ प्रेरणार्थक क्रिया

3. ✖ नामधातु क्रिया

4. ✖ सरल क्रिया

Question Number : 161 Question Id : 2752286195 Question Type : MCQ Option Shuffling : Yes Is Question Mandatory : No Option Orientation : Vertical

Correct Marks : 1 Wrong Marks : 0.25

निम्नलिखित प्रश्न में, चार विकल्पों में से, उस विकल्प का चयन करें जो क्रिया के भेद वाला सही विकल्प हो।

दीपक खाकर खेलने गया।

Options :

1. ✔ पूर्वकालिक क्रिया

2. ✖ प्रेरणार्थक क्रिया

3. ✖ नामधातु क्रिया

4. ✖ सरल क्रिया

Question Number : 162 Question Id : 2752286196 Question Type : MCQ Option Shuffling : Yes Is Question Mandatory : No Option Orientation : Vertical

Correct Marks : 1 Wrong Marks : 0.25

निम्नलिखित प्रश्न में, चार विकल्पों में से, उस विकल्प का चयन करें जो कोष्ठक में दिए ए शब्द के अनुसार अव्यय के भेद का सही विकल्प हो।

दीपक (प्रतिदिन) पढ़ता है।

Options :

1. ✔ क्रियाविशेषण अव्यय

2. ✖ समुच्चयबोधक अव्यय

3. ✖ विस्मयादिबोधक अव्यय

4. ✖ संबंधबोधक अव्यय

Question Number : 162 Question Id : 2752286196 Question Type : MCQ Option Shuffling : Yes Is Question Mandatory : No Option Orientation : Vertical

Correct Marks : 1 Wrong Marks : 0.25

निम्नलिखित प्रश्न में, चार विकल्पों में से, उस विकल्प का चयन करें जो कोष्ठक में दिए ए शब्द के अनुसार अव्यय के भेद का सही विकल्प हो।

दीपक (प्रतिदिन) पढ़ता है।

Options :

1. ✓ क्रियाविशेषण अव्यय
2. ✗ समुच्चयबोधक अव्यय
3. ✗ विस्मयादिबोधक अव्यय
4. ✗ संबंधबोधक अव्यय

Question Number : 163 Question Id : 2752286197 Question Type : MCQ Option Shuffling : Yes Is Question Mandatory : No Option Orientation : Vertical

Correct Marks : 1 Wrong Marks : 0.25

निम्नलिखित प्रश्न में, चार विकल्पों में से, उस विकल्प का चयन करें जो भाववाचक संज्ञा का सही विकल्प नहीं है।

Options :

1. ✗ दासत्व
2. ✗ कृपणता
3. ✓ दूत
4. ✗ समझ

Question Number : 163 Question Id : 2752286197 Question Type : MCQ Option Shuffling : Yes Is Question Mandatory : No Option Orientation : Vertical

Correct Marks : 1 Wrong Marks : 0.25

निम्नलिखित प्रश्न में, चार विकल्पों में से, उस विकल्प का चयन करें जो भाववाचक संज्ञा का सही विकल्प नहीं है।

Options :

1. ✗ दासत्व
2. ✗ कृपणता
3. ✓ दूत
4. ✗ समझ

Question Number : 164 Question Id : 2752286198 Question Type : MCQ Option Shuffling : Yes Is Question Mandatory : No Option Orientation : Vertical

Correct Marks : 1 Wrong Marks : 0.25

निम्नलिखित प्रश्न में, चार विकल्पों में से, उस विकल्प का चयन करें जो कोष्ठक में दिए गए शब्द के अनुसार सर्वनाम के भेद का सही विकल्प हो।

खाने में (कुछ) तो खराबी है।

Options :

1. ✘ निजवाचक
2. ✘ सम्बन्ध वाचक
3. ✘ प्रश्नवाचक
4. ✔ अनिश्चय वाचक

Question Number : 164 Question Id : 2752286198 Question Type : MCQ Option Shuffling : Yes Is Question Mandatory : No Option Orientation : Vertical

Correct Marks : 1 Wrong Marks : 0.25

निम्नलिखित प्रश्न में, चार विकल्पों में से, उस विकल्प का चयन करें जो कोष्ठक में दिए गए शब्द के अनुसार सर्वनाम के भेद का सही विकल्प हो।

खाने में (कुछ) तो खराबी है।

Options :

1. ✘ निजवाचक
2. ✘ सम्बन्ध वाचक
3. ✘ प्रश्नवाचक
4. ✔ अनिश्चय वाचक

Question Number : 165 Question Id : 2752286199 Question Type : MCQ Option Shuffling : Yes Is Question Mandatory : No Option Orientation : Vertical

Correct Marks : 1 Wrong Marks : 0.25

निम्नलिखित प्रश्न में, चार विकल्पों में से, उस विकल्प का चयन करें जो कोष्ठक में दिए गए शब्द के अनुसार विशेषण के भेद वाला विकल्प हो।

बनारस का (बनारसी) पान बहुत प्रसिद्ध है।

Options :

1. ✘ सार्वनामिक
2. ✘ अनिश्चित परिमाण वाचक
3. ✘ निश्चित संख्यावाचक
4. ✔ गुणवाचक

Question Number : 165 Question Id : 2752286199 Question Type : MCQ Option Shuffling : Yes Is Question Mandatory : No Option Orientation : Vertical

Correct Marks : 1 Wrong Marks : 0.25

निम्नलिखित प्रश्न में, चार विकल्पों में से, उस विकल्प का चयन करें जो कोष्ठक में दिए गए शब्द के अनुसार विशेषण के भेद वाला विकल्प हो।

बनारस का (बनारसी) पान बहुत प्रसिद्ध है।

Options :

1. ✘ सार्वनामिक
2. ✘ अनिश्चित परिमाण वाचक
3. ✘ निश्चित संख्यावाचक
4. ✔ गुणवाचक

Question Number : 166 Question Id : 2752286200 Question Type : MCQ Option Shuffling : Yes Is Question Mandatory : No Option Orientation : Vertical

Correct Marks : 1 Wrong Marks : 0.25

निम्नलिखित प्रश्न में, चार विकल्पों में से, उस विकल्प का चयन करें जो देशज शब्द का सही विकल्प हो।

Options :

1. ✘ औरत
2. ✔ डकार
3. ✘ डीज़ल
4. ✘ काजू

Question Number : 166 Question Id : 2752286200 Question Type : MCQ Option Shuffling : Yes Is Question Mandatory : No Option Orientation : Vertical

Correct Marks : 1 Wrong Marks : 0.25

निम्नलिखित प्रश्न में, चार विकल्पों में से, उस विकल्प का चयन करें जो देशज शब्द का सही विकल्प हो।

Options :

1. ✘ औरत
2. ✔ डकार
3. ✘ डीज़ल
4. ✘ काजू

Question Number : 167 Question Id : 2752286201 Question Type : MCQ Option Shuffling : Yes Is Question Mandatory : No Option Orientation : Vertical

Correct Marks : 1 Wrong Marks : 0.25

निम्नलिखित प्रश्न में, चार विकल्पों में से, उस विकल्प का चयन करें जो दिए गए शब्द के लिए सही बहुब्रीहि समास के विग्रह का विकल्प हो।

चन्द्रभाल

Options :

1. ✓ भाल पर चंद्रमा है जिसके
2. ✗ चंद्र समान भाल
3. ✗ भाला है जो चंद्रमा
4. ✗ चंद्र है जिसका भाल

Question Number : 167 Question Id : 2752286201 Question Type : MCQ Option Shuffling : Yes Is Question Mandatory : No Option Orientation : Vertical

Correct Marks : 1 Wrong Marks : 0.25

निम्नलिखित प्रश्न में, चार विकल्पों में से, उस विकल्प का चयन करें जो दिए गए शब्द के लिए सही बहुब्रीहि समास के विग्रह का विकल्प हो।

चन्द्रभाल

Options :

1. ✓ भाल पर चंद्रमा है जिसके
2. ✗ चंद्र समान भाल
3. ✗ भाला है जो चंद्रमा
4. ✗ चंद्र है जिसका भाल

Question Number : 168 Question Id : 2752286202 Question Type : MCQ Option Shuffling : Yes Is Question Mandatory : No Option Orientation : Vertical

Correct Marks : 1 Wrong Marks : 0.25

निम्नलिखित प्रश्न में, चार विकल्पों में से, उस विकल्प का चयन करें जो दिए गए शब्द का तत्सम रूप हो।

सेठ

Options :

1. ✘ शीर्ष
2. ✔ श्रेष्ठी
3. ✘ सूत्र
4. ✘ स्कंध

Question Number : 168 Question Id : 2752286202 Question Type : MCQ Option Shuffling : Yes Is Question Mandatory : No Option Orientation : Vertical

Correct Marks : 1 Wrong Marks : 0.25

निम्नलिखित प्रश्न में, चार विकल्पों में से, उस विकल्प का चयन करें जो दिए गए शब्द का तत्सम रूप हो।

सेठ

Options :

1. ✘ शीर्ष
2. ✔ श्रेष्ठी
3. ✘ सूत्र
4. ✘ स्कंध

Question Number : 169 Question Id : 2752286203 Question Type : MCQ Option Shuffling : Yes Is Question Mandatory : No Option Orientation : Vertical

Correct Marks : 1 Wrong Marks : 0.25

निम्नलिखित प्रश्न में, चार विकल्पों में से, उस विकल्प का चयन करें जो दिए गए शब्द के पर्यायवाची शब्द का सही विकल्प नहीं है।

पर्जन्य

Options :

1. ✔ परार्थ
2. ✘ नीरद
3. ✘ वारिद
4. ✘ जलद

Question Number : 169 Question Id : 2752286203 Question Type : MCQ Option Shuffling : Yes Is Question Mandatory : No Option Orientation : Vertical

Correct Marks : 1 Wrong Marks : 0.25

निम्नलिखित प्रश्न में, चार विकल्पों में से, उस विकल्प का चयन करें जो दिए गए शब्द के पर्यायवाची शब्द का सही विकल्प नहीं है।

पर्जन्य

Options :

1. ✓ परार्थ
2. ✗ नीरद
3. ✗ वारिद
4. ✗ जलद

Question Number : 170 Question Id : 2752286204 Question Type : MCQ Option Shuffling : Yes Is Question Mandatory : No Option Orientation : Vertical

Correct Marks : 1 Wrong Marks : 0.25

निम्नलिखित प्रश्न में, चार विकल्पों में से, उस विकल्प का चयन करें जो विलोम शब्द का सबसे अच्छा विकल्प है।

आतुर

Options :

1. ✗ आगामी
2. ✓ शांत
3. ✗ आदत्त
4. ✗ आदर

Question Number : 170 Question Id : 2752286204 Question Type : MCQ Option Shuffling : Yes Is Question Mandatory : No Option Orientation : Vertical

Correct Marks : 1 Wrong Marks : 0.25

निम्नलिखित प्रश्न में, चार विकल्पों में से, उस विकल्प का चयन करें जो विलोम शब्द का सबसे अच्छा विकल्प है।

आतुर

Options :

1. ✗ आगामी
2. ✓ शांत
3. ✗ आदत्त
4. ✗ आदर

Question Number : 171 Question Id : 2752286205 Question Type : MCQ Option Shuffling : Yes Is Question Mandatory : No Option Orientation : Vertical

Correct Marks : 1 Wrong Marks : 0.25

निम्नलिखित प्रश्न में, चार विकल्पों में से, उस सही विकल्प का चयन करें जो वाक्यांशों के लिए एक शब्द का विकल्प हो।

दिल से होनेवाला

Options :

1. ✘ निर्दय
2. ✘ हस्तक्षेप
3. ✔ हार्दिक
4. ✘ सरस

Question Number : 171 Question Id : 2752286205 Question Type : MCQ Option Shuffling : Yes Is Question Mandatory : No Option Orientation : Vertical

Correct Marks : 1 Wrong Marks : 0.25

निम्नलिखित प्रश्न में, चार विकल्पों में से, उस सही विकल्प का चयन करें जो वाक्यांशों के लिए एक शब्द का विकल्प हो।

दिल से होनेवाला

Options :

1. ✘ निर्दय
2. ✘ हस्तक्षेप
3. ✔ हार्दिक
4. ✘ सरस

Question Number : 172 Question Id : 2752286206 Question Type : MCQ Option Shuffling : Yes Is Question Mandatory : No Option Orientation : Vertical

Correct Marks : 1 Wrong Marks : 0.25

निम्नलिखित प्रश्न में, चार विकल्पों में से, उस सही विकल्प का चयन करें जो दिए गए शब्द के सही अर्थ का उचित विकल्प हो।

तनू

Options :

1. ✘ उपाय
2. ✔ पुत्र
3. ✘ खदान
4. ✘ खानदान

Question Number : 172 Question Id : 2752286206 Question Type : MCQ Option Shuffling : Yes Is Question Mandatory : No Option Orientation : Vertical

Correct Marks : 1 Wrong Marks : 0.25

निम्नलिखित प्रश्न में, चार विकल्पों में से, उस सही विकल्प का चयन करें जो दिए गए शब्द के सही अर्थ का उचित विकल्प हो।

तनू

Options :

1. ✘ उपाय
2. ✔ पुत्र
3. ✘ खदान
4. ✘ खानदान

Question Number : 173 Question Id : 2752286207 Question Type : MCQ Option Shuffling : Yes Is Question Mandatory : No Option Orientation : Vertical

Correct Marks : 1 Wrong Marks : 0.25

निम्नलिखित प्रश्न में, चार विकल्पों में से, उस सही विकल्प का चयन करें जो रिक्त स्थान के लिए उपयुक्त शब्द का सही विकल्प है।

_____ का फल मीठा होता है।

Options :

1. ✔ संतोष
2. ✘ क्रम
3. ✘ कठिन
4. ✘ कुल

Question Number : 173 Question Id : 2752286207 Question Type : MCQ Option Shuffling : Yes Is Question Mandatory : No Option Orientation : Vertical

Correct Marks : 1 Wrong Marks : 0.25

निम्नलिखित प्रश्न में, चार विकल्पों में से, उस सही विकल्प का चयन करें जो रिक्त स्थान के लिए उपयुक्त शब्द का सही विकल्प है।

_____ का फल मीठा होता है।

Options :

1. ✓ संतोष
2. ✗ क्रम
3. ✗ कठिन
4. ✗ कुल

Question Number : 174 Question Id : 2752286208 Question Type : MCQ Option Shuffling : Yes Is Question Mandatory : No Option Orientation : Vertical

Correct Marks : 1 Wrong Marks : 0.25

निम्नलिखित प्रश्न में, चार विकल्पों में से, उस विकल्प का चयन करें जो शुद्ध शब्द का सही विकल्प है।

Options :

1. ✗ जुआड़ी
2. ✓ जुआरी
3. ✗ जूआदी
4. ✗ जूआडी

Question Number : 174 Question Id : 2752286208 Question Type : MCQ Option Shuffling : Yes Is Question Mandatory : No Option Orientation : Vertical

Correct Marks : 1 Wrong Marks : 0.25

निम्नलिखित प्रश्न में, चार विकल्पों में से, उस विकल्प का चयन करें जो शुद्ध शब्द का सही विकल्प है।

Options :

1. ✗ जुआड़ी
2. ✓ जुआरी
3. ✗ जूआदी
4. ✗ जूआडी

Question Number : 175 Question Id : 2752286209 Question Type : MCQ Option Shuffling : Yes Is Question Mandatory : No Option Orientation : Vertical

Correct Marks : 1 Wrong Marks : 0.25

निम्नलिखित प्रश्न में, चार विकल्पों में से, उस विकल्प का चयन करें जो शुद्ध शब्द का सही विकल्प है।

Options :

1. ✘ इमानदारी
2. ✘ इमानादारी
3. ✔ ईमानदारी
4. ✘ ईमान्दारी

Question Number : 175 Question Id : 2752286209 Question Type : MCQ Option Shuffling : Yes Is Question Mandatory : No Option Orientation : Vertical

Correct Marks : 1 Wrong Marks : 0.25

निम्नलिखित प्रश्न में, चार विकल्पों में से, उस विकल्प का चयन करें जो शुद्ध शब्द का सही विकल्प है।

Options :

1. ✘ इमानदारी
2. ✘ इमानादारी
3. ✔ ईमानदारी
4. ✘ ईमान्दारी

Question Number : 176 Question Id : 2752286210 Question Type : MCQ Option Shuffling : Yes Is Question Mandatory : No Option Orientation : Vertical

Correct Marks : 1 Wrong Marks : 0.25

निम्नलिखित प्रश्न में, चार विकल्पों में से, उस विकल्प का चयन करें जो दिए गए शब्द के समानार्थी शब्द का विकल्प नहीं है।

पंक

Options :

1. ✘ कीच
2. ✘ कर्दम
3. ✘ चहला
4. ✔ पग

Question Number : 176 Question Id : 2752286210 Question Type : MCQ Option Shuffling : Yes Is Question Mandatory : No Option

Orientation : Vertical

Correct Marks : 1 Wrong Marks : 0.25

निम्नलिखित प्रश्न में, चार विकल्पों में से, उस विकल्प का चयन करें जो दिए गए शब्द के समानार्थी शब्द का विकल्प नहीं है।

पंक

Options :

1. ✘ कीच
2. ✘ कर्दम
3. ✘ चहला
4. ✔ पग

Question Number : 177 Question Id : 2752286211 Question Type : MCQ Option Shuffling : Yes Is Question Mandatory : No Option

Orientation : Vertical

Correct Marks : 1 Wrong Marks : 0.25

निम्नलिखित प्रश्न में, चार विकल्पों में से, उस सही विकल्प का चयन करें जो दिए गए शब्द-युग्म के अर्थ का सही विकल्प हो।

भंगि और भंगी

Options :

1. ✘ आधार और मेहतर
2. ✘ लहर और डरना
3. ✔ लहर और मेहतर
4. ✘ लहर और संसार

Question Number : 177 Question Id : 2752286211 Question Type : MCQ Option Shuffling : Yes Is Question Mandatory : No Option

Orientation : Vertical

Correct Marks : 1 Wrong Marks : 0.25

निम्नलिखित प्रश्न में, चार विकल्पों में से, उस सही विकल्प का चयन करें जो दिए गए शब्द-युग्म के अर्थ का सही विकल्प हो।

भंगि और भंगी

Options :

1. ✘ आधार और मेहतर
2. ✘ लहर और डरना

3. ✓ लहर और मेहतर

4. ✗ लहर और संसार

Question Number : 178 Question Id : 2752286212 Question Type : MCQ Option Shuffling : Yes Is Question Mandatory : No Option Orientation : Vertical

Correct Marks : 1 Wrong Marks : 0.25

निम्नलिखित प्रश्न में, चार विकल्पों में से, उस विकल्प का चयन करें जो सदैव स्त्रीलिंग रूप वाला विकल्प है।

Options :

1. ✓ चादर

2. ✗ सुराग

3. ✗ मेवा

4. ✗ पहिया

Question Number : 178 Question Id : 2752286212 Question Type : MCQ Option Shuffling : Yes Is Question Mandatory : No Option Orientation : Vertical

Correct Marks : 1 Wrong Marks : 0.25

निम्नलिखित प्रश्न में, चार विकल्पों में से, उस विकल्प का चयन करें जो सदैव स्त्रीलिंग रूप वाला विकल्प है।

Options :

1. ✓ चादर

2. ✗ सुराग

3. ✗ मेवा

4. ✗ पहिया

Question Number : 179 Question Id : 2752286213 Question Type : MCQ Option Shuffling : Yes Is Question Mandatory : No Option Orientation : Vertical

Correct Marks : 1 Wrong Marks : 0.25

निम्नलिखित प्रश्न में, चार विकल्पों में से, उस विकल्प का चयन करें जो दिए गए शब्द के बहुवचन रूप का सबसे अच्छा विकल्प है।

चिड़िया

Options :

1. ✘ चिड़ा
2. ✔ चिड़ियाँ
3. ✘ चिड़ियाओं
4. ✘ चीड़ीयाँ

Question Number : 179 Question Id : 2752286213 Question Type : MCQ Option Shuffling : Yes Is Question Mandatory : No Option Orientation : Vertical

Correct Marks : 1 Wrong Marks : 0.25

निम्नलिखित प्रश्न में, चार विकल्पों में से, उस विकल्प का चयन करें जो दिए गए शब्द के बहुवचन रूप का सबसे अच्छा विकल्प है।

चिड़िया

Options :

1. ✘ चिड़ा
2. ✔ चिड़ियाँ
3. ✘ चिड़ियाओं
4. ✘ चीड़ीयाँ

Question Number : 180 Question Id : 2752286214 Question Type : MCQ Option Shuffling : Yes Is Question Mandatory : No Option Orientation : Vertical

Correct Marks : 1 Wrong Marks : 0.25

निम्नलिखित प्रश्न में, चार विकल्पों में से, उस विकल्प का चयन करें जो कोष्ठक में दिए गए शब्द के अनुसार मध्यम पुरुष वाचक सर्वनाम का सबसे अच्छा विकल्प है।

Options :

1. ✘ (मेरा) नाम भी सुनील है।
2. ✘ (वह) कुछ बताना चाहत था।
3. ✔ (तुम) बहुत अच्छा गाना गाते हो।
4. ✘ (इन्हें) हिफाजत से घर पहुँचा दो।

Question Number : 180 Question Id : 2752286214 Question Type : MCQ Option Shuffling : Yes Is Question Mandatory : No Option Orientation : Vertical

Correct Marks : 1 Wrong Marks : 0.25

निम्नलिखित प्रश्न में, चार विकल्पों में से, उस विकल्प का चयन करें जो कोष्ठक में दिए गए शब्द के अनुसार मध्यम पुरुष वाचक सर्वनाम का सबसे अच्छा विकल्प है।

Options :

1. ✘ (मेरा) नाम भी सुनील है।
2. ✘ (वह) कुछ बताना चाहत था।
3. ✔ (तुम) बहुत अच्छा गाना गाते हो।
4. ✘ (इन्हें) हिफाजत से घर पहुँचा दो।

General Hindi2

Group Number :	10
Group Id :	275228222
Group Maximum Duration :	0
Group Minimum Duration :	120
Show Attended Group? :	No
Edit Attended Group? :	No
Break time :	0
Group Marks :	20
Is this Group for Examiner? :	No

General Hindi2

Section Id :	275228324
Section Number :	1
Section type :	Online
Mandatory or Optional :	Mandatory
Number of Questions :	16
Number of Questions to be attempted :	16
Section Marks :	20
Enable Mark as Answered Mark for Review and Clear Response :	Yes
Sub-Section Number :	1
Sub-Section Id :	275228388

Question Shuffling Allowed :

Yes

Question Number : 181 Question Id : 2752286215 Question Type : MCQ Option Shuffling : Yes Is Question Mandatory : No Option Orientation : Vertical

Correct Marks : 1 Wrong Marks : 0.25

निम्नलिखित प्रश्न में, चार विकल्पों में से, उस विकल्प का चयन करें जो दिए गए वाक्य के काल का सही विकल्प हो।

माँ खाना खिलाती तो मैं खाती।

Options :

1. ✘ संदिग्ध वर्तमानकाल
2. ✔ हेतुहेतुमद भूतकाल
3. ✘ सामान्य भविष्यकाल
4. ✘ सामान्य भूतकाल

Question Number : 181 Question Id : 2752286215 Question Type : MCQ Option Shuffling : Yes Is Question Mandatory : No Option Orientation : Vertical

Correct Marks : 1 Wrong Marks : 0.25

निम्नलिखित प्रश्न में, चार विकल्पों में से, उस विकल्प का चयन करें जो दिए गए वाक्य के काल का सही विकल्प हो।

माँ खाना खिलाती तो मैं खाती।

Options :

1. ✘ संदिग्ध वर्तमानकाल
2. ✔ हेतुहेतुमद भूतकाल
3. ✘ सामान्य भविष्यकाल
4. ✘ सामान्य भूतकाल

Question Number : 182 Question Id : 2752286216 Question Type : MCQ Option Shuffling : Yes Is Question Mandatory : No Option Orientation : Vertical

Correct Marks : 1 Wrong Marks : 0.25

निम्नलिखित प्रश्न में, चार विकल्पों में से, उस विकल्प का चयन करें जो दिए गए वाक्य के लिए वृत्ति के भेद का सबसे अच्छा विकल्प है।

दफ्तर का कार्य अभी भी चल रहा है।

Options :

1. ✓ निश्चयार्थ
2. ✗ संदेहार्थ
3. ✗ संभावनार्थ
4. ✗ विध्यर्थ

Question Number : 182 Question Id : 2752286216 Question Type : MCQ Option Shuffling : Yes Is Question Mandatory : No Option Orientation : Vertical

Correct Marks : 1 Wrong Marks : 0.25

निम्नलिखित प्रश्न में, चार विकल्पों में से, उस विकल्प का चयन करें जो दिए गए वाक्य के लिए वृत्ति के भेद का सबसे अच्छा विकल्प है।

दफ्तर का कार्य अभी भी चल रहा है।

Options :

1. ✓ निश्चयार्थ
2. ✗ संदेहार्थ
3. ✗ संभावनार्थ
4. ✗ विध्यर्थ

Question Number : 183 Question Id : 2752286217 Question Type : MCQ Option Shuffling : Yes Is Question Mandatory : No Option Orientation : Vertical

Correct Marks : 1 Wrong Marks : 0.25

निम्नलिखित प्रश्न में, चार विकल्पों में से, उस विकल्प का चयन करें जो दिए गए वाक्य के लिए पक्ष के भेद का सबसे अच्छा विकल्प है।

बच्चे कितना अच्छा काव्य पठन कर रहे हैं!

Options :

1. ✗ पूर्णताद्योतक
2. ✓ सातप्यद्योतक
3. ✗ प्रगतिद्योतक
4. ✗ आरंभद्योतक

Question Number : 183 Question Id : 2752286217 Question Type : MCQ Option Shuffling : Yes Is Question Mandatory : No Option Orientation : Vertical

Correct Marks : 1 Wrong Marks : 0.25

निम्नलिखित प्रश्न में, चार विकल्पों में से, उस विकल्प का चयन करें जो दिए गए वाक्य के लिए पक्ष के भेद का सबसे अच्छा विकल्प है।

बच्चे कितना अच्छा काव्य पठन कर रहे हैं!

Options :

1. ✘ पूर्णताद्योतक
2. ✔ सातप्यद्योतक
3. ✘ प्रगतिद्योतक
4. ✘ आरंभद्योतक

Question Number : 184 Question Id : 2752286218 Question Type : MCQ Option Shuffling : Yes Is Question Mandatory : No Option Orientation : Vertical

Correct Marks : 1 Wrong Marks : 0.25

निम्नलिखित प्रश्न में, चार विकल्पों में से, उस विकल्प का चयन करें जो शुद्ध वाक्य का सबसे अच्छा विकल्प है।

Options :

1. ✘ तुम क्या काम करता है?
2. ✘ तुम क्या काम है करता?
3. ✔ तुम क्या काम करते हो?
4. ✘ तुम क्या काम करते हैं?

Question Number : 184 Question Id : 2752286218 Question Type : MCQ Option Shuffling : Yes Is Question Mandatory : No Option Orientation : Vertical

Correct Marks : 1 Wrong Marks : 0.25

निम्नलिखित प्रश्न में, चार विकल्पों में से, उस विकल्प का चयन करें जो शुद्ध वाक्य का सबसे अच्छा विकल्प है।

Options :

1. ✘ तुम क्या काम करता है?
2. ✘ तुम क्या काम है करता?
3. ✔ तुम क्या काम करते हो?
4. ✘ तुम क्या काम करते हैं?

Question Number : 185 Question Id : 2752286219 Question Type : MCQ Option Shuffling : Yes Is Question Mandatory : No Option

Orientation : Vertical

Correct Marks : 1 Wrong Marks : 0.25

निम्नलिखित प्रश्न में, चार विकल्पों में से, उस विकल्प का चयन करें जो सही वाक्य भेद का विकल्प हो।

मनोहर या तो स्वयं आएगा या तार भेजेगा।

Options :

1. ✓ संयुक्त वाक्य
2. ✗ मिश्र वाक्य
3. ✗ प्रश्नवाचक वाक्य
4. ✗ सरल वाक्य

Question Number : 185 Question Id : 2752286219 Question Type : MCQ Option Shuffling : Yes Is Question Mandatory : No Option

Orientation : Vertical

Correct Marks : 1 Wrong Marks : 0.25

निम्नलिखित प्रश्न में, चार विकल्पों में से, उस विकल्प का चयन करें जो सही वाक्य भेद का विकल्प हो।

मनोहर या तो स्वयं आएगा या तार भेजेगा।

Options :

1. ✓ संयुक्त वाक्य
2. ✗ मिश्र वाक्य
3. ✗ प्रश्नवाचक वाक्य
4. ✗ सरल वाक्य

Question Number : 186 Question Id : 2752286220 Question Type : MCQ Option Shuffling : Yes Is Question Mandatory : No Option

Orientation : Vertical

Correct Marks : 1 Wrong Marks : 0.25

निम्नलिखित प्रश्न में, चार विकल्पों में से, उस विकल्प का चयन करें जो सही वाक्य भेद का विकल्प हो।

वह इस योग्य नहीं है कि सेना में भर्ती हो।

Options :

1. ✗ विधानवाचक वाक्य
2. ✗ सरल वाक्य

3. ✓ मिश्र वाक्य
4. ✗ संयुक्त वाक्य

Question Number : 186 Question Id : 2752286220 Question Type : MCQ Option Shuffling : Yes Is Question Mandatory : No Option Orientation : Vertical

Correct Marks : 1 Wrong Marks : 0.25

निम्नलिखित प्रश्न में, चार विकल्पों में से, उस विकल्प का चयन करें जो सही वाक्य भेद का विकल्प हो।

वह इस योग्य नहीं है कि सेना में भर्ती हो।

Options :

1. ✗ विधानवाचक वाक्य
2. ✗ सरल वाक्य
3. ✓ मिश्र वाक्य
4. ✗ संयुक्त वाक्य

Question Number : 187 Question Id : 2752286221 Question Type : MCQ Option Shuffling : Yes Is Question Mandatory : No Option Orientation : Vertical

Correct Marks : 1 Wrong Marks : 0.25

निम्नलिखित प्रश्न में, चार विकल्पों में से, उस विकल्प का चयन करें जो विराम चिह्न युक्त वाक्य का सही विकल्प हो।

Options :

1. ✗ बेताल ने पूछा कैसे ...? धनंजय का अधिकार क्यों होना चाहिए
2. ✓ बेताल ने पूछा, "कैसे ...?" धनंजय का अधिकार क्यों होना चाहिए?
3. ✗ बेताल ने पूछा, कैसे धनंजय का अधिकार क्यों होना चाहिए
4. ✗ बेताल ने पूछा कैसे धनंजय का अधिकार क्यों होना चाहिए

Question Number : 187 Question Id : 2752286221 Question Type : MCQ Option Shuffling : Yes Is Question Mandatory : No Option Orientation : Vertical

Correct Marks : 1 Wrong Marks : 0.25

निम्नलिखित प्रश्न में, चार विकल्पों में से, उस विकल्प का चयन करें जो विराम चिह्न युक्त वाक्य का सही विकल्प हो।

Options :

1. ✗ बेताल ने पूछा कैसे ...? धनंजय का अधिकार क्यों होना चाहिए

2. ✓ बेताल ने पूछा, "कैसे ...?" धनंजय का अधिकार क्यों होना चाहिए?
3. ✘ बेताल ने पूछा, कैसे धनंजय का अधिकार क्यों होना चाहिए
4. ✘ बेताल ने पूछा कैसे धनंजय का अधिकार क्यों होना चाहिए

Question Number : 188 Question Id : 2752286222 Question Type : MCQ Option Shuffling : Yes Is Question Mandatory : No Option Orientation : Vertical

Correct Marks : 1 Wrong Marks : 0.25

निम्नलिखित प्रश्न में, चार विकल्पों में से, उस विकल्प का चयन करें जो विराम चिह्न युक्त वाक्य का सही विकल्प हो।

Options :

1. ✓ वे लाल-पीले होकर बोले, "मरना अच्छा समझती है तो मर! मैं जाता हूँ।"
2. ✘ वे लाल पीले होकर बोले "मरना अच्छा समझती है तो मर! मैं जाता हूँ।"
3. ✘ वे लालपीले होकर बोले, मरना अच्छा समझती है तो मर मैं जाता हूँ।
4. ✘ वे लाल पीले होकर बोले मरना अच्छा समझती है तो मर मैं जाता हूँ

Question Number : 188 Question Id : 2752286222 Question Type : MCQ Option Shuffling : Yes Is Question Mandatory : No Option Orientation : Vertical

Correct Marks : 1 Wrong Marks : 0.25

निम्नलिखित प्रश्न में, चार विकल्पों में से, उस विकल्प का चयन करें जो विराम चिह्न युक्त वाक्य का सही विकल्प हो।

Options :

1. ✓ वे लाल-पीले होकर बोले, "मरना अच्छा समझती है तो मर! मैं जाता हूँ।"
2. ✘ वे लाल पीले होकर बोले "मरना अच्छा समझती है तो मर! मैं जाता हूँ।"
3. ✘ वे लालपीले होकर बोले, मरना अच्छा समझती है तो मर मैं जाता हूँ।
4. ✘ वे लाल पीले होकर बोले मरना अच्छा समझती है तो मर मैं जाता हूँ

Question Number : 189 Question Id : 2752286223 Question Type : MCQ Option Shuffling : Yes Is Question Mandatory : No Option Orientation : Vertical

Correct Marks : 1 Wrong Marks : 0.25

निम्नलिखित प्रश्न में, चार विकल्पों में से, उस विकल्प का चयन करें जो विराम चिह्न युक्त वाक्य का सही विकल्प हो।

Options :

1. ✘ माँ ने गर्व से कहा, "नहीं राम! झूठ बोलना अच्छा नहीं होता, बहुत बुरा होता है।"
2. ✓ माँ ने गर्व से कहा, "नहीं राम! झूठ बोलना अच्छा नहीं होता, बहुत बुरा होता है।"

3. ✘ माँ ने गर्व से कहा, नहीं राम! झूठ बोलना अच्छा नहीं होता, बहुत बुरा होता है
4. ✘ माँ ने गर्व से कहा नहीं राम झूठ बोलना अच्छा नहीं होता, बहुत बुरा होता है

Question Number : 189 Question Id : 2752286223 Question Type : MCQ Option Shuffling : Yes Is Question Mandatory : No Option Orientation : Vertical

Correct Marks : 1 Wrong Marks : 0.25

निम्नलिखित प्रश्न में, चार विकल्पों में से, उस विकल्प का चयन करें जो विराम चिह्न युक्त वाक्य का सही विकल्प हो।

Options :

1. ✘ माँ ने गर्व से कहा, "नहीं राम! झूठ बोलना अच्छा नहीं होता, बहुत बुरा होता है।
2. ✔ माँ ने गर्व से कहा, "नहीं राम! झूठ बोलना अच्छा नहीं होता, बहुत बुरा होता है।"
3. ✘ माँ ने गर्व से कहा, नहीं राम! झूठ बोलना अच्छा नहीं होता, बहुत बुरा होता है
4. ✘ माँ ने गर्व से कहा नहीं राम झूठ बोलना अच्छा नहीं होता, बहुत बुरा होता है

Question Number : 190 Question Id : 2752286224 Question Type : MCQ Option Shuffling : Yes Is Question Mandatory : No Option Orientation : Vertical

Correct Marks : 1 Wrong Marks : 0.25

निम्नलिखित प्रश्न में, चार विकल्पों में से, उस विकल्प का चयन करें जो दिए गए मुहावरे का सही अर्थ वाला विकल्प है।

ककड़ी-खीरा समझना

Options :

1. ✘ शक्तिहीन
2. ✘ बहुत प्रिय होना
3. ✔ तुच्छ या बेकार समझना
4. ✘ खूब पीटना

Question Number : 190 Question Id : 2752286224 Question Type : MCQ Option Shuffling : Yes Is Question Mandatory : No Option Orientation : Vertical

Correct Marks : 1 Wrong Marks : 0.25

निम्नलिखित प्रश्न में, चार विकल्पों में से, उस विकल्प का चयन करें जो दिए गए मुहावरे का सही अर्थ वाला विकल्प है।

ककड़ी-खीरा समझना

Options :

1. ✖ शक्तिहीन
2. ✖ बहुत प्रिय होना
3. ✔ तुच्छ या बेकार समझना
4. ✖ खूब पीटना

Question Number : 191 Question Id : 2752286225 Question Type : MCQ Option Shuffling : Yes Is Question Mandatory : No Option Orientation : Vertical

Correct Marks : 1 Wrong Marks : 0.25

निम्नलिखित प्रश्न में, चार विकल्पों में से, उस विकल्प का चयन करें जो दिए गए मुहावरे का सही अर्थ वाला विकल्प है।

कढ़ी सा उबाल आना

Options :

1. ✖ अनाड़ीपन दिखाना
2. ✖ बहुत लज्जित होना
3. ✖ चुपचाप अपमान सहना
4. ✔ जोश या क्रोध जल्दी खत्म हो जाना

Question Number : 191 Question Id : 2752286225 Question Type : MCQ Option Shuffling : Yes Is Question Mandatory : No Option Orientation : Vertical

Correct Marks : 1 Wrong Marks : 0.25

निम्नलिखित प्रश्न में, चार विकल्पों में से, उस विकल्प का चयन करें जो दिए गए मुहावरे का सही अर्थ वाला विकल्प है।

कढ़ी सा उबाल आना

Options :

1. ✖ अनाड़ीपन दिखाना
2. ✖ बहुत लज्जित होना
3. ✖ चुपचाप अपमान सहना
4. ✔ जोश या क्रोध जल्दी खत्म हो जाना

Question Number : 192 Question Id : 2752286226 Question Type : MCQ Option Shuffling : Yes Is Question Mandatory : No Option Orientation : Vertical

Correct Marks : 1 Wrong Marks : 0.25

निम्नलिखित प्रश्न में, चार विकल्पों में से, उस विकल्प का चयन करें जो दिए गए मुहावरे का सही अर्थ वाला विकल्प है।

खून के आँसू रोना

Options :

1. ✘ बहुत क्रोध आना
2. ✘ कठिन परिश्रम करना
3. ✔ बहुत दुखी या परेशान होना
4. ✘ बहुत परेशान करना

Question Number : 192 Question Id : 2752286226 Question Type : MCQ Option Shuffling : Yes Is Question Mandatory : No Option Orientation : Vertical

Correct Marks : 1 Wrong Marks : 0.25

निम्नलिखित प्रश्न में, चार विकल्पों में से, उस विकल्प का चयन करें जो दिए गए मुहावरे का सही अर्थ वाला विकल्प है।

खून के आँसू रोना

Options :

1. ✘ बहुत क्रोध आना
2. ✘ कठिन परिश्रम करना
3. ✔ बहुत दुखी या परेशान होना
4. ✘ बहुत परेशान करना

Question Number : 193 Question Id : 2752286227 Question Type : MCQ Option Shuffling : Yes Is Question Mandatory : No Option Orientation : Vertical

Correct Marks : 1 Wrong Marks : 0.25

निम्नलिखित प्रश्न में, चार विकल्पों में से, उस विकल्प का चयन करें जो दी गई लोकोक्ति का सही अर्थ वाला विकल्प है।

एक ही लकड़ी से सबको हाँकना

Options :

1. ✘ एकता में बल
2. ✔ छोटे-बड़े का ध्यान न रखना
3. ✘ एक साथ अनेक कार्य करना
4. ✘ एक जैसे दुर्गुण वाले

Question Number : 193 Question Id : 2752286227 Question Type : MCQ Option Shuffling : Yes Is Question Mandatory : No Option Orientation : Vertical

Correct Marks : 1 Wrong Marks : 0.25

निम्नलिखित प्रश्न में, चार विकल्पों में से, उस विकल्प का चयन करें जो दी गई लोकोक्ति का सही अर्थ वाला विकल्प है।

एक ही लकड़ी से सबको हाँकना

Options :

1. ✘ एकता में बल
2. ✔ छोटे बड़े का ध्यान न रखना
3. ✘ एक साथ अनेक कार्य करना
4. ✘ एक जैसे दुर्गुण वाले

Question Number : 194 Question Id : 2752286228 Question Type : MCQ Option Shuffling : Yes Is Question Mandatory : No Option Orientation : Vertical

Correct Marks : 1 Wrong Marks : 0.25

निम्नलिखित प्रश्न में, चार विकल्पों में से, उस विकल्प का चयन करें जो दी गई लोकोक्ति का सही अर्थ वाला विकल्प है।

कचहरी का दरवाजा खुला है

Options :

1. ✔ न्याय पर सभी का अधिकार होता है
2. ✘ छोटी मुसीबत से छूट कर बड़ी मुसीबत में पड़ना
3. ✘ सब दिन एक मान नहीं होते
4. ✘ कठिनाइयों से डरना

Question Number : 194 Question Id : 2752286228 Question Type : MCQ Option Shuffling : Yes Is Question Mandatory : No Option Orientation : Vertical

Correct Marks : 1 Wrong Marks : 0.25

निम्नलिखित प्रश्न में, चार विकल्पों में से, उस विकल्प का चयन करें जो दी गई लोकोक्ति का सही अर्थ वाला विकल्प है।

कचहरी का दरवाजा खुला है

Options :

1. ✓ न्याय पर सभी का अधिकार होता है
2. ✗ छोटी मुसीबत से छूट कर बड़ी मुसीबत में पड़ना
3. ✗ सब दिन एक मान नहीं होते
4. ✗ कठिनाइयों से डरना

Question Number : 195 Question Id : 2752286229 Question Type : MCQ Option Shuffling : Yes Is Question Mandatory : No Option Orientation : Vertical

Correct Marks : 1 Wrong Marks : 0.25

निम्नलिखित प्रश्न में, चार विकल्पों में से, उस विकल्प का चयन करें जो दी गई लोकोक्ति का सही अर्थ वाला विकल्प है।

खिसियानी बिल्ली खम्भा नोचे

Options :

1. ✗ मेहनत किसी की लाभ किसी और का
2. ✓ अपनी असफलता पर खीझना
3. ✗ परिश्रम का कुछ भी फल न मिलना
4. ✗ उलटे सीधे काम करना

Question Number : 195 Question Id : 2752286229 Question Type : MCQ Option Shuffling : Yes Is Question Mandatory : No Option Orientation : Vertical

Correct Marks : 1 Wrong Marks : 0.25

निम्नलिखित प्रश्न में, चार विकल्पों में से, उस विकल्प का चयन करें जो दी गई लोकोक्ति का सही अर्थ वाला विकल्प है।

खिसियानी बिल्ली खम्भा नोचे

Options :

1. ✗ मेहनत किसी की लाभ किसी और का
2. ✓ अपनी असफलता पर खीझना
3. ✗ परिश्रम का कुछ भी फल न मिलना
4. ✗ उलटे सीधे काम करना

Sub-Section Number :

2

Sub-Section Id :

275228389

Question Shuffling Allowed :

Yes

Question Id : 2752286230 Question Type : COMPREHENSION Sub Question Shuffling Allowed : Yes Group Comprehension Questions : No

Question Numbers : (196 to 200)

निम्नलिखित गद्यांश को ध्यानपूर्वक पढ़िए और दिए गए प्रश्नों के उत्तर दीजिए।

विज्ञापन कला जिस तेजी से उन्नति कर रही है, उससे मुझे भविष्य के लिए और भी अंदेशा है। लगता है ऐसा युग आने वाला है जब शिक्षा, विज्ञान, संस्कृति और साहित्य इनका केवल विज्ञापन कला के लिए ही उपयोग रह जाएगा। वैसे तो आज भी इस कला के लिए इनका खासा उपयोग होता है। बहुत-सी शिक्षण संस्थाएँ हैं जो सांप्रदायिक संस्थाओं का विज्ञापन मात्र हैं। अपनी पीढ़ी के कई लेखकों की कृतियाँ लाला छगनलाल, मगनलाल या इस तरह के नाम के किसी और लाल की स्मारक निधि से प्रकाशित होकर लाला जी की दिवंगत आत्मा के प्रति स्मारक होने का फर्ज अदा कर रही हैं मगर आने वाले युग में यह कला, दो कदम आगे बढ़ जाएगी। विद्यार्थियों को विश्वविद्यालय के दीक्षांत महोत्सव पर जो डिग्रियाँ दी जाएँगी, उनके निचले कोने में छपा रहेगा- 'आपकी शिक्षा के उपयोग का एक ही मार्ग है, आज ही आयात-निर्यात का धंधा प्रारंभ कीजिए। मुफ्त सूचीपत्र के लिए लिखिए।' हर नए आविष्कार का चेहरा मुस्कराता हुआ टेलीविजन पर जाकर कुछ इस तरह निवेदन करेगा- 'मुझे यह कहते हुए हार्दिक प्रसन्नता है कि मेरे प्रयत्न की सफलता का सारा श्रेय इस कंपनी को है, क्योंकि उन्हीं के प्रोत्साहन और प्रेरणा से मैंने इस दिशा में कदम बढ़ाया था।

Sub questions

Question Number : 196 Question Id : 2752286231 Question Type : MCQ Option Shuffling : Yes Is Question Mandatory : No Option Orientation : Vertical

Correct Marks : 1 Wrong Marks : 0.25

अनुच्छेद में विज्ञापन के प्रति भविष्य के लिए क्या आशंका जताई गई है?

Options :

1. ✘ विज्ञापन का प्रगति पथ रुक जाएगा
2. ✘ विज्ञापन का उपयोग गिने-चुने क्षेत्रों में ही किया जाएगा
3. ✘ विज्ञापन का महत्त्व कम हो जाएगा
4. ✔ सभी क्षेत्र अपना मुख्य उद्देश्य छोड़कर विभिन्न उत्पादों का विज्ञापन करते नजर आएँगे

Question Number : 197 Question Id : 2752286232 Question Type : MCQ Option Shuffling : Yes Is Question Mandatory : No Option Orientation : Vertical

Correct Marks : 1 Wrong Marks : 0.25

वर्तमान में शिक्षण संस्थाओं की क्या स्थिति बन गई है?

Options :

1. ✘ मुक्त कार्य कर रहे हैं
2. ✘ छात्रों की कमी हो गई है
3. ✔ वे सांप्रदायिक संस्थाओं के विज्ञापन मात्र बनकर रह गई हैं

4. ✖ सांप्रदायिक संस्थाओं के साथ उनका कोई संबंध नहीं है

Question Number : 198 Question Id : 2752286233 Question Type : MCQ Option Shuffling : Yes Is Question Mandatory : No Option Orientation : Vertical

Correct Marks : 1 Wrong Marks : 0.25

इस अनुच्छेद के माध्यम से लेखक क्या कहना चाहता है?

Options :

1. ✖ विज्ञापन का मनुष्य के जीवन में कोई महत्त्व नहीं है
2. ✔ विज्ञापन कला ने मनुष्य के दैनिक जीवन को प्रभावित किया है
3. ✖ मनुष्य विज्ञापन की महत्ता से कोसों दूर है
4. ✖ मानव जीवन व विज्ञापन कभी एक साथ नहीं आ सकते

Question Number : 199 Question Id : 2752286234 Question Type : MCQ Option Shuffling : Yes Is Question Mandatory : No Option Orientation : Vertical

Correct Marks : 1 Wrong Marks : 0.25

इनमें से कौन - सा शब्द स्मारक का पर्यायवाची शब्द नहीं है?

Options :

1. ✔ संस्था
2. ✖ समाधि
3. ✖ स्मृतिचिन्ह
4. ✖ निशानी

Question Number : 200 Question Id : 2752286235 Question Type : MCQ Option Shuffling : Yes Is Question Mandatory : No Option Orientation : Vertical

Correct Marks : 1 Wrong Marks : 0.25

इस अनुच्छेद का कोई उपयुक्त शीर्षक:

Options :

1. ✖ विज्ञापन की घटती दुनिया।
2. ✔ विज्ञापन की बढ़ती दुनिया।
3. ✖ आज का विज्ञापन
4. ✖ महत्त्वहीन विज्ञापन

Question Id : 2752286230 Question Type : COMPREHENSION Sub Question Shuffling Allowed : Yes Group Comprehension Questions : No

Question Numbers : (196 to 200)

निम्नलिखित गद्यांश को ध्यानपूर्वक पढ़िए और दिए गए प्रश्नों के उत्तर दीजिए।

विज्ञापन कला जिस तेजी से उन्नति कर रही है, उससे मुझे भविष्य के लिए और भी अंदेशा है। लगता है ऐसा युग आने वाला है जब शिक्षा, विज्ञान, संस्कृति और साहित्य इनका केवल विज्ञापन कला के लिए ही उपयोग रह जाएगा। वैसे तो आज भी इस कला के लिए इनका खासा उपयोग होता है। बहुत-सी शिक्षण संस्थाएँ हैं जो सांप्रदायिक संस्थाओं का विज्ञापन मात्र हैं। अपनी पीढ़ी के कई लेखकों की कृतियाँ लाला छगनलाल, मगनलाल या इस तरह के नाम के किसी और लाल की स्मारक निधि से प्रकाशित होकर लाला जी की दिवंगत आत्मा के प्रति स्मारक होने का फर्ज अदा कर रही हैं मगर आने वाले युग में यह कला, दो कदम आगे बढ़ जाएगी। विद्यार्थियों को विश्वविद्यालय के दीक्षांत महोत्सव पर जो डिग्रियाँ दी जाएँगी, उनके निचले कोने में छपा रहेगा- 'आपकी शिक्षा के उपयोग का एक ही मार्ग है, आज ही आयात-निर्यात का धंधा प्रारंभ कीजिए। मुफ्त सूचीपत्र के लिए लिखिए।' हर नए आविष्कार का चेहरा मुस्कराता हुआ टेलीविजन पर जाकर कुछ इस तरह निवेदन करेगा- 'मुझे यह कहते हुए हार्दिक प्रसन्नता है कि मेरे प्रयत्न की सफलता का सारा श्रेय इस कंपनी को है, क्योंकि उन्हीं के प्रोत्साहन और प्रेरणा से मैंने इस दिशा में कदम बढ़ाया था।

Sub questions

Question Number : 196 Question Id : 2752286231 Question Type : MCQ Option Shuffling : Yes Is Question Mandatory : No Option Orientation : Vertical

Correct Marks : 1 Wrong Marks : 0.25

अनुच्छेद में विज्ञापन के प्रति भविष्य के लिए क्या आशंका जताई गई है?

Options :

1. ✘ विज्ञापन का प्रगति पथ रुक जाएगा
2. ✘ विज्ञापन का उपयोग गिने-चुने क्षेत्रों में ही किया जाएगा
3. ✘ विज्ञापन का महत्त्व कम हो जाएगा
4. ✔ सभी क्षेत्र अपना मुख्य उद्देश्य छोड़कर विभिन्न उत्पादों का विज्ञापन करते नजर आएँगे

Question Number : 197 Question Id : 2752286232 Question Type : MCQ Option Shuffling : Yes Is Question Mandatory : No Option Orientation : Vertical

Correct Marks : 1 Wrong Marks : 0.25

वर्तमान में शिक्षण संस्थाओं की क्या स्थिति बन गई है?

Options :

1. ✘ मुक्त कार्य कर रहे हैं
2. ✘ छात्रों की कमी हो गई है
3. ✔ वे सांप्रदायिक संस्थाओं के विज्ञापन मात्र बनकर रह गई हैं

4. ✖ सांप्रदायिक संस्थाओं के साथ उनका कोई संबंध नहीं है

Question Number : 198 Question Id : 2752286233 Question Type : MCQ Option Shuffling : Yes Is Question Mandatory : No Option Orientation : Vertical

Correct Marks : 1 Wrong Marks : 0.25

इस अनुच्छेद के माध्यम से लेखक क्या कहना चाहता है?

Options :

1. ✖ विज्ञापन का मनुष्य के जीवन में कोई महत्त्व नहीं है
2. ✔ विज्ञापन कला ने मनुष्य के दैनिक जीवन को प्रभावित किया है
3. ✖ मनुष्य विज्ञापन की महत्ता से कोसो दूर है
4. ✖ मानव जीवन व विज्ञापन कभी एक साथ नहीं आ सकते

Question Number : 199 Question Id : 2752286234 Question Type : MCQ Option Shuffling : Yes Is Question Mandatory : No Option Orientation : Vertical

Correct Marks : 1 Wrong Marks : 0.25

इनमें से कौन - सा शब्द स्मारक का पर्यायवाची शब्द नहीं है?

Options :

1. ✔ संस्था
2. ✖ समाधि
3. ✖ स्मृतिचिन्ह
4. ✖ निशानी

Question Number : 200 Question Id : 2752286235 Question Type : MCQ Option Shuffling : Yes Is Question Mandatory : No Option Orientation : Vertical

Correct Marks : 1 Wrong Marks : 0.25

इस अनुच्छेद का कोई उपयुक्त शीर्षक:

Options :

1. ✖ विज्ञापन की घटती दुनिया।
2. ✔ विज्ञापन की बढ़ती दुनिया।
3. ✖ आज का विज्ञापन
4. ✖ महत्त्वहीन विज्ञापन