

Delhi Subordinate Services Selection Board (DSSSB)

DSSSB Warder Question Paper with Answer Key

Exam Date: 10-30 June 2024

English Medium

**Join Telegram Group
"HaryanaJobs.in"**



GOVT. OF NCT OF DELHI
Delhi Subordinate Services Selection Board
FC-18, Institutional Area, Karkardooma, Delhi – 110092.
www.dsssb.delhigovt.nic.in

Participant ID	Join Telegram Group "HaryanaJobs.in"
Participant Name	
Test Center Name	iON Digital Zone iDZ 1 Sector 62
Test Date	10/06/2024
Test Time	12:30 PM - 2:30 PM
Subject	Warder Reserved for male Only

Section : General intelligence and Reasoning Ability 1

Q.1 If all the alphabets within each of the four given words are replaced with the immediately next alphabet as per the English alphabetical order, how many letter-clusters thus formed will have at least 1 vowel within them?

JUMP SWIM FAST HIDE

- Ans 1. 2
 2. 3
 3. 1
 4. 4

Question ID : 630680833743
 Option 1 ID : 6306803265852
 Option 2 ID : 6306803265853
 Option 3 ID : 6306803265850
 Option 4 ID : 6306803265851

Q.2 How many digits are there in the given number-symbol series that are immediately preceded by a symbol and immediately followed by another symbol?

* 8 \$ 3 ! 7 ^ 1 @ 4 % 9 * 2 @ 6 % 0 \$ 1 & 2

- Ans 1. 5
 2. 10
 3. 8
 4. 12

Question ID : 630680833706
 Option 1 ID : 6306803265704
 Option 2 ID : 6306803265702
 Option 3 ID : 6306803265703
 Option 4 ID : 6306803265705

Q.3 Select the option that is related to the fifth set of numbers in the same way as the second set of numbers is related to the first set of numbers, and the fourth set of numbers is related to the third set of numbers.

$(7, 8, 9) : (35, 40, 45) :: (11, 12, 13) : (55, 60, 65) :: (16, 17, 18) : ?$

Ans 1. (75, 85, 90)

2. (80, 90, 95)

3. (85, 90, 95)

4. (80, 85, 90)

Question ID : 630680833852
 Option 1 ID : 6306803266289
 Option 2 ID : 6306803266288
 Option 3 ID : 6306803266287
 Option 4 ID : 6306803266286

Q.4 Which two numbers should be interchanged to make the given equation correct?

$$69 - 24 \div 2 \times 20 + 11 = 5$$

Ans 1. 2 and 24

2. 5 and 20

3. 24 and 69

4. 2 and 20

Question ID : 630680833847
 Option 1 ID : 6306803266269
 Option 2 ID : 6306803266267
 Option 3 ID : 6306803266268
 Option 4 ID : 6306803266266

Q.5 If A denotes '+', B denotes 'x', C denotes '-', and D denotes '÷', then what will be the value of the following equation?

$$102 \text{ C } 95 \text{ D } 19 \text{ A } 5 \text{ B } 7 = ?$$

Ans 1. 132

2. 130

3. 134

4. 135

Question ID : 630680833845
 Option 1 ID : 6306803266259
 Option 2 ID : 6306803266261
 Option 3 ID : 6306803266260
 Option 4 ID : 6306803266258

Q.6 Select the option that is related to the fifth letter cluster in the same way as the second letter cluster is related to the first letter cluster, and the fourth letter cluster is related to the third letter cluster
 KJU : PQF :: FRM : UIN :: NHY : ?

- Ans**
- 1. MSB
 - 2. MSC
 - 3. NSB
 - 4. NTB

Question ID : 630680833832
 Option 1 ID : 6306803266206
 Option 2 ID : 6306803266209
 Option 3 ID : 6306803266207
 Option 4 ID : 6306803266208

Q.7 'N × O' means 'N is the wife of O'
 'N + O' means 'N is the husband of O'
 'N ÷ O' means 'N is the mother of O'
 'N - O' means 'N is the daughter of O'
 How is Q related to T in the expression 'Q - R + S ÷ T'?

- Ans**
- 1. Mother
 - 2. Sister
 - 3. Wife
 - 4. Daughter

Question ID : 630680833747
 Option 1 ID : 6306803265869
 Option 2 ID : 6306803265866
 Option 3 ID : 6306803265868
 Option 4 ID : 6306803265867

Q.8 If the positions of the first and the third digits within each number are interchanged, which of the following will be the hundredth digit of the second-highest number thus formed?
 729, 614, 837, 492, 356

- Ans**
- 1. 7
 - 2. 5
 - 3. 8
 - 4. 9

Question ID : 630680833726
 Option 1 ID : 6306803265782
 Option 2 ID : 6306803265785
 Option 3 ID : 6306803265783
 Option 4 ID : 6306803265784

Q.9 Select the option that is related to the fifth number in the same way as the second number is related to the first number, and the fourth number is related to the third number:

221 : 17 :: 273 : 21 :: 351 : ?

- Ans**
- 1. 27
 - 2. 25
 - 3. 23
 - 4. 28

Question ID : 630680833850
 Option 1 ID : 6306803266279
 Option 2 ID : 6306803266280
 Option 3 ID : 6306803266278
 Option 4 ID : 6306803266281

Q.10 Find the missing element in the word pair which is related to the fifth word in the same way as the second word is related to the first word, and the fourth word is related to the third word.

TAME : TEMA :: SPOT : STOP :: PALE : ?

- Ans**
- 1. LAME
 - 2. PELA
 - 3. PAEL
 - 4. PELA

Question ID : 630680833713
 Option 1 ID : 6306803265731
 Option 2 ID : 6306803265730
 Option 3 ID : 6306803265733
 Option 4 ID : 6306803265732

Q.11 If Kunal's mother is the daughter of Ms. Riya's mother, then how is Ms. Riya related to Kunal?

- Ans**
- 1. Mother's mother
 - 2. Sister's daughter
 - 3. Mother's sister
 - 4. Wife's sister

Question ID : 630680833708
 Option 1 ID : 6306803265710
 Option 2 ID : 6306803265711
 Option 3 ID : 6306803265713
 Option 4 ID : 6306803265712

Q.12 Arrange the given words in the alphabetical order.

1. BUTTERFLY
2. BEE
3. BREEZE
4. BUSH
5. BEETLE

- Ans
- 1. 25314
 - 2. 25341
 - 3. 23451
 - 4. 25413

Question ID : 630680833704
Option 1 ID : 6306803265695
Option 2 ID : 6306803265694
Option 3 ID : 6306803265697
Option 4 ID : 6306803265696

Q.13 If lawyer is called doctor, doctor is called Artist, Artist is called teacher, teacher is called engineer, and engineer is called Journalist, who will diagnose illness?

- Ans
- 1. Teacher
 - 2. Lawyer
 - 3. Artist
 - 4. Doctor

Question ID : 630680833821
Option 1 ID : 6306803266162
Option 2 ID : 6306803266165
Option 3 ID : 6306803266163
Option 4 ID : 6306803266164

Q.14 Which number will replace the question mark (?) in the given series?

3, 12, 48, 192, 768, ?

- Ans
- 1. 3078
 - 2. 3070
 - 3. 3074
 - 4. 3072

Question ID : 630680833848
Option 1 ID : 6306803266273
Option 2 ID : 6306803266270
Option 3 ID : 6306803266272
Option 4 ID : 6306803266271

Q.15 How many symbols are there in the given letter-symbol series that are immediately preceded by a vowel and also immediately followed by a consonant?

O ! R A S E M P I & U ^ N T

- Ans**
- 1. 5
 - 2. 2
 - 3. 3
 - 4. 1

Question ID : 630680833785

Option 1 ID : 6306803266018

Option 2 ID : 6306803266021

Option 3 ID : 6306803266020

Option 4 ID : 6306803266019

Q.16 Select the option that is related to the fifth number in the same way as the second number is related to the first number, and the fourth number is related to the third number:

441 : 9261 :: 361 : 2261 :: 289 : ?

- Ans**
- 1. 4913
 - 2. 3957
 - 3. 4326
 - 4. 3535

Question ID : 630680833811

Option 1 ID : 6306803266122

Option 2 ID : 6306803266123

Option 3 ID : 6306803266124

Option 4 ID : 6306803266125

Q.17 Select the option that is related to the fifth word in the same way as the second word is related to the first word, and the fourth word is related to the third word.

Anthropology : Man :: Apiculture : Honeybee :: Astrologer : ?

- Ans**
- 1. Planet
 - 2. Poems
 - 3. Future
 - 4. Plant

Question ID : 630680833792

Option 1 ID : 6306803266047

Option 2 ID : 6306803266049

Option 3 ID : 6306803266048

Option 4 ID : 6306803266046

Q.18 Select the set of numbers that is similar to the following sets.

(1331, 121, 11)

(4096, 256, 16)

Ans 1. (1728, 144, 12)

2. (216, 38, 6)

3. (2197, 196, 13)

4. (4098, 256, 16)

Question ID : 630680833853

Option 1 ID : 6306803266291

Option 2 ID : 6306803266290

Option 3 ID : 6306803266292

Option 4 ID : 6306803266293

Q.19 In a certain code language, if RAIN is coded as 42, FIRE is coded as 38, then what will FISH be coded as?

Ans 1. 46

2. 42

3. 38

4. 52

Question ID : 630680833780

Option 1 ID : 6306803265999

Option 2 ID : 6306803266000

Option 3 ID : 6306803265998

Option 4 ID : 6306803266001

Q.20 Which of the following numbers will replace the question mark (?) in the given series?

20, 12, 2, -10, -24, ?

Ans 1. -56

2. -30

3. -40

4. -49

Question ID : 630680833729

Option 1 ID : 6306803265796

Option 2 ID : 6306803265794

Option 3 ID : 6306803265795

Option 4 ID : 6306803265797

Section : General intelligence and Reasoning Ability 2

Q.1 Find the wrong term in the following letter series based on English alphabetical order.

IS, JT, KR, LV, MW

- Ans**
- 1. KR
 - 2. JT
 - 3. MW
 - 4. IS

Question ID : 630680833720

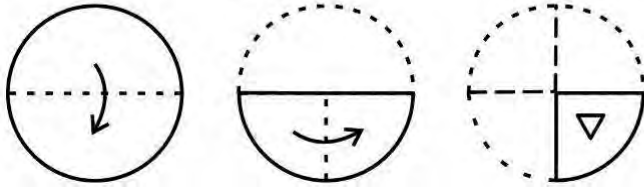
Option 1 ID : 6306803265758

Option 2 ID : 6306803265759

Option 3 ID : 6306803265761

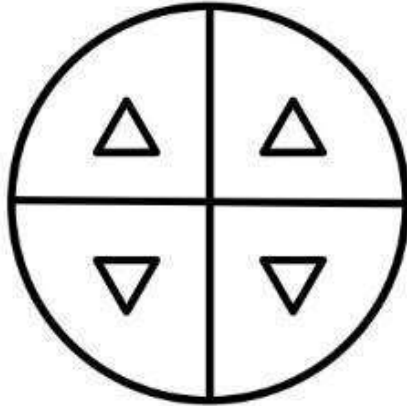
Option 4 ID : 6306803265760

Q.2 A round sheet of paper is folded along the dotted line successively along the directions shown and is then cut in the last as shown below. How will it appear when unfolded?

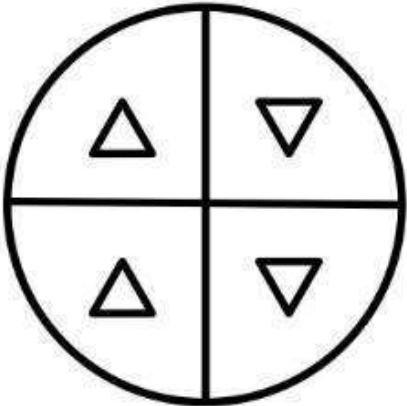


Ans

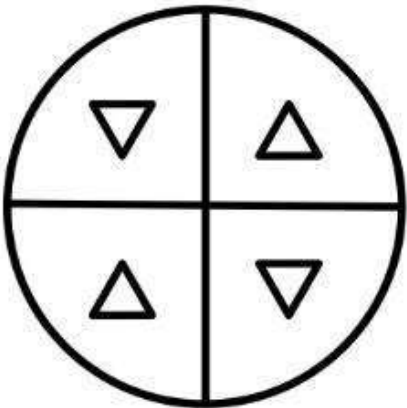
✓ 1.



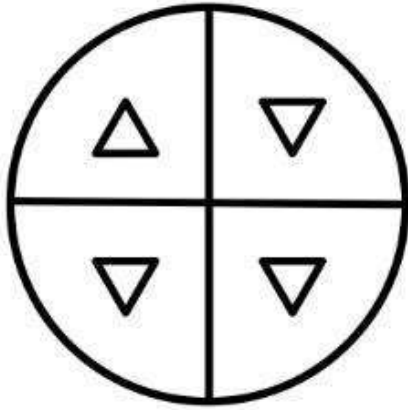
✗ 2.



✗ 3.



✗ 4.



Question ID : 630680833723
 Option 1 ID : 6306803265773
 Option 2 ID : 6306803265770
 Option 3 ID : 6306803265772
 Option 4 ID : 6306803265771

Q.3 In a hotel, there are five guests - X, Y, Z, W, and V staying on five different floors. The bottommost floor is numbered as 1, and the floor immediately above it is numbered as 2, and so on. X, Y, and Z do not have rooms on floor number 1. V stays on the topmost floor. Y stays on the floor number 3. X does not stay on floor number 2. On which floor number does W stay?

- Ans**
- ✗ 1. 4
 - ✗ 2. 3
 - ✗ 3. 2
 - ✓ 4. 1

Question ID : 630680833739
 Option 1 ID : 6306803265835
 Option 2 ID : 6306803265836
 Option 3 ID : 6306803265834
 Option 4 ID : 6306803265837

Q.4 Six people A, D, G, J, M, and P are sitting on a circular table facing towards the centre. J is to the immediate right of G. Only two persons sit between G and M. M is adjacent to both P and A. J sits third to the right of A. Who is sitting to the immediate right of A?

- Ans**
- ✓ 1. D
 - ✗ 2. P
 - ✗ 3. M
 - ✗ 4. G

Question ID : 630680833816
 Option 1 ID : 6306803266142
 Option 2 ID : 6306803266144
 Option 3 ID : 6306803266143
 Option 4 ID : 6306803266145

Q.5 Two statements are given, followed by two conclusions numbered I, and II. Assuming the statements to be true, even if they seem to be at variance with commonly known facts, decide which of the conclusions logically follow(s) from the statements.

Statements:

Some writers are poets.

All poets are dreamers.

Conclusions:

I. Some dreamers are writers.

II. All dreamers are poets.

- Ans**
- 1. Only conclusion II follows
 - 2. Both conclusions I and II follow
 - 3. Only conclusion I follows
 - 4. Neither conclusion I nor II follows

Question ID : 630680833749
 Option 1 ID : 6306803265875
 Option 2 ID : 6306803265876
 Option 3 ID : 6306803265874
 Option 4 ID : 6306803265877

Q.6 Six family members Ava, Liam, Emma, Benjamin, Zoe, and Oliver are seated at a circular table facing towards the centre. Liam is to the immediate left of Oliver, and Ava is second to the left of Liam. Zoe is second to the left of Benjamin. Who sits adjacent to both Oliver and Zoe?

- Ans**
- 1. Ava
 - 2. Emma
 - 3. Benjamin
 - 4. Liam

Question ID : 630680833776
 Option 1 ID : 6306803265983
 Option 2 ID : 6306803265982
 Option 3 ID : 6306803265985
 Option 4 ID : 6306803265984

Q.7 Four pairs of words are given out of which the words in three pairs have a certain common relationship. Choose the odd pair of words.

- Ans**
- 1. Airport: Pilot
 - 2. Fire Station: Firefighter
 - 3. Hospital: Nurse
 - 4. Bank: Builder

Question ID : 630680833839
 Option 1 ID : 6306803266236
 Option 2 ID : 6306803266235
 Option 3 ID : 6306803266234
 Option 4 ID : 6306803266237

Q.8 In a certain code language, if ORANGE is coded as 151811475, HAMMER is coded as 811313518, then what will COFFEE be coded as?

- Ans**
- 1. 3166555
 - 2. 3156655
 - 3. 3156556
 - 4. 3155665

Question ID : 630680833742
Option 1 ID : 6306803265849
Option 2 ID : 6306803265846
Option 3 ID : 6306803265848
Option 4 ID : 6306803265847

Q.9 There are 75 boxes kept one above the other. A particular box is selected and its rank from the top is found to be 33rd. Find its rank from the bottom.

- Ans**
- 1. 43rd
 - 2. 44th
 - 3. 47th
 - 4. 42nd

Question ID : 630680833817
Option 1 ID : 6306803266148
Option 2 ID : 6306803266147
Option 3 ID : 6306803266149
Option 4 ID : 6306803266146

Q.10 Which of the following number-letter clusters will replace the question mark (?) in the given series to make it logically complete?
D84, F65, H46, J27, ?

- Ans**
- 1. I8
 - 2. L8
 - 3. I9
 - 4. L9

Question ID : 630680833842
Option 1 ID : 6306803266247
Option 2 ID : 6306803266246
Option 3 ID : 6306803266248
Option 4 ID : 6306803266249

Q.11 Six people Alice, Bob, Carol, David, Emily, and Frank are sitting on a circular table facing towards the centre. David sits adjacent to both Alice and Emily. Carol sits to the immediate right of Bob. Alice and Bob are not immediate neighbors. Frank and Alice are not immediate neighbors. Who sits to the immediate left of Bob?

- Ans**
- 1. David
 - 2. Frank
 - 3. Alice
 - 4. Emily

Question ID : 630680833774
Option 1 ID : 6306803265974
Option 2 ID : 6306803265975
Option 3 ID : 6306803265976
Option 4 ID : 6306803265977

Q.12 In a class, Advait ranks 16th from the top. Anvi ranks 27th from the bottom. There are 42 students whose ranks are in between Advait's and Anvi's. Find the total number of students in the class.

- Ans**
- 1. 82
 - 2. 85
 - 3. 83
 - 4. 84

Question ID : 630680833738
Option 1 ID : 6306803265832
Option 2 ID : 6306803265831
Option 3 ID : 6306803265833
Option 4 ID : 6306803265830

Q.13 Two statements are given, followed by two conclusions numbered I, and II. Assuming the statements to be true, even if they seem to be at variance with commonly known facts, decide which of the conclusions logically follow(s) from the statements.

Statements:

All paintings are artworks.

Some artworks are not sculptures.

Conclusions:

I. Some sculptures are not paintings.

II. All sculptures are artworks.

- Ans**
- 1. Only conclusion I follows
 - 2. Only conclusion II follows
 - 3. Both conclusions I and II follow
 - 4. Neither conclusion I nor II follows

Question ID : 630680833751
Option 1 ID : 6306803265882
Option 2 ID : 6306803265883
Option 3 ID : 6306803265884
Option 4 ID : 6306803265885

Q.14 Four word pairs have been given, out of which three are alike in some manner and one is different. Select the odd word.

- Ans**
- 1. Tense : Relaxed
 - 2. Clear : Hazy
 - 3. Simple : Complex
 - 4. Top : Apex

Question ID : 630680833797
Option 1 ID : 6306803266068
Option 2 ID : 6306803266066
Option 3 ID : 6306803266067
Option 4 ID : 6306803266069

Q.15 Based on the alphabetical order, three of the following four are alike in a certain way and thus form a group. Which is the one that does not belong to that group?

(Note: The odd man out is not based on the number of consonants/vowels or their position in the letter cluster)

- Ans**
- 1. HIG
 - 2. VWU
 - 3. YZX
 - 4. FGH

Question ID : 630680833798
Option 1 ID : 6306803266070
Option 2 ID : 6306803266072
Option 3 ID : 6306803266073
Option 4 ID : 6306803266071

Q.16 In this question, two statements have been given followed by two conclusions numbered I and II. Assuming that all information in the statements are true, analyze the two conclusions together and determine whether any of them logically and definitely follow(s) from the information given in the statements.

Statement I: Some bottles are bags.

Statement II: All the boxes are bags.

Conclusion I: Some bottles are boxes.

Conclusion II: Some boxes are bags.

- Ans**
- 1. Only conclusion II follows
 - 2. Neither conclusion I nor II follows
 - 3. Only conclusion I follows
 - 4. Both conclusions I and II follow

Question ID : 630680833829
Option 1 ID : 6306803266195
Option 2 ID : 6306803266197
Option 3 ID : 6306803266194
Option 4 ID : 6306803266196

Q.17 Four word pairs have been given, out of which three are alike in some manner and one is different. Select the odd word pair.

- Ans**
- 1. Baseball : Ball
 - 2. Football : Racket
 - 3. Hockey : Stick
 - 4. Cricket : Bat

Question ID : 630680833757

Option 1 ID : 6306803265909



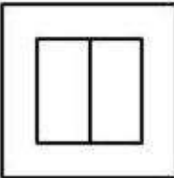
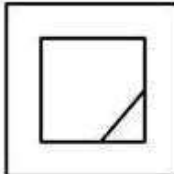
Option 2 ID : 6306803265906

Option 3 ID : 6306803265907

Option 4 ID : 6306803265908

Q.18 Three of the following four figures are alike in a certain way and thus form a group. Which is the one that does not belong to that group?

Ans

- 1. 
- 2. 
- 3. 
- 4. 

Question ID : 630680833804

Option 1 ID : 6306803266096

Option 2 ID : 6306803266095

Option 3 ID : 6306803266094

Option 4 ID : 6306803266097

Q.19 Select the word-pair in which the two words are related in the same way as the two words of the given word-pair:
Cryptic: Mysterious

- Ans**
- 1. Obsolete: Modern
 - 2. Thick: Thin
 - 3. Harsh : Gentle
 - 4. Fragile: Delicate

Question ID : 630680833835
Option 1 ID : 6306803266219
Option 2 ID : 6306803266221
Option 3 ID : 6306803266220
Option 4 ID : 6306803266218

Q.20 Which of the following letter-number cluster will replace the question mark (?) in the given series to make it logically complete?

13U28, 7, 15S32, 16R34, 17Q36

- Ans**
- 1. 14S32
 - 2. 10T30
 - 3. 14T30
 - 4. 12T30

Question ID : 630680833802
Option 1 ID : 6306803266087
Option 2 ID : 6306803266086
Option 3 ID : 6306803266089
Option 4 ID : 6306803266088

Section : General Awareness 1

Q.1 Digital Health Summit 2023 was organized by Confederates of Indian Industry (CII) and co-branded with Ministry of Health & Family Welfare, at _____.

- Ans**
- 1. Goa
 - 2. New Delhi
 - 3. Bengaluru
 - 4. Chennai

Question ID : 630680831545
Option 1 ID : 6306803257227
Option 2 ID : 6306803257225
Option 3 ID : 6306803257226
Option 4 ID : 6306803257228

Q.2 Read the following about the launch of the first Women Police Station.

A. Ladakh, the Union Territory, has marked a momentous occasion with the establishment of its first-ever women police station.

B. This significant step is aimed at empowering women and ensuring their safety.

Identify the CORRECT statement/statements. (July 2023)

- Ans**
- 1. Both A and B
 - 2. Only A
 - 3. Only B
 - 4. Neither A nor B

Question ID : 630680831461
Option 1 ID : 6306803256891
Option 2 ID : 6306803256889
Option 3 ID : 6306803256890
Option 4 ID : 6306803256892

Q.3 Which Indian institute is partnering with Reliance Jio for the introduction of the 'Bharat GPT' program in December 2023?

- Ans**
- 1. Indian Institute of Science, Bengaluru
 - 2. Indian Institute of Astrophysics, Bengaluru
 - 3. Indian Institute of Technology-Bombay
 - 4. National Institute of Technology, Tiruchirappalli

Question ID : 630680831346
Option 1 ID : 6306803256430
Option 2 ID : 6306803256429
Option 3 ID : 6306803256431
Option 4 ID : 6306803256432

Q.4 Females have _____ copies of X chromosome.

- Ans**
- 1. Five
 - 2. Four
 - 3. Three
 - 4. Two

Question ID : 630680831492
Option 1 ID : 6306803257013
Option 2 ID : 6306803257014
Option 3 ID : 6306803257015
Option 4 ID : 6306803257016

Q.5 _____ reproduction of the algae is by fragmentation.

- Ans
- 1. Sexual
 - 2. Vegetative
 - 3. Solaris
 - 4. Asexual

Question ID : 630680831571
Option 1 ID : 6306803257331
Option 2 ID : 6306803257330
Option 3 ID : 6306803257332
Option 4 ID : 6306803257329

Q.6 Which of the following is a 4th degree of honour award in India?

- Ans
- 1. Padma Vibhushan
 - 2. Bharat Ratna
 - 3. Padma Bhushan
 - 4. Padma Shri

Question ID : 630680831435
Option 1 ID : 6306803256786
Option 2 ID : 6306803256785
Option 3 ID : 6306803256787
Option 4 ID : 6306803256788

Q.7 Which among the following is the gel-like fluid inside the cell and is the medium for chemical reaction?

- Ans
- 1. Nucleus
 - 2. Cytoplasm
 - 3. Nucleolus
 - 4. Cell membrane

Question ID : 630680831413
Option 1 ID : 6306803256698
Option 2 ID : 6306803256699
Option 3 ID : 6306803256700
Option 4 ID : 6306803256697

Q.8 Which of the following is the official language of Uttarakhand?

- Ans
- 1. Assamese
 - 2. Bengali
 - 3. Hindi
 - 4. Telegu

Question ID : 630680831477
Option 1 ID : 6306803256956
Option 2 ID : 6306803256953
Option 3 ID : 6306803256955
Option 4 ID : 6306803256954

Q.9 In which year was Tamil declared as one of the Classical Languages of India?

- Ans
- 1. 2005
 - 2. 2004
 - 3. 2006
 - 4. 2007

Question ID : 630680831516
Option 1 ID : 6306803257110
Option 2 ID : 6306803257109
Option 3 ID : 6306803257111
Option 4 ID : 6306803257112

Q.10 Read the following about the importance of Vitamin C.

A. Vitamin C is an essential micronutrient and an antioxidant.

B. It gives protection against infections.

Identify the INCORRECT statement/statements.

- Ans
- 1. Both A and B
 - 2. Neither A nor B
 - 3. Only A
 - 4. Only B

Question ID : 630680831494
Option 1 ID : 6306803257023
Option 2 ID : 6306803257024
Option 3 ID : 6306803257021
Option 4 ID : 6306803257022

Q.11 A group of researchers found a new wasp species in the state of _____, (January 2023)

- Ans**
- 1. Meghalaya
 - 2. Maharashtra
 - 3. Karnataka
 - 4. Assam

Question ID : 630680831419
Option 1 ID : 6306803256724
Option 2 ID : 6306803256722
Option 3 ID : 6306803256721
Option 4 ID : 6306803256723

Q.12 In March 2023, World bank announced to provide 2 complimentary loans of 500 million USD each to support India's which health mission?

- Ans**
- 1. Pradhan Mantri-Ayushman Bharat Health Infrastructure Mission.
 - 2. Aam Aadmi Bima Mission
 - 3. National Rural Health Mission
 - 4. West Bengal Health Scheme

Question ID : 630680831305
Option 1 ID : 6306803256265
Option 2 ID : 6306803256266
Option 3 ID : 6306803256267
Option 4 ID : 6306803256268

Q.13 Pradhan Mantri Garib Kalyan Ann Yojana (PMGKAY) is an integrated food security scheme launched by the Central Government of India in January _____, (January 2023)

- Ans**
- 1. 2003
 - 2. 1993
 - 3. 2023
 - 4. 2013

Question ID : 630680831502
Option 1 ID : 6306803257054
Option 2 ID : 6306803257053
Option 3 ID : 6306803257056
Option 4 ID : 6306803257055

Q.14 _____ is NOT a renewable natural resource.

- Ans
- 1. Water
 - 2. Wind
 - 3. Forest
 - 4. Minerals

Question ID : 630680831496
Option 1 ID : 6306803257031
Option 2 ID : 6306803257030
Option 3 ID : 6306803257029
Option 4 ID : 6306803257032

Q.15 Which among the following is a famous festival of Bihar, India?

- Ans
- 1. Chhath Puja
 - 2. Gudi Padva
 - 3. Onam
 - 4. Ugadi

Question ID : 630680831399
Option 1 ID : 6306803256642
Option 2 ID : 6306803256643
Option 3 ID : 6306803256644
Option 4 ID : 6306803256641

Q.16 India's remarkable rise to _____ place in the Climate Change Performance Index (CCPI) is fuelled by its outstanding performance in renewable energy and low greenhouse gas emissions. (December 2023)

- Ans
- 1. 5th
 - 2. 6th
 - 3. 8th
 - 4. 7th

Question ID : 630680831420
Option 1 ID : 6306803256725
Option 2 ID : 6306803256726
Option 3 ID : 6306803256728
Option 4 ID : 6306803256727

Q.17 During which festival do people fly kites to celebrate the arrival of spring and mark the end of the winter season in Northern India?

- Ans**
- 1. Bihu
 - 2. Onam
 - 3. Ugadi
 - 4. Makar Sankranti

Question ID : 630680831358
Option 1 ID : 6306803256478
Option 2 ID : 6306803256479
Option 3 ID : 6306803256480
Option 4 ID : 6306803256477

Q.18 Read the following about the responsibilities of Public Health.

- A. Tracking disease outbreaks and vaccinating communities to avoid the spread of disease.
 - B. Advocating for laws to keep people safe, including smoke-free indoor air and seatbelts.
- Identify the CORRECT statement/statements.

- Ans**
- 1. Neither A nor B
 - 2. Only B
 - 3. Both A and B
 - 4. Only A

Question ID : 630680831455
Option 1 ID : 6306803256868
Option 2 ID : 6306803256866
Option 3 ID : 6306803256867
Option 4 ID : 6306803256865

Q.19 The Ministry of Minority Affairs (MoMA) during the year 2023, has conceptualized the Pradhan Mantri Virasat Ka Samvardhan (PM VIKAS) Scheme, that subsumed/converged _____ existing schemes of the Ministry.

- Ans**
- 1. 9
 - 2. 5
 - 3. 7
 - 4. 15

Question ID : 630680831543
Option 1 ID : 6306803257219
Option 2 ID : 6306803257217
Option 3 ID : 6306803257218
Option 4 ID : 6306803257220

Q.20 Who's autobiography is "Playing It My Way," providing insights into his illustrious cricketing career and personal life?

- Ans**
- 1. Rahul Dravid
 - 2. Sachin Tendulkar
 - 3. Virender Sehwag
 - 4. Virat Kohli

Question ID : 630680831354
Option 1 ID : 6306803256463
Option 2 ID : 6306803256461
Option 3 ID : 6306803256464
Option 4 ID : 6306803256462

Section : General Awareness 2

Q.1 Out of the given states, which of the following has the least population of slums as per the Census of 2011?

- Ans**
- 1. Orissa
 - 2. Haryana
 - 3. Gujarat
 - 4. Punjab

Question ID : 630680831525
Option 1 ID : 6306803257145
Option 2 ID : 6306803257147
Option 3 ID : 6306803257146
Option 4 ID : 6306803257148

Q.2 Which physical region is primarily responsible for the rain shadow effect in India?

- Ans**
- 1. Bay of Bengal
 - 2. Indian Ocean
 - 3. Western Ghats
 - 4. Eastern Ghats

Question ID : 630680831363
Option 1 ID : 6306803256497
Option 2 ID : 6306803256498
Option 3 ID : 6306803256499
Option 4 ID : 6306803256500

Q.3 In Indian political system, the _____ is the constitutional head of the executive of the Union of India.

- Ans**
- 1. Council of Ministers
 - 2. Vice President
 - 3. President
 - 4. Prime Minister

Question ID : 630680831450
Option 1 ID : 6306803256845
Option 2 ID : 6306803256848
Option 3 ID : 6306803256847
Option 4 ID : 6306803256846

Q.4 The first phase, called the House Listing and Housing Census was conducted between April and September, _____ across the country.

- Ans**
- 1. 2013
 - 2. 1995
 - 3. 1984
 - 4. 2010

Question ID : 630680831564
Option 1 ID : 6306803257304
Option 2 ID : 6306803257302
Option 3 ID : 6306803257301
Option 4 ID : 6306803257303

Q.5 Which of the following athletes secured a silver medal in the decathlon event at the Asian Games 2023?

- Ans**
- 1. Virat Kohli
 - 2. Jora Singh
 - 3. Tejaswin Shankar
 - 4. Neeraj Chopra

Question ID : 630680831378
Option 1 ID : 6306803256558
Option 2 ID : 6306803256560
Option 3 ID : 6306803256559
Option 4 ID : 6306803256557

Q.6 From which of the following Constitutions has the political part of the Indian Constitution been drawn?

- Ans**
- 1. British
 - 2. Irish
 - 3. French
 - 4. American

Question ID : 630680831486
Option 1 ID : 6306803256992
Option 2 ID : 6306803256990
Option 3 ID : 6306803256991
Option 4 ID : 6306803256989

Q.7 Who was the revolutionary figure recognized for participating in the Kakori Conspiracy, the Mainpuri Conspiracy, and his affiliation with the Hindustan Socialist Republican Association (HSRA) in British India?

- Ans**
- 1. Mahatma Gandhi
 - 2. Bhagat Singh
 - 3. Ashfaqullah Khan
 - 4. Sardar Vallabhbhai Bhai Patel

Question ID : 630680831391
Option 1 ID : 6306803256611
Option 2 ID : 6306803256609
Option 3 ID : 6306803256610
Option 4 ID : 6306803256612

Q.8 Which economic indicator is considered to be one of the most accurate leading indicators, surveying consumers about their attitudes toward the economy and perceptions of economic activity?

- Ans**
- 1. Durable Goods Orders
 - 2. Yield Curve
 - 3. Consumer Confidence Index
 - 4. Company Performance

Question ID : 630680831349
Option 1 ID : 6306803256441
Option 2 ID : 6306803256442
Option 3 ID : 6306803256444
Option 4 ID : 6306803256443

Q.9 Indian freedom fighter Bhagat Singh was executed for his involvement in which anti-colonial incident against British rule?

- Ans**
- 1. The Chauri Chaura incident
 - 2. The Jallianwala Bagh massacre
 - 3. The Kakori Conspiracy
 - 4. The Lahore Conspiracy

Question ID : 630680831390
Option 1 ID : 6306803256608
Option 2 ID : 6306803256607
Option 3 ID : 6306803256606
Option 4 ID : 6306803256605

Q.10 Which of the following articles of the Indian Constitution cannot be suspended?

- Ans
- 1. 18 and 19
 - 2. 23 and 24
 - 3. 20 and 21
 - 4. 22 and 23

Question ID : 630680831447
Option 1 ID : 6306803256833
Option 2 ID : 6306803256836
Option 3 ID : 6306803256834
Option 4 ID : 6306803256835

Q.11 Who established the Mughal Empire in India?

- Ans
- 1. Aurangzeb
 - 2. Babur
 - 3. Akbar
 - 4. Shah Jahan

Question ID : 630680831513
Option 1 ID : 6306803257099
Option 2 ID : 6306803257100
Option 3 ID : 6306803257097
Option 4 ID : 6306803257098

Q.12 Which of the following regions in India is known for its unique biodiversity hotspot, housing a variety of flora and fauna, including the endangered Great Indian Rhinoceros?

- Ans
- 1. Eastern Himalayas
 - 2. Western Coastal Plains
 - 3. Thar Desert
 - 4. Sundarbans

Question ID : 630680831362
Option 1 ID : 6306803256496
Option 2 ID : 6306803256494
Option 3 ID : 6306803256495
Option 4 ID : 6306803256493

Q.13 Under which article of the Indian Constitution is the requirement of presenting the Annual Financial Statement, commonly referred to as the Budget Statement, specified?

- Ans**
- 1. Article 10
 - 2. Article 370
 - 3. Article 377
 - 4. Article 112

Question ID : 630680831308
Option 1 ID : 6306803256277
Option 2 ID : 6306803256279
Option 3 ID : 6306803256280
Option 4 ID : 6306803256278

Q.14 Which river originates from the Amarkantak Plateau in Madhya Pradesh and flows through the states of Madhya Pradesh, Maharashtra, and Gujarat before draining into the Arabian Sea?

- Ans**
- 1. Ganges
 - 2. Yamuna
 - 3. Narmada
 - 4. Godavari

Question ID : 630680831401
Option 1 ID : 6306803256651
Option 2 ID : 6306803256652
Option 3 ID : 6306803256649
Option 4 ID : 6306803256650

Q.15 The confluence of the Alaknanda and Bhagirathi rivers forms which major river in India?

- Ans**
- 1. Krishna
 - 2. Ganges
 - 3. Godavari
 - 4. Yamuna

Question ID : 630680831361
Option 1 ID : 6306803256492
Option 2 ID : 6306803256489
Option 3 ID : 6306803256491
Option 4 ID : 6306803256490

Q.16 Which ruler of the Delhi Sultanate is credited with the construction of the Tughlaqabad Fort in Delhi?

- Ans
- 1. Muhammad bin Tughlaq
 - 2. Alauddin Khilji
 - 3. Ghiyasuddin Tughluq
 - 4. Balban

Question ID : 630680831312
Option 1 ID : 6306803256295
Option 2 ID : 6306803256296
Option 3 ID : 6306803256294
Option 4 ID : 6306803256293

Q.17 Who among the following chairs the State Planning Board in India?

- Ans
- 1. Home Minister
 - 2. President
 - 3. Governor
 - 4. Chief Minister

Question ID : 630680831329
Option 1 ID : 6306803256363
Option 2 ID : 6306803256364
Option 3 ID : 6306803256361
Option 4 ID : 6306803256362

Q.18 Which of the following is NOT a commercial bank?

- Ans
- 1. Reserve Bank of India
 - 2. State Bank of India
 - 3. Punjab National Bank
 - 4. Bank of Maharashtra

Question ID : 630680831427
Option 1 ID : 6306803256753
Option 2 ID : 6306803256754
Option 3 ID : 6306803256755
Option 4 ID : 6306803256756

Q.19 Who among the following was awarded the Major Dhyan Chand Khel Ratna award in 2023 for their outstanding performance in Sports?

- Ans**
- 1. PV Sindhu
 - 2. Chirag Shetty
 - 3. Neeraj Chopra
 - 4. Virat Kohli

Question ID : 630680831297
Option 1 ID : 6306803256233
Option 2 ID : 6306803256235
Option 3 ID : 6306803256234
Option 4 ID : 6306803256236

Q.20 Which constitutional body is responsible for making recommendations on the distribution of net proceeds of taxes between the Union and the States of India?

- Ans**
- 1. Planning Commission
 - 2. Union Public Service Commission
 - 3. National Commission for Scheduled Castes
 - 4. Finance Commission

Question ID : 630680831328
Option 1 ID : 6306803256359
Option 2 ID : 6306803256358
Option 3 ID : 6306803256360
Option 4 ID : 6306803256357

Section : **Arithmetical and Numerical Ability 1**

Q.1 What will be the greatest four digit number which can be completely divided by 12, 16, 18 and 20?

- Ans**
- 1. 9800
 - 2. 9540
 - 3. 9660
 - 4. 9360

Question ID : 630680835803
Option 1 ID : 6306803273984
Option 2 ID : 6306803273985
Option 3 ID : 6306803273983
Option 4 ID : 6306803273982

Q.2 Find the rate of interest if the difference between C.I and S.I on ₹ 44,000, compounded annually, for 2 years is ₹ 110.

- Ans**
- 1. 10%
 - 2. 3%
 - 3. 5%
 - 4. 4%

Question ID : 630680835593
Option 1 ID : 6306803273145
Option 2 ID : 6306803273143
Option 3 ID : 6306803273144
Option 4 ID : 6306803273142

Q.3 The product of two co-prime numbers is 899. What will be the LCM of the two numbers?

- Ans**
- 1. 899
 - 2. 564
 - 3. 0
 - 4. 1

Question ID : 630680835720
Option 1 ID : 6306803273651
Option 2 ID : 6306803273653
Option 3 ID : 6306803273652
Option 4 ID : 6306803273650

Q.4 Neeraj bought a tractor in 2019 for Rs. 4,50,000. If the value of the tractor depreciates by 20% each year, then find its worth in the year 2022.

- Ans**
- 1. Rs.224866
 - 2. Rs.230400
 - 3. Rs.254268
 - 4. Rs.245782

Question ID : 630680835754
Option 1 ID : 6306803273786
Option 2 ID : 6306803273787
Option 3 ID : 6306803273789
Option 4 ID : 6306803273788

- Q.5** The bar graph below shows the number of paracetamol tablets sold by four different medical shops A, B, C, and D. What is the ratio of paracetamol tablets sold by store A to the paracetamol tablets sold by store C?



- Ans**
- 1. 3 : 5
 - 2. 5 : 3
 - 3. 3 : 2
 - 4. 4 : 3

Question ID : 630680835597
 Option 1 ID : 6306803273160
 Option 2 ID : 6306803273161
 Option 3 ID : 6306803273158
 Option 4 ID : 6306803273159

- Q.6** Suraj allows a discount of 15% on a book whose marked price is ₹100. What is the cost price so that the profit is 25%?

- Ans**
- 1. Rs. 68
 - 2. Rs. 67
 - 3. Rs. 70
 - 4. Rs. 69

Question ID : 630680835695
 Option 1 ID : 6306803273551
 Option 2 ID : 6306803273550
 Option 3 ID : 6306803273553
 Option 4 ID : 6306803273552

- Q.7** The following bar graph shows the sales of two companies J and K in the last five years. Consider A_1 to be the average sales of the company J in all the five years. Consider A_2 to be the difference between the total sales of companies J and K in all the five years. What will be the approximate value of $\frac{A_2}{A_1}$?



- Ans**
- 1. 0.5
 - 2. 0.8
 - 3. 0.6
 - 4. 0.7

Question ID : 630680835678
 Option 1 ID : 6306803273482
 Option 2 ID : 6306803273485
 Option 3 ID : 6306803273483
 Option 4 ID : 6306803273484

- Q.8** Simran visited two shops. Shop A was offering a flat 30% discount on an item. Shop B was offering two successive discounts of 20% and 10% on the same item. Which shop should Simran buy the item from?

- Ans**
- 1. Data insufficient
 - 2. Shop B
 - 3. Shop A
 - 4. Both are the same.

Question ID : 630680835696
 Option 1 ID : 6306803273557
 Option 2 ID : 6306803273555
 Option 3 ID : 6306803273554
 Option 4 ID : 6306803273556

Q.9 The sum of cubes of n natural number is 23409. Find the value of n.

- Ans
- 1. 19
 - 2. 15
 - 3. 16
 - 4. 17

Question ID : 630680835600
Option 1 ID : 6306803273173
Option 2 ID : 6306803273170
Option 3 ID : 6306803273171
Option 4 ID : 6306803273172

Q.10 Find the approximate value of $\sqrt[3]{0.000512}$

- Ans
- 1. 0.28
 - 2. 0.66
 - 3. 0.32
 - 4. 0.15

Question ID : 630680835605
Option 1 ID : 6306803273190
Option 2 ID : 6306803273193
Option 3 ID : 6306803273191
Option 4 ID : 6306803273192

Q.11 Nixon has three pieces of wood of length 216 m, 180 m, and 168 m. If he wants to cut all the wood into equal planks, what is the greatest possible length of each plank?

- Ans
- 1. 12 m
 - 2. 14 m
 - 3. 18 m
 - 4. 8 m

Question ID : 630680835683
Option 1 ID : 6306803273503
Option 2 ID : 6306803273504
Option 3 ID : 6306803273505
Option 4 ID : 6306803273502

Q.12 Which of the following numbers is divisible by 15?

- Ans
- 1. 4570
 - 2. 4205
 - 3. 5315
 - 4. 3810

Join Telegram Group "HaryanaJobs.in"

Question ID : 630680835679
Option 1 ID : 6306803273489
Option 2 ID : 6306803273488
Option 3 ID : 6306803273487
Option 4 ID : 6306803273486

Q.13 $(5.8)^3 - (4.8)^3$ is equal to :

- Ans
- 1. 68.62
 - 2. 84.52
 - 3. 54.85
 - 4. 92.54

Question ID : 630680835765
Option 1 ID : 6306803273831
Option 2 ID : 6306803273832
Option 3 ID : 6306803273830
Option 4 ID : 6306803273833

Q.14 The average of 15 numbers is 32.2. If 10 numbers of average x are added to them, then the average of all the numbers increases by one. Find the value of x.

- Ans
- 1. 33.2
 - 2. 34.7
 - 3. 39.6
 - 4. 31.5

Question ID : 630680835588
Option 1 ID : 6306803273124
Option 2 ID : 6306803273123
Option 3 ID : 6306803273125
Option 4 ID : 6306803273122

Q.15 Find the average of the squares of numbers between 2 and 8.

- Ans
- 1. 26
 - 2. 24
 - 3. 27
 - 4. 29

Question ID : 630680835547
Option 1 ID : 6306803272958
Option 2 ID : 6306803272959
Option 3 ID : 6306803272960
Option 4 ID : 6306803272961

Q.16 In a mixture of 66 litres, the ratio (by volume) of milk and water is 2: 1. If X litres of water is added to the mixture, the ratio of milk and water becomes 11: 10. What is the value of X?

- Ans
- 1. 14
 - 2. 18
 - 3. 10
 - 4. 20

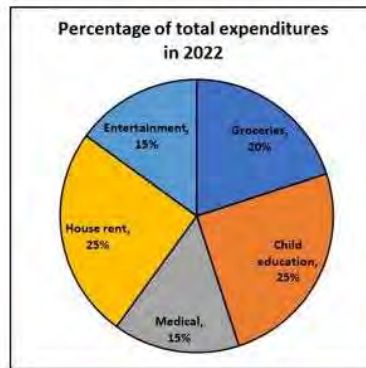
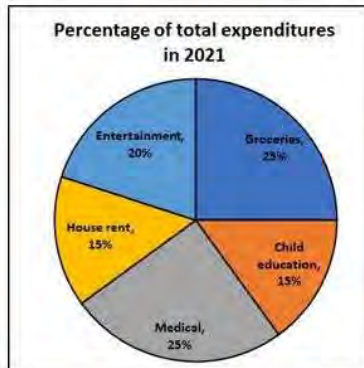
Question ID : 630680835549
Option 1 ID : 6306803272966
Option 2 ID : 6306803272969
Option 3 ID : 6306803272967
Option 4 ID : 6306803272968

Q.17 What will be the compound interest on a sum of ₹ 2200 for 2 years at the rate of 20% per annum when the interest is compounded yearly?

- Ans
- 1. ₹ 986
 - 2. ₹ 968
 - 3. ₹ 988
 - 4. ₹ 966

Question ID : 630680835552
Option 1 ID : 6306803272980
Option 2 ID : 6306803272978
Option 3 ID : 6306803272979
Option 4 ID : 6306803272981

- Q.18** The pie charts given below show percentage of expenditures of a family under different heads in the years 2021 and 2022. Under which of these heads did the percentage of expenditures increase from 2021 to 2022?



- Ans
- 1. Child education and medical
 - 2. Child education and house rent
 - 3. House rent and groceries
 - 4. Medical and entertainment

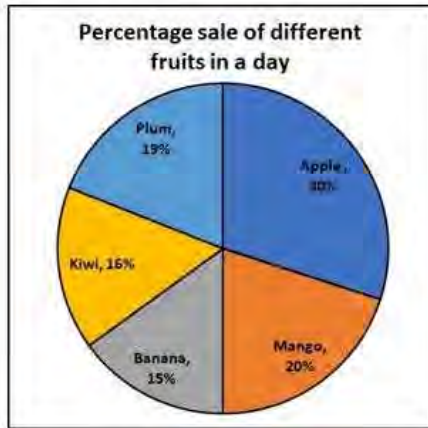
Question ID : 630680835755
 Option 1 ID : 6306803273793
 Option 2 ID : 6306803273790
 Option 3 ID : 6306803273791
 Option 4 ID : 6306803273792

- Q.19** Find the value of $9.8 \div 1.4 + \left(\frac{1}{9}\right) \times 5.4$.

- Ans
- 1. 3.6
 - 2. 6.4
 - 3. 7.6
 - 4. 5.4

Question ID : 630680835642
 Option 1 ID : 6306803273340
 Option 2 ID : 6306803273339
 Option 3 ID : 6306803273338
 Option 4 ID : 6306803273341

- Q.20** The pie chart given below shows the sale of different fruits in a day by Akbar. Find the difference between sales of mangoes and kiwis if a total of 1550 kg of fruits were sold in a day.



- Ans**
- 1. 58 kg
 - 2. 62 kg
 - 3. 68 kg
 - 4. 65 kg

Question ID : 630680835676
 Option 1 ID : 6306803273474
 Option 2 ID : 6306803273475
 Option 3 ID : 6306803273477
 Option 4 ID : 6306803273476

Section : Arithmetical and Numerical Ability 2

- Q.1** If the selling price of an item becomes six times of what it actually is, the nominal profit becomes seven times of what it actually is. Find the actual profit percentage.

- Ans**
- 1. 300%
 - 2. 500%
 - 3. 100%
 - 4. 250%

Question ID : 630680835774
 Option 1 ID : 6306803273868
 Option 2 ID : 6306803273869
 Option 3 ID : 6306803273866
 Option 4 ID : 6306803273867

Q.2 In an election between two candidates, Dipam got 7200 of the total valid votes. If the number of valid votes received by Rakesh is 25%, find the total number of valid votes polled.

- Ans**
- 1. 12500
 - 2. 28800
 - 3. 9600
 - 4. 18600

Question ID : 630680835767
Option 1 ID : 6306803273839
Option 2 ID : 6306803273841
Option 3 ID : 6306803273838
Option 4 ID : 6306803273840

Q.3 A tank is filled in 3 hours by three pipes A, B and C. The pipe C is thrice as fast as B and B is four times as fast as A. How much time will pipe A alone take to fill the tank?

- Ans**
- 1. 53 hours
 - 2. 51 hours
 - 3. 52 hours
 - 4. 50 hours

Question ID : 630680835702
Option 1 ID : 6306803273581
Option 2 ID : 6306803273579
Option 3 ID : 6306803273580
Option 4 ID : 6306803273578

Q.4 5 men or 10 women earn ₹ 16,500 in a day. How much will 15 women and 5 men earn in one day?

- Ans**
- 1. ₹ 40,500
 - 2. ₹ 35,550
 - 3. ₹ 42,600
 - 4. ₹ 41,250

Question ID : 630680835621
Option 1 ID : 6306803273255
Option 2 ID : 6306803273256
Option 3 ID : 6306803273254
Option 4 ID : 6306803273257

Q.5 By travelling in a car, Yuvraj can cover a certain distance in 80 minutes at a speed of 96 km/hr. At what approximate speed should Yuvraj travel if he has to cover the same distance in 45 minutes?

- Ans**
- 1. 195.8 km/hr
 - 2. 185.4 km/hr
 - 3. 170.7 km/hr
 - 4. 200 km/hr

Question ID : 630680835825
Option 1 ID : 6306803274072
Option 2 ID : 6306803274071
Option 3 ID : 6306803274070
Option 4 ID : 6306803274073

Q.6 In a circular race of 1600 m, Farukh and Simba start from the same point and at the same time with speeds of 9 m/s and 5 m/s respectively. Find after how much time they will meet again for the first time on the track if they are running in the same direction.

- Ans**
- 1. 200 sec
 - 2. 300 sec
 - 3. 400 sec
 - 4. 500 sec

Question ID : 630680835704
Option 1 ID : 6306803273586
Option 2 ID : 6306803273587
Option 3 ID : 6306803273588
Option 4 ID : 6306803273589

Q.7 Suppose two successive increases of 30% each is equivalent to a single increase of y%, and two successive decreases of 30% each is equivalent to a single decrease of z%. Approximately by what percent is y more than z?

- Ans**
- 1. 38%
 - 2. 41%
 - 3. 30%
 - 4. 35%

Question ID : 630680835691
Option 1 ID : 6306803273536
Option 2 ID : 6306803273537
Option 3 ID : 6306803273534
Option 4 ID : 6306803273535

Q.8 The first, second, and third numbers of a proportion are 77, 63, and 121. What is the 4th number?

Ans 1. 99

2. 55

3. 66

4. 77

Question ID : 630680835618

Option 1 ID : 6306803273242

Option 2 ID : 6306803273244

Option 3 ID : 6306803273243

Option 4 ID : 6306803273245

Q.9 Laxman and Bipin start running on a circular track having a length of 660 meters from the same point simultaneously and in the same direction with speeds of 6 m/s and 12 m/s respectively. After how much time from the start will they meet again at the starting point?

Ans 1. 55 sec

2. 95 sec

3. 110 sec

4. 78 sec

Question ID : 630680835824

Option 1 ID : 6306803274066

Option 2 ID : 6306803274068

Option 3 ID : 6306803274069

Option 4 ID : 6306803274067

Q.10 If the price of wheat increases by 18%, then by approximately what percentage should Mona reduce the consumption of wheat so that expenses on wheat remains unchanged?

Ans 1. 15.25%

2. 18.4%

3. 14.75%

4. 16.8%

Question ID : 630680835810

Option 1 ID : 6306803274011

Option 2 ID : 6306803274012

Option 3 ID : 6306803274010

Option 4 ID : 6306803274013

Q.11 Pankaj bought a pair of shoes and sold them for Rs. 5852. If he thus incurred a loss of 24%, find the cost price of the pair of shoes.

- Ans**
- 1. Rs. 7070
 - 2. Rs. 7007
 - 3. Rs. 7000
 - 4. Rs. 7700

Question ID : 630680835773
Option 1 ID : 6306803273862
Option 2 ID : 6306803273865
Option 3 ID : 6306803273863
Option 4 ID : 6306803273864

Q.12 What time will it take for a sum of ₹ 660 to become an amount of ₹ 726 at 2.5% p.a simple interest?

- Ans**
- 1. 3 years
 - 2. 1 year
 - 3. 4 years
 - 4. 2 years

Question ID : 630680835591
Option 1 ID : 6306803273134
Option 2 ID : 6306803273136
Option 3 ID : 6306803273137
Option 4 ID : 6306803273135

Q.13 Pasha borrows Rs. 52000 from Laila for a period of four years. What will be the rate of simple interest if Pasha has to pay an interest of Rs. 20800 at the end of four years?

- Ans**
- 1. 14%
 - 2. 12%
 - 3. 16%
 - 4. 10%

Question ID : 630680835751
Option 1 ID : 6306803273776
Option 2 ID : 6306803273775
Option 3 ID : 6306803273777
Option 4 ID : 6306803273774

Q.14 In an election, three candidates contested. The first candidate got 30% votes and the second got 34% votes. If the total number of votes polled was 17,000, find the number of votes got by the 3rd candidate.

- Ans
- 1. 6420
 - 2. 6310
 - 3. 6620
 - 4. 6120

Question ID : 630680835647
Option 1 ID : 6306803273360
Option 2 ID : 6306803273359
Option 3 ID : 6306803273358
Option 4 ID : 6306803273361

Q.15 If 66% of A = $\frac{3}{5}$ of B, then find A: B.

- Ans
- 1. 14 : 17
 - 2. 10 : 13
 - 3. 10 : 11
 - 4. 5 : 7

Question ID : 630680835569
Option 1 ID : 6306803273049
Option 2 ID : 6306803273047
Option 3 ID : 6306803273048
Option 4 ID : 6306803273046

Q.16 If $5p = 6q = 8r$, then find the value of p : q : r

- Ans
- 1. 12 : 10 : 16
 - 2. 24 : 20 : 15
 - 3. 15 : 18 : 22
 - 4. 24 : 28 : 15

Question ID : 630680835777
Option 1 ID : 6306803273880
Option 2 ID : 6306803273881
Option 3 ID : 6306803273878
Option 4 ID : 6306803273879

Q.17 12 taps having the same size, fill a tank in 36 minutes. If four taps go out of order, how long would the remaining taps take to fill the tank?

- Ans**
- 1. 54 mins
 - 2. 288 mins
 - 3. 36 mins
 - 4. 24 mins

Question ID : 630680835740
Option 1 ID : 6306803273732
Option 2 ID : 6306803273733
Option 3 ID : 6306803273731
Option 4 ID : 6306803273730

Q.18 Two trains with lengths 117 m and 126 m respectively are moving towards each other. Their speeds are 13 m/s and 14 m/s. What will be the time needed by the trains to cross each other?

- Ans**
- 1. 13 seconds
 - 2. 11 seconds
 - 3. 7 seconds
 - 4. 9 seconds

Question ID : 630680835786
Option 1 ID : 6306803273917
Option 2 ID : 6306803273916
Option 3 ID : 6306803273914
Option 4 ID : 6306803273915

Q.19 Rachit bought a pen for Rs. 2650 and sold it to Fahad. If Rachit earned a profit of 38%, at what price did Fahad buy it?

- Ans**
- 1. Rs.3442
 - 2. Rs.3657
 - 3. Rs.3185
 - 4. Rs.3526

Question ID : 630680835813
Option 1 ID : 6306803274024
Option 2 ID : 6306803274025
Option 3 ID : 6306803274023
Option 4 ID : 6306803274022

Q.20 A sum is divided between Ram and Shilpa in the ratio of 3 : 5. If Ram's share is ₹42,000, find the total amount.

- Ans**
- 1. ₹ 1,32,000
 - 2. ₹ 1,14,000
 - 3. ₹ 1,10,000
 - 4. ₹ 1,12,000

Question ID : 630680835659
Option 1 ID : 6306803273406
Option 2 ID : 6306803273408
Option 3 ID : 6306803273409
Option 4 ID : 6306803273407

Section : Test of English Language and Comprehension 1

Q.1 Choose the idiom/phrase that can substitute the highlighted group of words meaningfully.

Don't worry about not getting this job, honey—as **the end of one situation is often followed by the start of a new one.**

- Ans**
- 1. One door closes, another opens
 - 2. Armchair critic
 - 3. Pierced one's heart
 - 4. Run out of steam

Question ID : 630680834006
Option 1 ID : 6306803266899
Option 2 ID : 6306803266900
Option 3 ID : 6306803266898
Option 4 ID : 6306803266901

Q.2 Choose the word that can substitute the given group of words.

Someone who destroys religious images

- Ans**
- 1. Iconoclast
 - 2. Iconolatry
 - 3. Ignorant
 - 4. Polytheist

Question ID : 630680834081
Option 1 ID : 6306803267187
Option 2 ID : 6306803267186
Option 3 ID : 6306803267188
Option 4 ID : 6306803267189

Q.3 The question below consists of a set of labelled sentences. Out of the four options given, select the most logical order of the sentences to form a coherent paragraph.

P. Sacred groves are the tracts of virgin forest that were left untouched by the local inhabitants, harbour rich biodiversity, and are protected by the local people due to their cultural and religious beliefs and taboo that the deities reside in them.

Q. Ethno-botanical exploration in biosphere reserve of central India was based on traditional knowledge of tribes.

R. The man is using plants in various ways since existence of his life on the earth.

S. They use it in many ways including worshipping gods and goddess for the protection and betterment of human life

- Ans**
- 1. SPQR
 - 2. RQSP
 - 3. RSPQ
 - 4. QPRS

Question ID : 630680834205
 Option 1 ID : 6306803267659
 Option 2 ID : 6306803267660
 Option 3 ID : 6306803267658
 Option 4 ID : 6306803267661

Q.4 Improve the underlined part of the sentence. Choose 'No improvement' as an answer if the sentence is grammatically correct.

During next few years, I developed new mathematical techniques.

- Ans**
- 1. an next few years
 - 2. a next few years
 - 3. the next few years
 - 4. No improvement

Question ID : 630680834240
 Option 1 ID : 6306803267792
 Option 2 ID : 6306803267790
 Option 3 ID : 6306803267791
 Option 4 ID : 6306803267793

Q.5 Choose the word that means the same as the given word.

Easily

- Ans**
- 1. Indefatigably
 - 2. Assiduously
 - 3. Thoroughly
 - 4. Adeptly

Question ID : 630680834094
 Option 1 ID : 6306803267234
 Option 2 ID : 6306803267235
 Option 3 ID : 6306803267236
 Option 4 ID : 6306803267237

Q.6 Improve the underlined part of the sentence. Choose 'No improvement' as an answer if the sentence is grammatically correct.

She wore a golden and a black colour embroidered suit.

- Ans**
- 1. wore a golden and an black
 - 2. wore the golden and a black
 - 3. No improvement
 - 4. wore a golden and black

Question ID : 630680833989
Option 1 ID : 6306803266835
Option 2 ID : 6306803266836
Option 3 ID : 6306803266837
Option 4 ID : 6306803266834

Q.7 A sentence has been given with a blank to be filled with an appropriate option. Choose the correct alternative.

He is a true gentleman _____ his airs and elegance, and he will take it all in good part, _____ you treat him like a man and not a lion.

- Ans**
- 1. in spite of, yet
 - 2. despite of, whether
 - 3. despite, if
 - 4. in spite of, either

Question ID : 630680833986
Option 1 ID : 6306803266822
Option 2 ID : 6306803266823
Option 3 ID : 6306803266825
Option 4 ID : 6306803266824

Q.8 Improve the underlined part of the sentence. Choose 'No improvement' as an answer if the sentence is grammatically correct.

Don't leave the tap runs and waste water.

- Ans**
- 1. tap ran
 - 2. tap running
 - 3. No improvement
 - 4. tap run

Question ID : 630680834075
Option 1 ID : 6306803267164
Option 2 ID : 6306803267162
Option 3 ID : 6306803267165
Option 4 ID : 6306803267163

Q.9 Improve the underlined part of the sentence. Choose 'No improvement' as an answer if the sentence is grammatically correct.

The Ganga river system serves as vital source of water for irrigation, drinking, and industrial purposes.

- Ans**
- 1. The Ganga river system serves as a
 - 2. Ganga river system serves as a
 - 3. The Ganga river system serves as an
 - 4. No improvement

Question ID : 630680834241
Option 1 ID : 6306803267794
Option 2 ID : 6306803267795
Option 3 ID : 6306803267796
Option 4 ID : 6306803267797

Q.10 Improve the underlined part of the sentence. Choose 'No improvement' as an answer if the sentence is grammatically correct.

She goes to a Icon Garden sometime in the evening.

- Ans**
- 1. the Icon Garden sometime in the
 - 2. an Icon Garden sometime in the
 - 3. No improvement
 - 4. a Icon Garden sometime in an

Question ID : 630680833988
Option 1 ID : 6306803266832
Option 2 ID : 6306803266831
Option 3 ID : 6306803266833
Option 4 ID : 6306803266830

Q.11 A sentence has been given with a blank to be filled with an appropriate option. Choose the correct alternative.

_____ Wednesday, the victim's 15-year-old son was using his phone when he received a call _____ an unknown number.

- Ans**
- 1. On, from
 - 2. At, for
 - 3. In, of
 - 4. Into, with

Question ID : 630680834236
Option 1 ID : 6306803267774
Option 2 ID : 6306803267776
Option 3 ID : 6306803267775
Option 4 ID : 6306803267777

Q.12 Choose the word that can substitute the given group of words.

A person who strongly and unfairly dislikes other people, ideas, etc.

- Ans
- 1. Bigot
 - 2. Fugitive
 - 3. Polyglot
 - 4. Introvert

Question ID : 630680834165

Option 1 ID : 6306803267508

Option 2 ID : 6306803267509

Option 3 ID : 6306803267506

Option 4 ID : 6306803267507

Q.13 A sentence has been given with a blank to be filled with an appropriate option. Choose the correct alternative.

The 8.1 per cent interest rate was recommended _____ the CBT after its meeting in Guwahati _____ the chairmanship of union minister of labour.

- Ans
- 1. with, in
 - 2. along, about
 - 3. by, under
 - 4. through, upon

Question ID : 630680834110

Option 1 ID : 6306803267294

Option 2 ID : 6306803267297

Option 3 ID : 6306803267296

Option 4 ID : 6306803267295

Q.14 Improve the underlined part of the sentence. Choose 'No improvement' as an answer if the sentence is grammatically correct.

They have a swimming pool at their house.

- Ans
- 1. has a swimming
 - 2. No improvement
 - 3. were a swimming
 - 4. have a swim

Question ID : 630680834034

Option 1 ID : 6306803267006

Option 2 ID : 6306803267009

Option 3 ID : 6306803267008

Option 4 ID : 6306803267007

Q.15 In the following question, out of the given four alternatives, select the alternative which best expresses the meaning of the Idiom/Phrase.

To open one's eye

- Ans**
- 1. To make somebody realise the reality
 - 2. To bring to an end
 - 3. To pass in amusement
 - 4. To win a prize

Question ID : 630680834051
Option 1 ID : 6306803267070
Option 2 ID : 6306803267072
Option 3 ID : 6306803267073
Option 4 ID : 6306803267071

Q.16 Improve the underlined part of the sentence. Choose 'No improvement' as an answer if the sentence is grammatically correct.

Comfort food can helps pique their appetite.

- Ans**
- 1. can help
 - 2. can helped
 - 3. can helping
 - 4. No improvement

Question ID : 630680834118
Option 1 ID : 6306803267328
Option 2 ID : 6306803267326
Option 3 ID : 6306803267327
Option 4 ID : 6306803267329

Q.17 A sentence has been given with a blank to be filled with an appropriate option. Choose the correct alternative.

He _____ that all was well, because he had done the best that he _____ from day to day.

- Ans**
- 1. knew, could
 - 2. knows, can
 - 3. had known, should
 - 4. known, can

Question ID : 630680834196
Option 1 ID : 6306803267625
Option 2 ID : 6306803267622
Option 3 ID : 6306803267623
Option 4 ID : 6306803267624

Q.18 Choose the word that can substitute the given group of words.

Something happening in four years

- Ans
- 1. Decennial
 - 2. Quadrennial
 - 3. Perennial
 - 4. Quinquennial

Question ID : 630680834251

Option 1 ID : 6306803267835

Option 2 ID : 6306803267834

Option 3 ID : 6306803267837

Option 4 ID : 6306803267836

Q.19 In the following question, out of the given four alternatives, select the alternative which best expresses the meaning of the Idiom/Phrase.

To die in a ditch

- Ans
- 1. To fight till death
 - 2. To abandon a person in time of need
 - 3. To backtrack on your words
 - 4. To murder someone

Question ID : 630680834050

Option 1 ID : 6306803267069

Option 2 ID : 6306803267067

Option 3 ID : 6306803267066

Option 4 ID : 6306803267068

Q.20 Choose the idiom/phrase that can substitute the highlighted group of words meaningfully.

We need to discuss the **detailed facts and the practical aspects** of the proposal before going any further.

- Ans
- 1. Snowball effect
 - 2. Nuts and bolts
 - 3. Pros and cons
 - 4. Live and learn

Question ID : 630680834217

Option 1 ID : 6306803267705

Option 2 ID : 6306803267704

Option 3 ID : 6306803267702

Option 4 ID : 6306803267703

Section : Test of English Language and Comprehension 2

Q.1 Select the most appropriate homonym for the given blank.

The explorer knew how to _____ off predators in the wilderness.

- Ans
- 1. fend
 - 2. fen
 - 3. faint
 - 4. feint

Question ID : 630680834183
Option 1 ID : 6306803267577
Option 2 ID : 6306803267576
Option 3 ID : 6306803267575
Option 4 ID : 6306803267574

Q.2 Choose the word that is opposite in meaning to the given word.

Reproach

- Ans
- 1. Encourage
 - 2. Threaten
 - 3. Approach
 - 4. Assassinate

Question ID : 630680834179
Option 1 ID : 6306803267559
Option 2 ID : 6306803267560
Option 3 ID : 6306803267558
Option 4 ID : 6306803267561

Q.3 Choose the word that is opposite in meaning to the given word.

Quenched

- Ans
- 1. Indulged
 - 2. Piqued
 - 3. Slaked
 - 4. Cloyed

Question ID : 630680834053
Option 1 ID : 6306803267078
Option 2 ID : 6306803267080
Option 3 ID : 6306803267081
Option 4 ID : 6306803267079

Q.4 Select the incorrectly spelt word from the given sentence.

When you deliver a presentation at work, brainstrom with your coworkers, address a problem with your boss, or confirm details with a client about their project, you use communication skills.

- Ans**
- 1. presentation
 - 2. deliver
 - 3. brainstrom
 - 4. client

Question ID : 630680834142
Option 1 ID : 6306803267418
Option 2 ID : 6306803267419
Option 3 ID : 6306803267420
Option 4 ID : 6306803267421

Q.5 Choose the word that can substitute the given group of words.

Rising in arm against an authority

- Ans**
- 1. Prompt
 - 2. Validate
 - 3. Cisgender
 - 4. Insurrection

Question ID : 630680834040
Option 1 ID : 6306803267032
Option 2 ID : 6306803267030
Option 3 ID : 6306803267033
Option 4 ID : 6306803267031

Q.6 Choose the most appropriate antonym of the underlined word.

Orders are sporadic — sometimes four or five come in one night, sometimes just one per week.

- Ans**
- 1. infrequent
 - 2. continuous
 - 3. irk
 - 4. scarce

Question ID : 630680834139
Option 1 ID : 6306803267406
Option 2 ID : 6306803267408
Option 3 ID : 6306803267407
Option 4 ID : 6306803267409

Q.7 Select the incorrectly spelt word from the given sentence.

Parents who want to transfer custody of a child to someone other than a relative must seek permission from a judge.

- Ans**
- 1. reletive
 - 2. custody
 - 3. seek
 - 4. permission

Question ID : 630680834100
Option 1 ID : 6306803267259
Option 2 ID : 6306803267258
Option 3 ID : 6306803267260
Option 4 ID : 6306803267261

Q.8 The question below consists of a set of labelled sentences. Out of the four options given, select the most logical order of the sentences to form a coherent paragraph.

P. Flat design is the direction that found its broad and diverse expression on digital art and is famous for the minimalistic and concise use of visual expressive means.

Q. Nowadays the term flat design is widely used as the opposite of rich design due to harmonic simplicity taken as the basis of this design approach.

R. The most prominent feature which actually has inspired the name of this direction is applying flat 2-dimensional visual details as the opposite to highly realistic and detailed skeuomorphic images.

S. Flat design has been developing for the last couple of years covering more and more fields of graphic design.

- Ans**
- 1. PQSR
 - 2. PSRQ
 - 3. QPRS
 - 4. RSPQ

Question ID : 630680834204
Option 1 ID : 6306803267654
Option 2 ID : 6306803267656
Option 3 ID : 6306803267655
Option 4 ID : 6306803267657

Q.9 Choose the most appropriate antonym of the underlined word.

Day by day, it drives people to distraction by diverting energy to mindless legal compliance.

- Ans**
- 1. affirm
 - 2. submission
 - 3. consent
 - 4. refusal

Question ID : 630680834013
Option 1 ID : 6306803266928
Option 2 ID : 6306803266929
Option 3 ID : 6306803266927
Option 4 ID : 6306803266926

Q.10 A sentence has been given with a blank to be filled with an appropriate option. Choose the correct alternative.
The divers present _____ the beach immediately took out Miley from the water, _____ could not find the other two sisters.

- Ans**
- 1. nearly, yet
 - 2. near, but
 - 3. near, so
 - 4. nearest, though

Question ID : 630680834152
Option 1 ID : 6306803267455
Option 2 ID : 6306803267454
Option 3 ID : 6306803267457
Option 4 ID : 6306803267456

Comprehension:

Read the following passage and answer the questions given below.

Respiratory syncytial virus that typically produces a mild cold like illness but in susceptible individuals, particularly infants under six months of age, is a major cause of severe and potentially fatal lower respiratory diseases. Severe bronchiolitis and pneumonia caused by (RSV) occurs most commonly in the elderly and in young children. An estimated 60 to 70 percent of children have been infected with RSV by age one, and nearly all children have been infected by age two. Because RSV effectively evades immunity, repeat infections are common. RSV infection is seasonal, occurring as an annual epidemic during the winter in most countries in temperate regions.

Direct person-to-person contact is thought to be the most common route of RSV transmission. The virus also can be transmitted through the air, such as by coughing or sneezing, and through direct contact with a contaminated surface followed by touching of the face. Symptoms generally appear within four to six days of infection and include runny nose, cough, headache, fever, and wheezing. In instances of severe illness, affected individuals may have a high fever, severe wheezing, rapid or laboured breathing, and bluish lips or fingers. Infants may only show signs of irritability, fatigue, and breathing difficulties, even in severe cases. The only pharmacological therapy available for treatment of RSV is the nucleoside analogue ribavirin, which can be administered orally, parenterally (by injection or infusion), or by inhalation.

SubQuestion No : 11

Q.11 Which age group could be considered as least likely to contract RSV infection?

- Ans**
- 1. Elderly
 - 2. Adults
 - 3. Infants
 - 4. Young children

Question ID : 630680834131
Option 1 ID : 6306803267377
Option 2 ID : 6306803267375
Option 3 ID : 6306803267374
Option 4 ID : 6306803267376

Comprehension:

Read the following passage and answer the questions given below.

Respiratory syncytial virus that typically produces a mild cold like illness but in susceptible individuals, particularly infants under six months of age, is a major cause of severe and potentially fatal lower respiratory diseases. Severe bronchiolitis and pneumonia caused by (RSV) occurs most commonly in the elderly and in young children. An estimated 60 to 70 percent of children have been infected with RSV by age one, and nearly all children have been infected by age two. Because RSV effectively evades immunity, repeat infections are common. RSV infection is seasonal, occurring as an annual epidemic during the winter in most countries in temperate regions.

Direct person-to-person contact is thought to be the most common route of RSV transmission. The virus also can be transmitted through the air, such as by coughing or sneezing, and through direct contact with a contaminated surface followed by touching of the face. Symptoms generally appear within four to six days of infection and include runny nose, cough, headache, fever, and wheezing. In instances of severe illness, affected individuals may have a high fever, severe wheezing, rapid or laboured breathing, and bluish lips or fingers. Infants may only show signs of irritability, fatigue, and breathing difficulties, even in severe cases. The only pharmacological therapy available for treatment of RSV is the nucleoside analogue ribavirin, which can be administered orally, parenterally (by injection or infusion), or by inhalation.

SubQuestion No : 12

Q.12 Choose the word which is most nearly the same meaning as the word given in bold, as used in the passage.

Evade

- Ans 1. elude
 2. attend
 3. infiltrate
 4. destroy

Question ID : **630680834130**
Option 1 ID : **6306803267370**
Option 2 ID : **6306803267373**
Option 3 ID : **6306803267372**
Option 4 ID : **6306803267371**

Comprehension:

Read the following passage and answer the questions given below.

Respiratory syncytial virus that typically produces a mild cold like illness but in susceptible individuals, particularly infants under six months of age, is a major cause of severe and potentially fatal lower respiratory diseases. Severe bronchiolitis and pneumonia caused by (RSV) occurs most commonly in the elderly and in young children. An estimated 60 to 70 percent of children have been infected with RSV by age one, and nearly all children have been infected by age two. Because RSV effectively evades immunity, repeat infections are common. RSV infection is seasonal, occurring as an annual epidemic during the winter in most countries in temperate regions.

Direct person-to-person contact is thought to be the most common route of RSV transmission. The virus also can be transmitted through the air, such as by coughing or sneezing, and through direct contact with a contaminated surface followed by touching of the face. Symptoms generally appear within four to six days of infection and include runny nose, cough, headache, fever, and wheezing. In instances of severe illness, affected individuals may have a high fever, severe wheezing, rapid or laboured breathing, and bluish lips or fingers. Infants may only show signs of irritability, fatigue, and breathing difficulties, even in severe cases. The only pharmacological therapy available for treatment of RSV is the nucleoside analogue ribavirin, which can be administered orally, parenterally (by injection or infusion), or by inhalation.

SubQuestion No : 13

Q.13 How does the RSV transmission most commonly occur?

- Ans 1. Through direct contact with a contaminated surface
2. Direct person-to-person contact
3. Through the air
4. Through blood transfusion

Question ID : 630680834129
Option 1 ID : 6306803267367
Option 2 ID : 6306803267369
Option 3 ID : 6306803267366
Option 4 ID : 6306803267368

Comprehension:

Read the following passage and answer the questions given below.

Respiratory syncytial virus that typically produces a mild cold like illness but in susceptible individuals, particularly infants under six months of age, is a major cause of severe and potentially fatal lower respiratory diseases. Severe bronchiolitis and pneumonia caused by (RSV) occurs most commonly in the elderly and in young children. An estimated 60 to 70 percent of children have been infected with RSV by age one, and nearly all children have been infected by age two. Because RSV effectively evades immunity, repeat infections are common. RSV infection is seasonal, occurring as an annual epidemic during the winter in most countries in temperate regions.

Direct person-to-person contact is thought to be the most common route of RSV transmission. The virus also can be transmitted through the air, such as by coughing or sneezing, and through direct contact with a contaminated surface followed by touching of the face. Symptoms generally appear within four to six days of infection and include runny nose, cough, headache, fever, and wheezing. In instances of severe illness, affected individuals may have a high fever, severe wheezing, rapid or laboured breathing, and bluish lips or fingers. Infants may only show signs of irritability, fatigue, and breathing difficulties, even in severe cases. The only pharmacological therapy available for treatment of RSV is the nucleoside analogue ribavirin, which can be administered orally, parenterally (by injection or infusion), or by inhalation.

SubQuestion No : 14

Q.14 RSV infection is most common in the countries in _____ regions.

- Ans
- 1. Tropical
 - 2. Polar
 - 3. Temperate
 - 4. Wet

Question ID : 630680834128
Option 1 ID : 6306803267362
Option 2 ID : 6306803267363
Option 3 ID : 6306803267364
Option 4 ID : 6306803267365

Comprehension:

Read the following passage and answer the questions given below.

Respiratory syncytial virus that typically produces a mild cold like illness but in susceptible individuals, particularly infants under six months of age, is a major cause of severe and potentially fatal lower respiratory diseases. Severe bronchiolitis and pneumonia caused by (RSV) occurs most commonly in the elderly and in young children. An estimated 60 to 70 percent of children have been infected with RSV by age one, and nearly all children have been infected by age two. Because RSV effectively evades immunity, repeat infections are common. RSV infection is seasonal, occurring as an annual epidemic during the winter in most countries in temperate regions.

Direct person-to-person contact is thought to be the most common route of RSV transmission. The virus also can be transmitted through the air, such as by coughing or sneezing, and through direct contact with a contaminated surface followed by touching of the face. Symptoms generally appear within four to six days of infection and include runny nose, cough, headache, fever, and wheezing. In instances of severe illness, affected individuals may have a high fever, severe wheezing, rapid or laboured breathing, and bluish lips or fingers. Infants may only show signs of irritability, fatigue, and breathing difficulties, even in severe cases. The only pharmacological therapy available for treatment of RSV is the nucleoside analogue ribavirin, which can be administered orally, parenterally (by injection or infusion), or by inhalation.

SubQuestion No : 15

Q.15 Which of these statements is NOT true, in case of RSV infection?

- Ans 1. RSV effectively evades immunity, so repeat infections are common.
2. RSV infection is seasonal, occurring as an annual wide spread illness during the winter season.
3. RSV infection is often fatal for the elderly and young children.
4. RSV virus can be transmitted through the air.

Question ID : 630680834127
 Option 1 ID : 6306803267360
 Option 2 ID : 6306803267358
 Option 3 ID : 6306803267359
 Option 4 ID : 6306803267361

Comprehension:

In the following passage some of the words have been left out. Read the passage carefully and select the correct answer for the given blank out of the four alternatives.

People who __(1)__ more live longer on average. Genetics, social factors, existing health and other __(2)__ of lifestyle explain some of the association. We should not rule out a direct link __(3)__ exercise and longevity, but this study suggests that it may have a __(4)__ role than previously thought. Nevertheless, experimental evidence shows that exercise can prevent illness and disability, __(5)__ mood and overall quality of life, which many would regard as more meaningful outcomes than lifespan alone.

SubQuestion No : 16

Q.16 Select the most appropriate option for blank(5).

- Ans 1. disprove
2. improvement
3. improve
4. import

Question ID : 630680834191
 Option 1 ID : 6306803267603
 Option 2 ID : 6306803267602
 Option 3 ID : 6306803267604
 Option 4 ID : 6306803267605

Comprehension:

In the following passage some of the words have been left out. Read the passage carefully and select the correct answer for the given blank out of the four alternatives.

People who __ (1) __ more live longer on average. Genetics, social factors, existing health and other __ (2) __ of lifestyle explain some of the association. We should not rule out a direct link __ (3) __ exercise and longevity, but this study suggests that it may have a __ (4) __ role than previously thought. Nevertheless, experimental evidence shows that exercise can prevent illness and disability, __ (5) __ mood and overall quality of life, which many would regard as more meaningful outcomes than lifespan alone.

SubQuestion No : 17**Q.17 Select the most appropriate option for blank(1).**

- Ans 1. exercises
 2. will be exercise
 3. exercise
 4. has exercise

Question ID : 630680834187
Option 1 ID : 6306803267587
Option 2 ID : 6306803267589
Option 3 ID : 6306803267586
Option 4 ID : 6306803267588

Comprehension:

In the following passage some of the words have been left out. Read the passage carefully and select the correct answer for the given blank out of the four alternatives.

People who __ (1) __ more live longer on average. Genetics, social factors, existing health and other __ (2) __ of lifestyle explain some of the association. We should not rule out a direct link __ (3) __ exercise and longevity, but this study suggests that it may have a __ (4) __ role than previously thought. Nevertheless, experimental evidence shows that exercise can prevent illness and disability, __ (5) __ mood and overall quality of life, which many would regard as more meaningful outcomes than lifespan alone.

SubQuestion No : 18**Q.18 Select the most appropriate option for blank(2).**

- Ans 1. sorts
 2. turns
 3. aspects
 4. parts

Question ID : 630680834188
Option 1 ID : 6306803267593
Option 2 ID : 6306803267590
Option 3 ID : 6306803267591
Option 4 ID : 6306803267592

Comprehension:

In the following passage some of the words have been left out. Read the passage carefully and select the correct answer for the given blank out of the four alternatives.

People who __ (1) __ more live longer on average. Genetics, social factors, existing health and other __ (2) __ of lifestyle explain some of the association. We should not rule out a direct link __ (3) __ exercise and longevity, but this study suggests that it may have a __ (4) __ role than previously thought. Nevertheless, experimental evidence shows that exercise can prevent illness and disability, __ (5) __ mood and overall quality of life, which many would regard as more meaningful outcomes than lifespan alone.

SubQuestion No : 19

Q.19 Select the most appropriate option for blank(4).

- Ans
- 1. smallest
 - 2. small
 - 3. more smaller
 - 4. smaller

Question ID : 630680834190
Option 1 ID : 6306803267600
Option 2 ID : 6306803267598
Option 3 ID : 6306803267601
Option 4 ID : 6306803267599

Comprehension:

In the following passage some of the words have been left out. Read the passage carefully and select the correct answer for the given blank out of the four alternatives.

People who __ (1) __ more live longer on average. Genetics, social factors, existing health and other __ (2) __ of lifestyle explain some of the association. We should not rule out a direct link __ (3) __ exercise and longevity, but this study suggests that it may have a __ (4) __ role than previously thought. Nevertheless, experimental evidence shows that exercise can prevent illness and disability, __ (5) __ mood and overall quality of life, which many would regard as more meaningful outcomes than lifespan alone.

SubQuestion No : 20

Q.20 Select the most appropriate option for blank(3).

- Ans
- 1. aside
 - 2. with
 - 3. along
 - 4. between

Question ID : 630680834189
Option 1 ID : 6306803267596
Option 2 ID : 6306803267594
Option 3 ID : 6306803267595
Option 4 ID : 6306803267597

Section : Test of Hindi Language and Comprehension 1

Q.1 दिए गए वाक्य में उचित कारक का चयन करके रिक्त स्थान की पूर्ति करें।

उसने अपना सिर पकड़ा और चिल्लाई, " _____ ! यह क्या हो गया।"

- Ans
- 1. अच्छा
 - 2. वाह
 - 3. पर
 - 4. हे प्रभु

Question ID : 630680831938
 Option 1 ID : 6306803258775
 Option 2 ID : 6306803258774
 Option 3 ID : 6306803258776
 Option 4 ID : 6306803258773

Q.2 दिए गए वाक्य में उचित विशेषण का चयन करके रिक्त स्थान की पूर्ति करें।

कोयल की _____ वाणी दिल को छू जाती है।

- Ans
- 1. कठोर
 - 2. खड़ा
 - 3. कड़वी
 - 4. मधुर

Question ID : 630680832109
 Option 1 ID : 6306803259426
 Option 2 ID : 6306803259428
 Option 3 ID : 6306803259427
 Option 4 ID : 6306803259425

Q.3 निम्नलिखित प्रश्न में, दिए गए चार विकल्पों में से, उस विकल्प का चयन करें जो दी गई लोकोक्ति के अर्थ को सर्वश्रेष्ठ रूप से व्यक्त करता है।

एक पंथ दो काज

- Ans
- 1. किसी काम में दोहरा लाभ होना
 - 2. एक वस्तु या साधन से दो कार्यों की सिद्धि करना
 - 3. हर समय दुःख में डूबे रहना
 - 4. अनुचित कार्य करना

Question ID : 630680831861
 Option 1 ID : 6306803258482
 Option 2 ID : 6306803258483
 Option 3 ID : 6306803258484
 Option 4 ID : 6306803258481

Q.4 दिए गए वाक्य में उचित विशेषण का चयन करके रिक्त स्थान की पूर्ति करें।

अभी धूप है। रस्सी पर _____ कपड़े सुखा दो।

- Ans
- 1. चीनी
 - 2. ऊँचा
 - 3. प्राचीन
 - 4. गीले

Question ID : 630680832026

Option 1 ID : 6306803259111

Option 2 ID : 6306803259112

Option 3 ID : 6306803259110

Option 4 ID : 6306803259109

Q.5 निम्नलिखित प्रश्न में, दिए गए चार विकल्पों में से, उस विकल्प का चयन करें जो दिए गए मुहावरे के अर्थ को सर्वश्रेष्ठ रूप से व्यक्त करता है।

गले का हार

- Ans
- 1. बहुत प्रिय
 - 2. अपना हार किसी और को देना
 - 3. सोने का हार तोहफे में देना
 - 4. कम शब्दों में बात कहना

Question ID : 630680831988

Option 1 ID : 6306803258967

Option 2 ID : 6306803258966

Option 3 ID : 6306803258965

Option 4 ID : 6306803258968

- Q.6
1. का चित्र उसके सामने फिरने लगता। ऐसे मौके पर
 2. राजकुमारी को अनंगशेखर से कुछ प्रेम अनुभव होता, किन्तु तुरन्त
 3. उसकी आंखों से आंसू छलकने लगते थे
 4. ही उसकी आंखें खुल जातीं और युवक संन्यासी
- प्रस्तुत खंडित वाक्य में वाक्य संरचना का सही क्रम क्या होगा?

- Ans
- ✓ 1. 2,4,1,3
 - ✗ 2. 3,4,1,2
 - ✗ 3. 4,2,3,1
 - ✗ 4. 1,4,2,3

Question ID : 630680832097
 Option 1 ID : 6306803259382
 Option 2 ID : 6306803259381
 Option 3 ID : 6306803259384
 Option 4 ID : 6306803259383

- Q.7 निम्नलिखित वाक्य का वह भाग जात करें, जिसमें कोई त्रुटि है। यदि कोई त्रुटि नहीं है, तो 'कोई त्रुटि नहीं है' चुनें।
 चाहे बड़े शहर हों या छोटे, लोग अब ज्यादा जागरूकता और सुविचारित जीवन जी रहे हैं।

- Ans
- ✗ 1. चाहे बड़े शहर हों या छोटे, लोग
 - ✗ 2. कोई त्रुटि नहीं है
 - ✗ 3. सुविचारित जीवन जी रहे हैं।
 - ✓ 4. अब ज्यादा जागरूकता और

Question ID : 630680831969
 Option 1 ID : 6306803258893
 Option 2 ID : 6306803258896
 Option 3 ID : 6306803258895
 Option 4 ID : 6306803258894

Q.8 निम्नलिखित प्रश्न में, दिए गए चार विकल्पों में से, उस विकल्प का चयन करें जो दी गई लोकोक्ति के अर्थ को सर्वश्रेष्ठ रूप से व्यक्त करता है।

अंधा बांटे रेवड़ी फिर-फिर अपने को ही दे

Ans

1. जब कोई छोटा बड़े को उपदेश दे

2.

अधिकार पाने पर स्वार्थी मनुष्य अपने ही लोगों और इष्ट-मित्रों को ही लाभ पहुंचाते हैं।

3. खुशी में रेवड़ियाँ बांटना

4. जो भले काम करता है, अन्त में उसे सुख मिलता है

Question ID : 630680832073

Option 1 ID : 6306803259292

Option 2 ID : 6306803259289

Option 3 ID : 6306803259291

Option 4 ID : 6306803259290

Q.9 निम्नलिखित वाक्य का वह भाग जात करें, जिसमें कोई त्रुटि है। यदि कोई त्रुटि नहीं है, तो 'कोई त्रुटि नहीं है' चुनें।

भारत के ओलंपिक विजेताओं ने देश के लिए गौरवान्वित किया है इसलिए वे सम्मान के पात्र हैं।

Ans

1. है इसलिए वे सम्मान के पात्र हैं।

2. भारत के ओलंपिक विजेताओं

3. कोई त्रुटि नहीं है

4. ने देश के लिए गौरवान्वित किया

Question ID : 630680832052

Option 1 ID : 6306803259211

Option 2 ID : 6306803259209

Option 3 ID : 6306803259212

Option 4 ID : 6306803259210

Q.10 निम्नलिखित वाक्यों को क, ख, ग और घ के लेबल से क्रमांकित किया गया है जो उसी क्रम से एक स्पष्ट पैराग्राफ/वाक्य बनाते हैं किन्तु इनमें से एक लेबल 'अतिरिक्त' है और उसके बिना भी पैराग्राफ/वाक्य सही रहेगा। निम्नलिखित विकल्पों में से उस अतिरिक्त लेबल का चयन करें।

क. कबीर ने भी बहुत सारे कपड़े खरीदे

ख. पास होने की खुशी में नीति अपनी छोटी बहन प्रीति के साथ

ग. मिठाई खरीदने दुकान चल गई। सड़क पर एक सहेली के मिल

घ. जाने के बाद जब उससे बात करने लगी, तो नीति अपनी अधोरता सँभाल नहीं पाई और खुशी से झूम उठी

Ans

1. घ

2. ख

3. ग

4. क

Question ID : 630680832009

Option 1 ID : 6306803259048

Option 2 ID : 6306803259046

Option 3 ID : 6306803259047

Option 4 ID : 6306803259045

Q.11 दिए गए वाक्यांश के लिए सार्थक शब्द ज्ञात कीजिये।
जिसे सबसे पहले गिनना उचित हो

- Ans 1. अग्रगण्य
 2. अनुपम
 3. अनन्य
 4. नगण्य

Question ID : 630680831852
Option 1 ID : 6306803258445
Option 2 ID : 6306803258446
Option 3 ID : 6306803258448
Option 4 ID : 6306803258447

Q.12 निम्नलिखित प्रश्न में, दिए गए चार विकल्पों में से, उस विकल्प का चयन करें जो दी गई लोकोक्ति के अर्थ को सर्वश्रेष्ठ रूप से व्यक्त करता है।

आगे कुआं, पीछे खाई

- Ans 1. दोनों तरफ विपत्ति होना
 2. खाई में गिर पड़ना
 3. विपत्ति में रोने लगना
 4. कुएं में कूद जाना

Question ID : 630680832112
Option 1 ID : 6306803259440
Option 2 ID : 6306803259438
Option 3 ID : 6306803259439
Option 4 ID : 6306803259437

Q.13 निम्नलिखित वाक्य में रेखांकित शब्दों में त्रुटि ज्ञात कर त्रुटिरहित विकल्प का चयन करें। यदि कोई त्रुटि नहीं है, तो 'कोई त्रुटि नहीं है' चुनें।

उसने इस तरह विस्मय के साथ आँखें खोलीं जैसे वह यह निश्चय न कर पा रहा हो कि अपने आसपास बैठे हुए लोगों के साथ उसका क्या संबंध हो सकता है।

- Ans 1. उसने इस तरह विस्मय के साथ आँखें खोलीं जैसे वह यह निश्चय न कर पा रहा हो कि अपने आसपास बैठे हुए लोगों के साथ उसका क्या संबंध हो सकता है।
 2. उसने इस तरह विस्मय के साथ आँखें खोलीं जैसे वह यह निश्चय न कर पा रहा हो कि अपने आसपास बैठे हुए लोगों के साथ उसका क्या संबंध हो सकता है।
 3. कोई त्रुटि नहीं है
 4. उसने इस तरह विस्मय के साथ आँखें खोलीं जैसे वह यह निश्चय न कर पा रहा हो कि अपने आसपास बैठे हुए लोगों के साथ उसका क्या संबंध हो सकता है।

Question ID : 630680831951
Option 1 ID : 6306803258827
Option 2 ID : 6306803258826
Option 3 ID : 6306803258828
Option 4 ID : 6306803258825

- Q.14 1. मि. ईश्वर सेवक ने सेना-विभाग में पेंशन पाने के बाद वहीं मकान
 2. उनके पुरखों का पता नहीं चलता, और न हमें उसकी खोज करने की विशेष ज़रूरत है
 3. मि. जॉन सेवक का बंगला सिगरा में था। उनके पिता
 4. बनवा लिया था, और अब तक उसके स्वामी थे। इसके आगे
 प्रस्तुत खंडित गद्यांश में वाक्य संरचना का सही क्रम क्या होगा?

- Ans 1. 1,3,2,4
 2. 4,2,1,3
 3. 3,1,4,2
 4. 2,1,4,3

Question ID : 630680831928

Option 1 ID : 6306803258738

Option 2 ID : 6306803258737

Option 3 ID : 6306803258740

Option 4 ID : 6306803258739

- Q.15 दिए गए वाक्य में उचित क्रिया का चयन करके रिक्त स्थान की पूर्ति करें।
 शिवानी अचानक ही दीवार से _____ और नीचे गिर गई।

- Ans 1. अपनाई
 2. चिपकी
 3. टकराई
 4. दोहराई

Question ID : 630680831855

Option 1 ID : 6306803258459

Option 2 ID : 6306803258457

Option 3 ID : 6306803258458

Option 4 ID : 6306803258460

- Q.16 दिए गए वाक्य में उचित कारक का चयन करके रिक्त स्थान की पूर्ति करें।
 यमुना नदी यमुनोत्री _____ निकलती है।

- Ans 1. के लिए
 2. से
 3. का
 4. पर

Question ID : 630680832025

Option 1 ID : 6306803259106

Option 2 ID : 6306803259107

Option 3 ID : 6306803259105

Option 4 ID : 6306803259108

Q.17 दिए गए वाक्यांश के लिए सार्थक शब्द ज्ञात कीजिए।
जो कभी नष्ट न होने वाला हो

- Ans
- 1. अनूदित
 - 2. अनिरुद्ध
 - 3. अनश्वर
 - 4. आक्रांत

Question ID : 630680832105
Option 1 ID : 6306803259411
Option 2 ID : 6306803259409
Option 3 ID : 6306803259412
Option 4 ID : 6306803259410

Q.18 निम्नलिखित वाक्यों को क, ख, ग और घ के लेबल से क्रमांकित किया गया है जो उसी क्रम से एक स्पष्ट पैराग्राफ/वाक्य बनाते हैं किन्तु इनमें से एक लेबल 'अतिरिक्त' है और उसके बिना भी पैराग्राफ/वाक्य सही रहेगा। निम्नलिखित विकल्पों में से उस अतिरिक्त लेबल का चयन करें।

- क. मोर के सिर की कलगी और सघन, ऊँची तथा चमकीली
ख. हो गई। चोंच अधिक बंकिम और पैनी हो गयी, गोल
ग. घर पहुँचने पर सब कहने लगे, तीतर है, मोर कहकर ठग लिया है
घ. आँखों में इन्द्रनील की नीलाभ द्युति झलकने लगी

- Ans
- 1. ख
 - 2. ग
 - 3. घ
 - 4. क

Question ID : 630680831925
Option 1 ID : 6306803258726
Option 2 ID : 6306803258727
Option 3 ID : 6306803258728
Option 4 ID : 6306803258725

Q.19 निम्नलिखित वाक्य में रेखांकित शब्दों में त्रुटि जात कर त्रुटिरहित विकल्प का चयन करें। यदि कोई त्रुटि नहीं है, तो 'कोई त्रुटि नहीं है' चुनें।

उसके होंठों पर एक स्थायी मुस्कराहट दिखाई देती थी, फिर भी उसके चेहरे का भाव गम्भीर था।

Ans 1.

उसके होंठों पर एक स्थायी मुस्कराहट दिखाई देती थी, फिर भी उसके चेहरे का भाव गम्भीर था।

2.

उसके होंठों पर एक स्थायी मुस्कराहट दिखाई देती थी, फिर भी उसके चेहरे का भाव गम्भीर था।

3.

उसके होंठों पर एक स्थायी मुस्कराहट दिखाई देती थी, फिर भी उसके चेहरे का भाव गम्भीर था।

4. कोई त्रुटि नहीं है

Question ID : 630680831950

Option 1 ID : 6306803258822

Option 2 ID : 6306803258821

Option 3 ID : 6306803258823

Option 4 ID : 6306803258824

Q.20 निम्नलिखित प्रश्न में, दिए गए चार विकल्पों में से, उस विकल्प का चयन करें जो दिए गए मुहावरे के अर्थ को सर्वश्रेष्ठ रूप से व्यक्त करता है।

अपने मुँह मिया मिट्टू बनना

Ans 1. जेल में रखना

2. स्वयं अपनी प्रशंसा करना

3. स्थिति उलट जाना

4. समय नष्ट करना

Question ID : 630680832069

Option 1 ID : 6306803259275

Option 2 ID : 6306803259276

Option 3 ID : 6306803259274

Option 4 ID : 6306803259273

Section : Test of Hindi Language and Comprehension 2

Q.1 निम्नलिखित वाक्य में रेखांकित शब्द का तद्वत शब्द ज्ञात करें।
देश की अर्थव्यवस्था कृषकों के हाथों में है।

- Ans
- 1. कुम्हारों
 - 2. शिक्षकों
 - 3. कोनों
 - 4. किसानों

Question ID : 630680831911
Option 1 ID : 6306803258674
Option 2 ID : 6306803258673
Option 3 ID : 6306803258676
Option 4 ID : 6306803258675

Q.2 निम्नलिखित वाक्य में रेखांकित शब्दों में त्रुटि ज्ञात कर त्रुटिरहित विकल्प का चयन करें। यदि कोई त्रुटि नहीं है, तो 'कोई त्रुटि नहीं है' चुनें।
मैं उसे देखकर शर्मिन्दा हो जाता हूँ कि उसने मुझसे कहीं ज़्यादा भूख देखी है परन्तु मैंने कभी उसे ज़रा भी विचलित या व्याकुल होते नहीं देखा।

- Ans
- 1. मैं उसे देखकर शर्मिन्दा हो जाता हूँ कि उसने मुझसे कहीं ज़्यादा भूख देखी है परन्तु मैंने कभी उसे ज़रा भी विचलित या व्याकुल होते नहीं देखा।
 - 2. मैं उसे देखकर शर्मिन्दा हो जाता हूँ कि उसने मुझसे कहीं ज़्यादा भूख देखी है परन्तु मैंने कभी उसे ज़रा भी विचलित या व्याकुल होते नहीं देखा।
 - 3. मैं उसे देखकर शर्मिन्दा हो जाता हूँ कि उसने मुझसे कहीं ज़्यादा भूख देखी है परन्तु मैंने कभी उसे ज़रा भी विचलित या व्याकुल होते नहीं देखा।
 - 4. कोई त्रुटि नहीं है

Question ID : 630680831992
Option 1 ID : 6306803258983
Option 2 ID : 6306803258981
Option 3 ID : 6306803258982
Option 4 ID : 6306803258984

Q.3 निम्नलिखित शब्द के अनेकार्थी शब्द का चयन करें।

वास

- Ans
- 1. तपस्या
 - 2. जिंदगी
 - 3. निवास
 - 4. स्वामी

Question ID : 630680831913
 Option 1 ID : 6306803258683
 Option 2 ID : 6306803258684
 Option 3 ID : 6306803258682
 Option 4 ID : 6306803258681

Q.4 निम्नलिखित वाक्य में रेखांकित शब्दों में त्रुटि जात कर त्रुटिरहित विकल्प का चयन करें। यदि कोई त्रुटि नहीं है, तो 'कोई त्रुटि नहीं है' चुनें।

टाउन हॉल एक ऐसी जगह थी जहाँ सवेरे से देर रात तक लोगों की भीड़ गुजरती रहती थी।

- Ans
- 1. टाउन हॉल एक ऐसी जगह थी जहाँ सवेरे से देर रात तक लोगों की भीण गुजरती रहती थी।
 - 2. टाउन हॉल एक ऐसी जगह थी जहाँ सवेरे से देर रात तक लोगों की भीड़ गुजरती रहती थी।
 - 3. टाउन हॉल एक ऐसी जगह थी जहाँ सवेरे से देर रात तक लोगों की भीड़ गुजरती रहती थी।
 - 4. कोई त्रुटि नहीं है

Question ID : 630680832077
 Option 1 ID : 6306803259307
 Option 2 ID : 6306803259306
 Option 3 ID : 6306803259305
 Option 4 ID : 6306803259308

Q.5 निम्नलिखित शब्द का विलोम शब्द ज्ञात करें।

विरोध

- Ans
- 1. समर्थन
 - 2. मूर्ख
 - 3. विराग
 - 4. अपनापन

Question ID : 630680831958
 Option 1 ID : 6306803258853
 Option 2 ID : 6306803258855
 Option 3 ID : 6306803258856
 Option 4 ID : 6306803258854

Q.6 नीचे दिए गए शब्द का पर्यायवाची शब्द ज्ञात करें।

चपला

- Ans
- ✓ 1. विद्युत्
 - ✗ 2. प्रभा
 - ✗ 3. लोचन
 - ✗ 4. शशि

Question ID : 630680832125
 Option 1 ID : 6306803259489
 Option 2 ID : 6306803259490
 Option 3 ID : 6306803259492
 Option 4 ID : 6306803259491

Q.7 नीचे दिए गए शब्द का पर्यायवाची शब्द ज्ञात करें।

व्योम

- Ans
- ✗ 1. कार्य
 - ✓ 2. आकाश
 - ✗ 3. दिन
 - ✗ 4. समय

Question ID : 630680831914
 Option 1 ID : 6306803258686
 Option 2 ID : 6306803258685
 Option 3 ID : 6306803258688
 Option 4 ID : 6306803258687

Q.8 निम्नलिखित शब्द का तत्सम शब्द ज्ञात करें।

आँसू

- Ans
- ✓ 1. अश्रु
 - ✗ 2. अक्षि
 - ✗ 3. अद्य
 - ✗ 4. अर्ध

Question ID : 630680831910
 Option 1 ID : 6306803258669
 Option 2 ID : 6306803258671
 Option 3 ID : 6306803258670
 Option 4 ID : 6306803258672

Q.9 निम्नलिखित शब्द के अनेकार्थी शब्द का चयन करें।

अलि

- Ans
- 1. भवरा
 - 2. रोगी
 - 3. मन
 - 4. विश्राम

Question ID : 630680831955
Option 1 ID : 6306803258843
Option 2 ID : 6306803258841
Option 3 ID : 6306803258844
Option 4 ID : 6306803258842

Q.10 निम्नलिखित शब्द का विलोम शब्द ज्ञात करें।

श्रोता

- Ans
- 1. दीर्घ
 - 2. विषम
 - 3. संपन्न
 - 4. वक्ता

Question ID : 630680831917
Option 1 ID : 6306803258697
Option 2 ID : 6306803258699
Option 3 ID : 6306803258698
Option 4 ID : 6306803258700

Comprehension:

निम्नलिखित गद्यांश के आधार पर पाँच प्रश्न दिए गए हैं। गद्यांश को ध्यानपूर्वक पढ़ें तथा प्रत्येक प्रश्न के चार विकल्पों में से सही विकल्प चुनें।

शहरों का भ्रमण करके मैंने जाना कि शहर के बीच हरित स्थान प्रकृति की शाश्वत पाठशाला है। अगर इन स्थानों में समय गुज़ार कर हम प्रकृति की स्वचालित पद्धति को देखें, तो हमें पता चलता है कि किस तरह प्रकृति में कुछ भी व्यर्थ नहीं है। पेड़ के पत्ते नीचे गिरकर खाद बन जाते हैं। चिड़ियाँ और भवरे एक जगह से दूसरी जगह बीज गिराकर एक नए फूल को जन्म देते हैं। बारिश की बूँदें ज़मीन को हरा-भरा बनाकर फिर वापस ओस बन जाती हैं। ऐसा लगता है यह कौन वास्तुकार है जो बिना रुके, बिना किसी प्रयास के सहजता से चलता रहता है। प्रकृति को और नज़दीक से जानने के लिए मैं शहर में स्थित एक 'नेचर वॉक' ग्रुप के साथ जुड़ गई। 'नेचर वॉक' ग्रुप हर शहर में प्रकृति प्रेमी लोगों के समूह होते हैं जो कि शहर के भीतर और शहर से बाहर हरित स्थानों (ग्रीन स्पेसों) का भ्रमण करते हैं, उनका अवलोकन करते हैं और साथ में मिलकर प्रकृति और प्राकृतिक स्थानों को बचाने का सतत प्रयास करते हैं।

'नेचर वॉक' ग्रुप के साथ शहर में कंक्रीट जंगल के बीचों-बीच एक ऐसे ग्रीन स्पेस से परिचय हुआ, जिसकी कशिश ही अलग थी, उसकी सौंधी-सौंधी महक हर किसी को आकर्षित कर रही थी। उस स्थान का नाम था 'सावित्री अर्बन फूड फॉरेस्ट'। यहाँ पर न केवल पड़े-पौधे और घूमने की जगह थी, बल्कि हर फल के एक या दो वृक्ष लगे हुए थे।

तने पर लटके हुए केले, अंगूर की बेल से बातें कर रहे थे। रात की रानी, मोगरा, रजनीगंधा, तुलसी और लेमन ग्रास की महक, चिड़ियों, तितलियों और भवरों को आमंत्रण दे रही थी। इस अर्बन फूड फॉरेस्ट में 90-100 तक अलग-अलग फल-फूल, घास, वृक्ष सब्जियाँ और बेलें लगी हुई थीं। वहाँ पर एक छोटी सी 'आयुर्वेदिक डिस्पेंसरी' भी थी जिसमें तुलसी, अडूसी, शतावरी, ब्राह्मी, इन्सलुलिन जैसे अन्य आयुर्वेदिक प्लांट लोगों को बरबस अपनी ओर खींच रहे थे।

हरित स्थान एक 'ऑक्सीजन फैक्ट्री' होते हैं जो शरीर और मन, दोनों में रक्त-संचार करते हैं। शहरी स्कूल में पढ़ने वाले बच्चों के लिए हरित क्षेत्र फल, फूल और वृक्षों का 'लाइव डेमो' होते हैं। मिट्टी को छूना और उस पर नंगे पाँव चलना, अपने आप में ही एक थेरेपी है।

हरित स्थान पर लगे हुए नीम, जामुन, बरगद, पीपल के वृक्ष न केवल हवा को शुद्ध करते हैं बल्कि हरा रंग खुशहाली का भी प्रतीक होता है, जो कि तनाव कम करके, मांसपेशियों को आराम देने में मदद करता है। इससे मांसपेशियों को सुकून मिलता है और तनाव का स्तर भी कम होता है, इसलिए मनोवैज्ञानिक तनाव और एंजायटी में बगीचे में चलने का सुझाव देते हैं, जिससे सांस हल्की होती है। हरा रंग शान्ति देता है, इसलिए हॉस्पिटल में हरे रंग के पर्दे लगाए जाते हैं।

SubQuestion No : 11

Q.11 गद्यांश के आधार पर उचित केन्द्रीय विषय का चयन करें।

- Ans** 1. प्रकृति और उसके तत्वों की जीवन में अहम भूमिका
 2. प्रकृति का पर्यावरण पर दुष्कर प्रभाव
 3. प्रकृति का बदलता स्वरूप
 4. प्रकृति की ज़रूरत में आ रही कमी

Question ID : 630680831881

Option 1 ID : 6306803258557

Option 2 ID : 6306803258559

Option 3 ID : 6306803258560

Option 4 ID : 6306803258558

Comprehension:

निम्नलिखित गद्यांश के आधार पर पाँच प्रश्न दिए गए हैं। गद्यांश को ध्यानपूर्वक पढ़ें तथा प्रत्येक प्रश्न के चार विकल्पों में से सही विकल्प चुनें।

शहरों का भ्रमण करके मैंने जाना कि शहर के बीच हरित स्थान प्रकृति की शाश्वत पाठशाला है। अगर इन स्थानों में समय गुज़ार कर हम प्रकृति की स्वचालित पद्धति को देखें, तो हमें पता चलता है कि किस तरह प्रकृति में कुछ भी व्यर्थ नहीं है। पेड़ के पत्ते नीचे गिरकर खाद बन जाते हैं। चिड़ियाँ और भवरे एक जगह से दूसरी जगह बीज गिराकर एक नए फूल को जन्म देते हैं। बारिश की बूंदें ज़मीन को हरा-भरा बनाकर फिर वापस ओस बन जाती हैं। ऐसा लगता है यह कौन वास्तुकार है जो बिना रुके, बिना किसी प्रयास के सहजता से चलता रहता है। प्रकृति को और नज़दीक से जानने के लिए मैं शहर में स्थित एक 'नेचर वॉक' ग्रुप के साथ जुड़ गई। 'नेचर वॉक' ग्रुप हर शहर में प्रकृति प्रेमी लोगों के समूह होते हैं जो कि शहर के भीतर और शहर से बाहर हरित स्थानों (ग्रीन स्पेसों) का भ्रमण करते हैं, उनका अवलोकन करते हैं और साथ में मिलकर प्रकृति और प्राकृतिक स्थानों को बचाने का सतत प्रयास करते हैं।

'नेचर वॉक' ग्रुप के साथ शहर में कंक्रीट जंगल के बीचों-बीच एक ऐसे ग्रीन स्पेस से परिचय हुआ, जिसकी कशिश ही अलग थी, उसकी सौधी-सौधी महक हर किसी को आकर्षित कर रही थी। उस स्थान का नाम था 'सावित्री अर्बन फूड फॉरेस्ट'। यहाँ पर न केवल पड़े-पोधे और घूमने की जगह थी, बल्कि हर फल के एक या दो वृक्ष लगे हुए थे।

तने पर लटके हुए केले, अंगूर की बेल से बातें कर रहे थे। रात की रानी, मोगरा, रजनीगंधा, तुलसी और लेमन ग्रास की महक, चिड़ियों, तितलियों और भवरों को आमंत्रण दे रही थी। इस अर्बन फूड फॉरेस्ट में 90-100 तक अलग-अलग फल-फूल, घास, वृक्ष सब्जियाँ और बेलें लगी हुई थीं। वहाँ पर एक छोटी सी 'आयुर्वेदिक डिस्पेंसरी' भी थी जिसमें तुलसी, अडूसी, शतावरी, ब्राह्मी, इन्सलुलिन जैसे अन्य आयुर्वेदिक प्लांट लोगों को बरबस अपनी ओर खींच रहे थे।

हरित स्थान एक 'ऑक्सीजन फैक्ट्री' होते हैं जो शरीर और मन, दोनों में रक्त-संचार करते हैं। शहरी स्कूल में पढ़ने वाले बच्चों के लिए हरित क्षेत्र फल, फूल और वृक्षों का 'लाइव डेमो' होते हैं। मिट्टी को छूना और उस पर नंगे पाँव चलना, अपने आप में ही एक थेरेपी है।

हरित स्थान पर लगे हुए नीम, जामुन, बरगद, पीपल के वृक्ष न केवल हवा को शुद्ध करते हैं बल्कि हरा रंग खुशहाली का भी प्रतीक होता है, जो कि तनाव कम करके, मांसपेशियों को आराम देने में मदद करता है। इससे मांसपेशियों को सुकून मिलता है और तनाव का स्तर भी कम होता है, इसलिए मनोवैज्ञानिक तनाव और एंग्जायटी में बगीचे में चलने का सुझाव देते हैं, जिससे सांस हल्की होती है। हरा रंग शान्ति देता है, इसलिए हॉस्पिटल में हरे रंग के पर्दे लगाए जाते हैं।

SubQuestion No : 12

Q.12 गद्यांश में दिए गए निम्नलिखित शब्द का उचित पर्यायवाची शब्द चुनें।
प्रयास

- Ans 1. आवास
 2. प्रयत्न
 3. आकांक्षा
 4. अनूठा

Question ID : 630680831879
Option 1 ID : 6306803258549
Option 2 ID : 6306803258552
Option 3 ID : 6306803258550
Option 4 ID : 6306803258551

Comprehension:

निम्नलिखित गद्यांश के आधार पर पाँच प्रश्न दिए गए हैं। गद्यांश को ध्यानपूर्वक पढ़ें तथा प्रत्येक प्रश्न के चार विकल्पों में से सही विकल्प चुनें।

शहरों का भ्रमण करके मैंने जाना कि शहर के बीच हरित स्थान प्रकृति की शाश्वत पाठशाला है। अगर इन स्थानों में समय गुज़ार कर हम प्रकृति की स्वचालित पद्धति को देखें, तो हमें पता चलता है कि किस तरह प्रकृति में कुछ भी व्यर्थ नहीं है। पेड़ के पत्ते नीचे गिरकर खाद बन जाते हैं। चिड़ियाँ और भवरे एक जगह से दूसरी जगह बीज गिराकर एक नए फूल को जन्म देते हैं। बारिश की बूंदें ज़मीन को हरा-भरा बनाकर फिर वापस ओस बन जाती हैं। ऐसा लगता है यह कौन वास्तुकार है जो बिना रुके, बिना किसी प्रयास के सहजता से चलता रहता है। प्रकृति को और नज़दीक से जानने के लिए मैं शहर में स्थित एक 'नेचर वॉक' ग्रुप के साथ जुड़ गई। 'नेचर वॉक' ग्रुप हर शहर में प्रकृति प्रेमी लोगों के समूह होते हैं जो कि शहर के भीतर और शहर से बाहर हरित स्थानों (ग्रीन स्पेसों) का भ्रमण करते हैं, उनका अवलोकन करते हैं और साथ में मिलकर प्रकृति और प्राकृतिक स्थानों को बचाने का सतत प्रयास करते हैं।

'नेचर वॉक' ग्रुप के साथ शहर में कंक्रीट जंगल के बीचों-बीच एक ऐसे ग्रीन स्पेस से परिचय हुआ, जिसकी कशिश ही अलग थी, उसकी सौधी-सौधी महक हर किसी को आकर्षित कर रही थी। उस स्थान का नाम था 'सावित्री अर्बन फूड फॉरेस्ट'। यहाँ पर न केवल पड़े-पोधे और घूमने की जगह थी, बल्कि हर फल के एक या दो वृक्ष लगे हुए थे।

तने पर लटके हुए केले, अंगूर की बेल से बातें कर रहे थे। रात की रानी, मोगरा, रजनीगंधा, तुलसी और लेमन ग्रास की महक, चिड़ियों, तितलियों और भवरों को आमंत्रण दे रही थी। इस अर्बन फूड फॉरेस्ट में 90-100 तक अलग-अलग फल-फूल, घास, वृक्ष सब्जियाँ और बेलें लगी हुई थीं। वहाँ पर एक छोटी सी 'आयुर्वेदिक डिस्पेंसरी' भी थी जिसमें तुलसी, अडूसी, शतावरी, ब्राह्मी, इन्सलुलिन जैसे अन्य आयुर्वेदिक प्लांट लोगों को बरबस अपनी ओर खींच रहे थे।

हरित स्थान एक 'ऑक्सीजन फैक्ट्री' होते हैं जो शरीर और मन, दोनों में रक्त-संचार करते हैं। शहरी स्कूल में पढ़ने वाले बच्चों के लिए हरित क्षेत्र फल, फूल और वृक्षों का 'लाइव डेमो' होते हैं। मिट्टी को छूना और उस पर नंगे पाँव चलना, अपने आप में ही एक थेरेपी है।

हरित स्थान पर लगे हुए नीम, जामुन, बरगद, पीपल के वृक्ष न केवल हवा को शुद्ध करते हैं बल्कि हरा रंग खुशहाली का भी प्रतीक होता है, जो कि तनाव कम करके, मांसपेशियों को आराम देने में मदद करता है। इससे मांसपेशियों को सुकून मिलता है और तनाव का स्तर भी कम होता है, इसलिए मनोवैज्ञानिक तनाव और एंजायटी में बगीचे में चलने का सुझाव देते हैं, जिससे सांस हल्की होती है। हरा रंग शान्ति देता है, इसलिए हॉस्पिटल में हरे रंग के पर्दे लगाए जाते हैं।

SubQuestion No : 13

Q.13 गद्यांश के आधार पर, निम्नलिखित वाक्यों में से, उस वाक्य को चुनिए जिसमें 'खुशहाली' शब्द का सही प्रयोग किया गया है।

- Ans**
- 1. जब उसे पता चला कि वह परीक्षा में उत्तीर्ण हो गई, तो वह खुशहाली हो गई।
 - 2. मुझे जो चाहिए था, वो मिल गया इसीलिए मैं बहुत खुशहाली हूँ।
 - 3. दीवाली के अवसर पर चारों ओर खुशहाली छा गई।
 - 4. हमें खुशहाली है कि इतनी मुसीबतों के बाद आपकी यात्रा सफल हुई।

Question ID : 630680831878
 Option 1 ID : 6306803258546
 Option 2 ID : 6306803258548
 Option 3 ID : 6306803258545
 Option 4 ID : 6306803258547

Join Telegram Group "HaryanaJobs.in"

Comprehension:

निम्नलिखित गद्यांश के आधार पर पाँच प्रश्न दिए गए हैं। गद्यांश को ध्यानपूर्वक पढ़ें तथा प्रत्येक प्रश्न के चार विकल्पों में से सही विकल्प चुनें।

शहरों का भ्रमण करके मैंने जाना कि शहर के बीच हरित स्थान प्रकृति की शाश्वत पाठशाला है। अगर इन स्थानों में समय गुज़ार कर हम प्रकृति की स्वचालित पद्धति को देखें, तो हमें पता चलता है कि किस तरह प्रकृति में कुछ भी व्यर्थ नहीं है। पेड़ के पत्ते नीचे गिरकर खाद बन जाते हैं। चिड़ियाँ और भवरे एक जगह से दूसरी जगह बीज गिराकर एक नए फूल को जन्म देते हैं। बारिश की बूँदें ज़मीन को हरा-भरा बनाकर फिर वापस ओस बन जाती हैं। ऐसा लगता है यह कौन वास्तुकार है जो बिना रुके, बिना किसी प्रयास के सहजता से चलता रहता है। प्रकृति को और नज़दीक से जानने के लिए मैं शहर में स्थित एक 'नेचर वॉक' ग्रुप के साथ जुड़ गई। 'नेचर वॉक' ग्रुप हर शहर में प्रकृति प्रेमी लोगों के समूह होते हैं जो कि शहर के भीतर और शहर से बाहर हरित स्थानों (ग्रीन स्पेसों) का भ्रमण करते हैं, उनका अवलोकन करते हैं और साथ में मिलकर प्रकृति और प्राकृतिक स्थानों को बचाने का सतत प्रयास करते हैं।

'नेचर वॉक' ग्रुप के साथ शहर में कंक्रीट जंगल के बीचों-बीच एक ऐसे ग्रीन स्पेस से परिचय हुआ, जिसकी कशिश ही अलग थी, उसकी सौधी-सौधी महक हर किसी को आकर्षित कर रही थी। उस स्थान का नाम था 'सावित्री अर्बन फूड फॉरेस्ट'। यहाँ पर न केवल पड़े-पौधे और घूमने की जगह थी, बल्कि हर फल के एक या दो वृक्ष लगे हुए थे।

तने पर लटके हुए केले, अंगूर की बेल से बातें कर रहे थे। रात की रानी, मोगरा, रजनीगंधा, तुलसी और लेमन ग्रास की महक, चिड़ियों, तितलियों और भवरों को आमंत्रण दे रही थी। इस अर्बन फूड फॉरेस्ट में 90-100 तक अलग-अलग फल-फूल, घास, वृक्ष सब्जियाँ और बेलें लगी हुई थीं। वहाँ पर एक छोटी सी 'आयुर्वेदिक डिस्पेंसरी' भी थी जिसमें तुलसी, अडूसी, शतावरी, ब्राह्मी, इन्सलुलिन जैसे अन्य आयुर्वेदिक प्लांट लोगों को बरबस अपनी ओर खींच रहे थे।

हरित स्थान एक 'ऑक्सीजन फैक्ट्री' होते हैं जो शरीर और मन, दोनों में रक्त-संचार करते हैं। शहरी स्कूल में पढ़ने वाले बच्चों के लिए हरित क्षेत्र फल, फूल और वृक्षों का 'लाइव डेमो' होते हैं। मिट्टी को छूना और उस पर नंगे पाँव चलना, अपने आप में ही एक थेरेपी है।

हरित स्थान पर लगे हुए नीम, जामुन, बरगद, पीपल के वृक्ष न केवल हवा को शुद्ध करते हैं बल्कि हरा रंग खुशहाली का भी प्रतीक होता है, जो कि तनाव कम करके, मांसपेशियों को आराम देने में मदद करता है। इससे मांसपेशियों को सुकून मिलता है और तनाव का स्तर भी कम होता है, इसलिए मनोवैज्ञानिक तनाव और एंजायटी में बगीचे में चलने का सुझाव देते हैं, जिससे सांस हल्की होती है। हरा रंग शान्ति देता है, इसलिए हॉस्पिटल में हरे रंग के पर्दे लगाए जाते हैं।

SubQuestion No : 14

Q.14 गद्यांश पढ़कर, उस विकल्प का चयन करें, जो गद्य का वास्तविक जीवन से सबसे नजदीक सम्बन्ध व्यक्त करता है।

- Ans**
- 1. प्रकृति के बिना भी मानव जीवन सक्षम है।
 - 2. पेड़ों के पत्ते, तने, फूल आदि गिरकर धरती को गन्दा करते हैं।
 - 3. प्रकृति न केवल हमारे शारीरिक परन्तु हमारे मानसिक तनाव को भी दूर रखने में सक्षम है।
 - 4. भविष्य में प्रकृति की ज़रूरत कई गुना कम हो जाएगी।

Question ID : 630680831880

Option 1 ID : 6306803258553

Option 2 ID : 6306803258555

Option 3 ID : 6306803258554

Option 4 ID : 6306803258556

Comprehension:

निम्नलिखित गद्यांश के आधार पर पाँच प्रश्न दिए गए हैं। गद्यांश को ध्यानपूर्वक पढ़ें तथा प्रत्येक प्रश्न के चार विकल्पों में से सही विकल्प चुनें।

शहरों का भ्रमण करके मैंने जाना कि शहर के बीच हरित स्थान प्रकृति की शाश्वत पाठशाला है। अगर इन स्थानों में समय गुज़ार कर हम प्रकृति की स्वचालित पद्धति को देखें, तो हमें पता चलता है कि किस तरह प्रकृति में कुछ भी व्यर्थ नहीं है। पेड़ के पत्ते नीचे गिरकर खाद बन जाते हैं। चिड़ियाँ और भवरे एक जगह से दूसरी जगह बीज गिराकर एक नए फूल को जन्म देते हैं। बारिश की बूँदें ज़मीन को हरा-भरा बनाकर फिर वापस ओस बन जाती हैं। ऐसा लगता है यह कौन वास्तुकार है जो बिना रुके, बिना किसी प्रयास के सहजता से चलता रहता है। प्रकृति को और नज़दीक से जानने के लिए मैं शहर में स्थित एक 'नेचर वॉक' ग्रुप के साथ जुड़ गई। 'नेचर वॉक' ग्रुप हर शहर में प्रकृति प्रेमी लोगों के समूह होते हैं जो कि शहर के भीतर और शहर से बाहर हरित स्थानों (ग्रीन स्पेसों) का भ्रमण करते हैं, उनका अवलोकन करते हैं और साथ में मिलकर प्रकृति और प्राकृतिक स्थानों को बचाने का सतत प्रयास करते हैं।

'नेचर वॉक' ग्रुप के साथ शहर में कंक्रीट जंगल के बीचों-बीच एक ऐसे ग्रीन स्पेस से परिचय हुआ, जिसकी कशिश ही अलग थी, उसकी सौधी-सौधी महक हर किसी को आकर्षित कर रही थी। उस स्थान का नाम था 'सावित्री अर्बन फूड फॉरेस्ट'। यहाँ पर न केवल पड़े-पोधे और घूमने की जगह थी, बल्कि हर फल के एक या दो वृक्ष लगे हुए थे।

तने पर लटके हुए केले, अंगूर की बेल से बातें कर रहे थे। रात की रानी, मोगरा, रजनीगंधा, तुलसी और लेमन ग्रास की महक, चिड़ियों, तितलियों और भवरों को आमंत्रण दे रही थी। इस अर्बन फूड फॉरेस्ट में 90-100 तक अलग-अलग फल-फूल, घास, वृक्ष सब्जियाँ और बेलें लगी हुई थीं। वहाँ पर एक छोटी सी 'आयुर्वेदिक डिस्पेंसरी' भी थी जिसमें तुलसी, अडूसी, शतावरी, ब्राह्मी, इन्सलुलिन जैसे अन्य आयुर्वेदिक प्लांट लोगों को बरबस अपनी ओर खींच रहे थे।

हरित स्थान एक 'ऑक्सीजन फैक्ट्री' होते हैं जो शरीर और मन, दोनों में रक्त-संचार करते हैं। शहरी स्कूल में पढ़ने वाले बच्चों के लिए हरित क्षेत्र फल, फूल और वृक्षों का 'लाइव डेमो' होते हैं। मिट्टी को छूना और उस पर नंगे पाँव चलना, अपने आप में ही एक थेरेपी है।

हरित स्थान पर लगे हुए नीम, जामुन, बरगद, पीपल के वृक्ष न केवल हवा को शुद्ध करते हैं बल्कि हरा रंग खुशहाली का भी प्रतीक होता है, जो कि तनाव कम करके, मांसपेशियों को आराम देने में मदद करता है। इससे मांसपेशियों को सुकून मिलता है और तनाव का स्तर भी कम होता है, इसलिए मनोवैज्ञानिक तनाव और एंजायटी में बगीचे में चलने का सुझाव देते हैं, जिससे सांस हल्की होती है। हरा रंग शान्ति देता है, इसलिए हॉस्पिटल में हरे रंग के पर्दे लगाए जाते हैं।

SubQuestion No : 15

Q.15 गद्यांश के आधार पर गद्य की उचित संरचना का चयन करें।

- Ans 1. विवरणात्मक
 2. आलोचनात्मक
 3. आख्यान
 4. प्रेरक

Question ID : 630680831877

Option 1 ID : 6306803258544

Option 2 ID : 6306803258543

Option 3 ID : 6306803258542

Option 4 ID : 6306803258541

Comprehension:

नीचे दिए गए पदों में कुछ शब्द छोड़ दिए गए हैं, प्रत्येक रिक्त स्थान के चार विकल्प दिए गए हैं। इन चारों में से कौन सा विकल्प रिक्त स्थान की पूर्ति करेगा।
मैनुफैक्चरिंग, खनन और सर्विस सेक्टर के बेहतर _____(1) के साथ देश की आर्थिक वृद्धि दर चालू वित्त वर्ष की जुलाई-सितंबर तिमाही में 7.6 प्रतिशत रही। इसके साथ भारत दुनिया की प्रमुख _____(2) में सबसे तेज आर्थिक वृद्धि दर हासिल करने वाला देश बना हुआ है। जब महंगाई बहुत ज्यादा होती है तो आर.बी.आई रेपो रेट बढ़ाकर _____(3) में मनी फ्लो को कम करने की कोशिश करता है। रेट ज्यादा होगा तो बैंकों को आर.बी.आई से मिलने वाला कर्ज महंगा होगा। फिर बैंक अपने _____(4) के लिए लोन महंगा कर देते हैं। इससे मनी फ्लो कम होता है और डिमांड में कमी आती है और महंगाई घट जाती है। बाजार में मनी फ्लो बढ़ाने के लिए रेपो रेट को कम किया जाता है। इससे ग्राहकों को सस्ती दर पर _____(5) मिलता है।

SubQuestion No : 16**Q.16 रिक्त स्थान (3) के लिए उपयुक्त विकल्प का चयन कीजिए।**

- Ans 1. इकॉनमी
 2. विद्यालय
 3. कोर्ट
 4. पुलिस थानों

Question ID : 630680831975
 Option 1 ID : 6306803258915
 Option 2 ID : 6306803258913
 Option 3 ID : 6306803258914
 Option 4 ID : 6306803258916

Comprehension:

नीचे दिए गए पदों में कुछ शब्द छोड़ दिए गए हैं, प्रत्येक रिक्त स्थान के चार विकल्प दिए गए हैं। इन चारों में से कौन सा विकल्प रिक्त स्थान की पूर्ति करेगा।
मैनुफैक्चरिंग, खनन और सर्विस सेक्टर के बेहतर _____(1) के साथ देश की आर्थिक वृद्धि दर चालू वित्त वर्ष की जुलाई-सितंबर तिमाही में 7.6 प्रतिशत रही। इसके साथ भारत दुनिया की प्रमुख _____(2) में सबसे तेज आर्थिक वृद्धि दर हासिल करने वाला देश बना हुआ है। जब महंगाई बहुत ज्यादा होती है तो आर.बी.आई रेपो रेट बढ़ाकर _____(3) में मनी फ्लो को कम करने की कोशिश करता है। रेट ज्यादा होगा तो बैंकों को आर.बी.आई से मिलने वाला कर्ज महंगा होगा। फिर बैंक अपने _____(4) के लिए लोन महंगा कर देते हैं। इससे मनी फ्लो कम होता है और डिमांड में कमी आती है और महंगाई घट जाती है। बाजार में मनी फ्लो बढ़ाने के लिए रेपो रेट को कम किया जाता है। इससे ग्राहकों को सस्ती दर पर _____(5) मिलता है।

SubQuestion No : 17**Q.17 रिक्त स्थान (2) के लिए उपयुक्त विकल्प का चयन कीजिए।**

- Ans 1. कर्मनिष्ठा
 2. संस्कृतियों
 3. आवाम
 4. अर्थव्यवस्थाओं

Question ID : 630680831974
 Option 1 ID : 6306803258911
 Option 2 ID : 6306803258909
 Option 3 ID : 6306803258910
 Option 4 ID : 6306803258912

Comprehension:

नीचे दिए गए पदों में कुछ शब्द छोड़ दिए गए हैं, प्रत्येक रिक्त स्थान के चार विकल्प दिए गए हैं। इन चारों में से कौन सा विकल्प रिक्त स्थान की पूर्ति करेगा।
मैनुफैक्चरिंग, खनन और सर्विस सेक्टर के बेहतर _____(1) के साथ देश की आर्थिक वृद्धि दर चालू वित्त वर्ष की जुलाई-सितंबर तिमाही में 7.6 प्रतिशत रही। इसके साथ भारत दुनिया की प्रमुख _____(2) में सबसे तेज आर्थिक वृद्धि दर हासिल करने वाला देश बना हुआ है। जब महंगाई बहुत ज्यादा होती है तो आर.बी.आई रेपो रेट बढ़ाकर _____(3) में मनी फ्लो को कम करने की कोशिश करता है। रेट ज्यादा होगा तो बैंकों को आर.बी.आई से मिलने वाला कर्ज महंगा होगा। फिर बैंक अपने _____(4) के लिए लोन महंगा कर देते हैं। इससे मनी फ्लो कम होता है और डिमांड में कमी आती है और महंगाई घट जाती है। बाजार में मनी फ्लो बढ़ाने के लिए रेपो रेट को कम किया जाता है। इससे ग्राहकों को सस्ती दर पर _____(5) मिलता है।

SubQuestion No : 18**Q.18 रिक्त स्थान (1) के लिए उपयुक्त विकल्प का चयन कीजिए।**

- Ans 1. कार्यक्रम
 2. कार्यवाही
 3. कठपुतली
 4. प्रदर्शन

Question ID : 630680831973
Option 1 ID : 6306803258907
Option 2 ID : 6306803258908
Option 3 ID : 6306803258906
Option 4 ID : 6306803258905

Comprehension:

नीचे दिए गए पदों में कुछ शब्द छोड़ दिए गए हैं, प्रत्येक रिक्त स्थान के चार विकल्प दिए गए हैं। इन चारों में से कौन सा विकल्प रिक्त स्थान की पूर्ति करेगा।
मैनुफैक्चरिंग, खनन और सर्विस सेक्टर के बेहतर _____(1) के साथ देश की आर्थिक वृद्धि दर चालू वित्त वर्ष की जुलाई-सितंबर तिमाही में 7.6 प्रतिशत रही। इसके साथ भारत दुनिया की प्रमुख _____(2) में सबसे तेज आर्थिक वृद्धि दर हासिल करने वाला देश बना हुआ है। जब महंगाई बहुत ज्यादा होती है तो आर.बी.आई रेपो रेट बढ़ाकर _____(3) में मनी फ्लो को कम करने की कोशिश करता है। रेट ज्यादा होगा तो बैंकों को आर.बी.आई से मिलने वाला कर्ज महंगा होगा। फिर बैंक अपने _____(4) के लिए लोन महंगा कर देते हैं। इससे मनी फ्लो कम होता है और डिमांड में कमी आती है और महंगाई घट जाती है। बाजार में मनी फ्लो बढ़ाने के लिए रेपो रेट को कम किया जाता है। इससे ग्राहकों को सस्ती दर पर _____(5) मिलता है।

SubQuestion No : 19**Q.19 रिक्त स्थान (4) के लिए उपयुक्त विकल्प का चयन कीजिए।**

- Ans 1. घरवालों
 2. बाहरवालों
 3. ग्राहकों
 4. माता-पिता

Question ID : 630680831976
Option 1 ID : 6306803258920
Option 2 ID : 6306803258918
Option 3 ID : 6306803258917
Option 4 ID : 6306803258919

Comprehension:

नीचे दिए गए पदों में कुछ शब्द छोड़ दिए गए हैं, प्रत्येक रिक्त स्थान के चार विकल्प दिए गए हैं। इन चारों में से कौन सा विकल्प रिक्त स्थान की पूर्ति करेगा।
 मैन्युफैक्चरिंग, खनन और सर्विस सेक्टर के बेहतर _____(1) के साथ देश की आर्थिक वृद्धि दर चालू वित्त वर्ष की जुलाई-सितंबर तिमाही में 7.6 प्रतिशत रही। इसके साथ भारत दुनिया की प्रमुख _____(2) में सबसे तेज आर्थिक वृद्धि दर हासिल करने वाला देश बना हुआ है। जब महंगाई बहुत ज्यादा होती है तो आर.बी.आई रेपो रेट बढ़ाकर _____(3) में मनी फ्लो को कम करने की कोशिश करता है। रेट ज्यादा होगा तो बैंकों को आर.बी.आई से मिलने वाला कर्ज महंगा होगा। फिर बैंक अपने _____(4) के लिए लोन महंगा कर देते हैं। इससे मनी फ्लो कम होता है और डिमांड में कमी आती है और महंगाई घट जाती है। बाजार में मनी फ्लो बढ़ाने के लिए रेपो रेट को कम किया जाता है। इससे ग्राहकों को सस्ती दर पर _____(5) मिलता है।

SubQuestion No : 20

Q.20 रिक्त स्थान (5) के लिए उपयुक्त विकल्प का चयन कीजिए।

- Ans 1. संपत्ति
 2. लोन
 3. होम
 4. ऑफिस

Question ID : 630680831977
 Option 1 ID : 6306803258922
 Option 2 ID : 6306803258924
 Option 3 ID : 6306803258921
 Option 4 ID : 6306803258923



GOVT. OF NCT OF DELHI
Delhi Subordinate Services Selection Board
FC-18, Institutional Area, Karkardooma, Delhi - 110092.
www.dsssb.delhigovt.nic.in

Participant ID	231131202003500
Participant Name	Manish kumar
Test Center Name	iON Digital Zone iDZ 2 Sector 62
Test Date	10/06/2024
Test Time	4:30 PM - 6:30 PM
Subject	Warder Reserved for male Only

Section : General intelligence and Reasoning Ability 1

Q.1 Arrange the given words in the sequence in which they occur in the dictionary.

1. Indefinite
2. Indeed
3. Indecision
4. Indefatigable
5. Indelicate

- Ans
- 1. 32451
 - 2. 32154
 - 3. 32145
 - 4. 32415

Question ID : 630680832475
Option 1 ID : 6306803260889
Option 2 ID : 6306803260891
Option 3 ID : 6306803260892
Option 4 ID : 6306803260890

Q.2 Aman is on 30th position from upwards and on 41th position from downwards in a class.
How many students are in the class?

- Ans
- 1. 75
 - 2. 69
 - 3. 70
 - 4. 71

Question ID : 630680832349
Option 1 ID : 6306803260385
Option 2 ID : 6306803260388
Option 3 ID : 6306803260387
Option 4 ID : 6306803260386

Q.3 In a certain code language, 'NOTED' is written as 'ZAPKJ'. What is the code for 'MOTOR' in that code language?

- Ans
- 1. NKQKI
 - 2. NKPKJ
 - 3. NKPKI
 - 4. NLPLI

Question ID : 630680832392
Option 1 ID : 6306803260560
Option 2 ID : 6306803260558
Option 3 ID : 6306803260557
Option 4 ID : 6306803260559

Q.4 In the following question, select the odd letter/letters from the given alternatives.

- Ans
- 1. TQN
 - 2. JLH
 - 3. BDZ
 - 4. VXT

Question ID : 630680832529
Option 1 ID : 6306803261108
Option 2 ID : 6306803261105
Option 3 ID : 6306803261106
Option 4 ID : 6306803261107

Q.5 Consider the string given below made up of numbers from 0 to 9. How many 8's are there at the even numbered positions from the right?

1 8 2 5 9 7 2 8 2 6 1 9 2 7 1 6 4 9 7 2 9 2 2 8 1 5 9 2 8

- Ans
- 1. 3
 - 2. 1
 - 3. 4
 - 4. 2

Question ID : 630680832356
Option 1 ID : 6306803260416
Option 2 ID : 6306803260414
Option 3 ID : 6306803260413
Option 4 ID : 6306803260415

Q.6 A is the mother of B. B is the brother of C. C is the brother of D. D is the daughter of E. How is D related to A?

- Ans
- 1. Father
 - 2. Mother
 - 3. Son
 - 4. Daughter

Question ID : 630680832399
Option 1 ID : 6306803260586
Option 2 ID : 6306803260585
Option 3 ID : 6306803260588
Option 4 ID : 6306803260587

Q.7 Select that missing pair (Third letter cluster : Fourth letter cluster) which is related in the same way as the first letter cluster is related to the second letter cluster and fifth letter cluster is related to sixth letter cluster.

PQ : NS :: ? :: ST : QV

- Ans
- 1. DE : CF
 - 2. BF : ZI
 - 3. ZA : XC
 - 4. IK : FM

Question ID : 630680832366
Option 1 ID : 6306803260456
Option 2 ID : 6306803260453
Option 3 ID : 6306803260455
Option 4 ID : 6306803260454

Q.8 In the following question, four letter pairs are given. The letters on left side of (-) is related to the letters on the right side of (-) with some Logic/Rule/Relation. Three are similar on basis of same Logic/Rule/Relation. Select the odd one out from the given alternatives.

- Ans
- 1. ECL - FEO
 - 2. RIO - SKR
 - 3. QUX - SXZ
 - 4. TBH - UDK

Question ID : 630680832411
Option 1 ID : 6306803260635
Option 2 ID : 6306803260634
Option 3 ID : 6306803260636
Option 4 ID : 6306803260633

Q.9 Seven friends namely - P1, P2, P3, P4, P5, P6 and P7 are living in a building of seven floors, lowermost floor is numbered 1, floor above it is numbered 2 and so on till the top-most floor which is numbered 7. Each person lives on a single floor. P1 lives on a floor numbered four. No one lives below P7. Number of person who live between P6 and P1 are same as the number of persons who live between P1 and P5. P2 lives four floor above P4. P6 lives above P4, but not immediately above. P2 doesn't live on top floor. Who lives on floor numbered 6?

- Ans
- 1. P4
 - 2. P5
 - 3. P2
 - 4. P3

Question ID : 630680832431
Option 1 ID : 6306803260716
Option 2 ID : 6306803260715
Option 3 ID : 6306803260713
Option 4 ID : 6306803260714

Q.10 Select that missing pair (Third letter cluster : Fourth letter cluster) which is related in the same way as the first letter cluster is related to the second letter cluster and fifth letter cluster is related to sixth letter cluster.

CP : EN :: ? :: QU : SS

- Ans
- 1. EI : GG
 - 2. BC : CA
 - 3. XY : ZX
 - 4. GH : JE

Question ID : 630680832324
Option 1 ID : 6306803260286
Option 2 ID : 6306803260285
Option 3 ID : 6306803260288
Option 4 ID : 6306803260287

Q.11 Consider the five three letter words given below and the answer the questions based on it.
(Left) MCD BMC PIC ASU GMA (Right)

If all the letters of each word are replaced by the next letter as per the English alphabetical order, then in how many newly formed words, there will be only one vowel?

- Ans
- 1. 3
 - 2. 4
 - 3. 2
 - 4. 1

Question ID : 630680832477
Option 1 ID : 6306803260899
Option 2 ID : 6306803260900
Option 3 ID : 6306803260898
Option 4 ID : 6306803260897

Q.12 In the following question, select the odd letter/letters from the given alternatives.

- Ans
- 1. BCG
 - 2. PRY
 - 3. HIM
 - 4. DEI

Question ID : 630680832448
Option 1 ID : 6306803260783
Option 2 ID : 6306803260781
Option 3 ID : 6306803260784
Option 4 ID : 6306803260782

Q.13 Seven boxes P, Q, R, S, T, U and V are placed one above the other. Only two boxes are placed above box S. Only one box is placed between box V and S. As many as boxes are placed between box V and T as between box T and P. Three boxes are placed between box Q and R. Q is placed above R. If all boxes are arranged as per English alphabetical order from bottom to top, then how many boxes retain their same position?

- Ans
- 1. One
 - 2. Three
 - 3. None
 - 4. Two

Question ID : 630680832390
Option 1 ID : 6306803260550
Option 2 ID : 6306803260552
Option 3 ID : 6306803260549
Option 4 ID : 6306803260551

Q.14 In the following question, group of letter clusters is given. The letter clusters of each group are related with the other letter clusters of the same group by some Logic/Rule/Relation. From the given alternatives, select the group of letter clusters which follows the same Logic/Rule/Relation.
(RB, TD, WG)
(JO, LQ, OT)

- Ans
- 1. (DG, FI, IL)
 - 2. (PR, RU, TX)
 - 3. (LM, OP, QR)
 - 4. (NX, PZ, SB)

Question ID : 630680832447
Option 1 ID : 6306803260778
Option 2 ID : 6306803260779
Option 3 ID : 6306803260780
Option 4 ID : 6306803260777

Q.15 Consider the string given below made up of letters.
T O A H F G J M N U P K W I P J D O S K U E E H K A O Q

How many vowels are there immediately followed by consonant?

- Ans 1. 4
 2. 6
 3. 5
 4. 3

Question ID : 630680832358
Option 1 ID : 6306803260423
Option 2 ID : 6306803260422
Option 3 ID : 6306803260421
Option 4 ID : 6306803260424

Q.16 In the following question, select the odd letter/letters from the given alternatives.

- Ans 1. FCD
 2. ZWX
 3. MJK
 4. PBC

Question ID : 630680832330
Option 1 ID : 6306803260311
Option 2 ID : 6306803260309
Option 3 ID : 6306803260310
Option 4 ID : 6306803260312

Q.17 Select that missing pair (Third letter cluster : Fourth letter cluster) which is related in the same way as the first letter cluster is related to the second letter cluster and fifth letter cluster is related to sixth letter cluster.
BR : YU :: ? :: VX : SA

- Ans 1. RV : PW
 2. IK : FO
 3. YX : UA
 4. DE : AH

Question ID : 630680832405
Option 1 ID : 6306803260611
Option 2 ID : 6306803260610
Option 3 ID : 6306803260612
Option 4 ID : 6306803260609

Q.18 In a certain code language, 'JOBS' is written as 'NWJE' and 'HIKS' is written as 'NFDC'. What is the code for 'MEET' in that code language?

- Ans 1. OYYH
 2. OAAH
 3. OZZI
 4. OZZH

Question ID : 630680832433
Option 1 ID : 6306803260721
Option 2 ID : 6306803260723
Option 3 ID : 6306803260724
Option 4 ID : 6306803260722

Q.19 'A + B' means 'A is the mother of B', 'A - B' means 'A is the father of B', 'A × B' means 'A is the sister of B', 'A ÷ B' means 'A is the daughter of B'. If $N \times K - R \div S + T$, then how is R related to T?

- Ans
- 1. Daughter
 - 2. Brother's Wife
 - 3. Wife
 - 4. Sister

Question ID : 630680832480
Option 1 ID : 6306803260911
Option 2 ID : 6306803260910
Option 3 ID : 6306803260909
Option 4 ID : 6306803260912

Q.20 In a certain code language, 'BONEY' is written as '46908', 'NAME' is written as '3264', 'BOMD' is written as '8739'. What is the code for 'A' in that code language?

- Ans
- 1. 4
 - 2. 6
 - 3. 2
 - 4. 3

Question ID : 630680832314
Option 1 ID : 6306803260248
Option 2 ID : 6306803260247
Option 3 ID : 6306803260246
Option 4 ID : 6306803260245

Section : General intelligence and Reasoning Ability 2

Q.1 A series is given with one term missing. Select the correct alternative from the given ones that will complete the series.
S, W, A, E, I, ?

- Ans
- 1. K
 - 2. L
 - 3. J
 - 4. M

Question ID : 630680832334
Option 1 ID : 6306803260326
Option 2 ID : 6306803260328
Option 3 ID : 6306803260325
Option 4 ID : 6306803260327

Q.2 Six friends A, B, C, D, E and F sitting in a straight row facing towards north (not necessarily in the same order). A sits fifth to the left of F. Three persons sits between A and B. B and D are not immediate neighbours. C sits immediate left of D. Who sits third to the right of D?

- Ans
- 1. E
 - 2. F
 - 3. A
 - 4. B

Question ID : 630680832426
Option 1 ID : 6306803260696
Option 2 ID : 6306803260695
Option 3 ID : 6306803260693
Option 4 ID : 6306803260694

Q.3 Five persons A, B, C, D and E sitting in a straight line facing towards south (not necessarily in the same order). A sits at one of the extreme end. D sits second to the right of B. E is not an immediate neighbour of D. C sits second to the left of A. Who sits at an extreme end?

Ans 1. AE

2. AC

3. AB

4. AD

Question ID : 630680832307

Option 1 ID : 6306803260217

Option 2 ID : 6306803260219

Option 3 ID : 6306803260220

Option 4 ID : 6306803260218

Q.4 Select the option that is related to the fourth number cluster in the same way as the first number cluster is related to the second number cluster and fifth number cluster is related to sixth number cluster.

18 : 342 :: ? : 702 :: 31 : 992

Ans 1. 26

2. 27

3. 25

4. 28

Question ID : 630680832343

Option 1 ID : 6306803260363

Option 2 ID : 6306803260362

Option 3 ID : 6306803260361

Option 4 ID : 6306803260364

Q.5 In the following question below are given some statements followed by some conclusions based on those statements. Taking the given statements to be true even if they seem to be at variance from commonly known facts. Read all the conclusions and then decide which of the given conclusion logically follows the given statements.

Statements:

I. No L is M.

II. No M is N.

III. Some P are N.

Conclusions:

I. Some M are not L.

II. All L are P.

III. Some N are P.

Ans 1. Both conclusions I and III follows

2. Both conclusions II and III follows

3. Both conclusions I and II follows

4. All conclusion follows

Question ID : 630680832323

Option 1 ID : 6306803260283

Option 2 ID : 6306803260282


Option 3 ID : 6306803260281

Option 4 ID : 6306803260284

Q.6 In the following question, select the odd figure from the given alternatives.

Ans


✗ 1.




✗ 2.



✓ 3.



✗ 4.



Question ID : 630680832336
Option 1 ID : 6306803260333
Option 2 ID : 6306803260334
Option 3 ID : 6306803260335
Option 4 ID : 6306803260336

Q.7 After interchanging the given two signs and two numbers, what will be the value of the given equation?

+ and -, 1 and 2 ; $2 - 9 \times 8 \div 6 + 1$

- Ans
- 1. 13
 - 2. 9
 - 3. 11
 - 4. 15

Question ID : 630680832379
Option 1 ID : 6306803260505
Option 2 ID : 6306803260506
Option 3 ID : 6306803260507
Option 4 ID : 6306803260508

Q.8 Select the option in which the numbers shares the same relationship in set as that shared by the numbers in the given set. (NOTE: Operations should be performed on the whole numbers, without breaking down the numbers into its constituent digits. E.g.13 – Operations on 13 such as adding /subtracting /multiplying etc. to 13 can be performed. Breaking down 13 into 1 and 3 and then performing mathematical operations on 1 and 3 is not allowed)

(1, 7, 9)
(2, 14, 18)

- Ans
- 1. (32, 144, 288)
 - 2. (15, 105, 115)
 - 3. (5, 95, 75)
 - 4. (31, 217, 279)

Question ID : 630680832385
Option 1 ID : 6306803260529
Option 2 ID : 6306803260532
Option 3 ID : 6306803260531
Option 4 ID : 6306803260530

Q.9 A series is given with one term missing. Select the correct alternative from the given ones that will complete the series.

J, L, N, P, R, ?

- Ans
- 1. S
 - 2. U
 - 3. T
 - 4. Q

Question ID : 630680832452
Option 1 ID : 6306803260798
Option 2 ID : 6306803260800
Option 3 ID : 6306803260797
Option 4 ID : 6306803260799

Q.10 In the following question, select the missing number from the given series.
105, 116, 127, 138, 149, ?

- Ans
- 1. 160
 - 2. 158
 - 3. 157
 - 4. 159

Question ID : 630680832540
Option 1 ID : 6306803261152
Option 2 ID : 6306803261150
Option 3 ID : 6306803261149
Option 4 ID : 6306803261151

Q.11 In the following question below are given some statements followed by some conclusions based on those statements. Taking the given statements to be true even if they seem to be at variance from commonly known facts. Read all the conclusions and then decide which of the given conclusion logically follows the given statements.

Statements:

I. All P are Q.

II. No P is V.

Conclusion:

I. Some V are P.

II. Some Q are P.

- Ans
- 1. Neither conclusion follows
 - 2. Only conclusion I follows
 - 3. Only conclusion II follows
 - 4. Both conclusions I and II follows

Question ID : 630680832402

Option 1 ID : 6306803260600

Option 2 ID : 6306803260597

Option 3 ID : 6306803260598

Option 4 ID : 6306803260599

Q.12 A series is given with one term missing. Select the correct alternative from the given ones that will complete the series.

E, C, A, Y, W, ?

- Ans
- 1. V
 - 2. X
 - 3. Z
 - 4. U

Question ID : 630680832373

Option 1 ID : 6306803260482

Option 2 ID : 6306803260483

Option 3 ID : 6306803260484

Option 4 ID : 6306803260481

Q.13 If $51 * 78 @ 125 = 254$ and $154 * 65 @ 99 = 318$, then $151 * 182 @ 179 = ?$

- Ans
- 1. 512
 - 2. 398
 - 3. 400
 - 4. 418

Question ID : 630680832377

Option 1 ID : 6306803260499

Option 2 ID : 6306803260498

Option 3 ID : 6306803260497

Option 4 ID : 6306803260500

Q.14 Select the option that is related to the sixth number cluster in the same way as the first number cluster is related to the second number cluster and third number cluster is related to fourth number cluster. (NOTE: Operations should be performed on the whole numbers, without breaking down the numbers into its constituent digits. E.g.13 – Operations on 13 such as adding /subtracting /multiplying etc. to 13 can be performed. Breaking down 13 into 1 and 3 and then performing mathematical operations on 1 and 3 is not allowed)
88 : 93 :: 69 : 74 :: ? : 39

Ans 1. 34

2. 33

3. 32

4. 31

Question ID : 630680832422

Option 1 ID : 6306803260680

Option 2 ID : 6306803260679

Option 3 ID : 6306803260678

Option 4 ID : 6306803260677

Q.15 In the following question, select the missing number from the given series.
2, 3, 13, 118, ?

Ans 1. 1887

2. 1886

3. 1888

4. 1889

Question ID : 630680832501

Option 1 ID : 6306803260994

Option 2 ID : 6306803260993

Option 3 ID : 6306803260995

Option 4 ID : 6306803260996

Q.16 Six boys F, G, H, I, J and L are sitting around a circular table facing towards the centre. I is the third to the left of F. J and H are the immediate neighbours of I. L is to the immediate right of J. Who is the immediate neighbour of L?

Ans 1. G

2. I

3. F

4. H

Question ID : 630680832428

Option 1 ID : 6306803260703

Option 2 ID : 6306803260702

Option 3 ID : 6306803260701

Option 4 ID : 6306803260704

Q.17 In the following question below are given some statements followed by some conclusions based on those statements. Taking the given statements to be true even if they seem to be at variance from commonly known facts. Read all the conclusions and then decide which of the given conclusion logically follows the given statements.

Statements:

I. All P are L.

II. No P is J.

Conclusion:

I. Some J are P.

II. Some L are P.

- Ans 1. Only conclusion II follows
2. Neither conclusion follows
3. Both conclusions I and II follows
4. Only conclusion I follows

Question ID : 630680832521

Option 1 ID : 6306803261074

Option 2 ID : 6306803261076

Option 3 ID : 6306803261075

Option 4 ID : 6306803261073

Q.18 If $63 \# 32 * 29 = 2$ and $365 \# 234 * 124 = 7$, then $451 \# 312 * 56 = ?$

- Ans 1. 83
2. 87
3. 99
4. 93

Question ID : 630680832378

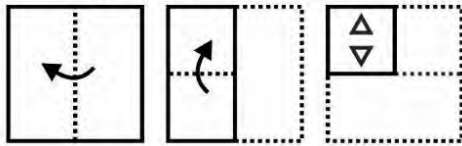
Option 1 ID : 6306803260503

Option 2 ID : 6306803260501

Option 3 ID : 6306803260504


Option 4 ID : 6306803260502

Q.19 A piece of paper is folded and punched as shown below in the question figures. From the given option figures, indicate how it will appear when opened?




Ans


✓ 1.




✗ 2.



✗ 3.



✗ 4.



Question ID : 630680832495

Option 1 ID : 6306803260971

Option 2 ID : 6306803260969

Option 3 ID : 6306803260970

Option 4 ID : 6306803260972

Q.20 Select the option in which the numbers shares the same relationship in set as that shared by the numbers in the given set. (NOTE: Operations should be performed on the whole numbers, without breaking down the numbers into its constituent digits. E.g.13 – Operations on 13 such as adding /subtracting /multiplying etc. to 13 can be performed. Breaking down 13 into 1 and 3 and then performing mathematical operations on 1 and 3 is not allowed)
(20, 400, 8000)
(22, 484,10648)

- Ans 1. (18,324,5822)
 2. (21, 441, 9261)
 3. (19,361, 3879)
 4. (9, 72, 81)

Question ID : 630680832424
Option 1 ID : 6306803260687
Option 2 ID : 6306803260686
Option 3 ID : 6306803260685
Option 4 ID : 6306803260688

Section : General Awareness 1

Q.1 Hunza, Nubra, and Shigar rivers are the tributaries of which of the following river?

- Ans 1. Godavari
 2. Indus
 3. Brahmaputra
 4. Ganga

Question ID : 630680830449
Option 1 ID : 6306803252891
Option 2 ID : 6306803252890
Option 3 ID : 6306803252892
Option 4 ID : 6306803252889

Q.2 Bioluminescence (the property of a living organism to emit light) is well marked in which of the following phylum?

- Ans 1. Aschelminthes
 2. Ctenophora
 3. Porifera
 4. Coelenterata

Question ID : 630680830578
Option 1 ID : 6306803253408
Option 2 ID : 6306803253405
Option 3 ID : 6306803253407
Option 4 ID : 6306803253406

Q.3 Which of the following refers to the strong, gusty, hot, dry winds blowing during the day over the north and northwestern India?

- Ans 1. Norwesters
 2. Kaal Baisakhi
 3. loo
 4. Mahawat

Question ID : 630680830370
Option 1 ID : 6306803252574
Option 2 ID : 6306803252576
Option 3 ID : 6306803252575
Option 4 ID : 6306803252573

Q.4 Which of the following Tamil epic describe the story of Kovalan and Madhavi's daughter?

- Ans 1. Tolkappiyam
 2. Ettutogai
 3. Manimekalai
 4. Silappadikaram

Question ID : 630680830401
Option 1 ID : 6306803252698
Option 2 ID : 6306803252700
Option 3 ID : 6306803252699
Option 4 ID : 6306803252697

Q.5 Kashmir stag and Tibetan antelope are found in which type of forest?

- Ans 1. Tropical Thorn Forests and Scrubs
 2. Mangrove Forests
 3. Montane Forests
 4. Tropical Evergreen Forests

Question ID : 630680830407
Option 1 ID : 6306803252721
Option 2 ID : 6306803252723
Option 3 ID : 6306803252722
Option 4 ID : 6306803252724

Q.6 At which of the following places does Bhagirathi meet Alaknanda?

- Ans 1. Nand prayag
 2. Karn prayag
 3. Dev prayag
 4. Vishnu prayag

Question ID : 630680830528
Option 1 ID : 6306803253208
Option 2 ID : 6306803253205
Option 3 ID : 6306803253207
Option 4 ID : 6306803253206

Q.7 Which of the following is NOT a source of Vitamin D?

- Ans 1. Egg
 2. Fish
 3. Liver
 4. Orange

Question ID : 630680830539
Option 1 ID : 6306803253250
Option 2 ID : 6306803253252
Option 3 ID : 6306803253249
Option 4 ID : 6306803253251

Q.8 Which of the following is needed for the growth and repair of our body?

- Ans 1. Proteins
 2. Minerals
 3. Vitamins
 4. Starch

Question ID : 630680830381
Option 1 ID : 6306803252619
Option 2 ID : 6306803252620
Option 3 ID : 6306803252618
Option 4 ID : 6306803252617

Q.9 The RBI can influence money supply by changing the rate at which it gives loans to the commercial banks. This rate is called the _____ in India.

- Ans 1. Reverse Repo Rate
 2. Statutory Liquidity Ratio
 3. Cash Reserve Ratio
 4. Bank Rate

Question ID : 630680830515
Option 1 ID : 6306803253154
Option 2 ID : 6306803253155
Option 3 ID : 6306803253153
Option 4 ID : 6306803253156

Q.10 Bathukamma is a unique flower festival of which state of India?

- Ans 1. Goa
 2. Telangana
 3. Himachal Pradesh
 4. Arunachal Pradesh

Question ID : 630680830365
Option 1 ID : 6306803252553
Option 2 ID : 6306803252556
Option 3 ID : 6306803252554
Option 4 ID : 6306803252555

Q.11 Originally, how many languages were included in the 8th Schedule of the Indian constitution?

- Ans 1. 18
 2. 10
 3. 22
 4. 14

Question ID : 630680830403
Option 1 ID : 6306803252707
Option 2 ID : 6306803252705
Option 3 ID : 6306803252708
Option 4 ID : 6306803252706

Q.12 Which of the following festivals is related to the Indian state of Kerala?

- Ans 1. Chhath
 2. Teej
 3. Onam
 4. Bihu

Question ID : 630680830366
Option 1 ID : 6306803252557
Option 2 ID : 6306803252558
Option 3 ID : 6306803252560
Option 4 ID : 6306803252559

Q.13 Which of the following is a micronutrient?

- Ans 1. Carbohydrates
 2. Fats
 3. Iodine
 4. Proteins

Question ID : 630680830580
Option 1 ID : 6306803253413
Option 2 ID : 6306803253416
Option 3 ID : 6306803253414
Option 4 ID : 6306803253415

Q.14 Which of the following is NOT a positive impact of science and technology?

- Ans 1. Better Communication
 2. Reduced Social Engagement
 3. Enhanced Information Access
 4. Efficiency Gains

Question ID : 630680830582
Option 1 ID : 6306803253421
Option 2 ID : 6306803253424
Option 3 ID : 6306803253422
Option 4 ID : 6306803253423

Q.15 The oldest Veda is the Rigveda, composed about _____ years ago.

- Ans 1. 8500
 2. 2000
 3. 6500
 4. 3500

Question ID : 630680830362
Option 1 ID : 6306803252544
Option 2 ID : 6306803252541
Option 3 ID : 6306803252543
Option 4 ID : 6306803252542

Q.16 The need for banks to keep some reserves in liquid form in the short term, is called which of the following?

- Ans
- 1. Cash Reserve Ratio
 - 2. Statutory Liquid Ratio
 - 3. Repo Rate
 - 4. Bank Rate

Question ID : 630680830394
Option 1 ID : 6306803252669
Option 2 ID : 6306803252670
Option 3 ID : 6306803252671
Option 4 ID : 6306803252672

Q.17 Who among the following controls the monetary policy of India?

- Ans
- 1. National Bank For Agriculture And Rural Development
 - 2. Finance Minister
 - 3. Reserve Bank of India
 - 4. Securities and Exchange Board of India

Question ID : 630680830356
Option 1 ID : 6306803252517
Option 2 ID : 6306803252519
Option 3 ID : 6306803252520
Option 4 ID : 6306803252518

Q.18 The proportion of Sikh population has declined by what percentage point (PP) during the decade 2001-2011?

- Ans
- 1. 0.6 PP
 - 2. 0.2 PP
 - 3. 0.8 PP
 - 4. 0.4 PP

Question ID : 630680830532
Option 1 ID : 6306803253223
Option 2 ID : 6306803253221
Option 3 ID : 6306803253224
Option 4 ID : 6306803253222

Q.19 Which of the following statements is correct about hydrogen sulphide (H₂S)?

- I. H₂S is mainly known for its foul smell like rotten eggs.
- II. It may cause fatigue of sense of smell only in short time.

- Ans
- 1. Both I and II
 - 2. Only I
 - 3. Only II
 - 4. Neither I nor II

Question ID : 630680830383
Option 1 ID : 6306803252627
Option 2 ID : 6306803252625
Option 3 ID : 6306803252626
Option 4 ID : 6306803252628

Q.20 Lushai language is spoken in which state of India?

- Ans 1. Mizoram
 2. Jammu and Kashmir
 3. Uttarakhand
 4. Himachal Pradesh

Question ID : 630680830524
Option 1 ID : 6306803253192
Option 2 ID : 6306803253190
Option 3 ID : 6306803253189
Option 4 ID : 6306803253191

Section : General Awareness 2

Q.1 Sati was banned in which year in British India?

- Ans 1. 1829
 2. 1814
 3. 1853
 4. 1820

Question ID : 630680830518
Option 1 ID : 6306803253167
Option 2 ID : 6306803253165
Option 3 ID : 6306803253168
Option 4 ID : 6306803253166

Q.2 In 1917 Mahatma Gandhi travelled to Champaran to inspire the peasants to struggle against the oppressive plantation system. Champaran is located in which state of India?

- Ans 1. Bihar
 2. Maharashtra
 3. Gujarat
 4. Punjab

Question ID : 630680830397
Option 1 ID : 6306803252681
Option 2 ID : 6306803252683
Option 3 ID : 6306803252682
Option 4 ID : 6306803252684

Q.3 Which of the following statements is correct regarding the qualifications for election as President?

- I. He is a citizen of India.
II. He has completed the age of thirty-five years.

- Ans 1. Neither I nor II
 2. Both I and II
 3. Only I
 4. Only II

Question ID : 630680830537
Option 1 ID : 6306803253244
Option 2 ID : 6306803253243
Option 3 ID : 6306803253241
Option 4 ID : 6306803253242

Q.4 Which of the following was the sex ratio in the economically active age group (15-59 years) as per 2011 census?

- Ans
- 1. 723
 - 2. 657
 - 3. 944
 - 4. 847

Question ID : 630680830571
Option 1 ID : 6306803253378
Option 2 ID : 6306803253377
Option 3 ID : 6306803253380
Option 4 ID : 6306803253379

Q.5 Which of the following statements is NOT correct about the Vice President of India?

- Ans
- 1. The Vice President may be removed from his office by a resolution of the Rajya Sabha passed by a majority and agreed to by the Lok Sabha.
 - 2. He takes over the office of the President when there is a vacancy by reasons of death, resignation, removal by impeachment or otherwise.
 - 3. The Vice President acts as the exofficio Chairman of the Lok Sabha.
 - 4. The Vice President is elected for five years.

Question ID : 630680830576
Option 1 ID : 6306803253399
Option 2 ID : 6306803253400
Option 3 ID : 6306803253398
Option 4 ID : 6306803253397

Q.6 The Global Biodiversity Framework (GBF) Fund was launched in which year?

- Ans
- 1. 2020
 - 2. 2021
 - 3. 2023
 - 4. 2022

Question ID : 630680830467
Option 1 ID : 6306803252964
Option 2 ID : 6306803252963
Option 3 ID : 6306803252961
Option 4 ID : 6306803252962

Q.7 Which of the following institutions is not mentioned in the Constitution of India?

- Ans
- 1. Election commission
 - 2. Planning commission
 - 3. Union public service commission
 - 4. Finance commission

Question ID : 630680830375
Option 1 ID : 6306803252596
Option 2 ID : 6306803252595
Option 3 ID : 6306803252594
Option 4 ID : 6306803252593

Q.8 National Mission on Edible Oils – Oil Palm was launched in which of the following year?

- Ans 1. 2023
 2. 2018
 3. 2015
 4. 2021

Question ID : 630680830390
Option 1 ID : 6306803252656
Option 2 ID : 6306803252654
Option 3 ID : 6306803252653
Option 4 ID : 6306803252655

Q.9 Who among the following was the founder of Rashtrakuta dynasty?

- Ans 1. Vasudeva Chauhan
 2. Pulakeshin I
 3. Gopala
 4. Dantidurga

Question ID : 630680830440
Option 1 ID : 6306803252856
Option 2 ID : 6306803252855
Option 3 ID : 6306803252853
Option 4 ID : 6306803252854

Q.10 The Ministry of Health and Family Welfare launched a nationwide Universal Drug Administration (MDA) campaign to eliminate which of the following diseases?

- Ans 1. Pelvic cancer
 2. Lymphatic Filariasis
 3. Sickle cell anemia
 4. Japanese Encephalitis

Question ID : 630680830432
Option 1 ID : 6306803252823
Option 2 ID : 6306803252822
Option 3 ID : 6306803252824
Option 4 ID : 6306803252821

Q.11 Compulsory acquisition of property was omitted by which constitutional amendment act of India?

- Ans 1. Forty-fourth Amendment Act
 2. Twenty-fourth Amendment Act
 3. Seventh Amendment Act
 4. Thirty-sixth Amendment Act

Question ID : 630680830454
Option 1 ID : 6306803252912
Option 2 ID : 6306803252910
Option 3 ID : 6306803252909
Option 4 ID : 6306803252911

Q.12 Maharashtra Government 'Lek Ladki' scheme is effective for girls born after which year?

- Ans
- 1. 1st April 2020
 - 2. 1st April 2021
 - 3. 1st April 2022
 - 4. 1st April 2023

Question ID : 630680830348
Option 1 ID : 6306803252488
Option 2 ID : 6306803252487
Option 3 ID : 6306803252486
Option 4 ID : 6306803252485

Q.13 Which among the following city hosted India's opening two home matches in the FIFA World Cup 2026 and AFC Asian Cup 2027 Preliminary Joint Qualification Round 2?

- Ans
- 1. Nasik
 - 2. Bhubaneswar
 - 3. Kolkata
 - 4. Bhopal

Question ID : 630680830465
Option 1 ID : 6306803252956
Option 2 ID : 6306803252953
Option 3 ID : 6306803252955
Option 4 ID : 6306803252954

Q.14 International Conference on Spacecraft Mission Operations (SMOPS-2023) was organized by the Indian Space Research Organization (ISRO) in collaboration with which of the following organizations in June 2023?

- I. Italian Space Agency
- II. International Academy of Astronautics

- Ans
- 1. Only II
 - 2. Neither I nor II
 - 3. Only I
 - 4. Both I and II

Question ID : 630680830393
Option 1 ID : 6306803252666
Option 2 ID : 6306803252668
Option 3 ID : 6306803252665
Option 4 ID : 6306803252667

Q.15 In which of the following year Babur defeated the Sultan of Delhi, Ibrahim Lodi, at Panipat?

- Ans
- 1. 1320
 - 2. 1387
 - 3. 1526
 - 4. 1497

Question ID : 630680830479
Option 1 ID : 6306803253009
Option 2 ID : 6306803253010
Option 3 ID : 6306803253012
Option 4 ID : 6306803253011

Q.16 Odia scientist Swati Nayak won which of the following international awards in September 2023?

- Ans
- 1. Champions of the Earth
 - 2. Nobel peace prize
 - 3. Goldman Environmental Prize
 - 4. Norman Borlaug Field Award

Question ID : 630680830346
Option 1 ID : 6306803252478
Option 2 ID : 6306803252477
Option 3 ID : 6306803252480
Option 4 ID : 6306803252479

Q.17 When was the 'Mera Yuva Bharat (MY Bharat)' platform for youth of the India launched?

- Ans
- 1. October 31st 2021
 - 2. October 31st 2020
 - 3. October 31st 2023
 - 4. October 31st 2022

Question ID : 630680830469
Option 1 ID : 6306803252971
Option 2 ID : 6306803252972
Option 3 ID : 6306803252969
Option 4 ID : 6306803252970

Q.18 Which article of the Indian Constitution provides for abolition of titles?

- Ans
- 1. Article 22
 - 2. Article 23
 - 3. Article 15
 - 4. Article 18

Question ID : 630680830373
Option 1 ID : 6306803252587
Option 2 ID : 6306803252588
Option 3 ID : 6306803252585
Option 4 ID : 6306803252586

Q.19 What is the name of the program announced by the Government of India to connect Indian STEMM diaspora with Indian higher educational institutions in June 2023?

- Ans
- 1. VAIBHAV Fellowship
 - 2. Gandhi Fellowship
 - 3. Dr. Babasaheb Ambedkar National Research Fellowship (BANRF)
 - 4. JC Bose fellowship

Question ID : 630680830431
Option 1 ID : 6306803252817
Option 2 ID : 6306803252820
Option 3 ID : 6306803252819
Option 4 ID : 6306803252818

Q.20 Khelo India Youth Games (KIYG) 2023 was held in how many cities of Tamil Nadu from January 19-31, 2024?

- Ans
- 1. 9
 - 2. 4
 - 3. 6
 - 4. 8

Question ID : 630680830344
Option 1 ID : 6306803252472
Option 2 ID : 6306803252469
Option 3 ID : 6306803252470
Option 4 ID : 6306803252471

Section : Arithmetical and Numerical Ability 1

Q.1 An item is sold for Rs. 1248 after two successive discounts of 20 percent and 40 percent. What is the marked price of the article?

- Ans
- 1. Rs. 2400
 - 2. Rs. 2500
 - 3. Rs. 2600
 - 4. Rs. 2800

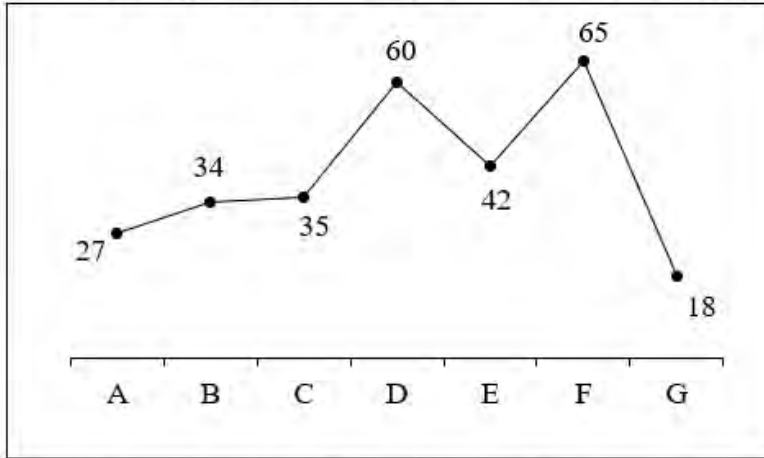
Question ID : 630680831615
Option 1 ID : 6306803257506
Option 2 ID : 6306803257507
Option 3 ID : 6306803257505
Option 4 ID : 6306803257508

Q.2 What is the value of $5.2\bar{4}3$?

- Ans
- 1. $\frac{4719}{900}$
 - 2. $\frac{4719}{99}$
 - 3. $\frac{5243}{99}$
 - 4. $\frac{5243}{900}$

Question ID : 630680831721
Option 1 ID : 6306803257931
Option 2 ID : 6306803257929
Option 3 ID : 6306803257932
Option 4 ID : 6306803257930

Q.3 The line chart given below shows the number of pens sold by 7 shops.



What is the total number of pens sold by A, B, C and D?

- Ans
- 1. 156
 - 2. 140
 - 3. 180
 - 4. 185

Question ID : 630680831596

Option 1 ID : 6306803257430

Option 2 ID : 6306803257429

Option 3 ID : 6306803257431

Option 4 ID : 6306803257432

Q.4 What is the value of $\left[\frac{1}{2} + \frac{1}{4} + \frac{1}{8}\right] \times \left[\frac{1}{3} + \frac{1}{5}\right]$?

- Ans
- 1. $\frac{7}{15}$
 - 2. $\frac{16}{30}$
 - 3. $\frac{18}{15}$
 - 4. $\frac{9}{30}$

Question ID : 630680831600

Option 1 ID : 6306803257445

Option 2 ID : 6306803257448

Option 3 ID : 6306803257447

Option 4 ID : 6306803257446

Q.5 A sum invested at the same rate of compound interest (compounded annually) becomes ₹ 1800 in 3 years and ₹ 7200 in 6 years. What is the sum?

- Ans
- 1. ₹ 900
 - 2. ₹ 450
 - 3. ₹ 500
 - 4. ₹ 600

Question ID : 630680831712

Option 1 ID : 6306803257895

Option 2 ID : 6306803257896

Option 3 ID : 6306803257893

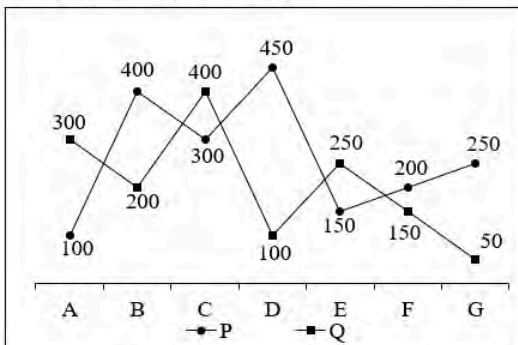
Option 4 ID : 6306803257894

Q.6 A single discount of 50 percent is given on the marked price of an article of ₹ 1050. If two successive discounts of 40 percent and 10 percent are given, then what will be the difference between both the selling prices?

- Ans
- 1. ₹ 36
 - 2. ₹ 38
 - 3. ₹ 40
 - 4. ₹ 42

Question ID : 630680831816
Option 1 ID : 6306803258312
Option 2 ID : 6306803258311
Option 3 ID : 6306803258310
Option 4 ID : 6306803258309

Q.7 The line chart below shows the salary (in ₹ thousands) of 7 employees (A, B, C, D, E, F and G) of a company for the year P and Q.



What is the ratio of salary of A to the salary of C in year P?

- Ans
- 1. 1 : 5
 - 2. 1 : 3
 - 3. 1 : 2
 - 4. 1 : 4

Question ID : 630680831757
Option 1 ID : 6306803258076
Option 2 ID : 6306803258073
Option 3 ID : 6306803258075
Option 4 ID : 6306803258074

Q.8 Among $\frac{6}{7}$, $\frac{7}{8}$, $\frac{7}{15}$ and $\frac{6}{13}$, how many of these fractions lie between $\frac{1}{2}$ and $\frac{2}{3}$?

- Ans
- 1. 1
 - 2. 3
 - 3. 4
 - 4. 0

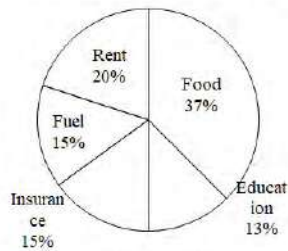
Question ID : 630680831605
Option 1 ID : 6306803257467
Option 2 ID : 6306803257465
Option 3 ID : 6306803257468
Option 4 ID : 6306803257466

Q.9 Which of the following number is divisible by 12?

- Ans
- 1. 5636
 - 2. 8572
 - 3. 4948
 - 4. 7344

Question ID : 630680831764
Option 1 ID : 6306803258103
Option 2 ID : 6306803258102
Option 3 ID : 6306803258104
Option 4 ID : 6306803258101

Q.10 The given pie chart shows the monthly expenditure of a family for a particular month. Expenditure done on a particular item is shown in terms of percentage with respect to total expenditure done on the given items.
The total monthly expenditure for the given month is Rs. 72000.



The expenditure done on food and rent together is approximately what percent more than the expenditure done on education and rent together?

- Ans
- 1. 52.52 percent
 - 2. 64.64 percent
 - 3. 72.73 percent
 - 4. 38.38 percent

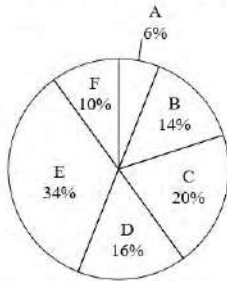
Question ID : 630680831635
Option 1 ID : 6306803257588
Option 2 ID : 6306803257586
Option 3 ID : 6306803257585
Option 4 ID : 6306803257587

Q.11 What is the value of $0.961 \div 0.31$?

- Ans
- 1. 3.1
 - 2. 0.31
 - 3. 31
 - 4. 310

Question ID : 630680831799
Option 1 ID : 6306803258243
Option 2 ID : 6306803258244
Option 3 ID : 6306803258242
Option 4 ID : 6306803258241

Q.12 The pie chart given below shows the marks obtained by a student in 6 different subjects. The total marks obtained by the student is 800. The marks of every subject is shown as a percentage of the total marks obtained in these 6 subjects.



What is the ratio of the marks obtained in C to the marks obtained in F?

- Ans**
- 1. 2 : 1
 - 2. 4 : 1
 - 3. 3 : 1
 - 4. 2 : 3

Question ID : 630680831598
Option 1 ID : 6306803257437
Option 2 ID : 6306803257439
Option 3 ID : 6306803257438
Option 4 ID : 6306803257440

Q.13 X invested ₹ 7000 for 2 years at compound interest (compounded annually) in a company which paid him interest of ₹ 2746.8. What will be the annual rate of interest at which X invested his money?

- Ans**
- 1. 20 percent
 - 2. 24 percent
 - 3. 15 percent
 - 4. 18 percent

Question ID : 630680831714
Option 1 ID : 6306803257902
Option 2 ID : 6306803257904
Option 3 ID : 6306803257903
Option 4 ID : 6306803257901

Q.14 Which of the following numbers is divisible by 24?

- Ans**
- 1. 7472
 - 2. 4892
 - 3. 5848
 - 4. 6744

Question ID : 630680831682
Option 1 ID : 6306803257775
Option 2 ID : 6306803257776
Option 3 ID : 6306803257773
Option 4 ID : 6306803257774

Q.15 What is the value of $11^3 + 13^3 + 15^3 + \dots + 29^3$?

- Ans
- 1. 89800
 - 2. 97800
 - 3. 96800
 - 4. 99800

Question ID : 630680831646
Option 1 ID : 6306803257632
Option 2 ID : 6306803257630
Option 3 ID : 6306803257629
Option 4 ID : 6306803257631

Q.16 The average weight of 23 students is 59 kg. After including a new student in that group the average weight rises by 1.5 kg. What is the weight of the new student?

- Ans
- 1. 99 kg
 - 2. 100 kg
 - 3. 95 kg
 - 4. 98 kg

Question ID : 630680831668
Option 1 ID : 6306803257718
Option 2 ID : 6306803257719
Option 3 ID : 6306803257717
Option 4 ID : 6306803257720

Q.17 In how many years will a sum of ₹ 17000 give compound interest (compounded annually) of ₹ 7480 at the rate of 20 percent per annum?

- Ans
- 1. 1
 - 2. 4
 - 3. 2
 - 4. 3

Question ID : 630680831793
Option 1 ID : 6306803258220
Option 2 ID : 6306803258219
Option 3 ID : 6306803258218
Option 4 ID : 6306803258217

Q.18 The average height of M, N and O is 152 cm. If the average height of M and N is 140 cm and the average height of N and O is 129 cm, then what is the height of N?

- Ans
- 1. 61 cm
 - 2. 65 cm
 - 3. 82 cm
 - 4. 71 cm

Question ID : 630680831587
Option 1 ID : 6306803257394
Option 2 ID : 6306803257393
Option 3 ID : 6306803257396
Option 4 ID : 6306803257395

Q.19 A boy spends ₹ 45 to purchase toffees at ₹ 1.50 each. Next day, he purchased some toffees for ₹ 90 with a discount of 25 paise per toffee. What is the average price per toffee?

- Ans**
- 1. ₹ 1.26
 - 2. ₹ 1.14
 - 3. ₹ 1.48
 - 4. ₹ 1.32

Question ID : 630680831749
Option 1 ID : 6306803258043
Option 2 ID : 6306803258044
Option 3 ID : 6306803258042
Option 4 ID : 6306803258041

Q.20 What is the value of $1^3 + 2^3 + 3^3 + \dots + 10^3$?

- Ans**
- 1. 3025
 - 2. 3525
 - 3. 4025
 - 4. 3925

Question ID : 630680831763
Option 1 ID : 6306803258098
Option 2 ID : 6306803258099
Option 3 ID : 6306803258097
Option 4 ID : 6306803258100

Section : Arithmetical and Numerical Ability 2

Q.1 The difference between the compound interest (compounding half yearly) for 1 year and the simple interest for 1 year on a certain sum lent out at the annual rate of 50 percent is Rs.1250. What is the sum?

- Ans**
- 1. Rs. 20000
 - 2. Rs. 25000
 - 3. Rs. 27000
 - 4. Rs. 30000

Question ID : 630680831671
Option 1 ID : 6306803257730
Option 2 ID : 6306803257729
Option 3 ID : 6306803257731
Option 4 ID : 6306803257732

Q.2 The ratio of milk and water in three cups is in the ratio 11 : 10, 10 : 13, 2 : 1, respectively. 21 litres of first and 23 litres of second cup are taken. How much quantity from the third cup should be taken so that the final mixture from the three cups will have milk and water in ratio 1 : 1?

- Ans**
- 1. 3 litres
 - 2. 9 litres
 - 3. 6 litres
 - 4. 12 litres

Question ID : 630680831780
Option 1 ID : 6306803258166
Option 2 ID : 6306803258167
Option 3 ID : 6306803258165
Option 4 ID : 6306803258168

Q.3 If $(\frac{8}{3})T = 3V = (\frac{3}{8})S$, then what is the value of T : V : S?

- Ans
- 1. 9 : 7 : 63
 - 2. 9 : 8 : 64
 - 3. 63 : 9 : 7
 - 4. 8 : 6 : 3

Question ID : 630680831617
Option 1 ID : 6306803257514
Option 2 ID : 6306803257513
Option 3 ID : 6306803257516
Option 4 ID : 6306803257515

Q.4 The profit earned on selling an article is 200 percent of the cost price. If the cost price increases by 50 percent and the selling price remains the same, then the new profit is what percent of the selling price?

- Ans
- 1. 80 percent
 - 2. 150 percent
 - 3. 120 percent
 - 4. 50 percent

Question ID : 630680831774
Option 1 ID : 6306803258142
Option 2 ID : 6306803258141
Option 3 ID : 6306803258144
Option 4 ID : 6306803258143

Q.5 By selling 100 pens for Rs. ₹ 1800 a retailer loses 10 percent. To make a profit of 20 percent, how many pens should he sell for Rs. 1440?

- Ans
- 1. 60
 - 2. 66
 - 3. 50
 - 4. 72

Question ID : 630680831813
Option 1 ID : 6306803258298
Option 2 ID : 6306803258300
Option 3 ID : 6306803258299
Option 4 ID : 6306803258297

Q.6 If price of each apple is increased by 60 percent, then a person can buy 12 apples less for Rs. 64. What is the original price of an apple?

- Ans
- 1. Rs. 4
 - 2. Rs. 8
 - 3. Rs. 3
 - 4. Rs. 2

Question ID : 630680831651
Option 1 ID : 6306803257651
Option 2 ID : 6306803257650
Option 3 ID : 6306803257652
Option 4 ID : 6306803257649

Q.7 25 percent of 44 percent of a number is 121. What is the value of 16 percent of that number?

- Ans
- 1. 210
 - 2. 200
 - 3. 176
 - 4. 194

Question ID : 630680831688
Option 1 ID : 6306803257800
Option 2 ID : 6306803257799
Option 3 ID : 6306803257797
Option 4 ID : 6306803257798

Q.8 Vivek starts moving at the speed of 64 km/hr at 10:00 am. Neeraj starts moving after 3 hours of Vivek at the speed of 96 km/hr. Both Vivek and Neeraj started from the same point and moved in the same direction. Which of the following statement(s) is/are correct?

- I. Neeraj and Vivek meet each other at 7 pm.
- II. Total distance covered by both Neeraj and Vivek till 6 pm is 992 km.

- Ans
- 1. Only II
 - 2. Only I
 - 3. Neither I nor II
 - 4. Both I and II

Question ID : 630680831706
Option 1 ID : 6306803257870
Option 2 ID : 6306803257869
Option 3 ID : 6306803257871
Option 4 ID : 6306803257872

Q.9 If a number Z1 is 95 percent less than another number Z2 and Z2 is 5 percent more than 3200, then what is the value of Z1?

- Ans
- 1. 172
 - 2. 168
 - 3. 156
 - 4. 166

Question ID : 630680831647
Option 1 ID : 6306803257634
Option 2 ID : 6306803257635
Option 3 ID : 6306803257636
Option 4 ID : 6306803257633

Q.10 Two pipes A and B can fill an empty tank alone in 90 hours and 135 hours respectively. Pipe C alone can empty that completely filled tank in 108 hours. At first both pipes A and B are opened and after 48 hours pipe C is also opened. In how much time from the beginning will the tank be completely filled?

- Ans
- 1. 52 hours
 - 2. 55 hours
 - 3. 50 hours
 - 4. 60 hours

Question ID : 630680831622
Option 1 ID : 6306803257536
Option 2 ID : 6306803257533
Option 3 ID : 6306803257534
Option 4 ID : 6306803257535

Q.11 A car is moving at a speed of 70 m/s. What will be the speed of this car in km/hr?

- Ans
- 1. 252 km/hr
 - 2. 240 km/hr
 - 3. 264 km/hr
 - 4. 276 km/hr

Question ID : 630680831623
Option 1 ID : 6306803257538
Option 2 ID : 6306803257537
Option 3 ID : 6306803257539
Option 4 ID : 6306803257540

Q.12 Two people S and U are at a distance of 120 km from each other at 11:45 am. After 15 mins, S starts moving towards U at a speed of 24 km/hr while at 2 pm, U starts moving away from S (in the same direction) at a speed of 20 km/hr. At what time will they meet on the next day?

- Ans
- 1. 8:00 am
 - 2. 5:00 am
 - 3. 10:00 am
 - 4. 9:00 am

Question ID : 630680831785
Option 1 ID : 6306803258188
Option 2 ID : 6306803258187
Option 3 ID : 6306803258186
Option 4 ID : 6306803258185

Q.13 If $x = (2/3)y$ and $y = (3/4)z$, then what is the value of $x : y : z$?

- Ans
- 1. 5 : 3 : 2
 - 2. 2 : 5 : 3
 - 3. 2 : 3 : 5
 - 4. 2 : 3 : 4

Question ID : 630680831778
Option 1 ID : 6306803258160
Option 2 ID : 6306803258159
Option 3 ID : 6306803258158
Option 4 ID : 6306803258157

Q.14 The radius of a circle is increased by 25 percent. What will be the percentage increase in its area?

- Ans
- 1. 50 percent
 - 2. 62.5 percent
 - 3. 45.5 percent
 - 4. 56.25 percent

Question ID : 630680831649
Option 1 ID : 6306803257641
Option 2 ID : 6306803257643
Option 3 ID : 6306803257644
Option 4 ID : 6306803257642

Q.15 The speed of stream is 20 km/hr and the speed of boat in still water is 25 km/hr. How much total time will boat take to cover the distance of 4 km upstream and 9 km downstream?

- Ans
- 1. 1.5 hours
 - 2. 1 hour
 - 3. 5 hours
 - 4. 3 hours

Question ID : 630680831824
Option 1 ID : 6306803258342
Option 2 ID : 6306803258341
Option 3 ID : 6306803258344
Option 4 ID : 6306803258343

Q.16 P alone can complete a piece of work in 36 days. Q and R together can complete the same work in 45 days. In how many days can P, Q and R together complete the same work?

- Ans
- 1. 22 days
 - 2. 20 days
 - 3. 25 days
 - 4. 15 days

Question ID : 630680831701
Option 1 ID : 6306803257849
Option 2 ID : 6306803257851
Option 3 ID : 6306803257852
Option 4 ID : 6306803257850

Q.17 If the time period increases by 15 years, then simple interest increases by ₹ 7500 on a sum of ₹ 2000. What is the annual rate of interest?

- Ans
- 1. 33 percent
 - 2. 32 percent
 - 3. 20 percent
 - 4. 25 percent

Question ID : 630680831750
Option 1 ID : 6306803258046
Option 2 ID : 6306803258045
Option 3 ID : 6306803258048
Option 4 ID : 6306803258047

Q.18 The ratio of number of boys and girls in a college is 9 : 2. If 20 boys leave the college and 20 more girls join the college, then their ratio becomes 8 : 3. What is the initial number of boys in the college?

- Ans
- 1. 20
 - 2. 180
 - 3. 120
 - 4. 160

Question ID : 630680831819
Option 1 ID : 6306803258324
Option 2 ID : 6306803258322
Option 3 ID : 6306803258323
Option 4 ID : 6306803258321

Q.19 If 9 times of selling price of an article is equal of 10 times the cost price, then what is the profit percentage? (correct to two decimal places)

- Ans**
- 1. 11.11 percent
 - 2. 9.09 percent
 - 3. 10 percent
 - 4. 15 percent

Question ID : 630680831732
Option 1 ID : 6306803257973
Option 2 ID : 6306803257974
Option 3 ID : 6306803257975
Option 4 ID : 6306803257976

Q.20 J, K and L are three students. J got 52 percent less marks than K and 56 percent more marks than L. If K got 1300 marks, then what are the marks got by L?

- Ans**
- 1. 400
 - 2. 420
 - 3. 410
 - 4. 430

Question ID : 630680831730
Option 1 ID : 6306803257966
Option 2 ID : 6306803257967
Option 3 ID : 6306803257965
Option 4 ID : 6306803257968

Section : Test of English Language and Comprehension 1

Q.1 Choose the correct synonym of the word given below.
Prevaricate

- Ans**
- 1. prepare
 - 2. ponder
 - 3. truthful
 - 4. deceive

Question ID : 630680830231
Option 1 ID : 6306803252030
Option 2 ID : 6306803252031
Option 3 ID : 6306803252029
Option 4 ID : 6306803252032

Q.2 Select the most appropriate option for the given blank.
The hiker decided to _____ his soul by spending a week in the wilderness.

- Ans**
- 1. bore
 - 2. bear
 - 3. bare
 - 4. boar

Question ID : 630680830067
Option 1 ID : 6306803251407
Option 2 ID : 6306803251406
Option 3 ID : 6306803251405
Option 4 ID : 6306803251408

Q.3 Choose the idiom/phrase that can substitute the highlighted group of words meaningfully.
Now that the other team has lost its star player due to injury, we really have a position of advantage over them.

- Ans
- 1. Pulled a few strings
 - 2. Have the upper hand
 - 3. Know which way the wind blows
 - 4. Bear fruit

Question ID : 630680830060
Option 1 ID : 6306803251379
Option 2 ID : 6306803251378
Option 3 ID : 6306803251377
Option 4 ID : 6306803251380

Q.4 Select the most appropriate option to fill in the blank.
She grasped his hand in _____ gesture of sympathy.

- Ans
- 1. No article
 - 2. An
 - 3. A
 - 4. the

Question ID : 630680830078
Option 1 ID : 6306803251448
Option 2 ID : 6306803251446
Option 3 ID : 6306803251445
Option 4 ID : 6306803251447

Q.5 In the following question, out of the given four alternatives, select the alternative which best expresses the meaning of the Idiom/Phrase.
To run the gauntlet

- Ans
- 1. To mediate between two parties
 - 2. To run a difficult task
 - 3. To undergo severe criticism or attack
 - 4. To run half heartedly

Question ID : 630680830229
Option 1 ID : 6306803252023
Option 2 ID : 6306803252021
Option 3 ID : 6306803252022
Option 4 ID : 6306803252024

Q.6 Select the most appropriate option for the given blank.
My science teacher is my _____ model.

- Ans
- 1. Robe
 - 2. Roll
 - 3. Rope
 - 4. Role

Question ID : 630680830110
Option 1 ID : 6306803251569
Option 2 ID : 6306803251571
Option 3 ID : 6306803251570
Option 4 ID : 6306803251572

Q.7 Select the most appropriate option to fill in the blank.

Asia _____ the largest continent on the earth.

- Ans 1. Have
 2. is
 3. Were
 4. are

Question ID : 630680830081
Option 1 ID : 6306803251458
Option 2 ID : 6306803251459
Option 3 ID : 6306803251460
Option 4 ID : 6306803251457

Q.8 Improve the underlined part of the sentence. Choose 'No improvement' as an answer if the sentence is grammatically correct.

Thousands of seabirds nestled in the small isle.

- Ans 1. No improvement
 2. nesting on
 3. nestled on
 4. nest at

Question ID : 630680830043
Option 1 ID : 6306803251316
Option 2 ID : 6306803251314
Option 3 ID : 6306803251313
Option 4 ID : 6306803251315

Q.9 Choose the most appropriate antonym of the underlined word.

She despised him for the way he treated her.

- Ans 1. Flighty
 2. Developed
 3. Idolised
 4. Loved

Question ID : 630680830233
Option 1 ID : 6306803252039
Option 2 ID : 6306803252038
Option 3 ID : 6306803252037
Option 4 ID : 6306803252040

Q.10 In the following question, out of the given four alternatives, select the alternative which best expresses the meaning of the Idiom/Phrase.

To turn up one's nose at

- Ans 1. To mollify someone
 2. To regard with contempt
 3. To ignore someone
 4. To interfere in someone's matter

Question ID : 630680830062
Option 1 ID : 6306803251388
Option 2 ID : 6306803251385
Option 3 ID : 6306803251386
Option 4 ID : 6306803251387

Q.11 Select the most appropriate option to fill in the blank.
She is a good woman who goes _____ her way to help others.

- Ans
- 1. along
 - 2. out of
 - 3. as
 - 4. by

Question ID : 630680829996
Option 1 ID : 6306803251135
Option 2 ID : 6306803251134
Option 3 ID : 6306803251136
Option 4 ID : 6306803251133

Q.12 Improve the underlined part of the sentence. Choose 'No improvement' as an answer if the sentence is grammatically correct.
I have filled feeders with seeds and nuts for I was a children.

- Ans
- 1. since I was a child
 - 2. No improvement
 - 3. for I were a children
 - 4. since I were a child

Question ID : 630680830003
Option 1 ID : 6306803251162
Option 2 ID : 6306803251164
Option 3 ID : 6306803251163
Option 4 ID : 6306803251161

Q.13 Select the most appropriate option to fill in the blank.
_____ this important juncture, we spoke to several experts from different fields.

- Ans
- 1. In
 - 2. At
 - 3. on
 - 4. To

Question ID : 630680830163
Option 1 ID : 6306803251771
Option 2 ID : 6306803251769
Option 3 ID : 6306803251770
Option 4 ID : 6306803251772

Q.14 Improve the underlined part of the sentence. Choose 'No improvement' as an answer if the sentence is grammatically correct.
The goals of community reforestation projects and those of funders doesn't align always.

- Ans
- 1. of funders didn't aligned
 - 2. No improvement
 - 3. off funders didn't align
 - 4. of funders don't align

Join Telegram Group "HaryanaJobs.in"

Question ID : 630680830004
Option 1 ID : 6306803251166
Option 2 ID : 6306803251168
Option 3 ID : 6306803251165
Option 4 ID : 6306803251167

Q.15 Select the most appropriate option to fill in the blank.
And with modern technology, it would be possible to distribute leisure _____.

- Ans
- 1. main
 - 2. mainly
 - 3. justly
 - 4. just

Question ID : 630680830166
Option 1 ID : 6306803251783
Option 2 ID : 6306803251782
Option 3 ID : 6306803251784
Option 4 ID : 6306803251781

Q.16 Select the most appropriate option to fill in the blank.
They live in a big house in _____ country.

- Ans
- 1. an
 - 2. No article
 - 3. the
 - 4. a

Question ID : 630680830035
Option 1 ID : 6306803251282
Option 2 ID : 6306803251284
Option 3 ID : 6306803251283
Option 4 ID : 6306803251281

Q.17 Improve the underlined part of the sentence. Choose 'No improvement' as an answer if the sentence is grammatically correct.
Wear leather gloves while pruned the rose bush.

- Ans
- 1. when prune
 - 2. when pruned
 - 3. when pruning
 - 4. No improvement

Question ID : 630680830212
Option 1 ID : 6306803251957
Option 2 ID : 6306803251959
Option 3 ID : 6306803251958
Option 4 ID : 6306803251960

Q.18 Improve the underlined part of the sentence. Choose 'No improvement' as an answer if the sentence is grammatically correct.
The wind gusted, and a speck of dirt blew into my eye.

- Ans
- 1. an speck of dirt blew into my
 - 2. No improvement
 - 3. a speck of an dirt blew into my
 - 4. the speck of the dirt blew into my

Question ID : 630680830000
Option 1 ID : 6306803251149
Option 2 ID : 6306803251152
Option 3 ID : 6306803251150
Option 4 ID : 6306803251151

Q.19 Choose the idiom/phrase that can substitute the highlighted group of words meaningfully.
Our new neighbour seizes every occasion to start a quarrel.

- Ans
- 1. Pick a fight
 - 2. A bolt from the blue
 - 3. Waiting in the wings
 - 4. A new lease of life

Question ID : 630680830017
Option 1 ID : 6306803251213
Option 2 ID : 6306803251215
Option 3 ID : 6306803251216
Option 4 ID : 6306803251214

Q.20 Improve the underlined part of the sentence. Choose 'No improvement' as an answer if the sentence is grammatically correct.
My great-grandfather was born during reign of Queen Victoria.

- Ans
- 1. while the reign
 - 2. during a reign
 - 3. during the reign
 - 4. No improvement

Question ID : 630680829999
Option 1 ID : 6306803251147
Option 2 ID : 6306803251145
Option 3 ID : 6306803251146
Option 4 ID : 6306803251148

Section : Test of English Language and Comprehension 2

Q.1 Choose the word that can substitute the given group of words.
One who does something for the sake of money (bad sense)

- Ans
- 1. Chauffeur
 - 2. Mercenary
 - 3. Sculptor
 - 4. Curator

Question ID : 630680830008
Option 1 ID : 6306803251184
Option 2 ID : 6306803251182
Option 3 ID : 6306803251183
Option 4 ID : 6306803251181

Q.2 Choose the most appropriate synonym of the underlined word.
Did the singer deserve such extravagant praise?

- Ans
- 1. Diaspora
 - 2. Reserve
 - 3. Excessive
 - 4. Hillock

Question ID : 630680830150
Option 1 ID : 6306803251721
Option 2 ID : 6306803251723
Option 3 ID : 6306803251722
Option 4 ID : 6306803251724

Q.3 Choose the word that can substitute the given group of words.
One strongly inclined to indulge in something repeatedly

- Ans 1. Criminal
 2. Addict
 3. Apiary
 4. Gambler

Question ID : 630680830094
Option 1 ID : 6306803251512
Option 2 ID : 6306803251511
Option 3 ID : 6306803251510
Option 4 ID : 6306803251509

Q.4 The sentences given in each question, when properly sequenced, form a coherent paragraph. Each sentence is labelled with a letter. Choose the most logical order of sentences from among the given choices to construct a coherent paragraph.

- A. Addressing water scarcity requires a multifaceted approach. Conservation efforts, such as reducing water wastage and adopting efficient irrigation techniques, play a crucial role.
B. Water, the essence of life, is under threat in many parts of the world due to growing water scarcity.
C. It is a global challenge caused by factors like overuse, pollution, and climate change.
D. To combat this crisis, efficient water management, conservation, and responsible usage are vital.
E. Water scarcity leads to droughts, crop failures, and waterborne diseases, affecting millions of people worldwide.

- Ans 1. BCDEA
 2. ABDCE
 3. CDAEB
 4. EABCD

Question ID : 630680830005
Option 1 ID : 6306803251169
Option 2 ID : 6306803251170
Option 3 ID : 6306803251171
Option 4 ID : 6306803251172

Q.5 Select the incorrectly spelt word from the given sentence.
But life itself is messy and unceremonious; it cannot stop too long for death without losing itself to the undertowe.

- Ans 1. undertowe
 2. losing
 3. unceremonious
 4. messy

Question ID : 630680830195
Option 1 ID : 6306803251896
Option 2 ID : 6306803251895
Option 3 ID : 6306803251894
Option 4 ID : 6306803251893

Q.6 Select the incorrectly spelt word from the given sentence.
A knock at the door interrupted him, and his face resumed its amiable expression.

- Ans
- 1. knock
 - 2. interrupted
 - 3. expresion
 - 4. amiable

Question ID : 630680830070
Option 1 ID : 6306803251417
Option 2 ID : 6306803251418
Option 3 ID : 6306803251420
Option 4 ID : 6306803251419

Q.7 Choose the word that can substitute the given group of words.
Being afraid of light, avoiding it

- Ans
- 1. Pellucid
 - 2. Lucifugous
 - 3. Luminous
 - 4. Lustre

Question ID : 630680830092
Option 1 ID : 6306803251504
Option 2 ID : 6306803251503
Option 3 ID : 6306803251502
Option 4 ID : 6306803251501

Q.8 Choose the correct antonym of the word given below.
Parched

- Ans
- 1. wilt
 - 2. arid
 - 3. humid
 - 4. dry

Question ID : 630680830190
Option 1 ID : 6306803251875
Option 2 ID : 6306803251873
Option 3 ID : 6306803251876
Option 4 ID : 6306803251874

Q.9 Rearrange the following sentences to form a coherent paragraph.
A. If the word is important, they can usually make a good guess about what it is.
B. What exercise is to the body, reading is to the mind.
C. There are different purposes for reading.
D. Children reading for their pleasure rarely stop to ask about the words.
E. One of them is deriving pleasure.

- Ans
- 1. BADEC
 - 2. BCEDA
 - 3. DBAEC
 - 4. EACDB

Question ID : 630680830216
Option 1 ID : 6306803251973
Option 2 ID : 6306803251975
Option 3 ID : 6306803251974
Option 4 ID : 6306803251976

Q.10 Choose the word that can substitute the given group of words
A person who presents a radio/television programme

- Ans 1. Brothel
 2. Yeoman
 3.
Anchor
 4. Samaritan

Question ID : 630680830177
Option 1 ID : 6306803251828
Option 2 ID : 6306803251825
Option 3 ID : 6306803251826
Option 4 ID : 6306803251827

Comprehension:

Read the following passage and answer the questions given below.
Migration (even excluding the marriage migration) affects the status of women directly or indirectly. In the rural areas, male selective out-migration leaving their wives behind puts extra physical as well mental pressure on the women. Migration of 'women' either for education or employment enhances their autonomy and role in the economy but also increases their vulnerability. If remittances are the major benefits of migration from the point of view of the source region, the loss of human resources particularly highly skilled people is the most serious cost. The market for advanced skills has become truly a global market and the most dynamic industrial economies are admitting and recruiting significant proportions of the highly trained professionals from poor regions. Consequently, the existing underdevelopment in the source region gets reinforced

SubQuestion No : 11

Q.11 Which word in the passage means the same as – transfer of fund?

- Ans 1. Autonomy
 2. Vulnerability
 3. Remittance
 4. Reinforced

Question ID : 630680830057
Option 1 ID : 6306803251366
Option 2 ID : 6306803251367
Option 3 ID : 6306803251368
Option 4 ID : 6306803251365

Comprehension:

Read the following passage and answer the questions given below.
Migration (even excluding the marriage migration) affects the status of women directly or indirectly. In the rural areas, male selective out-migration leaving their wives behind puts extra physical as well mental pressure on the women. Migration of 'women' either for education or employment enhances their autonomy and role in the economy but also increases their vulnerability. If remittances are the major benefits of migration from the point of view of the source region, the loss of human resources particularly highly skilled people is the most serious cost. The market for advanced skills has become truly a global market and the most dynamic industrial economies are admitting and recruiting significant proportions of the highly trained professionals from poor regions. Consequently, the existing underdevelopment in the source region gets reinforced

SubQuestion No : 12

Q.12 Choose a suitable title for the passage.

- Ans 1. Cause of migration from rural to urban areas.
 2. Gender Dynamics and Economic Implications of Migration
 3. Dynamics of industrial economy
 4. Women's migration in the world

Question ID : 630680830054
Option 1 ID : 6306803251355
Option 2 ID : 6306803251354
Option 3 ID : 6306803251356
Option 4 ID : 6306803251353

Comprehension:

Read the following passage and answer the questions given below.

Migration (even excluding the marriage migration) affects the status of women directly or indirectly. In the rural areas, male selective out-migration leaving their wives behind puts extra physical as well mental pressure on the women. Migration of 'women' either for education or employment enhances their autonomy and role in the economy but also increases their vulnerability. If remittances are the major benefits of migration from the point of view of the source region, the loss of human resources particularly highly skilled people is the most serious cost. The market for advanced skills has become truly a global market and the most dynamic industrial economies are admitting and recruiting significant proportions of the highly trained professionals from poor regions. Consequently, the existing underdevelopment in the source region gets reinforced

SubQuestion No : 13

Q.13 From the passage it can be inferred that _____.

- Ans
- 1. Migration of women for education and employment is beneficial from all aspects.
 - 2. Women migration is more common than men's migration.
 - 3. Migration helps in strengthening the economy of a place but at the cost of losing its human resource.
 - 4. Migration is beneficial for economy.

Question ID : 630680830058

Option 1 ID : 6306803251372

Option 2 ID : 6306803251369

Option 3 ID : 6306803251371

Option 4 ID : 6306803251370

Comprehension:

Read the following passage and answer the questions given below.

Migration (even excluding the marriage migration) affects the status of women directly or indirectly. In the rural areas, male selective out-migration leaving their wives behind puts extra physical as well mental pressure on the women. Migration of 'women' either for education or employment enhances their autonomy and role in the economy but also increases their vulnerability. If remittances are the major benefits of migration from the point of view of the source region, the loss of human resources particularly highly skilled people is the most serious cost. The market for advanced skills has become truly a global market and the most dynamic industrial economies are admitting and recruiting significant proportions of the highly trained professionals from poor regions. Consequently, the existing underdevelopment in the source region gets reinforced

SubQuestion No : 14

Q.14 What is the tone of the author in the passage?

- Ans
- 1. Reflective
 - 2. Critical
 - 3. Casual
 - 4. Pessimistic

Question ID : 630680830056

Option 1 ID : 6306803251361

Option 2 ID : 6306803251362

Option 3 ID : 6306803251364

Option 4 ID : 6306803251363

Comprehension:

Read the following passage and answer the questions given below.

Migration (even excluding the marriage migration) affects the status of women directly or indirectly. In the rural areas, male selective out-migration leaving their wives behind puts extra physical as well mental pressure on the women. Migration of 'women' either for education or employment enhances their autonomy and role in the economy but also increases their vulnerability. If remittances are the major benefits of migration from the point of view of the source region, the loss of human resources particularly highly skilled people is the most serious cost. The market for advanced skills has become truly a global market and the most dynamic industrial economies are admitting and recruiting significant proportions of the highly trained professionals from poor regions. Consequently, the existing underdevelopment in the source region gets reinforced

SubQuestion No : 15

Q.15 "If remittances are the major benefits of migration from the point of view of the source region,
" ...

In the above sentence, the highlighted words refer to _____.

Ans ✓ 1. The region from where the people have migrated out.

✗ 2. The source of economic growth

✗ 3. The region of industrial development

✗ 4. The region where people have migrated into.

Question ID : 630680830055

Option 1 ID : 6306803251359

Option 2 ID : 6306803251360

Option 3 ID : 6306803251357

Option 4 ID : 6306803251358

Comprehension:

Read the passage carefully and select the correct answers for the given blanks out of the four alternatives.

With the pace of developments in online technology, the relationship 1_____ the operation and administration of education and convergence culture bringing the online and the offline 2_____ in ever 3_____ -complex ways, and the increasing sophistication of the uses made of technology, it is imperative 4_____ schools keep abreast of current thinking 5_____ internet safety.

SubQuestion No : 16

Q.16 Select the most appropriate option for blank(4).

Ans ✗ 1. than

✗ 2. there

✓ 3. that

✗ 4. then

Question ID : 630680830033

Option 1 ID : 6306803251273

Option 2 ID : 6306803251275

Option 3 ID : 6306803251276

Option 4 ID : 6306803251274

Comprehension:

Read the passage carefully and select the correct answers for the given blanks out of the four alternatives.

With the pace of developments in online technology, the relationship 1_____ the operation and administration of education and convergence culture bringing the online and the offline 2_____ in ever 3_____ -complex ways, and the increasing sophistication of the uses made of technology, it is imperative 4_____ schools keep abreast of current thinking 5_____ internet safety.

SubQuestion No : 17

Q.17 Select the most appropriate option for blank(5).

- Ans 1. was regarding
 2. regarding
 3. is regarding
 4. are regarding

Question ID : 630680830034
Option 1 ID : 6306803251280
Option 2 ID : 6306803251278
Option 3 ID : 6306803251277
Option 4 ID : 6306803251279

Comprehension:

Read the passage carefully and select the correct answers for the given blanks out of the four alternatives.

With the pace of developments in online technology, the relationship 1_____ the operation and administration of education and convergence culture bringing the online and the offline 2_____ in ever 3_____ -complex ways, and the increasing sophistication of the uses made of technology, it is imperative 4_____ schools keep abreast of current thinking 5_____ internet safety.

SubQuestion No : 18

Q.18 Select the most appropriate option for blank(2).

- Ans 1. another
 2. altogether
 3. other
 4. together

Question ID : 630680830031
Option 1 ID : 6306803251266
Option 2 ID : 6306803251265
Option 3 ID : 6306803251268
Option 4 ID : 6306803251267

Comprehension:

Read the passage carefully and select the correct answers for the given blanks out of the four alternatives.

With the pace of developments in online technology, the relationship 1_____ the operation and administration of education and convergence culture bringing the online and the offline 2_____ in ever 3_____ -complex ways, and the increasing sophistication of the uses made of technology, it is imperative 4_____ schools keep abreast of current thinking 5_____ internet safety.

SubQuestion No : 19

Q.19 Select the most appropriate option for blank(1).

Ans 1. between

2. against

3. through

4. over

Question ID : 630680830030

Option 1 ID : 6306803251261

Option 2 ID : 6306803251263

Option 3 ID : 6306803251264

Option 4 ID : 6306803251262

Comprehension:

Read the passage carefully and select the correct answers for the given blanks out of the four alternatives.

With the pace of developments in online technology, the relationship 1_____ the operation and administration of education and convergence culture bringing the online and the offline 2_____ in ever 3_____ -complex ways, and the increasing sophistication of the uses made of technology, it is imperative 4_____ schools keep abreast of current thinking 5_____ internet safety.

SubQuestion No : 20

Q.20 Select the most appropriate option for blank(3).

Ans 1. much

2. lesser

3. less

4. more

Question ID : 630680830032

Option 1 ID : 6306803251272

Option 2 ID : 6306803251270

Option 3 ID : 6306803251269

Option 4 ID : 6306803251271

Section : Test of Hindi Language and Comprehension 1

Q.1 नीचे दिए गए शब्द का पर्यायवाची शब्द ज्ञात करें।
किरण

Ans 1. रश्मि

2. परिधान

3. पुस्तक

4. कलिका

Question ID : 630680832930

Option 1 ID : 6306803262670

Option 2 ID : 6306803262669

Option 3 ID : 6306803262672

Option 4 ID : 6306803262671

Q.2 निम्नलिखित प्रश्न में, दिए गए चार विकल्पों में से, उस विकल्प का चयन करें जो दी गई लोकोक्ति के अर्थ को सर्वश्रेष्ठ रूप से व्यक्त करता है।
उल्टा चोर कोतवाल को डांटे

- Ans 1. अपराधी का निरपराधी को डांटना
 2. न्यायप्रिय प्रदेश में रहना
 3. पुलिस का दबदबा होना
 4. चोर को डंडों से मारना

Question ID : 630680830718
Option 1 ID : 6306803253950
Option 2 ID : 6306803253952
Option 3 ID : 6306803253951
Option 4 ID : 6306803253949

Q.3 दिए गए वाक्य में उचित कारक का चयन करके रिक्त स्थान की पूर्ति करें।

किताब के पन्नों को जोड़ने _____ उसे गोंद की आवश्यकता है।

- Ans 1. के लिए
 2. से
 3. को
 4. ने

Question ID : 630680830837
Option 1 ID : 6306803254404
Option 2 ID : 6306803254402
Option 3 ID : 6306803254403
Option 4 ID : 6306803254401

Q.4 निम्नलिखित शब्द के अनेकार्थी शब्द का चयन करें।
पाठ

- Ans 1. ईमानदार
 2. नीला रंग
 3. अध्याय
 4. दरवाज़ा

Question ID : 630680830809
Option 1 ID : 6306803254300
Option 2 ID : 6306803254297
Option 3 ID : 6306803254298
Option 4 ID : 6306803254299

Q.5 दिए गए वाक्य में उचित विशेषण का चयन करके रिक्त स्थान की पूर्ति करें।

बाहर तेज़ आंधी के कारण कक्षा में केवल _____ बच्चे ही आए हैं।

- Ans 1. हर एक
 2. सभी
 3. दूसरी
 4. तीन

Question ID : 630680830709
Option 1 ID : 6306803253916
Option 2 ID : 6306803253914
Option 3 ID : 6306803253915
Option 4 ID : 6306803253913

Q.6 निम्नलिखित वाक्य में रेखांकित शब्दों में त्रुटि ज्ञात कर त्रुटिरहित विकल्प का चयन करें। यदि कोई त्रुटि नहीं है, तो 'कोई त्रुटि नहीं है' चुनें।
कश्मीर के बाशिंदों के लिए जिवकोपार्जन का मूल आधार है- जाड़े का मौसम।

- Ans
- 1. कश्मीर के बाशिंदों के लिए जीविकोपार्जन का मूल आधार है- जाड़े का मौसम।
 - 2. कश्मीर के बाशिंदों के लिए जीविकोपार्जन का मूल आधार है- जाड़े का मौसम।
 - 3. कश्मीर के बाशिंदों के लिए जीविकोपार्जन का मूल आधार है- जाड़े का मौसम।
 - 4. कोई त्रुटि नहीं है

Question ID : 630680832925
Option 1 ID : 6306803262649
Option 2 ID : 6306803262650
Option 3 ID : 6306803262651
Option 4 ID : 6306803262652

Q.7 निम्नलिखित शब्द का तद्भव शब्द ज्ञात करें।
पक्षी

- Ans
- 1. विपक्ष
 - 2. पंछी
 - 3. हिस्सा
 - 4. पक्ष

Question ID : 630680830682
Option 1 ID : 6306803253816
Option 2 ID : 6306803253815
Option 3 ID : 6306803253813
Option 4 ID : 6306803253814

Q.8 निम्नलिखित प्रश्न में, दिए गए चार विकल्पों में से, उस विकल्प का चयन करें जो दी गई लोकोक्ति के अर्थ को सर्वश्रेष्ठ रूप से व्यक्त करता है।
कौआ चला हंस की चाल

- Ans
- 1. नकल की प्रतियोगिता में भाग लेना
 - 2. नकल से परीक्षा में उत्तीर्ण हो जाना
 - 3. नकल के चक्कर में मूर्खता कर हानि उठाना
 - 4. हंस की तरह चलने की कोशिश करना

Question ID : 630680832835
Option 1 ID : 6306803262305
Option 2 ID : 6306803262308
Option 3 ID : 6306803262307
Option 4 ID : 6306803262306

Q.9 दिए गए वाक्य में उचित कारक का चयन करके रिक्त स्थान की पूर्ति करें।
वह पेड़ _____ चढ़कर नारियल तोड़ रहा है।

- Ans
- 1. ने
 - 2. से
 - 3. पर
 - 4. को

Question ID : 630680832957
Option 1 ID : 6306803262770
Option 2 ID : 6306803262772
Option 3 ID : 6306803262771
Option 4 ID : 6306803262769

Q.10 दिए गए वाक्य में उचित क्रिया का चयन करके रिक्त स्थान की पूर्ति करें।
वह इतना थका हुआ था की लेटते ही चैन की नींद _____ गया।

- Ans
- 1. खाता
 - 2. लिख
 - 3. सो
 - 4. पढ़ता

Question ID : 630680832955
Option 1 ID : 6306803262761
Option 2 ID : 6306803262762
Option 3 ID : 6306803262764
Option 4 ID : 6306803262763

Q.11 निम्नलिखित प्रश्न में, दिए गए चार विकल्पों में से, उस विकल्प का चयन करें जो दी गई लोकोक्ति के अर्थ को सर्वश्रेष्ठ रूप से व्यक्त करता है।
आसमान से गिरे खजूर में अटके

- Ans
- 1. एक मुसीबत से निकलकर दूसरी मुसीबत में फंस जाना
 - 2. मौज मस्ती करना
 - 3. आसमान से खजूर की वर्षा होना
 - 4. खजूर का निर्यात करना

Question ID : 630680830717
Option 1 ID : 6306803253947
Option 2 ID : 6306803253948
Option 3 ID : 6306803253946
Option 4 ID : 6306803253945

Q.12 नीचे दिए गए शब्द का पर्यायवाची शब्द ज्ञात करें।
चंद्रमा

- Ans
- 1. अधम
 - 2. शशि
 - 3. लोचन
 - 4. मिथ्या

Question ID : 630680832889
Option 1 ID : 6306803262516
Option 2 ID : 6306803262513
Option 3 ID : 6306803262514
Option 4 ID : 6306803262515

Q.13 निम्नलिखित वाक्य में रेखांकित शब्दों में त्रुटि ज्ञात कर त्रुटिरहित विकल्प का चयन करें। यदि कोई त्रुटि नहीं है, तो 'कोई त्रुटि नहीं है' चुनें।
आशा है कि महात्मा जी के इन प्रयासों को सफलता मिलेगी और सारी दुनिया को इस भयावह समस्या से छुटकारा मिलेगा।

- Ans
- 1. आशा है कि महात्मा जी के इन प्रयासों को सफलता मिलेगी और सारी दुनिया को इस भयावह समस्या से छुटकारा मिलेगा।
 - 2. आशा है कि महात्मा जी के इन प्रयासों को सफलता मिलेगी और सारी दूनीया को इस भयावह समस्या से छुटकारा मिलेगा।
 - 3. कोई त्रुटि नहीं है
 - 4. आशा है कि महात्मा जी के इन प्रयासों को सफलता मीलेगी और सारी दुनिया को इस भयावह समस्या से छुटकारा मिलेगा।

Question ID : 630680830888
Option 1 ID : 6306803254597
Option 2 ID : 6306803254599
Option 3 ID : 6306803254600
Option 4 ID : 6306803254598

Q.14 निम्नलिखित प्रश्न में, दिए गए चार विकल्पों में से, उस विकल्प का चयन करें जो दिए गए मुहावरे के अर्थ को सर्वश्रेष्ठ रूप से व्यक्त करता है।
कलेजे पर पत्थर रखना

- Ans
- 1. दर्द से रोने लगना
 - 2. क्रोधित हो जाना
 - 3. अपना दुःख प्रकट करना
 - 4. दुःख की घड़ी में धैर्य धारण करना

Question ID : 630680832960
Option 1 ID : 6306803262782
Option 2 ID : 6306803262784
Option 3 ID : 6306803262781
Option 4 ID : 6306803262783

Q.15 निम्नलिखित प्रश्न में, दिए गए चार विकल्पों में से, उस विकल्प का चयन करें जो दिए गए मुहावरे के अर्थ को सर्वश्रेष्ठ रूप से व्यक्त करता है।
कागज काला करना

- Ans
- 1. व्यर्थ सुनना
 - 2. व्यर्थ लिखना
 - 3. व्यर्थ बोलना
 - 4. व्यर्थ हँसना

Question ID : 630680832959
Option 1 ID : 6306803262780
Option 2 ID : 6306803262777
Option 3 ID : 6306803262778
Option 4 ID : 6306803262779

Q.16 निम्नलिखित शब्द का तद्भव शब्द ज्ञात करें।
आश्रय

- Ans
- 1. आँसू
 - 2. अमिय
 - 3. आश्रम
 - 4. आसरा

Question ID : 630680830849
Option 1 ID : 6306803254450
Option 2 ID : 6306803254451
Option 3 ID : 6306803254449
Option 4 ID : 6306803254452

Q.17 निम्नलिखित शब्द का विलोम शब्द ज्ञात करें।
उत्तर

- Ans
- 1. उदय
 - 2. उत्तम
 - 3. दक्षिण
 - 4. विनाश

Question ID : 630680830729
Option 1 ID : 6306803253994
Option 2 ID : 6306803253995
Option 3 ID : 6306803253996
Option 4 ID : 6306803253993

Q.18 दिए गए वाक्य में उचित विशेषण का चयन करके रिक्त स्थान की पूर्ति करें।

लाल किला _____ ईंटों से बना है इसलिए वह लाल रंग का है।

- Ans
- 1. चार लीटर
 - 2. दो
 - 3. सारी
 - 4. लाल

Question ID : 630680832916
Option 1 ID : 6306803262616
Option 2 ID : 6306803262613
Option 3 ID : 6306803262614
Option 4 ID : 6306803262615

Q.19 निम्नलिखित वाक्य में रेखांकित शब्दों में त्रुटि ज्ञात कर त्रुटिरहित विकल्प का चयन करें। यदि कोई त्रुटि नहीं है, तो 'कोई त्रुटि नहीं है' चुनें।

चिंता का विषय यह है कि पहले की तुलना में, बाढ़ से होने वाली क्षति और इसका प्रभाव क्षेत्र आज बढ़ा है।

- Ans
- 1. चिंता का विषय यह है कि पहले की तुलना में, बाढ़ से होने वाली क्षति और इसका प्रभाव क्षेत्र आज बढ़ा है।
 - 2. चिंता का विषय यह है कि पहले की तुलना में, बाढ़ से होने वाली क्षति और इसका प्रभाव क्षेत्र आज बढ़ा है।
 - 3. चिंता का विषय यह है कि पहले की तुलना में, बाढ़ से होने वाली क्षति और इसका प्रभाव क्षेत्र आज बढ़ा है।
 - 4. कोई त्रुटि नहीं है

Question ID : 630680830721
Option 1 ID : 6306803253962
Option 2 ID : 6306803253963
Option 3 ID : 6306803253961
Option 4 ID : 6306803253964

Q.20 निम्नलिखित वाक्य में रेखांकित शब्दों में त्रुटि ज्ञात कर त्रुटिरहित विकल्प का चयन करें। यदि कोई त्रुटि नहीं है, तो 'कोई त्रुटि नहीं है' चुनें।

वैसे तो प्लास्टिक का निर्माण पेट्रोलियम अर्थात् खनिज तेल से ही होता है लेकिन उसे फिर से खनिज तेल में परिवर्तित करना बड़ा ही मुश्किल और महंगा काम होता है।

- Ans
- 1. कोई त्रुटि नहीं है
 - 2. वैसे तो प्लास्टिक का निर्माण पेट्रोलियम अर्थात् खनिज तेल से ही होता है लेकिन उसे फिर से खनिज तेल में परिवर्तित करना बड़ा ही मुश्किल और मेहनगा काम होता है।
 - 3. वैसे तो प्लास्टिक का निर्माण पेट्रोलियम अर्थात् खनिज तेल से ही होता है लेकिन उसे फिर से खनिज तेल में परिवर्तित करना बड़ा ही मुश्किल और महंगा काम होता है।
 - 4. वैसे तो प्लास्टिक का निर्माण पेट्रोलियम अर्थात् खनिज तेल से ही होता है लेकिन उसे फिर से खनिज तेल में परिवर्तित करना बड़ा ही मुश्किल और महंगा काम होता है।

Question ID : 630680830887
Option 1 ID : 6306803254596
Option 2 ID : 6306803254594
Option 3 ID : 6306803254595
Option 4 ID : 6306803254593

Q.1 दिए गए वाक्यांश के लिए सार्थक शब्द ज्ञात कीजिए।
जो सहनशील न हो

- Ans 1. अपथ्य
 2. अवैतनिक
 3. असहिष्णु
 4. अदम्य

Question ID : 630680832953
Option 1 ID : 6306803262754
Option 2 ID : 6306803262753
Option 3 ID : 6306803262756
Option 4 ID : 6306803262755

Q.2 निम्नलिखित वाक्यों को क, ख, ग और घ के लेबल से क्रमांकित किया गया है जो उसी क्रम से एक स्पष्ट पैराग्राफ/वाक्य बनाते हैं किन्तु इनमें से एक लेबल 'अतिरिक्त' है और उसके बिना भी पैराग्राफ/वाक्य सही रहेगा। निम्नलिखित विकल्पों में से उस अतिरिक्त लेबल का चयन करें।

- क. जब उसने दूसरा लिफाफा खोला तो जाना की वह उसके अपने मित्र विपिन का था
ख. जो पिछले दिनों इंग्लैंड चला गया था और वहीं किसी अंग्रेज लड़की से
ग. शादी कर ली थी। यह पत्र भी तीन-चार महीने पुराना था
घ. एक कोने में घर की बेकार चीजों, जैसे खाली बोतलों, टूटी अँगीठियों और कनस्तरों आदि का ढेर लगा था

- Ans 1. घ
 2. ग
 3. क
 4. ख

Question ID : 630680833025
Option 1 ID : 6306803263032
Option 2 ID : 6306803263031
Option 3 ID : 6306803263029
Option 4 ID : 6306803263030

Q.3 निम्नलिखित शब्द का विलोम शब्द ज्ञात करें।
उत्थान

- Ans 1. विमुख
 2. पतन
 3. उपयुक्त
 4. वक्ता

Question ID : 630680832891
Option 1 ID : 6306803262522
Option 2 ID : 6306803262521
Option 3 ID : 6306803262523
Option 4 ID : 6306803262524

Q.4 निम्नलिखित वाक्य का वह भाग ज्ञात करें, जिसमें कोई त्रुटि है। यदि कोई त्रुटि नहीं है, तो 'कोई त्रुटि नहीं है' चुनें।
गुजरात के रहने वाले हार्दिक के पिता हिमांशु पांड्या सूरत में छोटी गाड़ियों के घूमने जाया करते थे।

- Ans 1. घूमने जाया करते थे।
 2. हिमांशु पांड्या सूरत में छोटी गाड़ियों
 3. कोई त्रुटि नहीं है
 4. गुजरात के रहने वाले हार्दिक के पिता

Question ID : 630680832942
Option 1 ID : 6306803262715
Option 2 ID : 6306803262714
Option 3 ID : 6306803262716
Option 4 ID : 6306803262713

Q.5 निम्नलिखित खंडित वाक्यांशों में वाक्य संरचना का सही क्रम क्या होगा?

1. काँटे अगर कैक्टस के हों तो डरते-डरते भी
2. काँटा चुभने की कल्पना मात्र से ही चेहरे
3. इन्हें छू लेने को जी चाहता है
4. पर पीड़ा की परछाईं छा जाती है लेकिन ये

Ans 1. 2,4,1,3

2. 4,1,3,2

3. 3,4,1,2

4. 2,1,4,3

Question ID : 630680832861

Option 1 ID : 6306803262405

Option 2 ID : 6306803262408

Option 3 ID : 6306803262406

Option 4 ID : 6306803262407

Q.6 दिए गए वाक्यांश के लिए सार्थक शब्द ज्ञात कीजिए।

जो सुना हुआ न हो

Ans 1. अधिसूचना

2. अश्रव्य

3. अतीत

4. अनावृष्टि

Question ID : 630680832910

Option 1 ID : 6306803262589

Option 2 ID : 6306803262591

Option 3 ID : 6306803262592

Option 4 ID : 6306803262590

Q.7 निम्नलिखित खंडित वाक्यांशों में वाक्य संरचना का सही क्रम क्या होगा?

1. सुंदरता के वर्णन में हम भूल जाते हैं कि
2. आसमान में उमड़ती घुमड़ती घटाओं को देखकर, इसकी
3. रस नहीं, आपदाओं का अंबार भी लाती है
4. जल की बूँदों से निकली धाराएँ सिर्फ जीवन

Ans 1. 2,1,4,3

2. 3,4,1,3

3. 4,1,2,3

4. 1,3,2,4

Question ID : 630680830741

Option 1 ID : 6306803254040

Option 2 ID : 6306803254038

Option 3 ID : 6306803254037

Option 4 ID : 6306803254039

Q.8 निम्नलिखित वाक्य का वह भाग ज्ञात करें, जिसमें कोई त्रुटि है।

जब हम इन सोशल प्लेटफॉर्मों को हमेशा के लिए छोड़ देंगे, तब निश्चित तौर पर कुछ समय के लिए हमारे को खालीपन महसूस होगा, क्योंकि अब तक हम इसके आदी हो चुके हैं।

- Ans
- 1. क्योंकि अब तक हम इसके आदी हो चुके हैं।
 - 2. कुछ समय के लिए हमारे को खालीपन महसूस होगा,
 - 3. के लिए छोड़ देंगे, तब निश्चित तौर पर
 - 4. जब हम इन सोशल प्लेटफॉर्मों को हमेशा

Question ID : 630680830866
Option 1 ID : 6306803254516
Option 2 ID : 6306803254515
Option 3 ID : 6306803254514
Option 4 ID : 6306803254513

Q.9 निम्नलिखित वाक्यों को क, ख, ग और घ के लेबल से क्रमांकित किया गया है जो उसी क्रम से एक स्पष्ट पैराग्राफ/वाक्य बनाते हैं किन्तु इनमें से एक लेबल 'अतिरिक्त' है और उसके बिना भी पैराग्राफ/वाक्य सही रहेगा। निम्नलिखित विकल्पों में से उस अतिरिक्त लेबल का चयन करें।
क. गोकुल के पास प्रतिभा, कला और ख्याति के उच्च शिखर पर
ख. पहुँचने की महत्वाकांक्षा थी। इसीलिए जिस पात्र की भूमिका में वह काम करता, बहुरूप और अभिनय में वह.
ग. शादी के बाद वह अपने दाम्पत्य जीवन में मस्त हो गया थाघ.
घ. बात पैदा कर देता था कि दर्शक अनायास ही 'वाह-वाह' कर तालियाँ मारने लगते थे

- Ans
- 1. ग
 - 2. क
 - 3. घ
 - 4. ख

Question ID : 630680830653
Option 1 ID : 6306803253703
Option 2 ID : 6306803253701
Option 3 ID : 6306803253704
Option 4 ID : 6306803253702

Q.10 निम्नलिखित शब्द के अनेकार्थी शब्द का चयन करें।
अर्थ

- Ans
- 1. विष
 - 2. धन
 - 3. दूध
 - 4. जल

Question ID : 630680830684
Option 1 ID : 6306803253824
Option 2 ID : 6306803253821
Option 3 ID : 6306803253823
Option 4 ID : 6306803253822

Comprehension:

निम्नलिखित गद्यांश के आधार पर पाँच प्रश्न दिए गए हैं। गद्यांश को ध्यानपूर्वक पढ़ें तथा प्रत्येक प्रश्न के चार विकल्पों में से सही विकल्प चुनें।

कुछ लोगों के लिए फरवरी नीरस हो सकता है, लेकिन इस महीने के साथ दो बातें तो तय हैं। वे बातें हैं कि एक तो यह छोटा होता है, और दूसरा यह जनवरी नहीं है। जनवरी हर साल की शुरुआत में जिन दबावों को लेकर आती है, फरवरी उनसे राहत देती है। जनवरी के अंत तक जिन्हें त्यागने के बारे में सोच रहे होते हैं, फरवरी का आगमन मौन रूप से उनकी पुष्टि कर देता है। अगर आप अपने संकल्पों में प्रगति नहीं कर पा रहे हैं, तो आपको खुद के प्रति कठोर नहीं होना चाहिए।

उदाहरण के लिए, आप रोज़ सोचते हैं कि आज से कसरत शुरू करूंगा, लेकिन समय नहीं निकाल पाते, तो दबाव महसूस करने के बजाय सप्ताहांत की सुबह कसरत करने का नियम बनाएं। कहने का आशय है कि खुद को कड़े नियमों से न बांधें। केंट स्टेट यूनिवर्सिटी में मनोविज्ञान की प्रोफेसर एंजेली नील-बार्नेट सुझाव देती हैं कि योग, कसरत या भ्रमण संबंधी संकल्पों को पूरा करने के लिए बेहतर होगा।

डॉ. वैडरवेले कहते हैं कि अपने प्रिय-जन का साथ आपको अपने लक्ष्यों पर नियमित नज़र रखने में मददगार होता है। इनमें से कुछ भी आपको अपने लक्ष्यों की ओर बढ़ने के लिए प्रोत्साहित कर सकती है। डॉ. नील बार्नेट कहते हैं कि संकल्प को पूरा करने में सबसे महत्वपूर्ण यह है कि खुद को कोसने के बजाय छोटी-छोटी जीत का आनंद लें। जो काम आज पूरे नहीं हुए, वे कल होंगे। हर सुबह एक नई उम्मीद लेकर आती है।

SubQuestion No : 11

Q.11 गद्यांश के आधार पर, निम्नलिखित वाक्य में प्रयुक्त, रेखांकित शब्द का उचित पर्यायवाची शब्द ज्ञात करें।

वो वे बातें हैं कि एक तो यह छोटा होता है, और दूसरा यह जनवरी नहीं है।

- Ans
- 1. विस्तार
 - 2. बड़ा
 - 3. लघु
 - 4. मनुष्य

Question ID : 630680830774

Option 1 ID : 6306803254162

Option 2 ID : 6306803254164

Option 3 ID : 6306803254161

Option 4 ID : 6306803254163

Comprehension:

निम्नलिखित गद्यांश के आधार पर पाँच प्रश्न दिए गए हैं। गद्यांश को ध्यानपूर्वक पढ़ें तथा प्रत्येक प्रश्न के चार विकल्पों में से सही विकल्प चुनें।

कुछ लोगों के लिए फरवरी नीरस हो सकता है, लेकिन इस महीने के साथ दो बातें तो तय हैं। वे बातें हैं कि एक तो यह छोटा होता है, और दूसरा यह जनवरी नहीं है। जनवरी हर साल की शुरुआत में जिन दबावों को लेकर आती है, फरवरी उनसे राहत देती है। जनवरी के अंत तक जिन्हें त्यागने के बारे में सोच रहे होते हैं, फरवरी का आगमन मौन रूप से उनकी पुष्टि कर देता है। अगर आप अपने संकल्पों में प्रगति नहीं कर पा रहे हैं, तो आपको खुद के प्रति कठोर नहीं होना चाहिए।

उदाहरण के लिए, आप रोज़ सोचते हैं कि आज से कसरत शुरू करूंगा, लेकिन समय नहीं निकाल पाते, तो दबाव महसूस करने के बजाय सप्ताहांत की सुबह कसरत करने का नियम बनाएं। कहने का आशय है कि खुद को कड़े नियमों से न बांधें। केंट स्टेट यूनिवर्सिटी में मनोविज्ञान की प्रोफेसर एंजेली नील-बार्नेट सुझाव देती हैं कि योग, कसरत या भ्रमण संबंधी संकल्पों को पूरा करने के लिए बेहतर होगा।

डॉ. वैडरवेले कहते हैं कि अपने प्रिय-जन का साथ आपको अपने लक्ष्यों पर नियमित नज़र रखने में मददगार होता है। इनमें से कुछ भी आपको अपने लक्ष्यों की ओर बढ़ने के लिए प्रोत्साहित कर सकती है। डॉ. नील बार्नेट कहते हैं कि संकल्प को पूरा करने में सबसे महत्वपूर्ण यह है कि खुद को कोसने के बजाय छोटी-छोटी जीत का आनंद लें। जो काम आज पूरे नहीं हुए, वे कल होंगे। हर सुबह एक नई उम्मीद लेकर आती है।

SubQuestion No : 12

Q.12 गद्यांश के आधार पर उस विकल्प का चयन करें जिसमें दिया गया तथ्य सही है।

- Ans
- 1. जनवरी हर साल की शुरुआत में जिन दबावों को लेकर आती है, फरवरी उनसे राहत देती है
 - 2. डॉ. नील बार्नेट के अनुसार अपने प्रिय-जन का साथ अपने लक्ष्यों पर नियमित नज़र रखने में मददगार होता है
 - 3. डॉ. वैडरवेले के अनुसार खुद को कोसने के बजाय छोटी-छोटी जीत का आनंद लेना चाहिए
 - 4. हमें खुद को कड़े नियमों से बांधना चाहिए

Question ID : 630680830776

Option 1 ID : 6306803254170

Option 2 ID : 6306803254169

Option 3 ID : 6306803254172

Option 4 ID : 6306803254171

Comprehension:

निम्नलिखित गद्यांश के आधार पर पाँच प्रश्न दिए गए हैं। गद्यांश को ध्यानपूर्वक पढ़ें तथा प्रत्येक प्रश्न के चार विकल्पों में से सही विकल्प चुनें।

कुछ लोगों के लिए फरवरी नीरस हो सकती है, लेकिन इस महीने के साथ दो बातें तो तय हैं। वे बातें हैं कि एक तो यह छोटा होता है, और दूसरा यह जनवरी नहीं है। जनवरी हर साल की शुरुआत में जिन दबावों को लेकर आती है, फरवरी उनसे राहत देती है। जनवरी के अंत तक जिन्हें त्यागने के बारे में सोच रहे होते हैं, फरवरी का आगमन मौन रूप से उनकी पुष्टि कर देता है। अगर आप अपने संकल्पों में प्रगति नहीं कर पा रहे हैं, तो आपको खुद के प्रति कठोर नहीं होना चाहिए। उदाहरण के लिए, आप रोज़ सोचते हैं कि आज से कसरत शुरू करूंगा, लेकिन समय नहीं निकाल पाते, तो दबाव महसूस करने के बजाय सप्ताहांत की सुबह कसरत करने का नियम बनाएं। कहने का आशय है कि खुद को कड़े नियमों से न बांधें। केंट स्टेट यूनिवर्सिटी में मनोविज्ञान की प्रोफेसर एंजला नील-बार्नेट सुझाव देती हैं कि योग, कसरत या भ्रमण संबंधी संकल्पों को पूरा करने के लिए बेहतर होगा। डॉ. वैडरवेले कहते हैं कि अपने प्रिय-जन का साथ आपको अपने लक्ष्यों पर नियमित नज़र रखने में मददगार होता है। इनमें से कुछ भी आपको अपने लक्ष्यों की ओर बढ़ने के लिए प्रोत्साहित कर सकती है। डॉ. नील बार्नेट कहते हैं कि संकल्प को पूरा करने में सबसे महत्वपूर्ण यह है कि खुद को कोसने के बजाय छोटी-छोटी जीत का आनंद लें। जो काम आज पूरे नहीं हुए, वे कल होंगे। हर सुबह एक नई उम्मीद लेकर आती है।

SubQuestion No : 13

Q.13 प्रस्तुत गद्यांश के लिए उचित शीर्षक का चयन करें।

- Ans 1. संकल्पों में राहत देती फरवरी
2. निराशा से भरी फरवरी
3. चिंता करवाती फरवरी
4. दुख से भरी फरवरी

Question ID : 630680830775
Option 1 ID : 6306803254168
Option 2 ID : 6306803254166
Option 3 ID : 6306803254167
Option 4 ID : 6306803254165

Comprehension:

निम्नलिखित गद्यांश के आधार पर पाँच प्रश्न दिए गए हैं। गद्यांश को ध्यानपूर्वक पढ़ें तथा प्रत्येक प्रश्न के चार विकल्पों में से सही विकल्प चुनें।

कुछ लोगों के लिए फरवरी नीरस हो सकती है, लेकिन इस महीने के साथ दो बातें तो तय हैं। वे बातें हैं कि एक तो यह छोटा होता है, और दूसरा यह जनवरी नहीं है। जनवरी हर साल की शुरुआत में जिन दबावों को लेकर आती है, फरवरी उनसे राहत देती है। जनवरी के अंत तक जिन्हें त्यागने के बारे में सोच रहे होते हैं, फरवरी का आगमन मौन रूप से उनकी पुष्टि कर देता है। अगर आप अपने संकल्पों में प्रगति नहीं कर पा रहे हैं, तो आपको खुद के प्रति कठोर नहीं होना चाहिए। उदाहरण के लिए, आप रोज़ सोचते हैं कि आज से कसरत शुरू करूंगा, लेकिन समय नहीं निकाल पाते, तो दबाव महसूस करने के बजाय सप्ताहांत की सुबह कसरत करने का नियम बनाएं। कहने का आशय है कि खुद को कड़े नियमों से न बांधें। केंट स्टेट यूनिवर्सिटी में मनोविज्ञान की प्रोफेसर एंजला नील-बार्नेट सुझाव देती हैं कि योग, कसरत या भ्रमण संबंधी संकल्पों को पूरा करने के लिए बेहतर होगा। डॉ. वैडरवेले कहते हैं कि अपने प्रिय-जन का साथ आपको अपने लक्ष्यों पर नियमित नज़र रखने में मददगार होता है। इनमें से कुछ भी आपको अपने लक्ष्यों की ओर बढ़ने के लिए प्रोत्साहित कर सकती है। डॉ. नील बार्नेट कहते हैं कि संकल्प को पूरा करने में सबसे महत्वपूर्ण यह है कि खुद को कोसने के बजाय छोटी-छोटी जीत का आनंद लें। जो काम आज पूरे नहीं हुए, वे कल होंगे। हर सुबह एक नई उम्मीद लेकर आती है।

SubQuestion No : 14

Q.14 गद्यांश के आधार पर, उस विकल्प का चयन करें, जो उचित निष्कर्ष प्रतिपादित करता है।

- Ans 1. हर नई सुबह निराशा का एहसास कराती है
2. जब हम अपने बनाए संकल्पों पर अडिग नहीं रह पाते, तो अक्सर खुद के प्रति कठोर हो जाते हैं
3. हम अक्सर फरवरी को मज़े में निकाल देते हैं और फिर बाद में पछतावे से रोने लगते हैं
4. फरवरी हमें यह बताती है कि हम जनवरी से कितने पीछे और विफलता के कितने करीब चल रहे हैं

Question ID : 630680830777
Option 1 ID : 6306803254174
Option 2 ID : 6306803254176
Option 3 ID : 6306803254173
Option 4 ID : 6306803254175

Comprehension:

निम्नलिखित गद्यांश के आधार पर पाँच प्रश्न दिए गए हैं। गद्यांश को ध्यानपूर्वक पढ़ें तथा प्रत्येक प्रश्न के चार विकल्पों में से सही विकल्प चुनें।

कुछ लोगों के लिए फरवरी नीरस हो सकती है, लेकिन इस महीने के साथ दो बातें तो तय हैं। वे बातें हैं कि एक तो यह छोटा होता है, और दूसरा यह जनवरी नहीं है। जनवरी हर साल की शुरुआत में जिन दबावों को लेकर आती है, फरवरी उनसे राहत देती है। जनवरी के अंत तक जिन्हें त्यागने के बारे में सोच रहे होते हैं, फरवरी का आगमन मौन रूप से उनकी पुष्टि कर देता है। अगर आप अपने संकल्पों में प्रगति नहीं कर पा रहे हैं, तो आपको खुद के प्रति कठोर नहीं होना चाहिए।

उदाहरण के लिए, आप रोज़ सोचते हैं कि आज से कसरत शुरू करूंगा, लेकिन समय नहीं निकाल पाते, तो दबाव महसूस करने के बजाय सप्ताहांत की सुबह कसरत करने का नियम बनाएं। कहने का आशय है कि खुद को कड़े नियमों से न बांधें। केंट स्टेट यूनिवर्सिटी में मनोविज्ञान की प्रोफेसर एंजेली नील-बार्नेट सुझाव देती हैं कि योग, कसरत या भ्रमण संबंधी संकल्पों को पूरा करने के लिए बेहतर होगा।

डॉ. वैडरवेले कहते हैं कि अपने प्रिय-जन का साथ आपको अपने लक्ष्यों पर नियमित नज़र रखने में मददगार होता है। इनमें से कुछ भी आपको अपने लक्ष्यों की ओर बढ़ने के लिए प्रोत्साहित कर सकती है। डॉ. नील बार्नेट कहते हैं कि संकल्प को पूरा करने में सबसे महत्वपूर्ण यह है कि खुद को कोसने के बजाय छोटी-छोटी जीत का आनंद लें। जो काम आज पूरे नहीं हुए, वे कल होंगे। हर सुबह एक नई उम्मीद लेकर आती है।

SubQuestion No : 15

Q.15 गद्यांश के आधार पर, निम्नलिखित वाक्य में प्रयुक्त, रेखांकित शब्द का उचित विलोम शब्द ज्ञात करें।
इनमें से कुछ भी आपको अपने लक्ष्यों की ओर बढ़ने के लिए प्रोत्साहित कर सकती है।

- Ans
- 1. गंभीर
 - 2. हतोत्साहित
 - 3. अनुपस्थित
 - 4. उत्साहित

Question ID : 630680830778
Option 1 ID : 6306803254180
Option 2 ID : 6306803254178
Option 3 ID : 6306803254179
Option 4 ID : 6306803254177

Comprehension:

नीचे दिए गए पदों में कुछ शब्द छोड़ दिए गए हैं, प्रत्येक रिक्त स्थान के चार विकल्प दिए गए हैं। इन चारों में से कौन सा विकल्प रिक्त स्थान की पूर्ति करेगा।

पक्षियों की अनेक _____(1) की संख्या में गिरावट से न केवल जैवविविधता के लिए संकट _____(2) हो गया है, बल्कि मनुष्य का जीवन भी प्रभावित हो रहा है। गौरैया हमारे _____(3) में पाई जाती थीं और हमारे घरों में ही घोंसलें बनाती थीं। घाँगन में बिखरे _____(4) के दाने खाकर उनका पेट भर जाता था। लेकिन अब सीमेंट-कंकरीट के घर में गौरियों के _____(5) के लिए कोई जगह नहीं बची है।

SubQuestion No : 16

Q.16 रिक्त स्थान (3) के लिए उपयुक्त विकल्प का चयन कीजिए।

- Ans
- 1. रेलगाड़ियों
 - 2. कार्यालयों
 - 3. घर-आँगन
 - 4. अस्पतालों

Question ID : 630680832991
Option 1 ID : 6306803262898
Option 2 ID : 6306803262899
Option 3 ID : 6306803262900
Option 4 ID : 6306803262897

Comprehension:

नीचे दिए गए पदों में कुछ शब्द छोड़ दिए गए हैं, प्रत्येक रिक्त स्थान के चार विकल्प दिए गए हैं। इन चारों में से कौन सा विकल्प रिक्त स्थान की पूर्ति करेगा।

पक्षियों की अनेक _____(1) की संख्या में गिरावट से न केवल जैवविधता के लिए संकट _____(2) हो गया है, बल्कि मनुष्य का जीवन भी प्रभावित हो रहा है। गौरैया हमारे _____(3) में पाई जाती थीं और हमारे घरों में ही घोंसलें बनाती थीं। घांगन में बिखरे _____(4) के दाने खाकर उनका पेट भर जाता था। लेकिन अब सीमेंट-कंकरीट के घर में गौरियों के _____(5) के लिए कोई जगह नहीं बची है।

SubQuestion No : 17

Q.17 रिक्त स्थान (2) के लिए उपयुक्त विकल्प का चयन कीजिए।

- Ans 1. कर्तव्य
 2. पैदा
 3. प्रकृति
 4. अनुरोध

Question ID : 630680832990

Option 1 ID : 6306803262893

Option 2 ID : 6306803262896

Option 3 ID : 6306803262894

Option 4 ID : 6306803262895

Comprehension:

नीचे दिए गए पदों में कुछ शब्द छोड़ दिए गए हैं, प्रत्येक रिक्त स्थान के चार विकल्प दिए गए हैं। इन चारों में से कौन सा विकल्प रिक्त स्थान की पूर्ति करेगा।

पक्षियों की अनेक _____(1) की संख्या में गिरावट से न केवल जैवविधता के लिए संकट _____(2) हो गया है, बल्कि मनुष्य का जीवन भी प्रभावित हो रहा है। गौरैया हमारे _____(3) में पाई जाती थीं और हमारे घरों में ही घोंसलें बनाती थीं। घांगन में बिखरे _____(4) के दाने खाकर उनका पेट भर जाता था। लेकिन अब सीमेंट-कंकरीट के घर में गौरियों के _____(5) के लिए कोई जगह नहीं बची है।

SubQuestion No : 18

Q.18 रिक्त स्थान (5) के लिए उपयुक्त विकल्प का चयन कीजिए।

- Ans 1. कुर्सी
 2. मेज
 3. दफ्तर
 4. घोंसलें

Question ID : 630680832993

Option 1 ID : 6306803262906

Option 2 ID : 6306803262908

Option 3 ID : 6306803262905

Option 4 ID : 6306803262907

Comprehension:

नीचे दिए गए पदों में कुछ शब्द छोड़ दिए गए हैं, प्रत्येक रिक्त स्थान के चार विकल्प दिए गए हैं। इन चारों में से कौन सा विकल्प रिक्त स्थान की पूर्ति करेगा।

पक्षियों की अनेक _____(1) की संख्या में गिरावट से न केवल जैवविधता के लिए संकट _____(2) हो गया है, बल्कि मनुष्य का जीवन भी प्रभावित हो रहा है। गौरैया हमारे _____(3) में पाई जाती थीं और हमारे घरों में ही घोंसलें बनाती थीं। घआंगन में बिखरे _____(4) के दाने खाकर उनका पेट भर जाता था। लेकिन अब सीमेंट-कंकरीट के घर में गौरियों के _____(5) के लिए कोई जगह नहीं बची है।

SubQuestion No : 19

Q.19 रिक्त स्थान (1) के लिए उपयुक्त विकल्प का चयन कीजिए।

- Ans
- 1. रंगों
 - 2. लक्षणों
 - 3. प्रजातियों
 - 4. समूहों

Question ID : 630680832989
Option 1 ID : 6306803262892
Option 2 ID : 6306803262890
Option 3 ID : 6306803262891
Option 4 ID : 6306803262889

Comprehension:

नीचे दिए गए पदों में कुछ शब्द छोड़ दिए गए हैं, प्रत्येक रिक्त स्थान के चार विकल्प दिए गए हैं। इन चारों में से कौन सा विकल्प रिक्त स्थान की पूर्ति करेगा।

पक्षियों की अनेक _____(1) की संख्या में गिरावट से न केवल जैवविधता के लिए संकट _____(2) हो गया है, बल्कि मनुष्य का जीवन भी प्रभावित हो रहा है। गौरैया हमारे _____(3) में पाई जाती थीं और हमारे घरों में ही घोंसलें बनाती थीं। घआंगन में बिखरे _____(4) के दाने खाकर उनका पेट भर जाता था। लेकिन अब सीमेंट-कंकरीट के घर में गौरियों के _____(5) के लिए कोई जगह नहीं बची है।

SubQuestion No : 20

Q.20 रिक्त स्थान (4) के लिए उपयुक्त विकल्प का चयन कीजिए।

- Ans
- 1. फूल
 - 2. मोती
 - 3. अन्न
 - 4. घास

Question ID : 630680832992
Option 1 ID : 6306803262903
Option 2 ID : 6306803262901
Option 3 ID : 6306803262902
Option 4 ID : 6306803262904



GOVT. OF NCT OF DELHI
Delhi Subordinate Services Selection Board
FC-18, Institutional Area, Karkardooma, Delhi - 110092.
www.dsssb.delhigovt.nic.in

Participant ID	231131105007007
Participant Name	YUVRAJ CHAUDHARY
Test Center Name	iON Digital Zone iDZ 1 GT Karnal Road
Test Date	15/06/2024
Test Time	4:30 PM - 6:30 PM
Subject	Warder Reserved for male Only

Section : General intelligence and Reasoning Ability 1

Q.1 If the positions of the hundred's and the ten's digits within each number are interchanged, which of the following will be the unit's digit of the second highest number thus formed?

528 643 891 621 952

- Ans
- 1. 1
 - 2. 2
 - 3. 3
 - 4. 8

Question ID : 630680849370
Option 1 ID : 6306803326992
Option 2 ID : 6306803326993
Option 3 ID : 6306803326990
Option 4 ID : 6306803326991

Q.2 The sentence below has a word in which the letters are jumbled up. Rearrange the letters in capitals and write the correct version below it.

The students were ROBED during their free period.

- Ans
- 1. BORED
 - 2. DEBRO
 - 3. BEDRO
 - 4. OREBD

Question ID : 630680835868
Option 1 ID : 6306803274242
Option 2 ID : 6306803274245
Option 3 ID : 6306803274244
Option 4 ID : 6306803274243

- Q.3 A \$ B means A is the brother of B.
A # B means A is the mother of B.
A * B means A is the daughter of B.

If the code of family is P # Q S R * S, who is the father among them?

- Ans 1. R
 2. S
 3. Q
 4. P

Question ID : 630680835883
Option 1 ID : 6306803274304
Option 2 ID : 6306803274305
Option 3 ID : 6306803274303
Option 4 ID : 6306803274302

- Q.4 Select the option that is related to the third word in the same way as the second word is related to the first word.
Lion : Cub :: Dog : ?

- Ans 1. Puppy
 2. Mare
 3. Kitten
 4. Foal

Question ID : 630680849402
Option 1 ID : 6306803327120
Option 2 ID : 6306803327121
Option 3 ID : 6306803327118
Option 4 ID : 6306803327119

- Q.5 Select the number-pair in which the two numbers are related in the same way as the two numbers of the given number-pair.
82 : 410

- Ans 1. 46: 220
 2. 66: 330
 3. 76: 390
 4. 56: 270

Question ID : 630680849466
Option 1 ID : 6306803327375
Option 2 ID : 6306803327376
Option 3 ID : 6306803327377
Option 4 ID : 6306803327374

Q.6 In a certain language, hi bi si means red and tasty, li bi ti means apple is red, and ti ni hi means food is tasty. Which of the following does mean apple is tasty in that code?

- Ans**
- 1. ni hi li
 - 2. ti hi bi
 - 3. ti hi li
 - 4. ni bi ti

Question ID : 630680849365
Option 1 ID : 6306803326973
Option 2 ID : 6306803326970
Option 3 ID : 6306803326972
Option 4 ID : 6306803326971

Q.7 In a certain code language, if TRICK is coded as 56, then what will TREAT be coded as?

- Ans**
- 1. 59
 - 2. 62
 - 3. 64
 - 4. 61

Question ID : 630680849362
Option 1 ID : 6306803326959
Option 2 ID : 6306803326961
Option 3 ID : 6306803326960
Option 4 ID : 6306803326958

Q.8 Which of the following numbers will replace the question mark (?) in the given series?
73, 74, 76, 79, 83, ?

- Ans**
- 1. 89
 - 2. 88
 - 3. 87
 - 4. 86

Question ID : 630680849445
Option 1 ID : 6306803327293
Option 2 ID : 6306803327291
Option 3 ID : 6306803327292
Option 4 ID : 6306803327290

Q.9 If all odd numbers are deleted in the series which will be the 5th element from the right end?

6 7 8 2 3 4 5 6 1 2 9 8 4 3 2 6 4 7 8 3 2 4 6 5

- Ans**
- 1. 8
 - 2. 2
 - 3. 6
 - 4. 4

Question ID : 630680849379
Option 1 ID : 6306803327029
Option 2 ID : 6306803327026
Option 3 ID : 6306803327028
Option 4 ID : 6306803327027

Q.10 If X denotes 'multiplication', Y denotes 'addition', Z denotes 'division', and W denotes 'subtraction', then what will be the value of the following equation?

13 W 26 Y 11 X 18 Z 3 = ?

- Ans**
- 1. 72
 - 2. 34
 - 3. 59
 - 4. 53

Question ID : 630680835948
Option 1 ID : 6306803274565
Option 2 ID : 6306803274562
Option 3 ID : 6306803274564
Option 4 ID : 6306803274563

Q.11 If the positions of the hundred's and the unit's digit within each number are interchanged, which of the following will be the ten's digit of the second lowest number thus formed?

456 231 765 872 941

- Ans**
- 1. 4
 - 2. 7
 - 3. 3
 - 4. 5

Question ID : 630680849369
Option 1 ID : 6306803326986
Option 2 ID : 6306803326989
Option 3 ID : 6306803326988
Option 4 ID : 6306803326987

Q.12 Select the option that is related to the third number in the same way as the second number is related to the first number.

321678 : 876123 :: 7568421 : ?

- Ans**
- 1. 1425876
 - 2. 1248576
 - 3. 1248657
 - 4. 1245867

Question ID : 630680835971
Option 1 ID : 6306803274657
Option 2 ID : 6306803274655
Option 3 ID : 6306803274654
Option 4 ID : 6306803274656

Q.13 Select the option that is related to the third word in the same way as the second word is related to the first word.

Wall : Paint :: Shoe : ?

- Ans**
- 1. Polish
 - 2. Whitewash
 - 3. Plaster
 - 4. Spray

Question ID : 630680849403
Option 1 ID : 6306803327124
Option 2 ID : 6306803327123
Option 3 ID : 6306803327122
Option 4 ID : 6306803327125

- Q.14** If 'P × Q' means 'P is the father of Q'.
If 'P + Q' means 'P is the brother of Q'.
If 'P ÷ Q' means 'P is the husband of Q'.
If 'P - Q' means 'P is the son of Q'.

How is A related to D in the expression 'A + B - C × D'?

- Ans**
- 1. Son
 - 2. Father
 - 3. Husband
 - 4. Brother

Question ID : 630680849382
Option 1 ID : 6306803327039
Option 2 ID : 6306803327041
Option 3 ID : 6306803327040
Option 4 ID : 6306803327038

Q.15 Which of the following numbers will replace the question mark (?) in the given series?

13, 26, 52, 104, ?

- Ans 1. 216
 2. 208
 3. 212
 4. 204

Question ID : 630680849447
Option 1 ID : 6306803327299
Option 2 ID : 6306803327300
Option 3 ID : 6306803327301
Option 4 ID : 6306803327298

Q.16 Select the option that has the same relation as the number-pair below.

312 : 36

- Ans 1. 121 : 18
 2. 221 : 70
 3. 254 : 121
 4. 33 : 81

Question ID : 630680835981
Option 1 ID : 6306803274696
Option 2 ID : 6306803274697
Option 3 ID : 6306803274695
Option 4 ID : 6306803274694

Q.17 Select the option that is related to the third word in the same way as the second word is related to the first word.

Yen : Japan :: Ringgit : ?

- Ans 1. China
 2. Malaysia
 3. Australia
 4. France

Question ID : 630680849407
Option 1 ID : 6306803327141
Option 2 ID : 6306803327139
Option 3 ID : 6306803327140
Option 4 ID : 6306803327138

Q.18 If digits within each number are arranged in ascending order, which of the following will be the ten's digit of the least number thus formed?

453 678 219 538 684

- Ans**
- 1. 2
 - 2. 5
 - 3. 7
 - 4. 4

Question ID : 630680849439
Option 1 ID : 6306803327268
Option 2 ID : 6306803327269
Option 3 ID : 6306803327267
Option 4 ID : 6306803327266

Q.19 If digits within each number are arranged in ascending order, how many prime numbers will be thus formed?

81 35 91 87 63 45

- Ans**
- 1. 3
 - 2. 4
 - 3. 1
 - 4. 2

Question ID : 630680849441
Option 1 ID : 6306803327275
Option 2 ID : 6306803327277
Option 3 ID : 6306803327276
Option 4 ID : 6306803327274

Q.20 Select the option that is related to the third number in the same way as the second number is related to the first number.

910 : 810 :: 8463 : ?

- Ans**
- 1. 8102
 - 2. 8432
 - 3. 8932
 - 4. 8363

Question ID : 630680835974
Option 1 ID : 6306803274669
Option 2 ID : 6306803274666
Option 3 ID : 6306803274668
Option 4 ID : 6306803274667

Q.1 Select the option related to the third letter cluster in the same way as the second letter cluster is related to the first letter cluster.

EFG : FEH :: KLM : ?

- Ans**
- 1. LKO
 - 2. LMN
 - 3. KKO
 - 4. LKN

Question ID : 630680849401
Option 1 ID : 6306803327116
Option 2 ID : 6306803327115
Option 3 ID : 6306803327114
Option 4 ID : 6306803327117

Q.2 Five boys Ajay, Mohit, Nayan, Sameer, and Vijay play the piano on five different days, starting on Tuesday and ending on Saturday. Nayan plays the piano immediately after Sameer. Only two persons play the piano between Ajay and Sameer. Vijay plays the piano on the day immediately before Mohit. Who plays the piano on Saturday?

- Ans**
- 1. Ajay
 - 2. Sameer
 - 3. Nayan
 - 4. Mohit

Question ID : 630680849349
Option 1 ID : 6306803326908
Option 2 ID : 6306803326906
Option 3 ID : 6306803326907
Option 4 ID : 6306803326909

Q.3 Which of the following terms will replace the question mark (?) in the given series?

HK3, GL5, FM7, EN9, ?

- Ans**
- 1. CO12
 - 2. DO11
 - 3. DP11
 - 4. DP12

Question ID : 630680849427
Option 1 ID : 6306803327221
Option 2 ID : 6306803327219
Option 3 ID : 6306803327220
Option 4 ID : 6306803327218

Q.4 If room is called building, building is called window, window is called floor, floor is called door, where will a person stand on?

- Ans**
- 1. Door
 - 2. Floor
 - 3. Room
 - 4. Window

Question ID : 630680849368

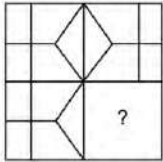
Option 1 ID : 6306803326985

Option 2 ID : 6306803326982

Option 3 ID : 6306803326983

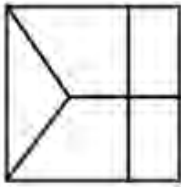
Option 4 ID : 6306803326984

Q.5 Select a figure from amongst the four alternatives, which when placed in the blank space of the figure would complete the pattern.



Ans

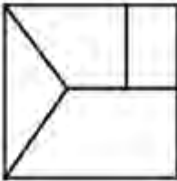
1.



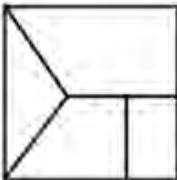
2.



3.



4.



Question ID : 630680849430

Option 1 ID : 6306803327231

Option 2 ID : 6306803327230

Option 3 ID : 6306803327232

Option 4 ID : 6306803327233

Q.6 Which of the following terms will replace the question mark (?) in the given series?

A26, B25, D23, G20, ?

- Ans**
- 1. L15
 - 2. K16
 - 3. J15
 - 4. O16

Question ID : 630680849428
Option 1 ID : 6306803327225
Option 2 ID : 6306803327223
Option 3 ID : 6306803327222
Option 4 ID : 6306803327224

Q.7 Five friends Harish, Jignesh, Mahesh, Tarun and Umang are sitting on a bench facing the north but not necessarily in the same order. Harish sits to the immediate left of Jignesh. Mahesh sits to the immediate right of Umang. Jignesh and Tarun sit adjacent to each other. Umang does not sit on the left most end. Who sits on the left most end?

- Ans**
- 1. Harish
 - 2. Tarun
 - 3. Mahesh
 - 4. Jignesh

Question ID : 630680849344
Option 1 ID : 6306803326887
Option 2 ID : 6306803326888
Option 3 ID : 6306803326889
Option 4 ID : 6306803326886

Q.8 Four letter-clusters have been given, out of which three are alike in some manner and one is different. Select the odd letter-cluster.

- Ans**
- 1. NPR
 - 2. ABD
 - 3. DFH
 - 4. VXZ

Question ID : 630680849417
Option 1 ID : 6306803327179
Option 2 ID : 6306803327181
Option 3 ID : 6306803327178
Option 4 ID : 6306803327180

Q.9 Four word-pairs have been given, out of which three are alike in some manner and one is different. Select the odd word pair.

- Ans**
- 1. Cobbler : Shoes
 - 2. Plumber : Wrench
 - 3. Carpenter : Hammer
 - 4. Chef : Knife

Question ID : 630680849414
Option 1 ID : 6306803327169
Option 2 ID : 6306803327166
Option 3 ID : 6306803327167
Option 4 ID : 6306803327168

Q.10 Two Statements are given followed by two conclusions numbered I and II. Assuming the statements to be true, even if they seem to be at variance with commonly known facts, decide which of the conclusions logically follow(s) from the statements.

Statement I: No club is a Pub.

Statement II: No Pub is a bar.

Conclusion I: No club is a bar.

Conclusion II: No bar is a Pub.

- Ans**
- 1. Both conclusions I and II follow
 - 2. Neither conclusion I nor II follows
 - 3. Only conclusion I follows
 - 4. Only conclusion II follows

Question ID : 630680849391
Option 1 ID : 6306803327076
Option 2 ID : 6306803327077
Option 3 ID : 6306803327074
Option 4 ID : 6306803327075

Q.11 Five persons B, F, J, N, and R live in a five-storey building. The ground floor is numbered 1, the floor just above it is numbered 2, and so on till the topmost floor which is numbered 5. Only two people live between F and B. R does not live on the second floor. Only one person lives between N and J. N lives above B. J lives below B. Who lives on the fourth floor?

- Ans**
- 1. R
 - 2. B
 - 3. F
 - 4. N

Question ID : 630680849356
Option 1 ID : 6306803326934
Option 2 ID : 6306803326937
Option 3 ID : 6306803326935
Option 4 ID : 6306803326936

Q.12 U, V, W, X, and Y live on a five-floor building, each floor having only one flat. The bottommost floor is numbered as 1 and the floor immediately above it is numbered as 2 and so on. X lives just below Y. W, U and V live on consecutive floors in the same order. No one lives below V. Who lives just below X?

- Ans**
- 1. V
 - 2. Y
 - 3. W
 - 4. U

Question ID : 630680849355
Option 1 ID : 6306803326933
Option 2 ID : 6306803326930
Option 3 ID : 6306803326931
Option 4 ID : 6306803326932

Q.13 Choose the figure which is different from the rest.

Ans



Question ID : 630680835942
Option 1 ID : 6306803274539
Option 2 ID : 6306803274541
Option 3 ID : 6306803274538
Option 4 ID : 6306803274540

Q.14 Which of the following letters will replace the question mark (?) in the given series?

F, G, J, K, N, ?

- Ans
- 1. O
 - 2. R
 - 3. P
 - 4. Q

Question ID : 630680849423

Option 1 ID : 6306803327204

Option 2 ID : 6306803327203

Option 3 ID : 6306803327205

Option 4 ID : 6306803327202

Q.15 Four word-pairs have been given, out of which three are alike in some manner and one is different. Select the odd word pair.

- Ans
- 1. Laptop : Desktop
 - 2. Sugar : Salt
 - 3. Coke : Pepsi
 - 4. Android : IOS

Question ID : 630680849415

Option 1 ID : 6306803327172

Option 2 ID : 6306803327171

Option 3 ID : 6306803327170

Option 4 ID : 6306803327173

Q.16 Six friends A, C, F, N, P, and R are sitting around a circular table facing toward the center. C sits to the immediate right of A. N sits third to the right of F. N sits to the immediate right of P. Who sits to the immediate left of P?

- Ans
- 1. C
 - 2. R
 - 3. A
 - 4. F

Question ID : 630680849343

Option 1 ID : 6306803326884

Option 2 ID : 6306803326883

Option 3 ID : 6306803326885

Option 4 ID : 6306803326882

Q.17 Five friends A, C, Q, W and Y are sitting around a circular table facing away from the center. C sits to the immediate left of A. Q sits to the immediate right of W. W does not sit adjacent to A. Who sits to the immediate left of Y?

- Ans**
- 1. W
 - 2. C
 - 3. Q
 - 4. A

Question ID : 630680849341
Option 1 ID : 6306803326877
Option 2 ID : 6306803326874
Option 3 ID : 6306803326876
Option 4 ID : 6306803326875

Q.18 Two Statements are given followed by two conclusions numbered I and II. Assuming the statements to be true, even if they seem to be at variance with commonly known facts, decide which of the conclusions logically follow(s) from the statements.

Statement I: All cats are dogs.

Statement II: All dogs are toys.

Conclusion I: Some cats are toys.

Conclusion II: Some toys are cats.

- Ans**
- 1. Both conclusions I and II follow
 - 2. Neither conclusion I nor II follows
 - 3. Only conclusion II follows
 - 4. Only conclusion I follows

Question ID : 630680849389
Option 1 ID : 6306803327068
Option 2 ID : 6306803327069
Option 3 ID : 6306803327067
Option 4 ID : 6306803327066

Q.19 Select the wrong term in the given letter series.

D, H, N, W, F, R

- Ans**
- 1. R
 - 2. F
 - 3. W
 - 4. N

Question ID : 630680849422
Option 1 ID : 6306803327198
Option 2 ID : 6306803327199
Option 3 ID : 6306803327200
Option 4 ID : 6306803327201

Q.20 Four letter-clusters pairs have been given, out of which three are alike in some manner and one is different. Select the odd letter-cluster pair.

- Ans**
- 1. GV : EX
 - 2. SB : QD
 - 3. AQ : XS
 - 4. ZM : XO

Question ID : 630680849409
Option 1 ID : 6306803327149
Option 2 ID : 6306803327146
Option 3 ID : 6306803327148
Option 4 ID : 6306803327147

Section : General Awareness 1

Q.1 Which of the following is not a New Year festival?

- A. Ugadi
- B. Vishu
- C. Gudhi Padwa
- D. Pongal

- Ans**
- 1. Only D
 - 2. A, C, and D
 - 3. A, B, C and D
 - 4. B, C, and D

Question ID : 630680849266
Option 1 ID : 6306803326583
Option 2 ID : 6306803326582
Option 3 ID : 6306803326585
Option 4 ID : 6306803326584

Q.2 Which Indian athlete will carry the Olympic torch in Paris for the 2024 Paris Olympics?

- Ans**
- 1. Mary koi
 - 2. Neeraj Chopra
 - 3. Lovlina Borgohain
 - 4. Abhinav Bindra

Question ID : 630680849198
Option 1 ID : 6306803326313
Option 2 ID : 6306803326310
Option 3 ID : 6306803326312
Option 4 ID : 6306803326311

Q.3 Apart from Navratri, which festival in Gujarat is celebrated for five days during Mahashivratri in February?

Ans 1. Bhavnath Mahadev Fair

2. Modhera Dance Festival

3. Dang Darbar Fair

4. Rann Utsav

Question ID : 630680849263

Option 1 ID : 6306803326572

Option 2 ID : 6306803326571

Option 3 ID : 6306803326573

Option 4 ID : 6306803326570

Q.4 Which of the following nitrogenous bases is present in DNA but not in RNA?

Ans 1. Uracil

2. Guanine

3. Thymine

4. Cytosine

Question ID : 630680849305

Option 1 ID : 6306803326741

Option 2 ID : 6306803326740

Option 3 ID : 6306803326739

Option 4 ID : 6306803326738

Q.5 Who won a gold medal in the 10m air rifle event at the ISSF World Cup, 2024?

Ans 1. Bhowneesh Mendiratta

2. Divyansh Singh Panwar

3. Arjun Singh

4. Gagan Narang

Question ID : 630680849193

Option 1 ID : 6306803326291

Option 2 ID : 6306803326293

Option 3 ID : 6306803326290

Option 4 ID : 6306803326292

Q.6 What genre of literature does the Booker Prize primarily focus on?

Ans 1. Drama

2. Non-fiction

3. Fiction

4. Poetry

Question ID : 630680849251

Option 1 ID : 6306803326525

Option 2 ID : 6306803326522

Option 3 ID : 6306803326523

Option 4 ID : 6306803326524

Q.7 What organic compounds are fats and oils composed of?

- Ans 1. Carbon, hydrogen, and oxygen
 2. Carbon and nitrogen
 3. Carbon, hydrogen, and nitrogen
 4. Carbon, oxygen, and nitrogen

Question ID : 630680849307
Option 1 ID : 6306803326747
Option 2 ID : 6306803326749
Option 3 ID : 6306803326748
Option 4 ID : 6306803326746

Q.8 What is the maximum subsidy provided to Women SHGs for the purchase of drones under the Nammo Drone Didi scheme?

- Ans 1. 50% of the drone cost or a maximum of Rs. 10 lakh
 2. 80% of the drone cost or a maximum of Rs. 8 lakh
 3. Rs. 5 lakh per drone
 4. 60% of the drone cost

Question ID : 630680849218
Option 1 ID : 6306803326392
Option 2 ID : 6306803326393
Option 3 ID : 6306803326391
Option 4 ID : 6306803326390

Q.9 Which artificial sweetener is approximately 550 times sweeter than cane sugar?

- Ans 1. Saccharin
 2. Sucralose
 3. Aspartame
 4. Alitame

Question ID : 630680849316
Option 1 ID : 6306803326784
Option 2 ID : 6306803326782
Option 3 ID : 6306803326785
Option 4 ID : 6306803326783

Q.10 Which literary award honours creative literary writing in any of the 22 recognized Indian languages?

- Ans 1. Jnanpith Award
 2. Pulitzer Prize
 3. Sahitya Akademi Bal Sahitya Puraskar
 4. Booker Prize

Question ID : 630680849252
Option 1 ID : 6306803326528
Option 2 ID : 6306803326529
Option 3 ID : 6306803326526
Option 4 ID : 6306803326527

Q.11 Which government agency plans to collaborate with ISRO for deploying V-SAT stations in tribal villages?

- Ans
- 1. Ministry of Education
 - 2. Ministry of Home Affairs
 - 3. Ministry of Rural Development
 - 4. Ministry of Tribal Affairs

Question ID : 630680849223
Option 1 ID : 6306803326412
Option 2 ID : 6306803326410
Option 3 ID : 6306803326411
Option 4 ID : 6306803326413

Q.12 Which reserve in Maharashtra has been designated as India's first international Dark Sky Park?

- Ans
- 1. Ranthambore Tiger Reserve
 - 2. Tadoba Andhari Tiger Reserve
 - 3. Pench Tiger Reserve
 - 4. Bandipur Tiger Reserve

Question ID : 630680849202
Option 1 ID : 6306803326327
Option 2 ID : 6306803326328
Option 3 ID : 6306803326329
Option 4 ID : 6306803326326

Q.13 Which type of protein causes coagulation in milk during the cheese-making process?

- Ans
- 1. Casein
 - 2. Gluten
 - 3. Gelatin
 - 4. Ovalbumin

Question ID : 630680849308
Option 1 ID : 6306803326750
Option 2 ID : 6306803326753
Option 3 ID : 6306803326751
Option 4 ID : 6306803326752

Q.14 Where will the pilot deployment of V-SAT (very small aperture terminal) stations take place?

- Ans
- 1. Urban areas
 - 2. Mountain Border areas
 - 3. Tribal villages
 - 4. Coastal regions

Join Telegram Group "HaryanaJobs.in"

Question ID : 630680834964
Option 1 ID : 6306803270670
Option 2 ID : 6306803270673
Option 3 ID : 6306803270672
Option 4 ID : 6306803270671

Q.15 What additional group does the Jammu and Kashmir Local Bodies Laws (Amendment) Bill, 2024 aim to provide reservation for in panchayats and Municipal Bodies of Jammu and Kashmir?

- Ans 1. Other Backward Classes (OBCs)
 2. Afghan Indians
 3. Jewish community
 4. Jains

Question ID : 630680849214
Option 1 ID : 6306803326375
Option 2 ID : 6306803326374
Option 3 ID : 6306803326377
Option 4 ID : 6306803326376

Q.16 Which value system supports the commodification of nature?

- Ans 1. Socialist values
 2. Capitalist values
 3. Environmentalist values
 4. Religious values

Question ID : 630680849318
Option 1 ID : 6306803326790
Option 2 ID : 6306803326793
Option 3 ID : 6306803326792
Option 4 ID : 6306803326791

Q.17 According to Article 351 of the Constitution, what is the primary source for enriching the Hindi language?

- Ans 1. Tamil
 2. Urdu
 3. Telugu
 4. Sanskrit

Question ID : 630680849257
Option 1 ID : 6306803326549
Option 2 ID : 6306803326546
Option 3 ID : 6306803326548
Option 4 ID : 6306803326547

Q.18 Who launched the Swachhata Green Leaf Rating (SGLR) initiative?

- Ans 1. Department of Environment and Forests (MoEF)
 2. Ministry of Environment, Forest and Climate Change
 3. Department of Drinking Water & Sanitation (DDWS), Ministry of Jal Shakti
 4. Ministry of Sustainability and the Environment

Question ID : 630680849206
Option 1 ID : 6306803326343
Option 2 ID : 6306803326342
Option 3 ID : 6306803326344
Option 4 ID : 6306803326345

Q.19 What is the second official language of Uttarakhand?

- Ans
- 1. Kumaoni
 - 2. Garhwali
 - 3. Sanskrit
 - 4. Hindi

Question ID : 630680849261
Option 1 ID : 6306803326563
Option 2 ID : 6306803326562
Option 3 ID : 6306803326565
Option 4 ID : 6306803326564

Q.20 What is the composition of eukaryotic ribosomes 80S?

- Ans
- 1. 60S and 20S subunits
 - 2. 60S and 40S subunits
 - 3. 70S and 10S subunits
 - 4. 70S and 30S subunits

Question ID : 630680849312
Option 1 ID : 6306803326767
Option 2 ID : 6306803326769
Option 3 ID : 6306803326768
Option 4 ID : 6306803326766

Section : General Awareness 2

Q.1 Which river is famous for its badland topography called the Chambal ravines?

- Ans
- 1. Gandak
 - 2. Kosi
 - 3. Chambal
 - 4. Ghaghara

Question ID : 630680849273
Option 1 ID : 6306803326611
Option 2 ID : 6306803326612
Option 3 ID : 6306803326610
Option 4 ID : 6306803326613

Q.2 What landforms are indicative of the youthful stage of rivers in the Himalayas and Peninsular mountains?

- Ans
- 1. Gorges, V-shaped valleys, rapids
 - 2. Estuaries, barrier islands, sandbars
 - 3. Oxbow lakes, levees, distributaries
 - 4. Deltas, floodplains, meanders

Question ID : 630680849271
Option 1 ID : 6306803326605
Option 2 ID : 6306803326604
Option 3 ID : 6306803326602
Option 4 ID : 6306803326603

Q.3 How does Article 1 describe India in relation to its states?

- Ans 1. As a confederation of states
 2. As a federation of states
 3. As a Union of States
 4. As an alliance of states

Question ID : 630680849302
Option 1 ID : 6306803326729
Option 2 ID : 6306803326727
Option 3 ID : 6306803326726
Option 4 ID : 6306803326728

Q.4 Who was executed by Aurangzeb in 1675, leading to the rise of the Sikh Guru?

- Ans 1. Guru Tegh Bahadur
 2. Guru Gobind Singh
 3. Guru Nanak
 4. Guru Arjan Dev

Question ID : 630680834995
Option 1 ID : 6306803270796
Option 2 ID : 6306803270797
Option 3 ID : 6306803270794
Option 4 ID : 6306803270795

Q.5 Which Sultan established the city of Fatehabad and a hospital called Dar-ul-Shifa?

- Ans 1. Firoz Shah Tughlaq
 2. Alauddin Khilji
 3. Mohammad-bin-Tughlaq
 4. Sikandar Lodhi

Question ID : 630680849244
Option 1 ID : 6306803326496
Option 2 ID : 6306803326494
Option 3 ID : 6306803326497
Option 4 ID : 6306803326495

Q.6 How is unemployment defined by the National Sample Survey Organisation (NSSO)?

- Ans 1. Seeking work but not finding it
 2. Inability to find a job
 3. Lack of education
 4. Disengagement from the labor force

Question ID : 630680834974
Option 1 ID : 6306803270710
Option 2 ID : 6306803270712
Option 3 ID : 6306803270713
Option 4 ID : 6306803270711

Q.7 What electoral system does India primarily use for its general elections?

- Ans 1. Mixed Member Proportional (MMP)
 2. First Past the Post (FPTP)
 3. Single-member district plurality voting (SMDP)
 4. Single Transferable Vote (STV)

Question ID : 630680849295
Option 1 ID : 6306803326700
Option 2 ID : 6306803326699
Option 3 ID : 6306803326701
Option 4 ID : 6306803326698

Q.8 Under what circumstances can citizenship of India be lost?

- Ans 1. By holding public office in another country
 2. By birth in India
 3. By renunciation of citizenship
 4. By residing in India for an extended period

Question ID : 630680835050
Option 1 ID : 6306803271016
Option 2 ID : 6306803271014
Option 3 ID : 6306803271015
Option 4 ID : 6306803271017

Q.9 How many two-monthly seasons does the traditional Indian calendar divide a year into?

- Ans 1. Four
 2. Twelve
 3. Six
 4. Eight

Question ID : 630680849278
Option 1 ID : 6306803326630
Option 2 ID : 6306803326633
Option 3 ID : 6306803326631
Option 4 ID : 6306803326632

Q.10 Which part of India receives inadequate rainfall, below 50 cm annually?

- Ans 1. Odisha
 2. Western Ghats
 3. Ladakh
 4. Manipur

Question ID : 630680849277
Option 1 ID : 6306803326627
Option 2 ID : 6306803326629
Option 3 ID : 6306803326628
Option 4 ID : 6306803326626

Q.11 In which flower are the stamens attached to the perianth?

- Ans 1. Lily
 2. Petunia
 3. Datura
 4. Brinjal

Question ID : 630680849315
Option 1 ID : 6306803326778
Option 2 ID : 6306803326781
Option 3 ID : 6306803326780
Option 4 ID : 6306803326779

Q.12 What event marked the beginning of the Civil Disobedience Movement in 1930?

- Ans 1. First Round Table Conference
 2. Poona Pact
 3. Dandi March or Salt Satyagraha
 4. Quit India Movement

Question ID : 630680849239
Option 1 ID : 6306803326474
Option 2 ID : 6306803326477
Option 3 ID : 6306803326476
Option 4 ID : 6306803326475

Q.13 What is the normal term of office for a Governor?

- Ans 1. 4 years
 2. 5 years
 3. 6 years
 4. 3 years

Question ID : 630680849294
Option 1 ID : 6306803326695
Option 2 ID : 6306803326696
Option 3 ID : 6306803326697
Option 4 ID : 6306803326694

Q.14 Which jurisdiction of the Supreme Court deals with the enforcement of Fundamental Rights?

- Ans 1. Original jurisdiction
 2. Advisory jurisdiction
 3. Writ jurisdiction
 4. Appellate jurisdiction

Question ID : 630680835059
Option 1 ID : 6306803271050
Option 2 ID : 6306803271052
Option 3 ID : 6306803271053
Option 4 ID : 6306803271051

Q.15 How is ex ante investment demand (I) represented?

C' is Autonomous consumption

C is consumption expenditure by households

S is savings per unit change in income

I' is autonomous investment in a given year

Ans 1. $I = S$

2. $I = I'$

3. $I = C$

4. $I = Y$

Question ID : 630680834972

Option 1 ID : 6306803270702

Option 2 ID : 6306803270705

Option 3 ID : 6306803270703

Option 4 ID : 6306803270704

Q.16 How can Indian citizenship be acquired by registration?

Ans 1. By being a person of Indian origin residing in India for 7 years

2. By marrying an Indian citizen and residing in India for 2 years

3. By residing in India for 12 years continuously

4. By being born in India to Indian parents

Question ID : 630680849291

Option 1 ID : 6306803326684

Option 2 ID : 6306803326685

Option 3 ID : 6306803326683

Option 4 ID : 6306803326682

Q.17 Which component is NOT included in calculating Gross fiscal deficit?

Ans 1. Borrowing from RBI

2. Net borrowing at home

3. Equity shares

4. Borrowing from abroad

Question ID : 630680849229

Option 1 ID : 6306803326436

Option 2 ID : 6306803326434

Option 3 ID : 6306803326435

Option 4 ID : 6306803326437

Q.18 Which of the following states has the highest Muslim population percentage as per 2011 census?

Ans 1. Tamil Nadu

2. Kerala

3. Lakshadweep

4. West Bengal

Question ID : 630680849284

Option 1 ID : 6306803326655

Option 2 ID : 6306803326654

Option 3 ID : 6306803326657

Option 4 ID : 6306803326656

Q.19 Which religious group has its major concentration in Lakshadweep?

- Ans 1. Muslims
 2. Buddhists
 3. Sikhs
 4. Christians

Question ID : 630680835042
Option 1 ID : 6306803270983
Option 2 ID : 6306803270985
Option 3 ID : 6306803270982
Option 4 ID : 6306803270984

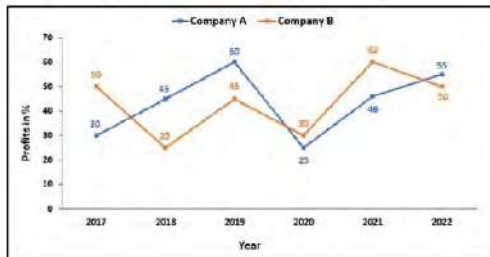
Q.20 Which trio of leaders was known for their militant nationalism during the Extremist Phase of the Indian National Movement?

- Ans 1. Aurobindo Ghosh, Bipin Chandra Pal, and Lala Lajpat Rai
 2. Mahatma Gandhi, Jawaharlal Nehru, and Sardar Patel
 3. Lala Lajpat Rai, Bal Gangadhar Tilak, and Bipin Chandra Pal
 4. Subhas Chandra Bose, Bhagat Singh, and Chandrashekhar Azad

Question ID : 630680849240
Option 1 ID : 6306803326478
Option 2 ID : 6306803326480
Option 3 ID : 6306803326479
Option 4 ID : 6306803326481

Section : Arithmetical and Numerical Ability 1

Q.1 The graph below shows the percent profit earned by two companies producing mechanical equipment from the year 2017 to 2022. Company A invested ₹16,000 more than company B in the year 2020. The profit earned by B was ₹ 6200 more than A. Find the ratio of investment by the companies A and B in the year 2020.



- Ans 1. 27:25
 2. 25:23
 3. 55:51
 4. 52:51

Question ID : 630680849603
Option 1 ID : 6306803327660
Option 2 ID : 6306803327661
Option 3 ID : 6306803327658
Option 4 ID : 6306803327659

Q.2 $\frac{\sqrt{256}}{32} \times \frac{64}{\sqrt{1024}} \times \frac{\sqrt{961}}{62} = ?$

- Ans
- 1. 16
 - 2. 0.5
 - 3. 1
 - 4. 0

Question ID : 630680849636
Option 1 ID : 6306803327793
Option 2 ID : 6306803327791
Option 3 ID : 6306803327792
Option 4 ID : 6306803327790

Q.3 A vessel is filled with liquid, 5 parts of which are water and 7 parts lemon juice. How much of the mixture must be drawn off and replaced with water so that the mixture may be half water and half lemon juice?

- Ans
- 1. $\frac{1}{7}$
 - 2. $\frac{1}{12}$
 - 3. $\frac{1}{17}$
 - 4. $\frac{1}{5}$

Question ID : 630680849579
Option 1 ID : 6306803327563
Option 2 ID : 6306803327564
Option 3 ID : 6306803327565
Option 4 ID : 6306803327562

Q.4 The compound interest on ₹ 50,000 at 12% per annum is ₹ 12720, compounded annually. The period (in years) is:

- Ans
- 1. 2
 - 2. 4
 - 3. 1
 - 4. 3

Question ID : 630680849592
Option 1 ID : 6306803327615
Option 2 ID : 6306803327617
Option 3 ID : 6306803327614
Option 4 ID : 6306803327616


Q.5 The table below shows the marks of students in different subjects. Who scored the maximum marks in Science, Maths and English?

Student	Subject (Max. Marks)					
	Maths	Hindi	Science	Geography	History	English
	(150)	(130)	(120)	(100)	(120)	(120)
Aman	110	85	96	60	70	94
Shivam	100	120	80	88	80	70
Sajal	90	60	70	70	90	70
Roshan	110	65	96	80	60	95
Arvind	80	84	90	95	50	94
Tanuj	70	75	65	85	40	86
Tarun	110	35	50	77	80	95

- Ans
- 1. Tarun
 - 2. Roshan
 - 3. Aman
 - 4. Sajal

Question ID : 630680849609
 Option 1 ID : 6306803327684
 Option 2 ID : 6306803327683
 Option 3 ID : 6306803327682
 Option 4 ID : 6306803327685

Q.6 The bar graph below shows number of candidates appeared (in lakh) in different years and line graph shows percentage of candidate qualified in examination over the years. What was the ratio between number of candidates appeared for exam 'X' in 2020 to the number of candidates who did not qualified in 2018?



- Ans
- 1. 16:15
 - 2. 64:15
 - 3. 15:64
 - 4. 15:16

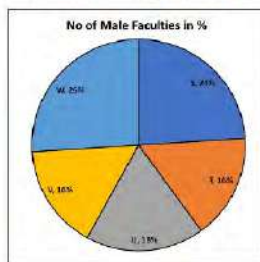
Question ID : 630680849604
 Option 1 ID : 6306803327662
 Option 2 ID : 6306803327663
 Option 3 ID : 6306803327665
 Option 4 ID : 6306803327664

Q.7 Find the sum of the cubes of the first 12 odd natural numbers.

- Ans
- ✓ 1. 41328
 - ✗ 2. 41358
 - ✗ 3. 41364
 - ✗ 4. 41378

Question ID : 630680834800
Option 1 ID : 6306803270014
Option 2 ID : 6306803270015
Option 3 ID : 6306803270016
Option 4 ID : 6306803270017

Q.8 Pie chart given below shows the percentage distribution of total number of male faculties in five different schools. Total male faculties in all schools together = 7500
The number of female faculties in schools S and T both is 15% more than male faculties . The number of female faculties in school U is 40% more than the number of male faculties. The total number of female faculties in school S, T and U is



- Ans
- ✗ 1. 5428
 - ✗ 2. 3564
 - ✗ 3. 6852
 - ✓ 4. 5340

Question ID : 630680849599
Option 1 ID : 6306803327642
Option 2 ID : 6306803327645
Option 3 ID : 6306803327643
Option 4 ID : 6306803327644

Q.9 If 42 men working 16 hours per day can reap a field in 16 days, in how many days, will 48 men reap the field working 8 hours per day?

- Ans
- ✗ 1. 36 days
 - ✗ 2. 32 days
 - ✓ 3. 28 days
 - ✗ 4. 42 days

Question ID : 630680849620
Option 1 ID : 6306803327728
Option 2 ID : 6306803327727
Option 3 ID : 6306803327726
Option 4 ID : 6306803327729

Q.10 What is the sum of the squares of the first 22 even natural numbers?

- Ans
- 1. 15320
 - 2. 15180
 - 3. 15260
 - 4. 15380

Question ID : 630680834806
Option 1 ID : 6306803270040
Option 2 ID : 6306803270038
Option 3 ID : 6306803270039
Option 4 ID : 6306803270041

Q.11 What is the compound interest on ₹ 5600 for 2 years at rate of interest 6% per annum, compounded annually?

- Ans
- 1. ₹ 694.48
 - 2. ₹ 684.56
 - 3. ₹ 692.16
 - 4. ₹ 688.24

Question ID : 630680849591
Option 1 ID : 6306803327613
Option 2 ID : 6306803327610
Option 3 ID : 6306803327612
Option 4 ID : 6306803327611

Q.12 A dining table is listed at ₹ 1500 is sold to a retailer at successive discounts of 18% and 15% by the wholesaler. Then the cost price of the dining table for retailer is :

- Ans
- 1. ₹ 1045.50
 - 2. ₹ 1256.70
 - 3. ₹ 1156.60
 - 4. ₹ 1384.10

Question ID : 630680849664
Option 1 ID : 6306803327902
Option 2 ID : 6306803327904
Option 3 ID : 6306803327903
Option 4 ID : 6306803327905

Q.13 The average weight of 26 students is 68 kg. If one new student is added, the average weight becomes 70 kg. What is the weight of the new student?

- Ans
- 1. 88 kg
 - 2. 122 kg
 - 3. 70 kg
 - 4. 94 kg

Question ID : 630680849575
Option 1 ID : 6306803327547
Option 2 ID : 6306803327549
Option 3 ID : 6306803327546
Option 4 ID : 6306803327548

Q.14 Varun walks at 5 km/hr for 3 hours and runs at 20 km/hr for next 7 hours. What is the average speed of Varun?

- Ans
- 1. 13.5 km/hr
 - 2. 14.5 km/hr
 - 3. 15.5 km/hr
 - 4. 12.5 km/hr

Question ID : 630680849574
Option 1 ID : 6306803327543
Option 2 ID : 6306803327544
Option 3 ID : 6306803327545
Option 4 ID : 6306803327542

Q.15 What is the difference between simple interest and compound interest on ₹15000 for one year at 12% interest per annum if, for compound interest, interest is compounded half-yearly?

- Ans
- 1. ₹60
 - 2. ₹48
 - 3. ₹36
 - 4. ₹54

Question ID : 630680834774
Option 1 ID : 6306803269913
Option 2 ID : 6306803269911
Option 3 ID : 6306803269910
Option 4 ID : 6306803269912

Q.16 Calculate the sum of the first 50 terms of the following AP: $375 + 345 + 315 + 285 + \dots$

- Ans
- 1. -18400
 - 2. -18600
 - 3. -18000
 - 4. -18200

Question ID : 630680849616
Option 1 ID : 6306803327712
Option 2 ID : 6306803327713
Option 3 ID : 6306803327710
Option 4 ID : 6306803327711

Q.17 The difference between two twin prime numbers is always equal to _____.

- Ans
- 1. 0
 - 2. Number itself
 - 3. 2
 - 4. 1

Question ID : 630680849612
Option 1 ID : 6306803327694
Option 2 ID : 6306803327697
Option 3 ID : 6306803327696
Option 4 ID : 6306803327695

Q.18 Simran visited two shops. Shop A was offering a flat 30% discount on an item. Shop B was offering two successive discounts of 20% and 10% on the same item. From which shop should Simran buy the item from?

- Ans
- 1. Both are the same.
 - 2. Shop A
 - 3. Shop B
 - 4. Data insufficient

Question ID : 630680849661
Option 1 ID : 6306803327892
Option 2 ID : 6306803327890
Option 3 ID : 6306803327891
Option 4 ID : 6306803327893

Q.19 Evaluate:

$$3 + 6 \div (24 + 6) \times 4$$

Ans 1. $\frac{16}{7}$

2. $\frac{7}{6}$

3. $\frac{15}{4}$

4. $\frac{19}{5}$

Question ID : 630680849629
Option 1 ID : 6306803327762
Option 2 ID : 6306803327765
Option 3 ID : 6306803327764
Option 4 ID : 6306803327763

Q.20 Evaluate:

$$0.07 \div 0.014 \times 0.34 \div 1.7 + 45 \times 2$$

Ans 1. 90.15

2. 94.7

3. 94.32

4. 91

Question ID : 630680849622
Option 1 ID : 6306803327734
Option 2 ID : 6306803327737
Option 3 ID : 6306803327736
Option 4 ID : 6306803327735

Section : Arithmetical and Numerical Ability 2

Q.1 Ashok can do 50% of a work in 15 days, whereas Bob can do 30% of the same work in 18 days. Both works together for 12 days. Catherine completes the remaining work alone in 12 days. Ashok, Bob and Catherine together will complete 25% of the same work in:

Ans 1. 2 days

2. 1 day

3. 3 days

4. 4 days

Question ID : 630680849687
Option 1 ID : 6306803327995
Option 2 ID : 6306803327994
Option 3 ID : 6306803327996
Option 4 ID : 6306803327997

Q.2 In an election between two candidates Raju and Sakshi, Raju got 55% of the total valid votes. If the total number of valid votes was 6000, the number of valid votes that Sakshi got, was:

- Ans**
- 1. 2700
 - 2. 3200
 - 3. 3000
 - 4. 2400

Question ID : 630680849637
Option 1 ID : 6306803327795
Option 2 ID : 6306803327797
Option 3 ID : 6306803327796
Option 4 ID : 6306803327794

Q.3 Vivek goes at a speed of 15 km/hr and covers a certain distance in an hour while riding his blue cycle. When he rides his green cycle he goes at a speed of 12 km/hr In what time will he cover the same distance?

- Ans**
- 1. 76 minutes
 - 2. 72 minutes
 - 3. 75 minutes
 - 4. 74 minutes

Question ID : 630680849688
Option 1 ID : 6306803328001
Option 2 ID : 6306803327998
Option 3 ID : 6306803328000
Option 4 ID : 6306803327999

Q.4 A and B can complete a piece of work in 5 days and 8 days respectively. If A and B work on alternative days, how many days will it take to complete the work (A starts the work)?

- Ans**
- 1. $\frac{8}{9}$
 - 2. $\frac{49}{4}$
 - 3. $\frac{49}{8}$
 - 4. $\frac{40}{13}$

Question ID : 630680834884
Option 1 ID : 6306803270353
Option 2 ID : 6306803270352
Option 3 ID : 6306803270350
Option 4 ID : 6306803270351

Q.5 Brass is 14 times as heavy as water and Aluminium is 6 times as heavy as water. In what ratio should these metals be mixed respectively so that the mixture may be 12 times as heavy as water?

- Ans**
- 1. 5 : 3
 - 2. 3 : 2
 - 3. 1 : 2
 - 4. 3 : 1

Question ID : 630680834876
Option 1 ID : 6306803270321
Option 2 ID : 6306803270320
Option 3 ID : 6306803270318
Option 4 ID : 6306803270319

Q.6 A sum fetched a total simple interest of ₹ 1376.70 at the rate of interest of 5% per annum in 6 years. What is the sum?

- Ans**
- 1. ₹ 4520
 - 2. ₹ 4589
 - 3. ₹ 4890
 - 4. ₹ 5210

Question ID : 630680849584
Option 1 ID : 6306803327582
Option 2 ID : 6306803327583
Option 3 ID : 6306803327584
Option 4 ID : 6306803327585

Q.7 A train travelling at 72 kmph crosses another train travelling in the same direction at 54 kmph in 48 seconds. What is the combined length of both the trains?

- Ans**
- 1. 226 m
 - 2. 240 m
 - 3. 254 m
 - 4. 215 m

Question ID : 630680849697
Option 1 ID : 6306803328035
Option 2 ID : 6306803328036
Option 3 ID : 6306803328037
Option 4 ID : 6306803328034

Q.8 Vikram sold a table at a loss of 25%. If he had sold it for ₹ 180 more, he would have made a profit of 20%. The cost price of the table is:

- Ans**
- 1. ₹ 400
 - 2. ₹ 100
 - 3. ₹ 200
 - 4. ₹ 300

Question ID : 630680849659
Option 1 ID : 6306803327885
Option 2 ID : 6306803327882
Option 3 ID : 6306803327883
Option 4 ID : 6306803327884

Q.9 A shopkeeper sold a flower pot for ₹ 3500. If the cost price of the flower pot is ₹ 2800, find the profit percent.

- Ans**
- 1. 15%
 - 2. 20%
 - 3. 25%
 - 4. 30%

Question ID : 630680849651
Option 1 ID : 6306803327850
Option 2 ID : 6306803327851
Option 3 ID : 6306803327852
Option 4 ID : 6306803327853

Q.10 The price of an article is successively increased by 25%,40% and 45% respectively. What is the net percentage increase?

- Ans**
- 1. 153.75%
 - 2. 110%
 - 3. 135.75%
 - 4. 75%

Question ID : 630680849649
Option 1 ID : 6306803327845
Option 2 ID : 6306803327842
Option 3 ID : 6306803327843
Option 4 ID : 6306803327844

Q.11 In an election between two candidates, Raju got 55% of the total valid votes. If the total number of valid votes was 6000, the number of valid votes that Sakshi, the other candidate, got was:

- Ans**
- 1. 2700
 - 2. 3200
 - 3. 3000
 - 4. 2400

Question ID : 630680834828
Option 1 ID : 6306803270127
Option 2 ID : 6306803270129
Option 3 ID : 6306803270128
Option 4 ID : 6306803270126

Q.12 Profit obtained by selling a pen-drive for ₹480 is equal to $\frac{7}{6}$ of the profit obtained by selling the same pen-drive for ₹420. What is the cost price of the pen-drive?

- Ans**
- 1. ₹148
 - 2. ₹60
 - 3. ₹198
 - 4. ₹98

Question ID : 630680834858
Option 1 ID : 6306803270248
Option 2 ID : 6306803270246
Option 3 ID : 6306803270249
Option 4 ID : 6306803270247

Q.13 The amount of money raised at a fundraiser is directly proportional to the number of people in attendance. If 15 people attending raised ₹13500, then how much money will be raised if 120 people are in attendance?

- Ans
- 1. ₹1,07,000
 - 2. ₹1,06,000
 - 3. ₹1,08,000
 - 4. ₹1,09,000

Question ID : 630680834882
Option 1 ID : 6306803270343
Option 2 ID : 6306803270342
Option 3 ID : 6306803270344
Option 4 ID : 6306803270345

Q.14 A, B, and C start running simultaneously on a circular track of length 180 meters from the same point with the speeds 4m/s, 6m/s and 9 m/s respectively. A and C are running in anti-clockwise direction and B is running in a clockwise direction. After how much time from the start all three will meet for the first time anywhere on the track?

- Ans
- 1. 18 seconds
 - 2. 180 seconds
 - 3. 120 seconds
 - 4. 36 seconds

Question ID : 630680849691
Option 1 ID : 6306803328010
Option 2 ID : 6306803328013
Option 3 ID : 6306803328012
Option 4 ID : 6306803328011

Q.15 Sumit in still water has recorded a row speed of 18 km/h. The time taken by him to row a certain distance upstream is 5 times the time to go the same distance downstream. What is the rate of this stream?

- Ans
- 1. 8 km/hr
 - 2. 12 km/hr
 - 3. 10 km/hr
 - 4. 6 km/hr

Question ID : 630680849695
Option 1 ID : 6306803328027
Option 2 ID : 6306803328029
Option 3 ID : 6306803328028
Option 4 ID : 6306803328026

Q.16 A sum of money at simple interest amounts to ₹ 600 in 4 years and to ₹ 700 in 5 years. The sum is:

Ans 1. ₹ 200

2. ₹ 100

3. ₹ 400

4. ₹ 300

Question ID : 630680849580

Option 1 ID : 6306803327567

Option 2 ID : 6306803327566

Option 3 ID : 6306803327569

Option 4 ID : 6306803327568

Q.17 Find the mean proportional of 8 and 9.

Ans 1. $\sqrt{72}$

2. 62

3. $\sqrt{42}$

4. 8

Question ID : 630680849669

Option 1 ID : 6306803327925

Option 2 ID : 6306803327924

Option 3 ID : 6306803327922

Option 4 ID : 6306803327923

Q.18 Two successive increases of 30% each is (approximately) by what percent more than the two successive decrease of 30% each?

Ans 1. 38%

2. 35%

3. 30%

4. 41%

Question ID : 630680849650

Option 1 ID : 6306803327848

Option 2 ID : 6306803327847

Option 3 ID : 6306803327846

Option 4 ID : 6306803327849

Q.19 Ramesh earns an average of Rs. ₹ 3200 per week during a 40 hours week. He increases his rates in final week of the month by 75%. Find the commission he earns in that week, if he puts in 50 hours during that final week?

Ans 1. ₹ 7000

2. ₹ 5000

3. ₹ 7500

4. ₹ 2500

Question ID : 630680849640

Option 1 ID : 6306803327808

Option 2 ID : 6306803327807

Option 3 ID : 6306803327809

Option 4 ID : 6306803327806

Q.20 The ratio of the first and the second-class fares between two stations is 12 : 5 and the ratio of the numbers of passengers traveling by first and second-classes is 2 : 39. If ₹21900 is collected as total fare, what is the amount collected from first class passengers?

- Ans**
- 1. ₹2300
 - 2. ₹2200
 - 3. ₹2400
 - 4. ₹2100

Question ID : 630680834875
Option 1 ID : 6306803270316
Option 2 ID : 6306803270315
Option 3 ID : 6306803270317
Option 4 ID : 6306803270314

Section : Test of English Language and Comprehension 1

Q.1 What is the term for a person who lives in seclusion?

- Ans**
- 1. Hermit
 - 2. Ascetic
 - 3. Gourmand
 - 4. Recluse

Question ID : 630680852728
Option 1 ID : 6306803339885
Option 2 ID : 6306803339886
Option 3 ID : 6306803339884
Option 4 ID : 6306803339887

Q.2 Choose the correct preposition to complete the sentence:
The keys were hidden _____ the vase.

- Ans**
- 1. above
 - 2. on
 - 3. in
 - 4. through

Question ID : 630680852686
Option 1 ID : 6306803339718
Option 2 ID : 6306803339717
Option 3 ID : 6306803339716
Option 4 ID : 6306803339719

Q.3 What is the term for a person who believes that war and violence are unjustifiable?

- Ans 1. Jingoist
 2. Pessimist
 3. Pacifist
 4. Militant

Question ID : 630680852725
Option 1 ID : 6306803339874
Option 2 ID : 6306803339875
Option 3 ID : 6306803339872
Option 4 ID : 6306803339873

Q.4 Choose the correct article to complete the sentence:
She always wears _____ red dress to parties.

- Ans 1. none
 2. an
 3. the
 4. a

Question ID : 630680852675
Option 1 ID : 6306803339675
Option 2 ID : 6306803339673
Option 3 ID : 6306803339674
Option 4 ID : 6306803339672

Q.5 Choose the sentence with the appropriate verb form:

- Ans 1. He is finished his homework
 2. He had finished his homework already.
 3. He has finished his homework already.
 4. He have finished his homework already.

Question ID : 630680852708
Option 1 ID : 6306803339807
Option 2 ID : 6306803339806
Option 3 ID : 6306803339805
Option 4 ID : 6306803339804

Q.6 Identify the correct form of the adjective:
She is the _____ person I know.

- Ans 1. nicest
 2. nice
 3. nicer
 4. nicely

Question ID : 630680852698
Option 1 ID : 6306803339766
Option 2 ID : 6306803339764
Option 3 ID : 6306803339765
Option 4 ID : 6306803339767

Q.7 Select the sentence with the correct use of the adverb:

- Ans** 1. He speaks so quietly that no one can hear him.
 2. He speaks so quiet than no one can hear him.
 3. He speaks so quiet that no one can hear him.
 4. He speaks so quietly than no one can hear him.

Question ID : 630680852701
Option 1 ID : 6306803339778
Option 2 ID : 6306803339779
Option 3 ID : 6306803339777
Option 4 ID : 6306803339776

**Q.8 Select the most appropriate word for the given phrase.
Collective noun for Bees.**

- Ans** 1. House
 2. School
 3. Swarm
 4. Army

Question ID : 630680835173
Option 1 ID : 6306803271507
Option 2 ID : 6306803271509
Option 3 ID : 6306803271508
Option 4 ID : 6306803271506

Q.9 The sentences given below are all part of a paragraph but do not necessarily fall in the order that they are in. The first and the last sentences of the paragraph are given. Choose the option that arranges these sentences to form a meaningful paragraph.

Although the tiger had passed the prime of his life, he had lost none of his majesty.

- A. long grass with the confidence of one who knew that he was still a king, although his
B. His muscles rippled beneath the golden yellow of his coat, and he walked through the
C. swinging high, that sometimes showed above the sea of grass.
D. subjects were fewer. His great head pushed through the foliage, and it was only his tail,
He was heading for water, the water of a large marsh.

- Ans** 1. ADBC
 2. BADC
 3. CBDA
 4. DBCA

Question ID : 630680835172
Option 1 ID : 6306803271505
Option 2 ID : 6306803271504
Option 3 ID : 6306803271503
Option 4 ID : 6306803271502

Q.10 Choose the correct indefinite articles to complete the sentence:
Can you pick up _____ loaf of bread from the store?

- Ans
- 1. an
 - 2. a
 - 3. the
 - 4. none

Question ID : 630680852676
Option 1 ID : 6306803339678
Option 2 ID : 6306803339676
Option 3 ID : 6306803339677
Option 4 ID : 6306803339679

Q.11 Idiom: "Under the weather."
What does the idiom "Under the weather" mean?

- Ans
- 1. To be physically ill or indisposed
 - 2. To feel energetic
 - 3. To go on a vacation
 - 4. To enjoy sunny weather

Question ID : 630680852737
Option 1 ID : 6306803339920
Option 2 ID : 6306803339922
Option 3 ID : 6306803339923
Option 4 ID : 6306803339921

Q.12 Fill in the blank with the most appropriate option.
Squirrels are rare in Mussoorie _____ common enough down in the valley.

- Ans
- 1. or
 - 2. and
 - 3. though
 - 4. nor

Question ID : 630680835137
Option 1 ID : 6306803271365
Option 2 ID : 6306803271362
Option 3 ID : 6306803271363
Option 4 ID : 6306803271364

Q.13 Choose the correct adverb to complete the sentence:
He works _____ than his colleagues.

- Ans
- 1. hard
 - 2. harder
 - 3. none
 - 4. hardly

Question ID : 630680852683
Option 1 ID : 6306803339705
Option 2 ID : 6306803339704
Option 3 ID : 6306803339707
Option 4 ID : 6306803339706

Q.14 Identify the sentence with the correct usage of conjunction:
She had no money; she couldn't buy the dress.

- Ans 1. She had no money; however, she couldn't buy the dress.
2. She had no money, either she could buy the dress.
3. She had no money; consequently she couldn't buy the dress.
4. She had no money, therefore she couldn't buy the dress.

Question ID : 630680852705
Option 1 ID : 6306803339792
Option 2 ID : 6306803339793
Option 3 ID : 6306803339795
Option 4 ID : 6306803339794

Q.15 Identify the sentence where "although" is correctly used.

- Ans 1. Although it rained heavily, so we still went for a walk.
2. It rained heavily although, we still went for a walk.
3. Although it rained heavily, but we still went for a walk.
4. Although it rained heavily, we still went for a walk.

Question ID : 630680852706
Option 1 ID : 6306803339799
Option 2 ID : 6306803339798
Option 3 ID : 6306803339796
Option 4 ID : 6306803339797

Q.16 Select the most appropriate word for the given phrase.
Collective noun for Directors.

- Ans 1. Conference
2. Bench
3. Board
4. Troupe

Question ID : 630680835177
Option 1 ID : 6306803271522
Option 2 ID : 6306803271524
Option 3 ID : 6306803271523
Option 4 ID : 6306803271525

Q.17 Choose the correct indefinite articles to complete the sentence:
He wants to buy _____ house in the countryside.

- Ans 1. none
2. an
3. a
4. the

Question ID : 630680852677
Option 1 ID : 6306803339683
Option 2 ID : 6306803339682
Option 3 ID : 6306803339681
Option 4 ID : 6306803339680

Q.18 Arrange the following sentences to form a coherent paragraph about the dynamics of the stock market:

- A) Moreover, factors such as economic indicators, geopolitical events, and investor sentiment also influence stock prices.
- B) Understanding market trends and conducting thorough research are essential for making informed investment decisions.
- C) The stock market is characterized by volatility, with prices fluctuating based on supply and demand dynamics.
- D) Additionally, various financial instruments such as stocks, bonds, and derivatives are traded on stock exchanges.

- Ans
- 1. D, B, C, A
 - 2. C, D, A, B
 - 3. A, C, B, D
 - 4. B, C, A, D

Question ID : 630680852713
Option 1 ID : 6306803339826
Option 2 ID : 6306803339824
Option 3 ID : 6306803339827
Option 4 ID : 6306803339825

Q.19 Sarah wanted to become _____ astronaut when she grew up.
Choose the correct indefinite article from the options given below:

- Ans
- 1. none
 - 2. the
 - 3. a
 - 4. an

Question ID : 630680852697
Option 1 ID : 6306803339763
Option 2 ID : 6306803339761
Option 3 ID : 6306803339762
Option 4 ID : 6306803339760

Q.20 Choose the sentence with the correct usage of indefinite article

- Ans
- 1. She saw unicorn.
 - 2. She saw a unicorn.
 - 3. She saw some unicorn.
 - 4. She saw the unicorn.

Question ID : 630680852695
Option 1 ID : 6306803339753
Option 2 ID : 6306803339752
Option 3 ID : 6306803339755
Option 4 ID : 6306803339754

Q.1 From the given option, select the correct proverb which matches in meaning to the sentence given below.

After trying all reliable medicines, he is now visiting quacks to get a cure for his baldness.

- Ans
- 1. If you can't beat them, join them.
 - 2. A drowning man will clutch at a straw.
 - 3. If you play with fire, you'll get burned.
 - 4. If you buy cheaply, you pay dearly.

Question ID : 630680835194
Option 1 ID : 6306803271591
Option 2 ID : 6306803271593
Option 3 ID : 6306803271592
Option 4 ID : 6306803271590

Q.2 Find the misspelled word in the sentence:
"Their friendship was uncomparable."

- Ans
- 1. none
 - 2. Their
 - 3. Uncomparable
 - 4. Friendship

Question ID : 630680852765
Option 1 ID : 6306803340035
Option 2 ID : 6306803340034
Option 3 ID : 6306803340033
Option 4 ID : 6306803340032

Q.3 Proverb: "A watched pot never boils."
What does the proverb "A watched pot never boils" mean?

- Ans
- 1. Patience is a virtue.
 - 2. Time seems to pass slowly when one is waiting for something to happen.
 - 3. A person should focus on their own affairs rather than others'.
 - 4. Constantly monitoring a situation can prevent problems.

Question ID : 630680852743
Option 1 ID : 6306803339944
Option 2 ID : 6306803339945
Option 3 ID : 6306803339947
Option 4 ID : 6306803339946

Q.4 Select the most appropriate synonym of the given word.
Afflict

- Ans
- 1. Beset
 - 2. Determine
 - 3. Solace
 - 4. Soothe

Question ID : 630680835210
Option 1 ID : 6306803271657
Option 2 ID : 6306803271654
Option 3 ID : 6306803271656
Option 4 ID : 6306803271655

Q.5 What is the meaning of "ubiquitous" in the sentence "Smartphones have become ubiquitous in modern society"?

- Ans 1. Rare
 2. Present everywhere
 3. Easily broken
 4. Inaccessible

Question ID : 630680852755
Option 1 ID : 6306803339992
Option 2 ID : 6306803339994
Option 3 ID : 6306803339993
Option 4 ID : 6306803339995

Q.6 Which homonym is appropriate for the sentence: "She played the ____ of Juliet in the school play"?

- Ans 1. Rowl
 2. Rôle
 3. Roll
 4. Role

Question ID : 630680852756
Option 1 ID : 6306803339999
Option 2 ID : 6306803339998
Option 3 ID : 6306803339997
Option 4 ID : 6306803339996

Q.7 Select the appropriate homonym for the sentence: "She saw a beautiful ____ in the garden."

- Ans 1. Sew
 2. Seo
 3. Sow
 4. Soe

Question ID : 630680852761
Option 1 ID : 6306803340016
Option 2 ID : 6306803340019
Option 3 ID : 6306803340017
Option 4 ID : 6306803340018

Q.8 Which homonym is appropriate for the sentence: "The dog wagged its ____ excitedly"?

- Ans 1. Tael
 2. Tail
 3. Tale
 4. Taile

Question ID : 630680852757
Option 1 ID : 6306803340003
Option 2 ID : 6306803340000
Option 3 ID : 6306803340001
Option 4 ID : 6306803340002

Q.9 Four words are given, out of which only one word is spelt correctly. Choose the correctly spelt word.

Ans 1. IMITATE

2. SEPERATE

3. DESPARATE

4. MISOGINY

Question ID : 630680835229

Option 1 ID : 6306803271731

Option 2 ID : 6306803271733

Option 3 ID : 6306803271730

Option 4 ID : 6306803271732

Q.10 Proverb: "Curiosity killed the cat."
What is the one word substitution for excessive desire to know about other people's affairs?

Ans 1. Meddlesome

2. Disinterested

3. Inquisitive

4. Prurient

Question ID : 630680852734

Option 1 ID : 6306803339910

Option 2 ID : 6306803339911

Option 3 ID : 6306803339909

Option 4 ID : 6306803339908

Comprehension:

Fill in the blanks in the given passage:

Climate change is a significant global challenge that (1) ____ consequences for the environment, economies, and societies worldwide. It is caused primarily by human activities such as the burning of fossil fuels, deforestation, and (2) ____ emissions from industries. The (3) ____ of climate change are already being felt, with rising temperatures, extreme weather events, and melting ice caps. These changes (4) ____ serious implications for biodiversity, food security, and human health. To mitigate these impacts, it is crucial for governments, businesses, and individuals to adopt (5) ____ sustainable practices and strengthen global cooperation on environmental policies.

SubQuestion No : 11

Q.11 Choose the correct option for Blank 2:

Ans 1. greenhouse's

2. greenhouses

3. green house

4. greenhouse

Question ID : 630680852630

Option 1 ID : 6306803339499

Option 2 ID : 6306803339497

Option 3 ID : 6306803339498

Option 4 ID : 6306803339496

Comprehension:

Fill in the blanks in the given passage:

Climate change is a significant global challenge that (1) ____ consequences for the environment, economies, and societies worldwide. It is caused primarily by human activities such as the burning of fossil fuels, deforestation, and (2) ____ emissions from industries. The (3) ____ of climate change are already being felt, with rising temperatures, extreme weather events, and melting ice caps. These changes (4) ____ serious implications for biodiversity, food security, and human health. To mitigate these impacts, it is crucial for governments, businesses, and individuals to adopt (5) ____ sustainable practices and strengthen global cooperation on environmental policies.

SubQuestion No : 12

Q.12 Choose the correct option for Blank 1:

Ans 1. has

2. have

3. is

4. are

Question ID : 630680852629

Option 1 ID : 6306803339492

Option 2 ID : 6306803339493

Option 3 ID : 6306803339494

Option 4 ID : 6306803339495

Comprehension:

Fill in the blanks in the given passage:

Climate change is a significant global challenge that (1) ____ consequences for the environment, economies, and societies worldwide. It is caused primarily by human activities such as the burning of fossil fuels, deforestation, and (2) ____ emissions from industries. The (3) ____ of climate change are already being felt, with rising temperatures, extreme weather events, and melting ice caps. These changes (4) ____ serious implications for biodiversity, food security, and human health. To mitigate these impacts, it is crucial for governments, businesses, and individuals to adopt (5) ____ sustainable practices and strengthen global cooperation on environmental policies.

SubQuestion No : 13

Q.13 Choose the correct option for Blank 3:

Ans 1. affect

2. affects

3. effects

4. effect's

Question ID : 630680852631

Option 1 ID : 6306803339502

Option 2 ID : 6306803339501

Option 3 ID : 6306803339500

Option 4 ID : 6306803339503

Comprehension:

Fill in the blanks in the given passage:

Climate change is a significant global challenge that (1) ____ consequences for the environment, economies, and societies worldwide. It is caused primarily by human activities such as the burning of fossil fuels, deforestation, and (2) ____ emissions from industries. The (3) ____ of climate change are already being felt, with rising temperatures, extreme weather events, and melting ice caps. These changes (4) ____ serious implications for biodiversity, food security, and human health. To mitigate these impacts, it is crucial for governments, businesses, and individuals to adopt (5) ____ sustainable practices and strengthen global cooperation on environmental policies.

SubQuestion No : 14

Q.14 Choose the correct option for Blank 4:

- Ans 1. having
 2. have
 3. had
 4. has

Question ID : 630680852632

Option 1 ID : 6306803339506

Option 2 ID : 6306803339504

Option 3 ID : 6306803339507

Option 4 ID : 6306803339505

Comprehension:

Fill in the blanks in the given passage:

Climate change is a significant global challenge that (1) ____ consequences for the environment, economies, and societies worldwide. It is caused primarily by human activities such as the burning of fossil fuels, deforestation, and (2) ____ emissions from industries. The (3) ____ of climate change are already being felt, with rising temperatures, extreme weather events, and melting ice caps. These changes (4) ____ serious implications for biodiversity, food security, and human health. To mitigate these impacts, it is crucial for governments, businesses, and individuals to adopt (5) ____ sustainable practices and strengthen global cooperation on environmental policies.

SubQuestion No : 15

Q.15 Choose the correct option for Blank 5:

- Ans 1. more
 2. much
 3. extra
 4. new

Question ID : 630680852633

Option 1 ID : 6306803339508

Option 2 ID : 6306803339509

Option 3 ID : 6306803339510

Option 4 ID : 6306803339511

Comprehension:

Read the passage carefully and answer the questions given below:

Social media, a double-edged sword, ignites debates over its role as a boon or a bane in contemporary society. On one hand, it serves as a powerful tool for connectivity, enabling individuals to forge relationships, share experiences, and mobilize for social causes. Platforms like Facebook, Twitter, and Instagram facilitate communication on a global scale, breaking down geographical barriers and fostering a sense of belonging.

However, the flip side reveals a darker narrative. Social media's addictive nature can lead to detrimental effects on mental health, with excessive usage linked to anxiety, depression, and social isolation. Moreover, the spread of misinformation and fake news poses significant challenges to societal discourse, blurring the lines between truth and falsehood.

In essence, whether social media is a boon or a curse depends on its usage. When wielded responsibly, it can enhance connectivity and empower communities. Yet, unchecked consumption can sow seeds of discord and disillusionment. Thus, the true impact of social media lies in our ability to harness its potential for the greater good while mitigating its adverse effects.

SubQuestion No : 16

Q.16 What are some examples of social media platforms mentioned in the passage?

- Ans 1. LinkedIn and Snapchat
2. WhatsApp and TikTok
3. Pinterest and Reddit
4. Facebook, Twitter, and Instagram

Question ID : 630680852776
Option 1 ID : 6306803340068
Option 2 ID : 6306803340070
Option 3 ID : 6306803340071
Option 4 ID : 6306803340069

Comprehension:

Read the passage carefully and answer the questions given below:

Social media, a double-edged sword, ignites debates over its role as a boon or a bane in contemporary society. On one hand, it serves as a powerful tool for connectivity, enabling individuals to forge relationships, share experiences, and mobilize for social causes. Platforms like Facebook, Twitter, and Instagram facilitate communication on a global scale, breaking down geographical barriers and fostering a sense of belonging.

However, the flip side reveals a darker narrative. Social media's addictive nature can lead to detrimental effects on mental health, with excessive usage linked to anxiety, depression, and social isolation. Moreover, the spread of misinformation and fake news poses significant challenges to societal discourse, blurring the lines between truth and falsehood.

In essence, whether social media is a boon or a curse depends on its usage. When wielded responsibly, it can enhance connectivity and empower communities. Yet, unchecked consumption can sow seeds of discord and disillusionment. Thus, the true impact of social media lies in our ability to harness its potential for the greater good while mitigating its adverse effects.

SubQuestion No : 17

Q.17 Which sentence demonstrates the correct usage of "mitigating"?

Ans 1. The company attempted to mitigate its losses by cutting costs.

2. The government's actions only exacerbated the problem instead of mitigating it.

3. He mitigated the situation by escalating the conflict.

4. She attempted to mitigate her fears by facing them head-on.

Question ID : 630680852779

Option 1 ID : 6306803340080

Option 2 ID : 6306803340082

Option 3 ID : 6306803340081

Option 4 ID : 6306803340083

Comprehension:

Read the passage carefully and answer the questions given below:

Social media, a double-edged sword, ignites debates over its role as a boon or a bane in contemporary society. On one hand, it serves as a powerful tool for connectivity, enabling individuals to forge relationships, share experiences, and mobilize for social causes. Platforms like Facebook, Twitter, and Instagram facilitate communication on a global scale, breaking down geographical barriers and fostering a sense of belonging.

However, the flip side reveals a darker narrative. Social media's addictive nature can lead to detrimental effects on mental health, with excessive usage linked to anxiety, depression, and social isolation. Moreover, the spread of misinformation and fake news poses significant challenges to societal discourse, blurring the lines between truth and falsehood.

In essence, whether social media is a boon or a curse depends on its usage. When wielded responsibly, it can enhance connectivity and empower communities. Yet, unchecked consumption can sow seeds of discord and disillusionment. Thus, the true impact of social media lies in our ability to harness its potential for the greater good while mitigating its adverse effects.

SubQuestion No : 18

Q.18 What is a synonym for "connectivity" as used in the passage?

- Ans 1. Alienation
2. Isolation
3. Interconnectedness
4. Disconnection

Question ID : 630680852780
Option 1 ID : 6306803340085
Option 2 ID : 6306803340084
Option 3 ID : 6306803340086
Option 4 ID : 6306803340087

Comprehension:

Read the passage carefully and answer the questions given below:

Social media, a double-edged sword, ignites debates over its role as a boon or a bane in contemporary society. On one hand, it serves as a powerful tool for connectivity, enabling individuals to forge relationships, share experiences, and mobilize for social causes. Platforms like Facebook, Twitter, and Instagram facilitate communication on a global scale, breaking down geographical barriers and fostering a sense of belonging.

However, the flip side reveals a darker narrative. Social media's addictive nature can lead to detrimental effects on mental health, with excessive usage linked to anxiety, depression, and social isolation. Moreover, the spread of misinformation and fake news poses significant challenges to societal discourse, blurring the lines between truth and falsehood.

In essence, whether social media is a boon or a curse depends on its usage. When wielded responsibly, it can enhance connectivity and empower communities. Yet, unchecked consumption can sow seeds of discord and disillusionment. Thus, the true impact of social media lies in our ability to harness its potential for the greater good while mitigating its adverse effects.

SubQuestion No : 19

Q.19 How does the passage suggest that social media affects mental health?

- Ans 1. By promoting positivity and emotional well-being
2. By contributing to anxiety, depression, and social isolation
3. By alleviating stress and loneliness through virtual connections
4. By encouraging face-to-face interactions and socialization

Question ID : 630680852777
Option 1 ID : 6306803340072
Option 2 ID : 6306803340074
Option 3 ID : 6306803340075
Option 4 ID : 6306803340073

Comprehension:

Read the passage carefully and answer the questions given below:

Social media, a double-edged sword, ignites debates over its role as a boon or a bane in contemporary society. On one hand, it serves as a powerful tool for connectivity, enabling individuals to forge relationships, share experiences, and mobilize for social causes. Platforms like Facebook, Twitter, and Instagram facilitate communication on a global scale, breaking down geographical barriers and fostering a sense of belonging.

However, the flip side reveals a darker narrative. Social media's addictive nature can lead to detrimental effects on mental health, with excessive usage linked to anxiety, depression, and social isolation. Moreover, the spread of misinformation and fake news poses significant challenges to societal discourse, blurring the lines between truth and falsehood.

In essence, whether social media is a boon or a curse depends on its usage. When wielded responsibly, it can enhance connectivity and empower communities. Yet, unchecked consumption can sow seeds of discord and disillusionment. Thus, the true impact of social media lies in our ability to harness its potential for the greater good while mitigating its adverse effects.

SubQuestion No : 20

Q.20 What is the antonym of "enhance" as used in the passage?

- Ans 1. Diminish
 2. Augment
 3. Improve
 4. Strengthen

Question ID : 630680852778
Option 1 ID : 6306803340076
Option 2 ID : 6306803340079
Option 3 ID : 6306803340078
Option 4 ID : 6306803340077

Section : Test of Hindi Language and Comprehension 1

Q.1 निम्नलिखित वाक्य में, उस वाक्यांश को पहचानिए जिसमें कुछ अशुद्धियाँ हैं। यदि कोई गलती नहीं है तो 'कोई त्रुटि नहीं है' का चुनाव कीजिए।
पेड़ हमारे लिये महत्वपूर्ण संपत्ति की तरह होते हैं/ जो मिट्टी के कटाव पर बचाते है, घर उपलब्ध करता है,/ मिट्टी से पोषक तत्व आदि उपलब्ध कराते हैं।

- Ans 1. मिट्टी से पोषक तत्व आदि उपलब्ध कराते हैं।
 2. पेड़ हमारे लिये महत्वपूर्ण संपत्ति की तरह होते हैं
 3. कोई त्रुटि नहीं है
 4. जो मिट्टी के कटाव पर बचाते है, घर उपलब्ध करता है

Question ID : 630680850241
Option 1 ID : 6306803330155
Option 2 ID : 6306803330153
Option 3 ID : 6306803330156
Option 4 ID : 6306803330154

Q.2 निम्नलिखित प्रश्न में, चार विकल्पों में से, उस विकल्प का चयन करें जो दी गई लोकोक्ति का सही अर्थ वाला विकल्प है।

जो धावे सो पावे, जो सोवे सो खोवे

- Ans
- 1. बड़ों की लड़ाई में गरीबों की हानि होती है
 - 2. जो संसार में अकेला हो, जिसके कोई न हो
 - 3. जो परिश्रम करता है उसे लाभ होता है
 - 4. गैरिक वस्त्र पहनने से ही कोई जोगी नहीं हो जाता

Question ID : 630680836451
Option 1 ID : 6306803276547
Option 2 ID : 6306803276549
Option 3 ID : 6306803276548
Option 4 ID : 6306803276546

Q.3 निम्नलिखित प्रश्न में, चार विकल्पों में से, उस विकल्प का चयन करें जो दी गई लोकोक्ति का सही अर्थ वाला विकल्प है।

हाथी निकल गया, दुम रह गई

- Ans
- 1. थोड़ा-सा शेष रहना
 - 2. विपत्ति पर विपत्ति आना
 - 3. अधिक प्रयास
 - 4. आपसी फूट

Question ID : 630680850313
Option 1 ID : 6306803330426
Option 2 ID : 6306803330427
Option 3 ID : 6306803330428
Option 4 ID : 6306803330425

Q.4 निम्नलिखित प्रश्न में, चार विकल्पों में से, उस विकल्प का चयन करें जो दी गई लोकोक्ति का सही अर्थ वाला विकल्प है।

जैसा मुँह वैसा तमाचा

- Ans
- 1. जैसा वेश हो उसी के अनुकूल काम करना चाहिए
 - 2. जहाँ रहना हो वहीं की रीतियों के अनुसार आचरण करना चाहिए
 - 3. जैसी कोई मजदूरी देगा, वैसा ही उसका काम होगा
 - 4. जैसा आदमी होता है वैसा ही उसके साथ व्यवहार किया जाता है

Question ID : 630680836445
Option 1 ID : 6306803276523
Option 2 ID : 6306803276522
Option 3 ID : 6306803276525
Option 4 ID : 6306803276524

Q.5 निम्नलिखित प्रश्न में, चार विकल्पों में से, उस सही विकल्प का चयन करें जो दिए गए अनुच्छेद के लिए अंतिम वाक्य का सही विकल्प हो।
आज के आधुनिक समय में लोग पश्चिमी सभ्यता से काफी प्रभावित हुए हैं। हिन्दी भाषा का महत्व समाप्त होता जा रहा है। हिंदी दिवस लोगों को उनकी जड़ों से जोड़े रखता है। _____।

- Ans
- 1. ऐसे कई भारतीय हैं जो आज भी विदेशी संस्कृति को बनाए न बनाए रखने में गर्व महसूस करते हैं।
 - 2. ऐसे कई भारतीय हैं जो आज भी भारतीय संस्कृति को न बनाए रखने में गर्व महसूस करते हैं।
 - 3. ऐसे कई भारतीय हैं जो आज भी भारतीय संस्कृति को बनाए रखने में गर्व महसूस करते हैं।
 - 4. ऐसे एक भी भारतीय नहीं हैं जो आज भी भारतीय संस्कृति को बनाए रखने में गर्व महसूस करते हैं।

Question ID : 630680836359
Option 1 ID : 6306803276197
Option 2 ID : 6306803276195
Option 3 ID : 6306803276196
Option 4 ID : 6306803276194

Q.6 निम्नलिखित विकल्पों में से कौन सा विकल्प एक सुसंगत वाक्य बनाने के लिए वाक्यांशों को सही ढंग से व्यवस्थित करता है?
A- तलाश में शहरी क्षेत्रों का रुख करते हैं
B- जीवन यापन करने में बहुत मुश्किल होती है इसलिए
C- किसानों को पर्याप्त पैसा कमाने और
D- ग्रामीण लोग बेहतर रोजगार के अवसरों की

- Ans
- 1. DABC
 - 2. BDAC
 - 3. CBDA
 - 4. CDAB

Question ID : 630680850254
Option 1 ID : 6306803330205
Option 2 ID : 6306803330207
Option 3 ID : 6306803330208
Option 4 ID : 6306803330206

Q.7 निम्नलिखित विकल्पों में से कौन सा विकल्प एक सुसंगत वाक्य बनाने के लिए वाक्यांशों को सही ढंग से व्यवस्थित करता है?
A- काम पर ध्यान केंद्रित कर सकते हैं
B- तनाव का कम होना है और आप अपने
C- आराम करने में मदद करता है जिसका मतलब
D- योग आपके शरीर को शांत करने और

- Ans
- 1. ACBD
 - 2. ABCD
 - 3. DCBA
 - 4. DACB

Question ID : 630680850251
Option 1 ID : 6306803330195
Option 2 ID : 6306803330194
Option 3 ID : 6306803330193
Option 4 ID : 6306803330196

Q.8 निम्नलिखित प्रश्न में, चार विकल्पों में से, उस विकल्प का चयन करें जो दी गई मुहावरे का सही अर्थ वाला विकल्प है।

कढ़ी का सा उबाल

- Ans
- 1. इशारों पर चलना
 - 2. रहस्य खोलना
 - 3. मौत के करीब होना
 - 4. मामूली जोश

Question ID : 630680850306

Option 1 ID : 6306803330398

Option 2 ID : 6306803330397

Option 3 ID : 6306803330399

Option 4 ID : 6306803330400

Q.9 निम्नलिखित प्रश्न में, चार विकल्पों में से, उस सही विकल्प का चयन करें जो रिक्त स्थान के लिए सही प्रेरणार्थक क्रिया का विकल्प हो।

मेरे पिताजी हम दोनों भाइयों से लगातार किताब _____ हैं।

- Ans
- 1. पढ़वाते
 - 2. पढ़े
 - 3. पढ़ाएं
 - 4. पढ़ी

Question ID : 630680850289

Option 1 ID : 6306803330329

Option 2 ID : 6306803330332

Option 3 ID : 6306803330330

Option 4 ID : 6306803330331

Q.10 निम्नलिखित प्रश्न में, चार विकल्पों में से, उस सही विकल्प का चयन करें जो दिए गए अनुच्छेद के लिए अंतिम वाक्य का सही विकल्प हो।

वन प्राणियों के लिए कितने आवश्यक हैं, ये सभी को पता है। कहा भी गया है कि वन ही जीवन है। इतना समझने के बावजूद भी दिन-प्रतिदिन वनों की अंधाधुंध कटाई होती है। _____।

- Ans
- 1. यह समस्या दिन-प्रतिदिन अच्छा रूप धारण करती जा रही है।
 - 2. यह समस्या दिन-प्रतिदिन कम होती जा रही है।
 - 3. यह समस्या दिन-प्रतिदिन छोटा रूप धारण करती जा रही है।
 - 4. यह समस्या दिन-प्रतिदिन विकराल रूप धारण करती जा रही है।

Question ID : 630680850237

Option 1 ID : 6306803330139

Option 2 ID : 6306803330137

Option 3 ID : 6306803330138

Option 4 ID : 6306803330140

Q.11 निम्नलिखित प्रश्न में, चार विकल्पों में से, उस सही विकल्प का चयन करें जो रिक्त स्थान के लिए सही कारक शब्द का विकल्प हो।

आज घर का सारा काम मेरे _____ किया गया।

Ans 1. ने

2. में

3. द्वारा

4. को

Join Telegram Group "HaryanaJobs.in"

Question ID : 630680850288

Option 1 ID : 6306803330325

Option 2 ID : 6306803330326

Option 3 ID : 6306803330328

Option 4 ID : 6306803330327

Q.12 निम्नलिखित वाक्य में, उस वाक्यांश को पहचानिए जिसमें कुछ अशुद्धियाँ हैं। यदि कोई गलती नहीं है तो 'कोई त्रुटि नहीं है' का चुनाव कीजिए।

सूखा का कारण काफी हद तक हम सभी को ज्ञात/ हैं और यह ज्यादातर जल संसाधनों और गैर-पर्यावरण अनुकूल/ मानव गतिविधियों को दुरुपयोग से परिणाम है।

Ans 1. सूखा का कारण काफी हद तक हम सभी को ज्ञात

2. हैं और यह ज्यादातर जल संसाधनों और गैर-पर्यावरण अनुकूल

3. मानव गतिविधियों को दुरुपयोग से परिणाम है।

4. कोई त्रुटि नहीं है

Question ID : 630680850244

Option 1 ID : 6306803330165

Option 2 ID : 6306803330166

Option 3 ID : 6306803330167

Option 4 ID : 6306803330168

Q.13 निम्नलिखित प्रश्न में, चार विकल्पों में से, उस विकल्प का चयन करें जो दिए गए वाक्य में गलत वर्तनी वाला विकल्प है।

गाँवों के चारों ओर के आम तथा अन्य फलों के बाग, प्रातःकाल की शीतल मन्द सुगन्ध बयार और पशु-पक्षियों के विविध रूप नगर नीवासियों के लिए दुर्लभ वस्तुएँ हैं।

Ans 1. दुर्लभ

2. नीवासियों

3. प्रातःकाल

4. सुगन्ध

Question ID : 630680850323

Option 1 ID : 6306803330466

Option 2 ID : 6306803330468

Option 3 ID : 6306803330465

Option 4 ID : 6306803330467

Q.14 निम्नलिखित प्रश्न में, चार विकल्पों में से, उस सही विकल्प का चयन करें जो रिक्त स्थान के लिए सही परिमाणवाचक विशेषण शब्द का विकल्प हो।
पिताजी ने कहा कि धान की फसल के लिए _____ पर्याप्त है।

- Ans 1. वह
 2. 5 बीघा
 3. तीसरा
 4. सब

Question ID : 630680850299
Option 1 ID : 6306803330371
Option 2 ID : 6306803330372
Option 3 ID : 6306803330370
Option 4 ID : 6306803330369

Q.15 निम्नलिखित वाक्य में, उस वाक्यांश को पहचानिए जिसमें कुछ अशुद्धियाँ हैं। यदि कोई गलती नहीं है तो 'कोई त्रुटि नहीं है' का चुनाव कीजिए।
ऐसा स्थान जहाँ कोई पेड़ नहीं है वहाँ की हवा में ही दुख/ झलकता था जबकि अनेक कम संख्या में वृक्षों पर घिरा हुआ स्थान/ स्वचालित रूप से जीवंत और रहने लायक दिखता है।

- Ans 1. कोई त्रुटि नहीं है
 2. झलकता था जबकि अनेक कम संख्या में वृक्षों पर घिरा हुआ स्थान
 3. स्वचालित रूप से जीवंत और रहने लायक दिखता है।
 4. ऐसा स्थान जहाँ कोई पेड़ नहीं है वहाँ की हवा में ही दुख

Question ID : 630680850245
Option 1 ID : 6306803330172
Option 2 ID : 6306803330170
Option 3 ID : 6306803330171
Option 4 ID : 6306803330169

Q.16 निम्नलिखित प्रश्न में, चार विकल्पों में से, उस सही विकल्प का चयन करें जो रिक्त स्थान के लिए सही कारक शब्द का विकल्प हो।
कल हमारे यहाँ के मंदिर _____ एक पालकी गई।

- Ans 1. से
 2. को
 3. द्वारा
 4. ने

Question ID : 630680850287
Option 1 ID : 6306803330323
Option 2 ID : 6306803330324
Option 3 ID : 6306803330321
Option 4 ID : 6306803330322

Q.17 निम्नलिखित प्रश्न में, चार विकल्पों में से, उस सही विकल्प का चयन करें जो रिक्त स्थान के लिए सही कारक शब्द का विकल्प हो।

मोहन और सोहन ने शोरगुल करके डाकुओं _____ भगाया।

- Ans
- 1. में
 - 2. पर
 - 3. से
 - 4. को

Question ID : 630680836415

Option 1 ID : 6306803276402

Option 2 ID : 6306803276403

Option 3 ID : 6306803276404

Option 4 ID : 6306803276405

Q.18 निम्नलिखित प्रश्न में, चार विकल्पों में से, उस विकल्प का चयन करें जो दी गई मुहावरे का सही अर्थ वाला विकल्प है।

कलेजे पर साँप लोटना

- Ans
- 1. कमजोर होना
 - 2. भरोसा देना
 - 3. ईर्ष्या होना
 - 4. मन में भरोसा होना

Question ID : 630680850304

Option 1 ID : 6306803330392

Option 2 ID : 6306803330389

Option 3 ID : 6306803330390

Option 4 ID : 6306803330391

Q.19 निम्नलिखित वाक्य में, उस वाक्यांश को पहचानिए जिसमें कुछ अशुद्धियाँ हैं। यदि कोई गलती नहीं है तो 'कोई त्रुटि नहीं है' का चुनाव कीजिए।

कई बार बाढ़ में कुछ दिनों को काबू पाया ही सकता है/ जबकि कई बार इस पर हफ्तों में काबू पाया जाता है जिससे उस क्षेत्र/ में रहने वाले लोगों के जीवन पर एक बुरा प्रभाव पड़ता है।

- Ans
- 1. कई बार बाढ़ में कुछ दिनों को काबू पाया ही सकता है
 - 2. में रहने वाले लोगों के जीवन पर एक बुरा प्रभाव पड़ता है।
 - 3. कोई त्रुटि नहीं है
 - 4. जबकि कई बार इस पर हफ्तों में काबू पाया जाता है जिससे उस क्षेत्र

Question ID : 630680850246

Option 1 ID : 6306803330173

Option 2 ID : 6306803330175

Option 3 ID : 6306803330176

Option 4 ID : 6306803330174

Q.20 निम्नलिखित प्रश्न में, चार विकल्पों में से, उस विकल्प का चयन करें जो दिए गए वाक्य में गलत वर्तनी वाला विकल्प है।
आज के भारतीय समाज पर दृष्टि डालें तो मन में बड़ी निराशा और घुटन होने लगती है क्योंकि बड़ी विचित्र और विरोदाभासी स्थिति है हमारे समाज की।

- Ans 1. विचित्र
 2. विरोदाभासी
 3. दृष्टि
 4. क्योंकि

Question ID : 630680850319
Option 1 ID : 6306803330452
Option 2 ID : 6306803330450
Option 3 ID : 6306803330451
Option 4 ID : 6306803330449

Section : Test of Hindi Language and Comprehension 2

Q.1 निम्नलिखित प्रश्न में, चार विकल्पों में से, उस विकल्प का चयन करें जो दिए गए वाक्य में गलत वर्तनी वाला विकल्प है।
तमाशा की विषय वस्तु पौराणिक कहानियों और चरित्रों के इर्दगिर्द घूमती हुई इन चरित्रों के माध्यम से सामाजिक और राजनीतिक व्यवस्था पर भी व्यंग्य करती है।

- Ans 1. व्यवस्था
 2. पौराणिक
 3. राजनीतिक
 4. इर्दगिर्द

Question ID : 630680836460
Option 1 ID : 6306803276584
Option 2 ID : 6306803276582
Option 3 ID : 6306803276585
Option 4 ID : 6306803276583

Q.2 निम्नलिखित प्रश्न में, चार विकल्पों में से, उस विकल्प का चयन करें जो दिए गए शब्द के अनेकार्थी रूप वाला सही विकल्प नहीं है।
लहर

- Ans 1. तरंग
 2. उमंग
 3. प्रहार
 4. झोंका

Question ID : 630680850338
Option 1 ID : 6306803330525
Option 2 ID : 6306803330526
Option 3 ID : 6306803330527
Option 4 ID : 6306803330528

Q.3 निम्नलिखित प्रश्न में, चार विकल्पों में से, उस विकल्प का चयन करें जो विलोम शब्द का सबसे अच्छा विकल्प है।
आकुंचन

- Ans 1. आस्था
 2. अनिच्छा
 3. प्रसारण
 4. अनिष्ट

Question ID : 630680850352
Option 1 ID : 6306803330582
Option 2 ID : 6306803330581
Option 3 ID : 6306803330583
Option 4 ID : 6306803330584

Q.4 निम्नलिखित प्रश्न में, चार विकल्पों में से, उस विकल्प का चयन करें जो दिए गए शब्द के पर्यायवाची शब्द का सही विकल्प नहीं है।
उद्धार

- Ans 1. उन्नति
 2. मोक्षण
 3. परित्राण
 4. छुटकारा

Question ID : 630680836492
Option 1 ID : 6306803276711
Option 2 ID : 6306803276713
Option 3 ID : 6306803276712
Option 4 ID : 6306803276710

Q.5 निम्नलिखित प्रश्न में, चार विकल्पों में से, उस विकल्प का चयन करें जो दिए गए वाक्य में गलत वर्तनी वाला विकल्प है।
अनुशासन, यदि मनुष्य को प्रगति के पथ पर आगे बढ़ाता है तो अनुशासनहीनता उसको अवन्ती के गर्त में धकेल देती है।

- Ans 1. अवन्ती
 2. अनुशासनहीनता
 3. प्रगति
 4. अनुशासन

Question ID : 630680850326
Option 1 ID : 6306803330479
Option 2 ID : 6306803330477
Option 3 ID : 6306803330478
Option 4 ID : 6306803330480

Q.6 निम्नलिखित प्रश्न में, चार विकल्पों में से, उस विकल्प का चयन करें जो दिए गए शब्द के तद्भव रूप का सही विकल्प है।

तुंद

- Ans 1. तुरंत
 2. तीजा
 3. तीखा
 4. तोंद

Question ID : 630680850330
Option 1 ID : 6306803330493
Option 2 ID : 6306803330496
Option 3 ID : 6306803330495
Option 4 ID : 6306803330494

Q.7 निम्नलिखित प्रश्न में, चार विकल्पों में से, उस विकल्प का चयन करें जो दिए गए शब्द के तत्सम रूप का सही विकल्प है।

दई

- Ans 1. दूढ़
 2. देखना
 3. देव
 4. द्वार

Question ID : 630680850332
Option 1 ID : 6306803330503
Option 2 ID : 6306803330502
Option 3 ID : 6306803330504
Option 4 ID : 6306803330501

Q.8 निम्नलिखित प्रश्न में, चार विकल्पों में से, उस विकल्प का चयन करें जो दिए गए शब्द के पर्यायवाची शब्द का सही विकल्प नहीं है।

आलोचना

- Ans 1. संविदा
 2. नुक्ताचीनी
 3. टीका-टिप्पणी
 4. निरूपण

Question ID : 630680836490
Option 1 ID : 6306803276703
Option 2 ID : 6306803276705
Option 3 ID : 6306803276702
Option 4 ID : 6306803276704

Q.9 निम्नलिखित प्रश्न में, चार विकल्पों में से, उस विकल्प का चयन करें जो दिए गए शब्द के पर्यायवाची शब्द का सही विकल्प नहीं है।
खेद

- Ans
- 1. वेदना
 - 2. यातना
 - 3. अनुताप
 - 4. खाली

Question ID : 630680850346
Option 1 ID : 6306803330558
Option 2 ID : 6306803330557
Option 3 ID : 6306803330560
Option 4 ID : 6306803330559

Q.10 निम्नलिखित प्रश्न में, चार विकल्पों में से, उस विकल्प का चयन करें जो दिए गए शब्द के अनेकार्थी रूप वाला सही विकल्प नहीं है।
तम

- Ans
- 1. पाप
 - 2. अंधकार
 - 3. अज्ञान
 - 4. गुस्सा

Question ID : 630680850343
Option 1 ID : 6306803330547
Option 2 ID : 6306803330546
Option 3 ID : 6306803330548
Option 4 ID : 6306803330545

Comprehension:

नीचे दिए गये गद्यांश में कुछ शब्द छोड़ दिये गए हैं, प्रत्येक अनुच्छेद के सामने चार विकल्प दिया गया है। इस गद्यांश को ध्यानपूर्वक पढ़ें और चार विकल्पों में से सर्वोत्तम उत्तर वाला विकल्प चुनें।
प्राचीन काल से ही वृक्षों के प्रति भारतीय समाज का अनुराग सांस्कृतिक परंपरा के रूप में विकसित हुआ है। चाहे कोई भी धार्मिक त्यौहार हो या शुभ अवसर। हिंदू धर्म में पेड़ों को _____ मानकर पूजा जाता है। पौराणिक कथाओं में तुलसी, पीपल, वट जैसे वृक्षों का विशेष महत्व बताया गया है। हमारे ऋषि मुनि आदिमानव प्रकृति के साथ तालमेल मिलाकर _____ करते थे। गुफाओं में रहते थे। कंदमूल फल खाते थे और प्रकृति का सम्मान करते थे। एक तरह से उन्होंने पर्यावरण के साथ _____ बिठाना सीख लिया था और आज भी मानव का अस्तित्व वनस्पति और जीव-जंतुओं के ऊपर निर्भर है। पर्यावरण हम सबका पालनहार और _____ है। किंतु आश्चर्य होता है कि मनुष्य धरती के स्रोतों का कितना अंधाधुंध दोहन करता जा रहा है। जिससे सारा प्रकृति तंत्र गड़बड़ा गया है। अब वह दिन दूर नहीं लगता, जब धरती पर हजारों शताब्दियों पुराना हिम युग लौट आएगा अथवा ध्रुवों पर जमी बर्फ की मोटी परत पिघल जाने से समुद्र की _____ लहरें नगरो, वन ,पर्वतो, और जंतुओं को निगल जाएंगी।

SubQuestion No : 11

Q.11 हिंदू धर्म में पेड़ों को _____ मानकर पूजा जाता है।

- Ans
- 1. पुराना
 - 2. ज्यादा
 - 3. शुभ
 - 4. कम

Question ID : 630680836401
Option 1 ID : 6306803276347
Option 2 ID : 6306803276348
Option 3 ID : 6306803276346
Option 4 ID : 6306803276349

Comprehension:

नीचे दिए गये गद्यांश में कुछ शब्द छोड़ दिये गए हैं, प्रत्येक अनुच्छेद के सामने चार विकल्प दिया गया है। इस गद्यांश को ध्यानपूर्वक पढ़ें और चार विकल्पों में से सर्वोत्तम उत्तर वाला विकल्प चुनें।
प्राचीन काल से ही वृक्षों के प्रति भारतीय समाज का अनुराग सांस्कृतिक परंपरा के रूप में विकसित हुआ है। चाहे कोई भी धार्मिक त्यौहार हो या शुभ अवसर। हिंदू धर्म में पेड़ों को _____ मानकर पूजा जाता है। पौराणिक कथाओं में तुलसी, पीपल, वट जैसे वृक्षों का विशेष महत्व बताया गया है। हमारे ऋषि मुनि आदिमानव प्रकृति के साथ तालमेल मिलाकर _____ करते थे। गुफाओं में रहते थे। कंदमूल फल खाते थे और प्रकृति का सम्मान करते थे। एक तरह से उन्होंने पर्यावरण के साथ _____ बिठाना सीख लिया था और आज भी मानव का अस्तित्व वनस्पति और जीव-जंतुओं के ऊपर निर्भर है। पर्यावरण हम सबका पालनहार और _____ है। किंतु आश्चर्य होता है कि मनुष्य धरती के स्रोतों का कितना अंधाधुंध दोहन करता जा रहा है। जिससे सारा प्रकृति तंत्र गड़बड़ा गया है। अब वह दिन दूर नहीं लगता, जब धरती पर हजारों शताब्दियों पुराना हिम युग लौट आएगा अथवा ध्रुवों पर जमी बर्फ की मोटी परत पिघल जाने से समुद्र की _____ लहरें नगरो, वन ,पर्वतो, और जंतुओं को निगल जाएंगी।

SubQuestion No : 12

Q.12 ध्रुवों पर जमी बर्फ की मोटी परत पिघल जाने से समुद्र की _____ लहरें नगरो, वन ,पर्वतो, और जंतुओं को निगल जाएंगी।

Ans 1. प्रलयकारी

2. सुंदर

3. जीवनदायी

4. पौराणिक

Question ID : 630680836405
Option 1 ID : 6306803276362
Option 2 ID : 6306803276363
Option 3 ID : 6306803276364
Option 4 ID : 6306803276365

Comprehension:

नीचे दिए गये गद्यांश में कुछ शब्द छोड़ दिये गए हैं, प्रत्येक अनुच्छेद के सामने चार विकल्प दिया गया है। इस गद्यांश को ध्यानपूर्वक पढ़ें और चार विकल्पों में से सर्वोत्तम उत्तर वाला विकल्प चुनें।
प्राचीन काल से ही वृक्षों के प्रति भारतीय समाज का अनुराग सांस्कृतिक परंपरा के रूप में विकसित हुआ है। चाहे कोई भी धार्मिक त्यौहार हो या शुभ अवसर। हिंदू धर्म में पेड़ों को _____ मानकर पूजा जाता है। पौराणिक कथाओं में तुलसी, पीपल, वट जैसे वृक्षों का विशेष महत्व बताया गया है। हमारे ऋषि मुनि आदिमानव प्रकृति के साथ तालमेल मिलाकर _____ करते थे। गुफाओं में रहते थे। कंदमूल फल खाते थे और प्रकृति का सम्मान करते थे। एक तरह से उन्होंने पर्यावरण के साथ _____ बिठाना सीख लिया था और आज भी मानव का अस्तित्व वनस्पति और जीव-जंतुओं के ऊपर निर्भर है। पर्यावरण हम सबका पालनहार और _____ है। किंतु आश्चर्य होता है कि मनुष्य धरती के स्रोतों का कितना अंधाधुंध दोहन करता जा रहा है। जिससे सारा प्रकृति तंत्र गड़बड़ा गया है। अब वह दिन दूर नहीं लगता, जब धरती पर हजारों शताब्दियों पुराना हिम युग लौट आएगा अथवा ध्रुवों पर जमी बर्फ की मोटी परत पिघल जाने से समुद्र की _____ लहरें नगरो, वन ,पर्वतो, और जंतुओं को निगल जाएंगी।

SubQuestion No : 13

Q.13 पर्यावरण हम सबका पालनहार और _____ है।

Ans 1. पर्याय

2. जीवनाधार

3. पहनावा

4. संहार

Question ID : 630680836404
Option 1 ID : 6306803276361
Option 2 ID : 6306803276360
Option 3 ID : 6306803276359
Option 4 ID : 6306803276358

Comprehension:

नीचे दिए गये गद्यांश में कुछ शब्द छोड़ दिये गए हैं, प्रत्येक अनुच्छेद के सामने चार विकल्प दिया गया है। इस गद्यांश को ध्यानपूर्वक पढ़ें और चार विकल्पों में से सर्वोत्तम उत्तर वाला विकल्प चुनें।
प्राचीन काल से ही वृक्षों के प्रति भारतीय समाज का अनुराग सांस्कृतिक परंपरा के रूप में विकसित हुआ है। चाहे कोई भी धार्मिक त्यौहार हो या शुभ अवसर। हिंदू धर्म में पेड़ों को _____ मानकर पूजा जाता है। पौराणिक कथाओं में तुलसी, पीपल, वट जैसे वृक्षों का विशेष महत्व बताया गया है। हमारे ऋषि मुनि आदिमानव प्रकृति के साथ तालमेल मिलाकर _____ करते थे। गुफाओं में रहते थे। कंदमूल फल खाते थे और प्रकृति का सम्मान करते थे। एक तरह से उन्होंने पर्यावरण के साथ _____ बिठाना सीख लिया था और आज भी मानव का अस्तित्व वनस्पति और जीव-जंतुओं के ऊपर निर्भर है। पर्यावरण हम सबका पालनहार और _____ है। किंतु आश्चर्य होता है कि मनुष्य धरती के स्रोतों का कितना अंधाधुंध दोहन करता जा रहा है। जिससे सारा प्रकृति तंत्र गड़बड़ा गया है। अब वह दिन दूर नहीं लगता, जब धरती पर हजारों शताब्दियों पुराना हिम युग लौट आएगा अथवा ध्रुवों पर जमी बर्फ की मोटी परत पिघल जाने से समुद्र की _____ लहरें नगरो, वन ,पर्वतो, और जंतुओं को निगल जाएंगी।

SubQuestion No : 14

Q.14 हमारे ऋषि मुनि आदिमानव प्रकृति के साथ तालमेल मिलाकर _____ करते थे।

- Ans
- 1. भोजन
 - 2. वृक्ष काटा
 - 3. जीवन यापन
 - 4. दिखावा

Question ID : 630680836402
Option 1 ID : 6306803276352
Option 2 ID : 6306803276353
Option 3 ID : 6306803276351
Option 4 ID : 6306803276350

Comprehension:

नीचे दिए गये गद्यांश में कुछ शब्द छोड़ दिये गए हैं, प्रत्येक अनुच्छेद के सामने चार विकल्प दिया गया है। इस गद्यांश को ध्यानपूर्वक पढ़ें और चार विकल्पों में से सर्वोत्तम उत्तर वाला विकल्प चुनें।
प्राचीन काल से ही वृक्षों के प्रति भारतीय समाज का अनुराग सांस्कृतिक परंपरा के रूप में विकसित हुआ है। चाहे कोई भी धार्मिक त्यौहार हो या शुभ अवसर। हिंदू धर्म में पेड़ों को _____ मानकर पूजा जाता है। पौराणिक कथाओं में तुलसी, पीपल, वट जैसे वृक्षों का विशेष महत्व बताया गया है। हमारे ऋषि मुनि आदिमानव प्रकृति के साथ तालमेल मिलाकर _____ करते थे। गुफाओं में रहते थे। कंदमूल फल खाते थे और प्रकृति का सम्मान करते थे। एक तरह से उन्होंने पर्यावरण के साथ _____ बिठाना सीख लिया था और आज भी मानव का अस्तित्व वनस्पति और जीव-जंतुओं के ऊपर निर्भर है। पर्यावरण हम सबका पालनहार और _____ है। किंतु आश्चर्य होता है कि मनुष्य धरती के स्रोतों का कितना अंधाधुंध दोहन करता जा रहा है। जिससे सारा प्रकृति तंत्र गड़बड़ा गया है। अब वह दिन दूर नहीं लगता, जब धरती पर हजारों शताब्दियों पुराना हिम युग लौट आएगा अथवा ध्रुवों पर जमी बर्फ की मोटी परत पिघल जाने से समुद्र की _____ लहरें नगरो, वन ,पर्वतो, और जंतुओं को निगल जाएंगी।

SubQuestion No : 15

Q.15 एक तरह से उन्होंने पर्यावरण के साथ _____ बिठाना सीख लिया था।

- Ans
- 1. कार्य
 - 2. सपना
 - 3. हिस्सा
 - 4. सामंजस्य

Question ID : 630680836403
Option 1 ID : 6306803276355
Option 2 ID : 6306803276354
Option 3 ID : 6306803276356
Option 4 ID : 6306803276357

Comprehension:

इस गद्यांश को ध्यानपूर्वक पढ़ें और चार विकल्पों में से प्रत्येक प्रश्न का सर्वोत्तम उत्तर चुनें।
टेलीविजन, आज संचार के सशक्त माध्यमों में से एक है। संचार शब्द की उत्पत्ति चर धातु से हुई है जिसका अर्थ है चलना या एक स्थान से दूसरे स्थान तक पहुंचना। दो से अधिक व्यक्तियों के बीच सूचना, विचारों और भावनाओं का आदान-प्रदान। लेकिन संचार में सिर्फ दो या अधिक व्यक्तियों को नहीं, हजारों-लाखों लोगों के जनसंचार को शामिल किया जाता है। इस प्रकार सूचना, विचारों और भावनाओं को लिखित, मौखिक तथा दृश्य, श्रव्य माध्यमों के जरिए सफलतापूर्वक एक स्थान से दूसरे स्थान तक पहुंचाना ही संचार है। इस प्रक्रिया को अंजाम देने में मदद करने वाले तरीके संचार माध्यम कहलाते हैं और टीवी इन्हीं संचार माध्यमों में से एक है। इसके अतिरिक्त रेडियो, मोबाइल, टेलीफोन, फैक्स आदि संचार के अन्य माध्यम हैं। भारत में इसकी शुरुआत करने का बुनियादी उद्देश्य यही था कि समाज में फैली बुराइयों को दूर किया जा सके, सामाजिक परिवर्तन लाया जा सके। आम नागरिकों में वैज्ञानिक चेतना का विकास हो, सामाजिक कुरीतियों रूढ़िवादी मान्यताओं के प्रति लोगों की सोच को बदला जा सके। इसका उदाहरण प्रत्यक्ष है कई ऐसे टेलीविजन पर कई ऐसे धारावाहिक प्रकाशित किए गए जिन्होंने समाज की बुराइयों को जनता प्रत्यक्ष रूप से जनता के सामने रखा।

SubQuestion No : 16

Q.16 अनुच्छेद के अनुसार कौन-सा विकल्प संचार माध्यमों की शुरुआत करने के उद्देश्य से संबन्धित नहीं है?

- Ans
- 1. समाज में फैली बुराइयों को दूर करना
 - 2. सामाजिक कुरीतियों रूढ़िवादी मान्यताओं के प्रति लोगों की सोच दृढ़ करना
 - 3. सामाजिक परिवर्तन लाना
 - 4. वैज्ञानिक चेतना का विकास करना

Question ID : 630680850370
Option 1 ID : 6306803330641
Option 2 ID : 6306803330643
Option 3 ID : 6306803330642
Option 4 ID : 6306803330644

Comprehension:

इस गद्यांश को ध्यानपूर्वक पढ़ें और चार विकल्पों में से प्रत्येक प्रश्न का सर्वोत्तम उत्तर चुनें।
टेलीविजन, आज संचार के सशक्त माध्यमों में से एक है। संचार शब्द की उत्पत्ति चर धातु से हुई है जिसका अर्थ है चलना या एक स्थान से दूसरे स्थान तक पहुंचना। दो से अधिक व्यक्तियों के बीच सूचना, विचारों और भावनाओं का आदान-प्रदान। लेकिन संचार में सिर्फ दो या अधिक व्यक्तियों को नहीं, हजारों-लाखों लोगों के जनसंचार को शामिल किया जाता है। इस प्रकार सूचना, विचारों और भावनाओं को लिखित, मौखिक तथा दृश्य, श्रव्य माध्यमों के जरिए सफलतापूर्वक एक स्थान से दूसरे स्थान तक पहुंचाना ही संचार है। इस प्रक्रिया को अंजाम देने में मदद करने वाले तरीके संचार माध्यम कहलाते हैं और टीवी इन्हीं संचार माध्यमों में से एक है। इसके अतिरिक्त रेडियो, मोबाइल, टेलीफोन, फैक्स आदि संचार के अन्य माध्यम हैं। भारत में इसकी शुरुआत करने का बुनियादी उद्देश्य यही था कि समाज में फैली बुराइयों को दूर किया जा सके, सामाजिक परिवर्तन लाया जा सके। आम नागरिकों में वैज्ञानिक चेतना का विकास हो, सामाजिक कुरीतियों रूढ़िवादी मान्यताओं के प्रति लोगों की सोच को बदला जा सके। इसका उदाहरण प्रत्यक्ष है कई ऐसे टेलीविजन पर कई ऐसे धारावाहिक प्रकाशित किए गए जिन्होंने समाज की बुराइयों को जनता प्रत्यक्ष रूप से जनता के सामने रखा।

SubQuestion No : 17

Q.17 निम्नलिखित प्रश्न में, चार विकल्पों में से, उस विकल्प का चयन करें जो दिए गए शब्द के पर्यायवाची शब्द का विकल्प नहीं है।
संचार

- Ans
- 1. गमन
 - 2. प्रसार
 - 3. समस्या
 - 4. प्रेषण

Question ID : 630680850371
Option 1 ID : 6306803330647
Option 2 ID : 6306803330648
Option 3 ID : 6306803330646
Option 4 ID : 6306803330645

Comprehension:

इस गद्यांश को ध्यानपूर्वक पढ़ें और चार विकल्पों में से प्रत्येक प्रश्न का सर्वोत्तम उत्तर चुनें।
टेलीविजन, आज संचार के सशक्त माध्यमों में से एक है। संचार शब्द की उत्पत्ति चर धातु से हुई है जिसका अर्थ है चलना या एक स्थान से दूसरे स्थान तक पहुंचना। दो से अधिक व्यक्तियों के बीच सूचना, विचारों और भावनाओं का आदान-प्रदान। लेकिन संचार में सिर्फ दो या अधिक व्यक्तियों को नहीं, हजारों-लाखों लोगों के जनसंचार को शामिल किया जाता है। इस प्रकार सूचना, विचारों और भावनाओं को लिखित, मौखिक तथा दृश्य, श्रव्य माध्यमों के जरिए सफलतापूर्वक एक स्थान से दूसरे स्थान तक पहुंचाना ही संचार है। इस प्रक्रिया को अंजाम देने में मदद करने वाले तरीके संचार माध्यम कहलाते हैं और टीवी इन्हीं संचार माध्यमों में से एक है। इसके अतिरिक्त रेडियो, मोबाइल, टेलीफोन, फैक्स आदि संचार के अन्य माध्यम हैं। भारत में इसकी शुरुआत करने का बुनियादी उद्देश्य यही था कि समाज में फैली बुराइयों को दूर किया जा सके, सामाजिक परिवर्तन लाया जा सके। आम नागरिकों में वैज्ञानिक चेतना का विकास हो, सामाजिक कुरीतियों रूढ़िवादी मान्यताओं के प्रति लोगों की सोच को बदला जा सके। इसका उदाहरण प्रत्यक्ष है कई ऐसे टेलीविजन पर कई ऐसे धारावाहिक प्रकाशित किए गए जिन्होंने समाज की बुराइयों को जनता प्रत्यक्ष रूप से जनता के सामने रखा।

SubQuestion No : 18

Q.18 निम्नलिखित प्रश्न में, चार विकल्पों में से, उस विकल्प का चयन करें जो दिए गए शब्द के विलोम शब्द का विकल्प है।

परिवर्तन

- Ans
- 1. प्रेरणा
 - 2. बदलाव
 - 3. पर्याप्त
 - 4. स्थिरता

Question ID : 630680850372
Option 1 ID : 6306803330651
Option 2 ID : 6306803330650
Option 3 ID : 6306803330652
Option 4 ID : 6306803330649

Comprehension:

इस गद्यांश को ध्यानपूर्वक पढ़ें और चार विकल्पों में से प्रत्येक प्रश्न का सर्वोत्तम उत्तर चुनें।
टेलीविजन, आज संचार के सशक्त माध्यमों में से एक है। संचार शब्द की उत्पत्ति चर धातु से हुई है जिसका अर्थ है चलना या एक स्थान से दूसरे स्थान तक पहुंचना। दो से अधिक व्यक्तियों के बीच सूचना, विचारों और भावनाओं का आदान-प्रदान। लेकिन संचार में सिर्फ दो या अधिक व्यक्तियों को नहीं, हजारों-लाखों लोगों के जनसंचार को शामिल किया जाता है। इस प्रकार सूचना, विचारों और भावनाओं को लिखित, मौखिक तथा दृश्य, श्रव्य माध्यमों के जरिए सफलतापूर्वक एक स्थान से दूसरे स्थान तक पहुंचाना ही संचार है। इस प्रक्रिया को अंजाम देने में मदद करने वाले तरीके संचार माध्यम कहलाते हैं और टीवी इन्हीं संचार माध्यमों में से एक है। इसके अतिरिक्त रेडियो, मोबाइल, टेलीफोन, फैक्स आदि संचार के अन्य माध्यम हैं। भारत में इसकी शुरुआत करने का बुनियादी उद्देश्य यही था कि समाज में फैली बुराइयों को दूर किया जा सके, सामाजिक परिवर्तन लाया जा सके। आम नागरिकों में वैज्ञानिक चेतना का विकास हो, सामाजिक कुरीतियों रूढ़िवादी मान्यताओं के प्रति लोगों की सोच को बदला जा सके। इसका उदाहरण प्रत्यक्ष है कई ऐसे टेलीविजन पर कई ऐसे धारावाहिक प्रकाशित किए गए जिन्होंने समाज की बुराइयों को जनता प्रत्यक्ष रूप से जनता के सामने रखा।

SubQuestion No : 19

Q.19 निम्नलिखित प्रश्न में, चार विकल्पों में से, उस विकल्प का चयन करें जो दिए गए शब्द के सही अर्थ का विकल्प है।
सशक्त

- Ans
- 1. सम्पन्न
 - 2. समर्थ
 - 3. सूचना
 - 4. समूह

Question ID : 630680850373
Option 1 ID : 6306803330654
Option 2 ID : 6306803330655
Option 3 ID : 6306803330656
Option 4 ID : 6306803330653

Comprehension:

इस गद्यांश को ध्यानपूर्वक पढ़ें और चार विकल्पों में से प्रत्येक प्रश्न का सर्वोत्तम उत्तर चुनें।
टेलीविजन, आज संचार के सशक्त माध्यमों में से एक है। संचार शब्द की उत्पत्ति चर धातु से हुई है जिसका अर्थ है चलना या एक स्थान से दूसरे स्थान तक पहुंचना। दो से अधिक व्यक्तियों के बीच सूचना, विचारों और भावनाओं का आदान-प्रदान। लेकिन संचार में सिर्फ दो या अधिक व्यक्तियों को नहीं, हजारों-लाखों लोगों के जनसंचार को शामिल किया जाता है। इस प्रकार सूचना, विचारों और भावनाओं को लिखित, मौखिक तथा दृश्य, श्रव्य माध्यमों के जरिए सफलतापूर्वक एक स्थान से दूसरे स्थान तक पहुंचाना ही संचार है। इस प्रक्रिया को अंजाम देने में मदद करने वाले तरीके संचार माध्यम कहलाते हैं और टीवी इन्हीं संचार माध्यमों में से एक है। इसके अतिरिक्त रेडियो, मोबाइल, टेलीफोन, फैक्स आदि संचार के अन्य माध्यम हैं। भारत में इसकी शुरुआत करने का बुनियादी उद्देश्य यही था कि समाज में फैली बुराइयों को दूर किया जा सके, सामाजिक परिवर्तन लाया जा सके। आम नागरिकों में वैज्ञानिक चेतना का विकास हो, सामाजिक कुरीतियों रूढ़िवादी मान्यताओं के प्रति लोगों की सोच को बदला जा सके। इसका उदाहरण प्रत्यक्ष है कई ऐसे टेलीविजन पर कई ऐसे धारावाहिक प्रकाशित किए गए जिन्होंने समाज की बुराइयों को जनता प्रत्यक्ष रूप से जनता के सामने रखा।

SubQuestion No : 20

Q.20 अनुच्छेद के अनुसार संचार में कितने लोगों के जनसंचार को शामिल किया जाता है?

- Ans**
- 1. कुछ ही लोगों के
 - 2. दो या दो से अधिक व्यक्तियों के
 - 3. पारिवारिक लोगों के
 - 4. हजारों-लाखों लोगों के

Question ID : 630680850369
Option 1 ID : 6306803330639
Option 2 ID : 6306803330637
Option 3 ID : 6306803330638
Option 4 ID : 6306803330640



GOVT. OF NCT OF DELHI
Delhi Subordinate Services Selection Board
FC-18, Institutional Area, Karkardooma, Delhi – 110092.
www.dsssb.delhigovt.nic.in

Participant ID	231131108012252
Participant Name	Akash sharma
Test Center Name	Webinfotron Technologies Pvt. Ltd.
Test Date	16/06/2024
Test Time	8:30 AM - 10:30 AM
Subject	Warder Reserved for male Only

Section : General intelligence and Reasoning Ability 1

Q.1 If P = '+', Q = '-', R = 'x' and S = '÷', then what will be the value of the following expression?

18 R 2 Q 18 P 69 S 23

- Ans
- 1. 15
 - 2. 24
 - 3. 21
 - 4. 18

Question ID : 630680835344
Option 1 ID : 6306803272158
Option 2 ID : 6306803272161
Option 3 ID : 6306803272160
Option 4 ID : 6306803272159

Q.2 Five friends named Neeti, Indu, Rajan, Suchit and Riyaz are sitting in a straight line facing north. Neeti sits at the extreme left end of the row. Indu sits exactly between Neeti and Suchit. Suchit is sitting exactly between Indu and Riyaz. If Riyaz is sitting second from the right end, then who is sitting between Suchit and Rajan?

- Ans
- 1. Indu
 - 2. Niti
 - 3. Riyaz
 - 4. Suchit

Question ID : 630680835413
Option 1 ID : 6306803272439
Option 2 ID : 6306803272438
Option 3 ID : 6306803272441
Option 4 ID : 6306803272440

Q.3 On the basis of general mental ability and general mental understanding only, without regard to scientific and technical facts, which of the following options will replace the question mark on the basis of workers and their tools?

Author : Pen :: Woodcutter:?

- Ans 1. Axe
 2. Needle
 3. Plough
 4. Sword

Question ID : 630680849878
Option 1 ID : 6306803328745
Option 2 ID : 6306803328746
Option 3 ID : 6306803328748
Option 4 ID : 6306803328747

Q.4 In a certain code language, LAKME is written as EMKAL and PONDS is written as SDNOP. How LOVELY will be written in the same code language ?

- Ans 1. YLEVOL
 2. YLELOV
 3. LOVEYL
 4. LOEVYL

Question ID : 630680835372
Option 1 ID : 6306803272274
Option 2 ID : 6306803272277
Option 3 ID : 6306803272275
Option 4 ID : 6306803272276

Q.5 Which of the following pairs based on composite and prime numbers only is similar to the expression given below?

17 : 41

- Ans 1. 83 : 81
 2. 72 : 13
 3. 19 : 63
 4. 31 : 83

Question ID : 630680849087
Option 1 ID : 6306803325880
Option 2 ID : 6306803325878
Option 3 ID : 6306803325879
Option 4 ID : 6306803325881

Q.6 In a certain code language, PLATE is written as ETALP and CHAIR is written as RIAHC.
How SPOON will be written in the same code language?

- Ans 1. NOOPS
 2. NPOSO
 3. SPONO
 4. SPNOO

Question ID : 630680849750
Option 1 ID : 6306803328242
Option 2 ID : 6306803328244
Option 3 ID : 6306803328243
Option 4 ID : 6306803328241

Q.7 What will come in place of the question mark (?) to make the following series logically complete, based only on the letters and their numerical values?

RS, TU, VW, XY, ?

- Ans 1. AB
 2. BA
 3. AZ
 4. ZA

Question ID : 630680835336
Option 1 ID : 6306803272126
Option 2 ID : 6306803272128
Option 3 ID : 6306803272129
Option 4 ID : 6306803272127

Q.8 How is the husband of the only daughter of Rakesh(man)'s wife's mother related to Rakesh's wife?

- Ans 1. Mother in law
 2. Husband
 3. Wife
 4. Mother

Question ID : 630680835379
Option 1 ID : 6306803272303
Option 2 ID : 6306803272305
Option 3 ID : 6306803272304
Option 4 ID : 6306803272302

Q.9 Find the figure which is different from the rest figure options given below.



1 2 3 4

- Ans 1. 1
 2. 4
 3. 2
 4. 3

Join Telegram Group "HaryanaJobs.in"

Question ID : 630680835340
 Option 1 ID : 6306803272142
 Option 2 ID : 6306803272145
 Option 3 ID : 6306803272143
 Option 4 ID : 6306803272144

Q.10 6 cricketers Jadeja, Ashwin, Sachin, Virat, Rahul and Rohit are sitting around a circular table facing the centre. Sachin is sitting exactly opposite to Ashwin. Jadeja is sitting to the immediate right of Sachin. Virat is sitting exactly opposite to Jadeja. Rohit is sitting between Sachin and Virat. Rahul is sitting exactly opposite to Rohit. Who is sitting immediately on the right-hand side of Jadeja on the circular table?

- Ans 1. Jadeja
 2. Rohit
 3. Rahul
 4. Virat

Question ID : 630680849742
 Option 1 ID : 6306803328212
 Option 2 ID : 6306803328210
 Option 3 ID : 6306803328211
 Option 4 ID : 6306803328209

Q.11 Which of the following options is different from the other three options as capital cities in India on the basis of common sense and general mental ability only, without regard to any scientific and geographical facts?

- Ans 1. Nashik
 2. Agartala
 3. Chennai
 4. Shimla

Question ID : 630680849824
 Option 1 ID : 6306803328535
 Option 2 ID : 6306803328536
 Option 3 ID : 6306803328533
 Option 4 ID : 6306803328534

Q.12 Read the given statement(s) and conclusions carefully. Assuming that the information given in the statements is true, even if it appears to be at variance with commonly known facts, decide which of the given conclusions logically follow(s) from the statement(s).

Statement:

- A. Some donkeys are squirrel
B. Some squirrel are walrus

Conclusion:

1. All walrus are squirrel.
2. All squirrels are walrus.

Ans 1. Neither conclusion 1 nor 2 follows

2. Only conclusion 2 follows

3. Only conclusion 1 follows

4. Both conclusion 1 and 2 follow

Question ID : 630680835381

Option 1 ID : 6306803272312

Option 2 ID : 6306803272311

Option 3 ID : 6306803272310

Option 4 ID : 6306803272313

Q.13 If '\$' means '-', '*' means '+', '@' means '+', '#' means 'x', then what will be the value of the following expression?

18 # 2 * 18 @ 3 \$ 7 = ?

Ans 1. 33

2. 36

3. 34

4. 35

Question ID : 630680849894

Option 1 ID : 6306803328809

Option 2 ID : 6306803328812

Option 3 ID : 6306803328810

Option 4 ID : 6306803328811

Q.14 How many such numbers are there in the given series each of which is immediately preceded and followed by a symbol?

G \$ 1 U 5 J # H @ 9 L 6 & S 8 & K 4 J 5 @ D \$

Ans 1. 0

2. 3

3. 1

4. 2

Question ID : 630680849052

Option 1 ID : 6306803325741

Option 2 ID : 6306803325740

Option 3 ID : 6306803325738

Option 4 ID : 6306803325739

Q.15 35 boys are sitting in the class in a row for Geography exam. From left, the position of Rajesh(Boy) is 17th. Find the rank of Rajesh(Boy) from the right end.

- Ans 1. 19
 2. 18
 3. 17
 4. 20

Question ID : 630680849801
Option 1 ID : 6306803328443
Option 2 ID : 6306803328442
Option 3 ID : 6306803328441
Option 4 ID : 6306803328444

Q.16 What will come in place of the question mark (?) to make the following series logically complete based on the numerical values of the letters?

E, L, S, Z, ?

- Ans 1. J
 2. H
 3. G
 4. I

Question ID : 630680849073
Option 1 ID : 6306803325825
Option 2 ID : 6306803325823
Option 3 ID : 6306803325822
Option 4 ID : 6306803325824

Q.17 If the following words are arranged in the dictionary order, which of the following will come on the fourth place?

Fast, Failure, Famous, Faint

- Ans 1. Faint
 2. Famous
 3. Failure
 4. Fast

Question ID : 630680849757
Option 1 ID : 6306803328272
Option 2 ID : 6306803328271
Option 3 ID : 6306803328270
Option 4 ID : 6306803328269

Q.18 In a yoga class, many participants are standing in a line. From both sides, the rank of one participant is found to be 17. How many total participants are there in the yoga class?

- Ans 1. 33
 2. 32
 3. 35
 4. 34

Question ID : 630680835365
Option 1 ID : 6306803272247
Option 2 ID : 6306803272246
Option 3 ID : 6306803272249
Option 4 ID : 6306803272248

Q.19 Which of the following options will replace the question mark to make the following expression logically complete?
20 : 30 :: 42 : ?

- Ans 1. 72
 2. 48
 3. 56
 4. 80

Question ID : 630680849840
Option 1 ID : 6306803328599
Option 2 ID : 6306803328597
Option 3 ID : 6306803328598
Option 4 ID : 6306803328600

Q.20 What will come in place of the question mark (?) to make the series given below logically complete by using addition and subtraction processes only whichever may be applicable?

23, 31, 25, 33, 27, ?, ?

- Ans 1. 29, 35
 2. 28, 35
 3. 35, 28
 4. 35, 29

Question ID : 630680835403
Option 1 ID : 6306803272401
Option 2 ID : 6306803272399
Option 3 ID : 6306803272398
Option 4 ID : 6306803272400

Section : General intelligence and Reasoning Ability 2

Q.1 On the basis of general mental ability and general mental understanding only, without regard to scientific and technical facts, which of the following options will replace the question mark on the basis of workers and their tools?

Chef : Pressure Cooker :: Warrior : ?

- Ans
- 1. Flower
 - 2. Paper
 - 3. Pen
 - 4. Sword

Question ID : 630680835383
Option 1 ID : 6306803272318
Option 2 ID : 6306803272320
Option 3 ID : 6306803272319
Option 4 ID : 6306803272321

Q.2 If all the letters are removed from the given series, what will be the 13th element from the right?

S @ 1 & L 4 \$ J % 5 G 4 @ 7 D 8 G \$ 1 B ! 9 P 6 * K

- Ans
- 1. \$
 - 2. 1
 - 3. 4
 - 4. %

Question ID : 630680849869
Option 1 ID : 6306803328711
Option 2 ID : 6306803328709
Option 3 ID : 6306803328712
Option 4 ID : 6306803328710

Q.3 5 friends named Anita, Babbo, Rosina, Kamala and Prema are sitting in a straight line facing north. Babbo is sitting immediately after Anita. Kamala is not at any end of the row. Anita is not sitting at the extreme right end of the row. If Prema is sitting immediate left of Rosina from the right side of the row, then who is sitting at the right end of the row?

- Ans
- 1. Kamala
 - 2. Rosina
 - 3. Babbo
 - 4. Anita

Question ID : 630680849042
Option 1 ID : 6306803325700
Option 2 ID : 6306803325701
Option 3 ID : 6306803325699
Option 4 ID : 6306803325698

Q.4 Six persons Aarohi, Vani, Chitra, Daman, Surbhi and Falak live on different floors of the building but not necessarily in the same order. Aarohi lives on the top floor of the building. Vani lives exactly between Aarohi and Chitra's destination. Daman lives exactly between the floors of Chitra and Falak. Surbhi lives immediately below Falak's floor. Chitra lives on the fourth floor from the bottom. Who lives on the third floor of the building from the top?

- Ans 1. Vaani
 2. Chitra
 3. Falak
 4. Arohi

Question ID : 630680849748
Option 1 ID : 6306803328234
Option 2 ID : 6306803328235
Option 3 ID : 6306803328236
Option 4 ID : 6306803328233

Q.5 If all the letters are removed from the given series, what will be the 7th element from the right?

9 H # T 5 \$ K 2 L 2 % B ^ 8 J * 1 (L 5 ! D 3 F 7

- Ans 1. *
 2. 1
 3. ^
 4. 8

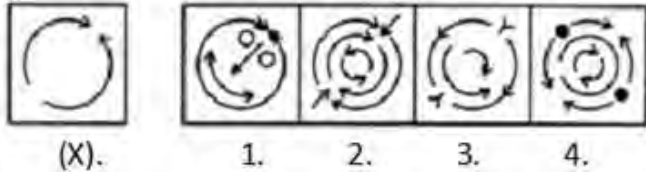
Question ID : 630680849808
Option 1 ID : 6306803328472
Option 2 ID : 6306803328471
Option 3 ID : 6306803328469
Option 4 ID : 6306803328470

Q.6 Based only on common sense and general mental ability without regard to any scientific and technical facts which of the following option is different from the other three options on the basis of house construction?

- Ans 1. Wall
 2. House
 3. Beam
 4. Roof

Question ID : 630680835438
Option 1 ID : 6306803272539
Option 2 ID : 6306803272538
Option 3 ID : 6306803272541
Option 4 ID : 6306803272540

Q.7 Which of the following option will embed the original image (X)?



- Ans 1. 1
 2. 4
 3. 3
 4. 2

Question ID : 630680849892
 Option 1 ID : 6306803328801
 Option 2 ID : 6306803328804
 Option 3 ID : 6306803328803
 Option 4 ID : 6306803328802

Q.8 Based only on common sense and general mental ability without regard to any scientific and technical facts, which of the following option is different from the other three options on the basis of fruits, vegetables and its types?

- Ans 1. Lady finger
 2. Orange
 3. Apple
 4. Mango

Question ID : 630680835389
 Option 1 ID : 6306803272343
 Option 2 ID : 6306803272342
 Option 3 ID : 6306803272345
 Option 4 ID : 6306803272344

Q.9 What will come in place of the question mark (?) to make the following series logically complete based on the numerical values of the letters?

MQ, UY, CG, ??

- Ans 1. YB
 2. AE
 3. KO
 4. EA

Question ID : 630680849074
 Option 1 ID : 6306803325828
 Option 2 ID : 6306803325827
 Option 3 ID : 6306803325829
 Option 4 ID : 6306803325826

Q.10 Pointing towards a picture, Malti says that the man in the picture is the only son of Malti's husband's wife. How is Malti related to the man in the picture?

Ans 1. Mother

2. Paternal Grandmother

3. Son

4. Paternal Grandfather

Question ID : 630680849059

Option 1 ID : 6306803325766

Option 2 ID : 6306803325768

Option 3 ID : 6306803325767

Option 4 ID : 6306803325769

Q.11 Read the given statement(s) and conclusions carefully. Assuming that the information given in the statements is true, even if it appears to be at variance with commonly known facts, decide which of the given conclusions logically follow(s) from the statement(s).

Statements:

A. Some tables are desks.

B. Some tables are benches.

Conclusions:

1. All desks are benches.

2. All desks are tables.

Ans 1. Neither conclusion 1 nor 2 follows

2. Both conclusion 1 and 2 follow

3. Only conclusion 2 follows

4. Only conclusion 1 follows

Question ID : 630680835322

Option 1 ID : 6306803272072

Option 2 ID : 6306803272073

Option 3 ID : 6306803272071

Option 4 ID : 6306803272070

Q.12 In a certain code language, PLAN is written as 43 and CAT is written as 24. How SPOON will be written in the same code language?

Ans 1. 79

2. 78

3. 81

4. 80

Question ID : 630680849805

Option 1 ID : 6306803328458

Option 2 ID : 6306803328457

Option 3 ID : 6306803328460

Option 4 ID : 6306803328459

Q.13 What will come in place of the question mark (?) to make the series given below logically complete by using addition and subtraction processes only whichever may be applicable?

31, 42, 51, 62, 71, ?, ?

- Ans
- 1. 86, 95
 - 2. 93, 84
 - 3. 82, 91
 - 4. 95, 86

Question ID : 630680849899
 Option 1 ID : 6306803328831
 Option 2 ID : 6306803328830
 Option 3 ID : 6306803328829
 Option 4 ID : 6306803328832

Q.14 Read the given statement(s) and conclusions carefully. Assuming that the information given in the statements is true, even if it appears to be at variance with commonly known facts, decide which of the given conclusions logically follow(s) from the statement(s).

Statements

- A. Some hydrogen are calcium.
- B. Some hydrogen are manganese.

Conclusion

- 1. All manganese are hydrogen.
- 2. All hydrogen are manganese.

- Ans
- 1. Neither conclusion 1 nor 2 follows
 - 2. Only conclusion 1 follows
 - 3. Both conclusion 1 and 2 follow
 - 4. Only conclusion 2 follows

Question ID : 630680849877
 Option 1 ID : 6306803328743
 Option 2 ID : 6306803328741
 Option 3 ID : 6306803328744
 Option 4 ID : 6306803328742

Q.15 On the basis of subtraction and addition method only, whichever is applicable, which of the following options is similar to the expression given below?

13 : 5 : 18

23 : 3 : 26

- Ans
- 1. 21 : 4 : 28
 - 2. 45 : 8 : 55
 - 3. 29 : 5 : 36
 - 4. 34 : 8 : 42

Question ID : 630680849085
 Option 1 ID : 6306803325871
 Option 2 ID : 6306803325873
 Option 3 ID : 6306803325870
 Option 4 ID : 6306803325872

Q.16 W means '+', X means '-' Y means 'x' and Z means \div , then what will be the value of the following expression?

$$10 Y 4 W 3 X 8 Z 2 = ?$$

- Ans 1. 46
 2. 38
 3. 39
 4. 44

Question ID : 630680849078
Option 1 ID : 6306803325845
Option 2 ID : 6306803325842
Option 3 ID : 6306803325843
Option 4 ID : 6306803325844

Q.17 Only on the basis of common mental understanding and general mental ability without regard to any scientific and technical aspects, which of the following option is different from the other three options based on flowers and fruits?

- Ans 1. Orange
 2. Pear
 3. Orchid
 4. Peach

Question ID : 630680849071
Option 1 ID : 6306803325814
Option 2 ID : 6306803325816
Option 3 ID : 6306803325817
Option 4 ID : 6306803325815

Q.18 On the basis of general mental ability and general mental understanding only, without regard to scientific and technical facts, Which of the following options will replace the question mark on the basis of product and raw material?

Book : Paper :: Linen : ?

- Ans 1. Pulp
 2. Glass
 3. Leather
 4. Flax

Question ID : 630680849882
Option 1 ID : 6306803328761
Option 2 ID : 6306803328762
Option 3 ID : 6306803328763
Option 4 ID : 6306803328764

Q.19 Which of the following options will replace the question mark to make the following expression logically complete based only on square or cube of numbers as applicable?

9 : 121

16 : 324

- Ans
- 1. 36 : 215
 - 2. 42 : 25
 - 3. 9 : 298
 - 4. 25 : 729

Question ID : 630680849900
Option 1 ID : 6306803328836
Option 2 ID : 6306803328834
Option 3 ID : 6306803328833
Option 4 ID : 6306803328835

Q.20 On the basis of general mental ability and general mental understanding only, without regard to scientific and technical facts, which of the following options will replace the question mark on the basis of subjects and their topics?

Chemistry: Chemical reactions :: English : ?

- Ans
- 1. Pronoun
 - 2. Algebra
 - 3. Budget
 - 4. Climate

Question ID : 630680849764
Option 1 ID : 6306803328298
Option 2 ID : 6306803328297
Option 3 ID : 6306803328299
Option 4 ID : 6306803328300

Section : General Awareness 1

Q.1 "There shall be a Parliament for the Union which shall consist of the President and two Houses to be known respectively as the Council of States and the House of the People." Which Article of the Indian Constitution has been discussed here?

- Ans
- 1. Article 79
 - 2. Article 91
 - 3. Article 85
 - 4. Article 65

Question ID : 630680852099
Option 1 ID : 6306803337454
Option 2 ID : 6306803337452
Option 3 ID : 6306803337453
Option 4 ID : 6306803337455

Q.2 The fertility rate refers women in the child-bearing age group, usually taken to be _____ years.

- Ans 1. 20 to 51
 2. 20 to 60
 3. 15 to 49
 4. 12 to 35

Question ID : 630680851666
Option 1 ID : 6306803335730
Option 2 ID : 6306803335731
Option 3 ID : 6306803335729
Option 4 ID : 6306803335728

Q.3 Which of the following is the difference between the government's total expenditure and its total receipts excluding borrowing?

- Ans 1. Revenue Deficit
 2. Primary Deficit
 3. Fiscal Deficit
 4. Budget deficit

Question ID : 630680852072
Option 1 ID : 6306803337345
Option 2 ID : 6306803337346
Option 3 ID : 6306803337344
Option 4 ID : 6306803337347

Q.4 Which of the following was discovered by Robert Hooke for the first time in 1665 AD?

- Ans 1. Protoplasm
 2. Free living cells in pond water
 3. Nucleus in the cell
 4. Cell

Question ID : 630680851677
Option 1 ID : 6306803335775
Option 2 ID : 6306803335773
Option 3 ID : 6306803335774
Option 4 ID : 6306803335772

Q.5 How many Schedules are there in the Indian Constitution, as on 31st January,2024?

- Ans 1. 12
 2. 30
 3. 14
 4. 15

Question ID : 630680852093
Option 1 ID : 6306803337428
Option 2 ID : 6306803337431
Option 3 ID : 6306803337429
Option 4 ID : 6306803337430

Q.6 Who among the following was the President of the Indian National Congress session held in Bombay in 1885?

- Ans
- 1. A.O. Hume
 - 2. Surendranath Banerjee
 - 3. Dadabhai Naoroji
 - 4. W.C. Bonnerji

Question ID : 630680851651
Option 1 ID : 6306803335669
Option 2 ID : 6306803335671
Option 3 ID : 6306803335668
Option 4 ID : 6306803335670

Q.7 The body cavity, which is lined by mesoderm is called _____.

- Ans
- 1. Coelom
 - 2. Coelomates
 - 3. Pseudocoelomates
 - 4. Acoelomates

Question ID : 630680839281
Option 1 ID : 6306803287807
Option 2 ID : 6306803287806
Option 3 ID : 6306803287805
Option 4 ID : 6306803287808

Q.8 In which of the following year Tomb of Sand, was awarded the International Booker Prize ?

- Ans
- 1. 2020
 - 2. 2019
 - 3. 2022
 - 4. 2018

Question ID : 630680851654
Option 1 ID : 6306803335680
Option 2 ID : 6306803335682
Option 3 ID : 6306803335681
Option 4 ID : 6306803335683

Q.9 Ghiyasuddin Balban was associated with which of the following dynasties of the Delhi Sultanate?

- Ans
- 1. Mamluk Dynasty/Slave dynasty
 - 2. Tughluq dynasty
 - 3. Khalji dynasty
 - 4. Lodi dynasty

Question ID : 630680852077
Option 1 ID : 6306803337367
Option 2 ID : 6306803337365
Option 3 ID : 6306803337364
Option 4 ID : 6306803337366

Q.10 Nehru Trophy Boat Race is associated with which of the following states of India?

- Ans 1. Kerala
 2. Punjab
 3. Maharashtra
 4. Uttarakhand

Question ID : 630680852085
Option 1 ID : 6306803337396
Option 2 ID : 6306803337398
Option 3 ID : 6306803337397
Option 4 ID : 6306803337399

Q.11 "Elections to the House of the People and to the Legislative Assemblies of States to be on the basis of adult suffrage", Which article of the Indian Constitution has been mentioned here?

- Ans 1. Article 328
 2. Article 329
 3. Article 345
 4. Article 326

Question ID : 630680840359
Option 1 ID : 6306803292118
Option 2 ID : 6306803292119
Option 3 ID : 6306803292120
Option 4 ID : 6306803292117

Q.12 The idea of a nationwide Goods and Services Tax in India was first proposed by the _____ Task Force on Indirect taxes.

- Ans 1. Kothari
 2. Kelkar
 3. Narasimhan
 4. Tendulkar

Question ID : 630680852073
Option 1 ID : 6306803337349
Option 2 ID : 6306803337350
Option 3 ID : 6306803337351
Option 4 ID : 6306803337348

Q.13 In which of the following year revolutionary nationalists such as Bhagat Singh, Chandra Shekhar Azad, Sukhdev and others founded the Hindustan Socialist Republican Association (HSRA)?

- Ans 1. 1922
 2. 1935
 3. 1928
 4. 1929

Question ID : 630680852076
Option 1 ID : 6306803337363
Option 2 ID : 6306803337360
Option 3 ID : 6306803337362
Option 4 ID : 6306803337361

Q.14 IIT has started ___ first4 year Bachelor of Science (BS) Degree in Data Science and Applications with options to exit earlier in the foundation, diploma or BSc degree level.

- Ans
- 1. Asia's
 - 2. India's
 - 3. Maharashtra's
 - 4. World's

Question ID : 630680852071
Option 1 ID : 6306803337342
Option 2 ID : 6306803337340
Option 3 ID : 6306803337343
Option 4 ID : 6306803337341

Q.15 Nari Shakti Vandan adhiniyam passed in the year 2023 is related to which of the following constitutional amendments act?

- Ans
- 1. 125th
 - 2. 106th
 - 3. 126th
 - 4. 110th

Question ID : 630680851642
Option 1 ID : 6306803335632
Option 2 ID : 6306803335633
Option 3 ID : 6306803335634
Option 4 ID : 6306803335635

Q.16 It is one of the largest river basins of the world, covering an area of 11,65,000 sq. km (in India it is 321, 289 sq. km) and a total length of 2,880 km (in India 1,114 km). It is the westernmost of the Himalayan rivers in India. It originates from a glacier near Bokhar Chu in the Tibetan region. Which among the following river has been discussed here?

- Ans
- 1. Ganga River
 - 2. Indus River
 - 3. Sutlej River
 - 4. Brahmaputra River

Question ID : 630680852087
Option 1 ID : 6306803337407
Option 2 ID : 6306803337404
Option 3 ID : 6306803337405
Option 4 ID : 6306803337406

Q.17 Which of the following states/Union territories has won the maximum number of Silver medals in National Games- 2023 held in India?

- Ans
- 1. Maharashtra
 - 2. Kerala
 - 3. Uttarakhand
 - 4. Chandigarh

Question ID : 630680852060
Option 1 ID : 6306803337299
Option 2 ID : 6306803337296
Option 3 ID : 6306803337298
Option 4 ID : 6306803337297

Q.18 Which of the following types of forests are also called monsoon forests, which are spread in the area with rainfall between 200 cm to 70 cm?

- Ans**
- 1. Montane Forest
 - 2. Mangrove Forest
 - 3. Tropical Deciduous Forests
 - 4. Tropical Evergreen Forests

Question ID : 630680851663
Option 1 ID : 6306803335716
Option 2 ID : 6306803335719
Option 3 ID : 6306803335717
Option 4 ID : 6306803335718

Q.19 Pradhan Mantri Jeevan Jyoti Bima Yojana (PMJJBY) was launched in which of the following years,?

- Ans**
- 1. 2015
 - 2. 2017
 - 3. 2018
 - 4. 2019

Question ID : 630680852064
Option 1 ID : 6306803337314
Option 2 ID : 6306803337313
Option 3 ID : 6306803337312
Option 4 ID : 6306803337315

Q.20 Based on the information available till 31 January – 2024, which of the following languages is included in the list of classical languages of India?

- Ans**
- 1. Sanskrit
 - 2. Dogri
 - 3. Hindi
 - 4. Sindhi

Question ID : 630680852081
Option 1 ID : 6306803337380
Option 2 ID : 6306803337382
Option 3 ID : 6306803337381
Option 4 ID : 6306803337383

Section : General Awareness 2

Q.1 Qutbuddin Aibak was associated with which of the following dynasties of the Delhi Sultanate?

- Ans 1. Lodi dynasty
 2. Tughluq dynasty
 3. Khalji dynasty
 4. Mamluk Dynasty/Slave dynasty

Question ID : 630680840340
Option 1 ID : 6306803292043
Option 2 ID : 6306803292042
Option 3 ID : 6306803292041
Option 4 ID : 6306803292044

Q.2 National Games- 2023 was held in which of the following State of India?

- Ans 1. Haryana
 2. Goa
 3. Jammu and Kashmir
 4. Uttarakhand

Question ID : 630680840323
Option 1 ID : 6306803291976
Option 2 ID : 6306803291973
Option 3 ID : 6306803291975
Option 4 ID : 6306803291974

Q.3 In which of the following year The Union Cabinet, chaired by Indian Prime Minister approved declaration of Janjatiya Gaurav Divas dedicated to the memory of brave tribal freedom fighters so that coming generations could know about their sacrifices about the country?

- Ans 1. 2023
 2. 2021
 3. 2020
 4. 2019

Question ID : 630680851639
Option 1 ID : 6306803335623
Option 2 ID : 6306803335622
Option 3 ID : 6306803335621
Option 4 ID : 6306803335620

Q.4 _____ wrote a work on statecraft in Telugu known as Amuktamalyada.

- Ans 1. Dev Rai I
 2. Dev Rai II
 3. Harihar I
 4. Krishnadeva Raya

Question ID : 630680840341
Option 1 ID : 6306803292046
Option 2 ID : 6306803292045
Option 3 ID : 6306803292048
Option 4 ID : 6306803292047

Q.5 “The Chairman and other members of a Public Service Commission shall be appointed, in the case of the Union Commission or a Joint Commission, by the President, and in the case of a State Commission, by the Governor of the State” Which Article of the Indian Constitution has been mentioned here?

- Ans 1. Article – 316(1)
 2. Article – 248(5)
 3. Article – 216(5)
 4. Article – 229(3)

Question ID : 630680852096
Option 1 ID : 6306803337440
Option 2 ID : 6306803337441
Option 3 ID : 6306803337443
Option 4 ID : 6306803337442

Q.6 The “White tiger ” has been authored by who among the following?

- Ans 1. Vikram Seth
 2. Arundhati Roy
 3. Aravind Adiga
 4. Amitav Ghosh

Question ID : 630680852079
Option 1 ID : 6306803337375
Option 2 ID : 6306803337372
Option 3 ID : 6306803337373
Option 4 ID : 6306803337374

Q.7 As on 31 January – 2024, which of the following languages is not included in the list of classical languages of India?

- Ans 1. Gujarati
 2. Telugu
 3. Kannada
 4. Sanskrit

Question ID : 630680851656
Option 1 ID : 6306803335688
Option 2 ID : 6306803335691
Option 3 ID : 6306803335690
Option 4 ID : 6306803335689

Q.8 In which part of the Indian Constitution are the provisions related to citizenship discussed?

- Ans 1. Part – II
 2. Part – III
 3. Part – VI
 4. Part – I

Question ID : 630680851669
Option 1 ID : 6306803335741
Option 2 ID : 6306803335742
Option 3 ID : 6306803335743
Option 4 ID : 6306803335740

Q.9 What is the full form of GST?

- Ans 1. Goods and services tax
 2. General simple tax
 3. Goods and simple tax
 4. General services tax

Question ID : 630680851648
Option 1 ID : 6306803335658
Option 2 ID : 6306803335659
Option 3 ID : 6306803335656
Option 4 ID : 6306803335657

Q.10 Fertility rate refers to the number of live births per _____women in the age group .

- Ans 1. 500
 2. 100000
 3. 10000
 4. 1000

Question ID : 630680852091
Option 1 ID : 6306803337420
Option 2 ID : 6306803337423
Option 3 ID : 6306803337422
Option 4 ID : 6306803337421

Q.11 In which of the following year Purkinje used invented the term 'protoplasm' for the fluid substance of the cell.?

- Ans 1. 1851
 2. 1839
 3. 1850
 4. 1852

Question ID : 630680852102
Option 1 ID : 6306803337466
Option 2 ID : 6306803337464
Option 3 ID : 6306803337465
Option 4 ID : 6306803337467

Q.12 Money bill has been defined in which article of Indian constitution?

- Ans 1. Article 121
 2. Article 125
 3. Article 111
 4. Article 110

Question ID : 630680851647
Option 1 ID : 6306803335655
Option 2 ID : 6306803335653
Option 3 ID : 6306803335654
Option 4 ID : 6306803335652

Q.13 In which of the following years was the Wildlife Protection Act implemented in India?

- Ans 1. 1980
 2. 1972
 3. 1966
 4. 1986

Question ID : 630680852088
Option 1 ID : 6306803337410
Option 2 ID : 6306803337409
Option 3 ID : 6306803337408
Option 4 ID : 6306803337411

Q.14 By who among the following were cells discovered for the first time ?

- Ans 1. Purkinje
 2. Robert Hooke
 3. Leeuwenhoek
 4. Robert Brown

Question ID : 630680840365
Option 1 ID : 6306803292144
Option 2 ID : 6306803292141
Option 3 ID : 6306803292143
Option 4 ID : 6306803292142

Q.15 Which among the following is also known as the lower house of the parliament?

- Ans 1. Rajya Sabha
 2. Lok Sabha
 3. Delhi legislative council
 4. Delhi legislative assembly

Question ID : 630680851674
Option 1 ID : 6306803335762
Option 2 ID : 6306803335760
Option 3 ID : 6306803335763
Option 4 ID : 6306803335761

Q.16 The range lying to the south of the Himadri and north of Shivalik forms the most rugged mountain system and is known as _____

- Ans 1. Himachal or lesser Himalaya
 2. Aravali range
 3. Kalsubai range
 4. Shivalik range

Question ID : 630680851661
Option 1 ID : 6306803335710
Option 2 ID : 6306803335708
Option 3 ID : 6306803335711
Option 4 ID : 6306803335709

Q.17 Chapchar Kut Festival is primarily associated with which of the following states?

- Ans 1. Maharashtra
 2. Mizoram
 3. Punjab
 4. Bihar

Question ID : 630680851660
Option 1 ID : 6306803335705
Option 2 ID : 6306803335704
Option 3 ID : 6306803335706
Option 4 ID : 6306803335707

Q.18 In which of the following years did Lord Viceroy Curzon partition Bengal?

- Ans 1. 1909
 2. 1905
 3. 1903
 4. 1908

Question ID : 630680852075
Option 1 ID : 6306803337356
Option 2 ID : 6306803337358
Option 3 ID : 6306803337359
Option 4 ID : 6306803337357

Q.19 Pradhan Mantri Matru Vandana Yojana (PMMVY) offers ₹_____ maternity benefit through Aadhaar linked DBT.

- Ans 1. 7000
 2. 2000
 3. 5000
 4. 8000

Question ID : 630680852067
Option 1 ID : 6306803337327
Option 2 ID : 6306803337326
Option 3 ID : 6306803337325
Option 4 ID : 6306803337324

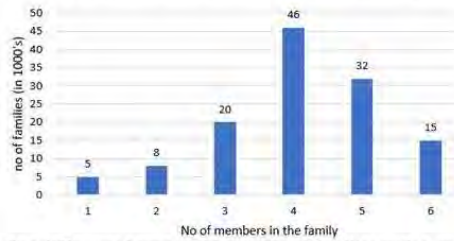
Q.20 Which among the following IIT has started 4-year Bachelor of Science (BS) Degree in Data Science and Applications with options to exit earlier in the foundation, diploma or BSc degree level?

- Ans 1. IIT, Delhi
 2. IIT, Bombay
 3. IIT, Kharagpur
 4. IIT, Madras

Question ID : 630680851646
Option 1 ID : 6306803335650
Option 2 ID : 6306803335648
Option 3 ID : 6306803335651
Option 4 ID : 6306803335649

Section : **Arithmetical and Numerical Ability 1**

Q.1 The data for family sizes in a town is given below. Based on the bar graph, answer the question below:



The difference between the number of families with 6 members and the number of families with 1 member is (in thousands)

- Ans**
- 1. 12
 - 2. 10
 - 3. 5
 - 4. 7

Question ID : 630680849971
 Option 1 ID : 6306803329114
 Option 2 ID : 6306803329113
 Option 3 ID : 6306803329115
 Option 4 ID : 6306803329116

Q.2 The average of five numbers is 12. If three new numbers are added, then the new average is 14. The average of the three new numbers is closest to

- Ans**
- 1. 17.33
 - 2. 6
 - 3. 8.56
 - 4. 9

Question ID : 630680850020
 Option 1 ID : 6306803329310
 Option 2 ID : 6306803329311
 Option 3 ID : 6306803329309
 Option 4 ID : 6306803329312

Q.3 Study the bar graph and answer the question that follows. The bar graph represents the number of vehicles (in thousands) manufactured by two automobile companies A and B over the years from 2015 to 2019.



The average number of vehicles manufactured by Company A is (approximately) what per cent of the average number of vehicles manufactured by Company B during 2015 to 2019?

- Ans** 1. 101.2%
 2. 90.4%
 3. 95.56%
 4. 105.5%

Question ID : 630680849974
 Option 1 ID : 6306803329127
 Option 2 ID : 6306803329125
 Option 3 ID : 6306803329126
 Option 4 ID : 6306803329128

Q.4 A shopkeeper sells an item for ₹1,558 after offering a discount of 18% on its list price. Had he not offered any discount, he would have earned a profit of 20%. What is the cost price (in ₹) of the article?

- Ans** 1. ₹1583.33
 2. ₹1680.25
 3. ₹1500.30
 4. ₹1240.30

Join Telegram Group "HaryanaJobs.in"

Question ID : 630680849989
 Option 1 ID : 6306803329187
 Option 2 ID : 6306803329186
 Option 3 ID : 6306803329188
 Option 4 ID : 6306803329185

Q.5 Four-fifth of one-seventh of $\frac{3}{5}$ th of A is 160. What is the cube root of $\frac{3}{7}$ th of A?

- Ans** 1. 11
 2. 5
 3. 8
 4. 10

Question ID : 630680849978
 Option 1 ID : 6306803329144
 Option 2 ID : 6306803329141
 Option 3 ID : 6306803329142
 Option 4 ID : 6306803329143

Q.6 A batsman scored 126 runs which included 5 boundaries and 6 sixes. What percent of his total score did he make by running between the wickets? (correct to two decimal places)

- Ans 1. 53.45%
2. 55.56%
3. 50.67%
4. 62.87%

Question ID : 630680850044
 Option 1 ID : 6306803329407
 Option 2 ID : 6306803329408
 Option 3 ID : 6306803329406
 Option 4 ID : 6306803329405

Q.7 A man can do a work in 20 days and a woman in 12 days. If they work on it together for 5 days, then the fraction of the work that is left is

- Ans 1. $\frac{1}{7}$
2. $\frac{1}{3}$
3. $\frac{2}{5}$
4. $\frac{1}{5}$

Question ID : 630680840418
 Option 1 ID : 6306803292353
 Option 2 ID : 6306803292356
 Option 3 ID : 6306803292354
 Option 4 ID : 6306803292355

Q.8 While going to office, Roshan travels at a speed of 54 kmph and on his way back, he travels at a speed of 36 kmph. What is his average speed for the whole journey?

- Ans 1. 32.5 kmph
2. 43.2 kmph
3. 55.6 kmph
4. 36.8 kmph

Question ID : 630680850059
 Option 1 ID : 6306803329466
 Option 2 ID : 6306803329465
 Option 3 ID : 6306803329468
 Option 4 ID : 6306803329467

Q.9 Three numbers are in the ratio 5 : 7 : 11. If their sum is 552, what will be their HCF?

Ans 1. 25

2. 24

3. 27

4. 28

Question ID : 630680849993
Option 1 ID : 6306803329202
Option 2 ID : 6306803329201
Option 3 ID : 6306803329203
Option 4 ID : 6306803329204

Q.10 A horse is tethered to one corner of a rectangular grassy field 50 m by 26 m with a rope 14 m long. Over how much area of the field can it graze? (Use $\pi = \frac{22}{7}$)

Ans 1. 616 m²

2. 728 m²

3. 144 m²

4. 154 m²

Question ID : 630680850067
Option 1 ID : 6306803329499
Option 2 ID : 6306803329500
Option 3 ID : 6306803329497
Option 4 ID : 6306803329498

Q.11 Rejita travels first 6 hours of her journey at a speed of 80 km/hr and the remaining distance in 8 hours at a speed of 20 km/hr. What is her average speed (in km/hr) ? (correct to two decimal places)

Ans 1. 30.88

2. 45.71

3. 47.56

4. 22.55

Question ID : 630680840422
Option 1 ID : 6306803292369
Option 2 ID : 6306803292372
Option 3 ID : 6306803292370
Option 4 ID : 6306803292371

Q.12 What smallest number should be subtracted from 8947 so that it is divisible by 8?

Ans 1. 2

2. 5

3. 3

4. 6

Question ID : 630680850034
Option 1 ID : 6306803329365
Option 2 ID : 6306803329367
Option 3 ID : 6306803329366
Option 4 ID : 6306803329368

Q.13 If the sum of two positive integers is 23 and their product is 54, then what will be the sum of their reciprocals?

- Ans 1. 1.46
 2. $23/54$
 3. $54/23$
 4. 4.77

Question ID : 630680850039
Option 1 ID : 6306803329388
Option 2 ID : 6306803329387
Option 3 ID : 6306803329386
Option 4 ID : 6306803329385

Q.14 Roshan invested a sum of ₹ 7700 in a fixed deposit scheme for 2 years at compound interest, compounded annually at 4% per annum. How much amount will Roshan get on maturity of the fixed deposit?

- Ans 1. ₹ 6000.44
 2. ₹ 5433.55
 3. ₹ 8328.32
 4. ₹ 8864.30

Question ID : 630680840389
Option 1 ID : 6306803292237
Option 2 ID : 6306803292239
Option 3 ID : 6306803292240
Option 4 ID : 6306803292238

Q.15 At what rate p.a. of simple interest will ₹ 8000 yield ₹ 3200 as interest in 4 years?

- Ans 1. 4%
 2. 10%
 3. 8.5%
 4. 5.5%

Question ID : 630680850025
Option 1 ID : 6306803329329
Option 2 ID : 6306803329332
Option 3 ID : 6306803329331
Option 4 ID : 6306803329330

Q.16 Sonal bought an AC for ₹ 34250 and paid ₹ 400 for transportation. Then, she sold it for ₹ 36000. Her profit percent is closest to

- Ans 1. 2.92%
 2. 4.5%
 3. 9%
 4. 3.89%

Question ID : 630680849986
Option 1 ID : 6306803329174
Option 2 ID : 6306803329173
Option 3 ID : 6306803329176
Option 4 ID : 6306803329175

Q.17 A fruit seller had some apples. He sells 70% apples and still has 156 apples. What was the number of apples he originally had?

- Ans
- 1. 480
 - 2. 550
 - 3. 520
 - 4. 620

Question ID : 630680850040
Option 1 ID : 6306803329389
Option 2 ID : 6306803329392
Option 3 ID : 6306803329390
Option 4 ID : 6306803329391

Q.18 What is the diagonal of the square plate whose side is 35 cm? (correct to one decimal place)

- Ans
- 1. 60.5 cm
 - 2. 51.2 cm
 - 3. 49.5 cm
 - 4. 54.8 cm

Question ID : 630680850063
Option 1 ID : 6306803329484
Option 2 ID : 6306803329482
Option 3 ID : 6306803329481
Option 4 ID : 6306803329483

Q.19 The perimeter of a rectangle is 90 cm. If the ratio of the lengths of two adjacent sides is 7: 8, find the lengths of these sides.

- Ans
- 1. 16 cm, 20 cm
 - 2. 30 cm, 34 cm
 - 3. 19 cm, 22 cm
 - 4. 21 cm, 24 cm

Question ID : 630680840412
Option 1 ID : 6306803292330
Option 2 ID : 6306803292329
Option 3 ID : 6306803292332
Option 4 ID : 6306803292331

Q.20 The area of a rhombus whose diagonals are of lengths 15 cm and 12 cm is:

- Ans
- 1. 45 cm^2
 - 2. 75 cm^2
 - 3. 180 cm^2
 - 4. 90 cm^2

Question ID : 630680850002
Option 1 ID : 6306803329237
Option 2 ID : 6306803329238
Option 3 ID : 6306803329240
Option 4 ID : 6306803329239

Section : **Arithmetical and Numerical Ability 2**

Q.1 A town has population of 40,000 in 1988. In 1989, it increased by 15%. In 1990, it decreased by 20%. In 1991, there was an increase of 30%. What is the population at the end of 1991?

Ans 1. 47840

2. 43962

3. 55248

4. 33650

Question ID : 630680849984

Option 1 ID : 6306803329168

Option 2 ID : 6306803329166

Option 3 ID : 6306803329165

Option 4 ID : 6306803329167

Q.2 If 60% of $(2x - 4y) = 20\%$ of $(2x + 4y)$, then what percent of x is y ?

Ans 1. 25%

2. 23.5%

3. 20%

4. 22.5%

Question ID : 630680840453

Option 1 ID : 6306803292496

Option 2 ID : 6306803292495

Option 3 ID : 6306803292493

Option 4 ID : 6306803292494

Q.3 Find the average of the numbers below:

6,12,27,35,40

Ans 1. 27

2. 24

3. 31

4. 12

Question ID : 630680850021

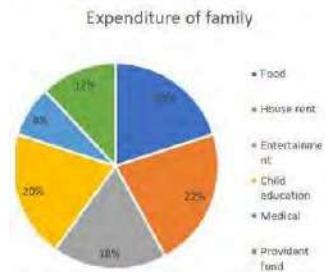
Option 1 ID : 6306803329315

Option 2 ID : 6306803329314

Option 3 ID : 6306803329316

Option 4 ID : 6306803329313

Q.4 The pie chart below represents the breakup of the domestic expenditure of a family (in percent). Study the chart and answer the following question. The total monthly expenditure of the family is ₹ 34,000.



How much is the medical expense per month?

- Ans**
- 1. ₹ 2420
 - 2. ₹ 2560
 - 3. ₹ 2480
 - 4. ₹ 2720

Question ID : 630680850032
 Option 1 ID : 6306803329360
 Option 2 ID : 6306803329358
 Option 3 ID : 6306803329359
 Option 4 ID : 6306803329357

Q.5 If the surface area of a sphere is $49\pi\text{ cm}^2$, then the volume of the sphere is (correct to two decimal places)

- Ans**
- 1. $59.5\pi\text{ cm}^3$
 - 2. $48.15\pi\text{ cm}^3$
 - 3. $62\pi\text{ cm}^3$
 - 4. $57.17\pi\text{ cm}^3$

Question ID : 630680840426
 Option 1 ID : 6306803292385
 Option 2 ID : 6306803292388
 Option 3 ID : 6306803292386
 Option 4 ID : 6306803292387

Q.6 On what sum of money will the difference between the simple interest and compound interest (interest compounded annually) for 2 years at 6% per annum be ₹ 36?

- Ans**
- 1. ₹ 100000
 - 2. ₹ 100
 - 3. ₹ 1000
 - 4. ₹ 10000

Question ID : 630680850026
 Option 1 ID : 6306803329336
 Option 2 ID : 6306803329333
 Option 3 ID : 6306803329334
 Option 4 ID : 6306803329335

Q.7 Amita went to a shop and bought a dining table. She got a 32% discount on it. Had she gotten 37% discount she would have saved ₹ 1500 more. How much did she pay for the dining table?

- Ans
- 1. ₹ 28000
 - 2. ₹ 30000
 - 3. ₹ 32500
 - 4. ₹ 20400

Question ID : 630680850048
Option 1 ID : 6306803329423
Option 2 ID : 6306803329424
Option 3 ID : 6306803329422
Option 4 ID : 6306803329421

Q.8 Running at a speed of 90 km per hour, a train passed through a 3 km long tunnel in 3 minutes, what is the length of the train?

- Ans
- 1. 1200 m
 - 2. 1000 m
 - 3. 800 m
 - 4. 1500 m

Question ID : 630680850000
Option 1 ID : 6306803329230
Option 2 ID : 6306803329229
Option 3 ID : 6306803329231
Option 4 ID : 6306803329232

Q.9 The ratio between the speeds of two trains is 7 : 8. If the second train runs 352 km in 4 hours, then the speed of the first train is:

- Ans
- 1. 60 km/hr.
 - 2. 77 km/hr.
 - 3. 63 km/hr.
 - 4. 72 km/hr.

Question ID : 630680849994
Option 1 ID : 6306803329205
Option 2 ID : 6306803329207
Option 3 ID : 6306803329206
Option 4 ID : 6306803329208

Q.10 The area of a rectangle is four times of the area of a square. The length of the rectangle is 84 cm and the breadth of the rectangle is 3 times that of the side of the square. What is the side of the square?

- Ans
- 1. 52 cm
 - 2. 65 cm
 - 3. 63 cm
 - 4. 48 cm

Question ID : 630680840477
Option 1 ID : 6306803292591
Option 2 ID : 6306803292592
Option 3 ID : 6306803292590
Option 4 ID : 6306803292589

Q.11 How much time will a 550 m long train take to cross a boy walking at the speed of 4.2 km/hr in the direction of moving train, if the speed of the train is 70 kmph?

- Ans
- 1. 26 seconds
 - 2. 18.5 seconds
 - 3. 20 seconds
 - 4. 30.1 seconds

Question ID : 630680850060
Option 1 ID : 6306803329472
Option 2 ID : 6306803329469
Option 3 ID : 6306803329471
Option 4 ID : 6306803329470

Q.12 Simplify: $7\sqrt{5} + 5\sqrt{2} + 2\sqrt{2} - 3\sqrt{5}$

- Ans
- 1. $7\sqrt{5} + 4\sqrt{2}$
 - 2. $21 + 7\sqrt{2}$
 - 3. $4\sqrt{5} + 7\sqrt{2}$
 - 4. $4\sqrt{2} + 8\sqrt{5}$

Question ID : 630680840396
Option 1 ID : 6306803292265
Option 2 ID : 6306803292267
Option 3 ID : 6306803292266
Option 4 ID : 6306803292268

Q.13 In a mixture of 63 liters, the ratio of milk and water is 5 : 2. If this ratio is to be 1 : 2, then the quantity of water to be further added is:

- Ans
- 1. 90 liters
 - 2. 66 liters
 - 3. 77 liters
 - 4. 72 liters

Question ID : 630680850051
Option 1 ID : 6306803329433
Option 2 ID : 6306803329435
Option 3 ID : 6306803329434
Option 4 ID : 6306803329436

Q.14 A sum of ₹ 2000 gives a simple interest of ₹ 315 in 2 years and 3 months. The rate of interest per annum is:

- Ans 1. 7.5%
2. 7%
3. 5.25%
4. 4.5%

Question ID : 630680840437
Option 1 ID : 6306803292432
Option 2 ID : 6306803292431
Option 3 ID : 6306803292430
Option 4 ID : 6306803292429

Q.15 Sameer bought an AC for ₹ 12250 and paid ₹ 250 for transportation. He sold it for ₹12850. Find his profit percent.

- Ans 1. 3.5%
2. 2.8%
3. 4.6%
4. 5.5%

Question ID : 630680850045
Option 1 ID : 6306803329409
Option 2 ID : 6306803329410
Option 3 ID : 6306803329411
Option 4 ID : 6306803329412

Q.16 Priyanka is thrice as efficient as Anusha and takes 56 days less than Anusha to complete the job. Find the time in which they can finish the job together.

- Ans 1. 21 days
2. 15 days
3. 20 days
4. 18 days

Question ID : 630680849996
Option 1 ID : 6306803329214
Option 2 ID : 6306803329216
Option 3 ID : 6306803329213
Option 4 ID : 6306803329215

Q.17 In an examination, 120 questions were asked. As there was negative marking, Reeta decided not to attempt 10 questions. Each question carries 2 marks. 80% of her answers were correct. For a wrong answer 1 mark is deducted. How many marks did Reeta obtain in the examination?

- Ans 1. 114
2. 154
3. 96
4. 130

Question ID : 630680840401
Option 1 ID : 6306803292286
Option 2 ID : 6306803292288
Option 3 ID : 6306803292287
Option 4 ID : 6306803292285

Q.18 Study the following information and answer the question. The below table shows the investment (in ₹) of Amrita and Sneha in three different insurance schemes .

Scheme	Amount invested by Sneha	Amount invested by Amrita
LIC	32500	20000
NPS	28000	14500
ELSS	25000	15500

Find the average of the total investment of Sneha in NPS, Amrita in NPS, and Sneha in ELSS together.

- Ans**
- 1. ₹ 22500
 - 2. ₹ 25500
 - 3. ₹ 24500
 - 4. ₹ 22000

Question ID : 630680850029
 Option 1 ID : 6306803329346
 Option 2 ID : 6306803329348
 Option 3 ID : 6306803329347
 Option 4 ID : 6306803329345

Q.19 If the difference between six times and three times of a number is equal to 39, what is the number?

- Ans**
- 1. 11
 - 2. 6
 - 3. 9
 - 4. 13

Question ID : 630680840446
 Option 1 ID : 6306803292467
 Option 2 ID : 6306803292465
 Option 3 ID : 6306803292466
 Option 4 ID : 6306803292468

Q.20 A rectangular sheet of paper having length 22 cm and breadth 80 cm is rolled along its length to form a cylinder. Find the volume of the cylinder so formed. (Use $\pi = \frac{22}{7}$)

- Ans**
- 1. 3340 cm³
 - 2. 3245 cm³
 - 3. 2890 cm³
 - 4. 3080 cm³

Question ID : 630680850007
 Option 1 ID : 6306803329260
 Option 2 ID : 6306803329259
 Option 3 ID : 6306803329257
 Option 4 ID : 6306803329258

Section : Test of English Language and Comprehension 1

Q.1 Select the correct preposition from the below options to complete the below sentence.

The case was put ___ the judge and the judge decided it within a year.

- Ans 1. before
 2. at
 3. from
 4. of

Question ID : 630680847705
Option 1 ID : 6306803320392
Option 2 ID : 6306803320393
Option 3 ID : 6306803320390
Option 4 ID : 6306803320391

Q.2 Choose the most logical order of the sentences from among the four given choices to construct a coherent paragraph.

Raising awareness is the first step towards combatting plastic pollution.

- A) By promoting the reduction of single-use plastics and encouraging the use of reusable alternatives, we can significantly minimize plastic consumption.
B) Educational initiatives and advocacy campaigns can inform individuals about the consequences of plastic waste and inspire them to make conscious choices.
C) It highlights the role of advocacy groups, NGOs, and educational institutions in spreading awareness, organizing campaigns, and inspiring behavioral change.
D) By fostering a collective understanding of the problem, we can encourage widespread action and support for sustainable solutions.

- Ans 1. BACD
 2. CBDA
 3. ABCD
 4. DCBA

Question ID : 630680837923
Option 1 ID : 6306803282392
Option 2 ID : 6306803282394
Option 3 ID : 6306803282391
Option 4 ID : 6306803282393

Q.3 Select the appropriate article from the below options to complete the sentence. Mark "No article" if there is no requirement of article in the given sentence.

I was walking past Benny's Bakery when I decided to go into _____ bakery to get some bread.

- Ans 1. an
 2. No article
 3. the
 4. a

Question ID : 630680837907
Option 1 ID : 6306803282330
Option 2 ID : 6306803282328
Option 3 ID : 6306803282329
Option 4 ID : 6306803282327

Q.4 Select the most appropriate meaning of the proverb below from the given options.

“Don’t put all your eggs in one basket”

- Ans
- 1. Make the best of a moment since it won't last forever
 - 2. The written word is more effective than violence as a means of social or political change
 - 3. One should not concentrate all efforts and resources in one area as one could lose everything.
 - 4. Explaining something is easier through a picture than by words

Question ID : 630680838101
Option 1 ID : 6306803283088
Option 2 ID : 6306803283090
Option 3 ID : 6306803283087
Option 4 ID : 6306803283089

Q.5 A statement has been given with highlighted text. You are required to replace the text with correct idiom from the given options.

The discussion kept (going on talking about the same things without achieving anything).

- Ans
- 1. adding fuel to the fire
 - 2. breaking ground
 - 3. going around in circles
 - 4. going back to the drawing board

Question ID : 630680847792
Option 1 ID : 6306803320731
Option 2 ID : 6306803320730
Option 3 ID : 6306803320732
Option 4 ID : 6306803320733

Q.6 Select the most appropriate SYNONYM of the word highlighted/ given in brackets in the below sentence.

Across the world, over half of young people worry that, as a result of climate change, humanity is (doomed).

- Ans
- 1. ignored
 - 2. ruined
 - 3. released
 - 4. pardoned

Question ID : 630680847801
Option 1 ID : 6306803320768
Option 2 ID : 6306803320767
Option 3 ID : 6306803320769
Option 4 ID : 6306803320766

Q.7 Choose the most appropriate one-word substitution for the below words.

“The study of ancient writings and scriptures”

- Ans 1. Paleography
 2. Genealogy
 3. Chronology
 4. Anthropology

Question ID : 630680847723
Option 1 ID : 6306803320465
Option 2 ID : 6306803320464
Option 3 ID : 6306803320463
Option 4 ID : 6306803320462

Q.8 Select the correct preposition from the below options to complete the below sentence.

The medicine had a calming effect ____ the patient.

- Ans 1. by
 2. at
 3. on
 4. with

Question ID : 630680837804
Option 1 ID : 6306803281930
Option 2 ID : 6306803281928
Option 3 ID : 6306803281929
Option 4 ID : 6306803281927

Q.9 Parts of the following sentence have been given as options that contain an error in spelling. Select from the below options that identify the misspelt word.

Travelling abroad is an activity that anyone can particepate in, often during school holidays, weekends, or time off from work.

- Ans 1. often
 2. activity
 3. Travelling
 4. particepate

Question ID : 630680838112
Option 1 ID : 6306803283134
Option 2 ID : 6306803283132
Option 3 ID : 6306803283131
Option 4 ID : 6306803283133

Q.10 Select the most appropriate form of verb from the given options to replace the underlined and bracketed word in order to correct the below sentence.

We (enjoy) the party last night.

- Ans 1. enjoyed
 2. been enjoying
 3. enjoying
 4. enjoys

Question ID : 630680848921
Option 1 ID : 6306803325224
Option 2 ID : 6306803325225
Option 3 ID : 6306803325223
Option 4 ID : 6306803325222

Q.11 Select the appropriate article from the below options to complete the sentence. Mark "No article" if there is no requirement of article in the given sentence.

Will you go to __ hospital to see your friend?

- Ans 1. a
 2. an
 3. No article
 4. the

Question ID : 630680847767
Option 1 ID : 6306803320634
Option 2 ID : 6306803320637
Option 3 ID : 6306803320636
Option 4 ID : 6306803320635

Q.12 Select the most appropriate SYNONYM of the given word below.

Encourage

- Ans 1. Motivate
 2. Deter
 3. Restrain
 4. Discourage

Question ID : 630680847737
Option 1 ID : 6306803320516
Option 2 ID : 6306803320514
Option 3 ID : 6306803320517
Option 4 ID : 6306803320515

Q.13 Select the correct preposition from the below options to complete the below sentence.

We found the perfect venue ___ the wedding.

- Ans 1. for
 2. off
 3. in
 4. to

Question ID : 630680837807
Option 1 ID : 6306803281940
Option 2 ID : 6306803281942
Option 3 ID : 6306803281939
Option 4 ID : 6306803281941

Q.14 Select the most appropriate SYNONYM of the word highlighted/ given in brackets in the below sentence.

To check the insurgence of anti-social elements into the country, several (vigilance) posts were set up along the border.

- Ans 1. Distraction
 2. Incomplete
 3. Carelessness
 4. Alertness

Question ID : 630680837837
Option 1 ID : 6306803282055
Option 2 ID : 6306803282056
Option 3 ID : 6306803282058
Option 4 ID : 6306803282057

Q.15 Select the most appropriate SYNONYM of the given word below.

Contempt

- Ans 1. Compliment
 2. Disrespect
 3. Praise
 4. Honour

Question ID : 630680847736
Option 1 ID : 6306803320513
Option 2 ID : 6306803320512
Option 3 ID : 6306803320511
Option 4 ID : 6306803320510

Q.16 Select the most appropriate SYNONYM of the given word below.

Vividness

- Ans 1. Clarity
 2. Mildness
 3. Weakness
 4. Ambiguity

Question ID : 630680838018
Option 1 ID : 6306803282765
Option 2 ID : 6306803282766
Option 3 ID : 6306803282763
Option 4 ID : 6306803282764

Q.17 A statement has been given with highlighted text. You are required to replace the text with correct idiom from the given options.

Ashok kept quiet at the board meeting, who knew he had a/an (advantage that was currently being withheld for future purposes) the whole time!

- Ans 1. (a) black sheep
 2. (an) ace hidden up his sleeve
 3. missed the boat
 4. light at the end of the tunnel

Question ID : 630680848934
Option 1 ID : 6306803325273
Option 2 ID : 6306803325272
Option 3 ID : 6306803325270
Option 4 ID : 6306803325271

Q.18 Select the most appropriate form of verb from the given options to replace the underlined and bracketed word in order to correct the below sentence.

I think I have (meet) him once before.

- Ans 1. was met
 2. meeting
 3. met
 4. been meeting

Question ID : 630680848917
Option 1 ID : 6306803325207
Option 2 ID : 6306803325206
Option 3 ID : 6306803325208
Option 4 ID : 6306803325209

Q.19 Select the most appropriate form of verb from the given options to replace the underlined and bracketed word in order to correct the below sentence.

I (do) my homework last night.

- Ans 1. did
 2. done
 3. does
 4. doing

Question ID : 630680838081
Option 1 ID : 6306803283014
Option 2 ID : 6306803283012
Option 3 ID : 6306803283011
Option 4 ID : 6306803283013

Q.20 Choose the most appropriate one-word substitution for the below word.

“One who talks continuously”

- Ans 1. Reserved
 2. Loquacious
 3. Silent
 4. Counsellor

Question ID : 630680847781
Option 1 ID : 6306803320692
Option 2 ID : 6306803320693
Option 3 ID : 6306803320691
Option 4 ID : 6306803320690

Section : Test of English Language and Comprehension 2

Q.1 Select the most appropriate form of verb from the given options to replace the underlined and bracketed word in order to correct the below sentence.

I (wait) for an hour and then I went home.

- Ans 1. waits
 2. was waits
 3. waited
 4. waiting

Question ID : 630680837917
Option 1 ID : 6306803282368
Option 2 ID : 6306803282367
Option 3 ID : 6306803282370
Option 4 ID : 6306803282369

Q.2 Select the appropriate article from the below options to complete the sentence. Mark "No article" if there is no requirement of article in the given sentence.

He is __ best student of our class.

- Ans 1. No article
 2. the
 3. an
 4. a

Question ID : 630680847703
Option 1 ID : 6306803320383
Option 2 ID : 6306803320384
Option 3 ID : 6306803320385
Option 4 ID : 6306803320382

Q.3 Select the most appropriate SYNONYM of the given word below.

Tenacity

- Ans 1. Determination
 2. Timidity
 3. Hesitation
 4. Indecisiveness

Question ID : 630680847798
Option 1 ID : 6306803320756
Option 2 ID : 6306803320757
Option 3 ID : 6306803320754
Option 4 ID : 6306803320755

Q.4 Choose the most appropriate one-word substitution for the below word.

"Introductory part or lines to a discourse"

- Ans 1. Epilogue
 2. Aftermath
 3. Finale
 4. Prologue

Question ID : 630680837926
Option 1 ID : 6306803282404
Option 2 ID : 6306803282403
Option 3 ID : 6306803282405
Option 4 ID : 6306803282406

Q.5 Select the most appropriate form of verb from the given options to replace the underlined and bracketed word in order to correct the below sentence.

I (works) for an English company and have to travel a lot to other countries.

- Ans
- 1. worked
 - 2. be worked
 - 3. working
 - 4. work

Question ID : 630680837997
Option 1 ID : 6306803282683
Option 2 ID : 6306803282686
Option 3 ID : 6306803282684
Option 4 ID : 6306803282685

Q.6 Select the correct preposition from the below options to complete the below sentence.

He is not interested __ playing or skiing.

- Ans
- 1. in
 - 2. by
 - 3. for
 - 4. of

Question ID : 630680847707
Option 1 ID : 6306803320399
Option 2 ID : 6306803320400
Option 3 ID : 6306803320398
Option 4 ID : 6306803320401

Q.7 Select the most appropriate meaning of the proverb below from the given options.

“A stitch in time saves nine”

- Ans
- 1. Your actions determine your results
 - 2. It is better to deal with problems immediately than letting them become bigger
 - 3. Getting something late is better than never getting it
 - 4. Family relationships are always stronger than other relationships

Question ID : 630680838016
Option 1 ID : 6306803282755
Option 2 ID : 6306803282756
Option 3 ID : 6306803282758
Option 4 ID : 6306803282757

Q.8 Parts of the following sentence have been given as options that contain an error in spelling. Select from the below options that identify the misspelt word. If you don't find any error, mark "No error" as your answer.

India has sufficient water potentialy enough for its population, but severe disregard and lack of monitoring of water development projects, several regions in the country experience water deficiency from time to time.

- Ans 1. No error
 2. potentialy
 3. sufficient
 4. deficiency

Question ID : 630680837843
Option 1 ID : 6306803282080
Option 2 ID : 6306803282081
Option 3 ID : 6306803282082
Option 4 ID : 6306803282079

Q.9 Choose the most logical order of the sentences from among the four given choices to construct a coherent paragraph.

In recent times, we are often shocked by the occurrence of natural disasters that strike almost every country and have taken the lives of thousands of innocent people.

A) The reckless pursuit of building development without considering the long-term effects on the environment should be a concern of the world's society today.

B) The environment is a treasure created over hundreds or even thousands of years but destroyed by humans in just a few years.

C) Many question the cause of these natural disasters and scientifically it has been proven that it is the result of modernization carried out by human beings.

D) Therefore, each of us must reflect and start finding ways to preserve and conserve the environment for the benefit of environmental interests.

- Ans 1. BCDA
 2. CABD
 3. ABDC
 4. DCBA

Question ID : 630680838000
Option 1 ID : 6306803282695
Option 2 ID : 6306803282696
Option 3 ID : 6306803282698
Option 4 ID : 6306803282697

Q.10 Choose the most appropriate one-word substitution for the below word.

"A paper written in one's own handwriting"

- Ans 1. Catalogue
 2. Manuscript
 3. Transcript
 4. Scroll

Question ID : 630680847782
Option 1 ID : 6306803320695
Option 2 ID : 6306803320696
Option 3 ID : 6306803320697
Option 4 ID : 6306803320694

Comprehension:

Refer to the below passage and answer the questions

Oxygen is a gas that is colorless and odorless and a key element in the composition of several compounds. Almost all organisms need oxygen to survive, but it is only trees and some microbes that can produce oxygen through photosynthesis. Oxygen reaches our body through respiration and is absorbed by cells for proper functioning. And oxygen is also required for creating energy.

Fire will extinguish in the absence of oxygen. Earth's nature provides us oxygen in abundance, and we must keep the resources pollution free so that the air we inhale is not toxic. Water is another crucial element that sustains life and is formed by the amalgamation of two gases, namely hydrogen and oxygen. Water is also an essential component of our environment that is required to sustain life. Water sources on Earth are rivers, streams, rain, ponds/lakes, underground, seas, and oceans. The water forms a part of the ecosystem called the marine or aquatic ecosystem.

Both oxygen and water are essential for survival. Excess of any of these is harmful, like excess of oxygen, cough, muscle turbulence, loss of vision, and can be fatal and excessive consumption of water can harm our kidney. Polluting any of the two resources will result in creating an adverse effect on the environment. We must strive to keep our environment clean so that we can breathe pure air and drink clean water. The conservation of both resources is vital to continue life by maintaining balance in the ecosystem.

SubQuestion No : 11

Q.11 Select the most appropriate **SYNONYM** of the given word below.

Strive

- Ans 1. Unwind
 2. Struggle
 3. Relax
 4. Rest

Question ID : 630680847788

Option 1 ID : 6306803320716

Option 2 ID : 6306803320717

Option 3 ID : 6306803320714

Option 4 ID : 6306803320715

Comprehension:

Refer to the below passage and answer the questions

Oxygen is a gas that is colorless and odorless and a key element in the composition of several compounds. Almost all organisms need oxygen to survive, but it is only trees and some microbes that can produce oxygen through photosynthesis. Oxygen reaches our body through respiration and is absorbed by cells for proper functioning. And oxygen is also required for creating energy.

Fire will extinguish in the absence of oxygen. Earth's nature provides us oxygen in abundance, and we must keep the resources pollution free so that the air we inhale is not toxic. Water is another crucial element that sustains life and is formed by the amalgamation of two gases, namely hydrogen and oxygen. Water is also an essential component of our environment that is required to sustain life. Water sources on Earth are rivers, streams, rain, ponds/lakes, underground, seas, and oceans. The water forms a part of the ecosystem called the marine or aquatic ecosystem.

Both oxygen and water are essential for survival. Excess of any of these is harmful, like excess of oxygen, cough, muscle turbulence, loss of vision, and can be fatal and excessive consumption of water can harm our kidney. Polluting any of the two resources will result in creating an adverse effect on the environment. We must strive to keep our environment clean so that we can breathe pure air and drink clean water. The conservation of both resources is vital to continue life by maintaining balance in the ecosystem.

SubQuestion No : 12

Q.12 Select the most appropriate **ANTONYM** of the given word below.

Abundance

- Ans 1. Plenty
 2. Loads
 3. Handful
 4. Wealth

Question ID : 630680847789

Option 1 ID : 6306803320718

Option 2 ID : 6306803320720

Option 3 ID : 6306803320719

Option 4 ID : 6306803320721

Comprehension:

Refer to the below passage and answer the questions

Oxygen is a gas that is colorless and odorless and a key element in the composition of several compounds. Almost all organisms need oxygen to survive, but it is only trees and some microbes that can produce oxygen through photosynthesis. Oxygen reaches our body through respiration and is absorbed by cells for proper functioning. And oxygen is also required for creating energy.

Fire will extinguish in the absence of oxygen. Earth's nature provides us oxygen in abundance, and we must keep the resources pollution free so that the air we inhale is not toxic. Water is another crucial element that sustains life and is formed by the amalgamation of two gases, namely hydrogen and oxygen. Water is also an essential component of our environment that is required to sustain life. Water sources on Earth are rivers, streams, rain, ponds/lakes, underground, seas, and oceans. The water forms a part of the ecosystem called the marine or aquatic ecosystem.

Both oxygen and water are essential for survival. Excess of any of these is harmful, like excess of oxygen, cough, muscle turbulence, loss of vision, and can be fatal and excessive consumption of water can harm our kidney. Polluting any of the two resources will result in creating an adverse effect on the environment. We must strive to keep our environment clean so that we can breathe pure air and drink clean water. The conservation of both resources is vital to continue life by maintaining balance in the ecosystem.

SubQuestion No : 13

Q.13 Select the most appropriate SYNONYM of the given word below.

Turbulence

- Ans 1. Easy Ease
 2. Peace
 3. Disturbance
 4. Quietness

Question ID : 630680847787
Option 1 ID : 6306803320711
Option 2 ID : 6306803320713
Option 3 ID : 6306803320712
Option 4 ID : 6306803320710

Comprehension:

Refer to the below passage and answer the questions

Oxygen is a gas that is colorless and odorless and a key element in the composition of several compounds. Almost all organisms need oxygen to survive, but it is only trees and some microbes that can produce oxygen through photosynthesis. Oxygen reaches our body through respiration and is absorbed by cells for proper functioning. And oxygen is also required for creating energy.

Fire will extinguish in the absence of oxygen. Earth's nature provides us oxygen in abundance, and we must keep the resources pollution free so that the air we inhale is not toxic. Water is another crucial element that sustains life and is formed by the amalgamation of two gases, namely hydrogen and oxygen. Water is also an essential component of our environment that is required to sustain life. Water sources on Earth are rivers, streams, rain, ponds/lakes, underground, seas, and oceans. The water forms a part of the ecosystem called the marine or aquatic ecosystem.

Both oxygen and water are essential for survival. Excess of any of these is harmful, like excess of oxygen, cough, muscle turbulence, loss of vision, and can be fatal and excessive consumption of water can harm our kidney. Polluting any of the two resources will result in creating an adverse effect on the environment. We must strive to keep our environment clean so that we can breathe pure air and drink clean water. The conservation of both resources is vital to continue life by maintaining balance in the ecosystem.

SubQuestion No : 14

Q.14 Identify the suitable title for the passage

- Ans 1. Parts of Ecosystem
2. Value of oxygen and water in life
3. Balancing the ecosystem
4. Conservation of resources

Question ID : 630680847786
Option 1 ID : 6306803320708
Option 2 ID : 6306803320706
Option 3 ID : 6306803320707
Option 4 ID : 6306803320709

Comprehension:

Refer to the below passage and answer the questions

Oxygen is a gas that is colorless and odorless and a key element in the composition of several compounds. Almost all organisms need oxygen to survive, but it is only trees and some microbes that can produce oxygen through photosynthesis. Oxygen reaches our body through respiration and is absorbed by cells for proper functioning. And oxygen is also required for creating energy.

Fire will extinguish in the absence of oxygen. Earth's nature provides us oxygen in abundance, and we must keep the resources pollution free so that the air we inhale is not toxic. Water is another crucial element that sustains life and is formed by the amalgamation of two gases, namely hydrogen and oxygen. Water is also an essential component of our environment that is required to sustain life. Water sources on Earth are rivers, streams, rain, ponds/lakes, underground, seas, and oceans. The water forms a part of the ecosystem called the marine or aquatic ecosystem.

Both oxygen and water are essential for survival. Excess of any of these is harmful, like excess of oxygen, cough, muscle turbulence, loss of vision, and can be fatal and excessive consumption of water can harm our kidney. Polluting any of the two resources will result in creating an adverse effect on the environment. We must strive to keep our environment clean so that we can breathe pure air and drink clean water. The conservation of both resources is vital to continue life by maintaining balance in the ecosystem.

SubQuestion No : 15

Q.15 Select the most appropriate ANTONYM of the given word below.

Extinguish

Ans  1. Inflame

 2. Destroy

 3. Shatter

 4. Choke

Question ID : 630680847790

Option 1 ID : 6306803320723

Option 2 ID : 6306803320724

Option 3 ID : 6306803320725

Option 4 ID : 6306803320722

Comprehension:

Refer to the below passage and answer the questions

Tobacco is a deadly menace, responsible for millions of deaths annually. It is highly addictive and contains harmful substances that can lead to a variety of diseases, including cancer, heart disease, and stroke. The tobacco industry invests heavily in advertising to perpetuate addiction and counter efforts towards cessation.

To combat smoking, we need to prioritize the well-being of our youth and equip them with the necessary knowledge and support to resist the allure of smoking. We also need to raise awareness among the broader community about the devastating consequences of tobacco use. Efforts to combat smoking must extend beyond individual actions and include robust policies and regulations. Strict laws limiting tobacco advertising, particularly targeting vulnerable populations like young people, should be enforced. Implementing smoke-free policies in public spaces, workplaces, and public transportation can protect non-smokers from the harmful effects of secondhand smoke.

Creating a united front against tobacco requires collaboration between government bodies, healthcare organizations, non-profit groups, and individuals. By pooling resources and expertise, impactful strategies can be implemented to reduce smoking rates and prevent unnecessary deaths. In the pursuit of a tobacco-free future, ongoing research and development play a vital role. Scientists and medical professionals should continue investigating the long-term effects of smoking and developing innovative cessation methods. Accessible and affordable treatments, including counselling services, nicotine replacement therapies, and medications, must be made available to those seeking to quit smoking. The journey towards a tobacco-free society demands perseverance, determination, and a collective effort. Public health must take precedence over the interests of the tobacco industry. By empowering individuals, implementing strong policies, and fostering a culture of health, we can pave the way for a brighter, smoke-free future for generations to come.

SubQuestion No : 16

Q.16 Select the most appropriate ANTONYM of the given word below.

Perseverance

- Ans 1. Persistence
 2. Doubt
 3. Confidence
 4. Determination

Question ID : 630680837827
Option 1 ID : 6306803282017
Option 2 ID : 6306803282016
Option 3 ID : 6306803282018
Option 4 ID : 6306803282015

Comprehension:

Refer to the below passage and answer the questions

Tobacco is a deadly menace, responsible for millions of deaths annually. It is highly addictive and contains harmful substances that can lead to a variety of diseases, including cancer, heart disease, and stroke. The tobacco industry invests heavily in advertising to perpetuate addiction and counter efforts towards cessation.

To combat smoking, we need to prioritize the well-being of our youth and equip them with the necessary knowledge and support to resist the allure of smoking. We also need to raise awareness among the broader community about the devastating consequences of tobacco use. Efforts to combat smoking must extend beyond individual actions and include robust policies and regulations. Strict laws limiting tobacco advertising, particularly targeting vulnerable populations like young people, should be enforced. Implementing smoke-free policies in public spaces, workplaces, and public transportation can protect non-smokers from the harmful effects of secondhand smoke.

Creating a united front against tobacco requires collaboration between government bodies, healthcare organizations, non-profit groups, and individuals. By pooling resources and expertise, impactful strategies can be implemented to reduce smoking rates and prevent unnecessary deaths. In the pursuit of a tobacco-free future, ongoing research and development play a vital role. Scientists and medical professionals should continue investigating the long-term effects of smoking and developing innovative cessation methods. Accessible and affordable treatments, including counselling services, nicotine replacement therapies, and medications, must be made available to those seeking to quit smoking. The journey towards a tobacco-free society demands perseverance, determination, and a collective effort. Public health must take precedence over the interests of the tobacco industry. By empowering individuals, implementing strong policies, and fostering a culture of health, we can pave the way for a brighter, smoke-free future for generations to come.

SubQuestion No : 17

Q.17 Select the most appropriate ANTONYM of the given word below.

Perpetuate

- Ans 1. Honour
 2. Destroy
 3. Protect
 4. Preserve

Question ID : 630680837826
Option 1 ID : 6306803282011
Option 2 ID : 6306803282012
Option 3 ID : 6306803282014
Option 4 ID : 6306803282013

Comprehension:

Refer to the below passage and answer the questions

Tobacco is a deadly menace, responsible for millions of deaths annually. It is highly addictive and contains harmful substances that can lead to a variety of diseases, including cancer, heart disease, and stroke. The tobacco industry invests heavily in advertising to perpetuate addiction and counter efforts towards cessation.

To combat smoking, we need to prioritize the well-being of our youth and equip them with the necessary knowledge and support to resist the allure of smoking. We also need to raise awareness among the broader community about the devastating consequences of tobacco use. Efforts to combat smoking must extend beyond individual actions and include robust policies and regulations. Strict laws limiting tobacco advertising, particularly targeting vulnerable populations like young people, should be enforced. Implementing smoke-free policies in public spaces, workplaces, and public transportation can protect non-smokers from the harmful effects of secondhand smoke.

Creating a united front against tobacco requires collaboration between government bodies, healthcare organizations, non-profit groups, and individuals. By pooling resources and expertise, impactful strategies can be implemented to reduce smoking rates and prevent unnecessary deaths. In the pursuit of a tobacco-free future, ongoing research and development play a vital role. Scientists and medical professionals should continue investigating the long-term effects of smoking and developing innovative cessation methods. Accessible and affordable treatments, including counselling services, nicotine replacement therapies, and medications, must be made available to those seeking to quit smoking. The journey towards a tobacco-free society demands perseverance, determination, and a collective effort. Public health must take precedence over the interests of the tobacco industry. By empowering individuals, implementing strong policies, and fostering a culture of health, we can pave the way for a brighter, smoke-free future for generations to come.

SubQuestion No : 18

Q.18 Select the most appropriate SYNONYM of the given word below.

Vulnerable

- Ans 1. Protected
 2. Prone
 3. Guarded
 4. Sheltered

Join Telegram Group "HaryanaJobs.in"

Question ID : 630680837824
Option 1 ID : 6306803282004
Option 2 ID : 6306803282005
Option 3 ID : 6306803282003
Option 4 ID : 6306803282006

Comprehension:

Refer to the below passage and answer the questions

Tobacco is a deadly menace, responsible for millions of deaths annually. It is highly addictive and contains harmful substances that can lead to a variety of diseases, including cancer, heart disease, and stroke. The tobacco industry invests heavily in advertising to perpetuate addiction and counter efforts towards cessation.

To combat smoking, we need to prioritize the well-being of our youth and equip them with the necessary knowledge and support to resist the allure of smoking. We also need to raise awareness among the broader community about the devastating consequences of tobacco use. Efforts to combat smoking must extend beyond individual actions and include robust policies and regulations. Strict laws limiting tobacco advertising, particularly targeting vulnerable populations like young people, should be enforced. Implementing smoke-free policies in public spaces, workplaces, and public transportation can protect non-smokers from the harmful effects of secondhand smoke.

Creating a united front against tobacco requires collaboration between government bodies, healthcare organizations, non-profit groups, and individuals. By pooling resources and expertise, impactful strategies can be implemented to reduce smoking rates and prevent unnecessary deaths. In the pursuit of a tobacco-free future, ongoing research and development play a vital role. Scientists and medical professionals should continue investigating the long-term effects of smoking and developing innovative cessation methods. Accessible and affordable treatments, including counselling services, nicotine replacement therapies, and medications, must be made available to those seeking to quit smoking. The journey towards a tobacco-free society demands perseverance, determination, and a collective effort. Public health must take precedence over the interests of the tobacco industry. By empowering individuals, implementing strong policies, and fostering a culture of health, we can pave the way for a brighter, smoke-free future for generations to come.

SubQuestion No : 19

Q.19 Identify the suitable title for the passage.

- Ans 1. Tobacco- A public Health crisis
2. Efforts to accelerate smoking
3. Interests of the tobacco industry
4. Public health- demanding industry

Question ID : 630680837823
Option 1 ID : 6306803281999
Option 2 ID : 6306803282000
Option 3 ID : 6306803282002
Option 4 ID : 6306803282001

Comprehension:

Refer to the below passage and answer the questions

Tobacco is a deadly menace, responsible for millions of deaths annually. It is highly addictive and contains harmful substances that can lead to a variety of diseases, including cancer, heart disease, and stroke. The tobacco industry invests heavily in advertising to perpetuate addiction and counter efforts towards cessation.

To combat smoking, we need to prioritize the well-being of our youth and equip them with the necessary knowledge and support to resist the allure of smoking. We also need to raise awareness among the broader community about the devastating consequences of tobacco use. Efforts to combat smoking must extend beyond individual actions and include robust policies and regulations. Strict laws limiting tobacco advertising, particularly targeting vulnerable populations like young people, should be enforced. Implementing smoke-free policies in public spaces, workplaces, and public transportation can protect non-smokers from the harmful effects of secondhand smoke.

Creating a united front against tobacco requires collaboration between government bodies, healthcare organizations, non-profit groups, and individuals. By pooling resources and expertise, impactful strategies can be implemented to reduce smoking rates and prevent unnecessary deaths. In the pursuit of a tobacco-free future, ongoing research and development play a vital role. Scientists and medical professionals should continue investigating the long-term effects of smoking and developing innovative cessation methods. Accessible and affordable treatments, including counselling services, nicotine replacement therapies, and medications, must be made available to those seeking to quit smoking. The journey towards a tobacco-free society demands perseverance, determination, and a collective effort. Public health must take precedence over the interests of the tobacco industry. By empowering individuals, implementing strong policies, and fostering a culture of health, we can pave the way for a brighter, smoke-free future for generations to come.

SubQuestion No : 20

Q.20 Select the most appropriate **SYNONYM** of the given word below.

Vital

- Ans 1. Unimportant
 2. Small
 3. Minor
 4. Crucial

Question ID : 630680837825
 Option 1 ID : 6306803282008
 Option 2 ID : 6306803282009
 Option 3 ID : 6306803282007
 Option 4 ID : 6306803282010

Section : Test of Hindi Language and Comprehension 1

Q.1 आपकी धीरता का या आपके धैर्य का मैं _____ हूँ ।

इस वाक्य में रिक्त स्थान की पूर्ति शुद्ध शब्द द्वारा कीजिये

- Ans 1. कायला
 2. कयाल
 3. कायल
 4. कोयल

Question ID : 630680849950
 Option 1 ID : 6306803329032
 Option 2 ID : 6306803329030
 Option 3 ID : 6306803329029
 Option 4 ID : 6306803329031

Q.2 चौगुना , तीनगुना, सैकड़ों इत्यादि विशेषण के कौन से भेद है ?

- Ans 1. संबंधवाचक विशेषण
 2. गुणवाचक विशेषण
 3. परिमाणवाचक विशेषण
 4. संख्यावाचक विशेषण

Question ID : 630680849940
Option 1 ID : 6306803328992
Option 2 ID : 6306803328989
Option 3 ID : 6306803328991
Option 4 ID : 6306803328990

Q.3 दिए गए विकल्पों में से रिक्त स्थानों की पूर्ति कीजिये ।

स्वतंत्रता एक _____ तक ही ठीक है ।

- Ans 1. आकार
 2. शीमा
 3. सीमा
 4. जाती

Question ID : 630680849924
Option 1 ID : 6306803328925
Option 2 ID : 6306803328926
Option 3 ID : 6306803328927
Option 4 ID : 6306803328928

Q.4 मैं सुबह में _____ करता हूँ ।

इस वाक्य में रिक्त स्थान की पूर्ति शुद्ध शब्द द्वारा कीजिये

- Ans 1. व्ययाम
 2. व्ययम
 3. व्याम
 4. व्यायाम

Question ID : 630680849948
Option 1 ID : 6306803329024
Option 2 ID : 6306803329023
Option 3 ID : 6306803329022
Option 4 ID : 6306803329021

Q.5 'लोहा नहीं मानना' मुहावरे का उचित अर्थ बतायें ।

- Ans 1. लड़ाई में मारा जाना
 2. पराजय स्वीकार नहीं करना
 3. कठिन काम करना
 4. प्रभाव ज़माना

Question ID : 630680840631
Option 1 ID : 6306803293192
Option 2 ID : 6306803293190
Option 3 ID : 6306803293191
Option 4 ID : 6306803293189

Q.6 जिन शब्दों से काम का करना या होना पाया जाये, उन्हें कहते हैं ।

- Ans 1. क्रिया-विशेषण कहते हैं ।
 2. क्रिया कहते हैं ।
 3. अपूर्ण क्रिया कहते हैं ।
 4. सर्वनाम कहते हैं ।

Question ID : 630680840562
Option 1 ID : 6306803292923
Option 2 ID : 6306803292922
Option 3 ID : 6306803292921
Option 4 ID : 6306803292924

Q.7 “शरत भरत को पीटता है ।” कौन-सा कारक है ?

- Ans 1. अपादानकारक
 2. करणकारक
 3. कर्मकारक
 4. कर्ता कारक

Question ID : 630680840625
Option 1 ID : 6306803293168
Option 2 ID : 6306803293166
Option 3 ID : 6306803293167
Option 4 ID : 6306803293165

Q.8 दिए गए विकल्पों में से रिक्त स्थानों की पूर्ति कीजिये ।

मेरे नौजवान दोस्तों _____ बनो ।

- Ans 1. गरीब
 2. बलवान
 3. बुझदिल
 4. कायर

Question ID : 630680849925
Option 1 ID : 6306803328931
Option 2 ID : 6306803328932
Option 3 ID : 6306803328930
Option 4 ID : 6306803328929

Q.9 ‘आधा तीतर आधा बटेर’ लोकोक्ति का उचित अर्थ बतायें ।

- Ans 1. मूर्ख धनी
 2. सभी प्रकार से लाभ
 3. पूरी तरह से किसी एक तरफ नहीं
 4. एक काम से दूसरा काम हो जाना

Question ID : 630680840634
Option 1 ID : 6306803293201
Option 2 ID : 6306803293202
Option 3 ID : 6306803293204
Option 4 ID : 6306803293203

Q.10 दिए गए वाक्य क्रम सही नहीं है। उनके सही क्रम के चार विकल्प दिए गए हैं। उनमें से सही विकल्प का चयन करें?

- 1) होता है वही
- 2) अपने कार्य से
- 3) परिश्रम का फल होता है
- 4) मनुष्य को जो संतोष

Ans 1. 2, 4, 1, 3

2. 3, 4, 1, 2

3. 1, 2, 3, 4

4. 4, 1, 3, 2

Question ID : 630680840559

Option 1 ID : 6306803292911

Option 2 ID : 6306803292909

Option 3 ID : 6306803292910

Option 4 ID : 6306803292912

Q.11 'आवाज कसना' मुहावरे का उचित अर्थ बतायें।।

Ans 1. क्रोध करना।

2. मार डालना।

3. ताने मारना।

4. प्रभाव जमाना।

Question ID : 630680849943

Option 1 ID : 6306803329002

Option 2 ID : 6306803329004

Option 3 ID : 6306803329003

Option 4 ID : 6306803329001

Q.12 निम्नलिखित में से "खाना" क्रिया क्या है ?

Ans 1. संयुक्त

2. प्रेरणार्थक

3. अकर्मक

4. सकर्मक

Question ID : 630680849937

Option 1 ID : 6306803328979

Option 2 ID : 6306803328980

Option 3 ID : 6306803328978

Option 4 ID : 6306803328977

Q.13 दिए गए विकल्पों में से रिक्त स्थानों की पूर्ति कीजिये ।

राम ने _____ को मारा ।

- Ans 1. बिभिष्ण
 2. रावण
 3. हनुमान
 4. लक्ष्मण

Question ID : 630680849926
Option 1 ID : 6306803328936
Option 2 ID : 6306803328933
Option 3 ID : 6306803328935
Option 4 ID : 6306803328934

Q.14 'कान में तेल डालना' मुहावरे का उचित अर्थ क्या है?

- Ans 1. गुस्सा होना
 2. जान-बूझकर हानिकारक कार्य करना
 3. कुछ ना सुनना
 4. भाग जाना

Question ID : 630680840569
Option 1 ID : 6306803292949
Option 2 ID : 6306803292950
Option 3 ID : 6306803292951
Option 4 ID : 6306803292952

Q.15 आपके _____ से उसका काम हो गया ।

इस वाक्य में रिक्त स्थान की पूर्ति शुद्ध शब्द द्वारा कीजिये

- Ans 1. सौजन्य
 2. सौजन्य
 3. सौम्याय
 4. सौजन्य:

Question ID : 630680840638
Option 1 ID : 6306803293220
Option 2 ID : 6306803293217
Option 3 ID : 6306803293219
Option 4 ID : 6306803293218

Q.16 "आप भला तो जग भला" लोकोक्ति का उचित अर्थ बतायें ।

- Ans 1. सभी तरह से अच्छा होना
 2. खुद अच्छा तो सभी अच्छे
 3. अधिक लाभ होना
 4. गुणों के विपरीत काम करना

Question ID : 630680840572
Option 1 ID : 6306803292962
Option 2 ID : 6306803292961
Option 3 ID : 6306803292964
Option 4 ID : 6306803292963

Q.17 राम ने मुझे _____ कर दिया ।

इस वाक्य में रिक्त स्थान की पूर्ति शुद्ध शब्द द्वारा कीजिये

- Ans
- 1. बेइज्जत
 - 2. बेईज्जत
 - 3. बेइज्जत
 - 4. बेईज्जत

Question ID : 630680840637
Option 1 ID : 6306803293215
Option 2 ID : 6306803293216
Option 3 ID : 6306803293213
Option 4 ID : 6306803293214

Q.18 दिए गए विकल्पों में से रिक्त स्थानों की पूर्ति कीजिये ।

मैं आपके _____ करने आया हूँ ।

- Ans
- 1. गीत
 - 2. मिलन
 - 3. अभिनय
 - 4. दर्शन

Question ID : 630680840624
Option 1 ID : 6306803293163
Option 2 ID : 6306803293164
Option 3 ID : 6306803293162
Option 4 ID : 6306803293161

Q.19 निम्नलिखित में से सम्प्रदान कारक युक्त वाक्य कौन-सा है ?

- Ans
- 1. मोहन खता है ।
 - 2. सोहन आम खता है ।
 - 3. पेड़ से पत्ते गिरते है ।
 - 4. राम ने श्याम के लिए पुस्तक खरीदी ।

Question ID : 630680849936
Option 1 ID : 6306803328974
Option 2 ID : 6306803328976
Option 3 ID : 6306803328973
Option 4 ID : 6306803328975

Q.20 निम्नलिखित विकल्पों में से रिक्त स्थानों में उपयुक्त होने वाले सार्थक शब्द का चयन करें।

_____ होने के कारण वह प्रतिदिन मंदिर जाता है।

- Ans
- 1. जीव
 - 2. नास्तिक
 - 3. आस्तिक
 - 4. गरीब

Question ID : 630680840549
 Option 1 ID : 6306803292872
 Option 2 ID : 6306803292870
 Option 3 ID : 6306803292869
 Option 4 ID : 6306803292871

Section : Test of Hindi Language and Comprehension 2

Q.1 निम्नलिखित वाक्यों में से शुद्ध वाक्य का चयन करें।

- Ans
- 1. तुमने दही और पापड़ खाया।
 - 2. मेरा आसू गिरा।
 - 3. मुझे पढ़ने नहीं आते।
 - 4. मोहन ने आम खाए।

Question ID : 630680849927
 Option 1 ID : 6306803328938
 Option 2 ID : 6306803328937
 Option 3 ID : 6306803328939
 Option 4 ID : 6306803328940

Q.2 निम्नलिखित में से 'भय' का पर्यायावाची शब्द क्या होगा?

- Ans
- 1. तकदीर
 - 2. त्रास
 - 3. उरग
 - 4. झख

Question ID : 630680849956
 Option 1 ID : 6306803329054
 Option 2 ID : 6306803329053
 Option 3 ID : 6306803329055
 Option 4 ID : 6306803329056

Q.3 किसी भाषा के मूल शब्द को क्या कहते हैं?

- Ans 1. विदेशज
 2. तत्सम
 3. तद्भव
 4. देशज

Question ID : 630680840640
Option 1 ID : 6306803293226
Option 2 ID : 6306803293225
Option 3 ID : 6306803293227
Option 4 ID : 6306803293228

Q.4 निम्नलिखित में से 'बिजली' का पर्यायावाची शब्द क्या होगा?

- Ans 1. चंचला
 2. मनुज
 3. जीमूत
 4. तोय

Question ID : 630680849955
Option 1 ID : 6306803329051
Option 2 ID : 6306803329049
Option 3 ID : 6306803329052
Option 4 ID : 6306803329050

Q.5 निम्नलिखित में से 'प्रभाव' का अनेकार्थक शब्द कौन है?

- Ans 1. शहद
 2. व्यक्ति
 3. असर
 4. अक्षर

Question ID : 630680840581
Option 1 ID : 6306803292999
Option 2 ID : 6306803292998
Option 3 ID : 6306803292997
Option 4 ID : 6306803293000

Q.6 निम्नलिखित में से 'अग्रज' का विलोम शब्द क्या होगा?

- Ans 1. अनुज
 2. विग्रह
 3. बड़ा भाई
 4. विज्ञ

Question ID : 630680849960
Option 1 ID : 6306803329069
Option 2 ID : 6306803329072
Option 3 ID : 6306803329071
Option 4 ID : 6306803329070

Q.7 "चतुर्थ" का तद्भव शब्द चुनें ।

- Ans
- 1. मया
 - 2. पंख
 - 3. पुष्प
 - 4. चौथा

Question ID : 630680849952
 Option 1 ID : 6306803329038
 Option 2 ID : 6306803329040
 Option 3 ID : 6306803329037
 Option 4 ID : 6306803329039

Q.8 निम्नलिखित वाक्यों में से कौन-सा शुद्ध वाक्य है?

- Ans
- 1. बाढ़ से फसल सर्वनाश हो रही है ।
 - 2. मुझसे यह काम संभव नहीं है ।
 - 3. भाई-बहन जा रही है ।
 - 4. मैं आपका दर्शन करने गया हूँ ।

Question ID : 630680840551
 Option 1 ID : 6306803292877
 Option 2 ID : 6306803292878
 Option 3 ID : 6306803292880
 Option 4 ID : 6306803292879

Q.9 निम्नलिखित में से 'अनाथ' का विलोम शब्द क्या होगा?

- Ans
- 1. सनाथ
 - 2. धनी
 - 3. निर्धन
 - 4. वेकार

Question ID : 630680840588
 Option 1 ID : 6306803293028
 Option 2 ID : 6306803293026
 Option 3 ID : 6306803293027
 Option 4 ID : 6306803293025

Q.10 निम्नलिखित में से 'अनंत' का अनेकार्थक शब्द क्या होगा?

- Ans
- 1. सेना
 - 2. आग
 - 3. आत्मा
 - 4. अविनाशी

Question ID : 630680849954
 Option 1 ID : 6306803329045
 Option 2 ID : 6306803329048
 Option 3 ID : 6306803329047
 Option 4 ID : 6306803329046

Comprehension:

नीचे दिए गए गद्यांश को ध्यानपूर्वक पढ़ें और बिना किसी सामान्य ज्ञान एवं साहित्य के तथ्यों की परवाह किए, केवल नीचे दिए गए गद्यांश के आधार पर प्रश्न के लिए सही उत्तर का चयन करें।

“हम सांस्कृतिक अस्मिता की बात कितनी ही करें : परंपराओं का अवमूल्यन हुआ है, आस्थाओं का क्षरण हुआ है। कड़वा सच तो यह है की हम बौद्धिक दासता स्वीकार कर रहे हैं और पश्चिम के सांस्कृतिक उपनिवेश बन रहे हैं। हमारी नई संस्कृति अनुकरण की संस्कृति है। हम आधुनिकता के झूठे प्रतिमान अपनाते जा रहे हैं। प्रतिष्ठा की अंधी प्रतिस्पर्धा में जो अपना है उसे खोकर छद्म आधुनिकता की गिरफ्त में आते जा रहे हैं। संस्कृति की नियंत्रक शक्तियों के क्षीण हो जाने के कारण हम दिग्भ्रमित हो रहे हैं। हमारा समाज ही अन्य-निर्देशित होता जा रहा है। विज्ञापन और प्रसार के सूक्ष्म तंत्र हमारी मानसिकता बदल रहे हैं। उनमें सम्मोहन की शक्ति है, वशीकरण की भी।”

SubQuestion No : 11

Q.11 किनमें सम्मोहन की शक्ति है?

- Ans** 1. विज्ञापन और प्रसार में
 2. संस्कृति में
 3. बौद्धिक दासता में
 4. पश्चिमी संस्कृति में

Question ID : 630680846648
 Option 1 ID : 6306803316341
 Option 2 ID : 6306803316340
 Option 3 ID : 6306803316342
 Option 4 ID : 6306803316343

Comprehension:

नीचे दिए गए गद्यांश को ध्यानपूर्वक पढ़ें और बिना किसी सामान्य ज्ञान एवं साहित्य के तथ्यों की परवाह किए, केवल नीचे दिए गए गद्यांश के आधार पर प्रश्न के लिए सही उत्तर का चयन करें।

“हम सांस्कृतिक अस्मिता की बात कितनी ही करें : परंपराओं का अवमूल्यन हुआ है, आस्थाओं का क्षरण हुआ है। कड़वा सच तो यह है की हम बौद्धिक दासता स्वीकार कर रहे हैं और पश्चिम के सांस्कृतिक उपनिवेश बन रहे हैं। हमारी नई संस्कृति अनुकरण की संस्कृति है। हम आधुनिकता के झूठे प्रतिमान अपनाते जा रहे हैं। प्रतिष्ठा की अंधी प्रतिस्पर्धा में जो अपना है उसे खोकर छद्म आधुनिकता की गिरफ्त में आते जा रहे हैं। संस्कृति की नियंत्रक शक्तियों के क्षीण हो जाने के कारण हम दिग्भ्रमित हो रहे हैं। हमारा समाज ही अन्य-निर्देशित होता जा रहा है। विज्ञापन और प्रसार के सूक्ष्म तंत्र हमारी मानसिकता बदल रहे हैं। उनमें सम्मोहन की शक्ति है, वशीकरण की भी।”

SubQuestion No : 12

Q.12 हम किसके झूठे प्रतिमान अपनाते जा रहे हैं ?

- Ans** 1. बौद्धिक दासता के
 2. प्रसार के
 3. आधुनिकता के
 4. विज्ञापन के

Question ID : 630680846646
 Option 1 ID : 6306803316335
 Option 2 ID : 6306803316333
 Option 3 ID : 6306803316334
 Option 4 ID : 6306803316332

Comprehension:

नीचे दिए गए गद्यांश को ध्यानपूर्वक पढ़ें और बिना किसी सामान्य ज्ञान एवं साहित्य के तथ्यों की परवाह किए, केवल नीचे दिए गए गद्यांश के आधार पर प्रश्न के लिए सही उत्तर का चयन करें।

“हम सांस्कृतिक अस्मिता की बात कितनी ही करें : परंपराओं का अवमूल्यन हुआ है, आस्थाओं का क्षरण हुआ है। कड़वा सच तो यह है की हम बौद्धिक दासता स्वीकार कर रहे हैं और पश्चिम के सांस्कृतिक उपनिवेश बन रहे हैं। हमारी नई संस्कृति अनुकरण की संस्कृति है। हम आधुनिकता के झूठे प्रतिमान अपनाते जा रहे हैं। प्रतिष्ठा की अंधी प्रतिस्पर्धा में जो अपना है उसे खोकर छद्म आधुनिकता की गिरफ्त में आते जा रहे हैं। संस्कृति की नियंत्रक शक्तियों के क्षीण हो जाने के कारण हम दिग्भ्रमित हो रहे हैं। हमारा समाज ही अन्य-निर्देशित होता जा रहा है। विज्ञापन और प्रसार के सूक्ष्म तंत्र हमारी मानसिकता बदल रहे हैं। उनमें सम्मोहन की शक्ति है, वशीकरण की भी।”

SubQuestion No : 13

Q.13 हम बौद्धिक दासता स्वीकार कर वास्तव में क्या बन रहे है?

- Ans
- 1. प्रतिष्ठित
 - 2. आधुनिक
 - 3. सांस्कृतिक गौरव की मिशाल
 - 4. पश्चिम के सांस्कृतिक उपनिवेश

Question ID : 630680846644
 Option 1 ID : 6306803316327
 Option 2 ID : 6306803316326
 Option 3 ID : 6306803316324
 Option 4 ID : 6306803316325

Comprehension:

नीचे दिए गए गद्यांश को ध्यानपूर्वक पढ़ें और बिना किसी सामान्य ज्ञान एवं साहित्य के तथ्यों की परवाह किए, केवल नीचे दिए गए गद्यांश के आधार पर प्रश्न के लिए सही उत्तर का चयन करें।

“हम सांस्कृतिक अस्मिता की बात कितनी ही करें : परंपराओं का अवमूल्यन हुआ है, आस्थाओं का क्षरण हुआ है। कड़वा सच तो यह है की हम बौद्धिक दासता स्वीकार कर रहे हैं और पश्चिम के सांस्कृतिक उपनिवेश बन रहे हैं। हमारी नई संस्कृति अनुकरण की संस्कृति है। हम आधुनिकता के झूठे प्रतिमान अपनाते जा रहे हैं। प्रतिष्ठा की अंधी प्रतिस्पर्धा में जो अपना है उसे खोकर छद्म आधुनिकता की गिरफ्त में आते जा रहे हैं। संस्कृति की नियंत्रक शक्तियों के क्षीण हो जाने के कारण हम दिग्भ्रमित हो रहे हैं। हमारा समाज ही अन्य-निर्देशित होता जा रहा है। विज्ञापन और प्रसार के सूक्ष्म तंत्र हमारी मानसिकता बदल रहे हैं। उनमें सम्मोहन की शक्ति है, वशीकरण की भी।”

SubQuestion No : 14

Q.14 हमारी नई संस्कृति किस प्रकार की है?

- Ans
- 1. वास्तविक ज्ञान की संस्कृति
 - 2. अनुकरण की संस्कृति
 - 3. आधुनिकता की संस्कृति
 - 4. प्रतिष्ठा की संस्कृति

Question ID : 630680846645
 Option 1 ID : 6306803316331
 Option 2 ID : 6306803316328
 Option 3 ID : 6306803316329
 Option 4 ID : 6306803316330

Comprehension:

नीचे दिए गए गद्यांश को ध्यानपूर्वक पढ़ें और बिना किसी सामान्य ज्ञान एवं साहित्य के तथ्यों की परवाह किए, केवल नीचे दिए गए गद्यांश के आधार पर प्रश्न के लिए सही उत्तर का चयन करें।

“हम सांस्कृतिक अस्मिता की बात कितनी ही करें : परंपराओं का अवमूल्यन हुआ है, आस्थाओं का क्षरण हुआ है। कड़वा सच तो यह है की हम बौद्धिक दासता स्वीकार कर रहे हैं और पश्चिम के सांस्कृतिक उपनिवेश बन रहे हैं। हमारी नई संस्कृति अनुकरण की संस्कृति है। हम आधुनिकता के झूठे प्रतिमान अपनाते जा रहे हैं। प्रतिष्ठा की अंधी प्रतिस्पर्धा में जो अपना है उसे खोकर छद्म आधुनिकता की गिरफ्त में आते जा रहे हैं। संस्कृति की नियंत्रक शक्तियों के क्षीण हो जाने के कारण हम दिग्भ्रमित हो रहे हैं। हमारा समाज ही अन्य-निर्देशित होता जा रहा है। विज्ञापन और प्रसार के सूक्ष्म तंत्र हमारी मानसिकता बदल रहे हैं। उनमें सम्मोहन की शक्ति है, वशीकरण की भी।”

SubQuestion No : 15

Join Telegram Group "HaryanaJobs.in"

Q.15 हम किस कारण दिग्भ्रमित हो रहे हैं ?

- Ans
- 1. परंपराओं का अवमूल्यन होने के कारण
 - 2. संस्कृति की नियंत्रक शक्तियों के क्षीण हो जाने के कारण
 - 3. बौद्धिक दासता स्वीकार न करने के कारण
 - 4. आस्थाओं का क्षरण होने के कारण

Question ID : 630680846647
 Option 1 ID : 6306803316337
 Option 2 ID : 6306803316339
 Option 3 ID : 6306803316338
 Option 4 ID : 6306803316336

Comprehension:

नीचे दिए गए गद्यांश को ध्यानपूर्वक पढ़ें और बिना किसी सामान्य ज्ञान एवं साहित्य के तथ्यों की परवाह किए, केवल नीचे दिए गए गद्यांश के आधार पर ही प्रश्न के लिए सही उत्तर का चयन करें।

“इक्कीसवीं सदी डिजिटल दुनिया के लिहाज़ से क्रांतिकारी रही है। नई-नई तकनीकों, आविष्कारों ने न केवल सूचना के क्षेत्र में हलचल पैदा की है बल्कि अब आम जनो तक, उनके द्वार तक सारी सुविधायें पहुँचा रहे हैं। इसी कड़ी में 1 सितंबर 2018 को एक अध्याय जुड़ गया जब भारत के प्रधानमंत्री ने ‘इंडिया पोस्ट पेमेंट्स बैंक’ का उद्घाटन किया। उद्घाटन के समय डाकघरों की 650 शाखाओं ने बैंक की तरह सेवाएं देनी प्रारंभ कर दीं। वर्ष के अंत तक देश के शहरी और ग्रामीण क्षेत्रों में फैली डाकघर की सभी शाखाएँ बैंकिंग सेवाएँ देने लगीं। इंडिया पोस्ट पेमेंट्स बैंक के अधीन देश भर की एक करोड़ पचपन लाख डाकघर-शाखाएँ जुड़ी हैं। इस प्रकार, यह दुनिया का सबसे बड़ा नेटवर्क वाला बैंक बन चुका है। इसके पहले ‘ऐग्रिकल्चरल बैंक ऑफ़ चाइना’ सबसे बड़ा नेटवर्क वाला बैंक था।”

SubQuestion No : 16

Q.16 इंडिया पोस्ट पेमेंट्स बैंक के अधीन देश भर की कितनी डाकघर-शाखाएँ जुड़ी है?

- Ans
- 1. एक करोड़ पचास लाख
 - 2. एक करोड़ पचपन लाख
 - 3. एक करोड़ चालीस लाख
 - 4. एक करोड़ साठ लाख

Question ID : 630680846676
 Option 1 ID : 6306803316433
 Option 2 ID : 6306803316434
 Option 3 ID : 6306803316432
 Option 4 ID : 6306803316435

Comprehension:

नीचे दिए गए गद्यांश को ध्यानपूर्वक पढ़ें और बिना किसी सामान्य ज्ञान एवं साहित्य के तथ्यों की परवाह किए, केवल नीचे दिए गए गद्यांश के आधार पर ही प्रश्न के लिए सही उत्तर का चयन करें।

“इक्कीसवीं सदी डिजिटल दुनिया के लिहाज़ से क्रांतिकारी रही है। नई-नई तकनीकों, आविष्कारों ने न केवल सूचना के क्षेत्र में हलचल पैदा की है बल्कि अब आम जनों तक, उनके द्वार तक सारी सुविधायें पहुँचा रहे हैं। इसी कड़ी में 1 सितंबर 2018 को एक अध्याय जुड़ गया जब भारत के प्रधानमंत्री ने ‘इंडिया पोस्ट पेमेंट्स बैंक’ का उद्घाटन किया। उद्घाटन के समय डाकघरों की 650 शाखाओं ने बैंक की तरह सेवाएँ देनी प्रारंभ कर दीं। वर्ष के अंत तक देश के शहरी और ग्रामीण क्षेत्रों में फैली डाकघर की सभी शाखाएँ बैंकिंग सेवाएँ देने लगीं। इंडिया पोस्ट पेमेंट्स बैंक के अधीन देश भर की एक करोड़ पचपन लाख डाकघर-शाखाएँ जुड़ी हैं। इस प्रकार, यह दुनिया का सबसे बड़ा नेटवर्क वाला बैंक बन चुका है। इसके पहले ‘ऐग्रिकल्चरल बैंक ऑफ़ चाइना’ सबसे बड़ा नेटवर्क वाला बैंक था।”

SubQuestion No : 17

Q.17 उपर्युक्त गद्यांश का उचित शीर्ष क्या हो सकता है?

- Ans**
- 1. भारत और आधुनिकता
 - 2. इंडिया पोस्ट पेमेंट्स बैंक
 - 3. सक्षम इंडिया
 - 4. डिजिटल क्रांति

Question ID : 630680846677
 Option 1 ID : 6306803316439
 Option 2 ID : 6306803316438
 Option 3 ID : 6306803316436
 Option 4 ID : 6306803316437

Comprehension:

नीचे दिए गए गद्यांश को ध्यानपूर्वक पढ़ें और बिना किसी सामान्य ज्ञान एवं साहित्य के तथ्यों की परवाह किए, केवल नीचे दिए गए गद्यांश के आधार पर ही प्रश्न के लिए सही उत्तर का चयन करें।

“इक्कीसवीं सदी डिजिटल दुनिया के लिहाज़ से क्रांतिकारी रही है। नई-नई तकनीकों, आविष्कारों ने न केवल सूचना के क्षेत्र में हलचल पैदा की है बल्कि अब आम जनों तक, उनके द्वार तक सारी सुविधायें पहुँचा रहे हैं। इसी कड़ी में 1 सितंबर 2018 को एक अध्याय जुड़ गया जब भारत के प्रधानमंत्री ने ‘इंडिया पोस्ट पेमेंट्स बैंक’ का उद्घाटन किया। उद्घाटन के समय डाकघरों की 650 शाखाओं ने बैंक की तरह सेवाएँ देनी प्रारंभ कर दीं। वर्ष के अंत तक देश के शहरी और ग्रामीण क्षेत्रों में फैली डाकघर की सभी शाखाएँ बैंकिंग सेवाएँ देने लगीं। इंडिया पोस्ट पेमेंट्स बैंक के अधीन देश भर की एक करोड़ पचपन लाख डाकघर-शाखाएँ जुड़ी हैं। इस प्रकार, यह दुनिया का सबसे बड़ा नेटवर्क वाला बैंक बन चुका है। इसके पहले ‘ऐग्रिकल्चरल बैंक ऑफ़ चाइना’ सबसे बड़ा नेटवर्क वाला बैंक था।”

SubQuestion No : 18

Q.18 1, सितंबर 2018 को भारत के प्रधानमंत्री ने किसका उद्घाटन किया था ?

- Ans**
- 1. इंडिया पोस्ट पेमेंट बैंक का
 - 2. डाकघरों का
 - 3. ऐग्रिकल्चरल बैंक ऑफ़ इंडिया का
 - 4. डिजिटल दुनिया का

Question ID : 630680846675
 Option 1 ID : 6306803316429
 Option 2 ID : 6306803316430
 Option 3 ID : 6306803316428
 Option 4 ID : 6306803316431

Comprehension:

नीचे दिए गए गद्यांश को ध्यानपूर्वक पढ़ें और बिना किसी सामान्य ज्ञान एवं साहित्य के तथ्यों की परवाह किए, केवल नीचे दिए गए गद्यांश के आधार पर ही प्रश्न के लिए सही उत्तर का चयन करें।

“इक्कीसवीं सदी डिजिटल दुनिया के लिहाज़ से क्रांतिकारी रही है। नई-नई तकनीकों, आविष्कारों ने न केवल सूचना के क्षेत्र में हलचल पैदा की है बल्कि अब आम जनों तक, उनके द्वार तक सारी सुविधायें पहुँचा रहे हैं। इसी कड़ी में 1 सितंबर 2018 को एक अध्याय जुड़ गया जब भारत के प्रधानमंत्री ने ‘इंडिया पोस्ट पेमेंट्स बैंक’ का उद्घाटन किया। उद्घाटन के समय डाकघरों की 650 शाखाओं ने बैंक की तरह सेवाएँ देनी प्रारंभ कर दीं। वर्ष के अंत तक देश के शहरी और ग्रामीण क्षेत्रों में फैली डाकघर की सभी शाखाएँ बैंकिंग सेवाएँ देने लगीं। इंडिया पोस्ट पेमेंट्स बैंक के अधीन देश भर की एक करोड़ पचपन लाख डाकघर-शाखाएँ जुड़ी हैं। इस प्रकार, यह दुनिया का सबसे बड़ा नेटवर्क वाला बैंक बन चुका है। इसके पहले ‘ऐग्रिकल्चरल बैंक ऑफ़ चाइना’ सबसे बड़ा नेटवर्क वाला बैंक था।”

SubQuestion No : 19

Q.19 विश्व का सबसे बड़ा नेटवर्क वाला बैंक कौन सा है?

- Ans**
- 1. इंडिया पोस्ट पेमेंट बैंक
 - 2. रिजर्व बैंक ऑफ़ इंडिया
 - 3. बैंक ऑफ़ इंडिया
 - 4. ऐग्रिकल्चरल बैंक ऑफ़ इंडिया

Question ID : 630680846678
 Option 1 ID : 6306803316441
 Option 2 ID : 6306803316443
 Option 3 ID : 6306803316442
 Option 4 ID : 6306803316440

Comprehension:

नीचे दिए गए गद्यांश को ध्यानपूर्वक पढ़ें और बिना किसी सामान्य ज्ञान एवं साहित्य के तथ्यों की परवाह किए, केवल नीचे दिए गए गद्यांश के आधार पर ही प्रश्न के लिए सही उत्तर का चयन करें।

“इक्कीसवीं सदी डिजिटल दुनिया के लिहाज़ से क्रांतिकारी रही है। नई-नई तकनीकों, आविष्कारों ने न केवल सूचना के क्षेत्र में हलचल पैदा की है बल्कि अब आम जनों तक, उनके द्वार तक सारी सुविधायें पहुँचा रहे हैं। इसी कड़ी में 1 सितंबर 2018 को एक अध्याय जुड़ गया जब भारत के प्रधानमंत्री ने ‘इंडिया पोस्ट पेमेंट्स बैंक’ का उद्घाटन किया। उद्घाटन के समय डाकघरों की 650 शाखाओं ने बैंक की तरह सेवाएँ देनी प्रारंभ कर दीं। वर्ष के अंत तक देश के शहरी और ग्रामीण क्षेत्रों में फैली डाकघर की सभी शाखाएँ बैंकिंग सेवाएँ देने लगीं। इंडिया पोस्ट पेमेंट्स बैंक के अधीन देश भर की एक करोड़ पचपन लाख डाकघर-शाखाएँ जुड़ी हैं। इस प्रकार, यह दुनिया का सबसे बड़ा नेटवर्क वाला बैंक बन चुका है। इसके पहले ‘ऐग्रिकल्चरल बैंक ऑफ़ चाइना’ सबसे बड़ा नेटवर्क वाला बैंक था।”

SubQuestion No : 20

Q.20 इक्कीसवीं सदी की दुनिया किस प्रकार की दुनिया है?

- Ans**
- 1. स्वाधीनता के लिए क्रांति की
 - 2. सामाजिक युद्ध की
 - 3. बैंक की
 - 4. डिजिटल क्रांति की

Question ID : 630680846674
 Option 1 ID : 6306803316426
 Option 2 ID : 6306803316427
 Option 3 ID : 6306803316424
 Option 4 ID : 6306803316425



GOVT. OF NCT OF DELHI
Delhi Subordinate Services Selection Board
FC-18, Institutional Area, Karkardooma, Delhi - 110092.
www.dsssb.delhigovt.nic.in

Participant ID	231131105008737
Participant Name	MJENT TYAGI
Test Center Name	ION Digital Zone iDZ 1 GT Karnal Road
Test Date	18/06/2024
Test Time	8:30 AM - 10:30 AM
Subject	Warder Reserved for male Only

Section : General intelligence and Reasoning Ability 1

- Q.1 Consider the following table where each letter is denoted by a code(symbol or a digit) as shown.
Read the given conditions carefully and identify combinations that correctly represent 'KIFE' based on the following coding system and the conditions that follow.
Conditions:
(i) If the first letter is a vowel and the last letter is a consonant, both are to be coded as the code of vowel
(ii) If both first and last letters are consonants, both are to be coded as 'S'
(iii) If the first letter is a consonant and the last letter is a vowel, the codes for the first and last letters are to be interchanged

Code	#	5	*	@	9	2	!	3	7	%	4	8	?
Letter	O	G	F	D	K	W	I	R	U	E	V	A	J

- Ans
- ✓ 1. %! *9
✗ 2. 9!1#
✗ 3. %!1*9
✗ 4. 9!*%9

Question ID : 630680837690
Option 1 ID : 6306803281474
Option 2 ID : 6306803281471
Option 3 ID : 6306803281473
Option 4 ID : 6306803281472

Q.2 In the question, four pair of letter clusters are given, out of which three are alike in some manner, while one is different. Select the odd one from the given options.

(Note: The odd one out is not based on the number of consonants/vowels or their position in the letter cluster)

- Ans
- 1. HURQY-IWVUD
 - 2. GLOXK-HNRBP
 - 3. JAFIR-KCIMW
 - 4. ZOTLE-AQWPJ

Question ID : 630680837761

Option 1 ID : 6306803281757

Option 2 ID : 6306803281755

Option 3 ID : 6306803281758

Option 4 ID : 6306803281756

Q.3 This question is based on the five, four-digit numbers given below.

2876 8742 2368 1067 2465

(Example- 6971 – First digit = 6, second digit = 9, third digit = 7 and fourth digit = 1)

If the position of first and the third digits within each number are interchanged, which of the following will be the last digit of the third highest number?

- Ans
- 1. 6
 - 2. 7
 - 3. 8
 - 4. 5

Question ID : 630680837750

Option 1 ID : 6306803281714

Option 2 ID : 6306803281713

Option 3 ID : 6306803281711

Option 4 ID : 6306803281712

Q.4 There is some relationship between the two terms (letter clusters) on the left of the sign (: :). The same relationship exists between the two terms on the right of the sign (: :) of which one is missing. Find the missing one from the four alternatives.

NETIC : PGVKE :: TICEK : VKEGM :: QHPDJ : ?

- Ans
- 1. SJRFL
 - 2. JRFSL
 - 3. SIRFL
 - 4. FSJRL

Question ID : 630680837700

Option 1 ID : 6306803281512

Option 2 ID : 6306803281511

Option 3 ID : 6306803281514

Option 4 ID : 6306803281513

0.5 In the following question three statements are given, followed by two conclusions numbered I and II. Assume three given statements to be true even if they seem to be at variance with commonly known facts and decide which of the given conclusion logically follows from the three statements disregarding commonly known facts.

Statement:

1. Some desks are pens.
2. All pens are rods.
3. Some rods are toys.

Conclusions:

- I. Some toys are pens.
- II. Some rods are desks.

Ans

1. Only conclusion I follows
2. Only conclusion II follows
3. Either conclusion I or II follows
4. Neither conclusion I nor II follows

Question ID : 630680837756

Option 1 ID : 6306803281735

Option 2 ID : 6306803281736

Option 3 ID : 6306803281737

Option 4 ID : 6306803281738

0.6 If E + F means E is the husband of F, E - F means E is the sister of F and E x F means E is the son of F, which of the following shows P is the daughter of Q?

Ans

1. P + R x Q
2. P - R x Q
3. P x R x Q
4. P x Q - R

Question ID : 630680837754

Option 1 ID : 6306803281727

Option 2 ID : 6306803281729

Option 3 ID : 6306803281730

Option 4 ID : 6306803281728

0.7 In a certain coding scheme, 'MARVEL' is coded as 'LCQXDN', 'SERIES' is coded as 'RGQKDU' how will you code the word 'SUMMIT'?

Ans

1. RWLOHV
2. RWNOHV
3. RVLOHV
4. RWNOJV

Question ID : 630680837749

Option 1 ID : 6306803281709

Option 2 ID : 6306803281707

Option 3 ID : 6306803281708

Option 4 ID : 6306803281710

0.8 Based on the alphabetical order, three of the following four are alike in a certain way and thus form a group. Which is the one that does not belong to that group?

(Note: The odd one out is not based on the number of consonants/vowels or their position in the letter cluster)

Ans 1. (JEH-MDK-PCN)

2. (QIE-THH-WGK)

3. (LUX-OTA-RSD)

4. (HGC-KFF-NFI)

Question ID : 630680837760

Option 1 ID : 6306803281751

Option 2 ID : 6306803281754

Option 3 ID : 6306803281753

Option 4 ID : 6306803281752

0.9 In the following triads, each group of letters is related to the subsequent one following a certain logic.

ABC-DFH

FDH-IHM

Which of the following options follows the same logic?

Ans 1. LMN-OQS

2. TUV-WXY

3. PQR-STV

4. IJK-MOQ

Question ID : 630680837757

Option 1 ID : 6306803281740

Option 2 ID : 6306803281739

Option 3 ID : 6306803281742

Option 4 ID : 6306803281741

0.10 Select the option that indicates the word that appears at the fourth place when all the given words are arranged in the order in which they appear in an English language dictionary.

Resilience Radiant Renaissance Reverence Robust Radiate

Ans 1. Radiate

2. Resilience

3. Renaissance

4. Reverence

Question ID : 630680837724

Option 1 ID : 6306803281607

Option 2 ID : 6306803281609

Option 3 ID : 6306803281608

Option 4 ID : 6306803281610

Q.11 In a row of students, Shreya is positioned as the 10th person from the left end, and Mohit is positioned as the 13th person from the right end. There are four students seated between Shreya and Mohit. What is the maximum and minimum number of students that could be in this row?

- Ans
- 1. 27 and 17
 - 2. 30 and 17
 - 3. 27 and 19
 - 4. 30 and 18

Question ID : 630680837718
Option 1 ID : 6306803281584
Option 2 ID : 6306803281583
Option 3 ID : 6306803281586
Option 4 ID : 6306803281585

Q.12 How many symbols are there in the given series that are immediately preceded by a number and immediately followed by a symbol?

6 * 5 ? 1 > 2 & 5 ^ 6 1 ! 8 @ 1 7 # ! 9 2 * 5 # 4 ? 4 / 9 % 3 + 1 @ * 8 & 1 6 - 7 + 8

- Ans
- 1. 1
 - 2. 3
 - 3. 4
 - 4. 2

Question ID : 630680837753
Option 1 ID : 6306803281723
Option 2 ID : 6306803281725
Option 3 ID : 6306803281726
Option 4 ID : 6306803281724

Q.13 In the following question two statements are given, followed by two conclusions numbered I and II. Assume given statements to be true even if they seem to be at variance with commonly known facts and decide which of the given conclusion logically follows from the two statements disregarding commonly known facts.

Statements:

1. All trees are plants.
2. Some seeds are trees.

Conclusions:

1. Some seeds are plants
2. All plants are seeds.

- Ans
- 1. Only conclusion II follows
 - 2. Both I and II follow
 - 3. Neither I nor II follows
 - 4. Only conclusion I follows

Question ID : 630680837729
Option 1 ID : 6306803281628
Option 2 ID : 6306803281629
Option 3 ID : 6306803281630
Option 4 ID : 6306803281627

Q.14 Neelam, Lola, Murti, Poorab, Dhiraj, Rhea, and Saumya sit in a circle, facing the center, to play cards. Neelam, who is the neighbour of Poorab, is not the neighbour of Rhea. Dhiraj is second to the left of Rhea. Neelam is second to the left of Saumya. Murti is second to the left of Dhiraj. Who are the neighbours of Dhiraj?

- Ans
- 1. Neelam and Poorab
 - 2. Poorab and Saumya
 - 3. Lola and Murti
 - 4. Saumya and Lola

Question ID : 630680837715

Option 1 ID : 6306803281573

Option 2 ID : 6306803281571

Option 3 ID : 6306803281574

Option 4 ID : 6306803281572

Q.15 Five people Aarav, Chitra, Deepak, Yuvraj, and Bhavya live in a five-floor building. The lowermost floor is numbered 1 and the topmost is numbered 5. No one lives between Deepak and Chitra. Person Aarav lives immediately above Chitra but below Yuvraj. The number of people living below Yuvraj is the same as the number of people living above Bhavya. How many people are living above Chitra?

- Ans
- 1. 4
 - 2. 2
 - 3. 3
 - 4. 1

Question ID : 630680837748

Option 1 ID : 6306803281703

Option 2 ID : 6306803281705

Option 3 ID : 6306803281704

Option 4 ID : 6306803281706

Q.16 Maya, Dylan, Priya, Katherine, Ryan, Tyler, and Wendy are sitting around a circle facing the centre. Dylan is second to the right of Priya, who is third to the right of Katherine, and Tyler is third to the right of Wendy, who is not an immediate neighbor of Dylan. Maya is third to the left of Ryan. Who is on the immediate left of Ryan?

- Ans
- 1. Wendy
 - 2. Priya
 - 3. Katherine
 - 4. Dylan

Question ID : 630680837685

Option 1 ID : 6306803281454

Option 2 ID : 6306803281453

Option 3 ID : 6306803281451

Option 4 ID : 6306803281452

0.17 There is some relationship between the two terms (letter clusters) on the left of the sign (: :). The same relationship exists between the two terms on the right of the sign (: :) of which one is missing. Find the missing one from the four alternatives.

QXVTR : JZEVI :: EPOSD : VRLUW :: ZURLY : ?

- Ans
- 1. AFTNA
 - 2. AFIOB
 - 3. AWINB
 - 4. AWTNA

Question ID : 630680837734

Option 1 ID : 6306803281647

Option 2 ID : 6306803281648

Option 3 ID : 6306803281649

Option 4 ID : 6306803281650

0.18 In the following question two statements are given, followed by two conclusions numbered I and II. Assume two given statements to be true even if they seem to be at variance with commonly known facts and decide which of the given conclusion logically follows from the two statements disregarding commonly known facts.

Statements:

- 1. No cloud is rain.
- 2. No rain is water.

Conclusions:

- I. No cloud is water.
- II. Some water is rain.

- Ans
- 1. Neither I nor II follows
 - 2. Both I and II follow
 - 3. Only conclusion II follows
 - 4. Only conclusion I follows

Question ID : 630680837698

Option 1 ID : 6306803281506

Option 2 ID : 6306803281505

Option 3 ID : 6306803281504

Option 4 ID : 6306803281503

0.19 In a stack of five crates labelled as Alpha, Beta, Gamma, Delta, and Epsilon, arranged vertically, Alpha is placed below Beta but above Epsilon. Gamma is at the top of the arrangement. Delta is below Beta but above Alpha. Which crate is placed below Gamma but above Delta?

- Ans
- 1. Data Insufficient
 - 2. Alpha
 - 3. Beta
 - 4. Epsilon

Question ID : 630680837717

Option 1 ID : 6306803281582

Option 2 ID : 6306803281580

Option 3 ID : 6306803281579

Option 4 ID : 6306803281581

Q.20 Select the option that indicates the word that appears at the fourth place when all the given words are arranged in the order in which they appear in an English language dictionary.

Ephemeral Eloquence Enigma Exquisite Empathy Effervescent Epiphany

Ans

1. Enigma

2. Ephemeral

3. Epiphany

4. Empathy

Question ID : 630680837751

Option 1 ID : 6306803281717

Option 2 ID : 6306803281716

Option 3 ID : 6306803281715

Option 4 ID : 6306803281718

Section :General intelligence and Reasoning Ability 2

Q.1 In the following triads, each group of numbers is related to the subsequent one following a certain logic.

247-494-2470

105-210-1050

Which of the following options follows the same logic?

Ans

1. 519-1028-5140

2. 361-722-3610

3. 163-326-1530

4. 601-1202-6100

Question ID : 630680837714

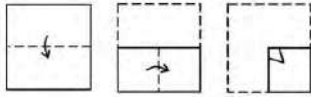
Option 1 ID : 6306803281569

Option 2 ID : 6306803281567

Option 3 ID : 6306803281568


Option 4 ID : 6306803281570

0.2 In the given question a paper is folded and finally cut as shown. Which of the set of figure marked A, B, C and D shows the final design on paper when it is unfolded?




Ans


1.




2.



3.



4.



Question ID : 630680837706

Option 1 ID : 6306803281535

Option 2 ID : 6306803281538

Option 3 ID : 6306803281536

Option 4 ID : 6306803281537

0.3 Identify the term which does not follow the pattern in the given series.

NP, OM, PJ, QH, RD

Ans

1. QH

2. RD

3. OM

4. PJ

Question ID : 630680837704

Option 1 ID : 6306803281529

Option 2 ID : 6306803281530

Option 3 ID : 6306803281528

Option 4 ID : 6306803281527

Q.4 If $95 + 32 = 5$, $52 + 62 = 7$, then $63 + 85 = ?$

- Ans
- 1. 4
 - 2. 8
 - 3. 6
 - 4. 5

Question ID : 630680837722
Option 1 ID : 6306803281602
Option 2 ID : 6306803281601
Option 3 ID : 6306803281599
Option 4 ID : 6306803281600

Q.5 What is the difference between the number 894 and the number obtained on reversing the digits?

- Ans
- 1. 290
 - 2. 296
 - 3. 369
 - 4. 396

Question ID : 630680837740
Option 1 ID : 6306803281674
Option 2 ID : 6306803281672
Option 3 ID : 6306803281673
Option 4 ID : 6306803281671

Q.6 Complete the series: 3765, 3759, 3750, 3738, 3723, 3705, _____

- Ans
- 1. 3684
 - 2. 3687
 - 3. 3689
 - 4. 3690

Question ID : 630680837742
Option 1 ID : 6306803281682
Option 2 ID : 6306803281679
Option 3 ID : 6306803281681
Option 4 ID : 6306803281680

Q.7 In a certain code language if P = 11 and TRAIN = 73, then what is the code for the word BASIS ?

- Ans
- 1. 54
 - 2. 49
 - 3. 50
 - 4. 85

Question ID : 630680837689
Option 1 ID : 6306803281468
Option 2 ID : 6306803281469
Option 3 ID : 6306803281467
Option 4 ID : 6306803281470

Q.8 Choose a pair from the given options in which the two terms are related in the same manner as the two terms of the given two pairs.

37:217, 17:65

- Ans
- 1. 8:26
 - 2. 10:28
 - 3. 7:25
 - 4. 9:27

Question ID : 630680837712

Option 1 ID : 6306803281561

Option 2 ID : 6306803281560

Option 3 ID : 6306803281562

Option 4 ID : 6306803281559

Q.9 Eight people in a group are sitting around a circle facing the centre. Garima sits second to the right of Mansi and third to the left of Swara. Tarun is not an immediate neighbour of either Garima or Mansi and sits second to the right of Parul. Ayesha is fourth to the right of Divya. Vedant is immediately left to Garima. Who is 4th to the right of Mansi?

- Ans
- 1. Ayesha
 - 2. Swara
 - 3. Tarun
 - 4. Parul

Question ID : 630680837716

Option 1 ID : 6306803281578

Option 2 ID : 6306803281575

Option 3 ID : 6306803281576

Option 4 ID : 6306803281577

Q.10 In a group of six wrestlers, namely O, F, L, V, E, and U, each wrestler has a distinct weight. V has a greater weight than F. L is lighter than only E and O. F is not the lightest among the wrestlers and O is not the heaviest. Who among the following is the second heaviest?

- Ans
- 1. E
 - 2. O
 - 3. U
 - 4. L

Question ID : 630680837747

Option 1 ID : 6306803281702

Option 2 ID : 6306803281701

Option 3 ID : 6306803281699

Option 4 ID : 6306803281700

Q.11 Eight students Aarav, Sanya, Virat, Meera, Rohan, Kavya, Niharika, and Priya are standing in a straight line facing north (Not in the same order). Kavya is sitting fifth to the right of Aarav. Meera is sitting fifth to the right of Rohan, who is immediate right of Aarav. Priya is third to the left of Meera. Sanya is third to the right of Niharika, who is an immediate neighbour of Aarav. Who amongst the following are sitting at the extreme ends of the line?

- Ans
- 1. Niharika and Meera
 - 2. Aarav and Kavya
 - 3. Aarav and Niharika
 - 4. Aarav and Meera

Question ID : 630680837684
Option 1 ID : 6306803281449
Option 2 ID : 6306803281447
Option 3 ID : 6306803281448
Option 4 ID : 6306803281450

Q.12 If '+' stands for 'division', '*' stands for 'addition', 'x' stands for 'multiplication' and '-' stands for 'subtraction', then solve the following expression:

$$3*6-8+2+1$$

- Ans
- 1. 26
 - 2. 8
 - 3. 4
 - 4. 18

Question ID : 630680837739
Option 1 ID : 6306803281669
Option 2 ID : 6306803281668
Option 3 ID : 6306803281667
Option 4 ID : 6306803281670

Q.13 Seven families from P1 to P7 live in a 7-storey building with each floor numbered from one to seven (where the top floor is 7 and the ground floor is 1). P7 lives just above P2. Only three persons live between P3 and P4. P4 lives immediately below P1. No one lives between P1 and P2, so P2 lives immediately above P1. Only one person lives between P3 and P5 and P5 lives above P3. How many people live between P3 and P2?

- Ans
- 1. 3
 - 2. 1
 - 3. 2
 - 4. 0

Question ID : 630680837688
Option 1 ID : 6306803281466
Option 2 ID : 6306803281464
Option 3 ID : 6306803281465
Option 4 ID : 6306803281463

Q.14 Which one of the given interchange in signs would make the given equation correct?

$$5 + 7 * 2 - 6 + 3 = 8$$

- Ans
- 1. \div and $*$
 - 2. $*$ and $-$
 - 3. $-$ and \div
 - 4. $-$ and $+$

Question ID : 630680837741
Option 1 ID : 6306803281677
Option 2 ID : 6306803281678
Option 3 ID : 6306803281675
Option 4 ID : 6306803281676

Q.15 Find out the alternative which will replace the question mark.

$$256 : 1280 :: 195 : 975 :: 546 : ?$$

- Ans
- 1. 2656
 - 2. 2730
 - 3. 2560
 - 4. 2700

Question ID : 630680837745
Option 1 ID : 6306803281691
Option 2 ID : 6306803281693
Option 3 ID : 6306803281692
Option 4 ID : 6306803281694

Q.16 This question is based on the five, four-digit numbers given below.

8387 7523 7026 4681 5488

(Example- 6971 – First digit = 6, second digit = 9, third digit = 7 and fourth digit = 1)

If the position of first and the third digits within each number are interchanged, what will be the sum of the first and third digit of the third highest number?

- Ans
- 1. 10
 - 2. 16
 - 3. 12
 - 4. 8

Question ID : 630680837691
Option 1 ID : 6306803281477
Option 2 ID : 6306803281475
Option 3 ID : 6306803281476
Option 4 ID : 6306803281478

Q.17 In a certain code language, 'Stable' is coded as /^(!17 and 'Table' is coded as ^(!17. Which of the following code may represents 'Bluest' in that code language?

- Ans
- 1. !1(7/^
 - 2. !/)71^
 - 3. !1(71^
 - 4. !1)7/^

Question ID : 630680837720
Option 1 ID : 6306803281593
Option 2 ID : 6306803281591
Option 3 ID : 6306803281592
Option 4 ID : 6306803281594

Q.18 A sequence of groups of letters and numbers is given with one term missing as shown by (?). Choose the missing term out of the given alternatives.
M2N, P5K, S7H, V10E, ?

- Ans
- 1. Y12B
 - 2. Z12A
 - 3. Y13B
 - 4. Z13A

Question ID : 630680837738
Option 1 ID : 6306803281665
Option 2 ID : 6306803281663
Option 3 ID : 6306803281666
Option 4 ID : 6306803281664

Q.19 In a library, there are five shelves, each containing different types of books, and they are arranged vertically. Here's the arrangement:

1. The shelf labelled "Fiction" is on the top of the stack.
2. "Non-Fiction" is placed below the shelf labelled "Mystery" but above "Science."
3. "History" is placed below the "Mystery" but above "Non-Fiction."

Which shelf is arranged below the one labelled as "Fiction" but above "History"?

- Ans
- 1. Data Insufficient
 - 2. Non-fiction
 - 3. Mystery
 - 4. Science

Question ID : 630680837686
Option 1 ID : 6306803281458
Option 2 ID : 6306803281457
Option 3 ID : 6306803281456
Option 4 ID : 6306803281455

Q.20 Find the missing number (?) in the series:

3, 7, ?, 35, 74, 153

Ans 1. 18

2. 20

3. 16

4. 14

Question ID : 630680837711

Option 1 ID : 6306803281557

Option 2 ID : 6306803281558

Option 3 ID : 6306803281556

Option 4 ID : 6306803281555

Section : General Awareness 1

Q.1 In December 2022, which Indian state legislative assembly passed the 'Lokayukta Bill' to investigate investigation into complaints of corruption against government officers?

Ans 1. Haryana

2. Maharashtra

3. Punjab

4. Gujarat

Question ID : 630680831381

Option 1 ID : 6306803256570

Option 2 ID : 6306803256571

Option 3 ID : 6306803256569

Option 4 ID : 6306803256572

Q.2 The Union Cabinet, led by Prime Minister Shri Narendra Modi gave approval for Pradhan Mantri Janjati Adivasi Nyaya Maha Abhiyan (PM JANMAN), a significant initiative aimed at tribal welfare in November 2023 on the occasion of _____.

Ans 1. International Day of the World's Indigenous Peoples

2. Birsa Munda Jayanti

3. Janjatiya Gaurav Diwas

4. Gandhi Jayanti

Question ID : 630680831383

Option 1 ID : 6306803256577

Option 2 ID : 6306803256579

Option 3 ID : 6306803256580

Option 4 ID : 6306803256578

Q.3 What is the primary role of the stomata in plant leaves?

- Ans
- 1. Gas exchange
 - 2. Root anchorage
 - 3. Water absorption
 - 4. Photosynthesis

Question ID : 630680831371
Option 1 ID : 6306803256531
Option 2 ID : 6306803256532
Option 3 ID : 6306803256530
Option 4 ID : 6306803256529

Q.4 Read the following about the importance of Vitamin A.

- A. Vitamin A is essential for normal vision.
 - B. Its deficiency results in night blindness and other complications.
- Identify the CORRECT statement/statements.

- Ans
- 1. Only A
 - 2. Neither A nor B
 - 3. Only B
 - 4. Both A and B

Question ID : 630680831534
Option 1 ID : 6306803257181
Option 2 ID : 6306803257184
Option 3 ID : 6306803257182
Option 4 ID : 6306803257183

Q.5 Which natural resource, essential for agriculture and daily life, is depleting globally due to factors such as over-extraction, pollution, and climate change?

- Ans
- 1. Coal
 - 2. Natural gas
 - 3. Petroleum
 - 4. Freshwater

Question ID : 630680831416
Option 1 ID : 6306803256712
Option 2 ID : 6306803256711
Option 3 ID : 6306803256709
Option 4 ID : 6306803256710

0.6 Which Indian author penned the novel "The God of Small Things," exploring themes of family and societal norms in Kerala?

- Ans
- 1. Aravind Adiga
 - 2. Jhumpa Lahiri
 - 3. Arundhati Roy
 - 4. Kiran Desai

Question ID : 630680831394

Option 1 ID : 6306803256621

Option 2 ID : 6306803256623

Option 3 ID : 6306803256624

Option 4 ID : 6306803256622

0.7 Which of the following is a thick, clear, jelly-like substance present inside the cell membrane?

- Ans
- 1. Cell wall
 - 2. Cytoplasm
 - 3. Cell organelles
 - 4. Nucleus

Question ID : 630680831453

Option 1 ID : 6306803256860

Option 2 ID : 6306803256857

Option 3 ID : 6306803256858

Option 4 ID : 6306803256859

0.8 The Centre is set to launch a ____-year National Urban Technology Mission, which will infuse technological innovations in municipal services and infrastructure of 4,500 urban local bodies in the country. (January 2023)

- Ans
- 1. five
 - 2. four
 - 3. three
 - 4. six

Question ID : 630680831462

Option 1 ID : 6306803256895

Option 2 ID : 6306803256894

Option 3 ID : 6306803256893

Option 4 ID : 6306803256896

Q.9 Which Indian author received the Booker Prize for Fiction in 2008 for the novel "The White Tiger," a compelling narrative about social issues in contemporary India?

- Ans
- 1. Kiran Desai
 - 2. Vikram Seth
 - 3. Chetan Bhagat
 - 4. Aravind Adiga

Question ID : 630680831315
Option 1 ID : 6306803256308
Option 2 ID : 6306803256307
Option 3 ID : 6306803256306
Option 4 ID : 6306803256305

Q.10 _____ won the UN-Habitat's World Habitat Awards 2023 for Jaga Mission, a 5T initiative of the state. (January 2023)

- Ans
- 1. Karnataka
 - 2. Madhya Pradesh
 - 3. West Bengal
 - 4. Odisha

Question ID : 630680831459
Option 1 ID : 6306803256881
Option 2 ID : 6306803256884
Option 3 ID : 6306803256882
Option 4 ID : 6306803256883

Q.11 Which technological innovation has significantly transformed daily life by providing instant access to vast amounts of information and entertainment?

- Ans
- 1. Microwave oven
 - 2. Refrigerator
 - 3. Smartphone
 - 4. Global Positioning System

Question ID : 630680831335
Option 1 ID : 6306803256386
Option 2 ID : 6306803256385
Option 3 ID : 6306803256388
Option 4 ID : 6306803256387

Q.12 As of December 2023, Indian researchers at Hyderabad's International Advanced Research Centre for Powder Metallurgy & New Materials created an eco-friendly _____ harvesting material.

- Ans
- 1. Solar
 - 2. Biogas
 - 3. Water
 - 4. Coal

Question ID : 630680831380

Option 1 ID : 6306803256566

Option 2 ID : 6306803256567

Option 3 ID : 6306803256565

Option 4 ID : 6306803256568

Q.13 During which festival of India do devotees observe a fast and offer prayers to seek the blessings of Lord Shiva and Goddess Parvati for marital harmony and well-being?

- Ans
- 1. Hariyali Teej
 - 2. Navratri
 - 3. Haldi Kumkum
 - 4. Baisakhi

Question ID : 630680831398

Option 1 ID : 6306803256638

Option 2 ID : 6306803256640

Option 3 ID : 6306803256639

Option 4 ID : 6306803256637

Q.14 India retained the _____ position in Global Innovation Index among the top innovative economies globally as per Global Innovation Index (GII) 2023.

- Ans
- 1. 40th
 - 2. 21st
 - 3. 60th
 - 4. 79th

Question ID : 630680831544

Option 1 ID : 6306803257222

Option 2 ID : 6306803257221

Option 3 ID : 6306803257223

Option 4 ID : 6306803257224

Q.15 As per Article 343(1), the Parliament may by law provide for the use of Hindi in addition to English for certain purposes, Which of the following is not included in the same?

- Ans
- 1. The transaction of business in Parliament
 - 2. The business of the Supreme Court;
 - 3. The communication between the Union and a public servant
 - 4. The business of the High Courts

Question ID : 630680831557
Option 1 ID : 6306803257276
Option 2 ID : 6306803257274
Option 3 ID : 6306803257275
Option 4 ID : 6306803257273

Q.16 Reliance Life Sciences Pvt Ltd has received a licence from the Indian Institute of Technology ____ for a gene therapy method that has the potential to treat a variety of genetic eye ailments. (March 2023)

- Ans
- 1. Delhi
 - 2. Bombay
 - 3. Kanpur
 - 4. Madras

Question ID : 630680831424
Option 1 ID : 6306803256741
Option 2 ID : 6306803256744
Option 3 ID : 6306803256742
Option 4 ID : 6306803256743

Q.17 Chromosomes come in pairs and humans have _____ chromosomes.

- Ans
- 1. 23
 - 2. 56
 - 3. 46
 - 4. 33

Question ID : 630680831572
Option 1 ID : 6306803257333
Option 2 ID : 6306803257336
Option 3 ID : 6306803257335
Option 4 ID : 6306803257334

Q.18 In which Indian state is Marathi recognized as the official language?

- Ans
- 1. Maharashtra
 - 2. Mizoram
 - 3. Karnataka
 - 4. Manipur

Question ID : 630680831316
Option 1 ID : 6306803256309
Option 2 ID : 6306803256311
Option 3 ID : 6306803256312
Option 4 ID : 6306803256310

Q.19 Which tribal community in Mizoram, India, primarily observes the lively Chapehar Kut festival as a harvest celebration?

- Ans
- 1. Mizo
 - 2. Garo
 - 3. Naga
 - 4. Khasi

Question ID : 630680831319
Option 1 ID : 6306803256323
Option 2 ID : 6306803256322
Option 3 ID : 6306803256324
Option 4 ID : 6306803256321

Q.20 Grene Robotics, a ____-based company, introduces Indrajaal, India's inaugural AI-driven anti-drone system, marking a noteworthy stride in the realm of Indian defense technology. (September 2023)

- Ans
- 1. Hyderabad
 - 2. Bombay
 - 3. Rourkela
 - 4. Dhanbad

Question ID : 630680831426
Option 1 ID : 6306803256751
Option 2 ID : 6306803256752
Option 3 ID : 6306803256749
Option 4 ID : 6306803256750

0.1 Read the following about the Constitution of India.

A. The parliamentary system is also known as the 'Westminster' model of government, responsible government and cabinet government.

B. The Constitution establishes the parliamentary system not only at the Centre but also in the States.

Identify the INCORRECT statement/statements.

- Ans
- 1. Both A and B
 - 2. Only B
 - 3. Neither A nor B
 - 4. Only A

Question ID : 630680831446

Option 1 ID : 6306803256831

Option 2 ID : 6306803256830

Option 3 ID : 6306803256832

Option 4 ID : 6306803256829

0.2 Which of the following relations correctly defines Assets?

- Ans
- 1. $Assets = Reserves \times Loans$
 - 2. $Assets = Reserves + Loans$
 - 3. $Assets = Reserves / Loans$
 - 4. $Assets = Reserves - Loans$

Question ID : 630680831467

Option 1 ID : 6306803256916

Option 2 ID : 6306803256913

Option 3 ID : 6306803256915

Option 4 ID : 6306803256914

0.3 Read the following about political parties in India.

A. In India a recognized political party is categorized either as a National Party or a State Party.

B. If a political party is recognized in four or more states and is either the ruling party or is in the opposition in these states, it is considered as a National Party.

Identify the CORRECT statement/statements.

- Ans
- 1. Both A and B
 - 2. Only A
 - 3. Neither A nor B
 - 4. Only B

Question ID : 630680831490

Option 1 ID : 6306803257007

Option 2 ID : 6306803257005

Option 3 ID : 6306803257008

Option 4 ID : 6306803257006

Q.4 Which of the following is also known as Revenue Budget?

- Ans
- 1. Money Budget
 - 2. Income Budget
 - 3. Investment Budget
 - 4. Capital Budget

Question ID : 630680831468

Option 1 ID : 6306803256918

Option 2 ID : 6306803256919

Option 3 ID : 6306803256917

Option 4 ID : 6306803256920

Q.5 As per the Census of 2011, which of the following states have majority percentage of Sikhs in India?

- Ans
- 1. Punjab
 - 2. Haryana
 - 3. Uttarakhand
 - 4. Rajasthan

Question ID : 630680831444

Option 1 ID : 6306803256821

Option 2 ID : 6306803256822

Option 3 ID : 6306803256823

Option 4 ID : 6306803256824

Q.6 Which Fundamental Right in the Indian Constitution prohibits forced labor?

- Ans
- 1. Right to Freedom of Religion
 - 2. Right against Exploitation
 - 3. Right to Equality
 - 4. Right to Life and Personal Liberty

Question ID : 630680831327

Option 1 ID : 6306803256353

Option 2 ID : 6306803256355

Option 3 ID : 6306803256354

Option 4 ID : 6306803256356

Q.7 What is the approximate latitude at which the Tropic of Cancer passes through India?

- Ans
- 1. 23.5° N
 - 2. 30° N
 - 3. 20° N
 - 4. 33.5° N

Question ID : 630680831323

Option 1 ID : 6306803256338

Option 2 ID : 6306803256339

Option 3 ID : 6306803256337

Option 4 ID : 6306803256340

Q.8 _____ was one of the most important leaders of the Indian Independence Movement, he is also known as 'Father of Indian Unrest.'

- Ans
- 1. B.R. Ambedkar
 - 2. Mahatma Gandhi
 - 3. Bal Gangadhar Tilak
 - 4. Jawaharlal Nehru

Question ID : 630680831551

Option 1 ID : 6306803257252

Option 2 ID : 6306803257250

Option 3 ID : 6306803257249

Option 4 ID : 6306803257251

Q.9 The great desert in India extends from the edge of the _____ beyond the Luni River northward.

- Ans
- 1. Jaisalmer
 - 2. Jodhpur
 - 3. Jaipur
 - 4. Rann of Kutch

Question ID : 630680831560

Option 1 ID : 6306803257287

Option 2 ID : 6306803257285

Option 3 ID : 6306803257288

Option 4 ID : 6306803257286

Q.10 Which of the following is NOT a Reformist movement?

- Ans
- 1. Brahmo samaj
 - 2. Arya samaj
 - 3. Prarthana samaj
 - 4. Aligarh movement

Join Telegram Group "HaryanaJobs.in"

Question ID : 630680831470

Option 1 ID : 6306803256925

Option 2 ID : 6306803256926

Option 3 ID : 6306803256927

Option 4 ID : 6306803256928

Q.11 Which of the following is a characteristic feature of the Mangrove ecosystem found in India?

- Ans
- 1. Saline water adaptation
 - 2. Snow-covered landscape
 - 3. Dense canopy cover
 - 4. High altitude vegetation

Question ID : 630680831322

Option 1 ID : 6306803256335

Option 2 ID : 6306803256336

Option 3 ID : 6306803256333

Option 4 ID : 6306803256334

Q.12 The Mughal Empire was founded by Babur in _____ after defeating the Sultan of Delhi in the Battle of Panipat.

- Ans
- 1. 1556
 - 2. 1536
 - 3. 1526
 - 4. 1546

Question ID : 630680831473

Option 1 ID : 6306803256940

Option 2 ID : 6306803256938

Option 3 ID : 6306803256937

Option 4 ID : 6306803256939

Q.13 Union Territories are administered by the _____ acting to such extent, as he thinks fit, through an Administrator appointed by him.

- Ans
- 1. President
 - 2. Chief Minister
 - 3. Governor
 - 4. Prime Minister

Question ID : 630680831568
Option 1 ID : 6306803257319
Option 2 ID : 6306803257320
Option 3 ID : 6306803257318
Option 4 ID : 6306803257317

Q.14 What is the formula for calculating the unemployment rate?

- Ans
- 1. $(\text{Number of unemployed} / \text{Labor force}) * 100$
 - 2. $(\text{Number of unemployed} / \text{Total population}) * 100$
 - 3. $(\text{Number of employed} / \text{Total population}) * 100$
 - 4. $(\text{Number of employed} / \text{Labor force}) * 100$

Question ID : 630680831309
Option 1 ID : 6306803256282
Option 2 ID : 6306803256284
Option 3 ID : 6306803256283
Option 4 ID : 6306803256281

Q.15 37th National Games 2023 were held at _____.

- Ans
- 1. Goa
 - 2. Surat
 - 3. Bengaluru
 - 4. Jaipur

Question ID : 630680831538
Option 1 ID : 6306803257200
Option 2 ID : 6306803257198
Option 3 ID : 6306803257199
Option 4 ID : 6306803257197

Q.16 As per Article _____, the Parliament can pass laws on the State List items if it is required for the implementation of international agreements or treaties with foreign powers.

- Ans
- 1. 255
 - 2. 252
 - 3. 253
 - 4. 254

Question ID : 630680831489
Option 1 ID : 6306803257004
Option 2 ID : 6306803257001
Option 3 ID : 6306803257002
Option 4 ID : 6306803257003

Q.17 From which state does the river Narmada originate?

- Ans
- 1. Assam
 - 2. Madhya Pradesh
 - 3. Uttar Pradesh
 - 4. Rajasthan

Question ID : 630680831521
Option 1 ID : 6306803257131
Option 2 ID : 6306803257129
Option 3 ID : 6306803257130
Option 4 ID : 6306803257132

Q.18 According to the 2011 Census, which state has the highest literacy rate among females in India?

- Ans
- 1. Goa
 - 2. Mizoram
 - 3. Himachal Pradesh
 - 4. Kerala

Question ID : 630680831365
Option 1 ID : 6306803256506
Option 2 ID : 6306803256507
Option 3 ID : 6306803256505
Option 4 ID : 6306803256508

Q.19 In January 2024, which famous Indian cricketer was conferred the Arjuna Award by the President of India?

- Ans
- 1. KL Rahul
 - 2. Shubman Gill
 - 3. Mohammed Shami
 - 4. Virat Kohli

Question ID : 630680831337

Option 1 ID : 6306803256395

Option 2 ID : 6306803256396

Option 3 ID : 6306803256394

Option 4 ID : 6306803256393

Q.20 Which Mughal ruler is known for his architectural masterpiece, the Taj Mahal?

- Ans
- 1. Aurangzeb
 - 2. Akbar
 - 3. Shah Jahan
 - 4. Jahangir

Question ID : 630680831313

Option 1 ID : 6306803256298

Option 2 ID : 6306803256297

Option 3 ID : 6306803256299

Option 4 ID : 6306803256300

Section :Arithmetical and Numerical Ability 1

Q.1 A mobile cover with a list price of ₹ 520 is available at a 15% discount. What will be the sale price of such 9 mobile covers?

- Ans
- 1. ₹ 3789
 - 2. ₹ 3978
 - 3. ₹ 3564
 - 4. ₹ 3577

Question ID : 630680835655

Option 1 ID : 6306803273393

Option 2 ID : 6306803273392

Option 3 ID : 6306803273391

Option 4 ID : 6306803273390

Q.2 The product of two co-prime numbers is 1763. What will be the LCM of the two numbers?

- Ans
- 1. 846
 - 2. 0
 - 3. 1763
 - 4. 1

Question ID : 630680835760

Option 1 ID : 6306803273812

Option 2 ID : 6306803273810

Option 3 ID : 6306803273813

Option 4 ID : 6306803273811

Q.3 Express 0.644444..... as a fraction.

- Ans
- 1. $\frac{23}{45}$
 - 2. $\frac{31}{45}$
 - 3. $\frac{39}{45}$
 - 4. $\frac{29}{45}$

Question ID : 630680835601

Option 1 ID : 6306803273177

Option 2 ID : 6306803273176

Option 3 ID : 6306803273174

Option 4 ID : 6306803273175

Q.4 Find the rate of interest per annum if the difference between C.I and S.I on ₹20000 compounded annually for 2 years is ₹50.

- Ans
- 1. 5%
 - 2. 15%
 - 3. 10%
 - 4. 25%

Question ID : 630680835793

Option 1 ID : 6306803273943

Option 2 ID : 6306803273945

Option 3 ID : 6306803273944

Option 4 ID : 6306803273942

Q.5 Find the ratio of compound interest to simple interest on a certain sum at 20% per annum for 2 years.

- Ans
- 1. 13 : 14
 - 2. 13 : 11
 - 3. 10 : 9
 - 4. 11 : 10

Question ID : 630680835634

Option 1 ID : 6306803273307

Option 2 ID : 6306803273309

Option 3 ID : 6306803273306

Option 4 ID : 6306803273308

Q.6 Two numbers are in the ratio 4: 7. If the HCF is 31, then find the sum of the numbers.

- Ans
- 1. 465
 - 2. 279
 - 3. 341
 - 4. 403

Question ID : 630680835603

Option 1 ID : 6306803273185

Option 2 ID : 6306803273183

Option 3 ID : 6306803273182

Option 4 ID : 6306803273184

Q.7 A language test was conducted for a group of 40 students. 25 students had an average score of 80 and the rest had an average score of 60. What is the average score of the whole class?

- Ans
- 1. 74.5
 - 2. 75.5
 - 3. 73.5
 - 4. 72.5

Question ID : 630680835748

Option 1 ID : 6306803273763

Option 2 ID : 6306803273762

Option 3 ID : 6306803273764

Option 4 ID : 6306803273765

Q.8 Find the sum of the first 11 natural numbers.

- Ans
- 1. 64
 - 2. 66
 - 3. 54
 - 4. 55

Question ID : 630680835560

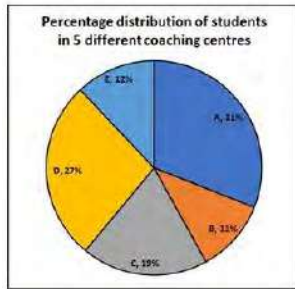
Option 1 ID : 6306803273012

Option 2 ID : 6306803273011

Option 3 ID : 6306803273010

Option 4 ID : 6306803273013

- Q.9 The pie-chart below shows the percentage distribution of students across 5 different coaching centres (A, B, C, D and E) in a city. Find the number of students in center D if the total number of students is 1500.



- Ans
- 1. 410
 - 2. 420
 - 3. 415
 - 4. 405

Question ID : 630680835596
Option 1 ID : 6306803273157
Option 2 ID : 6306803273154
Option 3 ID : 6306803273155
Option 4 ID : 6306803273156

- Q.10 A tank contains a mixture of two chemicals, Urea and Ammonia, in the ratio of 11 : 7. When 9 kg of the mixture is taken out and replaced with Ammonia, the ratio becomes 55 : 53. Find the quantity of Ammonia that was initially there in the tank.

- Ans
- 1. 23 kg
 - 2. 21 kg
 - 3. 19 kg
 - 4. 25 kg

Question ID : 630680835789
Option 1 ID : 6306803273928
Option 2 ID : 6306803273927
Option 3 ID : 6306803273926
Option 4 ID : 6306803273929

- Q.11 A three digit number 11A is a prime number. Find the value of A.

- Ans
- 1. 6
 - 2. 3
 - 3. 9
 - 4. 7

Question ID : 630680835640
Option 1 ID : 6306803273331
Option 2 ID : 6306803273332
Option 3 ID : 6306803273333
Option 4 ID : 6306803273330

Q.12 Find the cube root of 0.001728.

- Ans
- 1. 0.0012
 - 2. 0.012
 - 3. 0.12
 - 4. 1.2

Question ID : 630680835805

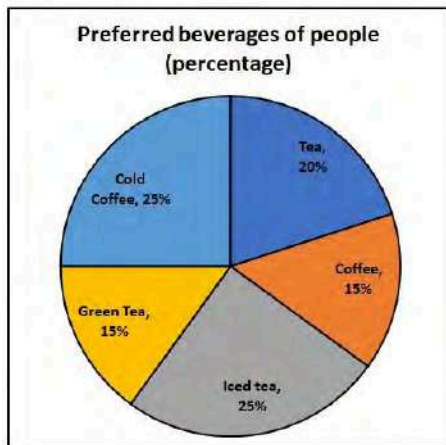
Option 1 ID : 6306803273993

Option 2 ID : 6306803273992

Option 3 ID : 6306803273990

Option 4 ID : 6306803273991

Q.13 The pie chart given below shows the preferred beverages of 800 people. What is the difference between the number of people who like tea and those who love coffee?



- Ans
- 1. 25
 - 2. 30
 - 3. 40
 - 4. 35

Question ID : 630680835716

Option 1 ID : 6306803273634

Option 2 ID : 6306803273635

Option 3 ID : 6306803273637

Option 4 ID : 6306803273636

Q.14 A shopkeeper has a sale of Rs. 6739, Rs. 5789, Rs. 6855, Rs. 7230 and Rs. 4562 for 5 consecutive months. How much sale must he have in the sixth month so that he gets an average sale of Rs. 6000?

- Ans
- 1. Rs. 5324
 - 2. Rs. 4825
 - 3. Rs. 4765
 - 4. Rs. 5282

Question ID : 630680835667

Option 1 ID : 6306803273441

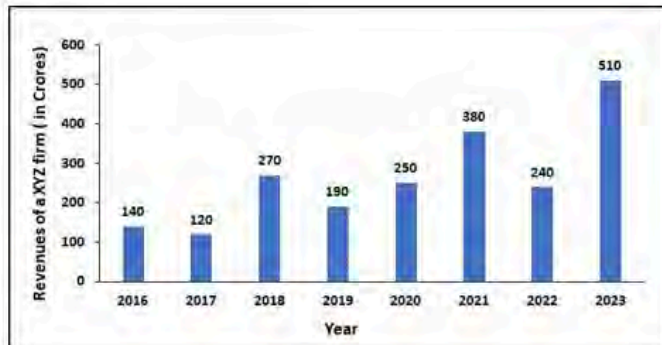
Option 2 ID : 6306803273439

Option 3 ID : 6306803273438

Option 4 ID : 6306803273440

Q.15

The bar graph given below shows the revenues of XYZ firm in last 8 years from 2016 -2023. All the revenue figures have been shown in terms of crores of rupees. In which year did the firm show maximum percentage increase in its revenue with respect to the previous year?



Ans

- 1. Year 2020
- 2. Year 2021
- 3. Year 2023
- 4. Year 2018

Question ID : 630680835677

Option 1 ID : 6306803273479

Option 2 ID : 6306803273480

Option 3 ID : 6306803273481

Option 4 ID : 6306803273478

Q.16

The marked price on an item was Rs 4800/- but the shopkeeper offered successive discounts of 18% and 20% on its sale. How much did he finally sell the item for?

Ans

- 1. Rs. 3148.80
- 2. Rs. 3642
- 3. Rs. 3258.80
- 4. Rs. 2976

Question ID : 630680835736

Option 1 ID : 6306803273714

Option 2 ID : 6306803273717

Option 3 ID : 6306803273715

Option 4 ID : 6306803273716

Q.17 Find the compound interest for a year on Rs. 15,000 at 20% interest per annum if interest is compounded half-yearly.

- Ans
- 1. Rs 4576
 - 2. Rs 18150
 - 3. Rs 3150
 - 4. Rs 2458

Question ID : 630680835712

Option 1 ID : 6306803273620

Option 2 ID : 6306803273621

Option 3 ID : 6306803273619

Option 4 ID : 6306803273618

Q.18 $(6.4)^3 - (5.4)^3$ is equal to :

- Ans
- 1. 104.68
 - 2. 132.45
 - 3. 142.8
 - 4. 87.65

Question ID : 630680835685

Option 1 ID : 6306803273511

Option 2 ID : 6306803273513

Option 3 ID : 6306803273512

Option 4 ID : 6306803273510

0.19

The bar graph given below shows the sales of cakes (in '000) from six stores of a cake company during two consecutive years, 2018 and 2019. What percent of the average sales of Stores A2, A4 and A6 in 2018 is the average sales of Stores A1, A3 and A5 in 2019?



- Ans
- 1. 35%
 - 2. 135%
 - 3. 60%
 - 4. 160%

Question ID : 630680835798

Option 1 ID : 6306803273962

Option 2 ID : 6306803273964

Option 3 ID : 6306803273963

Option 4 ID : 6306803273965

0.20

Find the value of $15 + 15$ of $15 \div 15 - 28$.

- Ans
- 1. 3
 - 2. 7
 - 3. 2
 - 4. 5

Question ID : 630680835564

Option 1 ID : 6306803273027

Option 2 ID : 6306803273029

Option 3 ID : 6306803273026

Option 4 ID : 6306803273028

0.1 14 men can complete a work in 33 days. After they have worked for 11 days, 8 more men join them. How many days will it take to complete the remaining work?

- Ans
- 1. 10
 - 2. 15
 - 3. 20
 - 4. 14

Question ID : 630680835582

Option 1 ID : 6306803273098

Option 2 ID : 6306803273100

Option 3 ID : 6306803273101

Option 4 ID : 6306803273099

0.2 The price of a necklace in the month of January was 32800 and in the month of October in the same year it was 45850. What is the approximate percentage increase in the price of the necklace during this period?

- Ans
- 1. 28%
 - 2. 40%
 - 3. 32%
 - 4. 36%

Question ID : 630680835808

Option 1 ID : 6306803274002

Option 2 ID : 6306803274005

Option 3 ID : 6306803274003

Option 4 ID : 6306803274004

0.3 Suppose two successive increases of 50% each is equivalent to a single increase of $y\%$, and two successive decreases of 50% each is equivalent to a single decrease of $z\%$. Approximately by what percent is y more than z ?

- Ans
- 1. 75%
 - 2. 67%
 - 3. 50%
 - 4. 100%

Question ID : 630680835771

Option 1 ID : 6306803273856

Option 2 ID : 6306803273855

Option 3 ID : 6306803273854

Option 4 ID : 6306803273857

Q.4 Aman can do a piece of work in 20 days. Aman and Basil together can do the work in 15 days. In how many days can Basil alone complete the work?

- Ans
- 1. 5 days
 - 2. 60 days
 - 3. 45 days
 - 4. 24 days

Question ID : 630680835781
Option 1 ID : 6306803273894
Option 2 ID : 6306803273897
Option 3 ID : 6306803273896
Option 4 ID : 6306803273895

Q.5 Three persons A, B, and C started running on a circular track of length 98 km from the same starting point with speeds of 7 km/h, 14 km/h, and 49 km/h respectively in the same direction. After what time will the three meet together again?

- Ans
- 1. 10 hours
 - 2. 14 hours
 - 3. 13 hours
 - 4. 11 hours

Question ID : 630680835664
Option 1 ID : 6306803273428
Option 2 ID : 6306803273427
Option 3 ID : 6306803273426
Option 4 ID : 6306803273429

Q.6 Two trains with lengths 135 m and 126 m respectively are moving towards each other. Their speeds are 11 m/s and 18 m/s. What will be the time needed by the trains to cross each other?

- Ans
- 1. 7 seconds
 - 2. 13 seconds
 - 3. 9 seconds
 - 4. 11 seconds

Question ID : 630680835706
Option 1 ID : 6306803273594
Option 2 ID : 6306803273597
Option 3 ID : 6306803273595
Option 4 ID : 6306803273596

Q.7 Suman sells chocolates at a profit of 22% for ₹ 488. What will be the percentage loss or gain if she reduces the price to ₹ 420 due to less demand?

- Ans
- 1. 3% profit
 - 2. 5% loss
 - 3. 3% loss
 - 4. 5% profit

Question ID : 630680835612

Option 1 ID : 6306803273221

Option 2 ID : 6306803273218

Option 3 ID : 6306803273220

Option 4 ID : 6306803273219

Q.8 If $5A = 6B = 3C$; then find the value of A: B: C.

- Ans
- 1. 5 : 6 : 10
 - 2. 10 : 5 : 6
 - 3. 6 : 5 : 10
 - 4. 5 : 6 : 3

Question ID : 630680835619

Option 1 ID : 6306803273246

Option 2 ID : 6306803273249

Option 3 ID : 6306803273247

Option 4 ID : 6306803273248

Q.9 A person travels from point A to point B at a speed of 32 km/h and comes back at a speed of 40 km/h. What is his average speed? (correct to one decimal place)

- Ans
- 1. 33.6 km/hr
 - 2. 35.6 km/hr
 - 3. 30.5 km/hr
 - 4. 32.4 km/hr

Question ID : 630680835583

Option 1 ID : 6306803273105

Option 2 ID : 6306803273104

Option 3 ID : 6306803273102

Option 4 ID : 6306803273103

Q.10 Viraj had an emerald that fell from his hand and broke into four pieces. The weights of the four pieces were in the ratio of 2:3:4:5. The cost of the emerald varies directly as the square of its weight. When the pieces were sold, Viraj got Rs.85,200 less. Find the original price of the emerald.

- Ans
- 1. Rs.1,20,000
 - 2. Rs.1,24,600
 - 3. Rs.1,17,600
 - 4. Rs.1,07,600

Question ID : 630680835700

Option 1 ID : 6306803273572

Option 2 ID : 6306803273573

Option 3 ID : 6306803273571

Option 4 ID : 6306803273570

Q.11 If $4g = 5h = 3k$ then find value of $g : h : k$

- Ans
- 1. 9:16:20
 - 2. 10:12:25
 - 3. 8:15:16
 - 4. 15:12:20

Question ID : 630680835697

Option 1 ID : 6306803273560

Option 2 ID : 6306803273559

Option 3 ID : 6306803273561

Option 4 ID : 6306803273558

Q.12 What is the value of x if $\frac{12}{5} : x :: \frac{5}{8} : \frac{7}{6}$?

- Ans
- 1. $\frac{25}{31}$
 - 2. $\frac{112}{25}$
 - 3. $\frac{28}{15}$
 - 4. $\frac{8}{5}$

Question ID : 630680835778

Option 1 ID : 6306803273885

Option 2 ID : 6306803273883

Option 3 ID : 6306803273882

Option 4 ID : 6306803273884

0.13 Vikram sold a table at a loss of 25%. If he had sold it for Rs. 180 more, he would have made a profit of 20%. The cost price of the table is:

- Ans
- 1. Rs. 100
 - 2. Rs. 400
 - 3. Rs. 300
 - 4. Rs. 200

Question ID : 630680835734

Option 1 ID : 6306803273706

Option 2 ID : 6306803273709

Option 3 ID : 6306803273708

Option 4 ID : 6306803273707

0.14 If the price of honey increases by 15%, by approximately what percentage a housewife should reduce the consumption of honey so that expense is not increased?

- Ans
- 1. 11%
 - 2. 15%
 - 3. 9%
 - 4. 13%

Question ID : 630680835770

Option 1 ID : 6306803273851

Option 2 ID : 6306803273853

Option 3 ID : 6306803273850

Option 4 ID : 6306803273852

0.15 Sumesh borrows a certain sum from Akram at 7.5% simple interest per annum. What is the principal sum if the total interest that Sumesh has to pay at the end of four years is Rs. 18600?

- Ans
- 1. Rs. 45000
 - 2. Rs. 68000
 - 3. Rs. 56000
 - 4. Rs. 62000

Question ID : 630680835671

Option 1 ID : 6306803273454

Option 2 ID : 6306803273457

Option 3 ID : 6306803273455

Option 4 ID : 6306803273456

0.16 Akash borrows Rs. 62000 from Virendar at 7.5% simple interest per annum. How much interest does Akash have to pay at the end of four years?

- Ans
- 1. Rs. 17600
 - 2. Rs.15500
 - 3. Rs. 18800
 - 4. Rs. 18600

Question ID : 630680835711
Option 1 ID : 6306803273615
Option 2 ID : 6306803273614
Option 3 ID : 6306803273617
Option 4 ID : 6306803273616

0.17 Vikram's salary is 40% more than Ravi's salary. Ravi's salary is approximately how much less than Vikram's salary?

- Ans
- 1. 24.8%
 - 2. 28.6%
 - 3. 26.5%
 - 4. 21%

Question ID : 630680835768
Option 1 ID : 6306803273843
Option 2 ID : 6306803273845
Option 3 ID : 6306803273844
Option 4 ID : 6306803273842

0.18 A shopkeeper sold a flower pot for 3500. If the cost price of the flower pot is 2800, find the profit percent.

- Ans
- 1. 15%
 - 2. 30%
 - 3. 20%
 - 4. 25%

Question ID : 630680835692
Option 1 ID : 6306803273538
Option 2 ID : 6306803273541
Option 3 ID : 6306803273539
Option 4 ID : 6306803273540

0.19 Ravi completes a journey in 15 hours. He travels half the length of the journey at the rate of 27 km/hr and the remaining distance at the rate of 18 km/hr. Find the length of the total journey.

- Ans
- 1. 322 km
 - 2. 324 km
 - 3. 328 km
 - 4. 315 km

Question ID : 630680835745
Option 1 ID : 6306803273751
Option 2 ID : 6306803273752
Option 3 ID : 6306803273753
Option 4 ID : 6306803273750

Q.20 What percent is 86 kg of 344 kg?

- Ans
- 1. 4%
 - 2. 20%
 - 3. 25%
 - 4. 400%

Question ID : 630680835689
Option 1 ID : 6306803273529
Option 2 ID : 6306803273527
Option 3 ID : 6306803273526
Option 4 ID : 6306803273528

Section : Test of English Language and Comprehension 1

Q.1 Choose the idiom/phrase that can substitute the highlighted group of words meaningfully.

The belief that chocolate causes acne is a traditional belief or idea which has been proved wrong by science.

- Ans
- 1. Pull yourself together
 - 2. An old wives' tale
 - 3. Bear fruit
 - 4. Vested interest

Question ID : 630680834258
Option 1 ID : 6306803267858
Option 2 ID : 6306803267859
Option 3 ID : 6306803267861
Option 4 ID : 6306803267860

Q.2 Improve the underlined part of the sentence. Choose 'No improvement' as an answer if the sentence is grammatically correct.

Harpreet gave me a sleeping pill with glass of orange juice.

- Ans
- 1. a sleep pill with the glass
 - 2. an sleeping pill with glass
 - 3. a sleeping pill with a glass
 - 4. No improvement

Question ID : 630680834157
Option 1 ID : 6306803267474
Option 2 ID : 6306803267475
Option 3 ID : 6306803267476
Option 4 ID : 6306803267477

Q.3 In the following question, out of the given four alternatives, select the alternative which best expresses the meaning of the Idiom/Phrase.

To hit the bottle

- Ans
- 1. To meet with an accident
 - 2. To get into trouble
 - 3. To drink too much alcohol regularly
 - 4. To realise one's mistake

Question ID : 630680834177

Option 1 ID : 6306803267550

Option 2 ID : 6306803267551

Option 3 ID : 6306803267553

Option 4 ID : 6306803267552

Q.4 Choose the word that can substitute the given group of words.

A job that requires little or no work

- Ans
- 1. Honorary
 - 2. Director
 - 3. Volunteer
 - 4. Sinecure

Question ID : 630680833998

Option 1 ID : 6306803266871

Option 2 ID : 6306803266873

Option 3 ID : 6306803266872

Option 4 ID : 6306803266870

Q.5 Select the most appropriate option for the given blank.

We help over 12 million people per month to learn how to live _____ more leveraged life.

- Ans
- 1. a
 - 2. No article
 - 3. an
 - 4. the

Question ID : 630680834234

Option 1 ID : 6306803267767

Option 2 ID : 6306803267769

Option 3 ID : 6306803267768

Option 4 ID : 6306803267766

0.6 The question below consists of a set of labelled sentences. Out of the four options given, select the most logical order of the sentences to form a coherent paragraph.

P. Adapted by scientists for laboratory use as a molecular biology tool, CRISPR has greatly reduced the time and cost associated with gene editing in a broad range of organisms.

Q. CRISPR gives researchers the ability to more easily add, remove, or change regions of an organism's DNA.

R. CRISPR stands for Clustered Regularly Interspaced Short Palindromic Repeats and it is a naturally occurring genetic feature of bacteria used to fight invading viruses.

S. Genetic engineering is not new—the capability to manipulate human DNA, and the associated ethical concerns, have been around since the 1970s.

Ans

1. SRPQ

2. QSPR

3. RQSP

4. PSQR

Question ID : 630680833995

Option 1 ID : 6306803266860

Option 2 ID : 6306803266859

Option 3 ID : 6306803266858

Option 4 ID : 6306803266861

0.7 A sentence has been given with a blank to be filled with an appropriate option. Choose the correct alternative.

You always _____ to be in a war mindset, knowing that your days are going to be _____ with challenges.

Ans

1. have, filled

2. have, fill

3. had, filling

4. has, fill

Question ID : 630680833984

Option 1 ID : 6306803266816

Option 2 ID : 6306803266814

Option 3 ID : 6306803266815

Option 4 ID : 6306803266817

0.8 A sentence has been given with a blank to be filled with an appropriate option. Choose the correct alternative.

Why did he _____ the fact that his first wife's son _____ be here tonight?

Ans

1. hid, will

2. hide, would

3. hidden, could

4. hides, can

Question ID : 630680834026

Option 1 ID : 6306803266975

Option 2 ID : 6306803266977

Option 3 ID : 6306803266974

Option 4 ID : 6306803266976

0.9 In the following question, out of the given four alternatives, select the alternative which best expresses the meaning of the Idiom/Phrase.

To take up the hatchet

- Ans
- 1. To leave the assigned task
 - 2. To prepare for or go to war
 - 3. To take a short break
 - 4. To surrender before someone

Question ID : 630680834218

Option 1 ID : 6306803267706

Option 2 ID : 6306803267707

Option 3 ID : 6306803267708

Option 4 ID : 6306803267709

0.10 Choose the word that can substitute the given group of words.

A house of shelter for a horse

- Ans
- 1. Kennel
 - 2. Sty
 - 3. Burrow
 - 4. Stable

Question ID : 630680834249

Option 1 ID : 6306803267827

Option 2 ID : 6306803267826

Option 3 ID : 6306803267829

Option 4 ID : 6306803267828

0.11 A sentence has been given with a blank to be filled with an appropriate option. Choose the correct alternative.

I _____ two half-filled cups of coffee _____ my bedside table from last night.

- Ans
- 1. saw, into
 - 2. seen, of
 - 3. saw, on
 - 4. see, in

Question ID : 630680834154

Option 1 ID : 6306803267462

Option 2 ID : 6306803267464

Option 3 ID : 6306803267465

Option 4 ID : 6306803267463

0.12 Choose the idiom/phrase that can substitute the highlighted group of words meaningfully.

He's an impressive player to watch, but he's **physically very strong but not very intelligent**.

- Ans
- 1. Be all brawn and no brains
 - 2. Lump in the throat
 - 3. Cut corners
 - 4. Tongue And Cheek

Question ID : 630680834090
Option 1 ID : 6306803267221
Option 2 ID : 6306803267220
Option 3 ID : 6306803267219
Option 4 ID : 6306803267218

0.13 A sentence has been given with a blank to be filled with an appropriate option. Choose the correct alternative.

Vitamin D deficiency is now more prevalent than ever, _____ a billion people worldwide being vitamin D deficient.

- Ans
- 1. with around
 - 2. somewhere about
 - 3. to about
 - 4. round to

Question ID : 630680833987
Option 1 ID : 6306803266826
Option 2 ID : 6306803266829
Option 3 ID : 6306803266827
Option 4 ID : 6306803266828

0.14 Improve the underlined part of the sentence. Choose 'No improvement' as an answer if the sentence is grammatically correct.

I have asked for a appointment with the commissioner.

- Ans
- 1. for a appointment with an
 - 2. No improvement
 - 3. for an appointment with the
 - 4. for the appointment with an

Question ID : 630680834199
Option 1 ID : 6306803267636
Option 2 ID : 6306803267637
Option 3 ID : 6306803267635
Option 4 ID : 6306803267634

0.15 Choose the word that can substitute the given group of words.

A person who is self – indulgent in their fondness for luxury

- Ans
- 1. Veteran
 - 2. Virtuoso
 - 3. Sybarite
 - 4. Connoisseur

Question ID : 630680833977
Option 1 ID : 6306803266868
Option 2 ID : 6306803266869
Option 3 ID : 6306803266866
Option 4 ID : 6306803266867

0.16 Improve the underlined part of the sentence. Choose 'No improvement' as an answer if the sentence is grammatically correct.

The dog's paws was wet from the dew on the lawn.

- Ans
- 1. was wetter
 - 2. were wet
 - 3. were wets
 - 4. No improvement

Question ID : 630680834242
Option 1 ID : 6306803267800
Option 2 ID : 6306803267798
Option 3 ID : 6306803267799
Option 4 ID : 6306803267801

0.17 Select the most appropriate option for the given blank.

I will eat _____ breakfast with my friends.

- Ans
- 1. the
 - 2. an
 - 3. No article
 - 4. a

Question ID : 630680834151
Option 1 ID : 6306803267450
Option 2 ID : 6306803267452
Option 3 ID : 6306803267453
Option 4 ID : 6306803267451

Q.18 Choose the word that means the same as the given word.

Narcissist

- Ans
- 1. Xenophobe
 - 2. Humanitarian
 - 3. Philanthropist
 - 4. Egotist

Question ID : 630680834220
Option 1 ID : 6306803267714
Option 2 ID : 6306803267715
Option 3 ID : 6306803267717
Option 4 ID : 6306803267716

Q.19 Improve the underlined part of the sentence. Choose 'No improvement' as an answer if the sentence is grammatically correct.

All is well and good until things don't turn over for a nation.

- Ans
- 1. until things turns over for
 - 2. unless things don't turn off for
 - 3. No improvement
 - 4. until things turn down for

Question ID : 630680834035
Option 1 ID : 6306803267010
Option 2 ID : 6306803267011
Option 3 ID : 6306803267013
Option 4 ID : 6306803267012

Q.20 Improve the underlined part of the sentence. Choose 'No improvement' as an answer if the sentence is grammatically correct.

Ever since I was five years old, I have dreamt of traveling to space.

- Ans
- 1. I dreamt of
 - 2. No improvement
 - 3. I had been dreaming of
 - 4. I am dreaming of

Question ID : 630680834245
Option 1 ID : 6306803267811
Option 2 ID : 6306803267813
Option 3 ID : 6306803267810
Option 4 ID : 6306803267812

0.1 The question below consists of a set of labelled sentences. Out of the four options given, select the most logical order of the sentences to form a coherent paragraph.

- P. When bacteria are exposed to an antibiotic over a long period of time, they can evolve a resistance to the drug.
Q. Like other organisms, bacterial populations adapt and evolve over time.
R. Initially, bacteria treated with antibiotics will die, but if some bacteria happen to have a genetic mutation that makes them resistant to the antibiotics, those bacteria will continue to survive and multiply.
S. Through a process known as vertical gene transfer, resistant bacteria will reproduce and pass on this resistance to their offspring and create a whole new generation of resistant bacteria.

- Ans
- 1. QPRS
 - 2. SPRQ
 - 3. PRQS
 - 4. PSRQ

Question ID : 630680834078
Option 1 ID : 6306803267176
Option 2 ID : 6306803267174
Option 3 ID : 6306803267175
Option 4 ID : 6306803267177

0.2 Select the most appropriate homonym for the given blank.

The budget airline offered a low _____ for the short-haul flight.

- Ans
- 1. fair
 - 2. fur
 - 3. far
 - 4. fare

Question ID : 630680834140
Option 1 ID : 6306803267412
Option 2 ID : 6306803267410
Option 3 ID : 6306803267411
Option 4 ID : 6306803267413

0.3 Select the sentence with no spelling errors.

- Ans
- 1. The height of this lamp isn't convenient for reading.
 - 2. The height of this lamp isn't convinient for reading.
 - 3. The height of this lamp isn't convenient for reeding.
 - 4. The hight of this lamp isn't convenient for reading.

Question ID : 630680834101
Option 1 ID : 6306803267264
Option 2 ID : 6306803267263
Option 3 ID : 6306803267265
Option 4 ID : 6306803267262

Q.4 Improve the underlined part of the sentence. Choose 'No improvement' as an answer if the sentence is grammatically correct.

Try to vary your routine to avoiding boredom.

Ans

1. No improvement

2. to avoid

3. to avoided

4. to avoids

Question ID : 630680834074

Option 1 ID : 6306803267161

Option 2 ID : 6306803267160

Option 3 ID : 6306803267158

Option 4 ID : 6306803267159

Q.5 Select the sentence with no spelling errors.

Ans

1. The island is inaccessible except by boat.

2. The island is inaccessible except by boat.

3. The island is inaccessible expebt by boat.

4. The ieland is inaccessible except by boat.

Question ID : 630680834143

Option 1 ID : 6306803267423

Option 2 ID : 6306803267422

Option 3 ID : 6306803267425

Option 4 ID : 6306803267424

Q.6 Choose the word that can substitute the given group of words.

A form of government that is part democracy and part dictatorship

Ans

1. Democracy

2. Monocracy

3. Anocracy

4. Gerontocracy

Question ID : 630680834041

Option 1 ID : 6306803267035

Option 2 ID : 6306803267036

Option 3 ID : 6306803267034

Option 4 ID : 6306803267037

0.7 Choose the most appropriate antonym of the underlined word.

Digital contact tracing is a supplement to traditional manual contact tracing.

- Ans
- 1. an addendum
 - 2. extra
 - 3. addition
 - 4. core

Question ID : 630680834055
Option 1 ID : 6306803267086
Option 2 ID : 6306803267088
Option 3 ID : 6306803267089
Option 4 ID : 6306803267087

0.8 Choose the most appropriate synonym of the underlined word.

Wherever he fought, his great figure and stentorian voice were prominent in the conflict

- Ans
- 1. calm
 - 2. loud
 - 3. melodious
 - 4. stringent

Question ID : 630680834138
Option 1 ID : 6306803267405
Option 2 ID : 6306803267404
Option 3 ID : 6306803267402
Option 4 ID : 6306803267403

0.9 Choose the word that is opposite in meaning to the given word.

Abridged

- Ans
- 1. Pruned
 - 2. Tapered
 - 3. Aggrandized
 - 4. Depressed

Question ID : 630680834137
Option 1 ID : 6306803267398
Option 2 ID : 6306803267400
Option 3 ID : 6306803267399
Option 4 ID : 6306803267401

Q.10 Select the most appropriate homonym for the given blank.

The pirate's treasure map _____ the adventurous group to a secluded island.

- Ans
- 1. laid
 - 2. lead
 - 3. lade
 - 4. led

Question ID : 630680834057

Option 1 ID : 6306803267096

Option 2 ID : 6306803267095

Option 3 ID : 6306803267097

Option 4 ID : 6306803267094

Comprehension:

Read the following passage and answer the questions given below.

Man who is believed to have evolved from apes, is a curious mixture of varied motives. He is not only the subject of needs but also their creator. He not only seeks to satisfy his needs but also caters to his desire for beauty and grace. He is eager to satisfy his passion for more and more knowledge. Although in a general way, the maxim 'Necessity is the mother of invention' is true but by no means is the whole truth. Man is something much greater than an intelligent being using his intellect to make newer inventions from time to time. He has within him a spirit which is ever exhorting him to cut down his needs and learn to be happy with what he has. The real purpose underlying this maxim lies in its utility in the worldly sense. It tells us to be up and doing, not to be passive in our attitude to life. It asks us not to remain slaves of old habits and ways of life. We must face the new situations with a creative mind. Every new difficulty, every new problem, which confirms us in life can be tackled successfully with the spirit of inventiveness.

SubQuestion No : 11

Q.11 Choose the word which is most opposite in meaning to the word 'exhort' as used in passage.

- Ans
- 1. urge
 - 2. deter
 - 3. tell
 - 4. seek

Question ID : 630680834257

Option 1 ID : 6306803267855

Option 2 ID : 6306803267854

Option 3 ID : 6306803267857

Option 4 ID : 6306803267856

Comprehension:

Read the following passage and answer the questions given below.

Man who is believed to have evolved from apes, is a curious mixture of varied motives. He is not only the subject of needs but also their creator. He not only seeks to satisfy his needs but also caters to his desire for beauty and grace. He is eager to satisfy his passion for more and more knowledge. Although in a general way, the maxim 'Necessity is the mother of invention' is true but by no means is the whole truth. Man is something much greater than an intelligent being using his intellect to make newer inventions from time to time. He has within him a spirit which is ever exhorting him to cut down his needs and learn to be happy with what he has. The real purpose underlying this maxim lies in its utility in the worldly sense. It tells us to be up and doing, not to be passive in our attitude to life. It asks us not to remain slaves of old habits and ways of life. We must face the new situations with a creative mind. Every new difficulty, every new problem, which confirms us in life can be tackled successfully with the spirit of inventiveness.

SubQuestion No : 12

Q.12 Choose the word which is most nearly the same meaning as the word given in bold, as used in the passage.

MAXIM

Ans

- 1. Plan
- 2. Dupe
- 3. Drop
- 4. Proverb

Question ID : 630680834255

Option 1 ID : 6306803267848

Option 2 ID : 6306803267847

Option 3 ID : 6306803267849

Option 4 ID : 6306803267846

Comprehension:

Read the following passage and answer the questions given below.

Man who is believed to have evolved from apes, is a curious mixture of varied motives. He is not only the subject of needs but also their creator. He not only seeks to satisfy his needs but also caters to his desire for beauty and grace. He is eager to satisfy his passion for more and more knowledge. Although in a general way, the maxim 'Necessity is the mother of invention' is true but by no means is the whole truth. Man is something much greater than an intelligent being using his intellect to make newer inventions from time to time. He has within him a spirit which is ever exhorting him to cut down his needs and learn to be happy with what he has. The real purpose underlying this maxim lies in its utility in the worldly sense. It tells us to be up and doing, not to be passive in our attitude to life. It asks us not to remain slaves of old habits and ways of life. We must face the new situations with a creative mind. Every new difficulty, every new problem, which confirms us in life can be tackled successfully with the spirit of inventiveness.

SubQuestion No : 13

Q.13 Which of the following statements is true in the context of the passage?

Ans

- 1. Spirit of inventiveness can be useful but not always graceful.
- 2. Man is an eternal seeker of knowledge.
- 3. The spirit of man always warns against cutting down his needs.
- 4. Man is using his intellect only to make new inventions.

Question ID : 630680834254

Option 1 ID : 6306803267844

Option 2 ID : 6306803267845

Option 3 ID : 6306803267843

Option 4 ID : 6306803267842

Comprehension:

Read the following passage and answer the questions given below.

Man who is believed to have evolved from apes, is a curious mixture of varied motives. He is not only the subject of needs but also their creator. He not only seeks to satisfy his needs but also caters to his desire for beauty and grace. He is eager to satisfy his passion for more and more knowledge. Although in a general way, the maxim 'Necessity is the mother of invention' is true but by no means is the whole truth. Man is something much greater than an intelligent being using his intellect to make newer inventions from time to time. He has within him a spirit which is ever exhorting him to cut down his needs and learn to be happy with what he has. The real purpose underlying this maxim lies in its utility in the worldly sense. It tells us to be up and doing, not to be passive in our attitude to life. It asks us not to remain slaves of old habits and ways of life. We must face the new situations with a creative mind. Every new difficulty, every new problem, which confirms us in life can be tackled successfully with the spirit of inventiveness.

SubQuestion No : 14

Q.14 Through the passage, the author wants to _____.

- Ans
- 1. Falsify the maxim 'Necessity is the mother of invention'
 - 2. Encourage us to identify our needs and cut down on resources.
 - 3. Dissuade us against the spirit of inventiveness.
 - 4. Motivate us to be inquisitive and inventive.

Question ID : 630680834256

Option 1 ID : 6306803267851

Option 2 ID : 6306803267853

Option 3 ID : 6306803267850

Option 4 ID : 6306803267852

Comprehension:

Read the following passage and answer the questions given below.

Man who is believed to have evolved from apes, is a curious mixture of varied motives. He is not only the subject of needs but also their creator. He not only seeks to satisfy his needs but also caters to his desire for beauty and grace. He is eager to satisfy his passion for more and more knowledge. Although in a general way, the maxim 'Necessity is the mother of invention' is true but by no means is the whole truth. Man is something much greater than an intelligent being using his intellect to make newer inventions from time to time. He has within him a spirit which is ever exhorting him to cut down his needs and learn to be happy with what he has. The real purpose underlying this maxim lies in its utility in the worldly sense. It tells us to be up and doing, not to be passive in our attitude to life. It asks us not to remain slaves of old habits and ways of life. We must face the new situations with a creative mind. Every new difficulty, every new problem, which confirms us in life can be tackled successfully with the spirit of inventiveness.

SubQuestion No : 15

Q.15 The maxim 'Necessity is the mother of invention' teaches man to _____.

- Ans
- 1. remain slaves of old habits and ways of life
 - 2. be active and creative in life
 - 3. cut down his needs and learn to be happy with what he has
 - 4. use his intellect to make newer inventions from time to time

Question ID : 630680834253

Option 1 ID : 6306803267841

Option 2 ID : 6306803267838

Option 3 ID : 6306803267840

Option 4 ID : 6306803267839

Comprehension:

In the following passage some of the words have been left out. Read the passage carefully and select the correct answer for the given blank out of the four alternatives.

Obsessive-compulsive disorder (OCD) is a significant mental health diagnosis in __ (1) __ 21st century. The World Health Organization (WHO) lists it as __ (2) __ of the ten most disabling illnesses in terms of loss of earning and reduced quality of life, and OCD is frequently __ (3) __ as the fourth most common __ (4) __ disorder globally __ (5) __ depression, substance abuse and social phobias (anxiety about social interactions).

SubQuestion No : 16

Q.16 Select the most appropriate option for blank(1).

- Ans
- 1. No article
 - 2. the
 - 3. a
 - 4. an

Question ID : 630680834229

Option 1 ID : 6306803267749

Option 2 ID : 6306803267748

Option 3 ID : 6306803267746

Option 4 ID : 6306803267747

Comprehension:

In the following passage some of the words have been left out. Read the passage carefully and select the correct answer for the given blank out of the four alternatives.

Obsessive-compulsive disorder (OCD) is a significant mental health diagnosis in __ (1) __ 21st century. The World Health Organization (WHO) lists it as __ (2) __ of the ten most disabling illnesses in terms of loss of earning and reduced quality of life, and OCD is frequently __ (3) __ as the fourth most common __ (4) __ disorder globally __ (5) __ depression, substance abuse and social phobias (anxiety about social interactions).

SubQuestion No : 17

Q.17 Select the most appropriate option for blank(4).

- Ans
- 1. physical
 - 2. health
 - 3. mental
 - 4. primal

Question ID : 630680834232

Option 1 ID : 6306803267759

Option 2 ID : 6306803267758

Option 3 ID : 6306803267761

Option 4 ID : 6306803267760

Comprehension:

In the following passage some of the words have been left out. Read the passage carefully and select the correct answer for the given blank out of the four alternatives.

Obsessive-compulsive disorder (OCD) is a significant mental health diagnosis in __ (1) __ 21st century. The World Health Organization (WHO) lists it as __ (2) __ of the ten most disabling illnesses in terms of loss of earning and reduced quality of life, and OCD is frequently __ (3) __ as the fourth most common __ (4) __ disorder globally __ (5) __ depression, substance abuse and social phobias (anxiety about social interactions).

SubQuestion No : 18

Q.18 Select the most appropriate option for blank(5).

- Ans
- 1. below
 - 2. after
 - 3. towards
 - 4. before

Question ID : 630680834233

Option 1 ID : 6306803267764

Option 2 ID : 6306803267762

Option 3 ID : 6306803267765

Option 4 ID : 6306803267763

Comprehension:

In the following passage some of the words have been left out. Read the passage carefully and select the correct answer for the given blank out of the four alternatives.

Obsessive-compulsive disorder (OCD) is a significant mental health diagnosis in __ (1) __ 21st century. The World Health Organization (WHO) lists it as __ (2) __ of the ten most disabling illnesses in terms of loss of earning and reduced quality of life, and OCD is frequently __ (3) __ as the fourth most common __ (4) __ disorder globally __ (5) __ depression, substance abuse and social phobias (anxiety about social interactions).

SubQuestion No : 19

Q.19 Select the most appropriate option for blank(3).

- Ans
- 1. asked
 - 2. sited
 - 3. sighted
 - 4. cited

Question ID : 630680834231

Option 1 ID : 6306803267757

Option 2 ID : 6306803267754

Option 3 ID : 6306803267756

Option 4 ID : 6306803267755

Comprehension:

In the following passage some of the words have been left out. Read the passage carefully and select the correct answer for the given blank out of the four alternatives.

Obsessive-compulsive disorder (OCD) is a significant mental health diagnosis in __ (1) __ 21st century. The World Health Organization (WHO) lists it as __ (2) __ of the ten most disabling illnesses in terms of loss of earning and reduced quality of life, and OCD is frequently __ (3) __ as the fourth most common __ (4) __ disorder globally __ (5) __ depression, substance abuse and social phobias (anxiety about social interactions).

SubQuestion No : 20

Q.20 Select the most appropriate option for blank(2).

- Ans
- 1. single
 - 2. one
 - 3. none
 - 4. prime

Question ID : 630680834230

Option 1 ID : 6306803267751

Option 2 ID : 6306803267750

Option 3 ID : 6306803267753

Option 4 ID : 6306803267752

Section : Test of Hindi Language and Comprehension 1

- Q.1
1. और द्वेष की वह चिंगारी पड़ गयी, जो आज बीस वर्ष बीतने पर भी न बुझी थी
 2. मदारी और सुबोध के ग्रहों में ही विरोध था। दोनों
 3. और पहले ही दिन से दिल में ईर्ष्या
 4. एक ही दिन, एक ही शाला में भरती हुए
- प्रस्तुत खंडित वाक्य में वाक्य संरचना का सही क्रम क्या होगा?

- Ans
- 1. 3,1,2,4
 - 2. 1,4,2,3
 - 3. 4,1,3,2
 - 4. 2,4,3,1

Question ID : 630680832096

Option 1 ID : 6306803259380

Option 2 ID : 6306803259377

Option 3 ID : 6306803259378

Option 4 ID : 6306803259379

Q.2 निम्नलिखित वाक्य का वह भाग ज्ञात करें, जिसमें कोई त्रुटि है।

स्वास्थ्य महज प्रतिरक्षा बढ़ाने का खेल है और इस 'इम्युनिटी' की काफी सारी समाधान हमारे खाने-पीने और जीवन शैली में निहित होते हैं।

Ans

- 1. स्वास्थ्य महज प्रतिरक्षा बढ़ाने
- 2. की काफी सारी समाधान हमारे
- 3. का खेल है और इस 'इम्युनिटी'
- 4. खाने-पीने और जीवन शैली में निहित होते हैं।

Question ID : 630680832010

Option 1 ID : 6306803259049

Option 2 ID : 6306803259051

Option 3 ID : 6306803259050

Option 4 ID : 6306803259052

Q.3 निम्नलिखित प्रश्न में, दिए गए चार विकल्पों में से, उस विकल्प का चयन करें जो दिए गए मुहावरे के अर्थ को सर्वश्रेष्ठ रूप से व्यक्त करता है।

घुटने टेक देना

Ans

- 1. दया भाव न रखना
- 2. खुशियाँ मनाना
- 3. हार मान लेना
- 4. बहुत प्रिय होना

Question ID : 630680832071

Option 1 ID : 6306803259284

Option 2 ID : 6306803259281

Option 3 ID : 6306803259283

Option 4 ID : 6306803259282

Q.4 निम्नलिखित प्रश्न में, दिए गए चार विकल्पों में से, उस विकल्प का चयन करें जो दी गई लोकोक्ति के अर्थ को सर्वश्रेष्ठ रूप से व्यक्त करता है।

अब की अब के साथ, जब की जब के साथ

Ans

- 1. मूर्ख के समान व्यवहार करना
- 2. जो सामने हो, उसी की चिंता करनी चाहिए
- 3. दूसरो को हानि पहुँचाना
- 4. किसी और की वस्तु का मनमाना उपयोग करना

Question ID : 630680831986

Option 1 ID : 6306803258958

Option 2 ID : 6306803258959

Option 3 ID : 6306803258957

Option 4 ID : 6306803258960

0.5 दिए गए वाक्य में उचित विशेषण का चयन करके रिक्त स्थान की पूर्ति करें।

मुझे _____ सिल्क का कपड़ा अपनी ड्रेस बनाने के लिए चाहिए।

Ans

- 1. बहुत
- 2. पाँच मीटर
- 3. दो लीटर
- 4. दस किलोमीटर

Question ID : 630680831897

Option 1 ID : 6306803258617

Option 2 ID : 6306803258619

Option 3 ID : 6306803258620

Option 4 ID : 6306803258618

0.6 निम्नलिखित वाक्य में रेखांकित शब्दों में त्रुटि जात कर त्रुटिरहित विकल्प का चयन करें। यदि कोई त्रुटि नहीं है, तो 'कोई त्रुटि नहीं है' चुनें।

अलमारी से रद्दी कागजों के साथ एक लिफाफा भी वजन से थोड़ा भारी होने के कारण खट-से नीचे गिर पड़ा।

Ans

- 1. अलमारी से रद्दी कागजों के साथ एक लिफाफा भी वजन से ज़रा भारी होने के कारण खट-से नीचे गिर पड़ा।
- 2. कोई त्रुटि नहीं है
- 3. अलमारी से रद्दी कागजों के साथ एक लिफाफा भी वजन से ज़रा भारी होने के कारण खट-से नीचे गिर पड़ा।
- 4. अलमारी से रद्दी कागजों के साथ एक लिफाफा भी वजन से ज़रा भारी होने के कारण खट-से निचे गिर पड़ा।

Question ID : 630680831908

Option 1 ID : 6306803258663

Option 2 ID : 6306803258664

Option 3 ID : 6306803258661

Option 4 ID : 6306803258662

0.7 दिए गए वाक्यांश के लिए सार्थक शब्द ज्ञात कीजिए।

जो क्षमा न किया जा सके

Ans

- 1. अक्षम्य
- 2. अनादि
- 3. अनूदित
- 4. असामयिक

Question ID : 630680831894

Option 1 ID : 6306803258606

Option 2 ID : 6306803258608

Option 3 ID : 6306803258605

Option 4 ID : 6306803258607

Q.8 निम्नलिखित प्रश्न में, दिए गए चार विकल्पों में से, उस विकल्प का चयन करें जो दी गई लोकोक्ति के अर्थ को सर्वश्रेष्ठ रूप से व्यक्त करता है।

कभी नाव गाड़ी पर, कभी गाड़ी नाव पर

Ans

- 1. नाव को गाड़ी पर ले जाना
- 2. अलग यातायात से यात्रा करना
- 3. स्थितियों का एकदम विपरीत परिवर्तन
- 4. गाड़ी को नाव पर ले जाना

Question ID : 630680831985

Option 1 ID : 6306803258956

Option 2 ID : 6306803258954

Option 3 ID : 6306803258953

Option 4 ID : 6306803258955

Q.9 निम्नलिखित वाक्यों को क, ख, ग और घ के लेबल से क्रमांकित किया गया है जो उसी क्रम से एक स्पष्ट पैराग्राफ/वाक्य बनाते हैं किन्तु इनमें से एक लेबल 'अतिरिक्त' है और उसके बिना भी पैराग्राफ/वाक्य सही रहेगा। निम्नलिखित विकल्पों में से उस अतिरिक्त लेबल का चयन करें।

क. सम्भवतः अपनी सहज चेतना से ही उसने समझ लिया होगा कि साँप

ख. के फन पर चाँच मारने से खरगोश भी घायल हो सकता है। उसने साँप को फन के

ग. पास पंजों से दबाया और फिर चाँच से इतने प्रहार किये कि वह अधमरा हो गया

घ. केवल एक शिशु खरगोश साँप की पकड़ में आ गया।

Ans

- 1. ख
- 2. क
- 3. घ
- 4. ग

Question ID : 630680831924

Option 1 ID : 6306803258722

Option 2 ID : 6306803258721

Option 3 ID : 6306803258724

Option 4 ID : 6306803258723

0.10

1. मदारीलाल ने पहला ही सरकारी लिफाफा खोला था कि
 2. उन पर बड़े-बड़े आघात हो चुके थे; पर इतने बहदवास वे कभी न हुए थे
 3. उनका रंग फीका पड़ गया। वे कई मिनट तक आश्चर्यान्वित
 4. हालत में खड़े रहे, मानो सारी ज्ञानेन्द्रियाँ शिथिल हो गयी हों
- प्रस्तुत खंडित वाक्य में वाक्य संरचना का सही क्रम क्या होगा?

Ans

1. 3,1,2,4
2. 2,4,1,3
3. 1,3,4,2
4. 4,1,3,2

Question ID : 630680831971

Option 1 ID : 6306803258903

Option 2 ID : 6306803258902

Option 3 ID : 6306803258901

Option 4 ID : 6306803258904

0.11

दिए गए वाक्य में उचित कारक का चयन करके रिक्त स्थान की पूर्ति करें।

राकेश _____ ज़रूरत के समय मदद के लिए मना करके बता दिया कि वह कितना बड़ा धोखेबाज़ है।

Ans

1. ने
2. का
3. पर
4. अरे

Question ID : 630680831942

Option 1 ID : 6306803258790

Option 2 ID : 6306803258789

Option 3 ID : 6306803258791

Option 4 ID : 6306803258792

0.12

दिए गए वाक्य में उचित कारक का चयन करके रिक्त स्थान की पूर्ति करें।

चूहे _____ दांतों से रस्सी कुतरी और अपने बिल में भाग गया।

Ans

1. को
2. के लिए
3. ने
4. से

Question ID : 630680831857

Option 1 ID : 6306803258466

Option 2 ID : 6306803258468

Option 3 ID : 6306803258465

Option 4 ID : 6306803258467

0.13 निम्नलिखित वाक्य में रेखांकित शब्दों में त्रुटि जात कर त्रुटिरहित विकल्प का चयन करें। यदि कोई त्रुटि नहीं है, तो कोई त्रुटि नहीं है चुनें।

दिन-भर कार्य की अधिकता के कारण मुझे भोजन करना याद न रहा।

Ans 1.

दिन-भर कार्य की अधिकता के कारण मुझे भोजन करना याद न रहा।

2. कोई त्रुटि नहीं है

3.

दिन-भर कार्य की अधिकता के कारण मुझे भोजन करना याद न रहा।

4.

दिन-भर कार्य की अधिकता के कारण मुझे भोजन करना याद न रहा।

Question ID : 630680831909

Option 1 ID : 6306803258665

Option 2 ID : 6306803258668

Option 3 ID : 6306803258667

Option 4 ID : 6306803258666

0.14 निम्नलिखित वाक्य का वह भाग जात करें, जिसमें कोई त्रुटि है।

वंशवाद के आरोपों से घिरा रहने वाली हिंदी फिल्म इंडस्ट्री में छोटे छोटे शहरों और गांव-देहात से आए तमाम कलाकार अपनी जगह धीरे धीरे बनाने में लगे हुए हैं।

Ans

1. धीरे धीरे बनाने में लगे हुए हैं।

2. आए तमाम कलाकार अपनी जगह

3. वंशवाद के आरोपों से घिरा रहने वाली हिंदी

4. फिल्म इंडस्ट्री में छोटे छोटे शहरों और गांव-देहात से

Question ID : 630680831843

Option 1 ID : 6306803258416

Option 2 ID : 6306803258415

Option 3 ID : 6306803258413

Option 4 ID : 6306803258414

0.15 निम्नलिखित वाक्यों को क, ख, ग और घ के लेबल से क्रमांकित किया गया है जो उसी क्रम से एक स्पष्ट पैराग्राफ/वाक्य बनाते हैं किन्तु इनमें से एक लेबल 'अतिरिक्त' है और उसके बिना भी पैराग्राफ/वाक्य सही रहेगा। निम्नलिखित विकल्पों में से उस अतिरिक्त लेबल का चयन करें।

क. पानी में बदवू बढ़ गई है

ख. पर्यावरण में बढ़ता प्रदूषण न ही सिर्फ

ग. मनुष्यों के लिए, अपितु पशु- पक्षियों

घ. के जीवन के लिए भी हानिकारक है

Ans

1. घ

2. ग

3. क

4. ख

Question ID : 630680832050

Option 1 ID : 6306803259204

Option 2 ID : 6306803259203

Option 3 ID : 6306803259201

Option 4 ID : 6306803259202

0.16 निम्नलिखित प्रश्न में, दिए गए चार विकल्पों में से, उस विकल्प का चयन करें जो दिए गए मुहावरे के अर्थ को सर्वश्रेष्ठ रूप से व्यक्त करता है।

आँखों में धूल झोंकना

Ans

1. साहस दिखाना

2. थकावट होना

3. धोखा देना

4. संकोच न करना

Question ID : 630680831947

Option 1 ID : 6306803258809

Option 2 ID : 6306803258810

Option 3 ID : 6306803258811

Option 4 ID : 6306803258812

0.17 निम्नलिखित प्रश्न में, दिए गए चार विकल्पों में से, उस विकल्प का चयन करें जो दिए गए मुहावरे के अर्थ को सर्वश्रेष्ठ रूप से व्यक्त करता है।

अपना उल्लू सीधा करना

Ans

1. अक्ल काम न करना

2. किसी पर ध्यान न देना

3. अपना काम निकालना

4. बहुत प्रसन्न होना

Question ID : 630680831946

Option 1 ID : 6306803258806

Option 2 ID : 6306803258808

Option 3 ID : 6306803258805

Option 4 ID : 6306803258807

0.18 दिए गए वाक्य में उचित कारक का चयन करके रिक्त स्थान की पूर्ति करें।
पेड़ _____ चहचहाते हुए पक्षी अत्यंत मनोहर लगते हैं।

- Ans
- 1. के लिए
 - 2. पर
 - 3. का
 - 4. ने

Question ID : 630680831984
Option 1 ID : 6306803258951
Option 2 ID : 6306803258950
Option 3 ID : 6306803258949
Option 4 ID : 6306803258952

0.19 दिए गए वाक्य में उचित विशेषण का चयन करके रिक्त स्थान की पूर्ति करें।
किशोर _____ स्वभाव का है इसीलिए सब उससे डरते हैं।

- Ans
- 1. सूखा
 - 2. परिश्रमी
 - 3. गीला
 - 4. कठोर

Question ID : 630680832065
Option 1 ID : 6306803259259
Option 2 ID : 6306803259258
Option 3 ID : 6306803259257
Option 4 ID : 6306803259260

0.20 दिए गए वाक्यांश के लिए सार्थक शब्द ज्ञात कीजिए।
वह हथियार जो फेंककर चलाया जा सके

- Ans
- 1. चक्र
 - 2. शस्त्र
 - 3. अस्त्र
 - 4. ढाल

Question ID : 630680831937
Option 1 ID : 6306803258769
Option 2 ID : 6306803258772
Option 3 ID : 6306803258770
Option 4 ID : 6306803258771

0.1 निम्नलिखित वाक्य में रेखांकित शब्दों में त्रुटि जात कर त्रुटिरहित विकल्प का चयन करें। यदि कोई त्रुटि नहीं है, तो कोई त्रुटि नहीं है चुनें।

सुभद्रा कुमारी चौहान एक भारतीय कवयित्री, लेखिका और स्वतंत्रता सेनानी हैं।

Ans ✓ 1.

सुभद्रा कुमारी चौहान एक भारतीय कवयित्री, लेखिका और स्वतंत्रता सेनानी हैं।

✗ 2.

सुभद्रा कुमारी चौहान एक भारतीय कवयित्री, लेखिका और स्वतंत्रता सेनानी हैं।

✗ 3. कोई त्रुटि नहीं है

✗ 4.

सुभद्रा कुमारी चौहान एक भारतीय कवयित्री, लेखिका और स्वतंत्रता सेनानी हैं।

Question ID : 630680831991
Option 1 ID : 6306803258979
Option 2 ID : 6306803258977
Option 3 ID : 6306803258980
Option 4 ID : 6306803258978

0.2 निम्नलिखित शब्द के अनेकार्थी शब्द का चयन करें।

पट

Ans ✓ 1. दरवाज़ा

✗ 2. पंचभूत

✗ 3. आधार

✗ 4. शक्ति

Question ID : 630680831997
Option 1 ID : 6306803259002
Option 2 ID : 6306803259004
Option 3 ID : 6306803259001
Option 4 ID : 6306803259003

0.3 नीचे दिए गए शब्द का पर्यायवाची शब्द जात करें।

खबर

Ans ✓ 1. जानकारी

✗ 2. विहग

✗ 3. दरिद्र

✗ 4. करुणा

Question ID : 630680832083
Option 1 ID : 6306803259331
Option 2 ID : 6306803259330
Option 3 ID : 6306803259332
Option 4 ID : 6306803259329

Q.4 निम्नलिखित वाक्य में रेखांकित शब्द का तत्सम शब्द ज्ञात करें।

अपना पूत सबको प्यारा होता है। उसकी हर गलती माफ़ कर दी जाती है।

Ans

- 1. पूर्ण
- 2. पीत
- 3. पुत्र
- 4. पंचम

Question ID : 630680831995

Option 1 ID : 6306803258995

Option 2 ID : 6306803258994

Option 3 ID : 6306803258993

Option 4 ID : 6306803258996

Q.5 निम्नलिखित वाक्य में रेखांकित शब्द का तद्भव शब्द ज्ञात करें।

अपना काम पूर्ण होने के बाद ही मैं वहाँ से निकला।

Ans

- 1. पंथ
- 2. पूरा
- 3. पीला
- 4. पंख

Question ID : 630680832036

Option 1 ID : 6306803259149

Option 2 ID : 6306803259152

Option 3 ID : 6306803259151

Option 4 ID : 6306803259150

Q.6 नीचे दिए गए शब्द का पर्यायवाची शब्द ज्ञात करें।

पुत्र

Ans

- 1. पावक
- 2. तनूजा
- 3. तनया
- 4. तनय

Question ID : 630680832040

Option 1 ID : 6306803259168

Option 2 ID : 6306803259167

Option 3 ID : 6306803259166

Option 4 ID : 6306803259165

Q.7 निम्नलिखित वाक्य में रेखांकित शब्दों में त्रुटि जात कर त्रुटिरहित विकल्प का चयन करें। यदि कोई त्रुटि नहीं है, तो 'कोई त्रुटि नहीं है' चुनें।

शाम को जब मैं भोजन करके लेटा तो क्रम से दिन भर की घटनाओं पर विचार करने लगा।

Ans 1.

शाम को जब मैं भोजन करके लेटा तो क्रम से दिन भर की घटनाओं पर विचार करने लगा।

2.

शाम को जब मैं भोजन करके लेटा तो कर्म से दिन भर की घटनाओं पर विचार करने लगा।

3.

शाम को जब मैं भोजन करके लेटा तो क्रम से दिन भर की घटनाओं पर विचार करने लगा।

4. कोई त्रुटि नहीं है

Question ID : 630680831948

Option 1 ID : 6306803258814

Option 2 ID : 6306803258815

Option 3 ID : 6306803258813

Option 4 ID : 6306803258816

Q.8 निम्नलिखित शब्द का विलोम शब्द ज्ञात करें।

पराधीन

Ans 1. साकार

2. नवीन

3. स्वाधीन

4. कोमल

Question ID : 630680832085

Option 1 ID : 6306803259339

Option 2 ID : 6306803259338

Option 3 ID : 6306803259340

Option 4 ID : 6306803259337

Q.9 निम्नलिखित शब्द के अनेकार्थी शब्द का चयन करें।

अरुण

Ans 1. बन्दर

2. लाल

3. धन

4. फर्क

Join Telegram Group "HaryanaJobs.in"

Question ID : 630680831954

Option 1 ID : 6306803258839

Option 2 ID : 6306803258837

Option 3 ID : 6306803258840

Option 4 ID : 6306803258838

Q.10

नीचे दिए गए शब्द का पर्यायवाची शब्द ज्ञात करें।

नौका

Ans

1. चीर
2. ललना
3. तरिणी
4. जलज

Question ID : 630680831957

Option 1 ID : 6306803258850

Option 2 ID : 6306803258849

Option 3 ID : 6306803258852

Option 4 ID : 6306803258851

Comprehension:

निम्नलिखित गद्यांश के आधार पर पाँच प्रश्न दिए गए हैं। गद्यांश को ध्यानपूर्वक पढ़ें तथा प्रत्येक प्रश्न के चार विकल्पों में से सही विकल्प चुनें।

एक वक्त था, जब विश्वविद्यालयों में ज्यादातर राजनीतिक नियुक्तियां होती थीं और दूसरे पदों पर नियुक्तियों में भी काफी पैसा चलता था। ऐसे में कमजोर वर्गों के लोगों का शैक्षिक पदों में समावेश बेहद मुश्किल था, क्योंकि उनके पास इतने आर्थिक संसाधन नहीं थे, कि वे नियुक्ति के सपने देख सकें। जाहिर है कि इन पदों पर कमजोर वर्गों का प्रतिनिधित्व भी तकरीबन शून्य ही हुआ करता था। अर्हता के मानक और व्यवस्था की नकारात्मक दृष्टि के कारण करोड़ों की आबादी वाले ये समुदाय एक फीसदी भी समावेश पाने से वंचित थे। किसी को पता भी नहीं चलता था, और बगैर किसी शैक्षिक मूल्यांकन के चोर दरवाजे से विश्वविद्यालय रूपी मंदिर में उच्च पदों पर नियुक्तियां होती थीं। नतीजा यह होता था कि कमजोर वर्गों के छात्र व छात्राएं काफी हतोत्साहित रहते थे और उच्च शिक्षा के प्रति काफी उदासीन भी। लेकिन अब तस्वीर बदल रही है। आज बाकायदा पदों के विज्ञापन छपते हैं। सर्व कमेटियां बैठती हैं। रिसर्च एडमिनिस्ट्रेटिव अनुभव और बौद्धिक विकास की संकल्पना को साकार करते सत्यनिष्ठ आचार्यों की उपलब्धियों से विश्वविद्यालयों के उच्चतम पदों की गरिमा में वृद्धि की संभावनाएं बढ़ रही हैं। अब राजनीतिक प्रतिबद्धता से मुक्त, अपने अकादमिक दायित्वों, विद्या-विकास के प्रति निष्ठा और सामूहिकता की भावना जैसे गुणों को नियुक्ति के वक्त तरजीह दी जाती है।

उल्लेखनीय है कि शिक्षा, साहित्य और संस्कृति के क्षेत्र की समृद्धि राष्ट्र की सामाजिक समृद्धि की रीढ़ होती है। उन आचार्यों को प्रमुखता दी जा रही है, जिनके पास अपेक्षित उच्च स्तरीय उपाधियां हों, जिन्होंने उच्च स्तरीय रिसर्च किया हो, जिनकी कला-विज्ञान या मीडिया विषयक पुस्तकें विश्वविद्यालयों के पाठ्यक्रम में शामिल हों, जिनके अनुवाद देशी-विदेशी भाषाओं में हों और जिनके रचना कर्म को लेकर देश के अनेक विश्वविद्यालयों में दर्जनों एम.फिल., पीएच.डी. के रूप में शोध कार्य हो चुके हों।

हमें सभी वर्गों के लोगों को समान दृष्टि से देखना चाहिए ताकि सभी को एक साथ उन्नति के मार्ग पर लेकर जाया जा सके। देश का विकास तभी संभव है यदि सभी लोगों का विकास हो सके। अगर कोई एक भी छूट गया तब सब वापिस पहले से ही शुरू करना पड़ सकता है।

SubQuestion No : 11

Q.11 गद्यांश के आधार पर उचित केंद्रीय विषय का चयन करें।

Ans

1. कमजोर वर्गों की वोट के लिए राजनीतिक नियुक्तियां
2. पीएच.डी में कमजोर वर्गों के लोगों का बढ़ता दाखिला
3. कमजोर वर्गों के हित के लिए सरकार की तरफ से बढ़ते कदम
4. शैक्षिक पदों पर राजनीतिक नियुक्तियां, कमजोर वर्गों के लोगों का शून्य प्रतिनिधित्व और अब उसकी बदलती तस्वीर

Question ID : 630680832047

Option 1 ID : 6306803259189

Option 2 ID : 6306803259190

Option 3 ID : 6306803259191

Option 4 ID : 6306803259192

Comprehension:

निम्नलिखित गद्यांश के आधार पर पाँच प्रश्न दिए गए हैं। गद्यांश को ध्यानपूर्वक पढ़ें तथा प्रत्येक प्रश्न के चार विकल्पों में से सही विकल्प चुनें।

एक वक्त था, जब विश्वविद्यालयों में ज्यादातर राजनीतिक नियुक्तियां होती थीं और दूसरे पदों पर नियुक्तियों में भी काफी पैसा चलता था। ऐसे में कमजोर वर्गों के लोगों का शैक्षिक पदों में समावेश बेहद मुश्किल था, क्योंकि उनके पास इतने आर्थिक संसाधन नहीं थे, कि वे नियुक्ति के सपने देख सकें। जाहिर है कि इन पदों पर कमजोर वर्गों का प्रतिनिधित्व भी तकरीबन शून्य ही हुआ करता था। अर्हता के मानक और व्यवस्था की नकारात्मक दृष्टि के कारण करोड़ों की आबादी वाले ये समुदाय एक फीसदी भी समावेश पाने से वंचित थे। किसी को पता भी नहीं चलता था, और बगैर किसी शैक्षिक मूल्यांकन के चोर दरवाजे से विश्वविद्यालय रूपी मंदिर में उच्च पदों पर नियुक्तियां होती थीं। नतीजा यह होता था कि कमजोर वर्गों के छात्र व छात्राएं काफी हतोत्साहित रहते थे और उच्च शिक्षा के प्रति काफी उदासीन भी। लेकिन अब तस्वीर बदल रही है। आज बाकायदा पदों के विज्ञापन छपते हैं। सर्च कमेटियां बैठती हैं। रिसर्च एडमिनिस्ट्रेटिव अनुभव और बौद्धिक विकास की संकल्पना को साकार करते सत्यनिष्ठ आचार्यों की उपलब्धियों से विश्वविद्यालयों के उच्चतम पदों की गरिमा में वृद्धि की संभावनाएं बढ़ रही हैं। अब राजनीतिक प्रतिबद्धता से मुक्त, अपने अकादमिक दायित्वों, विद्या-विकास के प्रति निष्ठा और सामूहिकता की भावना जैसे गुणों को नियुक्ति के वक्त तरजीह दी जाती है। उल्लेखनीय है कि शिक्षा, साहित्य और संस्कृति के क्षेत्र की समृद्धि राष्ट्र की सामाजिक समृद्धि की रीढ़ होती है। उन आचार्यों को प्रमुखता दी जा रही है, जिनके पास अपेक्षित उच्च स्तरीय उपाधियां हों, जिन्होंने उच्च स्तरीय रिसर्च किया हो, जिनकी कला-विज्ञान या मीडिया विषयक पुस्तकें विश्वविद्यालयों के पाठ्यक्रम में शामिल हों, जिनके अनुवाद देशी-विदेशी भाषाओं में हों और जिनके रचना कर्म को लेकर देश के अनेक विश्वविद्यालयों में दर्जनों एम.फिल., पीएच.डी. के रूप में शोध कार्य हो चुके हों। हमें सभी वर्गों के लोगों को समान दृष्टि से देखना चाहिए ताकि सभी को एक साथ उन्नति के मार्ग पर लेकर जाया जा सके। देश का विकास तभी संभव है यदि सभी लोगों का विकास हो सके। अगर कोई एक भी छूट गया तब सब वापिस पहले से ही शुरू करना पड़ सकता है।

SubQuestion No : 12

Q.12 गद्यांश के आधार पर, निम्नलिखित वाक्य में प्रयुक्त, रेखांकित शब्द का उचित पर्यायवाची शब्द ज्ञात करें। कमजोर वर्गों के लोगों का शैक्षिक पदों में समावेश बेहद मुश्किल था, क्योंकि उनके पास इतने आर्थिक संसाधन नहीं थे।

- Ans
- 1. वारि
 - 2. आसान
 - 3. दुष्कर
 - 4. मनोरथ

Question ID : 630680832049

Option 1 ID : 6306803259200

Option 2 ID : 6306803259198

Option 3 ID : 6306803259197

Option 4 ID : 6306803259199

Comprehension:

निम्नलिखित गद्यांश के आधार पर पाँच प्रश्न दिए गए हैं। गद्यांश को ध्यानपूर्वक पढ़ें तथा प्रत्येक प्रश्न के चार विकल्पों में से सही विकल्प चुनें।

एक वक्त था, जब विश्वविद्यालयों में ज्यादातर राजनीतिक नियुक्तियां होती थीं और दूसरे पदों पर नियुक्तियों में भी काफी पैसा चलता था। ऐसे में कमजोर वर्गों के लोगों का शैक्षिक पदों में समावेश बेहद मुश्किल था, क्योंकि उनके पास इतने आर्थिक संसाधन नहीं थे, कि वे नियुक्ति के सपने देख सकें। जाहिर है कि इन पदों पर कमजोर वर्गों का प्रतिनिधित्व भी तकरीबन शून्य ही हुआ करता था। अर्हता के मानक और व्यवस्था की नकारात्मक दृष्टि के कारण करोड़ों की आबादी वाले ये समुदाय एक फीसदी भी समावेश पाने से वंचित थे। किसी को पता भी नहीं चलता था, और बगैर किसी शैक्षिक मूल्यांकन के चोर दरवाजे से विश्वविद्यालय रूपी मंदिर में उच्च पदों पर नियुक्तियां होती थीं। नतीजा यह होता था कि कमजोर वर्गों के छात्र व छात्राएं काफी हतोत्साहित रहते थे और उच्च शिक्षा के प्रति काफी उदासीन भी। लेकिन अब तस्वीर बदल रही है। आज बाकायदा पदों के विज्ञापन छपते हैं। सर्च कमेटियां बैठती हैं। रिसर्च एडमिनिस्ट्रेटिव अनुभव और बौद्धिक विकास की संकल्पना को साकार करते सत्यनिष्ठ आचार्यों की उपलब्धियों से विश्वविद्यालयों के उच्चतम पदों की गरिमा में वृद्धि की संभावनाएं बढ़ रही हैं। अब राजनीतिक प्रतिबद्धता से मुक्त, अपने अकादमिक दायित्वों, विद्या-विकास के प्रति निष्ठा और सामूहिकता की भावना जैसे गुणों को नियुक्ति के वक्त तरजीह दी जाती है। उल्लेखनीय है कि शिक्षा, साहित्य और संस्कृति के क्षेत्र की समृद्धि राष्ट्र की सामाजिक समृद्धि की रीढ़ होती है। उन आचार्यों को प्रमुखता दी जा रही है, जिनके पास अपेक्षित उच्च स्तरीय उपाधियां हों, जिन्होंने उच्च स्तरीय रिसर्च किया हो, जिनकी कला-विज्ञान या मीडिया विषयक पुस्तकें विश्वविद्यालयों के पाठ्यक्रम में शामिल हों, जिनके अनुवाद देशी-विदेशी भाषाओं में हों और जिनके रचना कर्म को लेकर देश के अनेक विश्वविद्यालयों में दर्जनों एम.फिल., पीएच.डी. के रूप में शोध कार्य हो चुके हों। हमें सभी वर्गों के लोगों को समान दृष्टि से देखना चाहिए ताकि सभी को एक साथ उन्नति के मार्ग पर लेकर जाया जा सके। देश का विकास तभी संभव है यदि सभी लोगों का विकास हो सके। अगर कोई एक भी छूट गया तब सब वापिस पहले से ही शुरू करना पड़ सकता है।

SubQuestion No : 13

Q.13 गद्यांश के आधार पर, निम्नलिखित वाक्य में प्रयुक्त, रेखांकित शब्द का उचित विलोम शब्द ज्ञात करें। हमें सभी वर्गों के लोगों को समान दृष्टि से देखना चाहिए ताकि सभी को एक साथ उन्नति के मार्ग पर लेकर जाया जा सके।

Ans

1. अवनति
 2. प्रगति
 3. प्रवृत्ति
 4. प्रकृति

Question ID : 630680832048

Option 1 ID : 6306803259195

Option 2 ID : 6306803259193

Option 3 ID : 6306803259194

Option 4 ID : 6306803259196

Comprehension:

निम्नलिखित गद्यांश के आधार पर पाँच प्रश्न दिए गए हैं। गद्यांश को ध्यानपूर्वक पढ़ें तथा प्रत्येक प्रश्न के चार विकल्पों में से सही विकल्प चुनें।

एक वक्त था, जब विश्वविद्यालयों में ज्यादातर राजनीतिक नियुक्तियां होती थीं और दूसरे पदों पर नियुक्तियों में भी काफी पैसा चलता था। ऐसे में कमजोर वर्गों के लोगों का शैक्षिक पदों में समावेश बेहद मुश्किल था, क्योंकि उनके पास इतने आर्थिक संसाधन नहीं थे, कि वे नियुक्ति के सपने देख सकें। जाहिर है कि इन पदों पर कमजोर वर्गों का प्रतिनिधित्व भी तकरीबन शून्य ही हुआ करता था। अर्हता के मानक और व्यवस्था की नकारात्मक दृष्टि के कारण करोड़ों की आबादी वाले ये समुदाय एक फीसदी भी समावेश पाने से वंचित थे। किसी को पता भी नहीं चलता था, और बगैर किसी शैक्षिक मूल्यांकन के चोर दरवाजे से विश्वविद्यालय रूपी मंदिर में उच्च पदों पर नियुक्तियां होती थीं। नतीजा यह होता था कि कमजोर वर्गों के छात्र व छात्राएं काफी हतोत्साहित रहते थे और उच्च शिक्षा के प्रति काफी उदासीन भी। लेकिन अब तस्वीर बदल रही है। आज बाकायदा पदों के विज्ञापन छपते हैं। सर्च कमेटियां बैठती हैं। रिसर्च एडमिनिस्ट्रेटिव अनुभव और बौद्धिक विकास की संकल्पना को साकार करते सत्यनिष्ठ आचार्यों की उपलब्धियों से विश्वविद्यालयों के उच्चतम पदों की गरिमा में वृद्धि की संभावनाएं बढ़ रही हैं। अब राजनीतिक प्रतिबद्धता से मुक्त, अपने अकादमिक दायित्वों, विद्या-विकास के प्रति निष्ठा और सामूहिकता की भावना जैसे गुणों को नियुक्ति के वक्त तरजीह दी जाती है। उल्लेखनीय है कि शिक्षा, साहित्य और संस्कृति के क्षेत्र की समृद्धि राष्ट्र की सामाजिक समृद्धि की रीढ़ होती है। उन आचार्यों को प्रमुखता दी जा रही है, जिनके पास अपेक्षित उच्च स्तरीय उपाधियां हों, जिन्होंने उच्च स्तरीय रिसर्च किया हो, जिनकी कला-विज्ञान या मीडिया विषयक पुस्तकें विश्वविद्यालयों के पाठ्यक्रम में शामिल हों, जिनके अनुवाद देशी-विदेशी भाषाओं में हों और जिनके रचना कर्म को लेकर देश के अनेक विश्वविद्यालयों में दर्जनों एम.फिल., पीएच.डी. के रूप में शोध कार्य हो चुके हों। हमें सभी वर्गों के लोगों को समान दृष्टि से देखना चाहिए ताकि सभी को एक साथ उन्नति के मार्ग पर लेकर जाया जा सके। देश का विकास तभी संभव है यदि सभी लोगों का विकास हो सके। अगर कोई एक भी छूट गया तब सब वापिस पहले से ही शुरू करना पड़ सकता है।

SubQuestion No : 14

Q.14 उपर्युक्त गद्यांश का उचित मूल भाव चुनें।

- Ans
- 1. संस्कृति में कमजोर वर्ग की समग्रता
 - 2. साहित्य में कमजोर वर्ग की समग्रता
 - 3. शैक्षिक पदों में कमजोर वर्ग की समग्रता
 - 4. अस्पतालों में कमजोर वर्ग की समग्रता

Question ID : 630680832046

Option 1 ID : 6306803259185

Option 2 ID : 6306803259186

Option 3 ID : 6306803259188

Option 4 ID : 6306803259187

Comprehension:

निम्नलिखित गद्यांश के आधार पर पाँच प्रश्न दिए गए हैं। गद्यांश को ध्यानपूर्वक पढ़ें तथा प्रत्येक प्रश्न के चार विकल्पों में से सही विकल्प चुनें।

एक वक्त था, जब विश्वविद्यालयों में ज्यादातर राजनीतिक नियुक्तियां होती थीं और दूसरे पदों पर नियुक्तियों में भी काफी पैसा चलता था। ऐसे में कमजोर वर्गों के लोगों का शैक्षिक पदों में समावेश बेहद मुश्किल था, क्योंकि उनके पास इतने आर्थिक संसाधन नहीं थे, कि वे नियुक्ति के सपने देख सकें। जाहिर है कि इन पदों पर कमजोर वर्गों का प्रतिनिधित्व भी तकरीबन शून्य ही हुआ करता था। अर्हता के मानक और व्यवस्था की नकारात्मक दृष्टि के कारण करोड़ों की आबादी वाले ये समुदाय एक फीसदी भी समावेश पाने से वंचित थे। किसी को पता भी नहीं चलता था, और बगैर किसी शैक्षिक मूल्यांकन के चोर दरवाजे से विश्वविद्यालय रूपी मंदिर में उच्च पदों पर नियुक्तियां होती थीं। नतीजा यह होता था कि कमजोर वर्गों के छात्र व छात्राएं काफी हतोत्साहित रहते थे और उच्च शिक्षा के प्रति काफी उदासीन भी। लेकिन अब तस्वीर बदल रही है। आज बाकायदा पदों के विज्ञापन छपते हैं। सर्च कमेटियां बैठती हैं। रिसर्च एडमिनिस्ट्रेटिव अनुभव और बौद्धिक विकास की संकल्पना को साकार करते सत्यनिष्ठ आचार्यों की उपलब्धियों से विश्वविद्यालयों के उच्चतम पदों की गरिमा में वृद्धि की संभावनाएं बढ़ रही हैं। अब राजनीतिक प्रतिबद्धता से मुक्त, अपने अकादमिक दायित्वों, विद्या-विकास के प्रति निष्ठा और सामूहिकता की भावना जैसे गुणों को नियुक्ति के वक्त तरजीह दी जाती है। उल्लेखनीय है कि शिक्षा, साहित्य और संस्कृति के क्षेत्र की समृद्धि राष्ट्र की सामाजिक समृद्धि की रीढ़ होती है। उन आचार्यों को प्रमुखता दी जा रही है, जिनके पास अपेक्षित उच्च स्तरीय उपाधियां हों, जिन्होंने उच्च स्तरीय रिसर्च किया हो, जिनकी कला-विज्ञान या मीडिया विषयक पुस्तकें विश्वविद्यालयों के पाठ्यक्रम में शामिल हों, जिनके अनुवाद देशी-विदेशी भाषाओं में हों और जिनके रचना कर्म को लेकर देश के अनेक विश्वविद्यालयों में दर्जनों एम.फिल., पीएच.डी. के रूप में शोध कार्य हो चुके हों। हमें सभी वर्गों के लोगों को समान दृष्टि से देखना चाहिए ताकि सभी को एक साथ उन्नति के मार्ग पर लेकर जाया जा सके। देश का विकास तभी संभव है यदि सभी लोगों का विकास हो सके। अगर कोई एक भी छूट गया तब सब वापिस पहले से ही शुरू करना पड़ सकता है।

SubQuestion No : 15

Q.15 गद्यांश को ध्यान में रखते हुए 'उल्लेखनीय' शब्द का उपयुक्त अर्थ ज्ञात करें।

- Ans
- 1. हँसने योग्य
 - 2. आलोचना करने योग्य
 - 3. खाने योग्य
 - 4. ध्यान देने योग्य

Question ID : 630680832045

Option 1 ID : 6306803259183

Option 2 ID : 6306803259181

Option 3 ID : 6306803259184

Option 4 ID : 6306803259182

Comprehension:

नीचे दिए गए पदों में कुछ शब्द छोड़ दिए गए हैं, प्रत्येक रिक्त स्थान के चार विकल्प दिए गए हैं। इन चारों में से कौन सा विकल्प रिक्त स्थान की पूर्ति करेगा।

पृथ्वी की पर्यायवरण चिंताओं पर विचार और समस्याओं के _____(1) के लिए दुबई में आयोजित हो रहा कॉप-28 इसलिए भी महत्वपूर्ण है क्योंकि ग्लोबल वॉर्मिंग का असर हमारे जीवन पर _____(2) दिखने लगा है। 2021 में हुए पेरिस समझौते में दुनिया का _____(3) जिस 1.5 डिग्री सेल्सियस पर ही रोकने की बात की गई थी, इस साल 38 से भी अधिक दिन ऐसे रहे हैं जिनमें तापमान _____(4) से डेढ़ डिग्री ज्यादा रहा था। महासागर _____(5) से गर्म हो रहे हैं।

SubQuestion No : 16

Q.16 रिक्त स्थान (5) के लिए उपयुक्त विकल्प का चयन कीजिए।

- Ans
- 1. धूप
 - 2. हौले
 - 3. ठंड
 - 4. तेज़ी

Question ID : 630680832103

Option 1 ID : 6306803259402

Option 2 ID : 6306803259401

Option 3 ID : 6306803259403

Option 4 ID : 6306803259404

Comprehension:

नीचे दिए गए पदों में कुछ शब्द छोड़ दिए गए हैं, प्रत्येक रिक्त स्थान के चार विकल्प दिए गए हैं। इन चारों में से कौन सा विकल्प रिक्त स्थान की पूर्ति करेगा।
पृथ्वी की पर्यायवरण चिंताओं पर विचार और समस्याओं के _____(1) के लिए दुबई में आयोजित हो रहा कॉप-28 इसलिए भी महत्वपूर्ण है क्योंकि ग्लोबल वॉर्मिंग का असर हमारे जीवन पर _____(2) दिखने लगा है। 2021 में हुए पेरिस समझौते में दुनिया का _____(3) जिस 1.5 डिग्री सेल्सियस पर ही रोकने की बात की गई थी, इस साल 38 से भी अधिक दिन ऐसे रहे हैं जिनमें तापमान _____(4) से डेढ़ डिग्री ज्यादा रहा था। महासागर _____(5) से गर्म हो रहे हैं।

SubQuestion No : 17

Q.17 रिक्त स्थान (3) के लिए उपयुक्त विकल्प का चयन कीजिए।

- Ans
- 1. बलशाली
 - 2. समृद्ध
 - 3. अस्तित्व
 - 4. तापमान

Question ID : 630680832101

Option 1 ID : 6306803259396

Option 2 ID : 6306803259394

Option 3 ID : 6306803259393

Option 4 ID : 6306803259395

Comprehension:

नीचे दिए गए पदों में कुछ शब्द छोड़ दिए गए हैं, प्रत्येक रिक्त स्थान के चार विकल्प दिए गए हैं। इन चारों में से कौन सा विकल्प रिक्त स्थान की पूर्ति करेगा।
पृथ्वी की पर्यायवरण चिंताओं पर विचार और समस्याओं के _____(1) के लिए दुबई में आयोजित हो रहा कॉप-28 इसलिए भी महत्वपूर्ण है क्योंकि ग्लोबल वॉर्मिंग का असर हमारे जीवन पर _____(2) दिखने लगा है। 2021 में हुए पेरिस समझौते में दुनिया का _____(3) जिस 1.5 डिग्री सेल्सियस पर ही रोकने की बात की गई थी, इस साल 38 से भी अधिक दिन ऐसे रहे हैं जिनमें तापमान _____(4) से डेढ़ डिग्री ज्यादा रहा था। महासागर _____(5) से गर्म हो रहे हैं।

SubQuestion No : 18

Q.18 रिक्त स्थान (4) के लिए उपयुक्त विकल्प का चयन कीजिए।

- Ans
- 1. तीव्र
 - 2. धीमे
 - 3. औसत
 - 4. मान

Question ID : 630680832102

Option 1 ID : 6306803259398

Option 2 ID : 6306803259400

Option 3 ID : 6306803259397

Option 4 ID : 6306803259399

Comprehension:

नीचे दिए गए पदों में कुछ शब्द छोड़ दिए गए हैं, प्रत्येक रिक्त स्थान के चार विकल्प दिए गए हैं। इन चारों में से कौन सा विकल्प रिक्त स्थान की पूर्ति करेगा।

पृथ्वी की पर्यायवरण चिंताओं पर विचार और समस्याओं के _____(1) के लिए दुबई में आयोजित हो रहा कॉप-28 इसलिए भी महत्वपूर्ण है क्योंकि ग्लोबल वॉर्मिंग का असर हमारे जीवन पर _____(2) दिखने लगा है। 2021 में हुए पेरिस समझौते में दुनिया का _____(3) जिस 1.5 डिग्री सेल्सियस पर ही रोकने की बात की गई थी, इस साल 38 से भी अधिक दिन ऐसे रहे हैं जिनमें तापमान _____(4) से डेढ़ डिग्री ज्यादा रहा था। महासागर _____(5) से गर्म हो रहे हैं।

SubQuestion No : 19

Q.19 रिक्त स्थान (2) के लिए उपयुक्त विकल्प का चयन कीजिए।

- Ans
- 1. मंदी-मंदी
 - 2. ज़रा-ज़रा
 - 3. हल्का-हल्का
 - 4. साफ-साफ

Question ID : 630680832100

Option 1 ID : 6306803259391

Option 2 ID : 6306803259390

Option 3 ID : 6306803259392

Option 4 ID : 6306803259389

Comprehension:

नीचे दिए गए पदों में कुछ शब्द छोड़ दिए गए हैं, प्रत्येक रिक्त स्थान के चार विकल्प दिए गए हैं। इन चारों में से कौन सा विकल्प रिक्त स्थान की पूर्ति करेगा।

पृथ्वी की पर्यायवरण चिंताओं पर विचार और समस्याओं के _____(1) के लिए दुबई में आयोजित हो रहा कॉप-28 इसलिए भी महत्वपूर्ण है क्योंकि ग्लोबल वॉर्मिंग का असर हमारे जीवन पर _____(2) दिखने लगा है। 2021 में हुए पेरिस समझौते में दुनिया का _____(3) जिस 1.5 डिग्री सेल्सियस पर ही रोकने की बात की गई थी, इस साल 38 से भी अधिक दिन ऐसे रहे हैं जिनमें तापमान _____(4) से डेढ़ डिग्री ज्यादा रहा था। महासागर _____(5) से गर्म हो रहे हैं।

SubQuestion No : 20

Q.20 रिक्त स्थान (1) के लिए उपयुक्त विकल्प का चयन कीजिए।

- Ans
- 1. सावधानी
 - 2. ज्ञानता
 - 3. समाधान
 - 4. प्रकोप

Question ID : 630680832099

Option 1 ID : 6306803259388

Option 2 ID : 6306803259385

Option 3 ID : 6306803259386

Option 4 ID : 6306803259387



GOVT. OF NCT OF DELHI
Delhi Subordinate Services Selection Board
FC-18, Institutional Area, Karkardooma, Delhi - 110092.
www.dsssb.delhigovt.nic.in

Participant ID	231131202039914
Participant Name	LAKSHAY VERMA
Test Center Name	iON Digital Zone iDZ 2 Sector 62
Test Date	19/06/2024
Test Time	8:30 AM - 10:30 AM
Subject	Warder Reserved for male Only

Section : General intelligence and Reasoning Ability 1

Q.1 In a certain code language, CAMEL is written as LEMAC and LIMCA is written as ACMIL. How DESERT will be written in the same code language?

- Ans 1. TRESER
 2. EDESRT
 3. EDRETS
 4. DESTRE

Question ID : [630680835313](#)
Option 1 ID : [6306803272034](#)
Option 2 ID : [6306803272036](#)
Option 3 ID : [6306803272037](#)
Option 4 ID : [6306803272035](#)

Q.2 सचिन(लड़का) के पिता के पिता के इकलौते पोते कि माँ से सचिन(लड़का) किस प्रकार संबंधित है?

- Ans 1. पिता
 2. दादा
 3. बेटा
 4. माँ

Question ID : [630680849058](#)
Option 1 ID : [6306803325763](#)
Option 2 ID : [6306803325762](#)
Option 3 ID : [6306803325765](#)
Option 4 ID : [6306803325764](#)

Q.3 किसी भी वैज्ञानिक और तकनीकी तथ्यों की परवाह किए बिना केवल सामान्य ज्ञान और सामान्य मानसिक क्षमता पर आधारित निम्नलिखित में से कौन सा विकल्प सच्चियों और मसालों के आधार पर अन्य तीन विकल्पों से अलग है?

- Ans
- 1. प्याज़
 - 2. खीरा
 - 3. लौंग
 - 4. कद्दू

Question ID : [630680849884](#)
Option 1 ID : [6306803328770](#)
Option 2 ID : [6306803328771](#)
Option 3 ID : [6306803328772](#)
Option 4 ID : [6306803328769](#)

Q.4 छह सहपाठी पारुल, कविता, राशु, सुमित, तरुणा और उर्मि एक गोलाकार मेज पर केंद्र की ओर मुंह करके बैठे हैं। सुमित तरुणा के ठीक दाईं ओर बैठा है। राशु पारुल और कविता के बीच बैठा है। उर्मि, तरुणा और पारुल के बीच बैठी है। गोलाकार मेज पर सुमित के सामने कौन बैठा है?

- Ans
- 1. कविता
 - 2. पारुल
 - 3. राशु
 - 4. तरुणा

Question ID : [630680849859](#)
Option 1 ID : [6306803328672](#)
Option 2 ID : [6306803328671](#)
Option 3 ID : [6306803328669](#)
Option 4 ID : [6306803328670](#)

Q.5 Read the given statement(s) and conclusions carefully. Assuming that the information given in the statements is true, even if it appears to be at variance with commonly known facts, decide which of the given conclusions logically follow(s) from the statement(s).

Statements:

- A. All carrom are cricket.
- B. All cricket are Hockey

Conclusions:

- 1. All carrom are hockey.
- 2. All hockey are carrom.

- Ans
- 1. Neither conclusion 1 nor 2 follows
 - 2. Only conclusion 1 follows
 - 3. Both conclusion 1 and 2 follow
 - 4. Only conclusion 2 follows

Question ID : [630680835430](#)
Option 1 ID : [6306803272508](#)
Option 2 ID : [6306803272506](#)
Option 3 ID : [6306803272509](#)
Option 4 ID : [6306803272507](#)

Q.6 What will come in the place of question mark (?) in the following series to make it logically complete?

OPQ, QQO, ORQ, QSO, OTQ, ?

- Ans 1. OVQ
 2. QUO
 3. QVO
 4. OUQ

Question ID : [630680849889](#)
Option 1 ID : [6306803328789](#)
Option 2 ID : [6306803328791](#)
Option 3 ID : [6306803328790](#)
Option 4 ID : [6306803328792](#)

Q.7 नीचे दी गई श्रृंखला में ऐसी कितनी संख्याएँ हैं जिनमें से प्रत्येक के ठीक पहले एक प्रतीक है?

9 H # T 5 \$ K 2 L 2 % B ^ 8 J * 1 (L 5 ! D 3 F 7

- Ans 1. 6
 2. 5
 3. 2
 4. 4

Question ID : [630680849807](#)
Option 1 ID : [6306803328468](#)
Option 2 ID : [6306803328467](#)
Option 3 ID : [6306803328465](#)
Option 4 ID : [6306803328466](#)

Q.8 सबसे छोटे से लेकर सबसे बड़े जानवरों के आकार के आधार पर निम्नलिखित शब्दों का सार्थक क्रम क्या होगा?

1. चूहा
2. बिल्ली
3. सियार
4. बाघ

- Ans 1. 2, 3, 4, 1
 2. 1, 2, 4, 3
 3. 2, 3, 1, 4
 4. 1, 2, 3, 4

Question ID : [630680849756](#)
Option 1 ID : [6306803328265](#)
Option 2 ID : [6306803328267](#)
Option 3 ID : [6306803328266](#)
Option 4 ID : [6306803328268](#)

Q.9 What will come in place of the question mark (?) to make the following series logically complete based on only the numerical values of the letters?

S, Y, D, H, K, ?

- Ans 1. O
 2. M
 3. N
 4. P

Question ID : [630680849888](#)
Option 1 ID : [6306803328787](#)
Option 2 ID : [6306803328785](#)
Option 3 ID : [6306803328786](#)
Option 4 ID : [6306803328788](#)

Q.10 W means '+', X means '-', Y means '×' and Z means \div , then what will be the value of the following expression?

8 Y 7 W 11 X 18 Z 3 =?

- Ans 1. 62
 2. 63
 3. 60
 4. 61

Question ID : [630680849895](#)
Option 1 ID : [6306803328815](#)
Option 2 ID : [6306803328816](#)
Option 3 ID : [6306803328813](#)
Option 4 ID : [6306803328814](#)

Q.11 Which of the following pairs is similar to the expression given below on the basis of composite and prime numbers only?
7 : 73

- Ans 1. 2 : 14
 2. 3 : 31
 3. 3 : 80
 4. 9 : 61

Question ID : [630680849904](#)
Option 1 ID : [6306803328849](#)
Option 2 ID : [6306803328852](#)
Option 3 ID : [6306803328851](#)
Option 4 ID : [6306803328850](#)

Q.12 Which of the following options will replace the question mark on the basis of human beings/objects and their place of keeping, on the basis of general mental ability and general mental understanding only, without paying attention to scientific and technical facts?

Patient : Hospital :: Car : ?

- Ans 1. Wardrove
 2. Bed
 3. Garage
 4. Dispensary

Question ID : [630680835328](#)
Option 1 ID : [6306803272095](#)
Option 2 ID : [6306803272094](#)
Option 3 ID : [6306803272097](#)
Option 4 ID : [6306803272096](#)

Q.13 एक गायन प्रतियोगिता में कई गायक एक पंक्ति में खड़े हैं। दोनों ओर से, एक गायक का रैंक 29 पाया गया। पंक्ति में कुल कितने गायक हैं?

- Ans 1. 59
 2. 57
 3. 56
 4. 58

Question ID : [630680835306](#)
Option 1 ID : [6306803272009](#)
Option 2 ID : [6306803272007](#)
Option 3 ID : [6306803272006](#)
Option 4 ID : [6306803272008](#)

Q.14 If P = '+', Q = '-', R = 'x' and S = '÷', then what will be the value of the following expression?

8 R 2 Q 7 P 9 S 3

- Ans 1. 18
 2. 24
 3. 12
 4. 15

Question ID : [630680835402](#)
Option 1 ID : [6306803272395](#)
Option 2 ID : [6306803272397](#)
Option 3 ID : [6306803272396](#)
Option 4 ID : [6306803272394](#)

Q.15 छह दोस्त अमिता, विनीता, चांदनी, दीया, नीरजा और रोशनी उत्तर की ओर मुंह करके एक पंक्ति में बैठी हैं। अमिता बाएँ से चांदनी के ठीक पहले बैठी है। चांदनी अमिता और नीरजा के बीच में बैठी है। विनीता, नीरजा के ठीक दाईं ओर बैठी है। रोशनी अमिता के ठीक बायें बैठी है। यदि दीया पंक्ति के दाएँ छोर पर बैठी है, तो पंक्ति के दाएँ ओर से दीया और नीरजा के बीच में कौन बैठा है?

- Ans
- 1. रोशनी
 - 2. विनीता
 - 3. चांदनी
 - 4. नीरजा

Question ID : [630680835304](#)

Option 1 ID : [6306803272001](#)

Option 2 ID : [6306803271998](#)

Option 3 ID : [6306803271999](#)

Option 4 ID : [6306803272000](#)

Q.16 Based on only cube and subtraction method of numbers, which of the following pairs is similar to the expression given below?

(60 : 24)

(210 : 120)

- Ans
- 1. 100 : 220
 - 2. 504 : 336
 - 3. 216 : 512
 - 4. 216 : 170

Question ID : [630680835458](#)

Option 1 ID : [6306803272618](#)

Option 2 ID : [6306803272619](#)

Option 3 ID : [6306803272620](#)

Option 4 ID : [6306803272621](#)

Q.17 In a certain code language, PARA is written as APAR and TIME is written as ITEM. How YEAR will be written in the same code language?

- Ans
- 1. EYRA
 - 2. EYAR
 - 3. ARYE
 - 4. AREY

Question ID : [630680849749](#)

Option 1 ID : [6306803328237](#)

Option 2 ID : [6306803328238](#)

Option 3 ID : [6306803328239](#)

Option 4 ID : [6306803328240](#)

Q.18 What will come in place of the question mark (?) to make the series given below logically complete by using addition and subtraction processes only whichever may be applicable?

41, 44, 52, 55, 63, ?, ?

- Ans
- 1. 65, 58
 - 2. 58, 65
 - 3. 66, 74
 - 4. 74, 66

Question ID : [630680849898](#)
Option 1 ID : [6306803328825](#)
Option 2 ID : [6306803328826](#)
Option 3 ID : [6306803328828](#)
Option 4 ID : [6306803328827](#)

Q.19 Sanjiv is 26th from the top and 13th from the bottom in the class. How many total students are there in the class?

- Ans
- 1. 37
 - 2. 35
 - 3. 36
 - 4. 38

Question ID : [630680835366](#)
Option 1 ID : [6306803272252](#)
Option 2 ID : [6306803272250](#)
Option 3 ID : [6306803272251](#)
Option 4 ID : [6306803272253](#)

Q.20 Find the figure which is different from the remaining figure options given below.



1 2 3 4

- Ans
- 1. 2
 - 2. 4
 - 3. 1
 - 4. 3

Question ID : [630680849893](#)
Option 1 ID : [6306803328806](#)
Option 2 ID : [6306803328808](#)
Option 3 ID : [6306803328805](#)
Option 4 ID : [6306803328807](#)

Section : General intelligence and Reasoning Ability 2

Q.1 नीचे दी गई श्रृंखला में ऐसे कितने प्रतीक हैं जिनके ठीक पहले और ठीक बाद एक अक्षर है?

S @ 1 & L 4 \$ J % 5 G 4 @ 7 D 8 G \$ 1 B ! 0 P 6 * K

- Ans
- 1. 4
 - 2. 2
 - 3. 5
 - 4. 0

Question ID : [630680849870](#)
Option 1 ID : [6306803328716](#)
Option 2 ID : [6306803328714](#)
Option 3 ID : [6306803328715](#)
Option 4 ID : [6306803328713](#)

Q.2 किसी भी वैज्ञानिक और तकनीकी तथ्यों की परवाह किए बिना केवल सामान्य ज्ञान और सामान्य मानसिक क्षमता के आधार पर, निम्नलिखित में से कौन सा विकल्प संगीत वाद्ययंत्रों और उनके प्रकारों के आधार पर अन्य तीन विकल्पों से अलग है?

- Ans
- 1. तुरही
 - 2. बांसुरी
 - 3. माउथ ऑर्गन
 - 4. पियानो

Question ID : [630680849886](#)
Option 1 ID : [6306803328780](#)
Option 2 ID : [6306803328777](#)
Option 3 ID : [6306803328779](#)
Option 4 ID : [6306803328778](#)

Q.3 If '\$' means '-', '*' means '+', '@' means '÷', '#' means '×', then what will be the value of the following expression?

6 # 4 * 9 @ 3 \$ 15 = ?

- Ans
- 1. 16
 - 2. 12
 - 3. 15
 - 4. 14

Question ID : [630680835449](#)
Option 1 ID : [6306803272585](#)
Option 2 ID : [6306803272582](#)
Option 3 ID : [6306803272584](#)
Option 4 ID : [6306803272583](#)

Q.4 बिना किसी वैज्ञानिक और तकनीकी पहलू की परवाह किए केवल सामान्य मानसिक समझ और सामान्य मानसिक क्षमता के आधार पर, निम्नलिखित में से कौन सा विकल्प फूलों और सब्जियों पर आधारित अन्य तीन विकल्पों से अलग है?

- Ans 1. अदरक
 2. चमेली
 3. आलू
 4. प्याज

Question ID : [630680835392](#)
Option 1 ID : [6306803272354](#)
Option 2 ID : [6306803272356](#)
Option 3 ID : [6306803272355](#)
Option 4 ID : [6306803272357](#)

Q.5 Read the given statement(s) and conclusions carefully. Assuming that the information given in the statements is true, even if it appears to be at variance with commonly known facts, decide which of the given conclusions logically follow(s) from the statement(s).

Statements

- A. Some pants are trouser.
B. Some pants are shirt.

Conclusion

1. All trouser are pants.
2. All shirts are trouser.

- Ans 1. Only conclusion 1 follows
 2. Both conclusion 1 and 2 follow
 3. Only conclusion 2 follows
 4. Neither conclusion 1 nor 2 follows

Question ID : [630680849875](#)
Option 1 ID : [6306803328733](#)
Option 2 ID : [6306803328736](#)
Option 3 ID : [6306803328734](#)
Option 4 ID : [6306803328735](#)

Q.6 In a certain code language, SUN is written as RTM and SON is written as RNM. How MOON will be written in the same code language?

- Ans 1. LMNM
 2. MNLN
 3. MNNL
 4. LNNM

Question ID : [630680835371](#)
Option 1 ID : [6306803272270](#)
Option 2 ID : [6306803272272](#)
Option 3 ID : [6306803272273](#)
Option 4 ID : [6306803272271](#)

Q.7 What will come in place of the question mark (?) to make the series given below logically complete by using addition and subtraction processes only whichever may be applicable?

38, 51, 44, 57, 50, ?, ?

Ans 1. 63, 56

2. 50, 63

3. 56, 63

4. 63, 50

Question ID : [630680835454](#)

Option 1 ID : [6306803272605](#)

Option 2 ID : [6306803272603](#)

Option 3 ID : [6306803272604](#)

Option 4 ID : [6306803272602](#)

Q.8 सात दोस्त कवि, मानस, सोहन, हरीश, फलक, दीपाली और चांदनी एक गोलाकार मेज के चारों ओर केंद्र की ओर मुख करके बैठे हैं। सोहन, हरीश के दायें से दूसरे स्थान पर बैठा है। हरीश, चांदनी के ठीक दाएँ बैठा है। मानस, चाँदनी के ठीक बाएँ बैठा है। मानस, फलक के ठीक दाईं ओर बैठा है। फलक कवि के ठीक दाईं ओर बैठी है। दीपाली कवि के बाईं ओर दूसरे स्थान पर बैठी है। वृत्ताकार मेज पर हरीश और सोहन के बीच कौन बैठा है?

Ans 1. फलक

2. चांदनी

3. मानस

4. दीपाली

Question ID : [630680849797](#)

Option 1 ID : [6306803328425](#)

Option 2 ID : [6306803328428](#)

Option 3 ID : [6306803328426](#)

Option 4 ID : [6306803328427](#)

Q.9 Based only on common sense and normal mental ability without regard to any scientific and technical facts, which of the following option is different from the other three options on the basis of sensory organs and human body?

Ans 1. Eyes

2. Hair

3. Ears

4. Nose

Question ID : [630680835441](#)

Option 1 ID : [6306803272551](#)

Option 2 ID : [6306803272550](#)

Option 3 ID : [6306803272552](#)

Option 4 ID : [6306803272553](#)

Q.10 If the following words are arranged in the dictionary order, which of the following will come at the third place?

Elephant, Energy, Elastic, Equation

- Ans 1. Energy
 2. Elephant
 3. Elastic
 4. Equation

Question ID : [630680849871](#)
Option 1 ID : [6306803328718](#)
Option 2 ID : [6306803328717](#)
Option 3 ID : [6306803328719](#)
Option 4 ID : [6306803328720](#)

Q.11 प्रवीण के असली भाई के पिता की पत्नी की इकलौती बेटी प्रवीण से किस प्रकार संबंधित है?

- Ans 1. माँ
 2. भतीजी
 3. भाई
 4. बहन

Question ID : [630680849814](#)
Option 1 ID : [6306803328493](#)
Option 2 ID : [6306803328496](#)
Option 3 ID : [6306803328494](#)
Option 4 ID : [6306803328495](#)

Q.12 Based only on fruits and vegetables, without paying attention to scientific and technical facts and only on the basis of general mental ability and general mental understanding, which of the following options is different from the other three options?

- Ans 1. Mango
 2. Ladyfinger
 3. Cauliflower
 4. Brinjal

Question ID : [630680835329](#)
Option 1 ID : [6306803272098](#)
Option 2 ID : [6306803272100](#)
Option 3 ID : [6306803272101](#)
Option 4 ID : [6306803272099](#)

Q.13 वैज्ञानिक एवं तकनीकी तथ्यों पर ध्यान दिए बिना केवल सामान्य मानसिक योग्यता एवं सामान्य मानसिक समझ के आधार पर निम्नलिखित में से कौन सा प्रश्न चिह्न का स्थान लेगा?

स्टीयरिंग : कार :: लैंडिंग गियर : ?

- Ans
- 1. पंखा
 - 2. स्टेशन
 - 3. विमान
 - 4. साइकिल

Question ID : [630680849066](#)
Option 1 ID : [6306803325796](#)
Option 2 ID : [6306803325797](#)
Option 3 ID : [6306803325794](#)
Option 4 ID : [6306803325795](#)

Q.14 Which of the following pairs is similar to the expression given below?
32879 : 97823
26189 : 98162

- Ans
- 1. 21442 : 24421
 - 2. 29153 : 92153
 - 3. 34784 : 48743
 - 4. 45185 : 45185

Question ID : [630680849786](#)
Option 1 ID : [6306803328386](#)
Option 2 ID : [6306803328385](#)
Option 3 ID : [6306803328387](#)
Option 4 ID : [6306803328388](#)

Q.15 वैज्ञानिक एवं तकनीकी तथ्यों पर ध्यान दिए बिना केवल सामान्य मानसिक योग्यता एवं सामान्य मानसिक समझ के आधार पर निम्नलिखित में से कौन सा विकल्प मानव/ जीव और उनके प्राकृतिक आवास के आधार पर प्रश्न चिह्न का स्थान लेगा?

पक्षी : घोंसला :: बाघ : ?

- Ans
- 1. वन
 - 2. एवियरी
 - 3. औषधालय
 - 4. गैराज

Question ID : [630680835386](#)
Option 1 ID : [6306803272331](#)
Option 2 ID : [6306803272330](#)
Option 3 ID : [6306803272332](#)
Option 4 ID : [6306803272333](#)

Q.16 अतुल, बूँदा, चरण, दर्श, एली पांच व्यक्ति अलग-अलग मंजिलों पर रहते हैं लेकिन जरूरी नहीं कि इसी क्रम में हों। अतुल सबसे ऊपरी मंजिल पर रहता है। चरण ऊपर से तीसरे मंजिल पर रहता है। बूँदा, अतुल और चरण की मंजिल के बीच में रहती है। दर्श, चरण और एली की मंजिल के बीच रहता है। इमारत की सबसे निचली मंजिल पर कौन रहता है?

- Ans
- 1. अतुल
 - 2. चरण
 - 3. एली
 - 4. बूँदा

Question ID : [630680835418](#)
Option 1 ID : [6306803272458](#)
Option 2 ID : [6306803272460](#)
Option 3 ID : [6306803272461](#)
Option 4 ID : [6306803272459](#)

Q.17 Read the given statement(s) and conclusions carefully. Assuming that the information given in the statements is true, even if it appears to be at variance with commonly known facts, decide which of the given conclusions logically follow(s) from the statement(s).

Statements:

- A. All birds are parrots.
- B. All parrots are elephant.

Conclusion

- 1. All elephants are birds.
- 2. All parrots are birds.

- Ans
- 1. Only conclusion 1 follows
 - 2. Both conclusion 1 and 2 follow
 - 3. Neither conclusion 1 nor 2 follows
 - 4. Only conclusion 2 follows

Question ID : [630680849062](#)
Option 1 ID : [6306803325778](#)
Option 2 ID : [6306803325781](#)
Option 3 ID : [6306803325780](#)
Option 4 ID : [6306803325779](#)

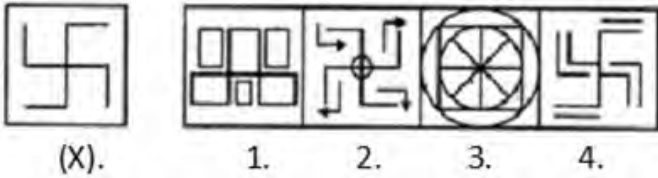
Q.18 What will come in the place of question mark (?) in the following series to make it logically complete?

O, U, A, G, M, ?

- Ans
- 1. U
 - 2. T
 - 3. V
 - 4. S

Question ID : [630680849890](#)
Option 1 ID : [6306803328794](#)
Option 2 ID : [6306803328795](#)
Option 3 ID : [6306803328796](#)
Option 4 ID : [6306803328793](#)

Q.19 Which of the following option will embed the original image (X)?



- Ans
- 1. 4
 - 2. 2
 - 3. 1
 - 4. 3

Question ID : [630680835397](#)
Option 1 ID : [6306803272377](#)
Option 2 ID : [6306803272375](#)
Option 3 ID : [6306803272374](#)
Option 4 ID : [6306803272376](#)

Q.20 On the basis of square of numbers and subtraction method only, which of the following pairs is similar to the expression given below?

81 : 169
100 : 156

- Ans
- 1. 36 : 215
 - 2. 42 : 25
 - 3. 225 : 361
 - 4. 190 : 289

Question ID : [630680835455](#)
Option 1 ID : [6306803272609](#)
Option 2 ID : [6306803272607](#)
Option 3 ID : [6306803272608](#)
Option 4 ID : [6306803272606](#)

Section : General Awareness 1

Q.1 Jagannath Rath Yatra is mainly related to which state/union territory of India?

- Ans
- 1. Kerala
 - 2. Odisha
 - 3. Punjab
 - 4. Maharashtra

Question ID : [630680854872](#)
Option 1 ID : [6306803348206](#)
Option 2 ID : [6306803348209](#)
Option 3 ID : [6306803348208](#)
Option 4 ID : [6306803348207](#)

Q.2 Who among the following inaugurated the International Engineering and Technology Fair (IETF) 2023?

- Ans
- 1. Prime minister of India
 - 2. Minister of Science and Technology of India
 - 3. Vice President of India
 - 4. President of India

Question ID : [630680854748](#)
Option 1 ID : [6306803347704](#)
Option 2 ID : [6306803347705](#)
Option 3 ID : [6306803347702](#)
Option 4 ID : [6306803347703](#)

Q.3 Revolutionary nationalists like Bhagat Singh, Chandra Shekhar Azad, Sukhdev and others founded the Hindustan Socialist Republican Association (HSRA) in 1928 at which of the following places?

- Ans
- 1. Bombay
 - 2. Calcutta
 - 3. Madras
 - 4. Delhi

Question ID : [630680854753](#)
Option 1 ID : [6306803347723](#)
Option 2 ID : [6306803347725](#)
Option 3 ID : [6306803347722](#)
Option 4 ID : [6306803347724](#)

Q.4 How many players have won the Major Dhyan Chand Khel Ratna Award in the year 2023?

- Ans
- 1. 4
 - 2. 1
 - 3. 2
 - 4. 3

Question ID : [630680851634](#)
Option 1 ID : [6306803335602](#)
Option 2 ID : [6306803335601](#)
Option 3 ID : [6306803335603](#)
Option 4 ID : [6306803335600](#)

Q.5 Khizr Khan was associated with which of the following dynasties of the Delhi Sultanate?

- Ans
- 1. Khalji dynasty
 - 2. Sayyid dynasty
 - 3. Lodi dynasty
 - 4. Tughluq dynasty

Question ID : [630680854754](#)
Option 1 ID : [6306803347726](#)
Option 2 ID : [6306803347729](#)
Option 3 ID : [6306803347728](#)
Option 4 ID : [6306803347727](#)

Q.6 Which of the following Articles of the Indian Constitution states, "The President may address either House of Parliament or both Houses assembled together, and for that purpose require the attendance of members"?

- Ans 1. Article – 85(2)
 2. Article – 90(4)
 3. Article – 89(1)
 4. Article – 86(1)

Question ID : [630680854832](#)
Option 1 ID : [6306803348041](#)
Option 2 ID : [6306803348038](#)
Option 3 ID : [6306803348039](#)
Option 4 ID : [6306803348040](#)

Q.7 In which of the following years Mahatma Gandhi returned to India from South Africa?

- Ans 1. 1921
 2. 1942
 3. 1915
 4. 1917

Question ID : [630680854862](#)
Option 1 ID : [6306803348169](#)
Option 2 ID : [6306803348167](#)
Option 3 ID : [6306803348168](#)
Option 4 ID : [6306803348166](#)

Q.8 As on 31 January – 2024, which of the following languages is included in the list of classical languages of India?

- Ans 1. Punjabi
 2. Santhali
 3. Odia
 4. Kui

Question ID : [630680854868](#)
Option 1 ID : [6306803348191](#)
Option 2 ID : [6306803348192](#)
Option 3 ID : [6306803348190](#)
Option 4 ID : [6306803348193](#)

Q.9 31 जनवरी – 2024 तक उपलब्ध सूचना के आधार पर भारत की अंतिम दशकीय जनसंख्या जनगणना निम्नलिखित में से किस वर्ष हुई थी?

- Ans 1. 1981
 2. 1991
 3. 2001
 4. 2011

Question ID : [630680854767](#)
Option 1 ID : [6306803347778](#)
Option 2 ID : [6306803347779](#)
Option 3 ID : [6306803347780](#)
Option 4 ID : [6306803347781](#)

Q.10 Pradhan Mantri Jeevan Jyoti Bima Yojana (PMJJBY) provides one year renewable life cover to all subscribing bank account holders in the age group of ____ years.

- Ans
- 1. 20 to 30
 - 2. 25 to 35
 - 3. 18 to 50
 - 4. 25 to 65

Question ID : [630680854741](#)
Option 1 ID : [6306803347677](#)
Option 2 ID : [6306803347675](#)
Option 3 ID : [6306803347676](#)
Option 4 ID : [6306803347674](#)

Q.11 In which of the following years was the Booker Prize awarded to Arundhati Roy ?

- Ans
- 1. 2002
 - 2. 1997
 - 3. 1999
 - 4. 1995

Question ID : [630680854756](#)
Option 1 ID : [6306803347737](#)
Option 2 ID : [6306803347735](#)
Option 3 ID : [6306803347734](#)
Option 4 ID : [6306803347736](#)

Q.12 How many types of Liberty have been discussed in the Preamble of the Indian Constitution?

- Ans
- 1. 2
 - 2. 9
 - 3. 7
 - 4. 5

Question ID : [630680840356](#)
Option 1 ID : [6306803292108](#)
Option 2 ID : [6306803292105](#)
Option 3 ID : [6306803292106](#)
Option 4 ID : [6306803292107](#)

Q.13 Which of the following rivers is a tributary of the Ganga River?

- Ans
- 1. Tungabhadra River
 - 2. Krishna River
 - 3. Yamuna river
 - 4. Jhelum River

Question ID : [630680854820](#)
Option 1 ID : [6306803347992](#)
Option 2 ID : [6306803347993](#)
Option 3 ID : [6306803347990](#)
Option 4 ID : [6306803347991](#)

Q.14 Provisions regarding "Term of office of the President of India" have been mentioned in which of the following Articles of the Indian Constitution?

- Ans 1. Article - 49
 2. Article - 65
 3. Article - 61
 4. Article - 56

Question ID : [630680851672](#)
Option 1 ID : [6306803335755](#)
Option 2 ID : [6306803335752](#)
Option 3 ID : [6306803335753](#)
Option 4 ID : [6306803335754](#)

Q.15 The primary objective of Pradhan Mantri Matru Vandana Yojana (PMMVY) was revised on _____ and included as a component of Mission Shakti?

- Ans 1. 1 April 2022
 2. 15 April 2021
 3. 1 January 2021
 4. 31 December 2023

Question ID : [630680854800](#)
Option 1 ID : [6306803347911](#)
Option 2 ID : [6306803347912](#)
Option 3 ID : [6306803347913](#)
Option 4 ID : [6306803347910](#)

Q.16 Which of the following taxes does not come in the list of direct taxes in India?

- Ans 1. Fringe Benefit Tax
 2. Goods and services Tax
 3. Personal property tax
 4. Capital gains tax

Question ID : [630680854749](#)
Option 1 ID : [6306803347708](#)
Option 2 ID : [6306803347706](#)
Option 3 ID : [6306803347707](#)
Option 4 ID : [6306803347709](#)

Q.17 Which of the following is the botanical name of Onion?

- Ans 1. Phaseolus aureus
 2. Pisum sativum
 3. Cajanus cajan
 4. Allium cepa

Question ID : [630680854833](#)
Option 1 ID : [6306803348044](#)
Option 2 ID : [6306803348042](#)
Option 3 ID : [6306803348043](#)
Option 4 ID : [6306803348045](#)

Q.18 It is a jelly-like substance present between the cell membrane and the nucleus. Various other components or organelles of cells are present in it. What is discussed here?

- Ans
- 1. Nucleus
 - 2. Microtubule
 - 3. Cytoplasm
 - 4. Vacuole

Question ID : [630680854779](#)
Option 1 ID : [6306803347828](#)
Option 2 ID : [6306803347829](#)
Option 3 ID : [6306803347826](#)
Option 4 ID : [6306803347827](#)

Q.19 In what kind of forest are pine, cedar, silver fir, and spruce trees primarily found?

- Ans
- 1. Coniferous forest
 - 2. Mangrove Forests
 - 3. Tundra Forest
 - 4. Montane Forests

Question ID : [630680854875](#)
Option 1 ID : [6306803348218](#)
Option 2 ID : [6306803348220](#)
Option 3 ID : [6306803348221](#)
Option 4 ID : [6306803348219](#)

Q.20 In which of the following year the idea of a nationwide Goods and Services Tax in India was first proposed by the Task Force on Indirect taxes?

- Ans
- 1. 2001
 - 2. 2000
 - 3. 2016
 - 4. 2002

Question ID : [630680854860](#)
Option 1 ID : [6306803348158](#)
Option 2 ID : [6306803348160](#)
Option 3 ID : [6306803348161](#)
Option 4 ID : [6306803348159](#)

Section : General Awareness 2

Q.1 Who among the following is the Chief Justice of India as on 31 January – 2024?

- Ans
- 1. Justice Sharad Arvind Bobde
 - 2. Justice Dipak Mishra
 - 3. Justice D Y Chandrachud
 - 4. Justice N.V. Ramana

Question ID : [630680851673](#)
Option 1 ID : [6306803335757](#)
Option 2 ID : [6306803335759](#)
Option 3 ID : [6306803335756](#)
Option 4 ID : [6306803335758](#)

Q.2 The Census Commissioner, India is the statutory authority vested with the responsibility of conducting the Housing & Population Census in India under Census Act, _____ and the Rules framed thereunder.

- Ans
- 1. 1950
 - 2. 1948
 - 3. 1956
 - 4. 1951

Join Telegram Group "HaryanaJobs.in"

Question ID : [630680854823](#)
Option 1 ID : [6306803348002](#)
Option 2 ID : [6306803348005](#)
Option 3 ID : [6306803348004](#)
Option 4 ID : [6306803348003](#)

Q.3 In which of the following years did the Central Institute of Classical Tamil (CICT) start functioning?

- Ans
- 1. 2013
 - 2. 2010
 - 3. 2011
 - 4. 2008

Question ID : [630680854760](#)
Option 1 ID : [6306803347753](#)
Option 2 ID : [6306803347751](#)
Option 3 ID : [6306803347752](#)
Option 4 ID : [6306803347750](#)

Q.4 Quwwat al-Islam Mosque and Qutub Minar are located in which of the following cities of India?

- Ans
- 1. Agra
 - 2. Delhi
 - 3. Lucknow
 - 4. Hyderabad

Question ID : [630680854864](#)
Option 1 ID : [6306803348176](#)
Option 2 ID : [6306803348177](#)
Option 3 ID : [6306803348175](#)
Option 4 ID : [6306803348174](#)

Q.5 The worship of the 14 deities, popularly known as Kharchi (Khya) Puja is primarily celebrated in which of the following states of India?

- Ans
- 1. Tripura
 - 2. Andhra Pradesh
 - 3. Maharashtra
 - 4. Haryana

Question ID : [630680852084](#)
Option 1 ID : [6306803337395](#)
Option 2 ID : [6306803337392](#)
Option 3 ID : [6306803337394](#)
Option 4 ID : [6306803337393](#)

Q.6 Who among the following ruler ascended the throne of Ferghana in 1494 AD?

- Ans 1. Aurangzeb
 2. Humayun
 3. Akbar
 4. Babur

Question ID : [630680854865](#)
Option 1 ID : [6306803348178](#)
Option 2 ID : [6306803348181](#)
Option 3 ID : [6306803348179](#)
Option 4 ID : [6306803348180](#)

Q.7 As per Article 129 of the Indian Constitution which among the following is also known as the "court of record"?

- Ans 1. High Court of Madras
 2. Session Court
 3. Supreme Court of India
 4. High Court of Delhi

Question ID : [630680854775](#)
Option 1 ID : [6306803347813](#)
Option 2 ID : [6306803347812](#)
Option 3 ID : [6306803347810](#)
Option 4 ID : [6306803347811](#)

Q.8 Deficiency of which of the following nutrients causes vision loss?

- Ans 1. Protein
 2. Fat
 3. Iodine
 4. Vitamin A

Question ID : [630680854890](#)
Option 1 ID : [6306803348278](#)
Option 2 ID : [6306803348281](#)
Option 3 ID : [6306803348280](#)
Option 4 ID : [6306803348279](#)

Q.9 Sulh-i-Kul policy was introduced by which among the following Mughal emperors?

- Ans 1. Bahadur shah zafar
 2. Akbar
 3. Jahangir
 4. Babur

Question ID : [630680854811](#)
Option 1 ID : [6306803347954](#)
Option 2 ID : [6306803347955](#)
Option 3 ID : [6306803347956](#)
Option 4 ID : [6306803347957](#)

Q.10 Deficiency of which of the following nutrients causes the disease called Goiter?

- Ans 1. Protein
 2. Vitamin
 3. Fat
 4. Iodine

Question ID : [630680854780](#)
Option 1 ID : [6306803347830](#)
Option 2 ID : [6306803347831](#)
Option 3 ID : [6306803347833](#)
Option 4 ID : [6306803347832](#)

Q.11 Which of the following ministries launched Bharat 6G Alliance in July, 2023, to Drive Innovation and Collaboration in Next-Generation Wireless Technology?

- Ans 1. Ministry of Electronics and Information Technology
 2. Ministry of Communications
 3. Ministry of Education
 4. Ministry of Science and Technology

Question ID : [630680854856](#)
Option 1 ID : [6306803348142](#)
Option 2 ID : [6306803348143](#)
Option 3 ID : [6306803348145](#)
Option 4 ID : [6306803348144](#)

Q.12 भारतीय संविधान के किस अनुच्छेद में "संसद द्वारा नागरिकता के अधिकार को कानून द्वारा विनियमित करने" संबंधी प्रावधान की चर्चा की गई है?

- Ans 1. अनुच्छेद 11
 2. अनुच्छेद 15
 3. अनुच्छेद 9
 4. अनुच्छेद 8

Question ID : [630680854771](#)
Option 1 ID : [6306803347796](#)
Option 2 ID : [6306803347797](#)
Option 3 ID : [6306803347795](#)
Option 4 ID : [6306803347794](#)

Q.13 Which of the following states/Union Territories stood third in the medal tally of the National Games-2023 held in India?

- Ans 1. Chandigarh
 2. Haryana
 3. Delhi
 4. Punjab

Question ID : [630680854793](#)
Option 1 ID : [6306803347882](#)
Option 2 ID : [6306803347885](#)
Option 3 ID : [6306803347883](#)
Option 4 ID : [6306803347884](#)

Q.14 The health and maternity benefits are insured through Ayushman Bharat- Pradhan Mantri Jan Arogya Yojana under deprivation and occupation criteria. It provides health insurance coverage upto Rs _____ annually per family for secondary and tertiary care related hospitalization.

- Ans 1. 2 lakhs
 2. 5 lakhs
 3. 6 lakhs
 4. 10 lakhs

Question ID : [630680854742](#)
Option 1 ID : [6306803347680](#)
Option 2 ID : [6306803347678](#)
Option 3 ID : [6306803347679](#)
Option 4 ID : [6306803347681](#)

Q.15 Demonetization was a initiative taken by the Government of India in November _____.

- Ans 1. 2017
 2. 2016
 3. 2018
 4. 2019

Question ID : [630680854807](#)
Option 1 ID : [6306803347939](#)
Option 2 ID : [6306803347938](#)
Option 3 ID : [6306803347940](#)
Option 4 ID : [6306803347941](#)

Q.16 In which of the following year The Pension Adalat initiative was started on experimental basis by the Department of Pension & Pensioners' Welfare?

- Ans 1. 2017
 2. 2018
 3. 2019
 4. 2015

Question ID : [630680852065](#)
Option 1 ID : [6306803337316](#)
Option 2 ID : [6306803337318](#)
Option 3 ID : [6306803337319](#)
Option 4 ID : [6306803337317](#)

Q.17 Through which of the following states of India does the Tropic of Cancer not pass?

- Ans 1. Bihar
 2. Rajasthan
 3. Madhya Pradesh
 4. Mizoram

Question ID : [630680854876](#)
Option 1 ID : [6306803348222](#)
Option 2 ID : [6306803348223](#)
Option 3 ID : [6306803348225](#)
Option 4 ID : [6306803348224](#)

Q.18 Which of the following is the highest peak in South India (Western Ghats)?

- Ans 1. Mahendragiri
 2. Doda Betta
 3. Parasnath hill
 4. Anai Mudi

Question ID : [630680854763](#)
Option 1 ID : [6306803347765](#)
Option 2 ID : [6306803347763](#)
Option 3 ID : [6306803347762](#)
Option 4 ID : [6306803347764](#)

Q.19 Who among the following has written the book 'Discovery of India'?

- Ans 1. Mahatma Gandhi
 2. Chandrashekhar Azad
 3. Jawaharlal Nehru
 4. Bhagat Singh

Question ID : [630680839261](#)
Option 1 ID : [6306803287727](#)
Option 2 ID : [6306803287725](#)
Option 3 ID : [6306803287728](#)
Option 4 ID : [6306803287726](#)

Q.20 As per Information available till 31 January – 2024 Headquarter of National Council for Promotion of Sindhi Language is located in which of the following city of India?

- Ans 1. Prayagraj
 2. Agra
 3. New Delhi
 4. Bhopal

Question ID : [630680840346](#)
Option 1 ID : [6306803292068](#)
Option 2 ID : [6306803292066](#)
Option 3 ID : [6306803292065](#)
Option 4 ID : [6306803292067](#)

Section : Arithmetical and Numerical Ability 1

Q.1 The curved surface area of a cone is $72\pi\text{ cm}^2$. If the slant height of the cone is 9 cm, find the radius of the base.

- Ans 1. 12 cm
 2. 8 cm
 3. 6 cm
 4. 11 cm

Question ID : [630680855094](#)
Option 1 ID : [6306803349105](#)
Option 2 ID : [6306803349103](#)
Option 3 ID : [6306803349102](#)
Option 4 ID : [6306803349104](#)

Q.2 If a number is in the form of $8^{10} \times 9^{12} \times 7^9$, find the total number of prime factors of the given number.

Ans 1. 63

2. 56

3. 59

4. 65

Question ID : [630680840448](#)

Option 1 ID : [6306803292475](#)

Option 2 ID : [6306803292473](#)

Option 3 ID : [6306803292474](#)

Option 4 ID : [6306803292476](#)

Q.3 एक लड़के ने ₹ 5000 में दो वस्तुएँ A और B खरीदीं। उसने A को 20% लाभ पर और B को 10% हानि पर बेचा। यदि उसे पूरे सौदे पर 4% लाभ होता है, तो वस्तु A का मूल्य ज्ञात कीजिए।

Ans 1. ₹ 1990.45

2. ₹ 2333.33

3. ₹ 2012.33

4. ₹ 2145.67

Question ID : [630680855077](#)

Option 1 ID : [6306803349037](#)

Option 2 ID : [6306803349034](#)

Option 3 ID : [6306803349036](#)

Option 4 ID : [6306803349035](#)

Q.4 The ratio of two numbers is 12: 23. If the difference between them is 253, then which is the smaller of the two numbers?

Ans 1. 180

2. 204

3. 228

4. 276

Question ID : [630680854958](#)

Option 1 ID : [6306803348554](#)

Option 2 ID : [6306803348555](#)

Option 3 ID : [6306803348556](#)

Option 4 ID : [6306803348557](#)

Q.5 रिया और उसकी माँ की वर्तमान आयु का अनुपात 3:5 है। रिया के जन्म के समय माँ की आयु 34 वर्ष थी। माँ की वर्तमान आयु ज्ञात कीजिये(वर्षों में)।

Ans 1. 85

2. 80

3. 75

4. 79

Question ID : [630680840413](#)

Option 1 ID : [6306803292335](#)

Option 2 ID : [6306803292333](#)

Option 3 ID : [6306803292334](#)

Option 4 ID : [6306803292336](#)

Q.6 A train of length 160 m passes a pole in 16 seconds and crosses another train of the same length travelling in opposite direction in 8 seconds. The speed of the second train is:

- Ans
- 1. 20 m/s
 - 2. 24 m/s
 - 3. 30 m/s
 - 4. 40 m/s

Question ID : [630680855091](#)
Option 1 ID : [6306803349090](#)
Option 2 ID : [6306803349091](#)
Option 3 ID : [6306803349092](#)
Option 4 ID : [6306803349093](#)

Q.7 एक स्विमिंग पूल में पानी का सतह क्षेत्र एक आयत बनाता है जिसकी लंबाई 30 मीटर और चौड़ाई 15 मीटर है। दूसरे छोर पर पानी की गहराई समान रूप से 1.4 मीटर से 2.6 मीटर तक बढ़ जाती है। पूल में पानी की मात्रा (मी³) है।

- Ans
- 1. 900 मी³
 - 2. 728 मी³
 - 3. 800 मी³
 - 4. 872 मी³

Question ID : [630680854969](#)
Option 1 ID : [6306803348598](#)
Option 2 ID : [6306803348601](#)
Option 3 ID : [6306803348600](#)
Option 4 ID : [6306803348599](#)

Q.8 तालिका का ध्यानपूर्वक अध्ययन करें और उत्तर दें:

प्रिंटर दिवस	A	B	C	D	E
सोमवार	174	134	184	144	135
मंगलवार	145	128	153	127	173
बुधवार	164	142	167	142	146
गुरुवार	136	163	183	156	173
शुक्रवार	139	182	156	173	132

बुधवार और गुरुवार को प्रिंटर A द्वारा मुद्रित पृष्ठों की कुल संख्या और सोमवार और शुक्रवार को प्रिंटर C द्वारा मुद्रित पृष्ठों की कुल संख्या के बीच संबंधित अनुपात क्या है?

- Ans
- 1. 5:7
 - 2. 3:7
 - 3. 11:13
 - 4. 15:17

Question ID : [630680840443](#)
Option 1 ID : [6306803292453](#)
Option 2 ID : [6306803292454](#)
Option 3 ID : [6306803292455](#)
Option 4 ID : [6306803292456](#)

Q.9 ₹ 720 की राशि पर 5% वार्षिक साधारण ब्याज की दर से ₹ 108 ब्याज प्राप्त करने में कितना समय लगेगा?

- Ans 1. 3 वर्ष
 2. 6 वर्ष
 3. 4 वर्ष
 4. 7 वर्ष

Question ID : [630680849966](#)
Option 1 ID : [6306803329093](#)
Option 2 ID : [6306803329095](#)
Option 3 ID : [6306803329094](#)
Option 4 ID : [6306803329096](#)

Q.10 एक वाहन द्वारा एक निश्चित दूरी एक निश्चित गति से तय की जाती है। यदि उस दूरी का आधा भाग किसी अन्य वाहन द्वारा तिगुने समय में तय किया जाता है, तो दोनों वाहनों की गति का अनुपात क्या होगा?

- Ans 1. 1:4
 2. 1:5
 3. 4:1
 4. 6:1

Question ID : [630680854967](#)
Option 1 ID : [6306803348591](#)
Option 2 ID : [6306803348592](#)
Option 3 ID : [6306803348590](#)
Option 4 ID : [6306803348593](#)

Q.11 एक शोरूम में एक वॉशिंग मशीन की कीमत ₹62,000 है। ग्राहक को ₹2,000 की नकद छूट मिलती है, और 10% से 15% की प्रतिशत छूट का वादा करने वाला एक स्केच कार्ड मिलता है। वॉशिंग मशीन की न्यूनतम और अधिकतम बिक्री कीमतों के बीच का अंतर निर्धारित करें।

- Ans 1. ₹ 3,400
 2. ₹ 2,600
 3. ₹ 3,000
 4. ₹ 3,200

Question ID : [630680854954](#)
Option 1 ID : [6306803348541](#)
Option 2 ID : [6306803348540](#)
Option 3 ID : [6306803348539](#)
Option 4 ID : [6306803348538](#)

Q.12 A and B working separately can do a piece of work in 8 and 12 days respectively. If they work for a day alternately, A beginning, in how many days, the work will be completed?

- Ans
- 1. 18
 - 2. $9\frac{1}{2}$
 - 3. $10\frac{1}{2}$
 - 4. 7

Question ID : [630680855030](#)
Option 1 ID : [6306803348846](#)
Option 2 ID : [6306803348848](#)
Option 3 ID : [6306803348849](#)
Option 4 ID : [6306803348847](#)

Q.13 नौ व्यक्तियों में से 8 व्यक्तियों ने अपने भोजन पर ₹ 40 खर्च किए। नौवें ने सभी नौ के औसत व्यय से ₹ 20 अधिक खर्च किया। उन सभी द्वारा खर्च किया गया कुल धन कितना था?

- Ans
- 1. ₹ 424.50
 - 2. ₹ 346.50
 - 3. ₹ 382.50
 - 4. ₹ 412.50

Question ID : [630680854929](#)
Option 1 ID : [6306803348841](#)
Option 2 ID : [6306803348838](#)
Option 3 ID : [6306803348839](#)
Option 4 ID : [6306803348840](#)

Q.14 एक आयत का परिमाप एक वर्ग के परिमाप के बराबर होता है। यदि आयत की लंबाई और चौड़ाई क्रमशः 12 से.मी. और 6 से.मी. है, तो वर्ग का क्षेत्रफल क्या होगा?

- Ans
- 1. 1296 से.मी.²
 - 2. 324 से.मी.²
 - 3. 36 से.मी.²
 - 4. 81 से.मी.²

Question ID : [630680855042](#)
Option 1 ID : [6306803348894](#)
Option 2 ID : [6306803348895](#)
Option 3 ID : [6306803348896](#)
Option 4 ID : [6306803348897](#)

Q.15 तीन छात्रों ने एक चुनाव लड़ा और क्रमशः 2000, 6000 और 20000 वोट प्राप्त किए। विजेता छात्र को कुल मतों का कितना प्रतिशत मत प्राप्त हुआ? (दशमलव के एक अंक तक सही)

- Ans
- 1. 62.3%
 - 2. 75.5%
 - 3. 71.4%
 - 4. 60.5%

Question ID : [630680855018](#)
Option 1 ID : [6306803348801](#)
Option 2 ID : [6306803348798](#)
Option 3 ID : [6306803348800](#)
Option 4 ID : [6306803348799](#)

Q.16 The effective annual rate of interest corresponding to a nominal rate of 14% per annum payable half-yearly is:

- Ans
- 1. 14.49%
 - 2. 12.39%
 - 3. 11.45%
 - 4. 11.20%

Question ID : [630680855059](#)
Option 1 ID : [6306803348962](#)
Option 2 ID : [6306803348964](#)
Option 3 ID : [6306803348965](#)
Option 4 ID : [6306803348963](#)

Q.17 The sum of three consecutive odd natural numbers is 123. Then, the middle number is:

- Ans
- 1. 41
 - 2. 37
 - 3. 43
 - 4. 45

Question ID : [630680855013](#)
Option 1 ID : [6306803348779](#)
Option 2 ID : [6306803348778](#)
Option 3 ID : [6306803348780](#)
Option 4 ID : [6306803348781](#)

Q.18 यदि पेट्रोल की कीमत ₹20 प्रति लीटर से बढ़कर ₹50 प्रति लीटर हो गई है, तो किसी व्यक्ति को अपनी खपत में कितने प्रतिशत की कमी करनी होगी ताकि उसका खर्च समान रहे।

- Ans
- 1. 50%
 - 2. 30%
 - 3. 60%
 - 4. 40%

Question ID : [630680854948](#)
Option 1 ID : [6306803348517](#)
Option 2 ID : [6306803348516](#)
Option 3 ID : [6306803348515](#)
Option 4 ID : [6306803348514](#)

Q.19 Suppose there is a number 'n'. When 'n' is divided by 7, the remainder will be 1. What will be the remainder when n^2 is divided by 7?

- Ans
- 1. 2
 - 2. 4
 - 3. 1
 - 4. 3

Question ID : [630680840447](#)
Option 1 ID : [6306803292470](#)
Option 2 ID : [6306803292472](#)
Option 3 ID : [6306803292469](#)
Option 4 ID : [6306803292471](#)

Q.20 नीचे दी गई तालिका पांच अलग-अलग वस्तुओं के अंकित मूल्य (₹ में) और छूट प्रतिशत को दर्शाती है।

वस्तु	अंकित मूल्य	छूट प्रतिशत
पतलून	1600	20 %
कंबल	350	15 %
कमीज	2000	25 %
जींस	3500	30 %
चश्मे	2000	10 %
साड़ी	3600	15 %

जींस और पतलून के विक्रय मूल्य के बीच अंतर ज्ञात कीजिए।

- Ans
- 1. ₹1170
 - 2. ₹1250
 - 3. ₹1050
 - 4. ₹1100

Question ID : [630680855063](#)
Option 1 ID : [6306803348980](#)
Option 2 ID : [6306803348981](#)
Option 3 ID : [6306803348978](#)
Option 4 ID : [6306803348979](#)

Section : Arithmetical and Numerical Ability 2

Q.1 एक वर्ग की भुजा 12 से.मी. है। वर्ग की भुजाओं के मध्य बिंदुओं को मिलाने से एक वर्ग बनता है और इसी प्रक्रिया में अनिश्चित संख्या में वर्ग बनते रहते हैं। तो ऐसे सभी अनंत वर्गों के क्षेत्रफलों का योग ज्ञात कीजिए?

- Ans
- 1. 360 से.मी.²
 - 2. 72 से.मी.²
 - 3. 144 से.मी.²
 - 4. 288 से.मी.²

Question ID : [630680855044](#)
Option 1 ID : [6306803348905](#)
Option 2 ID : [6306803348902](#)
Option 3 ID : [6306803348903](#)
Option 4 ID : [6306803348904](#)

Q.2 1.36 को 1.7 के प्रतिशत में किस प्रकार किया व्यक्त जाएगा?

- Ans
- 1. 80%
 - 2. 17%
 - 3. 7%
 - 4. 8%

Question ID : [630680855019](#)
Option 1 ID : [6306803348805](#)
Option 2 ID : [6306803348803](#)
Option 3 ID : [6306803348802](#)
Option 4 ID : [6306803348804](#)

Q.3 एक टंकी को नल A द्वारा 3 घंटे में और नल B द्वारा 5 घंटे में भरा जा सकता है। नल C भरे हुए टैंक को 9 घंटे में खाली कर सकता है। यदि सभी नल एक साथ खोल दिए जाएं तो टंकी को पूरा भरने में कितना समय लगेगा?

- Ans
- 1. 19/45 घंटे
 - 2. 40/19 घंटे
 - 3. 45/19 घंटे
 - 4. 45/23 घंटे

Question ID : [630680855031](#)
Option 1 ID : [6306803348850](#)
Option 2 ID : [6306803348852](#)
Option 3 ID : [6306803348851](#)
Option 4 ID : [6306803348853](#)

Q.4 $u : v = 4 : 7$ and $v : w = 9 : 7$. If $u = 108$, then what is the value of w ?

- Ans
- 1. 49
 - 2. 147
 - 3. 98
 - 4. 121

Question ID : [630680850053](#)
Option 1 ID : [6306803329441](#)
Option 2 ID : [6306803329444](#)
Option 3 ID : [6306803329442](#)
Option 4 ID : [6306803329443](#)

Q.5 2700 के 18% और 1500 के 18% के बीच का अंतर क्या होगा?

- Ans
- 1. 120
 - 2. 216
 - 3. 119
 - 4. 318

Question ID : [630680840403](#)
Option 1 ID : [6306803292294](#)
Option 2 ID : [6306803292295](#)
Option 3 ID : [6306803292296](#)
Option 4 ID : [6306803292293](#)

Q.6 किसी धनराशि पर साधारण ब्याज ₹ 180 है, ब्याज दर 8% वार्षिक ब्याज है और समय 5 वर्ष है। धनराशि क्या होगी?

- Ans
- 1. ₹ 200
 - 2. ₹ 550
 - 3. ₹ 450
 - 4. ₹ 360

Question ID : [630680855002](#)
Option 1 ID : [6306803348737](#)
Option 2 ID : [6306803348736](#)
Option 3 ID : [6306803348735](#)
Option 4 ID : [6306803348734](#)

Q.7 A cuboidal box has height, length and width as 12 cm, 8 cm and 10 cm respectively. It's total surface area is:

- Ans
- 1. 436 cm^2
 - 2. 448 cm^2
 - 3. 592 cm^2
 - 4. 556 cm^2

Question ID : [630680850004](#)
Option 1 ID : [6306803329245](#)
Option 2 ID : [6306803329246](#)
Option 3 ID : [6306803329248](#)
Option 4 ID : [6306803329247](#)

Q.8 नीचे दिए गए पाई चार्ट का अध्ययन करें और निम्नलिखित प्रश्नों के उत्तर दें:



पाई चार्ट एक दुकान में चार अलग-अलग प्रकार की वस्तुओं (A, B, C और D) की बिक्री के वितरण को दर्शाता है। यदि कुल बिक्री 1200 है, तो B की बिक्री कितनी है?

- Ans
- 1. 318
 - 2. 356
 - 3. 290
 - 4. 192

Question ID : [630680854938](#)
Option 1 ID : [6306803348475](#)
Option 2 ID : [6306803348474](#)
Option 3 ID : [6306803348476](#)
Option 4 ID : [6306803348477](#)

Q.9 8 पारियों के लिए, सुनील के पास एक निश्चित रन रेट है। नौवीं पारी में उन्होंने 100 रन बनाए, जिससे उनका रन रेट 6 रन बढ़ गया। उसका नया रन रेट क्या होगा?

- Ans
- 1. 46
 - 2. 40
 - 3. 52
 - 4. 50

Question ID : [630680854930](#)
Option 1 ID : [6306803348443](#)
Option 2 ID : [6306803348442](#)
Option 3 ID : [6306803348445](#)
Option 4 ID : [6306803348444](#)

Q.10 What is the length of a side of a square whose area is 361 cm^2 ?

- Ans
- 1. 15 cm
 - 2. 23 cm
 - 3. 19 cm
 - 4. 21 cm

Question ID : [630680855037](#)
Option 1 ID : [6306803348874](#)
Option 2 ID : [6306803348877](#)
Option 3 ID : [6306803348875](#)
Option 4 ID : [6306803348876](#)

Q.11 The unit digit of $(2001)^{2008} + 2003$ is.

- Ans
- 1. 4
 - 2. 1
 - 3. 6
 - 4. 3

Question ID : [630680855012](#)
Option 1 ID : [6306803348776](#)
Option 2 ID : [6306803348774](#)
Option 3 ID : [6306803348777](#)
Option 4 ID : [6306803348775](#)

Q.12 साधारण ब्याज पर 6 वर्षों में एक राशि में 60% की वृद्धि होती है। उसी दर पर 2 वर्ष बाद ₹ 14,500 का चक्रवृद्धि ब्याज (वार्षिक रूप से संयोजित) क्या होगा?

- Ans
- 1. ₹ 3144
 - 2. ₹ 3045
 - 3. ₹ 3000
 - 4. ₹ 3180

Question ID : [630680855004](#)
Option 1 ID : [6306803348744](#)
Option 2 ID : [6306803348743](#)
Option 3 ID : [6306803348742](#)
Option 4 ID : [6306803348745](#)

Q.13 Which of the below is not a perfect square?

- Ans
- 1. 18496
 - 2. 4489
 - 3. 10400
 - 4. 17161

Question ID : [630680849975](#)
Option 1 ID : [6306803329132](#)
Option 2 ID : [6306803329129](#)
Option 3 ID : [6306803329131](#)
Option 4 ID : [6306803329130](#)

Q.14 What is the third proportional to $1/9$ and $1/27$?

- Ans
- 1. 45
 - 2. 81
 - 3. $1/81$
 - 4. $1/45$

Question ID : [630680850049](#)
Option 1 ID : [6306803329426](#)
Option 2 ID : [6306803329428](#)
Option 3 ID : [6306803329427](#)
Option 4 ID : [6306803329425](#)

Q.15 A ने एक वस्तु B को 50% लाभ पर बेची, B ने इसे C को 50% लाभ पर बेची और C ने इसे D को 40% हानि पर बेची। D ने इसे ₹ 587.25 में खरीदा। A का लागत मूल्य क्या है?

- Ans
- 1. ₹ 488
 - 2. ₹ 435
 - 3. ₹ 444
 - 4. ₹ 468

Question ID : [630680840458](#)
Option 1 ID : [6306803292516](#)
Option 2 ID : [6306803292513](#)
Option 3 ID : [6306803292514](#)
Option 4 ID : [6306803292515](#)

Q.16 एक ट्रेन स्थान A से सुबह 11 बजे शुरू होती है और दूसरे स्थान B पर उसी दिन शाम 4.30 बजे पहुंचती है। यदि ट्रेन की गति 60 कि.मी. प्रति घंटा है, तो ट्रेन द्वारा तय की गई दूरी ज्ञात कीजिये?

- Ans
- 1. 300 कि.मी.
 - 2. 280 कि.मी.
 - 3. 330 कि.मी.
 - 4. 340 कि.मी.

Question ID : [630680854965](#)
Option 1 ID : [6306803348584](#)
Option 2 ID : [6306803348585](#)
Option 3 ID : [6306803348583](#)
Option 4 ID : [6306803348582](#)

Q.17 रोशन अपने घर से 50 कि.मी. घंटा की गति से गाड़ी चलाता है। और अपने बैंक में 20 मिनट देरी से पहुंचता है। फिर अगले दिन वह अपनी गति 20 कि.मी. घंटा बढ़ा देता है। लेकिन फिर भी वह 8 मिनट लेट है। उसका बैंक उसके घर से कितनी दूर है?

- Ans
- 1. 29 कि.मी.
 - 2. 32 कि.मी.
 - 3. 27 कि.मी.
 - 4. 35 कि.मी.

Question ID : [630680855092](#)
Option 1 ID : [6306803349095](#)
Option 2 ID : [6306803349096](#)
Option 3 ID : [6306803349094](#)
Option 4 ID : [6306803349097](#)

Q.18 एक भिकनिक पार्टी के प्रत्येक सदस्य ने कुल सदस्यों की संख्या से दोगुने रुपये का योगदान दिया और कुल संग्रह ₹ 2312 था। पार्टी में उपस्थित सदस्यों की संख्या कितनी थी?

- Ans
- 1. 38
 - 2. 40
 - 3. 36
 - 4. 34

Question ID : [630680855071](#)
Option 1 ID : [6306803349012](#)
Option 2 ID : [6306803349013](#)
Option 3 ID : [6306803349011](#)
Option 4 ID : [6306803349010](#)

Q.19 नीचे दी गई तालिका पांच अलग-अलग वस्तुओं का विक्रय मूल्य (₹ में) और अंकित मूल्य (₹ में) दर्शाती है

वस्तु	विक्रय मूल्य	अंकित मूल्य
रेक	2400	2600
सूटकेस	3500	4000
दीवार घड़ी	430	580
इंडक्शन चूल्हा	2250	2350
लैप	3400	3600

एक सूटकेस पर छूट प्रतिशत ज्ञात कीजिए।

- Ans
- 1. 12.5%
 - 2. 15%
 - 3. 10%
 - 4. 11.5%

Question ID : [630680855064](#)
Option 1 ID : [6306803348984](#)
Option 2 ID : [6306803348985](#)
Option 3 ID : [6306803348982](#)
Option 4 ID : [6306803348983](#)

Q.20 Applied to a bill for ₹ 4,00,000 the difference between two discounts - a single discount of 40% and another of two successive discounts of 36% and 4% is:

- Ans
- 1. ₹5300
 - 2. ₹6230
 - 3. ₹5760
 - 4. ₹7750

Question ID : [630680855022](#)
Option 1 ID : [6306803348814](#)
Option 2 ID : [6306803348815](#)
Option 3 ID : [6306803348817](#)
Option 4 ID : [6306803348816](#)

Section : Test of English Language and Comprehension 1

Q.1 Select the most appropriate meaning of the proverb below from the given options.

"As you sow, so you shall reap"

- Ans
- 1. Your actions determine your results
 - 2. The perception of beauty varies from person to person
 - 3. Don't form an opinion about someone by their appearance
 - 4. Getting something late is better than never getting it

Question ID : [630680847794](#)
Option 1 ID : [6306803320738](#)
Option 2 ID : [6306803320739](#)
Option 3 ID : [6306803320741](#)
Option 4 ID : [6306803320740](#)

Q.2 The following sentence has been divided into parts. One of them contains an error in the use of articles. Select the part that contains the error from the given options.

The effective sales strategy/ is something that every/ business owner needs, aside from/ an excellent product to sell.

- Ans**
- 1. is something that every
 - 2. business owner needs, aside from
 - 3. The effective sales strategy
 - 4. an excellent product to sell

Question ID : [630680838079](#)
Option 1 ID : [6306803283004](#)
Option 2 ID : [6306803283005](#)
Option 3 ID : [6306803283003](#)
Option 4 ID : [6306803283006](#)

Q.3 Fill in the blanks with the most appropriate homonym in the following sentence.

Do you ___ what they were talking about?

- Ans**
- 1. knew
 - 2. No
 - 3. know
 - 4. now

Question ID : [630680848947](#)
Option 1 ID : [6306803325325](#)
Option 2 ID : [6306803325322](#)
Option 3 ID : [6306803325323](#)
Option 4 ID : [6306803325324](#)

Q.4 Select the most appropriate form of verb from the given options to replace the underlined and bracketed word in order to correct the below sentence.

We (go) to the movies last Sunday.

- Ans**
- 1. going
 - 2. goes
 - 3. went
 - 4. gone

Question ID : [630680838080](#)
Option 1 ID : [6306803283008](#)
Option 2 ID : [6306803283007](#)
Option 3 ID : [6306803283009](#)
Option 4 ID : [6306803283010](#)

Q.5 Choose the most appropriate one-word substitution for the below word.

“A member of a wandering tribe”

- Ans 1. Nomad
 2. Resident
 3. Enthusiast
 4. Denizen

Question ID : [630680848926](#)
Option 1 ID : [6306803325245](#)
Option 2 ID : [6306803325244](#)
Option 3 ID : [6306803325243](#)
Option 4 ID : [6306803325242](#)

Q.6 Select the appropriate article from the below options to complete the sentence. Mark “No article” if there is no requirement of article in the given sentence.

___ Chairman will decide the matter.

- Ans 1. A
 2. No article
 3. An
 4. The

Question ID : [630680847704](#)
Option 1 ID : [6306803320386](#)
Option 2 ID : [6306803320388](#)
Option 3 ID : [6306803320389](#)
Option 4 ID : [6306803320387](#)

Q.7 Select the most appropriate form of verb from the given options to replace the underlined and bracketed word in order to correct the below sentence.

She often (dancing) to her favorite songs.

- Ans 1. was danced
 2. had dances
 3. are dancing
 4. dances

Question ID : [630680847714](#)
Option 1 ID : [6306803320427](#)
Option 2 ID : [6306803320426](#)
Option 3 ID : [6306803320429](#)
Option 4 ID : [6306803320428](#)

Q.8 Parts of the following sentence have been given as options that contain an error in spelling. Select from the below options that identify the misspelt word.

Clothing has also been improved by science, with man-made fibers and versatiel spinning machines that make clothes comfortable, smart, and affordable for different working and climatic conditions.

- Ans**
- 1. versatiel
 - 2. different
 - 3. affordable
 - 4. comfortable

Question ID : [630680837844](#)
Option 1 ID : [6306803282086](#)
Option 2 ID : [6306803282083](#)
Option 3 ID : [6306803282085](#)
Option 4 ID : [6306803282084](#)

Q.9 Choose the most logical order of the sentences from among the four given choices to construct a coherent paragraph.

Bonds, in their various forms, play a significant role in our lives.

- A) Whether it be through certificates of achievement, promises made to loved ones, or the bonds of contracts, we are all bound to something in one way or another.
- B) The tangible bonds are perhaps the most straightforward to understand. These are the bonds that are represented by physical certificates, pledges, or contracts.
- C) Examples include diplomas, marriage certificates, and loan agreements. These bonds represent commitments that we have made and serve as concrete reminders of our obligations.
- D) They can be visible or invisible, physical, or emotional, tangible or intangible, but all serve to connect us to the people, places, and things that matter to us.

- Ans**
- 1. CBDA
 - 2. ACDB
 - 3. BADC
 - 4. DABC

Question ID : [630680847719](#)
Option 1 ID : [6306803320448](#)
Option 2 ID : [6306803320449](#)
Option 3 ID : [6306803320446](#)
Option 4 ID : [6306803320447](#)

Q.10 The following sentence has been divided into parts. One of them may contain an error in the use of articles. Select the part that contains the error from the given options.

A Malaysian government has placed/ great importance on this/ sector and has allocated significant/ funds for its growth.

- Ans**
- 1. funds for its growth
 - 2. sector and has allocated significant
 - 3. great importance on this
 - 4. A Malaysian government has placed

Question ID : [630680837915](#)
Option 1 ID : [6306803282362](#)
Option 2 ID : [6306803282361](#)
Option 3 ID : [6306803282360](#)
Option 4 ID : [6306803282359](#)

Q.11 Select the most appropriate form of verb from the given options to replace the underlined and bracketed word in order to correct the below sentence.

David is (write) a novel about wildlife heritage.

- Ans 1. wrote
 2. written
 3. writing
 4. writes

Question ID : [630680838085](#)
Option 1 ID : [6306803283029](#)
Option 2 ID : [6306803283027](#)
Option 3 ID : [6306803283028](#)
Option 4 ID : [6306803283030](#)

Q.12 A statement has been given with highlighted text. You are required to replace the text with correct idiom from the given options.

I wouldn't take on that project if I were you, you're (taking on too much more than you can do).

- Ans 1. throwing caution to the wind
 2. (getting) a taste of your own medicine
 3. barking up the wrong tree
 4. biting off more than you can chew

Question ID : [630680838098](#)
Option 1 ID : [6306803283076](#)
Option 2 ID : [6306803283075](#)
Option 3 ID : [6306803283078](#)
Option 4 ID : [6306803283077](#)

Q.13 Select the most appropriate SYNONYM of the word highlighted/ given in brackets in the below sentence.

Air pollution harms human health, particularly in those already (vulnerable) because of their age or existing health problems.

- Ans 1. Warded
 2. Susceptible
 3. Sheltered
 4. Unexposed

Question ID : [630680848945](#)
Option 1 ID : [6306803325317](#)
Option 2 ID : [6306803325315](#)
Option 3 ID : [6306803325316](#)
Option 4 ID : [6306803325314](#)

Q.14 Select the most appropriate form of verb from the given options to replace the underlined and bracketed word in order to correct the below sentence.

Jimmy has been (work) as a postman since 2009.

- Ans 1. working
 2. worked
 3. works
 4. be worked

Question ID : [630680837995](#)

Option 1 ID : [6306803282678](#)

Option 2 ID : [6306803282675](#)

Option 3 ID : [6306803282677](#)

Option 4 ID : [6306803282676](#)

Q.15 Select the most appropriate SYNONYM of the word highlighted/ given in brackets in the below sentence.

When the leadership changed, his position in the organization became (precarious).

- Ans 1. unharmed
 2. indispensable
 3. uncertain
 4. acceptable

Question ID : [630680838108](#)

Option 1 ID : [6306803283115](#)

Option 2 ID : [6306803283118](#)

Option 3 ID : [6306803283116](#)

Option 4 ID : [6306803283117](#)

Q.16 A statement has been given with highlighted text. You are required to replace the text with correct idiom from the given options.

Brandon (made the things worse) by accusing the opposing team of cheating.

- Ans 1. let the cat out of the bag
 2. added fuel to the fire
 3. saw eye to eye
 4. gave someone cold shoulder

Question ID : [630680837829](#)

Option 1 ID : [6306803282024](#)

Option 2 ID : [6306803282025](#)

Option 3 ID : [6306803282026](#)

Option 4 ID : [6306803282023](#)

Q.17 Select the correct preposition from the below options to complete the below sentence.

The picture is hanging _____ the sofa.

Ans 1. above

2. in

3. onto

4. upto

Question ID : [630680848914](#)

Option 1 ID : [6306803325195](#)

Option 2 ID : [6306803325196](#)

Option 3 ID : [6306803325194](#)

Option 4 ID : [6306803325197](#)

Q.18 Select the most appropriate SYNONYM of the given word below.

Frail

Ans 1. Sturdy

2. Fragile

3. Rigid

4. Hard

Question ID : [630680838105](#)

Option 1 ID : [6306803283103](#)

Option 2 ID : [6306803283105](#)

Option 3 ID : [6306803283106](#)

Option 4 ID : [6306803283104](#)

Q.19 Choose the most appropriate one-word substitution for the below words.

“A room in a public building where outdoor clothes or luggage may be left”

Ans 1. Cache

2. Reservoir

3. Wardrobe

4. Cloakroom

Question ID : [630680847720](#)

Option 1 ID : [6306803320452](#)

Option 2 ID : [6306803320451](#)

Option 3 ID : [6306803320450](#)

Option 4 ID : [6306803320453](#)

Q.20 Select the most appropriate SYNONYM of the given word below.

Stringent

- Ans 1. Loose
 2. Flexible
 3. Strict
 4. Mild

Question ID : [630680847797](#)
Option 1 ID : [6306803320751](#)
Option 2 ID : [6306803320750](#)
Option 3 ID : [6306803320752](#)
Option 4 ID : [6306803320753](#)

Section : Test of English Language and Comprehension 2

Q.1 Fill in the blanks with the most appropriate homonym in the following sentence.

The morning ___ made the grass sparkle.

- Ans 1. dew
 2. lied
 3. due
 4. lead

Question ID : [630680838024](#)
Option 1 ID : [6306803282788](#)
Option 2 ID : [6306803282790](#)
Option 3 ID : [6306803282787](#)
Option 4 ID : [6306803282789](#)

Q.2 Select the most appropriate form of verb from the given options to replace the underlined and bracketed word in order to correct the below sentence.

The police are (asks) about the incident that happened last night.

- Ans 1. ask
 2. be asked
 3. asking
 4. asked

Question ID : [630680837813](#)
Option 1 ID : [6306803281964](#)
Option 2 ID : [6306803281966](#)
Option 3 ID : [6306803281963](#)
Option 4 ID : [6306803281965](#)

Q.3 Select the correct preposition from the below options to complete the below sentence.

He is playing ___ his brothers.

- Ans 1. with
 2. into
 3. at
 4. along

Question ID : [630680838077](#)
Option 1 ID : [6306803282995](#)
Option 2 ID : [6306803282998](#)
Option 3 ID : [6306803282997](#)
Option 4 ID : [6306803282996](#)

Q.4 Choose the most appropriate one-word substitution for the below word.

"One who knows many languages"

- Ans 1. Monogamist
 2. Polyglot
 3. Polygamist
 4. Egoist

Question ID : [630680837924](#)
Option 1 ID : [6306803282395](#)
Option 2 ID : [6306803282398](#)
Option 3 ID : [6306803282396](#)
Option 4 ID : [6306803282397](#)

Q.5 The following sentence has been divided into parts. One of them contains an error in the use of articles. Select the part that contains the error from the given options.

Climate change encompasses not only/ the rising average temperatures but also natural disasters, /shifting wildlife habitats, rising seas, /and a range of other impacts.

- Ans 1. the rising average temperatures but also natural disasters,
 2. Climate change encompasses not only
 3. and a range of other impacts
 4. shifting wildlife habitats, rising seas,

Question ID : [630680848916](#)
Option 1 ID : [6306803325203](#)
Option 2 ID : [6306803325202](#)
Option 3 ID : [6306803325205](#)
Option 4 ID : [6306803325204](#)

Q.6 Parts of the following sentence have been given as options that contain an error in spelling. Select from the below options that identify the misspelt word.

To address the problem of pollution, we need to take collective action at all levels.

- Ans 1. collective
 2. pollution
 3. address
 4. levels

Question ID : [630680837944](#)

Option 1 ID : [6306803282472](#)

Option 2 ID : [6306803282471](#)

Option 3 ID : [6306803282473](#)

Option 4 ID : [6306803282474](#)

Q.7 Choose the most logical order of the sentences from among the four given choices to construct a coherent paragraph.

In recent times, cities around the world have undergone a process of modernization, driven by a flourishing economy, and expanding commerce and industry.

A) As a result, the wealthier professional and managerial classes have steadily moved out to suburban or country houses, leaving neglected residential areas in the city center that give rise to slums.

B) However, this has resulted in the conversion of residential areas in the city center to other purposes, leading to a proliferation of problems such as a housing shortage, social changes, and overcrowding.

C) The needs of civilized life have to be met, and skyscraper blocks of flats need to be built in suburbs when there is pressure on space, as in Hong Kong.

D) To address these challenges, modern cities need to exclude dwelling places from their central areas, except for those preserved for historic and cultural reasons.

- Ans 1. DCAB
 2. ABCD
 3. CABD
 4. BADC

Question ID : [630680837817](#)

Option 1 ID : [6306803281982](#)

Option 2 ID : [6306803281979](#)

Option 3 ID : [6306803281981](#)

Option 4 ID : [6306803281980](#)

Q.8 Choose the most appropriate one-word substitution for the below word.

“A person appointed by two parties to solve a dispute”

- Ans 1. Philatelist
 2. Instigator
 3. Curator
 4. Arbitrator

Question ID : [630680838004](#)

Option 1 ID : [6306803282713](#)

Option 2 ID : [6306803282711](#)

Option 3 ID : [6306803282712](#)

Option 4 ID : [6306803282714](#)

Q.9 Select the correct preposition from the below options to complete the below sentence.

Ramesh fell down while he was running __ a bus.

- Ans 1. after
 2. between
 3. among
 4. at

Question ID : [630680847769](#)
Option 1 ID : [6306803320644](#)
Option 2 ID : [6306803320643](#)
Option 3 ID : [6306803320645](#)
Option 4 ID : [6306803320642](#)

Q.10 Select the most appropriate meaning of the proverb below from the given options.

“Haste makes waste.”

- Ans 1. When you really need something, you find a way to meet the need.
 2. Doing something too quickly results in mistakes.
 3. Do not delay a task if you can do it immediately.
 4. Children have similar characteristics as their parents.

Question ID : [630680837833](#)
Option 1 ID : [6306803282042](#)
Option 2 ID : [6306803282040](#)
Option 3 ID : [6306803282039](#)
Option 4 ID : [6306803282041](#)

Comprehension:

Read the passage given below and answer the questions that follow

The fresh heart-shaped leaves plucked from the betel vine may be an important ingredient for the rituals and ceremonies. But farmers from Trichy, Thanjavur, and Dharmapuri see their money slip away in the adverse weather conditions and unprecedented water scarcity. Most farmers are at loss of words to explain how the heatwave-like conditions over the past few weeks coupled with the lack of availability of Cauvery water for irrigation brought down their yield. Farmer those who took up betel leaf cultivation in the district are now buying water from tanker lorries to save their crop. Because of the production loss, the revenue earned by the farmers does not cover the expenses incurred to raise the crop. Unlike other plantation crops, betel leaves are very tender in nature. This leaves it unable to suffer the rising mercury levels. It is a wetland crop and requires huge amounts of water. Most farmers irrigate betel-leaf crops by digging trenches. Kumbakonam, a popular pilgrimage centre, is also famous for betel leaves. Farmers and traders say that betel leaves grown in Kumbakonam are considered the best, due to their freshness and strong quality. A wholesale trader of betel leaves in Kumbakonam said this year's arrival was significantly lower compared to last year, suggesting reduced production caused by prevailing temperatures. This had led to a price hike for the betel leaves. Due to the lack of flow in Cauvery, drought like situation is prevailing in delta, affecting the growth of the crops. But over the past few months the production has been impacted by lack of water and the harsh heatwave. Farmers are now requesting the state government to assess the situation and take steps to provide financial help.

SubQuestion No : 11

Q.11 Select the most appropriate **SYNONYM** of the word given below.
Incurred

- Ans**
- 1. Eluded
 - 2. Avoided
 - 3. Contracted
 - 4. Escaped

Question ID : [630680856327](#)
Option 1 ID : [6306803353960](#)
Option 2 ID : [6306803353958](#)
Option 3 ID : [6306803353961](#)
Option 4 ID : [6306803353959](#)

Comprehension:

Read the passage given below and answer the questions that follow

The fresh heart-shaped leaves plucked from the betel vine may be an important ingredient for the rituals and ceremonies. But farmers from Trichy, Thanjavur, and Dharmapuri see their money slip away in the adverse weather conditions and unprecedented water scarcity. Most farmers are at loss of words to explain how the heatwave-like conditions over the past few weeks coupled with the lack of availability of Cauvery water for irrigation brought down their yield. Farmer those who took up betel leaf cultivation in the district are now buying water from tanker lorries to save their crop. Because of the production loss, the revenue earned by the farmers does not cover the expenses incurred to raise the crop. Unlike other plantation crops, betel leaves are very tender in nature. This leaves it unable to suffer the rising mercury levels. It is a wetland crop and requires huge amounts of water. Most farmers irrigate betel-leaf crops by digging trenches. Kumbakonam, a popular pilgrimage centre, is also famous for betel leaves. Farmers and traders say that betel leaves grown in Kumbakonam are considered the best, due to their freshness and strong quality. A wholesale trader of betel leaves in Kumbakonam said this year's arrival was significantly lower compared to last year, suggesting reduced production caused by prevailing temperatures. This had led to a price hike for the betel leaves. Due to the lack of flow in Cauvery, drought like situation is prevailing in delta, affecting the growth of the crops. But over the past few months the production has been impacted by lack of water and the harsh heatwave. Farmers are now requesting the state government to assess the situation and take steps to provide financial help.

SubQuestion No : 12

Q.12 Select the most appropriate **SYNONYM** of the word given below.

Tender

- Ans 1. Sturdy
 2. Delicate
 3. Robust
 4. Firm

Question ID : [630680856326](#)
Option 1 ID : [6306803353957](#)
Option 2 ID : [6306803353956](#)
Option 3 ID : [6306803353954](#)
Option 4 ID : [6306803353955](#)

Comprehension:

Read the passage given below and answer the questions that follow

The fresh heart-shaped leaves plucked from the betel vine may be an important ingredient for the rituals and ceremonies. But farmers from Trichy, Thanjavur, and Dharmapuri see their money slip away in the adverse weather conditions and unprecedented water scarcity. Most farmers are at loss of words to explain how the heatwave-like conditions over the past few weeks coupled with the lack of availability of Cauvery water for irrigation brought down their yield. Farmer those who took up betel leaf cultivation in the district are now buying water from tanker lorries to save their crop. Because of the production loss, the revenue earned by the farmers does not cover the expenses incurred to raise the crop. Unlike other plantation crops, betel leaves are very tender in nature. This leaves it unable to suffer the rising mercury levels. It is a wetland crop and requires huge amounts of water. Most farmers irrigate betel-leaf crops by digging trenches. Kumbakonam, a popular pilgrimage centre, is also famous for betel leaves. Farmers and traders say that betel leaves grown in Kumbakonam are considered the best, due to their freshness and strong quality. A wholesale trader of betel leaves in Kumbakonam said this year's arrival was significantly lower compared to last year, suggesting reduced production caused by prevailing temperatures. This had led to a price hike for the betel leaves. Due to the lack of flow in Cauvery, drought like situation is prevailing in delta, affecting the growth of the crops. But over the past few months the production has been impacted by lack of water and the harsh heatwave. Farmers are now requesting the state government to assess the situation and take steps to provide financial help.

SubQuestion No : 13

Q.13 Select the most appropriate ANTONYM of the word given below.
Prevailing

- Ans 1. Linger
 2. Persevering
 3. Collapsing
 4. Continuing

Question ID : [630680856328](#)
Option 1 ID : [6306803353965](#)
Option 2 ID : [6306803353964](#)
Option 3 ID : [6306803353963](#)
Option 4 ID : [6306803353962](#)

Comprehension:

Read the passage given below and answer the questions that follow

The fresh heart-shaped leaves plucked from the betel vine may be an important ingredient for the rituals and ceremonies. But farmers from Trichy, Thanjavur, and Dharmapuri see their money slip away in the adverse weather conditions and unprecedented water scarcity. Most farmers are at loss of words to explain how the heatwave-like conditions over the past few weeks coupled with the lack of availability of Cauvery water for irrigation brought down their yield. Farmer those who took up betel leaf cultivation in the district are now buying water from tanker lorries to save their crop. Because of the production loss, the revenue earned by the farmers does not cover the expenses incurred to raise the crop. Unlike other plantation crops, betel leaves are very tender in nature. This leaves it unable to suffer the rising mercury levels. It is a wetland crop and requires huge amounts of water. Most farmers irrigate betel-leaf crops by digging trenches. Kumbakonam, a popular pilgrimage centre, is also famous for betel leaves. Farmers and traders say that betel leaves grown in Kumbakonam are considered the best, due to their freshness and strong quality. A wholesale trader of betel leaves in Kumbakonam said this year's arrival was significantly lower compared to last year, suggesting reduced production caused by prevailing temperatures. This had led to a price hike for the betel leaves. Due to the lack of flow in Cauvery, drought like situation is prevailing in delta, affecting the growth of the crops. But over the past few months the production has been impacted by lack of water and the harsh heatwave. Farmers are now requesting the state government to assess the situation and take steps to provide financial help.

SubQuestion No : 14

Q.14 Identify the most suitable title for the passage .

- Ans 1. Issues of producing betel leaves
2. Water scarcity impact on betel production
3. Betel production and its growth
4. Betel leaves and its side effects

Question ID : [630680856324](#)
Option 1 ID : [6306803353947](#)
Option 2 ID : [6306803353946](#)
Option 3 ID : [6306803353949](#)
Option 4 ID : [6306803353948](#)

Comprehension:

Read the passage given below and answer the questions that follow

The fresh heart-shaped leaves plucked from the betel vine may be an important ingredient for the rituals and ceremonies. But farmers from Trichy, Thanjavur, and Dharmapuri see their money slip away in the adverse weather conditions and unprecedented water scarcity. Most farmers are at loss of words to explain how the heatwave-like conditions over the past few weeks coupled with the lack of availability of Cauvery water for irrigation brought down their yield. Farmer those who took up betel leaf cultivation in the district are now buying water from tanker lorries to save their crop. Because of the production loss, the revenue earned by the farmers does not cover the expenses incurred to raise the crop. Unlike other plantation crops, betel leaves are very tender in nature. This leaves it unable to suffer the rising mercury levels. It is a wetland crop and requires huge amounts of water. Most farmers irrigate betel-leaf crops by digging trenches. Kumbakonam, a popular pilgrimage centre, is also famous for betel leaves. Farmers and traders say that betel leaves grown in Kumbakonam are considered the best, due to their freshness and strong quality. A wholesale trader of betel leaves in Kumbakonam said this year's arrival was significantly lower compared to last year, suggesting reduced production caused by prevailing temperatures. This had led to a price hike for the betel leaves. Due to the lack of flow in Cauvery, drought like situation is prevailing in delta, affecting the growth of the crops. But over the past few months the production has been impacted by lack of water and the harsh heatwave. Farmers are now requesting the state government to assess the situation and take steps to provide financial help.

SubQuestion No : 15

Q.15 Select the most appropriate meaning of the word given below.
unprecedented

- Ans** 1. never before known or experienced
 2. happened for the last time
 3. continuing for a long time
 4. something that happens intermittently

Question ID : [630680856325](#)
Option 1 ID : [6306803353951](#)
Option 2 ID : [6306803353952](#)
Option 3 ID : [6306803353950](#)
Option 4 ID : [6306803353953](#)

Comprehension:

Read the passage given below and answer the questions .

In terrifying news for the planet, scientists have given an update on the so-called 'Doomsday glacier' which is rapidly shrinking. The Thwaites Glacier is found in West Antarctica, which measures about the size of Great Britain, and could impact sea levels around the world. Should the huge block of floating ice melt entirely, it would cause sea levels to rise by two feet, which would have a devastating impact. Unfortunately, a new study has focused on the warm, salty seawater below the glacier which could result in the glacier melting at an even quicker rate than previously feared. As ice melts in the glacier, the freshwater is replaced by warmer seawater. Eric Rignot, a professor of Earth system science at the University of California at Irvine, says "In the past, we had only sporadic data to look at this. In this new data set, which is daily and over several months, we have solid observations of what is going on." He added: "This process of widespread, enormous seawater intrusion will increase the projections of sea level rise from Antarctica". It was recently revealed that the world's biggest iceberg is drifting away from the Antarctic after being grounded there for more than 30 years. The iceberg, which has the catchy name A23a, split from the Antarctic's giant Filchner Ice Shelf in 1986, but has been stuck to the ocean floor since shortly after that time.

SubQuestion No : 16

Q.16 Select the most appropriate SYNONYM of the word given below.
Enormous

- Ans 1. Little
 2. Gigantic
 3. Minute
 4. Miniature

Question ID : [630680856297](#)
Option 1 ID : [6306803353860](#)
Option 2 ID : [6306803353861](#)
Option 3 ID : [6306803353859](#)
Option 4 ID : [6306803353858](#)

Comprehension:

Read the passage given below and answer the questions .

In terrifying news for the planet, scientists have given an update on the so-called 'Doomsday glacier' which is rapidly shrinking. The Thwaites Glacier is found in West Antarctica, which measures about the size of Great Britain, and could impact sea levels around the world. Should the huge block of floating ice melt entirely, it would cause sea levels to rise by two feet, which would have a devastating impact. Unfortunately, a new study has focused on the warm, salty seawater below the glacier which could result in the glacier melting at an even quicker rate than previously feared. As ice melts in the glacier, the freshwater is replaced by warmer seawater. Eric Rignot, a professor of Earth system science at the University of California at Irvine, says "In the past, we had only sporadic data to look at this. In this new data set, which is daily and over several months, we have solid observations of what is going on." He added: "This process of widespread, enormous seawater intrusion will increase the projections of sea level rise from Antarctica". It was recently revealed that the world's biggest iceberg is drifting away from the Antarctic after being grounded there for more than 30 years. The iceberg, which has the catchy name A23a, split from the Antarctic's giant Filchner Ice Shelf in 1986, but has been stuck to the ocean floor since shortly after that time.

SubQuestion No : 17

Q.17 Select the most appropriate ANTONYM of the word given below.
Terrifying

- Ans 1. Ghastly
 2. Pleasant
 3. Alarming
 4. Horrible

Question ID : [630680856298](#)

Option 1 ID : [6306803353864](#)

Option 2 ID : [6306803353863](#)

Option 3 ID : [6306803353862](#)

Option 4 ID : [6306803353865](#)

Comprehension:

Read the passage given below and answer the questions .

In terrifying news for the planet, scientists have given an update on the so-called 'Doomsday glacier' which is rapidly shrinking. The Thwaites Glacier is found in West Antarctica, which measures about the size of Great Britain, and could impact sea levels around the world. Should the huge block of floating ice melt entirely, it would cause sea levels to rise by two feet, which would have a devastating impact. Unfortunately, a new study has focused on the warm, salty seawater below the glacier which could result in the glacier melting at an even quicker rate than previously feared. As ice melts in the glacier, the freshwater is replaced by warmer seawater. Eric Rignot, a professor of Earth system science at the University of California at Irvine, says "In the past, we had only sporadic data to look at this. In this new data set, which is daily and over several months, we have solid observations of what is going on." He added: "This process of widespread, enormous seawater intrusion will increase the projections of sea level rise from Antarctica". It was recently revealed that the world's biggest iceberg is drifting away from the Antarctic after being grounded there for more than 30 years. The iceberg, which has the catchy name A23a, split from the Antarctic's giant Filchner Ice Shelf in 1986, but has been stuck to the ocean floor since shortly after that time.

SubQuestion No : 18

Q.18 Select the most appropriate meaning of the word given below.
sporadic

Ans 1. Happening sometimes

2. Something happening often

3. Arranged or distributed in classes or according to class

4. To make whole or perfect

Question ID : [630680856295](#)

Option 1 ID : [6306803353851](#)

Option 2 ID : [6306803353850](#)

Option 3 ID : [6306803353852](#)

Option 4 ID : [6306803353853](#)

Comprehension:

Read the passage given below and answer the questions .

In terrifying news for the planet, scientists have given an update on the so-called 'Doomsday glacier' which is rapidly shrinking. The Thwaites Glacier is found in West Antarctica, which measures about the size of Great Britain, and could impact sea levels around the world. Should the huge block of floating ice melt entirely, it would cause sea levels to rise by two feet, which would have a devastating impact. Unfortunately, a new study has focused on the warm, salty seawater below the glacier which could result in the glacier melting at an even quicker rate than previously feared. As ice melts in the glacier, the freshwater is replaced by warmer seawater. Eric Rignot, a professor of Earth system science at the University of California at Irvine, says "In the past, we had only sporadic data to look at this. In this new data set, which is daily and over several months, we have solid observations of what is going on." He added: "This process of widespread, enormous seawater intrusion will increase the projections of sea level rise from Antarctica". It was recently revealed that the world's biggest iceberg is drifting away from the Antarctic after being grounded there for more than 30 years. The iceberg, which has the catchy name A23a, split from the Antarctic's giant Filchner Ice Shelf in 1986, but has been stuck to the ocean floor since shortly after that time.

SubQuestion No : 19

Q.19 Identify the most suitable title for the passage.

- Ans 1. Rising ocean floor
2. Increasing sea level over Antarctica
3. Rapidly shrinking Doomsday glacier
4. Glaciers of the World

Question ID : [630680856294](#)

Option 1 ID : [6306803353849](#)

Option 2 ID : [6306803353848](#)

Option 3 ID : [6306803353846](#)

Option 4 ID : [6306803353847](#)

Comprehension:

Read the passage given below and answer the questions .

In terrifying news for the planet, scientists have given an update on the so-called 'Doomsday glacier' which is rapidly shrinking. The Thwaites Glacier is found in West Antarctica, which measures about the size of Great Britain, and could impact sea levels around the world. Should the huge block of floating ice melt entirely, it would cause sea levels to rise by two feet, which would have a devastating impact. Unfortunately, a new study has focused on the warm, salty seawater below the glacier which could result in the glacier melting at an even quicker rate than previously feared. As ice melts in the glacier, the freshwater is replaced by warmer seawater. Eric Rignot, a professor of Earth system science at the University of California at Irvine, says "In the past, we had only sporadic data to look at this. In this new data set, which is daily and over several months, we have solid observations of what is going on." He added: "This process of widespread, enormous seawater intrusion will increase the projections of sea level rise from Antarctica". It was recently revealed that the world's biggest iceberg is drifting away from the Antarctic after being grounded there for more than 30 years. The iceberg, which has the catchy name A23a, split from the Antarctic's giant Filchner Ice Shelf in 1986, but has been stuck to the ocean floor since shortly after that time.

SubQuestion No : 20

Q.20 Select the most appropriate SYNONYM of the word given below.

Previously

- Ans 1. Futuristic
 2. Currently
 3. Earlier
 4. Later

Question ID : [630680856296](#)

Option 1 ID : [6306803353855](#)

Option 2 ID : [6306803353854](#)

Option 3 ID : [6306803353856](#)

Option 4 ID : [6306803353857](#)

Section : Test of Hindi Language and Comprehension 1

Q.1 आपकी उपस्थिति _____ है ।

इस वाक्य में रिक्त स्थान की पूर्ति शुद्ध शब्द द्वारा कीजिये

- Ans 1. प्रथित
 2. प्रार्थित
 3. प्रार्थितः
 4. प्ररथित

Question ID : [630680855146](#)

Option 1 ID : [6306803349305](#)

Option 2 ID : [6306803349303](#)

Option 3 ID : [6306803349302](#)

Option 4 ID : [6306803349304](#)

Q.2 निम्नलिखित शब्दों में से शुद्ध शब्द का चयन करें।

- Ans 1. ऊँचा
 2. क्रीपया
 3. सिग्र
 4. कगणा

Question ID : [630680855771](#)
Option 1 ID : [6306803351788](#)
Option 2 ID : [6306803351787](#)
Option 3 ID : [6306803351786](#)
Option 4 ID : [6306803351789](#)

Q.3 निम्नलिखित में से "आँख फेरना" मुहावरे का सही अर्थ निम्नलिखित विकल्पों में से कौन-सा है?

- Ans 1. चुँगली करना
 2. डींग हाँकना
 3. मृत्यु के मुँह में पड़ना
 4. खिलाफ होना

Question ID : [630680855766](#)
Option 1 ID : [6306803351767](#)
Option 2 ID : [6306803351769](#)
Option 3 ID : [6306803351768](#)
Option 4 ID : [6306803351766](#)

Q.4 निम्नलिखित वाक्यों में से अशुद्ध वाक्य का चयन करें।

- Ans 1. मैंने भाषण दिया ।
 2. इसकी दाम केवल एक रुपया है।
 3. गणेश की लड़की हुई है ।
 4. मालती मेरी पत्नी है ।

Question ID : [630680855121](#)
Option 1 ID : [6306803349203](#)
Option 2 ID : [6306803349205](#)
Option 3 ID : [6306803349204](#)
Option 4 ID : [6306803349202](#)

Q.5 निम्नलिखित में से कौन-सा शब्द "सार्वनामिक विशेषण" का उदाहरण है?

- Ans 1. अच्छा
 2. पूरा
 3. कोई
 4. तीस

Question ID : [630680855762](#)
Option 1 ID : [6306803351753](#)
Option 2 ID : [6306803351752](#)
Option 3 ID : [6306803351751](#)
Option 4 ID : [6306803351750](#)

Q.6 "रहीम के बेटे बड़े होनहार हैं।"

दिए गए वाक्य में किस कारक का उपयोग हुआ है?

- Ans
- 1. सम्बोधन
 - 2. अधिकरण
 - 3. संप्रदान
 - 4. संबंध

Question ID : [630680855759](#)
Option 1 ID : [6306803351741](#)
Option 2 ID : [6306803351740](#)
Option 3 ID : [6306803351738](#)
Option 4 ID : [6306803351739](#)

Q.7 निम्नलिखित में से "आँख मारना" मुहावरे का सही अर्थ निम्नलिखित विकल्पों में से कौन-सा है?

- Ans
- 1. इशारा करना
 - 2. बेसहारा हो जाना
 - 3. घायल करना
 - 4. बहुत प्यार होना

Question ID : [630680855764](#)
Option 1 ID : [6306803351759](#)
Option 2 ID : [6306803351758](#)
Option 3 ID : [6306803351760](#)
Option 4 ID : [6306803351761](#)

Q.8 निम्नलिखित वाक्यों में से अशुद्ध वाक्य का चयन करें।

- Ans
- 1. गाड़ी में बहुत भीड़ है।
 - 2. मैंने कमीज, कोट और कुर्ते सिलवाये।
 - 3. मनोहर भारत का नेता थे।
 - 4. मैं आपसे कहता हूँ।

Question ID : [630680855748](#)
Option 1 ID : [6306803351696](#)
Option 2 ID : [6306803351694](#)
Option 3 ID : [6306803351695](#)
Option 4 ID : [6306803351697](#)

Q.9 निम्नलिखित में से 'राई से पर्वत बनाना' मुहावरे का उचित अर्थ क्या है?

- Ans
- 1. चमक समाप्त हो जाना
 - 2. मेहनत करना
 - 3. जान-बूझकर हानिकारक कार्य करना
 - 4. छोटी बात को बहुत बढ़ा देना

Question ID : [630680840632](#)
Option 1 ID : [6306803293196](#)
Option 2 ID : [6306803293193](#)
Option 3 ID : [6306803293194](#)
Option 4 ID : [6306803293195](#)

Q.10 निम्नलिखित में से "भूखे" शब्द किस विशेषण का उदाहरण है?

- Ans 1. संख्यावाचक विशेषण
 2. गुणवाचक विशेषण
 3. सार्वनामिक विशेषण
 4. परिणामवाचक विशेषण

Question ID : [630680855438](#)
Option 1 ID : [6306803350472](#)
Option 2 ID : [6306803350473](#)
Option 3 ID : [6306803350470](#)
Option 4 ID : [6306803350471](#)

Q.11 'हथियार डाल देना' मुहावरे का उचित अर्थ क्या है?

- Ans 1. मार डालना
 2. हार मान लेना
 3. प्रभाव जमाना
 4. दुविधा

Question ID : [630680840567](#)
Option 1 ID : [6306803292944](#)
Option 2 ID : [6306803292942](#)
Option 3 ID : [6306803292941](#)
Option 4 ID : [6306803292943](#)

Q.12 निम्नलिखित शब्दों में से अशुद्ध शब्द का चयन करें।

- Ans 1. पछताना
 2. बाँसुरी
 3. भजवाया
 4. गाँधीजी

Question ID : [630680855772](#)
Option 1 ID : [6306803351790](#)
Option 2 ID : [6306803351793](#)
Option 3 ID : [6306803351792](#)
Option 4 ID : [6306803351791](#)

Q.13 निम्नलिखित में से "गोल" शब्द किस विशेषण का उदाहरण है?

- Ans 1. परिमाणवाचक विशेषण
 2. गुणवाचक विशेषण
 3. संख्यावाचक विशेषण
 4. सार्वनामिक विशेषण

Question ID : [630680855763](#)
Option 1 ID : [6306803351755](#)
Option 2 ID : [6306803351754](#)
Option 3 ID : [6306803351756](#)
Option 4 ID : [6306803351757](#)

Q.14 निम्नलिखित वाक्यों में से शुद्ध वाक्य का चयन करें।

- Ans
- 1. हम चाय पिये है।
 - 2. लड़का लोग बहुत तंग करती है।
 - 3. काशी सदा संस्कृति का केंद्र रही है।
 - 4. हम आपसे कहता हूँ।

Question ID : [630680855749](#)
Option 1 ID : [6306803351698](#)
Option 2 ID : [6306803351701](#)
Option 3 ID : [6306803351700](#)
Option 4 ID : [6306803351699](#)

Q.15 "बुरी संगति का प्रभाव पड़ेगा ही " की उचित लोकोक्ति बताइये।

- Ans
- 1. कुत्ते को घी पचता
 - 2. खरी मजूरी चोखा काम
 - 3. अकल बड़ी या भैंस
 - 4. काजल की कोठरी में धब्बे का डर

Question ID : [630680855144](#)
Option 1 ID : [6306803349295](#)
Option 2 ID : [6306803349296](#)
Option 3 ID : [6306803349297](#)
Option 4 ID : [6306803349294](#)

Q.16 दूध, पानी, धन, घी इत्यादि में विशेषण के कौन-से भेद लगेंगे हैं?

- Ans
- 1. संबंधवाचक विशेषण
 - 2. संख्यावाचक विशेषण
 - 3. गुणवाचक विशेषण
 - 4. परिमाणवाचक विशेषण

Question ID : [630680840564](#)
Option 1 ID : [6306803292932](#)
Option 2 ID : [6306803292930](#)
Option 3 ID : [6306803292929](#)
Option 4 ID : [6306803292931](#)

Q.17 ब्रिटिशकाल में भारत में _____ की ज्यादा खेती होती थी।

इस वाक्य में रिक्त स्थान की पूर्ति शुद्ध शब्द द्वारा कीजिये

- Ans
- 1. नल
 - 2. नीला पौधा
 - 3. नीला
 - 4. नील

Question ID : [630680854290](#)
Option 1 ID : [6306803345923](#)
Option 2 ID : [6306803345925](#)
Option 3 ID : [6306803345924](#)
Option 4 ID : [6306803345922](#)

Q.18 "तेरे को कई बार कह चुका हूँ।"

इस वाक्य में अतिरिक्त शब्द को प्रतिस्थापित कर निर्मित शुद्ध वाक्य का चयन निम्नलिखित विकल्पों में से करें।

- Ans
- 1. तेरे को बार कह चुका हूँ।
 - 2. तेरे कई बार कह चुका हूँ।
 - 3. तेरे को कई कह चुका हूँ।
 - 4. तुम्हें कई बार कह चुका हूँ।

Question ID : [630680855423](#)

Option 1 ID : [6306803350412](#)

Option 2 ID : [6306803350411](#)

Option 3 ID : [6306803350413](#)

Option 4 ID : [6306803350410](#)

Q.19 "पांचों उँगलियाँ घी में होना"

लोकोक्ति का निम्नलिखित विकल्पों में से कौन-सा उचित अर्थ है?

- Ans
- 1. थोड़े फायदे के लिए अधिक खर्च
 - 2. कठिन काम पूरा करना
 - 3. चारों तरफ लाभ होना
 - 4. किसी काम का नहीं

Question ID : [630680855770](#)

Option 1 ID : [6306803351784](#)

Option 2 ID : [6306803351783](#)

Option 3 ID : [6306803351782](#)

Option 4 ID : [6306803351785](#)

Q.20 "लक्ष्मण श्रीराम के गले का हार थे।"

दिए गए वाक्य में रेखांकित मुहावरे का उचित अर्थ बताइये।

- Ans
- 1. बहुत प्यारे
 - 2. हृदय में समान
 - 3. बहुत करीब
 - 4. सावधान होना

Question ID : [630680855440](#)

Option 1 ID : [6306803350481](#)

Option 2 ID : [6306803350478](#)

Option 3 ID : [6306803350479](#)

Option 4 ID : [6306803350480](#)

Section : Test of Hindi Language and Comprehension 2

Q.1 दिये गए शब्दों में से कौन सा शब्द "कामदेव" का पर्यायवाची शब्द है?

- Ans
- 1. पुरंदर
 - 2. मयूख
 - 3. मदन
 - 4. कलानिधि

Question ID : [630680855456](#)
Option 1 ID : [6306803350545](#)
Option 2 ID : [6306803350542](#)
Option 3 ID : [6306803350543](#)
Option 4 ID : [6306803350544](#)

Q.2 निम्नलिखित में से "लहर" का अनेकार्थक शब्द क्या होगा?

- Ans
- 1. गरज
 - 2. प्रकाश
 - 3. दशा
 - 4. उमंग

Question ID : [630680855153](#)
Option 1 ID : [6306803349330](#)
Option 2 ID : [6306803349332](#)
Option 3 ID : [6306803349331](#)
Option 4 ID : [6306803349333](#)

Q.3 निम्नलिखित में से 'औख' का पर्यायावाची शब्द क्या होगा?

- Ans
- 1. तोय
 - 2. खर
 - 3. नीर
 - 4. विलोचन

Question ID : [630680840583](#)
Option 1 ID : [6306803293006](#)
Option 2 ID : [6306803293008](#)
Option 3 ID : [6306803293005](#)
Option 4 ID : [6306803293007](#)

Q.4 निम्नलिखित में से कौन-सा शब्द तद्भव शब्दों के अंतर्गत नहीं आता है?

- Ans
- 1. कुबड़ा
 - 2. पुष्प
 - 3. आम
 - 4. कपूर

Question ID : [630680855775](#)
Option 1 ID : [6306803351803](#)
Option 2 ID : [6306803351804](#)
Option 3 ID : [6306803351805](#)
Option 4 ID : [6306803351802](#)

Q.5 निम्नलिखित वाक्यों में से शुद्ध वाक्य का चयन करें।

- Ans 1. मैं आपका दर्शन करने आया हूँ।
 2. वे उन दिनों में बहुत अमीर थे।
 3. सुरेश को मृत्यु-दण्ड मिला।
 4. भाई – बहन जा रही है।

Question ID : [630680854270](#)

Option 1 ID : [6306803345844](#)

Option 2 ID : [6306803345842](#)

Option 3 ID : [6306803345843](#)

Option 4 ID : [6306803345845](#)

Q.6 दिये गये वाक्य का क्रम सही नहीं है | उनके सही क्रम के चार विकल्प दिए गये हैं | उनमें से सही विकल्प का चयन करें।

- 1) नवाब साहब ने
2) उत्साह नहीं दिखाया
3) संगति
4) के लिए

- Ans 1. 1, 3, 4, 2
 2. 3, 4, 2, 1
 3. 4, 2, 3, 1
 4. 4. 1, 2, 3

Question ID : [630680855751](#)

Option 1 ID : [6306803351709](#)

Option 2 ID : [6306803351706](#)

Option 3 ID : [6306803351707](#)

Option 4 ID : [6306803351708](#)

Q.7 निम्नलिखित में से कौन-सा शब्द "पर्यक" का तद्रूप शब्द है।

- Ans 1. पंख
 2. चौकी
 3. सलाई
 4. पलंग

Question ID : [630680840578](#)

Option 1 ID : [6306803292988](#)

Option 2 ID : [6306803292986](#)

Option 3 ID : [6306803292985](#)

Option 4 ID : [6306803292987](#)

Q.8 निम्नलिखित में से 'कामदेव' का पर्यायावाची शब्द क्या होगा?

- Ans 1. पंचशर
 2. अम्बुज
 3. मयूख
 4. रश्मि

Question ID : [630680854298](#)
Option 1 ID : [6306803345956](#)
Option 2 ID : [6306803345955](#)
Option 3 ID : [6306803345954](#)
Option 4 ID : [6306803345957](#)

Q.9 दिये गए शब्दों में से कौन-सा शब्द "भोगी" का विलोम शब्द है?

- Ans 1. पापी
 2. दानव
 3. क्षुद्र
 4. योगी

Question ID : [630680855782](#)
Option 1 ID : [6306803351831](#)
Option 2 ID : [6306803351833](#)
Option 3 ID : [6306803351832](#)
Option 4 ID : [6306803351830](#)

Q.10 निम्नलिखित में से 'दिल' का अनेकार्थक शब्द क्या होगा?

- Ans 1. कामना
 2. कलेजा
 3. गुर्दा
 4. असर

Question ID : [630680854295](#)
Option 1 ID : [6306803345945](#)
Option 2 ID : [6306803345943](#)
Option 3 ID : [6306803345944](#)
Option 4 ID : [6306803345942](#)

Comprehension:

नीचे दिये गए गद्यांश को ध्यानपूर्वक पढ़ें और बिना किसी सामान्य ज्ञान एवं साहित्य के तथ्यों की परवाह किए बिना, केवल नीचे दिये गए गद्यांश के आधार पर ही सही उत्तर का चयन करें।

“आम दिनों में समुद्र के किनारे के इलाके बेहद खूबसूरत लगते हैं। समुद्र लाखों लोगों को भोजन देता है और लाखों उससे जुड़े दूसरे कारोबारों में लगे होते हैं। दिसंबर 2004 को सुनामी या समुद्री भूकंप से उठने वाली तूफानी लहरों के प्रकोप ने एक बार फिर साबित कर दिया है कि कुदरत की यह देन सबसे बड़े विनाश का कारण भी बन सकती है। प्रकृति कब अपने ही ताने-बने को उलट कर रख देगी, कहना मुश्किल है। हम उसके बदलते मिजाज को उसका कोप कह लें या कुछ और मगर यह अबूझा पहली अकसर हमारे विश्वास के चीथड़े कर देती है और हमें यह अहसास करा जाती है कि हम एक कदम आगे नहीं, चार कदम पीछे हैं। एशिया के एक बड़े हिस्से में आने वाले उस भूकंप ने कई द्वीपों को इधर-उधर खिसकाकर एशिया का नक्शा ही बदल डाला। प्रकृति ने पहले ही अपनी ही दी हुई अद्भुत चीजें इंसान से वापस ले ली हैं जिसकी कसक अभी तक है।

SubQuestion No : 11

Q.11 “सुनामी क्या होती है?”

Ans 1. समुद्री भूकंप द्वारा उठने वाली लहरें

2. विनाशकारी शुष्क तूफान

3. नदी से उत्पन्न चक्रवात

4. नदीय भूकंप

Question ID : [630680846662](#)

Option 1 ID : [6306803316386](#)

Option 2 ID : [6306803316387](#)

Option 3 ID : [6306803316384](#)

Option 4 ID : [6306803316385](#)

Comprehension:

नीचे दिये गए गद्यांश को ध्यानपूर्वक पढ़ें और बिना किसी सामान्य ज्ञान एवं साहित्य के तथ्यों की परवाह किए बिना, केवल नीचे दिये गए गद्यांश के आधार पर ही सही उत्तर का चयन करें।

“आम दिनों में समुद्र के किनारे के इलाके बेहद खूबसूरत लगते हैं। समुद्र लाखों लोगों को भोजन देता है और लाखों उससे जुड़े दूसरे कारोबारों में लगे होते हैं। दिसंबर 2004 को सुनामी या समुद्री भूकंप से उठने वाली तूफानी लहरों के प्रकोप ने एक बार फिर साबित कर दिया है कि कुदरत की यह देन सबसे बड़े विनाश का कारण भी बन सकती है। प्रकृति कब अपने ही ताने-बने को उलट कर रख देगी, कहना मुश्किल है। हम उसके बदलते मिजाज को उसका कोप कह लें या कुछ और मगर यह अबूझा पहली अकसर हमारे विश्वास के चीथड़े कर देती है और हमें यह अहसास करा जाती है कि हम एक कदम आगे नहीं, चार कदम पीछे हैं। एशिया के एक बड़े हिस्से में आने वाले उस भूकंप ने कई द्वीपों को इधर-उधर खिसकाकर एशिया का नक्शा ही बदल डाला। प्रकृति ने पहले ही अपनी ही दी हुई अद्भुत चीजें इंसान से वापस ले ली हैं जिसकी कसक अभी तक है।

SubQuestion No : 12

Q.12 एशिया के एक बड़े हिस्से में भूकंप आने से क्या हुआ?

Ans 1. एशिया का नक्शा बदल गया

2. कई पर्वत टूट गए

3. द्वीपों का आपस में टकराव हुआ

4. झीलें सुख गईं

Question ID : [630680846664](#)

Option 1 ID : [6306803316395](#)

Option 2 ID : [6306803316393](#)

Option 3 ID : [6306803316394](#)

Option 4 ID : [6306803316392](#)

Comprehension:

नीचे दिये गए गद्यांश को ध्यानपूर्वक पढ़ें और बिना किसी सामान्य ज्ञान एवं साहित्य के तथ्यों की परवाह किए बिना, केवल नीचे दिये गए गद्यांश के आधार पर ही सही उत्तर का चयन करें।

“आम दिनों में समुद्र के किनारे के इलाके बेहद खूबसूरत लगते हैं। समुद्र लाखों लोगों को भोजन देता है और लाखों उससे जुड़े दूसरे कारोबारों में लगे होते हैं। दिसंबर 2004 को सुनामी या समुद्री भूकंप से उठने वाली तूफानी लहरों के प्रकोप ने एक बार फिर साबित कर दिया है कि कुदरत की यह देन सबसे बड़े विनाश का कारण भी बन सकती है। प्रकृति कब अपने ही ताने-बने को उलट कर रख देगी, कहना मुश्किल है। हम उसके बदलते मिजाज को उसका कोप कह लें या कुछ और मगर यह अबूझा पहली अकसर हमारे विश्वास के चीथड़े कर देती है और हमें यह अहसास करा जाती है कि हम एक कदम आगे नहीं, चार कदम पीछे हैं। एशिया के एक बड़े हिस्से में आने वाले उस भूकंप ने कई द्वीपों को इधर-उधर खिसकाकर एशिया का नक्शा ही बदल डाला। प्रकृति ने पहले ही अपनी ही दी हुई अद्भुत चीजें इंसान से वापस ले ली हैं जिसकी कसक अभी तक है।

SubQuestion No : 13

Q.13 समुद्र के किनारे रहने के क्या लाभ है?

- Ans
- 1. चक्रवती तूफान
 - 2. समुद्री भोजन की प्राप्ति
 - 3. सुनामी लहरें
 - 4. समुद्री भूकंप

Question ID : [630680846663](#)
Option 1 ID : [6306803316390](#)
Option 2 ID : [6306803316388](#)
Option 3 ID : [6306803316389](#)
Option 4 ID : [6306803316391](#)

Comprehension:

नीचे दिये गए गद्यांश को ध्यानपूर्वक पढ़ें और बिना किसी सामान्य ज्ञान एवं साहित्य के तथ्यों की परवाह किए बिना, केवल नीचे दिये गए गद्यांश के आधार पर ही सही उत्तर का चयन करें।

“आम दिनों में समुद्र के किनारे के इलाके बेहद खूबसूरत लगते हैं। समुद्र लाखों लोगों को भोजन देता है और लाखों उससे जुड़े दूसरे कारोबारों में लगे होते हैं। दिसंबर 2004 को सुनामी या समुद्री भूकंप से उठने वाली तूफानी लहरों के प्रकोप ने एक बार फिर साबित कर दिया है कि कुदरत की यह देन सबसे बड़े विनाश का कारण भी बन सकती है। प्रकृति कब अपने ही ताने-बने को उलट कर रख देगी, कहना मुश्किल है। हम उसके बदलते मिजाज को उसका कोप कह लें या कुछ और मगर यह अबूझा पहली अकसर हमारे विश्वास के चीथड़े कर देती है और हमें यह अहसास करा जाती है कि हम एक कदम आगे नहीं, चार कदम पीछे हैं। एशिया के एक बड़े हिस्से में आने वाले उस भूकंप ने कई द्वीपों को इधर-उधर खिसकाकर एशिया का नक्शा ही बदल डाला। प्रकृति ने पहले ही अपनी ही दी हुई अद्भुत चीजें इंसान से वापस ले ली हैं जिसकी कसक अभी तक है।

SubQuestion No : 14

Q.14 'कसक' शब्द का सही अर्थ क्या है?

- Ans
- 1. सुख
 - 2. दुख
 - 3. अपमान
 - 4. प्रकृति

Question ID : [630680846666](#)
Option 1 ID : [6306803316402](#)
Option 2 ID : [6306803316401](#)
Option 3 ID : [6306803316400](#)
Option 4 ID : [6306803316403](#)

Comprehension:

नीचे दिये गए गद्यांश को ध्यानपूर्वक पढ़ें और बिना किसी सामान्य ज्ञान एवं साहित्य के तथ्यों की परवाह किए बिना, केवल नीचे दिये गए गद्यांश के आधार पर ही सही उत्तर का चयन करें।

“आम दिनों में समुद्र के किनारे के इलाके बेहद खूबसूरत लगते हैं। समुद्र लाखों लोगों को भोजन देता है और लाखों उससे जुड़े दूसरे कारोबारों में लगे होते हैं। दिसंबर 2004 को सुनामी या समुद्री भूकंप से उठने वाली तूफानी लहरों के प्रकोप ने एक बार फिर साबित कर दिया है कि कुदरत की यह देन सबसे बड़े विनाश का कारण भी बन सकती है। प्रकृति कब अपने ही ताने-बने को उलट कर रख देगी, कहना मुश्किल है। हम उसके बदलते मिजाज को उसका कोप कह लें या कुछ और मगर यह अबूझा पहली अकसर हमारे विश्वास के चीथड़े कर देती है और हमें यह अहसास करा जाती है कि हम एक कदम आगे नहीं, चार कदम पीछे हैं। एशिया के एक बड़े हिस्से में आने वाले उस भूकंप ने कई द्वीपों को इधर-उधर खिसकाकर एशिया का नक्शा ही बदल डाला। प्रकृति ने पहले ही अपनी ही दी हुई अद्भुत चीजें इंसान से वापस ले ली हैं जिसकी कसक अभी तक है।

SubQuestion No : 15

Q.15 'मिजाज' शब्द का उचित अर्थ निम्नलिखित में से कौन नहीं है?

- Ans
- 1. स्वभाव
 - 2. तबीयत
 - 3. प्रकृति
 - 4. अधर्म

Question ID : [630680846665](#)
Option 1 ID : [6306803316397](#)
Option 2 ID : [6306803316396](#)
Option 3 ID : [6306803316399](#)
Option 4 ID : [6306803316398](#)

Comprehension:

नीचे दिये गए गद्यांश को ध्यानपूर्वक पढ़ें और बिना किसी सामान्य ज्ञान एवं साहित्य के तथ्यों की परवाह किए बिना, केवल नीचे दिये गए गद्यांश के आधार पर ही सही उत्तर का चयन करें।

रेडियो आधुनिक विज्ञान का एक आश्चर्यजनक उपयोगी आविष्कार है। इसने सारे संसार को एक कर दिया है। इससे हम सारी दुनिया के समाचार सुना करते हैं, संगीत और नाटक का आनंद लेते हैं और हर तरह के ज्ञान-विज्ञान की बातें सीखते हैं। रेडियो को 'आकाशवाणी' भी कहते हैं, क्योंकि प्राचीन ग्रंथों में 'आकाशवाणी' का उल्लेख हुआ है। रेडियो का प्रचार हर घर में है। अगर हम चाहें, तो सारी रात और सारे दिन रेडियो खोले रह सकते हैं और सारे संसार की विविध बातें घर बैठे बिस्तर पर लेटे सुन सकते हैं।

SubQuestion No : 16

Q.16 रेडियो को और किस नाम से जाना जाता है?

- Ans
- 1. पृथ्वीवानी
 - 2. आकाशवाणी
 - 3. दूरवाणी
 - 4. देववाणी

Question ID : [630680855419](#)
Option 1 ID : [6306803350395](#)
Option 2 ID : [6306803350394](#)
Option 3 ID : [6306803350397](#)
Option 4 ID : [6306803350396](#)

Comprehension:

नीचे दिये गए गद्यांश को ध्यानपूर्वक पढ़ें और बिना किसी सामान्य ज्ञान एवं साहित्य के तथ्यों की परवाह किए बिना, केवल नीचे दिये गए गद्यांश के आधार पर ही सही उत्तर का चयन करें।

रेडियो आधुनिक विज्ञान का एक आश्चर्यजनक उपयोगी आविष्कार है। इसने सारे संसार को एक कर दिया है। इससे हम सारी दुनिया के समाचार सुना करते हैं, संगीत और नाटक का आनंद लेते हैं और हर तरह के ज्ञान-विज्ञान की बातें सीखते हैं। रेडियो को 'आकाशवाणी' भी कहते हैं, क्योंकि प्राचीन ग्रंथों में 'आकाशवाणी' का उल्लेख हुआ है। रेडियो का प्रचार हर घर में है। अगर हम चाहें, तो सारी रात और सारे दिन रेडियो खोले रह सकते हैं और सारे संसार की विविध बातें घर बैठे बिस्तर पर लेटे सुन सकते हैं।

SubQuestion No : 17

Q.17 रेडियो ने संसार को क्या कर दिया है?

- Ans
- 1. विध्वंसी
 - 2. दूर
 - 3. एक
 - 4. पृथक

Question ID : [630680855417](#)

Option 1 ID : [6306803350387](#)

Option 2 ID : [6306803350386](#)

Option 3 ID : [6306803350388](#)

Option 4 ID : [6306803350389](#)

Comprehension:

नीचे दिये गए गद्यांश को ध्यानपूर्वक पढ़ें और बिना किसी सामान्य ज्ञान एवं साहित्य के तथ्यों की परवाह किए बिना, केवल नीचे दिये गए गद्यांश के आधार पर ही सही उत्तर का चयन करें।

रेडियो आधुनिक विज्ञान का एक आश्चर्यजनक उपयोगी आविष्कार है। इसने सारे संसार को एक कर दिया है। इससे हम सारी दुनिया के समाचार सुना करते हैं, संगीत और नाटक का आनंद लेते हैं और हर तरह के ज्ञान-विज्ञान की बातें सीखते हैं। रेडियो को 'आकाशवाणी' भी कहते हैं, क्योंकि प्राचीन ग्रंथों में 'आकाशवाणी' का उल्लेख हुआ है। रेडियो का प्रचार हर घर में है। अगर हम चाहें, तो सारी रात और सारे दिन रेडियो खोले रह सकते हैं और सारे संसार की विविध बातें घर बैठे बिस्तर पर लेटे सुन सकते हैं।

SubQuestion No : 18

Q.18 रेडियो आधुनिक विज्ञान का किस प्रकार का आविष्कार है।

- Ans
- 1. आश्चर्यजनक उपयोगी
 - 2. सबसे नवीन
 - 3. बेकार
 - 4. अनुपयोगी

Question ID : [630680855416](#)

Option 1 ID : [6306803350383](#)

Option 2 ID : [6306803350385](#)

Option 3 ID : [6306803350382](#)

Option 4 ID : [6306803350384](#)

Comprehension:

नीचे दिये गए गद्यांश को ध्यानपूर्वक पढ़ें और बिना किसी सामान्य ज्ञान एवं साहित्य के तथ्यों की परवाह किए बिना, केवल नीचे दिये गए गद्यांश के आधार पर ही सही उत्तर का चयन करें।

रेडियो आधुनिक विज्ञान का एक आश्चर्यजनक उपयोगी आविष्कार है। इसने सारे संसार को एक कर दिया है। इससे हम सारी दुनिया के समाचार सुना करते हैं, संगीत और नाटक का आनंद लेते हैं और हर तरह के ज्ञान-विज्ञान की बातें सीखते हैं। रेडियो को 'आकाशवाणी' भी कहते हैं, क्योंकि प्राचीन ग्रंथों में 'आकाशवाणी' का उल्लेख हुआ है। रेडियो का प्रचार हर घर में है। अगर हम चाहें, तो सारी रात और सारे दिन रेडियो खोले रह सकते हैं और सारे संसार की विविध बातें घर बैठे बिस्तर पर लेटे सुन सकते हैं।

SubQuestion No : 19

Q.19 आविष्कार का निकटतम पर्यावाची शब्द निम्नलिखित में से कौन सा है?

- Ans 1. अन्वेषण
 2. रुकना
 3. उपेक्षा
 4. विदिशा

Question ID : [630680855418](#)

Option 1 ID : [6306803350390](#)

Option 2 ID : [6306803350392](#)

Option 3 ID : [6306803350391](#)

Option 4 ID : [6306803350393](#)

Comprehension:

नीचे दिये गए गद्यांश को ध्यानपूर्वक पढ़ें और बिना किसी सामान्य ज्ञान एवं साहित्य के तथ्यों की परवाह किए बिना, केवल नीचे दिये गए गद्यांश के आधार पर ही सही उत्तर का चयन करें।

रेडियो आधुनिक विज्ञान का एक आश्चर्यजनक उपयोगी आविष्कार है। इसने सारे संसार को एक कर दिया है। इससे हम सारी दुनिया के समाचार सुना करते हैं, संगीत और नाटक का आनंद लेते हैं और हर तरह के ज्ञान-विज्ञान की बातें सीखते हैं। रेडियो को 'आकाशवाणी' भी कहते हैं, क्योंकि प्राचीन ग्रंथों में 'आकाशवाणी' का उल्लेख हुआ है। रेडियो का प्रचार हर घर में है। अगर हम चाहें, तो सारी रात और सारे दिन रेडियो खोले रह सकते हैं और सारे संसार की विविध बातें घर बैठे बिस्तर पर लेटे सुन सकते हैं।

SubQuestion No : 20

Q.20 रेडियो का प्रचार _____ में है।

- Ans 1. विदेशों में
 2. केवल शहरों में
 3. केवल गाँव में
 4. हर घर

Question ID : [630680855420](#)

Option 1 ID : [6306803350401](#)

Option 2 ID : [6306803350400](#)

Option 3 ID : [6306803350399](#)

Option 4 ID : [6306803350398](#)



GOVT. OF NCT OF DELHI
Delhi Subordinate Services Selection Board
FC-18, Institutional Area, Karkardooma, Delhi - 110092.
www.dsssb.delhigovt.nic.in

Participant ID	231131106010548
Participant Name	MAYANK SAINI
Test Center Name	iON Digital Zone iDZ 2 GT Karnal Road
Test Date	19/06/2024
Test Time	12:30 PM - 2:30 PM
Subject	Warder Reserved for male Only

Section : General intelligence and Reasoning Ability 1

Q.1 Which of the following pairs is similar to the expression given below on the basis of composite and prime numbers only?

5 : 19

- Ans 1. 90 : 61
 2. 21 : 14
 3. 41 : 83
 4. 32 : 80

Question ID : 630680849787
Option 1 ID : 6306803328390
Option 2 ID : 6306803328389
Option 3 ID : 6306803328392
Option 4 ID : 6306803328391

Q.2 In a certain code language, HONOUR is written as NOHRUO and FLIGHT is written as ILFTHG. How SILENT will be written in the same code language?

- Ans 1. LISTEN
 2. LISTNE
 3. LSINET
 4. LISNET

Question ID : 630680849806
Option 1 ID : 6306803328464
Option 2 ID : 6306803328463
Option 3 ID : 6306803328461
Option 4 ID : 6306803328462

Q.3 Ashwan's(Boy) rank in a group of boys is 17th from the top and 11th from the bottom. How many boys are there in total in that group?

- Ans 1. 20
 2. 21
 3. 22
 4. 27

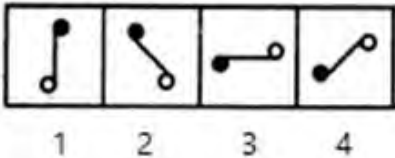
Question ID : 630680849860
Option 1 ID : 6306803328674
Option 2 ID : 6306803328675
Option 3 ID : 6306803328676
Option 4 ID : 6306803328673

Q.4 How is the husband of Rakesh's mother's only daughter related to Rakesh?

- Ans 1. Brother
 2. Father
 3. Son
 4. Brother in law(Sister's husband)

Question ID : 630680849813
Option 1 ID : 6306803328490
Option 2 ID : 6306803328491
Option 3 ID : 6306803328492
Option 4 ID : 6306803328489

Q.5 Find the figure which is different from the rest figure options given below.



- Ans 1. 2
 2. 1
 3. 4
 4. 3

Question ID : 630680849777
Option 1 ID : 6306803328350
Option 2 ID : 6306803328349
Option 3 ID : 6306803328352
Option 4 ID : 6306803328351

Q.6 Five men namely Asit, Bindesh, Raju, Kush and Piyush are sitting in a straight line facing north. Asit is sitting on the extreme left end of the row. Bindesh is sitting between Asit and Kush. Kush is sitting exactly between Bindesh and Piyush. If Piyush is sitting immediately to the left of Raju from the right end, then who is sitting on the right end of the line?

- Ans 1. Bindesh
 2. Raju
 3. Kush
 4. Piyush

Question ID : 630680835363
Option 1 ID : 6306803272239
Option 2 ID : 6306803272238
Option 3 ID : 6306803272240
Option 4 ID : 6306803272241

Q.7 In a row of mango trees, a tree is 25th from the left and 17th from the right. So how many mango trees are there in that row?

- Ans 1. 41
 2. 42
 3. 40
 4. 31

Question ID : 630680849045
Option 1 ID : 6306803325713
Option 2 ID : 6306803325710
Option 3 ID : 6306803325711
Option 4 ID : 6306803325712

Q.8 If 'M' denotes 'x', 'D' denotes '÷', 'A' denotes '+', 'S' denotes '-' Then what will be the value of the following expression?

18 S 22 D 2 A 8 M 5

- Ans 1. 60
 2. 49
 3. 64
 4. 47

Question ID : 630680849079
Option 1 ID : 6306803325849
Option 2 ID : 6306803325847
Option 3 ID : 6306803325848
Option 4 ID : 6306803325846

Q.9 How many such symbols are there in the given series below each of which is immediately followed by a letter?

9 H # T 5 \$ K 2 L 2 % B ^ 8 J * 1 (L 5 ! D 3 F 7

- Ans 1. 3
 2. 5
 3. 4
 4. 2

Question ID : 630680849809
Option 1 ID : 6306803328473
Option 2 ID : 6306803328475
Option 3 ID : 6306803328476
Option 4 ID : 6306803328474

Q.10 What will be the meaningful sequence of the following words based on the human body parts from head to toe only?

1. Neck
2. Teeth
3. Waist
4. Knee

- Ans 1. 3, 4, 1, 2
 2. 1, 2, 3, 4
 3. 2, 1, 3, 4
 4. 3, 4, 2, 1

Question ID : 630680835318
Option 1 ID : 6306803272057
Option 2 ID : 6306803272054
Option 3 ID : 6306803272055
Option 4 ID : 6306803272056

Q.11 Read the given statement(s) and conclusions carefully. Assuming that the information given in the statements is true, even if it appears to be at variance with commonly known facts, decide which of the given conclusions logically follow(s) from the statement(s).

Statement:-

- A. All papers are classified.
- B. All classified are documents.

Conclusion:

1. All documents are paper.
2. All classified are papers.

- Ans 1. Only conclusion 2 follows
 2. Neither conclusion 1 nor 2 follows
 3. Both conclusion 1 and 2 follow
 4. Only conclusion 1 follows

Question ID : 630680849816
Option 1 ID : 6306803328502
Option 2 ID : 6306803328503
Option 3 ID : 6306803328504
Option 4 ID : 6306803328501

Q.12 What will come in place of the question mark (?) to make the series given below logically complete by using addition and subtraction processes only whichever may be applicable?

26, 23, 19, 16, 12, 9, ?

- Ans 1. 3
 2. 5
 3. 2
 4. 4

Question ID : 630680835345
Option 1 ID : 6306803272164
Option 2 ID : 6306803272162
Option 3 ID : 6306803272163
Option 4 ID : 6306803272165

Q.13 Which of the following options will replace the question mark to make the following expression logically complete using only squares or cubes of numbers, as applicable, and subtraction method?

80 : 9 :: 255 : ?

- Ans 1. 12
 2. 18
 3. 14
 4. 16

Question ID : 630680849788
Option 1 ID : 6306803328393
Option 2 ID : 6306803328396
Option 3 ID : 6306803328394
Option 4 ID : 6306803328395

Q.14 W means '+', X means '-', Y means 'x' and Z means \div , then what will be the value of the following expression?

4 Y 2 W 5 X 8 Z 2 = ?

- Ans 1. 8
 2. 9
 3. 11
 4. 10

Question ID : 630680835400
Option 1 ID : 6306803272386
Option 2 ID : 6306803272387
Option 3 ID : 6306803272389
Option 4 ID : 6306803272388

Q.15 Six friends Payal, Komal, Ravi, Suchit, Tanuj and Umang are sitting on a circular table facing the centre. Suchit is sitting immediately to the right of Tanuj. Ravi is sitting between Payal and Komal. Umang is sitting between Tanuj and Payal. Who is sitting opposite to Umang on the circular table?

Ans 1. Komal

2. Payal

3. Tanuj

4. Ravi

Question ID : 630680849858

Option 1 ID : 6306803328668

Option 2 ID : 6306803328667

Option 3 ID : 6306803328666

Option 4 ID : 6306803328665

Q.16 Only on the basis of alphabetical sequence What will come in the place of question mark (?) in the following series to make it logically complete?

HU, JR, LO, NL, PI, ??

Ans 1. FR

2. QF

3. RF

4. FQ

Question ID : 630680835394

Option 1 ID : 6306803272363

Option 2 ID : 6306803272365

Option 3 ID : 6306803272362

Option 4 ID : 6306803272364

Q.17 Which of the following option is different from the other three options on the basis of states and union Territories in India?

Ans 1. Ladakh

2. Manipur

3. Nagaland

4. Mizoram

Join Telegram Group "HaryanaJobs.in"

Question ID : 630680849069

Option 1 ID : 6306803325809

Option 2 ID : 6306803325808

Option 3 ID : 6306803325807

Option 4 ID : 6306803325806

Q.18 What will come in the place of question mark (?) in the following series to make it logically complete?

KJI, HGF, EDC, BAZ,?

- Ans
- 1. CBA
 - 2. UTS
 - 3. YXW
 - 4. RQP

Question ID : 630680849773
Option 1 ID : 6306803328336
Option 2 ID : 6306803328334
Option 3 ID : 6306803328333
Option 4 ID : 6306803328335

Q.19 On the basis of general mental ability and general mental understanding only, without regard to scientific and technical facts, which of the following options will replace the question mark on the basis of workers and their tools?

Tailor : Needle :: Farmer:?

- Ans
- 1. Paint Brush
 - 2. Plough
 - 3. Gas Stove
 - 4. Pen

Question ID : 630680835325
Option 1 ID : 6306803272082
Option 2 ID : 6306803272085
Option 3 ID : 6306803272084
Option 4 ID : 6306803272083

Q.20 In a certain code language, COAL is written as DPBM and IRONY is written as JSPOZ. How BORN will be written in the same code language ?

- Ans
- 1. CPSO
 - 2. NBRO
 - 3. CSPO
 - 4. NORB

Question ID : 630680835312
Option 1 ID : 6306803272031
Option 2 ID : 6306803272033
Option 3 ID : 6306803272030
Option 4 ID : 6306803272032

Q.1 Five friends named Neeti, Indu, Rajan, Suchit and Riyaz are sitting in a straight line facing north. Neeti sits at the extreme left end of the row. Indu sits exactly between Neeti and Suchit. Suchit is sitting exactly between Indu and Riyaz. If Riyaz is sitting second from the right end, then who is sitting exactly in the middle of the row?

- Ans
- 1. Riyaz
 - 2. Indu
 - 3. Niti
 - 4. Suchit

Question ID : 630680835411
Option 1 ID : 6306803272433
Option 2 ID : 6306803272431
Option 3 ID : 6306803272430
Option 4 ID : 6306803272432

Q.2 On the basis of general mental ability and general mental understanding only, without regard to scientific and technical facts Which of the following options will replace the question mark on the basis of product and raw material?

Ghee : Milk :: Shoe : ?

- Ans
- 1. Brick
 - 2. Glass
 - 3. Leather
 - 4. Milk

Question ID : 630680849821
Option 1 ID : 6306803328524
Option 2 ID : 6306803328522
Option 3 ID : 6306803328523
Option 4 ID : 6306803328521

Q.3 Pointing towards a picture, Sunil says that the woman in the picture is the mother-in-law of Sunil's real brother's wife. How is the woman in the photo related to Sunil?

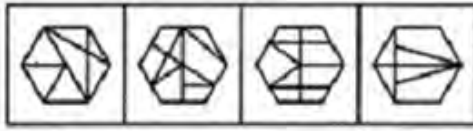
- Ans
- 1. Wife
 - 2. Son
 - 3. Mother
 - 4. Mother in law

Question ID : 630680835380
Option 1 ID : 6306803272306
Option 2 ID : 6306803272309
Option 3 ID : 6306803272308
Option 4 ID : 6306803272307

Q.4 Which of the following option will embed the original image (X)?



(X).



1.

2.

3.

4.

- Ans
- 1. 3
 - 2. 2
 - 3. 1
 - 4. 4

Question ID : 630680849891
Option 1 ID : 6306803328799
Option 2 ID : 6306803328798
Option 3 ID : 6306803328797
Option 4 ID : 6306803328800

Q.5 If the following words are arranged in the dictionary order, which of the following will come at the third place?

Glory, Goat, Great, Globe

- Ans
- 1. Globe
 - 2. Glory
 - 3. Goat
 - 4. Great

Question ID : 630680849810
Option 1 ID : 6306803328480
Option 2 ID : 6306803328477
Option 3 ID : 6306803328478
Option 4 ID : 6306803328479

Q.6 नीचे दी गई श्रृंखला में ऐसे कितने प्रतीक हैं जिनके ठीक पहले और ठीक बाद एक अक्षर है?

G \$ 1 U 5 J # H @ 9 L 6 & S 8 & K 4 J 5 @ D \$

- Ans
- 1. 4
 - 2. 2
 - 3. 5
 - 4. 1

Question ID : 630680849054
Option 1 ID : 6306803325749
Option 2 ID : 6306803325747
Option 3 ID : 6306803325748
Option 4 ID : 6306803325746

Q.7 Read the given statement(s) and conclusions carefully. Assuming that the information given in the statements is true, even if it appears to be at variance with commonly known facts, decide which of the given conclusions logically follow(s) from the statement(s).

Statements:

- A. Some flowers are doves.
- B. Some flowers are rose.

Conclusions:

- 1. All doves are rose.
- 2. All rose are doves.

- Ans
- 1. Both conclusion 1 and 2 follow
 - 2. Only conclusion 1 follows
 - 3. Only conclusion 2 follows
 - 4. Neither conclusion 1 nor 2 follows

Question ID : 630680849817
Option 1 ID : 6306803328508
Option 2 ID : 6306803328505
Option 3 ID : 6306803328506
Option 4 ID : 6306803328507

Q.8 W means '+', X means '-' Y means '×' and Z means ÷, then what will be the value of the following expression?

5 Y 4 W 3 X 18 Z 3 =?

- Ans
- 1. 17
 - 2. 14
 - 3. 15
 - 4. 16

Question ID : 630680849833
Option 1 ID : 6306803328572
Option 2 ID : 6306803328569
Option 3 ID : 6306803328570
Option 4 ID : 6306803328571

Q.9 Which of the following pair is similar to the expression given below?

1589 : 9851
2715 : 5172

- Ans
- 1. 7339 : 9373
 - 2. 4578 : 4587
 - 3. 1356 : 1365
 - 4. 8264 : 4628

Question ID : 630680835348
Option 1 ID : 6306803272176
Option 2 ID : 6306803272177
Option 3 ID : 6306803272174
Option 4 ID : 6306803272175

Q.10 Which of the following pairs is similar to the expression below?

1389 : 9831

1463: 3641

- Ans
- 1. 4585 : 4585
 - 2. 2953 : 9253
 - 3. 2142 : 2421
 - 4. 3484 : 4843

Question ID : 630680849902

Option 1 ID : 6306803328844

Option 2 ID : 6306803328841

Option 3 ID : 6306803328842

Option 4 ID : 6306803328843

Q.11 Read the given statement(s) and conclusions carefully. Assuming that the information given in the statements is true, even if it appears to be at variance with commonly known facts, decide which of the given conclusions logically follow(s) from the statement(s).

Statements

A. Some water are dust.

B. Some water are sand.

Conclusion

1. All water are sand.

2. All sand are dust.

- Ans
- 1. Only conclusion 1 follows
 - 2. Only conclusion 2 follows
 - 3. Both conclusion 1 and 2 follow
 - 4. Neither conclusion 1 nor 2 follows

Question ID : 630680849761

Option 1 ID : 6306803328285

Option 2 ID : 6306803328286

Option 3 ID : 6306803328288

Option 4 ID : 6306803328287

Q.12 Based only on common sense and general mental ability without regard to any scientific and technical facts, which of the following options is different from the other three options on the basis of musical instruments and their types?

- Ans
- 1. Veena
 - 2. Violin
 - 3. Mouth Organ
 - 4. Sitar

Question ID : 630680849825

Option 1 ID : 6306803328538

Option 2 ID : 6306803328540

Option 3 ID : 6306803328537

Option 4 ID : 6306803328539

Q.13 What will come in place of the question mark (?) to make the series given below logically complete by using addition and subtraction processes only whichever may be applicable?

12, 11, 14, 13, 16, ?, ?

- Ans 1. 18, 15
 2. 14, 17
 3. 17, 14
 4. 15, 18

Question ID : 630680835346
Option 1 ID : 6306803272168
Option 2 ID : 6306803272166
Option 3 ID : 6306803272167
Option 4 ID : 6306803272169

Q.14 On the basis of general mental ability and general mental understanding only, without regard to scientific and technical facts, which of the following options will replace the question mark on the basis of tool and its action?

Knife: Cut :: Auger:?

- Ans 1. Amplify
 2. Bore
 3. Scoop
 4. Grip

Question ID : 630680849765
Option 1 ID : 6306803328304
Option 2 ID : 6306803328301
Option 3 ID : 6306803328303
Option 4 ID : 6306803328302

Q.15 On the basis of general mental ability and general mental understanding only, without regard to scientific and technical facts Which of the following options will replace the question mark on the basis of subjects and their topics?

History : Harappan culture :: Chemistry :?

- Ans 1. Noun
 2. Chemical bond
 3. Climate
 4. Arithmetic

Question ID : 630680849879
Option 1 ID : 6306803328751
Option 2 ID : 6306803328750
Option 3 ID : 6306803328752
Option 4 ID : 6306803328749

Q.16 Poonam, Kunal, Rashi, Satya, Tanuj, and Urvashi are six friends live on different floors but not necessarily in the same order. Kunal lives on the second floor from the top. Satya lives between the floors of Kunal and Rashi. Rashi lives on the third floor from the bottom. Tanuj and Poonam live on the top and bottom floors respectively . Urvashi lives between the floors of Rashi and Poonam. Who lives on the third floor from the top?

- Ans 1. Poonam
 2. Rashi
 3. Kunal
 4. Satya

Question ID : 630680849863
Option 1 ID : 6306803328685
Option 2 ID : 6306803328687
Option 3 ID : 6306803328686
Option 4 ID : 6306803328688

Q.17 Which of the following options based only on common sense and general mental ability without regard to any scientific and technical facts is different from the other three options based on vegetables and fruits?

- Ans 1. Mango
 2. Lady finger
 3. Pumpkin
 4. Cucumber

Question ID : 630680849823
Option 1 ID : 6306803328529
Option 2 ID : 6306803328532
Option 3 ID : 6306803328531
Option 4 ID : 6306803328530

Q.18 In a certain code language, PARTH is written as HTRAP and TIME is written as EMIT. How SECOND will be written in the same code language?

- Ans 1. DNOSEC
 2. DNOCES
 3. SECDNO
 4. SEDCNO

Question ID : 630680849804
Option 1 ID : 6306803328454
Option 2 ID : 6306803328453
Option 3 ID : 6306803328455
Option 4 ID : 6306803328456

Q.19 What will come in place of the question mark (?) to make the following series logically complete based on only the numerical values of the letters?

M, K, I, G, ?

Ans 1. E

2. C

3. D

4. F

Question ID : 630680849775
Option 1 ID : 6306803328342
Option 2 ID : 6306803328344
Option 3 ID : 6306803328343
Option 4 ID : 6306803328341

Q.20 Only on the basis of common mental understanding and general mental ability without regard to any scientific and technical aspects, which of the following options is different from the other three options based on flowers and vegetables only ?

Ans 1. Marigold

2. Potato

3. Rose

4. Jasmine

Question ID : 630680835334
Option 1 ID : 6306803272121
Option 2 ID : 6306803272119
Option 3 ID : 6306803272118
Option 4 ID : 6306803272120

Section : General Awareness 1

Q.1 As on 31 January 2024, which of the following is not a constitutional body in India?

Ans 1. Niti Aayog

2. Finance Commission of India

3. Election Commission of India

4. Union Public Service Commission

Question ID : 630680854773
Option 1 ID : 6306803347802
Option 2 ID : 6306803347805
Option 3 ID : 6306803347804
Option 4 ID : 6306803347803

Q.2 Bhagat Singh, Sukhdev and Rajguru were executed on 23rd March ____.

Ans 1. 1933

2. 1928

3. 1931

4. 1930

Question ID : 630680854809

Option 1 ID : 6306803347946

Option 2 ID : 6306803347949

Option 3 ID : 6306803347948

Option 4 ID : 6306803347947

Q.3 Which of the following books authored by Arundhati Roy was awarded the Man Booker Prize in 1997?

Ans 1. Milkman

2. Midnight's Children

3. The God of Small Things

4. The White Tiger

Question ID : 630680854866

Option 1 ID : 6306803348182

Option 2 ID : 6306803348184

Option 3 ID : 6306803348183

Option 4 ID : 6306803348185

Q.4 Which of the following organization was founded in 1928 by Bhagat Singh along with Chandra Shekhar Azad and Sukhdev?

Ans 1. Abhinav Bharat

2. Anushilan Samiti

3. Yugantar

4. Hindustan Socialist Republican Association (HSRA)

Question ID : 630680854863

Option 1 ID : 6306803348171

Option 2 ID : 6306803348173

Option 3 ID : 6306803348170

Option 4 ID : 6306803348172

Q.5 Article 85(1) of the Indian Constitution states, "The President of India shall from time to time summon each House of Parliament to meet at such time and place as he thinks fit, but ----- months shall not intervene between its last sitting in one session and the date appointed for its first sitting in the next session".

Ans 1. 2

2. 6

3. 8

4. 12

Question ID : 630680854886
Option 1 ID : 6306803348265
Option 2 ID : 6306803348264
Option 3 ID : 6306803348263
Option 4 ID : 6306803348262

Q.6 Which of the following animals is an example of a Cold Blooded animal?

Ans 1. Pig

2. Frog

3. Sheep

4. Lion

Question ID : 630680854834
Option 1 ID : 6306803348047
Option 2 ID : 6306803348048
Option 3 ID : 6306803348049
Option 4 ID : 6306803348046

Q.7 Which tax is a type of direct tax which is paid on an income earned from the sale of assets or investments?

Ans 1. Income tax

2. Corporation tax

3. Capital gains tax

4. Wealth tax

Question ID : 630680854805
Option 1 ID : 6306803347931
Option 2 ID : 6306803347932
Option 3 ID : 6306803347930
Option 4 ID : 6306803347933

Q.8 Which of the following rivers is a tributary of Indus River?

Ans 1. Gomti River

2. Mahananda River

3. Gandak River

4. Jhelum River

Question ID : 630680854874
Option 1 ID : 6306803348215
Option 2 ID : 6306803348217
Option 3 ID : 6306803348216
Option 4 ID : 6306803348214

Q.9 Which of the following British officers had announced the partition of Bengal in the year 1905?

Ans 1. Lord Curzon

2. Lord Irwin

3. Lord Dufferin

4. Lord Minto II

Question ID : 630680854752

Option 1 ID : 6306803347720

Option 2 ID : 6306803347718

Option 3 ID : 6306803347721

Option 4 ID : 6306803347719

Q.10 Arjuna Award winner for the year 2023 Ojas Pravin Deotale is related to which sport?

Ans 1. Polo

2. Hockey

3. Chess

4. Archery

Question ID : 630680854792

Option 1 ID : 6306803347880

Option 2 ID : 6306803347878

Option 3 ID : 6306803347879

Option 4 ID : 6306803347881

Q.11 A new I-STEM (Indian Science Technology and Engineering facilities Map) initiative called "Women in Engineering, Science, and Technology (WEST)" was launched in which of the following year?

Ans 1. 2023

2. 2020

3. 2022

4. 2019

Question ID : 630680854804

Option 1 ID : 6306803347926

Option 2 ID : 6306803347929

Option 3 ID : 6306803347927

Option 4 ID : 6306803347928

Q.12 The last decennial population census of India was conducted during 9–28 February 2011. The next census was scheduled to be held in 2021 but as on 31 January 2024, it has been postponed due to which of the following reasons?

Ans 1. Covid-19 pandemic

2. Heavy Flood

3. Cyclone Biparjoy

4. General election

Question ID : 630680852090

Option 1 ID : 6306803337419

Option 2 ID : 6306803337418

Option 3 ID : 6306803337416

Option 4 ID : 6306803337417

Q.13 Which of the following is the natural habitat of the Indian lion?

- Ans 1. Jim Corbett National Park
 2. Pench National Park
 3. Gir National Park
 4. Valmiki National Park

Question ID : 630680854821
Option 1 ID : 6306803347996
Option 2 ID : 6306803347997
Option 3 ID : 6306803347995
Option 4 ID : 6306803347994

Q.14 Hemis Festival is mainly related to which of the following states/union territories of India?

- Ans 1. Kerala
 2. Ladakh
 3. Maharashtra
 4. Chandigarh

Question ID : 630680854762
Option 1 ID : 6306803347758
Option 2 ID : 6306803347761
Option 3 ID : 6306803347759
Option 4 ID : 6306803347760

Q.15 The 101st Constitutional Amendment Act, 2016 is related to which of the following?

- Ans 1. Tax reform in India
 2. Health care
 3. National Judicial Appointments Commission (NJAC)
 4. Women reservation

Question ID : 630680854750
Option 1 ID : 6306803347712
Option 2 ID : 6306803347710
Option 3 ID : 6306803347713
Option 4 ID : 6306803347711

Q.16 Which among the following scheme provides cash incentive for wage loss compensation before and after the birth of a woman's first child and offers ₹ 5000?

- Ans 1. Pradhan Mantri Vatsalya Vandan Yojana
 2. Pradhan Mantri Matru Vandana Yojana
 3. Pradhan Mantri Shishu Suraksha Yojana
 4. Pradhan Mantri Nari Suraksha Yojana

Question ID : 630680854744
Option 1 ID : 6306803347688
Option 2 ID : 6306803347687
Option 3 ID : 6306803347689
Option 4 ID : 6306803347686

Q.17 India has developed a new model of financial inclusion, transparency and targeted interventions with the JAM trinity. What does the "M" stand for in JAM?

- Ans
- 1. Mutual
 - 2. Money
 - 3. Mobile
 - 4. Market

Question ID : 630680854797
Option 1 ID : 6306803347901
Option 2 ID : 6306803347898
Option 3 ID : 6306803347900
Option 4 ID : 6306803347899

Q.18 As on 31 January – 2024, which of the following languages is included in the list of classical languages of India?

- Ans
- 1. Bengali
 - 2. Maithili
 - 3. Tamil
 - 4. Hindi

Question ID : 630680854758
Option 1 ID : 6306803347745
Option 2 ID : 6306803347744
Option 3 ID : 6306803347742
Option 4 ID : 6306803347743

Q.19 In which part of the Indian Constitution are the provisions related to the executive of the Union discussed?

- Ans
- 1. Part – VI
 - 2. Part –VII
 - 3. Part – VIII
 - 4. Part – V

Question ID : 630680854770
Option 1 ID : 6306803347791
Option 2 ID : 6306803347792
Option 3 ID : 6306803347793
Option 4 ID : 6306803347790

Q.20 Which of the following is a unit of inheritance in living organisms, that controls the transfer of a hereditary characteristics from parents to offspring?

- Ans
- 1. Protoplasm
 - 2. Vacuole
 - 3. Cytoplasm
 - 4. Gene

Question ID : 630680854835
Option 1 ID : 6306803348053
Option 2 ID : 6306803348051
Option 3 ID : 6306803348050
Option 4 ID : 6306803348052

Section : General Awareness 2

Q.1 Which of the following taxes does not come in the list of direct taxes in India?

- Ans 1. Excise duty
 2. Income tax
 3. Wealth tax
 4. Corporation tax

Question ID : 630680854859
Option 1 ID : 6306803348154
Option 2 ID : 6306803348155
Option 3 ID : 6306803348157
Option 4 ID : 6306803348156

Q.2 सागौन, साल, पीपल और नीम मुख्यतः किस प्रकार के वनों में पाए जाते हैं?

- Ans 1. टुंड्रा वन
 2. उष्णकटिबंधीय पर्णपाती वन
 3. शंकुधारी वन
 4. मैंग्रोव वन

Question ID : 630680854765
Option 1 ID : 6306803347773
Option 2 ID : 6306803347771
Option 3 ID : 6306803347770
Option 4 ID : 6306803347772

Q.3 For which of the following books, Salman Rushdie was awarded the Booker Prize in 1981?

- Ans 1. The White Tiger
 2. The God of Small Things
 3. Midnight's Children
 4. Milkman

Question ID : 630680854812
Option 1 ID : 6306803347961
Option 2 ID : 6306803347959
Option 3 ID : 6306803347960
Option 4 ID : 6306803347958

Q.4 The primary objective of Pradhan Mantri Matru Vandana Yojana (PMMVY) was launched on _____?

- Ans 1. 1 January 2017
 2. 1 January 2020
 3. 1 January 2018
 4. 1 January 2021

Question ID : 630680854854
Option 1 ID : 6306803348135
Option 2 ID : 6306803348136
Option 3 ID : 6306803348134
Option 4 ID : 6306803348137

Q.5 It is an important component of the living cell. It is generally spherical and located in the centre of the cell. It can be seen easily with the help of a microscope. It is separated from the cytoplasm by a membrane called the nuclear membrane. Which among the following has been discussed here?

- Ans 1. Nucleus
 2. Vacuole
 3. Cytoplasm
 4. Microtubule

Question ID : 630680854889
Option 1 ID : 6306803348276
Option 2 ID : 6306803348275
Option 3 ID : 6306803348274
Option 4 ID : 6306803348277

Q.6 "Provisions as to disqualification on ground of defection", has been discussed in which of the following Schedules of the Indian Constitution?

- Ans 1. Schedule - XI
 2. Schedule - X
 3. Schedule - VII
 4. Schedule - V

Question ID : 630680852094
Option 1 ID : 6306803337435
Option 2 ID : 6306803337434
Option 3 ID : 6306803337433
Option 4 ID : 6306803337432

Q.7 Maternal mortality rate in India is the number of women who die during childbirth per ____ live birth.

- Ans 1. 1000000
 2. 1000
 3. 100000
 4. 500

Question ID : 630680854878
Option 1 ID : 6306803348230
Option 2 ID : 6306803348232
Option 3 ID : 6306803348231
Option 4 ID : 6306803348233

Q.8 Who among the following built a garrison town named Siri for his soldiers in order to defend the Delhi Sultanate from Mongol invasion?

- Ans 1. Alauddin Khalji
 2. Jalaluddin Khilji
 3. Ghiyasuddin Balban
 4. Qutubuddin Aibak

Question ID : 630680854810
Option 1 ID : 6306803347953
Option 2 ID : 6306803347950
Option 3 ID : 6306803347951
Option 4 ID : 6306803347952

Q.9 The Vindhyan range is bounded by the Satpura range on the south and the ___ on the northwest.

- Ans
- 1. Parasnath hill
 - 2. Kalsubai range
 - 3. Aravalli range
 - 4. Shivalik range

Question ID : 630680852086
Option 1 ID : 6306803337400
Option 2 ID : 6306803337403
Option 3 ID : 6306803337402
Option 4 ID : 6306803337401

Q.10 "Duration of Houses of Parliament" has been mentioned in which article of the Indian Constitution?

- Ans
- 1. Article – 91
 - 2. Article – 83
 - 3. Article – 85
 - 4. Article – 78

Question ID : 630680854776
Option 1 ID : 6306803347814
Option 2 ID : 6306803347816
Option 3 ID : 6306803347815
Option 4 ID : 6306803347817

Q.11 The first Mughal emperor , ascended the throne of Farghana in which of the following years?

- Ans
- 1. 1494 AD
 - 2. 1484 BC
 - 3. 1526 BC
 - 4. 1536 AD

Question ID : 630680854755
Option 1 ID : 6306803347732
Option 2 ID : 6306803347731
Option 3 ID : 6306803347730
Option 4 ID : 6306803347733

Q.12 Rajgir Dance Festival is mainly associated with which of the following states of India?

- Ans
- 1. Bihar
 - 2. Kerala
 - 3. Maharashtra
 - 4. Punjab

Question ID : 630680854818
Option 1 ID : 6306803347985
Option 2 ID : 6306803347982
Option 3 ID : 6306803347983
Option 4 ID : 6306803347984

Q.13 As on 31st January – 2024, who among the following is the Chairman of the GST Council?

- Ans 1. Rajnath Singh
 2. Nirmala Sitharaman
 3. K. Sundarajan
 4. Arvind Pangadhia

Question ID : 630680854806
Option 1 ID : 6306803347935
Option 2 ID : 6306803347936
Option 3 ID : 6306803347937
Option 4 ID : 6306803347934

Q.14 Pradhan Mantri Jeevan Jyoti Bima Yojana (PMJJBY) provides a renewable one year life cover of Rs ____ to all subscribing bank account holders in the age group of 18 to 50 years.

- Ans 1. 10 lakhs
 2. 8 lakhs
 3. 5 lakhs
 4. 2 lakhs

Question ID : 630680854851
Option 1 ID : 6306803348125
Option 2 ID : 6306803348122
Option 3 ID : 6306803348123
Option 4 ID : 6306803348124

Q.15 International Engineering and Technology Fair (IETF) 2023 was inaugurated at which of the following places of India?

- Ans 1. Nagpur
 2. Mumbai
 3. Kolkata
 4. New Delhi

Question ID : 630680854858
Option 1 ID : 6306803348153
Option 2 ID : 6306803348152
Option 3 ID : 6306803348150
Option 4 ID : 6306803348151

Q.16 भारत के राष्ट्रपति ____ की अध्यक्षता वाली मंत्रिपरिषद के माध्यम से अपनी कार्यकारी शक्तियों का प्रयोग करते हैं।

- Ans 1. लोकसभा के अध्यक्ष
 2. प्रधानमंत्री
 3. राज्यसभा के अध्यक्ष
 4. भारत के उपराष्ट्रपति

Question ID : 630680854774
Option 1 ID : 6306803347807
Option 2 ID : 6306803347808
Option 3 ID : 6306803347806
Option 4 ID : 6306803347809

Q.17 In which of the following years did Mahatma Gandhi along with other Indians establish the Natal Congress in Durban?

- Ans 1. 1911
 2. 1890
 3. 1895
 4. 1893

Question ID : 630680854808
Option 1 ID : 6306803347945
Option 2 ID : 6306803347942
Option 3 ID : 6306803347944
Option 4 ID : 6306803347943

Q.18 As on 31 January – 2024, which of the following languages is not included in the list of classical languages of India?

- Ans 1. Telugu
 2. Sanskrit
 3. Punjabi
 4. Tamil

Question ID : 630680854814
Option 1 ID : 6306803347968
Option 2 ID : 6306803347969
Option 3 ID : 6306803347966
Option 4 ID : 6306803347967

Q.19 Which of the following states has won the maximum number of Bronze medals in the National Games- 2023 held in India?

- Ans 1. Jharkhand
 2. Uttar Pradesh
 3. Maharashtra
 4. Gujarat

Question ID : 630680854737
Option 1 ID : 6306803347661
Option 2 ID : 6306803347659
Option 3 ID : 6306803347660
Option 4 ID : 6306803347658

Q.20 Deficiency of which of the following nutrients causes loss of bones and teeth?

- Ans 1. Fats
 2. Iodine
 3. Calcium
 4. Proteins

Question ID : 630680854836
Option 1 ID : 6306803348057
Option 2 ID : 6306803348056
Option 3 ID : 6306803348055
Option 4 ID : 6306803348054

Section : Arithmetical and Numerical Ability 1

Q.1 The sum of numerator and denominator of a fraction is 45. If 2 is added to numerator and 2 is subtracted from denominator, then it becomes $\frac{2}{3}$. Find the original fraction.

- Ans**
- 1. $\frac{27}{18}$
 - 2. $\frac{29}{16}$
 - 3. $\frac{18}{27}$
 - 4. $\frac{16}{29}$

Question ID : 630680854946
Option 1 ID : 6306803348507
Option 2 ID : 6306803348508
Option 3 ID : 6306803348506
Option 4 ID : 6306803348509

Q.2 A bag has ₹ 735 in the denomination of ₹ 2, ₹ 5 and ₹ 10 coins. The coins are in the ratio of 6 : 7 : 10. How many coins of ₹ 5 are in the bag?

- Ans**
- 1. 25
 - 2. 28
 - 3. 32
 - 4. 35

Question ID : 630680840462
Option 1 ID : 6306803292532
Option 2 ID : 6306803292530
Option 3 ID : 6306803292529
Option 4 ID : 6306803292531

Q.3 A fruit seller had some kiwis. He sells 20% kiwis and still has 140 kiwis. Originally, the number of kiwis he had, was

- Ans**
- 1. 130
 - 2. 100
 - 3. 175
 - 4. 125

Question ID : 630680855015
Option 1 ID : 6306803348788
Option 2 ID : 6306803348787
Option 3 ID : 6306803348786
Option 4 ID : 6306803348789

Q.4 A closed wooden box of uniform thickness has length, breadth and height 12cm, 15cm and 6 cm respectively. If the thickness of the wooden block is 2 cm. What would be the inner surface area of the box?

- Ans**
- 1. 300 cm^2
 - 2. 342 cm^2
 - 3. 252 cm^2
 - 4. 684 cm^2

Question ID : 630680854974
Option 1 ID : 6306803348620
Option 2 ID : 6306803348619
Option 3 ID : 6306803348621
Option 4 ID : 6306803348618

Q.5 The average of 50 numbers is 20. If two numbers 33 and 47 are discarded. The average of the remaining numbers is closest to

- Ans**
- 1. 19.17
 - 2. 18.26
 - 3. 20
 - 4. 15.15

Question ID : 630680855054
Option 1 ID : 6306803348943
Option 2 ID : 6306803348945
Option 3 ID : 6306803348944
Option 4 ID : 6306803348942

Q.6 A sum becomes ₹ 1,620 in 2 years at 4% per annum compound interest, compounded yearly. The sum is.

- Ans**
- 1. ₹ 1352.80
 - 2. ₹ 1497.78
 - 3. ₹ 1556.40
 - 4. ₹ 1688.60

Question ID : 630680849969
Option 1 ID : 6306803329105
Option 2 ID : 6306803329106
Option 3 ID : 6306803329107
Option 4 ID : 6306803329108

Q.7 Find which of the following number is divisible by 11?

- Ans
- 1. 61278
 - 2. 59342
 - 3. 45128
 - 4. 27874

Question ID : 630680854942
Option 1 ID : 6306803348493
Option 2 ID : 6306803348490
Option 3 ID : 6306803348491
Option 4 ID : 6306803348492

Q.8 A sum of money is to be distributed among A, B, C, and D in the ratio 7 : 2 : 4 : 3, respectively. If C gets ₹ 1500 more than D, what is B's share?

- Ans
- 1. ₹ 2500
 - 2. ₹ 3500
 - 3. ₹ 3000
 - 4. ₹ 4000

Question ID : 630680855028
Option 1 ID : 6306803348838
Option 2 ID : 6306803348840
Option 3 ID : 6306803348839
Option 4 ID : 6306803348841

Q.9 The height of a cylinder whose radius is 7cm and the total surface area is 792 cm^2 is: (Use $\pi = \frac{22}{7}$)

- Ans
- 1. 15 cm
 - 2. 18 cm
 - 3. 11 cm
 - 4. 9 cm

Question ID : 630680850005
Option 1 ID : 6306803329251
Option 2 ID : 6306803329252
Option 3 ID : 6306803329250
Option 4 ID : 6306803329249

Q.10 If a person walks at 15 km/hr. instead of 10 km/hr., he would have walked 20 km more in the same time. The actual distance travelled by him is:

- Ans
- 1. 50 km
 - 2. 55 km
 - 3. 40 km
 - 4. 45 km

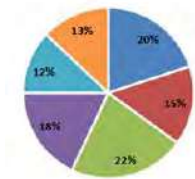
Question ID : 630680855034
Option 1 ID : 6306803348864
Option 2 ID : 6306803348865
Option 3 ID : 6306803348862
Option 4 ID : 6306803348863

Q.11 10% of people died due to dengue in a village and due to that 25% of remaining people left the village. The population is then reduced to 2430. Find total number of people originally living in the village.

- Ans**
- 1. 3750
 - 2. 3600
 - 3. 3640
 - 4. 3800

Question ID : 630680854934
Option 1 ID : 6306803348460
Option 2 ID : 6306803348458
Option 3 ID : 6306803348459
Option 4 ID : 6306803348461

Q.12 The following pie-chart shows the percentage distribution of the expenditure incurred in publishing a book. Study the pie-chart and the answer the question?
Distribution of Expenditures (in percentage) Incurred in Publishing a Book



*A *B *C *D *E *F

If for a certain quantity of books, the publisher has to pay ₹ 33,220 as expenditure C, then what will be amount of expenditure B to be paid for these books?

- Ans**
- 1. ₹ 22650
 - 2. ₹ 25460
 - 3. ₹ 24120
 - 4. ₹ 26240

Question ID : 630680855006
Option 1 ID : 6306803348750
Option 2 ID : 6306803348752
Option 3 ID : 6306803348751
Option 4 ID : 6306803348753

Q.13 In an election, 8% of the voters did not cast their votes. Only two candidates contested the election in which the winning candidate got 48% of the total votes (in voter's list) and won the election by 1080 votes. Find the total number of voters in the election, given that all the votes cast were valid.

- Ans**
- 1. 20000
 - 2. 27000
 - 3. 24000
 - 4. 18000

Question ID : 630680854949
Option 1 ID : 6306803348521
Option 2 ID : 6306803348519
Option 3 ID : 6306803348520
Option 4 ID : 6306803348518

Q.14 A shopkeeper earns a profit of 35 percent on selling a radio at 25 percent discount on its printed price. Finds the ratio of the printed price and the cost price of the radio.

- Ans
- ✓ 1. 9:5
 - ✗ 2. 8:5
 - ✗ 3. 7:4
 - ✗ 4. 7:3

Question ID : 630680855020
Option 1 ID : 6306803348806
Option 2 ID : 6306803348808
Option 3 ID : 6306803348807
Option 4 ID : 6306803348809


Q.15 The denominator of a fraction is 1 more than numerator. If the numerator as well as denominator is increased by 1, the fraction becomes $\frac{4}{5}$. Find the original fraction.

- Ans
- ✓ 1. $\frac{3}{4}$
 - ✗ 2. $\frac{6}{7}$
 - ✗ 3. $\frac{4}{3}$
 - ✗ 4. $\frac{5}{6}$

Join Telegram Group "HaryanaJobs.in"

Question ID : 630680855069
Option 1 ID : 6306803349005
Option 2 ID : 6306803349002
Option 3 ID : 6306803349004
Option 4 ID : 6306803349003

Q.16 Study the following graph and answer the question below.
Distribution of candidates who were enrolled for MBA entrance exam and the candidates (out of those enrolled) who passed the exam in different institutes:



What is the ratio of the number of candidates passed to the number of candidates enrolled from institute Q?

- Ans
- ✓ 1. 34:65
 - ✗ 2. 3:5
 - ✗ 3. 56:43
 - ✗ 4. 6:5

Question ID : 630680855009
Option 1 ID : 6306803348764
Option 2 ID : 6306803348762
Option 3 ID : 6306803348765
Option 4 ID : 6306803348763

Q.17 A piece of string, 44 cm long, is formed into a circle with the ends of the string touching each other. What is the radius of the circle (in cm)? (Use $\pi = \frac{22}{7}$)

- Ans**
- 1. 11
 - 2. 8
 - 3. 5
 - 4. 7

Question ID : 630680855040
Option 1 ID : 6306803348889
Option 2 ID : 6306803348888
Option 3 ID : 6306803348886
Option 4 ID : 6306803348887

Q.18 Two successive discounts of 40% and 20%, respectively, on the marked price of an article are equal to a single discount of ₹ 975. The marked price of the article is:

- Ans**
- 1. ₹1775
 - 2. ₹1875
 - 3. ₹1880
 - 4. ₹1920

Question ID : 630680855023
Option 1 ID : 6306803348821
Option 2 ID : 6306803348820
Option 3 ID : 6306803348818
Option 4 ID : 6306803348819

Q.19 A person is to reach a destination 30 km away. If he covers the first 15 km in 4 hours then at what constant speed should he go so that the average speed for the whole journey becomes 6 km/hour?

- Ans**
- 1. 12 km/hour
 - 2. 10 km/hour
 - 3. 15 km/hour
 - 4. 18 km/hour

Question ID : 630680855093
Option 1 ID : 6306803349099
Option 2 ID : 6306803349098
Option 3 ID : 6306803349100
Option 4 ID : 6306803349101

Q.20 A and B together can do a piece of work in 60 days. If A is 20% less efficient than B, in how many days can A working alone complete 80% of the work?

Ans 1. 108

2. 82

3. 95

4. 85

Question ID : 630680849997

Option 1 ID : 6306803329218

Option 2 ID : 6306803329217

Option 3 ID : 6306803329220

Option 4 ID : 6306803329219

Section : Arithmetical and Numerical Ability 2

Q.1 Consider a circle C of radius 6 cm with center at O. What is the difference in the area of the circle C and the area of the sector of C subtending an angle of 30 degrees at O?

Ans 1. $18 \pi \text{ cm}^2$

2. $30 \pi \text{ cm}^2$

3. $8 \pi \text{ cm}^2$

4. $33 \pi \text{ cm}^2$

Question ID : 630680850068

Option 1 ID : 6306803329502

Option 2 ID : 6306803329503

Option 3 ID : 6306803329501

Option 4 ID : 6306803329504

Q.2 Swamy purchased a laptop for ₹ 76,000 and sold it to Anuj suffering a loss of 10%. Anuj sold the same laptop after earning a profit of 20%. At what price did Anuj sell the laptop?

Ans 1. ₹82,080

2. ₹72,000

3. ₹80,600

4. ₹75,480

Question ID : 630680854951

Option 1 ID : 6306803348528

Option 2 ID : 6306803348527

Option 3 ID : 6306803348526

Option 4 ID : 6306803348529

Q.3 The present population of a country is 10 crores. If it rises to 27.44 crores during next 3 years, then find the rate of growth in population, assuming the same rate every year, is

- Ans**
- 1. 25%
 - 2. 40%
 - 3. 35%
 - 4. 30%

Question ID : 630680855076
Option 1 ID : 6306803349030
Option 2 ID : 6306803349033
Option 3 ID : 6306803349032
Option 4 ID : 6306803349031

Q.4 The table given below shows the marked price (in ₹) and the discount percentage of five different articles.

Article	Marked Price	Discount percentage
Trouser	1600	20 %
Blanket	350	15 %
Shirt	2000	25 %
Jeans	3500	30 %
Goggle	2000	10 %
Saree	3600	15 %

What is the selling price of Saree?

- Ans**
- 1. ₹ 3500
 - 2. ₹ 3450
 - 3. ₹ 3240
 - 4. ₹ 3060

Question ID : 630680855062
Option 1 ID : 6306803348977
Option 2 ID : 6306803348976
Option 3 ID : 6306803348975
Option 4 ID : 6306803348974

Q.5 Two friends A and B are employed to do a piece of work in 22 days. If A is twice as efficient as B, find the time taken by A to do the work alone.

- Ans**
- 1. 66 days
 - 2. 40 days
 - 3. 33 days
 - 4. 60 days

Question ID : 630680855088
Option 1 ID : 6306803349079
Option 2 ID : 6306803349078
Option 3 ID : 6306803349080
Option 4 ID : 6306803349081

Q.6 Two numbers are respectively 20% and 40% more than a third number. The ratio of the two numbers is:

- Ans
- 1. 5:4
 - 2. 3:1
 - 3. 6:7
 - 4. 3:4

Question ID : 630680855027
Option 1 ID : 6306803348837
Option 2 ID : 6306803348835
Option 3 ID : 6306803348834
Option 4 ID : 6306803348836

Q.7 The product of two positive fractions A and B is $(3/121)$. Find the value of fraction A, if fraction A is thrice the fraction B.

- Ans
- 1. $11/121$
 - 2. $3/7$
 - 3. $9/121$
 - 4. $3/11$

Question ID : 630680855068
Option 1 ID : 6306803349001
Option 2 ID : 6306803348999
Option 3 ID : 6306803348998
Option 4 ID : 6306803349000

Q.8 What is the perimeter of a rectangle whose length and breadth are 22 cm and 18 cm respectively?

- Ans
- 1. 40 cm
 - 2. 80 cm
 - 3. 120 cm
 - 4. 360 cm

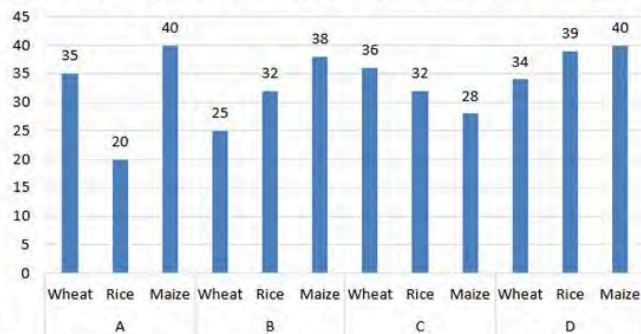
Question ID : 630680855038
Option 1 ID : 6306803348878
Option 2 ID : 6306803348879
Option 3 ID : 6306803348880
Option 4 ID : 6306803348881

Q.9 How many numbers between 1000 and 4000 are exactly divisible by 350?

- Ans
- 1. 15
 - 2. 18
 - 3. 7
 - 4. 9

Question ID : 630680855014
Option 1 ID : 6306803348784
Option 2 ID : 6306803348785
Option 3 ID : 6306803348782
Option 4 ID : 6306803348783

Q.10 Study the bar graph and answer the following question.
The bar graph shows the production (in thousand tones) of Wheat, Rice and Maize in different states.



For which state is the total production of Wheat, Rice and Maize the maximum?

- Ans
- 1. B
 - 2. A
 - 3. C
 - 4. D

Question ID : 630680854939
Option 1 ID : 6306803348479
Option 2 ID : 6306803348478
Option 3 ID : 6306803348480
Option 4 ID : 6306803348481

Q.11 what should be added to each term of ratio 5 : 7 so that it becomes 3 : 4?

- Ans
- 1. 5
 - 2. 3
 - 3. 2
 - 4. 1

Question ID : 630680849991
Option 1 ID : 6306803329196
Option 2 ID : 6306803329193
Option 3 ID : 6306803329195
Option 4 ID : 6306803329194

Q.12 When 20 is subtracted from a number, it reduces to its 50%. Find one-third of that number.

- Ans
- 1. $20/3$
 - 2. $40/3$
 - 3. 33
 - 4. 25

Question ID : 630680840399
Option 1 ID : 6306803292280
Option 2 ID : 6306803292278
Option 3 ID : 6306803292279
Option 4 ID : 6306803292277

Q.13 The average of 5, 8, 9, x, 12 is 10 and the average of 16, 8, 18, 15, x, y, 4 is 12. What is the value of y?

- Ans 1. 7
 2. 8
 3. 10
 4. 5

Question ID : 630680855053
Option 1 ID : 6306803348941
Option 2 ID : 6306803348939
Option 3 ID : 6306803348938
Option 4 ID : 6306803348940

Q.14 A person borrows a sum of ₹ 4700 at 10% p.a. interest for 2 years. What is the simple interest earned?

- Ans 1. ₹940
 2. ₹530
 3. ₹760
 4. ₹980

Question ID : 630680855001
Option 1 ID : 6306803348733
Option 2 ID : 6306803348731
Option 3 ID : 6306803348732
Option 4 ID : 6306803348730

Q.15 40 % of a number is greater than one-third of that number by 16. Find the number

- Ans 1. 250
 2. 312
 3. 275
 4. 240

Question ID : 630680855072
Option 1 ID : 6306803349015
Option 2 ID : 6306803349017
Option 3 ID : 6306803349016
Option 4 ID : 6306803349014

Q.16 A man on tour, travels first 150 km at 50 km/hr and the next 150 km at 30 km/hr. The average speed for the entire tour is.

- Ans 1. 50 km/hr.
 2. 40 km/hr.
 3. 48 km/hr.
 4. 37.5 km/hr.

Question ID : 630680855035
Option 1 ID : 6306803348869
Option 2 ID : 6306803348867
Option 3 ID : 6306803348868
Option 4 ID : 6306803348866

Q.17 If a car travels at a speed of 90 km/hr., how long will it take to cover a distance of 270 km?

- Ans
- 1. 6 hours
 - 2. 3 hours
 - 3. 7 hours
 - 4. 4 hours

Question ID : 630680855090
Option 1 ID : 6306803349087
Option 2 ID : 6306803349089
Option 3 ID : 6306803349086
Option 4 ID : 6306803349088

Q.18 A sum of money on compound interest (compounded annually) amounts to ₹ 10846 in 3 years and ₹ 9860 in 2 years.
The rate of interest per annum is:

- Ans
- 1. 10%
 - 2. 15%
 - 3. 5%
 - 4. 2%

Question ID : 630680855003
Option 1 ID : 6306803348740
Option 2 ID : 6306803348741
Option 3 ID : 6306803348739
Option 4 ID : 6306803348738

Q.19 A shopkeeper offers three types of discount schemes for buyers. Which of them has the maximum discount percentage?
I. Two successive discounts of 13% each.
II. Two successive discounts of 20% and 6%.
III. A single discount of 26%.

- Ans
- 1. Only I
 - 2. Only II
 - 3. All are giving same discount.
 - 4. Only III

Question ID : 630680855080
Option 1 ID : 6306803349046
Option 2 ID : 6306803349047
Option 3 ID : 6306803349049
Option 4 ID : 6306803349048

Q.20 Find the curved surface area and total surface area of a cylinder, the diameter of whose base is 14 cm and height is 80 cm.

- Ans**
- 1. $3020 \text{ cm}^2, 4308 \text{ cm}^2$
 - 2. $3125 \text{ cm}^2, 5330 \text{ cm}^2$
 - 3. $2524 \text{ cm}^2, 4820 \text{ cm}^2$
 - 4. $3520 \text{ cm}^2, 3828 \text{ cm}^2$

Question ID : 630680840428
Option 1 ID : 6306803292396
Option 2 ID : 6306803292393
Option 3 ID : 6306803292395
Option 4 ID : 6306803292394

Section : Test of English Language and Comprehension 1

Q.1 Select the most appropriate SYNONYM of the given word below.

Caution

- Ans**
- 1. Alert
 - 2. Abruptness
 - 3. Carelessness
 - 4. Threat

Question ID : 630680838017
Option 1 ID : 6306803282761
Option 2 ID : 6306803282760
Option 3 ID : 6306803282759
Option 4 ID : 6306803282762

Q.2 Fill in the blanks with the most appropriate homonym in the following sentence.

He started a ___ job on Friday.

- Ans**
- 1. know
 - 2. now
 - 3. new
 - 4. knew

Question ID : 630680837841
Option 1 ID : 6306803282074
Option 2 ID : 6306803282073
Option 3 ID : 6306803282072
Option 4 ID : 6306803282071

Q.3 Choose the most appropriate one-word substitution for the below words.

" An individual who is unable to express or interact easily"

- Ans 1. Ambivert
 2. Introvert
 3. Garrulous
 4. Loquacious

Question ID : 630680838091
Option 1 ID : 6306803283052
Option 2 ID : 6306803283054
Option 3 ID : 6306803283053
Option 4 ID : 6306803283051

Q.4 Select the most appropriate SYNONYM of the given word below.

Boastful

- Ans 1. Humble
 2. Modest
 3. Arrogant
 4. Meek

Question ID : 630680847738
Option 1 ID : 6306803320518
Option 2 ID : 6306803320520
Option 3 ID : 6306803320521
Option 4 ID : 6306803320519

Q.5 Select the appropriate article from the below options to complete the sentence. Mark "No article" if there is no requirement of article in the given sentence.

___ water in the Pacific Ocean is freezing.

- Ans 1. The
 2. No article
 3. An
 4. A

Question ID : 630680837906
Option 1 ID : 6306803282325
Option 2 ID : 6306803282323
Option 3 ID : 6306803282326
Option 4 ID : 6306803282324

Q.6 Select the appropriate article from the below options to complete the sentence. Mark "No article" if there is no requirement of article in the given sentence.

A company should be innovative to succeed in ___ market today.

- Ans 1. a
 2. No article
 3. the
 4. an

Question ID : 630680838072
Option 1 ID : 6306803282975
Option 2 ID : 6306803282976
Option 3 ID : 6306803282977
Option 4 ID : 6306803282978

Q.7 Select the most appropriate form of verb from the given options to replace the underlined and bracketed word in order to correct the below sentence.

I like to (draws) pictures.

- Ans 1. drawing
 2. draw
 3. be drawing
 4. drew

Question ID : 630680847776
Option 1 ID : 6306803320671
Option 2 ID : 6306803320673
Option 3 ID : 6306803320672
Option 4 ID : 6306803320670

Q.8 Choose the most appropriate one-word substitution for the below words.

" A large cage, building, or enclosure to keep birds "

- Ans 1. Dormitory
 2. Aquarium
 3. Aviary
 4. Crematorium

Question ID : 630680847721
Option 1 ID : 6306803320454
Option 2 ID : 6306803320455
Option 3 ID : 6306803320456
Option 4 ID : 6306803320457

Q.9 Select the correct preposition from the below options to complete the below sentence.

The letter I wrote was full _ mistakes.

- Ans 1. at
 2. of
 3. in
 4. on

Question ID : 630680837988
Option 1 ID : 6306803282648
Option 2 ID : 6306803282649
Option 3 ID : 6306803282650
Option 4 ID : 6306803282647

Q.10 Select the most appropriate form of verb from the given options to replace the underlined and bracketed word in order to correct the below sentence.

I was (watch) TV when she called.

- Ans 1. watches
 2. being watched
 3. watched
 4. watching

Question ID : 630680848918
Option 1 ID : 6306803325210
Option 2 ID : 6306803325212
Option 3 ID : 6306803325211
Option 4 ID : 6306803325213

Q.11 Select the most appropriate SYNONYM of the word highlighted/ given in brackets in the below sentence.

Renewable energy sources have been receiving increasing attention from governments and the public alike, as a key strategy for addressing climate change and reducing our (reliance) on fossil fuels.

- Ans 1. Abomination
 2. Autonomy
 3. Sovereignty
 4. Dependency

Question ID : 630680848944
Option 1 ID : 6306803325313
Option 2 ID : 6306803325310
Option 3 ID : 6306803325312
Option 4 ID : 6306803325311

Q.12 Select the correct preposition from the below options to complete the below sentence.

The shopkeeper does not have the toys I was looking ____.

- Ans 1. for
 2. by
 3. to
 4. about

Question ID : 630680847771
Option 1 ID : 6306803320650
Option 2 ID : 6306803320653
Option 3 ID : 6306803320651
Option 4 ID : 6306803320652

Q.13 Parts of the following sentence have been given as options that contain an error in spelling. Select from the below options that identify the misspelt word.

Retirement is a phase in life that everyone looks forward to, but it can be challeinging if an individual is not well prepared.

- Ans 1. prepared
 2. Retirement
 3. individual
 4. challeinging

Question ID : 630680847745
Option 1 ID : 6306803320548
Option 2 ID : 6306803320546
Option 3 ID : 6306803320547
Option 4 ID : 6306803320549

Q.14 Select the most appropriate form of verb from the given options to replace the underlined and bracketed word in order to correct the below sentence.

Sheela wants to (travels) around the world next year when she graduates.

- Ans 1. travelling
 2. be travelling
 3. travelled
 4. travel

Question ID : 630680837996
Option 1 ID : 6306803282681
Option 2 ID : 6306803282682
Option 3 ID : 6306803282680
Option 4 ID : 6306803282679

Q.15 Choose the most logical order of the sentences from among the four given choices to construct a coherent paragraph.

Bullying has become an increasingly prevalent issue in schools. According to statistics provided by a school's Disciplinary Board, cases of bullying have been on the rise in recent years.

- A) This trend is unhealthy and must be addressed before it becomes a more significant problem.
- B) In 2010, there were only 12 cases reported, but by 2023, that number had increased to 25.
- C) To address this growing problem, parents and school authorities must work together.
- D) Bullying occurs for various reasons, including negative peer influence and a lack of appropriate role models.

- Ans
- 1. ADCB
 - 2. CBDA
 - 3. BADC
 - 4. ABCD

Question ID : 630680838086
Option 1 ID : 6306803283031
Option 2 ID : 6306803283033
Option 3 ID : 6306803283032
Option 4 ID : 6306803283034

Q.16 A statement has been given with highlighted text. You are required to replace the text with correct idiom from the given options.

This latest development came to many of us who are concerned about the problem as (something important or unusual that happens suddenly or unexpectedly).

- Ans
- 1. bolt from the blue
 - 2. the last straw
 - 3. a piece of cake
 - 4. being left out in the cold

Question ID : 630680848936
Option 1 ID : 6306803325280
Option 2 ID : 6306803325279
Option 3 ID : 6306803325278
Option 4 ID : 6306803325281

Q.17 Select the correct preposition from the below options to complete the below sentence.

He sailed ____ the sea.

- Ans
- 1. across
 - 2. beside
 - 3. in
 - 4. after

Question ID : 630680837987
Option 1 ID : 6306803282645
Option 2 ID : 6306803282644
Option 3 ID : 6306803282643
Option 4 ID : 6306803282646

Q.18 A statement has been given with highlighted text. You are required to replace the text with correct idiom from the given options.

Do not (avoid saying the real thing because it is difficult for you). Just tell me why you cannot come to my birthday party on Friday.

Ans 1. beat around the bush

2. call it a day

3. hang in there

4. cross your fingers

Question ID : 630680837934

Option 1 ID : 6306803282433

Option 2 ID : 6306803282432

Option 3 ID : 6306803282434

Option 4 ID : 6306803282431

Q.19 Select the most appropriate SYNONYM of the word highlighted/ given in brackets in the below sentence.

The furnishings and paintings had been chosen with (impeccable) taste.

Ans 1. Fearsome

2. Flawed

3. Flawless

4. Imperfect

Question ID : 630680837838

Option 1 ID : 6306803282059

Option 2 ID : 6306803282062

Option 3 ID : 6306803282060

Option 4 ID : 6306803282061

Q.20 Select the most appropriate meaning of the proverb below from the given options.

“A journey of a thousand miles begins with a single step”

Ans 1. People who are not careful with their finances will quickly lose their wealth.

2. It is necessary to take the first step to reach your goal.

3. What someone does means more than what they say they will do.

4. What you have is better than what you might get.

Question ID : 630680838014

Option 1 ID : 6306803282748

Option 2 ID : 6306803282747

Option 3 ID : 6306803282749

Option 4 ID : 6306803282750

Q.1 Fill in the blanks with the most appropriate homonym in the following sentence.

He is taking a ____ in marketing.

- Ans 1. coarse
 2. course
 3. curse
 4. cause

Question ID : 630680838110
Option 1 ID : 6306803283123
Option 2 ID : 6306803283125
Option 3 ID : 6306803283124
Option 4 ID : 6306803283126

Q.2 Parts of the following sentence have been given as options that contain an error in spelling. Select from the below options that identify the misspelt word.

Malaysia is a country with a diverse population, and its citizens live together in peace and unity, just like the Malay saying, "like betel leaves tied together".

- Ans 1. betel
 2. divarse
 3. saying
 4. population

Question ID : 630680838114
Option 1 ID : 6306803283140
Option 2 ID : 6306803283142
Option 3 ID : 6306803283141
Option 4 ID : 6306803283139

Q.3 Select the correct preposition from the below options to complete the below sentence.

Anthony was sleeping ____ the film.

- Ans 1. since
 2. during
 3. on
 4. from

Question ID : 630680838075
Option 1 ID : 6306803282987
Option 2 ID : 6306803282989
Option 3 ID : 6306803282990
Option 4 ID : 6306803282988

Q.4 Choose the most logical order of the sentences from among the four given choices to construct a coherent paragraph.

Education is a fundamental aspect of every society.

- A) Schools play a critical role in producing individuals who are not just academically competent but also have the necessary skills to contribute to society.
- B) However, there has been a growing concern that schools, especially in Asia, are not creating well-rounded individuals.
- C) It not only imparts knowledge but also shapes an individual's overall personality.
- D) This is because the education system is heavily focused on examinations and academic achievements, neglecting extra-curricular activities, sports, and non-academic skills. To address this issue, schools need to take several steps to produce well-rounded individuals.

- Ans
- 1. DCBA
 - 2. CDBA
 - 3. ADCB
 - 4. CABD

Question ID : 630680838087
Option 1 ID : 6306803283035
Option 2 ID : 6306803283037
Option 3 ID : 6306803283038
Option 4 ID : 6306803283036

Q.5 Select the appropriate article from the below options to complete the sentence. Mark "No article" if there is no requirement of article in the given sentence.

___ firm closed down because there was not enough demand for its product.

- Ans
- 1. No article
 - 2. The
 - 3. An
 - 4. A

Question ID : 630680837985
Option 1 ID : 6306803282636
Option 2 ID : 6306803282637
Option 3 ID : 6306803282638
Option 4 ID : 6306803282635

Q.6 Choose the most appropriate one-word substitution for the below words.

"Having more than one possible meaning"

- Ans
- 1. Distinct
 - 2. Ambiguous
 - 3. Unequivocal
 - 4. Legible

Question ID : 630680838090
Option 1 ID : 6306803283048
Option 2 ID : 6306803283050
Option 3 ID : 6306803283049
Option 4 ID : 6306803283047

Q.7 Choose the most appropriate one-word substitution for the below word.

“Examination of tissue removed from a living body to discover the presence, cause, or extent of a disease”

- Ans 1. Biopsy
 2. Dissection
 3. Autopsy
 4. Dialysis

Question ID : 630680848925
Option 1 ID : 6306803325240
Option 2 ID : 6306803325239
Option 3 ID : 6306803325241
Option 4 ID : 6306803325238

Q.8 Select the most appropriate form of verb from the given options to replace the underlined and bracketed word in order to correct the below sentence.

He (exercise) at the gym yesterday.

- Ans 1. exercised
 2. be exercised
 3. exercises
 4. exercising

Question ID : 630680848922
Option 1 ID : 6306803325227
Option 2 ID : 6306803325228
Option 3 ID : 6306803325226
Option 4 ID : 6306803325229

Q.9 Select the most appropriate meaning of the proverb below from the given options.

“Better safe than sorry.”

- Ans 1. Getting something late is better than never getting it.
 2. Your actions determine your results.
 3. It is better to take precautions than to regret later.
 4. Something might be different from how they appear outwardly.

Question ID : 630680837937
Option 1 ID : 6306803282446
Option 2 ID : 6306803282445
Option 3 ID : 6306803282444
Option 4 ID : 6306803282443

Q.10 Select the most appropriate form of verb from the given options to replace the underlined and bracketed word in order to correct the below sentence.

He had (complete) his workout before he had breakfast.

- Ans
- 1. completes
 - 2. be completing
 - 3. completing
 - 4. completed

Question ID : 630680837998
Option 1 ID : 6306803282687
Option 2 ID : 6306803282689
Option 3 ID : 6306803282690
Option 4 ID : 6306803282688

Comprehension:

Read the passage given below and answer the questions.

The Tropical Rainforest Heritage of Sumatra (TRHS), Indonesia comprises three widely separated National Parks; Gunung Leuser (GLNP), Kerinci Seblat (KSNP) and Bukit Barisan Selatan (BBSNP), and covers a total area of 2,595,124 hectares, constituting one of the biggest conservation areas in Southeast Asia. The site is located on Bukit Barisan range and holds the greatest potential for long-term conservation of the diverse biota of Sumatra, including many endangered species. The biodiversity of the property is exceptional in terms of both species' numbers and uniqueness. There are an estimated 10,000 species of plants, including 17 endemic genera. Animal diversity in TRHS is also impressive, with 201 mammal species and some 580 species of birds, of which 465 are resident and 21 are endemics. Of the mammal species, 22 are endemic to the Sundaland hotspot and 15 are confined to the Indonesian region, including the endemic Sumatran orangutan. Key mammal species also include the Sumatran tiger, rhino, elephant, and Malayan sun-bear. The TRHS includes the highest volcano in Indonesia, Gunung Kerinci (3,805 m asl) along with many other physical features of exceptional natural beauty, including Lake Gunung Tujuh the highest lake in Southeast Asia, numerous other volcanic and glacial high-altitude lakes, fumaroles, waterfalls, cave systems and steep rocky backdrops. Both Gunung Leuser National Park and Bukit Barisan Selatan National Park contain frontages to the Indian Ocean, making the altitudinal range of the TRHS extend from the highest mountains on Sumatra to sea level. All three protected areas in the TRHS exhibit wide altitudinal zonation of vegetation, from lowland rainforest to montane forest, extending to sub-alpine low forest, scrub and shrub thickets and covering an astounding diversity of ecosystems.

SubQuestion No : 11

Q.11 Select the most appropriate ANTONYM of the word given below.
Diversity

- Ans
- 1. Similarity
 - 2. Distinctness
 - 3. Heterogeneity
 - 4. Variety

Question ID : 630680856310
Option 1 ID : 6306803353903
Option 2 ID : 6306803353905
Option 3 ID : 6306803353902
Option 4 ID : 6306803353904

Comprehension:

Read the passage given below and answer the questions.

The Tropical Rainforest Heritage of Sumatra (TRHS), Indonesia comprises three widely separated National Parks; Gunung Leuser (GLNP), Kerinci Seblat (KSNP) and Bukit Barisan Selatan (BBSNP), and covers a total area of 2,595,124 hectares, constituting one of the biggest conservation areas in Southeast Asia. The site is located on Bukit Barisan range and holds the greatest potential for long-term conservation of the diverse biota of Sumatra, including many endangered species. The biodiversity of the property is exceptional in terms of both species' numbers and uniqueness. There are an estimated 10,000 species of plants, including 17 endemic genera. Animal diversity in TRHS is also impressive, with 201 mammal species and some 580 species of birds, of which 465 are resident and 21 are endemics. Of the mammal species, 22 are endemic to the Sundaland hotspot and 15 are confined to the Indonesian region, including the endemic Sumatran orangutan. Key mammal species also include the Sumatran tiger, rhino, elephant, and Malayan sun-bear. The TRHS includes the highest volcano in Indonesia, Gunung Kerinci (3,805 m asl) along with many other physical features of exceptional natural beauty, including Lake Gunung Tujuh the highest lake in Southeast Asia, numerous other volcanic and glacial high-altitude lakes, fumaroles, waterfalls, cave systems and steep rocky backdrops. Both Gunung Leuser National Park and Bukit Barisan Selatan National Park contain frontages to the Indian Ocean, making the altitudinal range of the TRHS extend from the highest mountains on Sumatra to sea level. All three protected areas in the TRHS exhibit wide altitudinal zonation of vegetation, from lowland rainforest to montane forest, extending to sub-alpine low forest, scrub and shrub thickets and covering an astounding diversity of ecosystems.

SubQuestion No : 12

Q.12 Select the most appropriate meaning of the word given below.
Astounding

- Ans** 1. a group of different types of something
 2. very surprising or shocking
 3. an untidy and confused mixture of things, feelings, or ideas
 4. a layer of dirt on skin or on a building

Question ID : **630680856307**
Option 1 ID : **6306803353892**
Option 2 ID : **6306803353891**
Option 3 ID : **6306803353890**
Option 4 ID : **6306803353893**

Comprehension:

Read the passage given below and answer the questions.

The Tropical Rainforest Heritage of Sumatra (TRHS), Indonesia comprises three widely separated National Parks; Gunung Leuser (GLNP), Kerinci Seblat (KSNP) and Bukit Barisan Selatan (BBSNP), and covers a total area of 2,595,124 hectares, constituting one of the biggest conservation areas in Southeast Asia. The site is located on Bukit Barisan range and holds the greatest potential for long-term conservation of the diverse biota of Sumatra, including many endangered species. The biodiversity of the property is exceptional in terms of both species' numbers and uniqueness. There are an estimated 10,000 species of plants, including 17 endemic genera. Animal diversity in TRHS is also impressive, with 201 mammal species and some 580 species of birds, of which 465 are resident and 21 are endemics. Of the mammal species, 22 are endemic to the Sundaland hotspot and 15 are confined to the Indonesian region, including the endemic Sumatran orangutan. Key mammal species also include the Sumatran tiger, rhino, elephant, and Malayan sun-bear. The TRHS includes the highest volcano in Indonesia, Gunung Kerinci (3,805 m asl) along with many other physical features of exceptional natural beauty, including Lake Gunung Tujuh the highest lake in Southeast Asia, numerous other volcanic and glacial high-altitude lakes, fumaroles, waterfalls, cave systems and steep rocky backdrops. Both Gunung Leuser National Park and Bukit Barisan Selatan National Park contain frontages to the Indian Ocean, making the altitudinal range of the TRHS extend from the highest mountains on Sumatra to sea level. All three protected areas in the TRHS exhibit wide altitudinal zonation of vegetation, from lowland rainforest to montane forest, extending to sub-alpine low forest, scrub and shrub thickets and covering an astounding diversity of ecosystems.

SubQuestion No : 13

Q.13 Identify the most suitable title for the passage.

- Ans 1. Long term conservation ideas for Sumatra
2. Sumatra - The underdog of Indonesia
3. National Park and its heritage: A Biodiversity Nightmare
4. Tropical Rainforest Heritage of Sumatra: A Biodiversity paradise

Question ID : 630680856306
Option 1 ID : 6306803353889
Option 2 ID : 6306803353888
Option 3 ID : 6306803353887
Option 4 ID : 6306803353886

Comprehension:

Read the passage given below and answer the questions.

The Tropical Rainforest Heritage of Sumatra (TRHS), Indonesia comprises three widely separated National Parks; Gunung Leuser (GLNP), Kerinci Seblat (KSNP) and Bukit Barisan Selatan (BBSNP), and covers a total area of 2,595,124 hectares, constituting one of the biggest conservation areas in Southeast Asia. The site is located on Bukit Barisan range and holds the greatest potential for long-term conservation of the diverse biota of Sumatra, including many endangered species. The biodiversity of the property is exceptional in terms of both species' numbers and uniqueness. There are an estimated 10,000 species of plants, including 17 endemic genera. Animal diversity in TRHS is also impressive, with 201 mammal species and some 580 species of birds, of which 465 are resident and 21 are endemics. Of the mammal species, 22 are endemic to the Sundaland hotspot and 15 are confined to the Indonesian region, including the endemic Sumatran orangutan. Key mammal species also include the Sumatran tiger, rhino, elephant, and Malayan sun-bear. The TRHS includes the highest volcano in Indonesia, Gunung Kerinci (3,805 m asl) along with many other physical features of exceptional natural beauty, including Lake Gunung Tujuh the highest lake in Southeast Asia, numerous other volcanic and glacial high-altitude lakes, fumaroles, waterfalls, cave systems and steep rocky backdrops. Both Gunung Leuser National Park and Bukit Barisan Selatan National Park contain frontages to the Indian Ocean, making the altitudinal range of the TRHS extend from the highest mountains on Sumatra to sea level. All three protected areas in the TRHS exhibit wide altitudinal zonation of vegetation, from lowland rainforest to montane forest, extending to sub-alpine low forest, scrub and shrub thickets and covering an astounding diversity of ecosystems.

SubQuestion No : 14

Q.14 Select the most appropriate SYNONYM of the word given below.
Potential

- Ans**
- 1. Unlikely
 - 2. Helpless
 - 3. Impossible
 - 4. Probable

Question ID : 630680856308
Option 1 ID : 6306803353894
Option 2 ID : 6306803353895
Option 3 ID : 6306803353897
Option 4 ID : 6306803353896

Comprehension:

Read the passage given below and answer the questions.

The Tropical Rainforest Heritage of Sumatra (TRHS), Indonesia comprises three widely separated National Parks; Gunung Leuser (GLNP), Kerinci Seblat (KSNP) and Bukit Barisan Selatan (BBSNP), and covers a total area of 2,595,124 hectares, constituting one of the biggest conservation areas in Southeast Asia. The site is located on Bukit Barisan range and holds the greatest potential for long-term conservation of the diverse biota of Sumatra, including many endangered species. The biodiversity of the property is exceptional in terms of both species' numbers and uniqueness. There are an estimated 10,000 species of plants, including 17 endemic genera. Animal diversity in TRHS is also impressive, with 201 mammal species and some 580 species of birds, of which 465 are resident and 21 are endemics. Of the mammal species, 22 are endemic to the Sundaland hotspot and 15 are confined to the Indonesian region, including the endemic Sumatran orangutan. Key mammal species also include the Sumatran tiger, rhino, elephant, and Malayan sun-bear. The TRHS includes the highest volcano in Indonesia, Gunung Kerinci (3,805 m asl) along with many other physical features of exceptional natural beauty, including Lake Gunung Tujuh the highest lake in Southeast Asia, numerous other volcanic and glacial high-altitude lakes, fumaroles, waterfalls, cave systems and steep rocky backdrops. Both Gunung Leuser National Park and Bukit Barisan Selatan National Park contain frontages to the Indian Ocean, making the altitudinal range of the TRHS extend from the highest mountains on Sumatra to sea level. All three protected areas in the TRHS exhibit wide altitudinal zonation of vegetation, from lowland rainforest to montane forest, extending to sub-alpine low forest, scrub and shrub thickets and covering an astounding diversity of ecosystems.

SubQuestion No : 15

Q.15 Select the most appropriate SYNONYM of the word given below.
Confined

- Ans**
- 1. Liberated
 - 2. Unlimited
 - 3. Infinite
 - 4. Restrained

Question ID : 630680856309
Option 1 ID : 6306803353898
Option 2 ID : 6306803353899
Option 3 ID : 6306803353900
Option 4 ID : 6306803353901

Comprehension:

Read the passage given below and answer the questions.

In the past, the traditional approach to teaching was centered on the teacher, who moulded the children into a specific pattern of education. The children played a passive role, absorbing information like a sponge without any connection to their daily lives. The focus was on rote memorization, and students emerged as school leavers with a vast amount of information that they often had to memorize word-for-word. The education system viewed each child as a mere cog in the machine, with no emphasis on individual development.

Today, however, teaching attitudes have undergone a significant shift. While a basic understanding of facts is still necessary for exams and daily life, it is no longer the primary focus. Children are now seen as individuals, and teachers aim to develop each child's full potential by encouraging active participation in learning. Teachers must foster a sense of cooperation with their students so that the learning process is tailored to each child's unique life experiences. Modern teaching also emphasizes creative subjects such as craftwork, music, drama, and woodwork, where practical work is the order of the day, and progress is measured by the end product. Additionally, physical education and a variety of games are provided to promote physical health and provide an outlet for expression.

In conclusion, modern teaching approaches view children as individuals with unique life experiences. The emphasis is on developing the whole personality of the child, with practical work and visual aids to supplement traditional teaching methods. Creative subjects and physical activities are also an essential component of modern teaching. Time will tell whether these new methods will benefit students in the long run.

SubQuestion No : 16

Q.16 Select the most appropriate ANTONYM of the word given below.
Essential

- Ans** 1. Important
 2. Voluntary
 3. Vital
 4. Crucial

Question ID : 630680856316
Option 1 ID : 6306803353922
Option 2 ID : 6306803353923
Option 3 ID : 6306803353925
Option 4 ID : 6306803353924

Comprehension:

Read the passage given below and answer the questions.

In the past, the traditional approach to teaching was centered on the teacher, who moulded the children into a specific pattern of education. The children played a passive role, absorbing information like a sponge without any connection to their daily lives. The focus was on rote memorization, and students emerged as school leavers with a vast amount of information that they often had to memorize word-for-word. The education system viewed each child as a mere cog in the machine, with no emphasis on individual development.

Today, however, teaching attitudes have undergone a significant shift. While a basic understanding of facts is still necessary for exams and daily life, it is no longer the primary focus. Children are now seen as individuals, and teachers aim to develop each child's full potential by encouraging active participation in learning. Teachers must foster a sense of cooperation with their students so that the learning process is tailored to each child's unique life experiences. Modern teaching also emphasizes creative subjects such as craftwork, music, drama, and woodwork, where practical work is the order of the day, and progress is measured by the end product. Additionally, physical education and a variety of games are provided to promote physical health and provide an outlet for expression.

In conclusion, modern teaching approaches view children as individuals with unique life experiences. The emphasis is on developing the whole personality of the child, with practical work and visual aids to supplement traditional teaching methods. Creative subjects and physical activities are also an essential component of modern teaching. Time will tell whether these new methods will benefit students in the long run.

SubQuestion No : 17

Q.17 Select the most appropriate **SYNONYM** of the word given below.
Emphasis

- Ans** 1. Indifferent
 2. Importance
 3. Weakness
 4. Ignorance

Question ID : 630680856314
Option 1 ID : 6306803353917
Option 2 ID : 6306803353916
Option 3 ID : 6306803353915
Option 4 ID : 6306803353914

Comprehension:

Read the passage given below and answer the questions.

In the past, the traditional approach to teaching was centered on the teacher, who moulded the children into a specific pattern of education. The children played a passive role, absorbing information like a sponge without any connection to their daily lives. The focus was on rote memorization, and students emerged as school leavers with a vast amount of information that they often had to memorize word-for-word. The education system viewed each child as a mere cog in the machine, with no emphasis on individual development.

Today, however, teaching attitudes have undergone a significant shift. While a basic understanding of facts is still necessary for exams and daily life, it is no longer the primary focus. Children are now seen as individuals, and teachers aim to develop each child's full potential by encouraging active participation in learning. Teachers must foster a sense of cooperation with their students so that the learning process is tailored to each child's unique life experiences. Modern teaching also emphasizes creative subjects such as craftwork, music, drama, and woodwork, where practical work is the order of the day, and progress is measured by the end product. Additionally, physical education and a variety of games are provided to promote physical health and provide an outlet for expression.

In conclusion, modern teaching approaches view children as individuals with unique life experiences. The emphasis is on developing the whole personality of the child, with practical work and visual aids to supplement traditional teaching methods. Creative subjects and physical activities are also an essential component of modern teaching. Time will tell whether these new methods will benefit students in the long run.

SubQuestion No : 18

Q.18 Identify the most suitable title for the passage.

- Ans** 1. Old teaching methods and their drawbacks
2. Modern Attitudes and Approaches to Teaching
3. The conventional approach to teaching
4. Flexibility of modern teachings

Question ID : **630680856312**
Option 1 ID : **6306803353908**
Option 2 ID : **6306803353906**
Option 3 ID : **6306803353909**
Option 4 ID : **6306803353907**

Comprehension:

Read the passage given below and answer the questions.

In the past, the traditional approach to teaching was centered on the teacher, who moulded the children into a specific pattern of education. The children played a passive role, absorbing information like a sponge without any connection to their daily lives. The focus was on rote memorization, and students emerged as school leavers with a vast amount of information that they often had to memorize word-for-word. The education system viewed each child as a mere cog in the machine, with no emphasis on individual development.

Today, however, teaching attitudes have undergone a significant shift. While a basic understanding of facts is still necessary for exams and daily life, it is no longer the primary focus. Children are now seen as individuals, and teachers aim to develop each child's full potential by encouraging active participation in learning. Teachers must foster a sense of cooperation with their students so that the learning process is tailored to each child's unique life experiences. Modern teaching also emphasizes creative subjects such as craftwork, music, drama, and woodwork, where practical work is the order of the day, and progress is measured by the end product. Additionally, physical education and a variety of games are provided to promote physical health and provide an outlet for expression.

In conclusion, modern teaching approaches view children as individuals with unique life experiences. The emphasis is on developing the whole personality of the child, with practical work and visual aids to supplement traditional teaching methods. Creative subjects and physical activities are also an essential component of modern teaching. Time will tell whether these new methods will benefit students in the long run.

SubQuestion No : 19

Q.19 Select the most appropriate **SYNONYM** of the word given below.
Foster

- Ans** 1. Discourage
 2. Promote
 3. Neglect
 4. Prohibit

Question ID : 630680856315
Option 1 ID : 6306803353920
Option 2 ID : 6306803353921
Option 3 ID : 6306803353918
Option 4 ID : 6306803353919

Comprehension:

Read the passage given below and answer the questions.

In the past, the traditional approach to teaching was centered on the teacher, who moulded the children into a specific pattern of education. The children played a passive role, absorbing information like a sponge without any connection to their daily lives. The focus was on rote memorization, and students emerged as school leavers with a vast amount of information that they often had to memorize word-for-word. The education system viewed each child as a mere cog in the machine, with no emphasis on individual development.

Today, however, teaching attitudes have undergone a significant shift. While a basic understanding of facts is still necessary for exams and daily life, it is no longer the primary focus. Children are now seen as individuals, and teachers aim to develop each child's full potential by encouraging active participation in learning. Teachers must foster a sense of cooperation with their students so that the learning process is tailored to each child's unique life experiences. Modern teaching also emphasizes creative subjects such as craftwork, music, drama, and woodwork, where practical work is the order of the day, and progress is measured by the end product. Additionally, physical education and a variety of games are provided to promote physical health and provide an outlet for expression.

In conclusion, modern teaching approaches view children as individuals with unique life experiences. The emphasis is on developing the whole personality of the child, with practical work and visual aids to supplement traditional teaching methods. Creative subjects and physical activities are also an essential component of modern teaching. Time will tell whether these new methods will benefit students in the long run.

SubQuestion No : 20

Q.20 Select the most appropriate meaning of the word given below.
Significant

- Ans** 1. important or noticeable
 2. something that cannot be achieved
 3. difficult or impossible to notice
 4. to state something as true again

Question ID : 630680856313
Option 1 ID : 6306803353911
Option 2 ID : 6306803353910
Option 3 ID : 6306803353912
Option 4 ID : 6306803353913

Section : Test of Hindi Language and Comprehension 1

Q.1 'आर्थिक तंगी होना" का उचित मुहावरा बताइये।

- Ans** 1. हाथ के तोते उड़ना
 2. हाथ तंग होना
 3. हाथ धोकर पीछे पड़ जाना
 4. होश ठिकाने होना

Question ID : 630680855141
Option 1 ID : 6306803349284
Option 2 ID : 6306803349283
Option 3 ID : 6306803349285
Option 4 ID : 6306803349282

Q.2 "आग बबूला होना " मुहावरे का उचित अर्थ बतायें।

- Ans 1. दिखाई न देना
 2. बहुत गुसा होना
 3. शांत रहना
 4. आंख में देखना

Question ID : 630680854284
Option 1 ID : 6306803345899
Option 2 ID : 6306803345901
Option 3 ID : 6306803345900
Option 4 ID : 6306803345898

Q.3 दिये गये विकल्पों में से रिक्त स्थानों की पूर्ति कीजिये ।

गीता को बेटा _____ है

- Ans 1. हुई
 2. हुआ
 3. हुई होगी
 4. हुआ होगा

Question ID : 630680855125
Option 1 ID : 6306803349219
Option 2 ID : 6306803349221
Option 3 ID : 6306803349220
Option 4 ID : 6306803349218

Q.4 "बिल्ली ने दही गिरा दी।"

इस वाक्य में अशुद्धि पहचान कर शुद्ध वाक्य विकल्पों में से चुने।

- Ans 1. बिल्ली दही गिरा दी।
 2. बिल्ली से दही गिरा दी।
 3. बिल्ली के दही गिरा दी।
 4. बिल्ली ने दही गिरा दिया।

Question ID : 630680855446
Option 1 ID : 6306803350503
Option 2 ID : 6306803350504
Option 3 ID : 6306803350505
Option 4 ID : 6306803350502

Q.5 गीता _____ ग्रन्थ है।

इस वाक्य में रिक्त स्थान की पूर्ति शुद्ध शब्द द्वारा कीजिये

- Ans 1. सर्वशेष्ठ
 2. शर्वश्रेष्ठ
 3. सर्वशेष्ठ
 4. सर्वश्रेष्ठ

Question ID : 630680855148
Option 1 ID : 6306803349310
Option 2 ID : 6306803349313
Option 3 ID : 6306803349311
Option 4 ID : 6306803349312

Q.6 इस काम में _____ नहीं दिखानी चाहिए।

इस वाक्य में रिक्त स्थान की पूर्ति शुद्ध शब्द द्वारा कीजिये

- Ans 1. सिथिलता
 2. शिथिलता
 3. सिथिलता
 4. शिल्थिता

Question ID : 630680855145
Option 1 ID : 6306803349301
Option 2 ID : 6306803349300
Option 3 ID : 6306803349299
Option 4 ID : 6306803349298

Q.7 "ओस चाटे प्यास नहीं बुझती" लोकोक्ति का उचित अर्थ बतायें।

- Ans 1. जरूरत से कम होने पर काम नहीं चलना
 2. मुख किन्तु धनवान
 3. एक कष्ट पर दूसरा कष्ट
 4. दोनों और मुसीबत

Question ID : 630680854285
Option 1 ID : 6306803345903
Option 2 ID : 6306803345905
Option 3 ID : 6306803345902
Option 4 ID : 6306803345904

Q.8 "मैं जूता को पहनता हूँ।"

इसस वाक्य में अतिरिक्त शब्द को हटाने पर निर्मित शुद्ध वाक्य का चयन निम्नलिखित विकल्पों में से करें।

- Ans 1. मैं जूता पहनता हूँ।
 2. मैं जूता से हूँ।
 3. मैं जूता का पहनता हूँ।
 4. मैं जूता से पहनता हूँ।

Question ID : 630680855421
Option 1 ID : 6306803350403
Option 2 ID : 6306803350404
Option 3 ID : 6306803350405
Option 4 ID : 6306803350402

Q.9 निम्नलिखित वाक्यों में से शुद्ध वाक्य का चयन करें।

- Ans 1. माताजी आ रहे है।
 2. आठ - दस सेब खाया।
 3. अच्छे बच्चे रोते नहीं।
 4. उसका अंग-अंग सजाए गए।

Question ID : 630680854265
Option 1 ID : 6306803345822
Option 2 ID : 6306803345825
Option 3 ID : 6306803345823
Option 4 ID : 6306803345824

Q.10 दिये गए वाक्यों में से शुद्ध वाक्य का चयन करें।

- Ans 1. तुलसी द्वारा रामायण लिखा गयी।
 2. मैं आपसे कहता हूँ।
 3. लड़के बहुत तंग करते है।
 4. लोग कहते है, तो कहने दो।

Question ID : 630680855425
Option 1 ID : 6306803350420
Option 2 ID : 6306803350419
Option 3 ID : 6306803350421
Option 4 ID : 6306803350418

Q.11 नेक , अच्छा , सच्चा ,सीधा इत्यादि विशेषण के कौन से भेद हैं ?

- Ans 1. गुणवाचक विशेषण
 2. परिमाणवाचक विशेषण
 3. संबंधवाचक विशेषण
 4. संख्यावाचक विशेषण

Question ID : 630680849941
Option 1 ID : 6306803328993
Option 2 ID : 6306803328995
Option 3 ID : 6306803328996
Option 4 ID : 6306803328994

Q.12 क्रिया का मूल 'धातु' होता है। निम्नलिखित क्रिया पदों में से किस क्रिया पद का धातु "चल" है?

Ans 1. चलना

2. देखना

3. पाना

4. लिखना

Question ID : 630680855761

Option 1 ID : 6306803351749

Option 2 ID : 6306803351746

Option 3 ID : 6306803351748

Option 4 ID : 6306803351747

Q.13 दिये गये विकल्पों में से रिक्त स्थानों की पूर्ति कीजिये ।

सोहन के आँखों में खुशी के _____ थे ।

Ans 1. आँसू

2. नमक

3. जल

4. खून

Question ID : 630680855124

Option 1 ID : 6306803349215

Option 2 ID : 6306803349216

Option 3 ID : 6306803349217

Option 4 ID : 6306803349214

Q.14 मैंने सोनू को एक _____ दी ।

इस वाक्य में रिक्त स्थान की पूर्ति शुद्ध शब्द द्वारा कीजिये

Ans 1. नारंगी

2. नारंगी

3. नरंगी

4. नरांगी

Question ID : 630680849949

Option 1 ID : 6306803329025

Option 2 ID : 6306803329026

Option 3 ID : 6306803329027

Option 4 ID : 6306803329028

Q.15 निम्नलिखित वाक्यों में से अशुद्ध वाक्य का चयन करें।

Ans 1. हम आपसे कहता हूँ।

2. सोहन एक लड़का है।

3. सुनैना एक लड़की है।

4. गाड़ी में बहुत भीड़ है।

Question ID : 630680855424

Option 1 ID : 6306803350417

Option 2 ID : 6306803350414

Option 3 ID : 6306803350415

Option 4 ID : 6306803350416

Q.16 "मेरी आँख में धूल डालना आसान नहीं है।"

दिए गए वाक्य में रेखांकित मुहावरे का उचित अर्थ बताइये।

- Ans
- 1. बाज आना
 - 2. बेसहारा होना
 - 3. आँसू आना
 - 4. धोखा देना

Question ID : 630680855442
Option 1 ID : 6306803350488
Option 2 ID : 6306803350487
Option 3 ID : 6306803350486
Option 4 ID : 6306803350489

Q.17 किसी संज्ञा या सर्वनाम शब्द की विशेषता बताने वाले शब्द को क्या कहते हैं।

- Ans
- 1. वाच्य
 - 2. क्रिया-विशेषण
 - 3. विशेषण
 - 4. क्रिया

Question ID : 630680854280
Option 1 ID : 6306803345884
Option 2 ID : 6306803345883
Option 3 ID : 6306803345885
Option 4 ID : 6306803345882

Q.18 क्रिया का मूल 'धातु' होता है। निम्नलिखित क्रिया पदों में से किस क्रिया पद का धातु "पा" है?

- Ans
- 1. चलना
 - 2. लिखना
 - 3. पाना
 - 4. देखना

Question ID : 630680855435
Option 1 ID : 6306803350461
Option 2 ID : 6306803350459
Option 3 ID : 6306803350460
Option 4 ID : 6306803350458

Q.19 'खरी मजूरी चोखा काम' लोकोक्ति का उचित अर्थ बताइये।

- Ans
- 1. एक काम से दूसरा काम हो जाना
 - 2. पूरा पारिश्रमिक देना और पूरा काम लेना
 - 3. हमेशा सफल नहीं होता
 - 4. सभी प्रकार से लाभ

Question ID : 630680855143
Option 1 ID : 6306803349292
Option 2 ID : 6306803349293
Option 3 ID : 6306803349290
Option 4 ID : 6306803349291

Q.20 निम्नलिखित में से कौन सा शब्द "संख्यावाचक विशेषण" का उदाहरण है?

- Ans 1. और
 2. लाल
 3. चार
 4. कौन

Question ID : 630680855437
Option 1 ID : 6306803350468
Option 2 ID : 6306803350469
Option 3 ID : 6306803350466
Option 4 ID : 6306803350467

Section : Test of Hindi Language and Comprehension 2

Q.1 "चंचु" का तद्भव शब्द चुनें।

- Ans 1. तीता
 2. चूल्हा
 3. भविष्य
 4. चोंच

Question ID : 630680854292
Option 1 ID : 6306803345930
Option 2 ID : 6306803345933
Option 3 ID : 6306803345931
Option 4 ID : 6306803345932

Q.2 निम्नलिखित में से 'पति' का पर्यायावाची शब्द क्या होगा?

- Ans 1. आर्य
 2. विचक्षण
 3. अश्म
 4. बुद्ध

Question ID : 630680854297
Option 1 ID : 6306803345952
Option 2 ID : 6306803345951
Option 3 ID : 6306803345950
Option 4 ID : 6306803345953

Q.3 दिये गये वाक्य का क्रम सही नहीं है। उनके सही क्रम के चार विकल्प दिए गये हैं। उनमें से सही विकल्प चुनिए।

- 1) एक छोटे डिब्बे को
- 2) सेकंड क्लास के
- 3) में उसमें चढ़ गया
- 4) खाली समझकर

- Ans
- 1. 4, 3, 2, 1
 - 2. 3, 2, 1, 4
 - 3. 1, 2, 3, 4
 - 4. 2, 1, 4, 3

Question ID : 630680855750
Option 1 ID : 6306803351703
Option 2 ID : 6306803351705
Option 3 ID : 6306803351704
Option 4 ID : 6306803351702

Q.4 निम्नलिखित में से 'अधुनातन' का विलोम शब्द क्या होगा?

- Ans
- 1. पुरातन
 - 2. अभिज्ञ
 - 3. आधुनिक
 - 4. अनाथ

Question ID : 630680849959
Option 1 ID : 6306803329067
Option 2 ID : 6306803329066
Option 3 ID : 6306803329068
Option 4 ID : 6306803329065

Q.5 "रोहन कुछ नहीं देख सकता है, वह जन्म से अंधा है।"

निम्नलिखित विकल्पों में से रेखांकित शब्द समूहों का अर्थ बताने वाले शब्द का चयन करें।

- Ans
- 1. शाकाहारी
 - 2. पराधीन
 - 3. जन्मांध
 - 4. फलाहारी

Question ID : 630680855778
Option 1 ID : 6306803351816
Option 2 ID : 6306803351814
Option 3 ID : 6306803351815
Option 4 ID : 6306803351817

Q.6 निम्नलिखित वाक्यों में से शुद्ध वाक्य का चयन करें।

- Ans 1. महेश का प्राण पखेरू उड़ गया।
 2. मैं अपना काम स्वयं करता हूँ।
 3. मेरे कहने के बावजूद भी वह किस कारण गए।
 4. ठण्डी बर्फ एवं गर्म आग लाओ।

Question ID : 630680854271
Option 1 ID : 6306803345848
Option 2 ID : 6306803345849
Option 3 ID : 6306803345847
Option 4 ID : 6306803345846

Q.7 निम्नलिखित में से 'गाय' का पर्यायावाची शब्द क्या होगा?

- Ans 1. नासूर
 2. सुरभि
 3. चोरट
 4. नचक

Question ID : 630680855155
Option 1 ID : 6306803349340
Option 2 ID : 6306803349338
Option 3 ID : 6306803349341
Option 4 ID : 6306803349339

Q.8 निम्नलिखित में से "आँखों के सामने" शब्द समूह के अर्थ को कौन-सा शब्द दर्शाता है?

- Ans 1. सुलभ
 2. परमार्थी
 3. शत्रुघ्न
 4. प्रत्यक्ष

Question ID : 630680855777
Option 1 ID : 6306803351812
Option 2 ID : 6306803351810
Option 3 ID : 6306803351811
Option 4 ID : 6306803351813

Q.9 "गोबर" का तत्सम शब्द चुनें ।

- Ans 1. सौत
 2. धोड़ा
 3. पलंग
 4. गोमल

Question ID : 630680849953
Option 1 ID : 6306803329043
Option 2 ID : 6306803329042
Option 3 ID : 6306803329044
Option 4 ID : 6306803329041

Q.10 निम्नलिखित में से 'उत्साह' का विलोम शब्द क्या होगा?

- Ans 1. निरुत्साह
 2. सरल
 3. कठिन
 4. पतन

Question ID : 630680854300
Option 1 ID : 6306803345963
Option 2 ID : 6306803345965
Option 3 ID : 6306803345962
Option 4 ID : 6306803345964

Comprehension:

नीचे दिए गए गद्यांश को ध्यानपूर्वक पढ़ें और बिना किसी सामान्य ज्ञान एवं साहित्य के तथ्यों की परवाह किए, केवल नीचे दिए गए गद्यांश के आधार पर ही प्रश्न के लिए सही उत्तर का चयन करें।

“आज़ाद भारत में दुर्गा भाभी को उपेक्षा और आदर दोनों मिले। सरकारों ने उन्हें पैसों से तोलना चाहा। कई वर्ष पहले पंजाब में उनके सम्मान में आयोजित एक समारोह में तत्कालीन मुख्यमंत्री दरबारा सिंह ने उन्हें 51 हजार रुपये भेंट किए। भाभी ने वे रुपये वहीं वापस कर दिए और कहा-- “जब हम आज़ादी के लिए संघर्ष कर रहे थे, उस समय किसी व्यक्तिगत लाभ या उपलब्धि की उपेक्षा नहीं थी। केवल देश की स्वतंत्रता ही हमारा ध्येय था। उस ध्येय पथ पर हमारे कितने साथी अपना सर्वस्व न्योछावर कर गए, शहीद हो गए। मैं चाहती हूँ कि मुझे जो 51 हजार रुपये दिए गए हैं, उस धन से यहाँ शहीदों का एक बड़ा स्मारक बना दिया जाए, जिसमें क्रांतिकारी आंदोलन के इतिहास का अध्ययन और अध्यापन हो, क्योंकि देश की नई पीढ़ी को इसकी बहुत आवश्यकता है।” सन् 1937 में जब कुछ क्रांतिकारी साथियों ने गाज़ियाबाद तार भेज कर भाभी से चुनाव लड़ने की प्रार्थना की थी तब भाभी ने तार से उत्तर दिया-- “चुनाव में मेरी कोई दिलचस्पी नहीं है। अतः चुनाव लड़ने का प्रश्न ही नहीं उठता। “मुल्क के स्वाधीन होने के बाद भी राजनीति भाभी को रास नहीं आई। उनके शीर्ष नेताओं से निकट संपर्क होने के बाद भी वे संसदीय राजनीति से दूर रहीं। शायद इसलिए अपने जीवन का शेष हिस्सा नई पीढ़ी के निर्माण के लिए अपने विद्यालय को उन्होंने समर्पित कर दिया।”

SubQuestion No : 11

Q.11 दुर्गा भाभी को किसने 51 हजार रुपये भेंट किए?

- Ans 1. भारत के तत्कालीन राष्ट्रपति ने
 2. हरियाणा के तत्कालीन मुख्यमंत्री ने
 3. भारत के तत्कालीन प्रधानमंत्री ने
 4. पंजाब के तत्कालीन मुख्यमंत्री ने

Question ID : 630680846656
Option 1 ID : 6306803316365
Option 2 ID : 6306803316367
Option 3 ID : 6306803316364
Option 4 ID : 6306803316366

Comprehension:

नीचे दिए गए गद्यांश को ध्यानपूर्वक पढ़ें और बिना किसी सामान्य ज्ञान एवं साहित्य के तथ्यों की परवाह किए, केवल नीचे दिए गए गद्यांश के आधार पर ही प्रश्न के लिए सही उत्तर का चयन करें।

“आज़ाद भारत में दुर्गा भाभी को उपेक्षा और आदर दोनों मिले। सरकारों ने उन्हें पैसों से तोलना चाहा। कई वर्ष पहले पंजाब में उनके सम्मान में आयोजित एक समारोह में तत्कालीन मुख्यमंत्री दरबारा सिंह ने उन्हें 51 हजार रुपये भेंट किए। भाभी ने वे रुपये वहीं वापस कर दिए और कहा- “जब हम आज़ादी के लिए संघर्ष कर रहे थे, उस समय किसी व्यक्तिगत लाभ या उपलब्धि की उपेक्षा नहीं थी। केवल देश की स्वतंत्रता ही हमारा ध्येय था। उस ध्येय पथ पर हमारे कितने साथी अपना सर्वस्व न्योछावर कर गए, शहीद हो गए। मैं चाहती हूँ कि मुझे जो 51 हजार रुपये दिए गए हैं, उस धन से यहाँ शहीदों का एक बड़ा स्मारक बना दिया जाय, जिसमें क्रांतिकारी आंदोलन के इतिहास का अध्ययन और अध्यापन हो, क्योंकि देश की नई पीढ़ी को इसकी बहुत आवश्यकता है।” सन् 1937 में जब कुछ क्रांतिकारी साथियों ने गाज़ियाबाद तार भेज कर भाभी से चुनाव लड़ने की प्रार्थना की थी तब भाभी ने तार से उत्तर दिया- “चुनाव में मेरी कोई दिलचस्पी नहीं है। अतः चुनाव लड़ने का प्रश्न ही नहीं उठता। “मुल्क के स्वाधीन होने के बाद भी राजनीति भाभी को रास नहीं आई। उनके शीर्ष नेताओं से निकट संपर्क होने के बाद भी वे संसदीय राजनीति से दूर रहीं। शायद इसलिए अपने जीवन का शेष हिस्सा नई पीढ़ी के निर्माण के लिए अपने विद्यालय को उन्होंने समर्पित कर दिया।”

SubQuestion No : 12

Q.12 दुर्गा भाभी ने अपने जीवन का शेष हिस्सा किस कार्य को समर्पित किया?

- Ans 1. क्रांतिकारी आंदोलन के इतिहास का अध्ययन करने में
2. नई पीढ़ी के निर्माण के लिए
3. राजनीति द्वारा लोगों का विकास करने में
4. स्मारक बनवाने में

Question ID : 630680846658
Option 1 ID : 6306803316375
Option 2 ID : 6306803316373
Option 3 ID : 6306803316372
Option 4 ID : 6306803316374

Comprehension:

नीचे दिए गए गद्यांश को ध्यानपूर्वक पढ़ें और बिना किसी सामान्य ज्ञान एवं साहित्य के तथ्यों की परवाह किए, केवल नीचे दिए गए गद्यांश के आधार पर ही प्रश्न के लिए सही उत्तर का चयन करें।

“आज़ाद भारत में दुर्गा भाभी को उपेक्षा और आदर दोनों मिले। सरकारों ने उन्हें पैसों से तोलना चाहा। कई वर्ष पहले पंजाब में उनके सम्मान में आयोजित एक समारोह में तत्कालीन मुख्यमंत्री दरबारा सिंह ने उन्हें 51 हजार रुपये भेंट किए। भाभी ने वे रुपये वहीं वापस कर दिए और कहा- “जब हम आज़ादी के लिए संघर्ष कर रहे थे, उस समय किसी व्यक्तिगत लाभ या उपलब्धि की उपेक्षा नहीं थी। केवल देश की स्वतंत्रता ही हमारा ध्येय था। उस ध्येय पथ पर हमारे कितने साथी अपना सर्वस्व न्योछावर कर गए, शहीद हो गए। मैं चाहती हूँ कि मुझे जो 51 हजार रुपये दिए गए हैं, उस धन से यहाँ शहीदों का एक बड़ा स्मारक बना दिया जाय, जिसमें क्रांतिकारी आंदोलन के इतिहास का अध्ययन और अध्यापन हो, क्योंकि देश की नई पीढ़ी को इसकी बहुत आवश्यकता है।” सन् 1937 में जब कुछ क्रांतिकारी साथियों ने गाज़ियाबाद तार भेज कर भाभी से चुनाव लड़ने की प्रार्थना की थी तब भाभी ने तार से उत्तर दिया- “चुनाव में मेरी कोई दिलचस्पी नहीं है। अतः चुनाव लड़ने का प्रश्न ही नहीं उठता। “मुल्क के स्वाधीन होने के बाद भी राजनीति भाभी को रास नहीं आई। उनके शीर्ष नेताओं से निकट संपर्क होने के बाद भी वे संसदीय राजनीति से दूर रहीं। शायद इसलिए अपने जीवन का शेष हिस्सा नई पीढ़ी के निर्माण के लिए अपने विद्यालय को उन्होंने समर्पित कर दिया।”

SubQuestion No : 13

Q.13 दुर्गा भाभी को पहली बार चुनाव लड़ने का प्रस्ताव कब आया था?

- Ans 1. 1929 में
2. 1945 में
3. 1937 में
4. 1951 में

Join Telegram Group "HaryanaJobs.in"

Question ID : 630680846657
Option 1 ID : 6306803316368
Option 2 ID : 6306803316370
Option 3 ID : 6306803316369
Option 4 ID : 6306803316371

Comprehension:

नीचे दिए गए गद्यांश को ध्यानपूर्वक पढ़ें और बिना किसी सामान्य ज्ञान एवं साहित्य के तथ्यों की परवाह किए, केवल नीचे दिए गए गद्यांश के आधार पर ही प्रश्न के लिए सही उत्तर का चयन करें।

“आज़ाद भारत में दुर्गा भाभी को उपेक्षा और आदर दोनों मिले। सरकारों ने उन्हें पैसों से तोलना चाहा। कई वर्ष पहले पंजाब में उनके सम्मान में आयोजित एक समारोह में तत्कालीन मुख्यमंत्री दरबारा सिंह ने उन्हें 51 हजार रुपये भेंट किए। भाभी ने वे रुपये वहीं वापस कर दिए और कहा- “जब हम आज़ादी के लिए संघर्ष कर रहे थे, उस समय किसी व्यक्तिगत लाभ या उपलब्धि की उपेक्षा नहीं थी। केवल देश की स्वतंत्रता ही हमारा ध्येय था। उस ध्येय पथ पर हमारे कितने साथी अपना सर्वस्व न्योछावर कर गए, शहीद हो गए। मैं चाहती हूँ कि मुझे जो 51 हजार रुपये दिए गए हैं, उस धन से यहाँ शहीदों का एक बड़ा स्मारक बना दिया जाय, जिसमें क्रांतिकारी आंदोलन के इतिहास का अध्ययन और अध्यापन हो, क्योंकि देश की नई पीढ़ी को इसकी बहुत आवश्यकता है।” सन् 1937 में जब कुछ क्रांतिकारी साथियों ने गाज़ियाबाद तार भेज कर भाभी से चुनाव लड़ने की प्रार्थना की थी तब भाभी ने तार से उत्तर दिया- “चुनाव में मेरी कोई दिलचस्पी नहीं है। अतः चुनाव लड़ने का प्रश्न ही नहीं उठता। “मुल्क के स्वाधीन होने के बाद भी राजनीति भाभी को रास नहीं आई। उनके शीर्ष नेताओं से निकट संपर्क होने के बाद भी वे संसदीय राजनीति से दूर रहीं। शायद इसलिए अपने जीवन का शेष हिस्सा नई पीढ़ी के निर्माण के लिए अपने विद्यालय को उन्होंने समर्पित कर दिया।”

SubQuestion No : 14

Q.14 'मुल्क' शब्द का उचित अर्थ निम्नलिखित में से कौन नहीं है?

- Ans
- 1. प्रांत
 - 2. परिवार
 - 3. जिला
 - 4. वतन

Question ID : 630680846659
Option 1 ID : 6306803316378
Option 2 ID : 6306803316379
Option 3 ID : 6306803316376
Option 4 ID : 6306803316377

Comprehension:

नीचे दिए गए गद्यांश को ध्यानपूर्वक पढ़ें और बिना किसी सामान्य ज्ञान एवं साहित्य के तथ्यों की परवाह किए, केवल नीचे दिए गए गद्यांश के आधार पर ही प्रश्न के लिए सही उत्तर का चयन करें।

“आज़ाद भारत में दुर्गा भाभी को उपेक्षा और आदर दोनों मिले। सरकारों ने उन्हें पैसों से तोलना चाहा। कई वर्ष पहले पंजाब में उनके सम्मान में आयोजित एक समारोह में तत्कालीन मुख्यमंत्री दरबारा सिंह ने उन्हें 51 हजार रुपये भेंट किए। भाभी ने वे रुपये वहीं वापस कर दिए और कहा- “जब हम आज़ादी के लिए संघर्ष कर रहे थे, उस समय किसी व्यक्तिगत लाभ या उपलब्धि की उपेक्षा नहीं थी। केवल देश की स्वतंत्रता ही हमारा ध्येय था। उस ध्येय पथ पर हमारे कितने साथी अपना सर्वस्व न्योछावर कर गए, शहीद हो गए। मैं चाहती हूँ कि मुझे जो 51 हजार रुपये दिए गए हैं, उस धन से यहाँ शहीदों का एक बड़ा स्मारक बना दिया जाय, जिसमें क्रांतिकारी आंदोलन के इतिहास का अध्ययन और अध्यापन हो, क्योंकि देश की नई पीढ़ी को इसकी बहुत आवश्यकता है।” सन् 1937 में जब कुछ क्रांतिकारी साथियों ने गाज़ियाबाद तार भेज कर भाभी से चुनाव लड़ने की प्रार्थना की थी तब भाभी ने तार से उत्तर दिया- “चुनाव में मेरी कोई दिलचस्पी नहीं है। अतः चुनाव लड़ने का प्रश्न ही नहीं उठता। “मुल्क के स्वाधीन होने के बाद भी राजनीति भाभी को रास नहीं आई। उनके शीर्ष नेताओं से निकट संपर्क होने के बाद भी वे संसदीय राजनीति से दूर रहीं। शायद इसलिए अपने जीवन का शेष हिस्सा नई पीढ़ी के निर्माण के लिए अपने विद्यालय को उन्होंने समर्पित कर दिया।”

SubQuestion No : 15

Q.15 दुर्गा भाभी ने 51 हजार रुपये का क्या किया?

- Ans
- 1. शहीदों का एक बड़ा स्मारक बनवाने के लिए दान में दिया
 - 2. पर्यावरण के संरक्षण में खर्च किया
 - 3. क्रांतिकारी आंदोलन के इतिहास के प्रकाशन में खर्च किया
 - 4. नई पीढ़ी के निर्माण के लिए अपने विद्यालय को दान दिया

Question ID : 630680846660
Option 1 ID : 6306803316382
Option 2 ID : 6306803316380
Option 3 ID : 6306803316383
Option 4 ID : 6306803316381

Comprehension:

नीचे दिए गए गद्यांश को ध्यानपूर्वक पढ़ें और बिना किसी सामान्य ज्ञान एवं साहित्य के तथ्यों की परवाह किए, केवल नीचे दिए गए गद्यांश के आधार पर ही प्रश्न के लिए सही उत्तर का चयन करें।

“सलीम अली जैसा ‘बर्ड वाचर’ शायद ही कोई हुआ हो। लेकिन एकांत के क्षणों में सलीम अली बिना दूरबीन भी देखे गए हैं। दूर क्षितिज तक फैली ज़मीन और झुके आसमान को छूने वाली नज़रों में कुछ-कुछ वैसा ही जादू था, जो प्रकृति को अपने घेरे में बाँध लेता है। सलीम अली उन लोगों में थे जो प्रकृति के प्रभाव में आने की बजाए प्रकृति को अपने प्रभाव में लाने के कायल होते हैं। उनके लिए प्रकृति में हर तरफ़ एक हँसती-खेलती रहस्य भरी दुनिया पसरी थी। यह दुनिया उन्होंने बड़ी मेहनत से अपने लिए गढ़ी थी। इसके गढ़ने में उनकी जीवन-साथी तहमीना ने काफ़ी मदद पहुँचाई थी। तहमीना स्कूल दिनों में उनकी सहपाठी रही थीं। अपने लंबे रोमांचकारी जीवन में ढेर सारे अनुभवों के मालिक सलीम अली एक दिन केरल की ‘साइलेंट वैली’ को रेगिस्तान हवा के झोंकों से बचाने का अनुरोध ले कर चौधरी चरण सिंह से मिले थे। वे उस समय प्रधानमंत्री थे। चौधरी साहब गाँव की मिट्टी पर पड़ने वाली पानी की पहली बूँद का असर जानने वाले नेता थे। पर्यावरण के संभावित खतरों का जो चित्र सलीम अली ने उनके सामने रखा, उसने उनकी आँखें नम कर दी थीं।”

SubQuestion No : 16

Q.16 सलीम अली की नज़रों में किस प्रकार का जादू था?

- Ans 1. प्रकृति को अपने घेरे में बाँध लेने वाला
2. दुनिया के घेरे में बांध जाने वाला
3. रहस्य भरी दुनिया गढ़ने वाला
4. सम्मोहन करने वाला

Question ID : 630680846653
Option 1 ID : 6306803316359
Option 2 ID : 6306803316357
Option 3 ID : 6306803316358
Option 4 ID : 6306803316356

Comprehension:

नीचे दिए गए गद्यांश को ध्यानपूर्वक पढ़ें और बिना किसी सामान्य ज्ञान एवं साहित्य के तथ्यों की परवाह किए, केवल नीचे दिए गए गद्यांश के आधार पर ही प्रश्न के लिए सही उत्तर का चयन करें।

“सलीम अली जैसा ‘बर्ड वाचर’ शायद ही कोई हुआ हो। लेकिन एकांत के क्षणों में सलीम अली बिना दूरबीन भी देखे गए हैं। दूर क्षितिज तक फैली ज़मीन और झुके आसमान को छूने वाली नज़रों में कुछ-कुछ वैसा ही जादू था, जो प्रकृति को अपने घेरे में बाँध लेता है। सलीम अली उन लोगों में थे जो प्रकृति के प्रभाव में आने की बजाए प्रकृति को अपने प्रभाव में लाने के कायल होते हैं। उनके लिए प्रकृति में हर तरफ़ एक हँसती-खेलती रहस्य भरी दुनिया पसरी थी। यह दुनिया उन्होंने बड़ी मेहनत से अपने लिए गढ़ी थी। इसके गढ़ने में उनकी जीवन-साथी तहमीना ने काफ़ी मदद पहुँचाई थी। तहमीना स्कूल दिनों में उनकी सहपाठी रही थीं। अपने लंबे रोमांचकारी जीवन में ढेर सारे अनुभवों के मालिक सलीम अली एक दिन केरल की ‘साइलेंट वैली’ को रेगिस्तान हवा के झोंकों से बचाने का अनुरोध ले कर चौधरी चरण सिंह से मिले थे। वे उस समय प्रधानमंत्री थे। चौधरी साहब गाँव की मिट्टी पर पड़ने वाली पानी की पहली बूँद का असर जानने वाले नेता थे। पर्यावरण के संभावित खतरों का जो चित्र सलीम अली ने उनके सामने रखा, उसने उनकी आँखें नम कर दी थीं।”

SubQuestion No : 17

Q.17 केरल की ‘साइलेंट वैली’ को रेगिस्तान हवा के झोंकों से बचाने का अनुरोध ले कर सलीम अली किसके पास गए थे ?

- Ans 1. तत्कालीन प्रधानमंत्री के पास
2. राष्ट्रपति के पास
3. राजस्थान के मुख्यमंत्री के पास
4. केरल के मुख्यमंत्री के पास

Question ID : 630680846651
Option 1 ID : 6306803316349
Option 2 ID : 6306803316348
Option 3 ID : 6306803316351
Option 4 ID : 6306803316350

Comprehension:

नीचे दिए गए गद्यांश को ध्यानपूर्वक पढ़ें और बिना किसी सामान्य ज्ञान एवं साहित्य के तथ्यों की परवाह किए, केवल नीचे दिए गए गद्यांश के आधार पर ही प्रश्न के लिए सही उत्तर का चयन करें।

“सलीम अली जैसा ‘बर्ड वाचर’ शायद ही कोई हुआ हो। लेकिन एकांत के क्षणों में सलीम अली बिना दूरबीन भी देखे गए हैं। दूर क्षितिज तक फैली ज़मीन और झुके आसमान को छूने वाली नज़रों में कुछ-कुछ वैसा ही जादू था, जो प्रकृति को अपने घेरे में बाँध लेता है। सलीम अली उन लोगों में थे जो प्रकृति के प्रभाव में आने की बजाए प्रकृति को अपने प्रभाव में लाने के कायल होते हैं। उनके लिए प्रकृति में हर तरफ़ एक हँसती-खेलती रहस्य भरी दुनिया पसरी थी। यह दुनिया उन्होंने बड़ी मेहनत से अपने लिए गढ़ी थी। इसके गढ़ने में उनकी जीवन-साथी तहमीना ने काफ़ी मदद पहुँचाई थी। तहमीना स्कूल दिनों में उनकी सहपाठी रही थीं। अपने लंबे रोमांचकारी जीवन में ढेर सारे अनुभवों के मालिक सलीम अली एक दिन केरल की ‘साइलेंट वैली’ को रेगिस्तान हवा के झोंकों से बचाने का अनुरोध ले कर चौधरी चरण सिंह से मिले थे। वे उस समय प्रधानमंत्री थे। चौधरी साहब गाँव की मिट्टी पर पड़ने वाली पानी की पहली बूँद का असर जानने वाले नेता थे। पर्यावरण के संभावित खतरों का जो चित्र सलीम अली ने उनके सामने रखा, उसने उनकी आँखें नम कर दी थीं।”

SubQuestion No : 18

Q.18 किस बात ने चौधरी चरण सिंह की आँखें नम कर दी?

- Ans
- 1. सलीम अली की रहस्य भरी दुनिया के सच ने
 - 2. भारत में बढ़ते भ्रष्टाचार ने
 - 3. सलीम अली की मृत्यु ने
 - 4. पर्यावरण के संभावित खतरों ने

Question ID : 630680846654
Option 1 ID : 6306803316362
Option 2 ID : 6306803316363
Option 3 ID : 6306803316361
Option 4 ID : 6306803316360

Comprehension:

नीचे दिए गए गद्यांश को ध्यानपूर्वक पढ़ें और बिना किसी सामान्य ज्ञान एवं साहित्य के तथ्यों की परवाह किए, केवल नीचे दिए गए गद्यांश के आधार पर ही प्रश्न के लिए सही उत्तर का चयन करें।

“सलीम अली जैसा ‘बर्ड वाचर’ शायद ही कोई हुआ हो। लेकिन एकांत के क्षणों में सलीम अली बिना दूरबीन भी देखे गए हैं। दूर क्षितिज तक फैली ज़मीन और झुके आसमान को छूने वाली नज़रों में कुछ-कुछ वैसा ही जादू था, जो प्रकृति को अपने घेरे में बाँध लेता है। सलीम अली उन लोगों में थे जो प्रकृति के प्रभाव में आने की बजाए प्रकृति को अपने प्रभाव में लाने के कायल होते हैं। उनके लिए प्रकृति में हर तरफ़ एक हँसती-खेलती रहस्य भरी दुनिया पसरी थी। यह दुनिया उन्होंने बड़ी मेहनत से अपने लिए गढ़ी थी। इसके गढ़ने में उनकी जीवन-साथी तहमीना ने काफ़ी मदद पहुँचाई थी। तहमीना स्कूल दिनों में उनकी सहपाठी रही थीं। अपने लंबे रोमांचकारी जीवन में ढेर सारे अनुभवों के मालिक सलीम अली एक दिन केरल की ‘साइलेंट वैली’ को रेगिस्तान हवा के झोंकों से बचाने का अनुरोध ले कर चौधरी चरण सिंह से मिले थे। वे उस समय प्रधानमंत्री थे। चौधरी साहब गाँव की मिट्टी पर पड़ने वाली पानी की पहली बूँद का असर जानने वाले नेता थे। पर्यावरण के संभावित खतरों का जो चित्र सलीम अली ने उनके सामने रखा, उसने उनकी आँखें नम कर दी थीं।”

SubQuestion No : 19

Q.19 चौधरी चरण सिंह किस प्रकार के नेता थे?

- Ans
- 1. शहरी जीवनशैली के विरोधी
 - 2. पर्यावरण के विरुद्ध आधुनिकता के समर्थक
 - 3. शहरी जीवनशैली वाले
 - 4. ग्रामीण जीवनशैली वाले

Question ID : 630680846652
Option 1 ID : 6306803316355
Option 2 ID : 6306803316353
Option 3 ID : 6306803316352
Option 4 ID : 6306803316354

Comprehension:

नीचे दिए गए गद्यांश को ध्यानपूर्वक पढ़ें और बिना किसी सामान्य ज्ञान एवं साहित्य के तथ्यों की परवाह किए, केवल नीचे दिए गए गद्यांश के आधार पर ही प्रश्न के लिए सही उत्तर का चयन करें।

“सलीम अली जैसा ‘बर्ड वाचर’ शायद ही कोई हुआ हो। लेकिन एकांत के क्षणों में सलीम अली बिना दूरबीन भी देखे गए हैं। दूर क्षितिज तक फैली ज़मीन और झुके आसमान को छूने वाली नज़रों में कुछ-कुछ वैसा ही जादू था, जो प्रकृति को अपने घेरे में बाँध लेता है। सलीम अली उन लोगों में थे जो प्रकृति के प्रभाव में आने की बजाए प्रकृति को अपने प्रभाव में लाने के कायल होते हैं। उनके लिए प्रकृति में हर तरफ़ एक हँसती-खेलती रहस्य भरी दुनिया पसरी थी। यह दुनिया उन्होंने बड़ी मेहनत से अपने लिए गढ़ी थी। इसके गढ़ने में उनकी जीवन-साथी तहमीना ने काफ़ी मदद पहुँचाई थी। तहमीना स्कूल दिनों में उनकी सहपाठी रही थीं। अपने लंबे रोमांचकारी जीवन में ढेर सारे अनुभवों के मालिक सलीम अली एक दिन केरल की ‘साइलेंट वैली’ को रेगिस्तान हवा के झोंकों से बचाने का अनुरोध ले कर चौधरी चरण सिंह से मिले थे। वे उस समय प्रधानमंत्री थे। चौधरी साहब गाँव की मिट्टी पर पड़ने वाली पानी की पहली बूँद का असर जानने वाले नेता थे। पर्यावरण के संभावित खतरों का जो चित्र सलीम अली ने उनके सामने रखा, उसने उनकी आँखें नम कर दी थीं।”

SubQuestion No : 20

Q.20 सलीम अली जिसने एक हँसती-खेलती रहस्य भरी दुनिया अपने आस-पास गढ़ी थी, उसमें उनकी किसने मदद की थी?

- Ans
- 1. उनके मित्रों ने
 - 2. उनके स्कूल ने
 - 3. उनकी जीवन साथी तहमीना ने
 - 4. उनके माता-पिता ने

Question ID : 630680846650
Option 1 ID : 6306803316345
Option 2 ID : 6306803316347
Option 3 ID : 6306803316344
Option 4 ID : 6306803316346

Join Telegram Group "HaryanaJobs.in"