

Education Consultant India Ltd.

Notations :

- 1.Options shown in green color and with ✓ icon are correct.
- 2.Options shown in red color and with ✗ icon are incorrect.

Question Paper Name :	PGT Economics- Male
Subject Name :	PGT-Economics (Male)
Creation Date :	2021-07-17 20:37:04
Duration :	180
Total Marks :	300
Display Marks:	Yes
Calculator :	None
Magnifying Glass Required? :	No
Ruler Required? :	No
Eraser Required? :	No
Scratch Pad Required? :	No
Rough Sketch/Notepad Required? :	No
Protractor Required? :	No
Show Watermark on Console? :	Yes
Highlighter :	No
Auto Save on Console? (SA type of questions will be always auto saved) :	No

Mental Ability

Group Number :	1
Group Id :	540626489
Group Maximum Duration :	0
Group Minimum Duration :	0

Show Attended Group? :	No
Edit Attended Group? :	No
Break time :	0
Group Marks :	20
Is this Group for Examiner? :	No

Mental Ability

Section Id :	540626663
Section Number :	1
Section type :	Online
Mandatory or Optional :	Mandatory
Number of Questions :	20
Number of Questions to be attempted :	20
Section Marks :	20
Enable Mark as Answered Mark for Review and Clear Response :	Yes
Sub-Section Number :	1
Sub-Section Id :	540626797
Question Shuffling Allowed :	Yes

Question Number : 1 Question Id : 54062614488 Question Type : MCQ Option Shuffling : Yes Is Question Mandatory : No Option Orientation : Vertical

Correct Marks : 1 Wrong Marks : 0.25

A series is given with one term missing. Select the correct alternative from the given ones that will complete the series.

RNA, SLD, TJG, ?, VFM

Options :

1. ✘ UIJ
2. ✔ UHJ
3. ✘ UHI
4. ✘ UGJ

Question Number : 1 Question Id : 54062614488 Question Type : MCQ Option Shuffling : Yes Is Question Mandatory : No Option

Orientation : Vertical

Correct Marks : 1 Wrong Marks : 0.25

एक अनुक्रम दिया गया है, जिसमें से एक पद लुप्त है। दिए गए विकल्पों में से वह सही विकल्प चुनिए, जो अनुक्रम को पूरा करे।

RNA, SLD, TJG, ?, VFM

Options :

1. ✘ UIJ
2. ✔ UHJ
3. ✘ UHI
4. ✘ UGJ

Question Number : 2 Question Id : 54062614489 Question Type : MCQ Option Shuffling : Yes Is Question Mandatory : No Option

Orientation : Vertical

Correct Marks : 1 Wrong Marks : 0.25

A series is given with one term missing. Select the correct alternative from the given ones that will complete the series.

VLM47, ZGH41, DBC9, ?, LRS49

Options :

1. ✘ HWX57
2. ✘ HIX41
3. ✘ HXI41
4. ✔ HWX55

Question Number : 2 Question Id : 54062614489 Question Type : MCQ Option Shuffling : Yes Is Question Mandatory : No Option

Orientation : Vertical

Correct Marks : 1 Wrong Marks : 0.25

एक अनुक्रम दिया गया है, जिसमें से एक पद लुप्त है। दिए गए विकल्पों में से वह सही विकल्प चुनिए, जो अनुक्रम को पूरा करे।

VLM47, ZGH41, DBC9, ?, LRS49

Options :

1. ✘ HWX57
2. ✘ HIX41
3. ✘ HXI41

4. ✓ HWX55

Question Number : 3 Question Id : 54062614490 Question Type : MCQ Option Shuffling : Yes Is Question Mandatory : No Option Orientation : Vertical

Correct Marks : 1 Wrong Marks : 0.25

In the following question, select the odd letter/letters from the given alternatives.

Options :

1. ✗ GKO

2. ✗ NRV

3. ✗ AEI

4. ✓ BFK

Question Number : 3 Question Id : 54062614490 Question Type : MCQ Option Shuffling : Yes Is Question Mandatory : No Option Orientation : Vertical

Correct Marks : 1 Wrong Marks : 0.25

निम्नलिखित प्रश्न में दिए गए विकल्पों में से विषम अक्षर/अक्षरों को चुनिए।

Options :

1. ✗ GKO

2. ✗ NRV

3. ✗ AEI

4. ✓ BFK

Question Number : 4 Question Id : 54062614491 Question Type : MCQ Option Shuffling : Yes Is Question Mandatory : No Option Orientation : Vertical

Correct Marks : 1 Wrong Marks : 0.25

In the following question, select the related letters from the given alternatives.

AS : DX :: RK : ?

Options :

1. ✗ VQ

2. ✗ UQ

3. ✓ UP

4. ✖ VP

Question Number : 4 Question Id : 54062614491 Question Type : MCQ Option Shuffling : Yes Is Question Mandatory : No Option Orientation : Vertical

Correct Marks : 1 Wrong Marks : 0.25

निम्नलिखित प्रश्न में दिए गए विकल्पों में से संबंधित अक्षरों को चुनिए।

AS : DX :: RK : ?

Options :

1. ✖ VQ

2. ✖ UQ

3. ✔ UP

4. ✖ VP

Question Number : 5 Question Id : 54062614492 Question Type : MCQ Option Shuffling : Yes Is Question Mandatory : No Option Orientation : Vertical

Correct Marks : 1 Wrong Marks : 0.25

In the following question, a group of letters is given. The letters of each group are related with the letters of the same group by some Logic/Rule/Relation. From the given alternatives, select a group of letters which follows the same Logic/Rule/Relation.

(AMP, GHW, MCD)

Options :

1. ✖ (LCW, RXD, XSL)

2. ✖ (MKB, SFI, XAP)

3. ✔ (IGT, OBA, UWH)

4. ✖ (OPQ, UKX, AEE)

Question Number : 5 Question Id : 54062614492 Question Type : MCQ Option Shuffling : Yes Is Question Mandatory : No Option Orientation : Vertical

Correct Marks : 1 Wrong Marks : 0.25

निम्नलिखित प्रश्न में, अक्षरों का एक समूह दिया गया है। प्रत्येक समूह के अक्षर उसी समूह के अक्षरों के साथ किस तर्क/नियम/संबंध से संबंधित है। दिये गए विकल्पों में से अक्षरों को एक समूह को चुनिए जो समान तर्क/नियम/संबंध का अनुसरण करता हो।

(AMP, GHW, MCD)

Options :

1. ✖ (LCW, RXD, XSL)
2. ✖ (MKB, SFI, XAP)
3. ✔ (IGT, OBA, UWH)
4. ✖ (OPQ, UKX, AEE)

Question Number : 6 Question Id : 54062614493 Question Type : MCQ Option Shuffling : Yes Is Question Mandatory : No Option Orientation : Vertical

Correct Marks : 1 Wrong Marks : 0.25

In a certain code language, 'GA + MB' is written as '23', 'TO + LK' is written as '58'. What is the code for 'GR + AZ' in that code language?

Options :

1. ✖ 48
2. ✖ 57
3. ✖ 47
4. ✔ 52

Question Number : 6 Question Id : 54062614493 Question Type : MCQ Option Shuffling : Yes Is Question Mandatory : No Option Orientation : Vertical

Correct Marks : 1 Wrong Marks : 0.25

एक विशिष्ट कोड भाषा में, 'GA + MB' को '23' लिखा जाता है, 'TO + LK' को '58' लिखा जाता है। इस कोड भाषा में 'GR + AZ' का कोड क्या है?

Options :

1. ✖ 48
2. ✖ 57
3. ✖ 47
4. ✔ 52

Question Number : 7 Question Id : 54062614494 Question Type : MCQ Option Shuffling : Yes Is Question Mandatory : No Option Orientation : Vertical

Correct Marks : 1 Wrong Marks : 0.25

Seven girls A, B, C, D, E, F and G are sitting around a circular table facing towards the centre (not necessarily in the same order). A is third to

the left of G. D is to the immediate left of A. B is second to the left of F. F is not an immediate neighbour of E. Who is sitting third to the left of C?

Options :

1. ✘ A
2. ✘ E
3. ✘ D
4. ✔ B

Question Number : 7 Question Id : 54062614494 Question Type : MCQ Option Shuffling : Yes Is Question Mandatory : No Option Orientation : Vertical

Correct Marks : 1 Wrong Marks : 0.25

सात लड़कियाँ A, B, C, D, E, F तथा G केंद्र की ओर मुख करके एक वृत्ताकार मेज के इर्द-गिर्द बैठी हुई हैं (जरूरी नहीं की इसी क्रम में हो)। A, G के बायीं ओर तीसरे स्थान पर है। D, A के तुरंत बायीं ओर है। B, F के बायीं ओर दूसरे स्थान पर है। F, E की निकटतम पड़ोसी नहीं है। C के बायीं ओर तीसरे स्थान पर कौन बैठी हुई है?

Options :

1. ✘ A
2. ✘ E
3. ✘ D
4. ✔ B

Question Number : 8 Question Id : 54062614495 Question Type : MCQ Option Shuffling : Yes Is Question Mandatory : No Option Orientation : Vertical

Correct Marks : 1 Wrong Marks : 0.25

Marks of six girls F, L, M, P, R and T are compared. Marks of only two girls are less than P. Marks of R and T are more than P but less than F. Marks of M are not more than anyone. No two girls obtained same marks. Which of the following statement is correct?

Options :

1. ✘ Marks of L are more than P
2. ✔ If marks of M are 70, then marks of P can be 72
3. ✘ Marks of T are more than R
4. ✘ Marks of two girls are more than R

Question Number : 8 Question Id : 54062614495 Question Type : MCQ Option Shuffling : Yes Is Question Mandatory : No Option

Orientation : Vertical

Correct Marks : 1 Wrong Marks : 0.25

छह लड़कियों F, L, M, P, R तथा T के अंको की तुलना की गयी है। केवल दो लड़कियों के अंक P से कम हैं। R तथा T के अंक P से अधिक है लेकिन F से कम है। M के अंक किसी से भी अधिक नहीं है। कोई भी दो लड़कियों को समान अंक नहीं प्राप्त हुए हैं। निम्नलिखित में से कौन सा कथन सही है?

Options :

1. ✘ L के अंक P से अधिक हैं
2. ✔ यदि M के अंक 70 हैं, तो P के अंक 72 हो सकते हैं
3. ✘ T के अंक R से अधिक है
4. ✘ दो लड़कियों के अंक R से अधिक है

Question Number : 9 Question Id : 54062614496 Question Type : MCQ Option Shuffling : Yes Is Question Mandatory : No Option

Orientation : Vertical

Correct Marks : 1 Wrong Marks : 0.25

Five persons P, Q, R, S and T worked in one bank from five banks B1, B2, B3, B4 and B5 (not necessarily in the same order). Each of them were posted in one location from L1, L2, L3, L4 and L5 (not necessarily in the same order). No two persons worked in same bank and not posted in same location. No two banks are at same location. R was not working in B3 and B4 and he was not posted in L1 and L5. T was working in B5 and he was not posted in L3 and L5. Q was posted in L2. B2 bank was located in L1. B3 bank was not located in L5. Q was not working in B4. S was not posted in L3. P was not posted in L4 and L5. Which of the following combination of person, bank, location is correct?

Options :

1. ✘ R, B4, L3
2. ✘ Q, B5, L2
3. ✔ S, B4, L5
4. ✘ R, B5, L4

Question Number : 9 Question Id : 54062614496 Question Type : MCQ Option Shuffling : Yes Is Question Mandatory : No Option

Orientation : Vertical

Correct Marks : 1 Wrong Marks : 0.25

पांच व्यक्तियों P, Q, R, S तथा T ने पांच बैंकों B1, B2, B3, B4 तथा B5 में से एक बैंक में काम किया (जरूरी नहीं कि इसी क्रम में हो)। उनमें से प्रत्येक L1, L2, L3, L4 तथा L5 में से एक स्थान पर नियुक्त था (जरूरी नहीं कि इसी क्रम में हो)। कोई भी दो व्यक्ति समान बैंक में काम नहीं करते थे तथा समान स्थान पर नियुक्त नहीं थे। कोई भी दो बैंक समान स्थान पर नहीं हैं। R, B3 तथा B4 में काम नहीं कर रहा था तथा वह L1 तथा L5 में नियुक्त नहीं था। T, B5 में काम कर रहा था तथा वह L3 तथा L5 में नियुक्त नहीं था। Q, L2 में नियुक्त था। B2 बैंक L1 में स्थित था। B3 बैंक, L5 में स्थित नहीं था। Q, B4 में काम नहीं कर रहा था। S, L3 में नियुक्त नहीं था। P, L4 तथा L5 में नियुक्त नहीं था। व्यक्ति, बैंक, स्थान का निम्नलिखित में से कौन सा संयोजन सही है?

Options :

1. ✘ R, B4, L3
2. ✘ Q, B5, L2
3. ✔ S, B4, L5
4. ✘ R, B5, L4

Question Number : 10 Question Id : 54062614497 Question Type : MCQ Option Shuffling : Yes Is Question Mandatory : No Option Orientation : Vertical

Correct Marks : 1 Wrong Marks : 0.25

In the following question below are given some statements followed by some conclusions based on those statements. Taking the given statements to be true even if they seem to be at variance from commonly known facts. Read all the conclusions and then decide which of the given conclusion logically follows the given statements.

Statements:

- I. Some bike are car.
- II. No truck is car.

Conclusions:

- I. All truck are bike.
- II. Some car are bike.

Options :

1. ✘ Only conclusion I follows
2. ✔ Only conclusion II follows
3. ✘ Both conclusions I and II follows
4. ✘ Neither conclusion follows

Question Number : 10 Question Id : 54062614497 Question Type : MCQ Option Shuffling : Yes Is Question Mandatory : No Option Orientation : Vertical

Correct Marks : 1 Wrong Marks : 0.25

नीचे दिए गए प्रश्न में कुछ कथन और उनके बाद उन कथनों पर आधारित कुछ निष्कर्ष दिए गए हैं। दिए गए कथनों को सही माने, चाहे उनमें सामान्य ज्ञात तथ्यों से भिन्नता हो। सभी निष्कर्ष पढ़ें और फिर निर्धारित करें कि दिए गए कौन से निष्कर्ष, दिए गए कथनों के आधार पर युक्तिसंगत हैं।

कथन:

- I. कुछ बाइक, कार हैं।
- II. कोई भी ट्रक, कार नहीं है।

निष्कर्ष:

- I. सभी ट्रक, बाईक हैं।
- II. कुछ कार, बाईक हैं।

Options :

1. ✘ केवल निष्कर्ष I अनुसरण करता है
2. ✔ केवल निष्कर्ष II अनुसरण करता है
3. ✘ दोनों निष्कर्ष I तथा II अनुसरण करते हैं
4. ✘ कोई भी निष्कर्ष अनुसरण नहीं करता है

Question Number : 11 Question Id : 54062614498 Question Type : MCQ Option Shuffling : Yes Is Question Mandatory : No Option Orientation : Vertical

Correct Marks : 1 Wrong Marks : 0.25

In the following question below are given some statements followed by some conclusions based on those statements. Taking the given statements to be true even if they seem to be at variance from commonly known facts. Read all the conclusions and then decide which of the given conclusion logically follows the given statements.

Statements:

- I. All N are W.
- II. No W is T.

Conclusions:

- I. No T is N.
- II. Some W are not T.
- III. Some N are T.

Options :

1. ✘ Both conclusions I and III follows
2. ✘ Only conclusion III follows
3. ✔ Both conclusions I and II follows
4. ✘ Neither conclusion follows

Question Number : 11 Question Id : 54062614498 Question Type : MCQ Option Shuffling : Yes Is Question Mandatory : No Option Orientation : Vertical

Correct Marks : 1 Wrong Marks : 0.25

नीचे दिए गए प्रश्न में कुछ कथन और उनके बाद उन कथनों पर आधारित कुछ निष्कर्ष दिए गए हैं। दिए गए कथनों को सही माने, चाहे उनमें सामान्य ज्ञात तथ्यों

से भिन्नता हो। सभी निष्कर्ष पढ़ें और फिर निर्धारित करें कि दिए गए कौन से निष्कर्ष, दिए गए कथनों के आधार पर युक्तिसंगत हैं।

कथन:

- I. सभी N, W हैं।
- II. कोई भी W, T नहीं है।

निष्कर्ष:

- I. कोई भी T, N नहीं है।
- II. कुछ W, T नहीं हैं।
- III. कुछ N, T हैं।

Options :

1. ✘ दोनों निष्कर्ष I तथा III अनुसरण करते हैं
2. ✘ केवल निष्कर्ष III अनुसरण करता है
3. ✔ दोनों निष्कर्ष I तथा II अनुसरण करते हैं
4. ✘ कोई भी निष्कर्ष अनुसरण नहीं करता है

Question Number : 12 Question Id : 54062614499 Question Type : MCQ Option Shuffling : Yes Is Question Mandatory : No Option Orientation : Vertical

Correct Marks : 1 Wrong Marks : 0.25

In the following question, select the missing number from the given series.

24, 48, 96, ?, 384, 768

Options :

1. ✘ 144
2. ✘ 184
3. ✘ 240
4. ✔ 192

Question Number : 12 Question Id : 54062614499 Question Type : MCQ Option Shuffling : Yes Is Question Mandatory : No Option Orientation : Vertical

Correct Marks : 1 Wrong Marks : 0.25

निम्नलिखित प्रश्न में दी गई श्रृंखला में से लुप्त अंक ज्ञात कीजिए।

24, 48, 96, ?, 384, 768

Options :

1. ✘ 144
2. ✘ 184
3. ✘ 240
4. ✔ 192

Question Number : 13 Question Id : 54062614500 Question Type : MCQ Option Shuffling : Yes Is Question Mandatory : No Option Orientation : Vertical

Correct Marks : 1 Wrong Marks : 0.25

A series is given with one term wrong. Select that wrong term from the given alternatives.

136, 112, 248, 360, 618, 968

Options :

1. ✘ 112
2. ✘ 968
3. ✘ 248
4. ✔ 618

Question Number : 13 Question Id : 54062614500 Question Type : MCQ Option Shuffling : Yes Is Question Mandatory : No Option Orientation : Vertical

Correct Marks : 1 Wrong Marks : 0.25

एक अनुक्रम दिया गया है, जिसमें से एक पद गलत है। दिए गए विकल्पों में से उस गलत पद को चुनिए।

136, 112, 248, 360, 618, 968

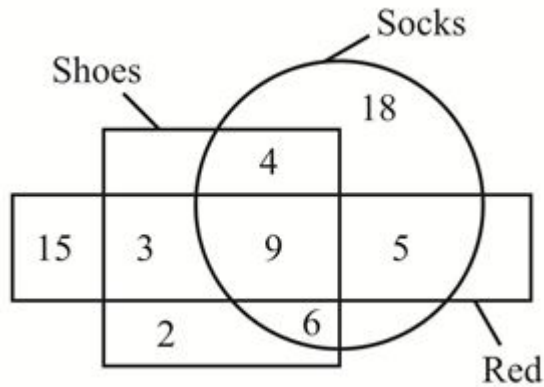
Options :

1. ✘ 112
2. ✘ 968
3. ✘ 248
4. ✔ 618

Question Number : 14 Question Id : 54062614501 Question Type : MCQ Option Shuffling : Yes Is Question Mandatory : No Option Orientation : Vertical

Correct Marks : 1 Wrong Marks : 0.25

How many red are neither shoes nor socks?



Note: For this question, discrepancy is found in question/answer. So, this question is ignored for all candidates.

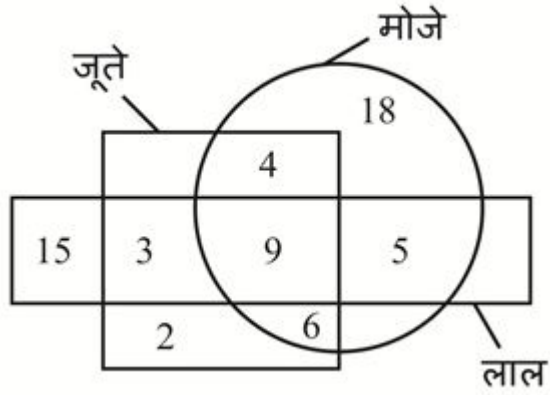
Options :

1. 3
2. 2
3. 5
4. 8

Question Number : 14 Question Id : 54062614501 Question Type : MCQ Option Shuffling : Yes Is Question Mandatory : No Option Orientation : Vertical

Correct Marks : 1 Wrong Marks : 0.25

कितने लाल ना ही जूते है ना ही मोजे है?



Note: For this question, discrepancy is found in question/answer. So, this question is ignored for all candidates.

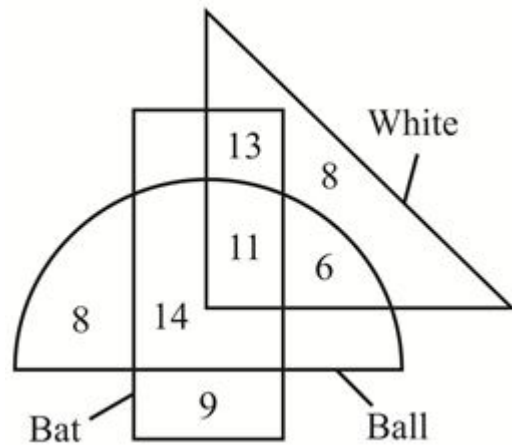
Options :

1. 3
2. 2
3. 5
4. 8

Question Number : 15 Question Id : 54062614502 Question Type : MCQ Option Shuffling : Yes Is Question Mandatory : No Option Orientation : Vertical

Correct Marks : 1 Wrong Marks : 0.25

Based on the given venn diagram, which of the following statement(s) is/are correct?



I. Number of bat which are not white, are 23.

II. Number of ball which are bat, are 17.

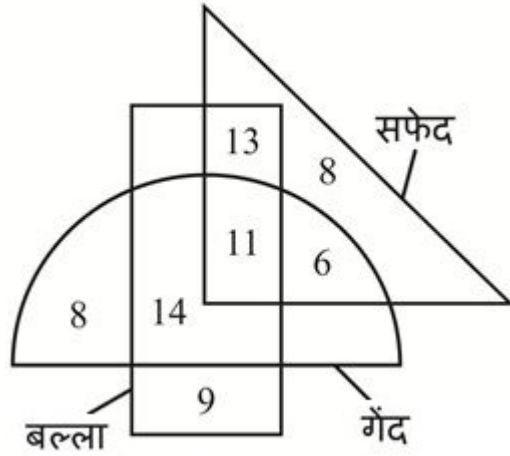
Options :

1. ✓ Only I
2. ✗ Only II
3. ✗ Both I and II
4. ✗ Neither I nor II

Question Number : 15 Question Id : 54062614502 Question Type : MCQ Option Shuffling : Yes Is Question Mandatory : No Option Orientation : Vertical

Correct Marks : 1 Wrong Marks : 0.25

दिए गए वेन आरेख के आधार पर, निम्नलिखित में से कौन सा/से कथन सही है/हैं?



- I. वह बल्ले जो सफेद नहीं है, की संख्या 23 हैं।
 II. वह गेंद जो बल्ले है, की संख्या 17 हैं।

Options :

1. ✓ केवल I
2. ✗ केवल II
3. ✗ I तथा II दोनों
4. ✗ ना ही I ना ही II

Question Number : 16 Question Id : 54062614503 Question Type : MCQ Option Shuffling : Yes Is Question Mandatory : No Option Orientation : Vertical

Correct Marks : 1 Wrong Marks : 0.25

Rohan starts walking in north direction. He turns right and walks x kms. He turns left and walks y kms. He finally rotates by 45° in anticlockwise direction. In which direction is he facing now?

Options :

1. ✗ South-west
2. ✗ North-east
3. ✓ North-west
4. ✗ South-east

Question Number : 16 Question Id : 54062614503 Question Type : MCQ Option Shuffling : Yes Is Question Mandatory : No Option Orientation : Vertical

Correct Marks : 1 Wrong Marks : 0.25

रोहन उत्तर दिशा में चलना आरंभ करता है। वह दायीं ओर मुड़ता है तथा x कि.मी. चलता है। वह बायीं ओर मुड़ता है तथा y कि.मी. चलता है। वह अंततः वामावर्त दिशा में 45° से घूम जाता है। अब उसका मुख किस दिशा में है?

Options :

1. ✘ दक्षिण-पश्चिम
2. ✘ उत्तर-पूर्व
3. ✔ उत्तर- पश्चिम
4. ✘ दक्षिण- पूर्व

Question Number : 17 Question Id : 54062614504 Question Type : MCQ Option Shuffling : Yes Is Question Mandatory : No Option Orientation : Vertical

Correct Marks : 1 Wrong Marks : 0.25

A is 15 km to the west of B. C is 10 km to the east of K. B is 20 km to the north of K. H is 5 km to the south of C. N is 27 km to the south of A. How far is K from A and in which direction is H from B?

Options :

1. ✘ 25 km, North-west
2. ✘ 30 km, North-west
3. ✔ 25 km, South-east
4. ✘ 30 km, South-east

Question Number : 17 Question Id : 54062614504 Question Type : MCQ Option Shuffling : Yes Is Question Mandatory : No Option Orientation : Vertical

Correct Marks : 1 Wrong Marks : 0.25

A, B से 15 कि.मी. पश्चिम में है। C, K से 10 कि.मी. पूर्व में है। B, K से 20 कि.मी. उत्तर में है। H, C से 5 कि.मी. दक्षिण में है। N, A से 27 कि.मी. दक्षिण में है। K, A से कितनी दूरी पर है तथा H, B से किस दिशा में है?

Options :

1. ✘ 25 कि.मी., उत्तर-पश्चिम
2. ✘ 30 कि.मी., उत्तर-पश्चिम
3. ✔ 25 कि.मी., दक्षिण-पूर्व
4. ✘ 30 कि.मी., दक्षिण-पूर्व

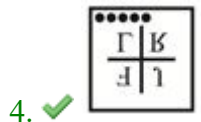
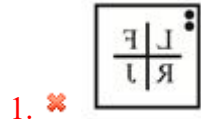
Question Number : 18 Question Id : 54062614505 Question Type : MCQ Option Shuffling : Yes Is Question Mandatory : No Option Orientation : Vertical

Correct Marks : 1 Wrong Marks : 0.25

In the following question, select the wrong figure from the given series.



Options :



Question Number : 18 Question Id : 54062614505 Question Type : MCQ Option Shuffling : Yes Is Question Mandatory : No Option Orientation : Vertical

Correct Marks : 1 Wrong Marks : 0.25

निम्नलिखित प्रश्न में, दी गयी श्रृंखला में से गलत आकृति को चुनिए।



Options :



Question Number : 19 Question Id : 54062614506 Question Type : MCQ Option Shuffling : Yes Is Question Mandatory : No Option Orientation : Vertical

Correct Marks : 1 Wrong Marks : 0.25

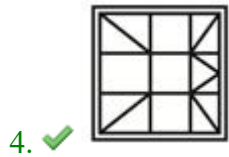
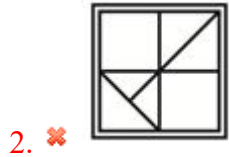
From the given answer figures, select the one in which the question figure is hidden/embedded.

Question figure:



Options :





Question Number : 19 Question Id : 54062614506 Question Type : MCQ Option Shuffling : Yes Is Question Mandatory : No Option Orientation : Vertical

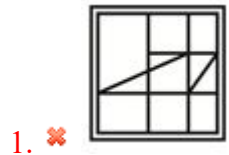
Correct Marks : 1 Wrong Marks : 0.25

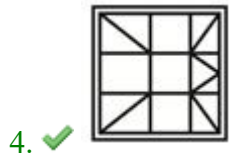
दी गई उत्तर आकृतियों में से उस उत्तर आकृति को चुनिए जिस में प्रश्न आकृति निहित है।

प्रश्न आकृति:



Options :

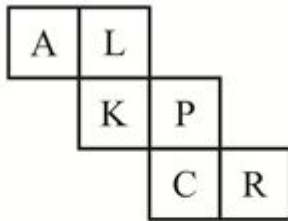




Question Number : 20 Question Id : 54062614507 Question Type : MCQ Option Shuffling : Yes Is Question Mandatory : No Option Orientation : Vertical

Correct Marks : 1 Wrong Marks : 0.25

By folding the given paper, which of the following cubes can be made?



I



II



III



IV

Options :

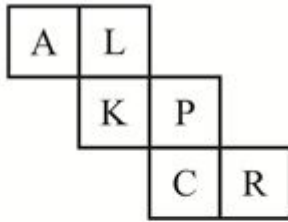
1. ✘ II and III

2. ✘ I and IV
3. ✘ III and IV
4. ✔ I and II

Question Number : 20 Question Id : 54062614507 Question Type : MCQ Option Shuffling : Yes Is Question Mandatory : No Option Orientation : Vertical

Correct Marks : 1 Wrong Marks : 0.25

दिए गए कागज को मोड़ने पर, निम्नलिखित में से कौन से घन बनाये जा सकते हैं?



I



II



III



IV

Options :

1. ✘ II तथा III
2. ✘ I तथा IV
3. ✘ III तथा IV
4. ✔ I तथा II

General Awareness

Group Number :

2

Group Id :

540626490

Group Maximum Duration :

0

Group Minimum Duration :

0

Show Attended Group? :	No
Edit Attended Group? :	No
Break time :	0
Group Marks :	20
Is this Group for Examiner? :	No

General Awareness

Section Id :	540626664
Section Number :	1
Section type :	Online
Mandatory or Optional :	Mandatory
Number of Questions :	20
Number of Questions to be attempted :	20
Section Marks :	20
Enable Mark as Answered Mark for Review and Clear Response :	Yes
Sub-Section Number :	1
Sub-Section Id :	540626798
Question Shuffling Allowed :	Yes

Question Number : 21 Question Id : 54062614508 Question Type : MCQ Option Shuffling : Yes Is Question Mandatory : No Option Orientation : Vertical

Correct Marks : 1 Wrong Marks : 0.25

Kathakali is associated with _____.

Options :

- ✘ Uttar Pradesh
- ✘ Madhya Pradesh
- ✘ Maharashtra
- ✔ Kerala

Question Number : 21 Question Id : 54062614508 Question Type : MCQ Option Shuffling : Yes Is Question Mandatory : No Option Orientation : Vertical

Correct Marks : 1 Wrong Marks : 0.25

कथकली _____ से संबंधित है।

Options :

1. ✘ उत्तर प्रदेश
2. ✘ मध्य प्रदेश
3. ✘ महाराष्ट्र
4. ✔ केरल

Question Number : 22 Question Id : 54062614509 Question Type : MCQ Option Shuffling : Yes Is Question Mandatory : No Option Orientation : Vertical

Correct Marks : 1 Wrong Marks : 0.25

Sonam Lochar festival is associated with _____.

Options :

1. ✔ Sikkim
2. ✘ Goa
3. ✘ Kerala
4. ✘ Rajasthan

Question Number : 22 Question Id : 54062614509 Question Type : MCQ Option Shuffling : Yes Is Question Mandatory : No Option Orientation : Vertical

Correct Marks : 1 Wrong Marks : 0.25

सोनाम लोसार त्योहार _____ से संबंधित है।

Options :

1. ✔ सिक्किम
2. ✘ गोवा
3. ✘ केरल
4. ✘ राजस्थान

Question Number : 23 Question Id : 54062614510 Question Type : MCQ Option Shuffling : Yes Is Question Mandatory : No Option Orientation : Vertical

Correct Marks : 1 Wrong Marks : 0.25

Which of the following statement(s) is/are NOT true in respect of Issuance of currency in India?

- I. Coins are minted by the Reserve Bank of India.
II. The Central government is the agent for distribution, issue and handling of coins.

Options :

1. ✘ Only I
2. ✘ Only II
3. ✔ Both I and II
4. ✘ Neither I nor II

Question Number : 23 Question Id : 54062614510 Question Type : MCQ Option Shuffling : Yes Is Question Mandatory : No Option Orientation : Vertical

Correct Marks : 1 Wrong Marks : 0.25

निम्नलिखित कथन/कथनों में कौन सा/से भारत में मुद्रा जारी करने के संबंध में सही नहीं है/हैं?

- I. भारतीय रिजर्व बैंक द्वारा सिक्के ढाले जाते हैं।
II. केंद्र सरकार सिक्कों के वितरण, जारी करने और प्रबंधित करने का एजेंट है।

Options :

1. ✘ केवल I
2. ✘ केवल II
3. ✔ I तथा II दोनों
4. ✘ ना ही I, ना ही II

Question Number : 24 Question Id : 54062614511 Question Type : MCQ Option Shuffling : Yes Is Question Mandatory : No Option Orientation : Vertical

Correct Marks : 1 Wrong Marks : 0.25

Which of the following statement is not true about monopolistic competition?

Options :

1. ✘ Number of firms is large
2. ✘ Free entry of firms
3. ✘ Goods produced by them are not homogeneous
4. ✔ The demand curve faced by the firm is perfectly elastic

Question Number : 24 Question Id : 54062614511 Question Type : MCQ Option Shuffling : Yes Is Question Mandatory : No Option Orientation : Vertical

Correct Marks : 1 Wrong Marks : 0.25

निम्नलिखित में से कौन सा कथन एकाधिकारी प्रतिस्पर्धा के संदर्भ में सही नहीं है?

Options :

1. ✘ फर्मों की संख्या अधिक होती है
2. ✘ फर्मों का निर्बाध रूप से प्रवेश होता है
3. ✘ उनके द्वारा उत्पादित वस्तु समरूप नहीं होते हैं
4. ✔ फर्म का माँग वक्र पूर्णतः लोचदार होता है

Question Number : 25 Question Id : 54062614512 Question Type : MCQ Option Shuffling : Yes Is Question Mandatory : No Option Orientation : Vertical

Correct Marks : 1 Wrong Marks : 0.25

Which is the largest gland in the human body?

Options :

1. ✘ Thyroid
2. ✘ Pituitary
3. ✔ Liver
4. ✘ Thymus

Question Number : 25 Question Id : 54062614512 Question Type : MCQ Option Shuffling : Yes Is Question Mandatory : No Option Orientation : Vertical

Correct Marks : 1 Wrong Marks : 0.25

शरीर की सबसे बड़ी ग्रंथि कौन सी है?

Options :

1. ✘ थाइरोइड
2. ✘ पियुष
3. ✔ यकृत
4. ✘ थाइमस

Question Number : 26 Question Id : 54062614513 Question Type : MCQ Option Shuffling : Yes Is Question Mandatory : No Option Orientation : Vertical

Correct Marks : 1 Wrong Marks : 0.25

Which of the following is a simple tissue?

- I. Xylem
- II. Phloem

Options :

- 1. ✘ Only I
- 2. ✘ Only II
- 3. ✘ Both I and II
- 4. ✔ Neither I nor II

Question Number : 26 Question Id : 54062614513 Question Type : MCQ Option Shuffling : Yes Is Question Mandatory : No Option Orientation : Vertical

Correct Marks : 1 Wrong Marks : 0.25

निम्नलिखित में से कौन सा एक सरल ऊतक है?

- I. जाइलम
- II. फ़लोएम

Options :

- 1. ✘ केवल I
- 2. ✘ केवल II
- 3. ✘ I तथा II दोनों
- 4. ✔ ना ही I ना ही II

Question Number : 27 Question Id : 54062614514 Question Type : MCQ Option Shuffling : Yes Is Question Mandatory : No Option Orientation : Vertical

Correct Marks : 1 Wrong Marks : 0.25

Which of the following pair of mirror – use is correct?

- I. Convex – side view mirror
- II. Concave – dentist

Options :

- 1. ✘ Only I

2. ✘ Only II
3. ✔ Both I and II
4. ✘ Neither I nor II

Question Number : 27 Question Id : 54062614514 Question Type : MCQ Option Shuffling : Yes Is Question Mandatory : No Option Orientation : Vertical

Correct Marks : 1 Wrong Marks : 0.25

दर्पण – इस्तेमाल का निम्नलिखित में से कौन सा कथन सही है?

- I. उत्तल – पार्श्व दर्पण
- II. अवतल – दंत विशेषज्ञ

Options :

1. ✘ केवल I
2. ✘ केवल II
3. ✔ I तथा II दोनों
4. ✘ ना ही I ना ही II

Question Number : 28 Question Id : 54062614515 Question Type : MCQ Option Shuffling : Yes Is Question Mandatory : No Option Orientation : Vertical

Correct Marks : 1 Wrong Marks : 0.25

Which of the following pair is correct?

- I. Endogenic force – Landslide
- II. Exogenic force – Volcano

Options :

1. ✔ Only I
2. ✘ Only II
3. ✘ Both I and II
4. ✘ Neither I nor II

Question Number : 28 Question Id : 54062614515 Question Type : MCQ Option Shuffling : Yes Is Question Mandatory : No Option Orientation : Vertical

Correct Marks : 1 Wrong Marks : 0.25

निम्नलिखित में से कौन सा युग्म सही है?

- I. अंतर्जनित बल – भूस्खलन
- II. बहिर्जनित बल – ज्वालामुखी

Options :

- 1. ✓ केवल I
- 2. ✗ केवल II
- 3. ✗ I तथा II दोनों
- 4. ✗ ना ही I ना ही II

Question Number : 29 Question Id : 54062614516 Question Type : MCQ Option Shuffling : Yes Is Question Mandatory : No Option Orientation : Vertical

Correct Marks : 1 Wrong Marks : 0.25

Which of the following statement is correct?

- I. Air pressure is lowest at sea level.
- II. Air always moves from high to low pressure areas.

Options :

- 1. ✗ Only I
- 2. ✓ Only II
- 3. ✗ Both I and II
- 4. ✗ Neither I nor II

Question Number : 29 Question Id : 54062614516 Question Type : MCQ Option Shuffling : Yes Is Question Mandatory : No Option Orientation : Vertical

Correct Marks : 1 Wrong Marks : 0.25

निम्नलिखित में से कौन सा कथन सही है?

- I. समुद्र स्तर पर वायु दाब सर्वाधिक होता है।
- II. वायु सदैव उच्च से निम्न दाब क्षेत्र की ओर गमन करता है।

Options :

- 1. ✗ केवल I
- 2. ✓ केवल II

3. ✘ I तथा II दोनों
4. ✘ ना ही I ना ही II

Question Number : 30 Question Id : 54062614517 Question Type : MCQ Option Shuffling : Yes Is Question Mandatory : No Option Orientation : Vertical

Correct Marks : 1 Wrong Marks : 0.25

Which of the following is a tributary of Indus?

- I. Zaskar
- II. Nubra
- III. Shyok

Options :

1. ✘ I and II
2. ✘ II and III
3. ✘ I and III
4. ✔ I, II and III

Question Number : 30 Question Id : 54062614517 Question Type : MCQ Option Shuffling : Yes Is Question Mandatory : No Option Orientation : Vertical

Correct Marks : 1 Wrong Marks : 0.25

निम्नलिखित में से कौन सी एक सिंधु की सहायक नदी है?

- I. जास्कर
- II. नूबरा
- III. श्योक

Options :

1. ✘ I तथा II
2. ✘ II तथा III
3. ✘ I तथा III
4. ✔ I, II तथा III

Question Number : 31 Question Id : 54062614518 Question Type : MCQ Option Shuffling : Yes Is Question Mandatory : No Option Orientation : Vertical

Correct Marks : 1 Wrong Marks : 0.25

Where did the Manuscripts were usually written?

Options :

1. ✓ Palm leaf
2. ✗ Stone
3. ✗ Paper
4. ✗ Rock

Question Number : 31 Question Id : 54062614518 Question Type : MCQ Option Shuffling : Yes Is Question Mandatory : No Option Orientation : Vertical

Correct Marks : 1 Wrong Marks : 0.25

मैन्सूस्क्रिप्ट प्रायः कहाँ पर लिखी जाती थी?

Options :

1. ✓ ताड़पत्र
2. ✗ पत्थर
3. ✗ कागज
4. ✗ पहाड़ी

Question Number : 32 Question Id : 54062614519 Question Type : MCQ Option Shuffling : Yes Is Question Mandatory : No Option Orientation : Vertical

Correct Marks : 1 Wrong Marks : 0.25

Where did the first cotton mill was setup in India?

Options :

1. ✗ Hyderabad
2. ✓ Bombay
3. ✗ Madras
4. ✗ Punjab

Question Number : 32 Question Id : 54062614519 Question Type : MCQ Option Shuffling : Yes Is Question Mandatory : No Option Orientation : Vertical

Correct Marks : 1 Wrong Marks : 0.25

भारत में पहली सूती कपड़ मिल कहाँ स्थापित हुई थी।

Options :

1. ✘ हैदराबाद
2. ✔ बम्बई
3. ✘ मद्रास
4. ✘ पंजाब

Question Number : 33 Question Id : 54062614520 Question Type : MCQ Option Shuffling : Yes Is Question Mandatory : No Option Orientation : Vertical

Correct Marks : 1 Wrong Marks : 0.25

In which year Battle of Buxar took place?

Options :

1. ✔ 1764
2. ✘ 1757
3. ✘ 1863
4. ✘ 1857

Question Number : 33 Question Id : 54062614520 Question Type : MCQ Option Shuffling : Yes Is Question Mandatory : No Option Orientation : Vertical

Correct Marks : 1 Wrong Marks : 0.25

बक्सर की लड़ाई किस वर्ष में हुई थी?

Options :

1. ✔ 1764
2. ✘ 1757
3. ✘ 1863
4. ✘ 1857

Question Number : 34 Question Id : 54062614521 Question Type : MCQ Option Shuffling : Yes Is Question Mandatory : No Option Orientation : Vertical

Correct Marks : 1 Wrong Marks : 0.25

Varuna 2021 naval exercise was held between India and _____.

Options :

1. ✘ Japan
2. ✔ France
3. ✘ Italy
4. ✘ U.S.A

Question Number : 34 Question Id : 54062614521 Question Type : MCQ Option Shuffling : Yes Is Question Mandatory : No Option Orientation : Vertical

Correct Marks : 1 Wrong Marks : 0.25

वरुण 2021 नौसेना अभ्यास भारत तथा _____ के बीच हुआ।

Options :

1. ✘ जापान
2. ✔ फ्रांस
3. ✘ इटली
4. ✘ यू.एस.ए

Question Number : 35 Question Id : 54062614522 Question Type : MCQ Option Shuffling : Yes Is Question Mandatory : No Option Orientation : Vertical

Correct Marks : 1 Wrong Marks : 0.25

Who won the 2020 Booker Prize?

Options :

1. ✔ Douglas Stuart
2. ✘ Avni Doshi
3. ✘ Maaza Mengiste
4. ✘ Brandon Taylor

Question Number : 35 Question Id : 54062614522 Question Type : MCQ Option Shuffling : Yes Is Question Mandatory : No Option Orientation : Vertical

Correct Marks : 1 Wrong Marks : 0.25

2020 का बुकर पुरस्कार किसने जीता?

Options :

1. ✔ डगलस स्टुअर्ट

2. ✘ अवनि दोशी
3. ✘ माज़ा मेंगिस्टे
4. ✘ ब्रैंडन टेलर

Question Number : 36 Question Id : 54062614523 Question Type : MCQ Option Shuffling : Yes Is Question Mandatory : No Option Orientation : Vertical

Correct Marks : 1 Wrong Marks : 0.25

Where are the headquarters of UNICEF located?

Options :

1. ✘ Milan
2. ✘ Paris
3. ✘ Geneva
4. ✔ New York

Question Number : 36 Question Id : 54062614523 Question Type : MCQ Option Shuffling : Yes Is Question Mandatory : No Option Orientation : Vertical

Correct Marks : 1 Wrong Marks : 0.25

यूनीसेफ का मुख्यालय कहाँ स्थित है?

Options :

1. ✘ मिलान
2. ✘ पेरिस
3. ✘ ज़ेनेवा
4. ✔ न्यूयॉर्क

Question Number : 37 Question Id : 54062614524 Question Type : MCQ Option Shuffling : Yes Is Question Mandatory : No Option Orientation : Vertical

Correct Marks : 1 Wrong Marks : 0.25

Which of the following pair of schedule – contents of Indian constitution is correct?

- I. Third – Allocation of seats in council of states
- II. Eighth – Languages

Options :

1. ✘ Only I
2. ✔ Only II
3. ✘ Both I and II
4. ✘ Neither I nor II

Question Number : 37 Question Id : 54062614524 Question Type : MCQ Option Shuffling : Yes Is Question Mandatory : No Option Orientation : Vertical

Correct Marks : 1 Wrong Marks : 0.25

भारतीय संविधान का अनुसूची – अंतर्वस्तु का निम्नलिखित में से कौन सा युग्म सही है?

- I. तीसरी – राज्य सभा में स्थानों का आबंटन
- II. आठवीं – भाषाएँ

Options :

1. ✘ केवल I
2. ✔ केवल II
3. ✘ I तथा II दोनों
4. ✘ ना ही I ना ही II

Question Number : 38 Question Id : 54062614525 Question Type : MCQ Option Shuffling : Yes Is Question Mandatory : No Option Orientation : Vertical

Correct Marks : 1 Wrong Marks : 0.25

Article 361 of Indian constitution is related to _____.

Options :

1. ✘ Effect of proclamation of emergency
2. ✔ Protection of President, Governor and Rajpramukhs
3. ✘ Proclamation of emergency
4. ✘ Power of parliament to amend the constitution

Question Number : 38 Question Id : 54062614525 Question Type : MCQ Option Shuffling : Yes Is Question Mandatory : No Option Orientation : Vertical

Correct Marks : 1 Wrong Marks : 0.25

भारतीय संविधान का अनुच्छेद 361 _____ से संबंधित है।

Options :

1. ✘ आपात की उद्घोषणा का प्रभाव
2. ✔ राष्ट्रपति, राज्यपालों और राजप्रमुखों का संरक्षण
3. ✘ आपात की उद्घोषणा
4. ✘ संविधान का संशोधन करने की संसद की शक्ति

Question Number : 39 Question Id : 54062614526 Question Type : MCQ Option Shuffling : Yes Is Question Mandatory : No Option Orientation : Vertical

Correct Marks : 1 Wrong Marks : 0.25

Which country hosted the 2018 commonwealth games?

Options :

1. ✘ Canada
2. ✔ Australia
3. ✘ New Zealand
4. ✘ England

Question Number : 39 Question Id : 54062614526 Question Type : MCQ Option Shuffling : Yes Is Question Mandatory : No Option Orientation : Vertical

Correct Marks : 1 Wrong Marks : 0.25

2018 राष्ट्रमंडल खेलों की मेजबानी किस देश ने की थी?

Options :

1. ✘ कनाड़ा
2. ✔ आस्ट्रेलिया
3. ✘ न्यूजीलैंड
4. ✘ इंग्लैंड

Question Number : 40 Question Id : 54062614527 Question Type : MCQ Option Shuffling : Yes Is Question Mandatory : No Option Orientation : Vertical

Correct Marks : 1 Wrong Marks : 0.25

Which of the following pair of tournament – sports is correct?

- I. Ryder Cup – Golf
II. UEFA Champions League – Football

Options :

1. ✘ Only I
2. ✘ Only II
3. ✔ Both I and II
4. ✘ Neither I nor II

Question Number : 40 Question Id : 54062614527 Question Type : MCQ Option Shuffling : Yes Is Question Mandatory : No Option Orientation : Vertical

Correct Marks : 1 Wrong Marks : 0.25

टूर्नामेंट – खेल का निम्नलिखित में से कौन सा युग्म सही है?

- I. राईडर कप – गोल्फ
II. यूईएफए चैम्पियनस लीग – फुटबॉल

Options :

1. ✘ केवल I
2. ✘ केवल II
3. ✔ I तथा II दोनों
4. ✘ ना ही I ना ही II

Arithmetic Ability

Group Number :	3
Group Id :	540626491
Group Maximum Duration :	0
Group Minimum Duration :	0
Show Attended Group? :	No
Edit Attended Group? :	No
Break time :	0
Group Marks :	20
Is this Group for Examiner? :	No

Arithmetic Ability

Section Id :	540626665
Section Number :	1
Section type :	Online
Mandatory or Optional :	Mandatory
Number of Questions :	20
Number of Questions to be attempted :	20
Section Marks :	20
Enable Mark as Answered Mark for Review and Clear Response :	Yes
Sub-Section Number :	1
Sub-Section Id :	540626799
Question Shuffling Allowed :	Yes

Question Number : 41 Question Id : 54062614528 Question Type : MCQ Option Shuffling : Yes Is Question Mandatory : No Option Orientation : Vertical

Correct Marks : 1 Wrong Marks : 0.25

What is the value of $(1.17)^2 - (1.13)^2$?

Options :

1. ✘ 0.92
2. ✔ 0.092
3. ✘ 1.092
4. ✘ 1.92

Question Number : 41 Question Id : 54062614528 Question Type : MCQ Option Shuffling : Yes Is Question Mandatory : No Option Orientation : Vertical

Correct Marks : 1 Wrong Marks : 0.25

$(1.17)^2 - (1.13)^2$ का मान क्या है?

Options :

1. ✘ 0.92
2. ✔ 0.092

3. ✘ 1.092

4. ✘ 1.92

Question Number : 42 Question Id : 54062614529 Question Type : MCQ Option Shuffling : Yes Is Question Mandatory : No Option Orientation : Vertical

Correct Marks : 1 Wrong Marks : 0.25

What is the value of $5\frac{1}{2} + 7\frac{1}{3} + 9\frac{1}{4} + 11\frac{1}{5} + 13\frac{1}{6}$?

Options :

1. ✔ $\frac{929}{20}$

2. ✘ $\frac{817}{12}$

3. ✘ $\frac{517}{50}$

4. ✘ $\frac{213}{10}$

Question Number : 42 Question Id : 54062614529 Question Type : MCQ Option Shuffling : Yes Is Question Mandatory : No Option Orientation : Vertical

Correct Marks : 1 Wrong Marks : 0.25

$5\frac{1}{2} + 7\frac{1}{3} + 9\frac{1}{4} + 11\frac{1}{5} + 13\frac{1}{6}$ का मान क्या है?

Options :

1. ✓ $\frac{929}{20}$

2. ✗ $\frac{817}{12}$

3. ✗ $\frac{517}{50}$

4. ✗ $\frac{213}{10}$

Question Number : 43 Question Id : 54062614530 Question Type : MCQ Option Shuffling : Yes Is Question Mandatory : No Option Orientation : Vertical

Correct Marks : 1 Wrong Marks : 0.25

What is the value of $1.2 \times 0.24 + 5 \times 0.12 \times 3.6$?

Options :

1. ✗ 24.48

2. ✓ 2.448

3. ✗ 12.48

4. ✗ 144.714

Question Number : 43 Question Id : 54062614530 Question Type : MCQ Option Shuffling : Yes Is Question Mandatory : No Option Orientation : Vertical

Correct Marks : 1 Wrong Marks : 0.25

$1.2 \times 0.24 + 5 \times 0.12 \times 3.6$ का मान क्या है?

Options :

1. ✗ 24.48

2. ✓ 2.448

3. ✗ 12.48

4. ✖ 144.714

Question Number : 44 Question Id : 54062614531 Question Type : MCQ Option Shuffling : Yes Is Question Mandatory : No Option Orientation : Vertical

Correct Marks : 1 Wrong Marks : 0.25

For what values of M and N $7M5285N$ is divisible by both 8 and 9?

Options :

1. ✔ (3, 6)
2. ✖ (9, 6)
3. ✖ (6, 6)
4. ✖ (5, 3)

Question Number : 44 Question Id : 54062614531 Question Type : MCQ Option Shuffling : Yes Is Question Mandatory : No Option Orientation : Vertical

Correct Marks : 1 Wrong Marks : 0.25

M तथा N के किन मानों के लिए $7M5285N$, 8 तथा 9 से विभाजित होगा?

Options :

1. ✔ (3, 6)
2. ✖ (9, 6)
3. ✖ (6, 6)
4. ✖ (5, 3)

Question Number : 45 Question Id : 54062614532 Question Type : MCQ Option Shuffling : Yes Is Question Mandatory : No Option Orientation : Vertical

Correct Marks : 1 Wrong Marks : 0.25

Which of the fraction among $\frac{5}{7}$, $\frac{3}{11}$, $\frac{7}{15}$ and $\frac{8}{19}$ is the largest?

Options :

1. ✖ $\frac{3}{11}$

2. ✓ $\frac{5}{7}$

3. ✗ $\frac{7}{15}$

4. ✗ $\frac{8}{19}$

Question Number : 45 Question Id : 54062614532 Question Type : MCQ Option Shuffling : Yes Is Question Mandatory : No Option Orientation : Vertical

Correct Marks : 1 Wrong Marks : 0.25

$\frac{5}{7}, \frac{3}{11}, \frac{7}{15}$ तथा $\frac{8}{19}$ में से कौन सा भिन्न सबसे बड़ा है?

Options :

1. ✗ $\frac{3}{11}$

2. ✓ $\frac{5}{7}$

3. ✗ $\frac{7}{15}$

4. ✗ $\frac{8}{19}$

Question Number : 46 Question Id : 54062614533 Question Type : MCQ Option Shuffling : Yes Is Question Mandatory : No Option Orientation : Vertical

Correct Marks : 1 Wrong Marks : 0.25

Marked price of an article is Rs. 3400. Selling price of the same article is Rs. 2720. What is the discount percentage?

Options :

1. ✘ 15
2. ✔ 20
3. ✘ 12
4. ✘ 25

Question Number : 46 Question Id : 54062614533 Question Type : MCQ Option Shuffling : Yes Is Question Mandatory : No Option Orientation : Vertical

Correct Marks : 1 Wrong Marks : 0.25

एक वस्तु का अंकित मूल्य 3400 रुपये है। उसी वस्तु का विक्रय मूल्य 2720 रुपये है। छूट प्रतिशत क्या है?

Options :

1. ✘ 15
2. ✔ 20
3. ✘ 12
4. ✘ 25

Question Number : 47 Question Id : 54062614534 Question Type : MCQ Option Shuffling : Yes Is Question Mandatory : No Option Orientation : Vertical

Correct Marks : 1 Wrong Marks : 0.25

385 is what percent of 2750?

Options :

1. ✘ 12
2. ✔ 14
3. ✘ 16
4. ✘ 18

Question Number : 47 Question Id : 54062614534 Question Type : MCQ Option Shuffling : Yes Is Question Mandatory : No Option Orientation : Vertical

Correct Marks : 1 Wrong Marks : 0.25

385, 2750 का कितना प्रतिशत है?

Options :

1. ✘ 12
2. ✔ 14
3. ✘ 16
4. ✘ 18

Question Number : 48 Question Id : 54062614535 Question Type : MCQ Option Shuffling : Yes Is Question Mandatory : No Option Orientation : Vertical

Correct Marks : 1 Wrong Marks : 0.25

Raju spends 20 percent of his money. He deposits 60 percent of the remaining money in the bank. If Rs. 1120 are remaining with him, then how much money he had initially?

Options :

1. ✘ Rs. 3400
2. ✘ Rs. 3300
3. ✘ Rs. 3200
4. ✔ Rs. 3500

Question Number : 48 Question Id : 54062614535 Question Type : MCQ Option Shuffling : Yes Is Question Mandatory : No Option Orientation : Vertical

Correct Marks : 1 Wrong Marks : 0.25

राजू अपनी धनराशि का 20 प्रतिशत खर्च करता है। वह शेष धनराशि का 60 प्रतिशत बैंक में जमा करा देता है। यदि उसके पास 1120 रुपये बचे हुए हैं, तो उसके पास आरंभ में कितनी धनराशि थी?

Options :

1. ✘ 3400 रुपये
2. ✘ 3300 रुपये
3. ✘ 3200 रुपये
4. ✔ 3500 रुपये

Question Number : 49 Question Id : 54062614536 Question Type : MCQ Option Shuffling : Yes Is Question Mandatory : No Option Orientation : Vertical

Correct Marks : 1 Wrong Marks : 0.25

An article is sold for Rs. 1584 at loss of 12 percent. If it is sold for Rs. 2070, then what is the profit percentage?

Options :

1. ✘ 12
2. ✘ 18
3. ✘ 20
4. ✔ 15

Question Number : 49 Question Id : 54062614536 Question Type : MCQ Option Shuffling : Yes Is Question Mandatory : No Option Orientation : Vertical

Correct Marks : 1 Wrong Marks : 0.25

एक वस्तु को 1584 रुपये का 12 प्रतिशत की हानि पर बेचा जाता है। यदि इसे 2070 रुपये का बेचा जाये, तो लाभ प्रतिशत क्या है?

Options :

1. ✘ 12
2. ✘ 18
3. ✘ 20
4. ✔ 15

Question Number : 50 Question Id : 54062614537 Question Type : MCQ Option Shuffling : Yes Is Question Mandatory : No Option Orientation : Vertical

Correct Marks : 1 Wrong Marks : 0.25

The ratio of two numbers is 5 : 9. If the sum of both the numbers is 420, then what is the smaller number among both the numbers?

Options :

1. ✔ 150
2. ✘ 270
3. ✘ 420
4. ✘ 30

Question Number : 50 Question Id : 54062614537 Question Type : MCQ Option Shuffling : Yes Is Question Mandatory : No Option Orientation : Vertical

Correct Marks : 1 Wrong Marks : 0.25

दो संख्याओं का अनुपात 5 : 9 है। यदि दोनों संख्याओं का योग 420 है, तो दोनों संख्याओं में से छोटी संख्या क्या है?

Options :

1. ✓ 150
2. ✗ 270
3. ✗ 420
4. ✗ 30

Question Number : 51 Question Id : 54062614538 Question Type : MCQ Option Shuffling : Yes Is Question Mandatory : No Option Orientation : Vertical

Correct Marks : 1 Wrong Marks : 0.25

If $P : Q = 2 : 3$, $Q : R = 1 : 2$ and $R : S = 3 : 4$, then what is the value of $P : R : S$?

Options :

1. ✗ 1 : 4 : 4
2. ✓ 1 : 3 : 4
3. ✗ 4 : 3 : 1
4. ✗ 3 : 4 : 1

Question Number : 51 Question Id : 54062614538 Question Type : MCQ Option Shuffling : Yes Is Question Mandatory : No Option Orientation : Vertical

Correct Marks : 1 Wrong Marks : 0.25

यदि $P : Q = 2 : 3$, $Q : R = 1 : 2$ तथा $R : S = 3 : 4$, तो $P : R : S$ का मान क्या है?

Options :

1. ✗ 1 : 4 : 4
2. ✓ 1 : 3 : 4
3. ✗ 4 : 3 : 1
4. ✗ 3 : 4 : 1

Question Number : 52 Question Id : 54062614539 Question Type : MCQ Option Shuffling : Yes Is Question Mandatory : No Option Orientation : Vertical

Correct Marks : 1 Wrong Marks : 0.25

A person lent certain sum of money at the annual rate of 12 percent on simple interest and the interest received in 7 years is Rs. 320 less than the sum lent. What is the sum lent?

Options :

1. ✘ Rs. 1920
2. ✘ Rs. 2660
3. ✘ Rs. 1800
4. ✔ Rs. 2000

Question Number : 52 Question Id : 54062614539 Question Type : MCQ Option Shuffling : Yes Is Question Mandatory : No Option Orientation : Vertical

Correct Marks : 1 Wrong Marks : 0.25

एक व्यक्ति किसी निश्चित राशि को 12 प्रतिशत की वार्षिक दर से साधारण ब्याज पर उधार देता है तथा 7 वर्षों में प्राप्त किया गया ब्याज उधार दी गई राशि से 320 रुपये कम है। उधार दी गई राशि क्या है?

Options :

1. ✘ 1920 रुपये
2. ✘ 2660 रुपये
3. ✘ 1800 रुपये
4. ✔ 2000 रुपये

Question Number : 53 Question Id : 54062614540 Question Type : MCQ Option Shuffling : Yes Is Question Mandatory : No Option Orientation : Vertical

Correct Marks : 1 Wrong Marks : 0.25

A car left 18 minutes early than the scheduled time but in order to reach its destination 102 km away in time, it had to slow its usual speed by 9 km/hr. What is the usual speed of the car?

Options :

1. ✘ 30 km/hr
2. ✔ 60 km/hr
3. ✘ 45 km/hr
4. ✘ 75 km/hr

Question Number : 53 Question Id : 54062614540 Question Type : MCQ Option Shuffling : Yes Is Question Mandatory : No Option Orientation : Vertical

Correct Marks : 1 Wrong Marks : 0.25

एक कार अपने निर्धारित समय से 18 मिनट पहले निकलती है लेकिन 102 कि.मी. दूर अपने गंतव्य स्थान पर समय से पहुँचने के लिए उसे अपनी सामान्य गति में 9 कि.मी./घंटा की कमी करनी पड़ेगी। कार की सामान्य गति क्या है?

Options :

1. ✘ 30 कि.मी/घंटा
2. ✔ 60 कि.मी/घंटा
3. ✘ 45 कि.मी/घंटा
4. ✘ 70 कि.मी/घंटा

Question Number : 54 Question Id : 54062614541 Question Type : MCQ Option Shuffling : Yes Is Question Mandatory : No Option Orientation : Vertical

Correct Marks : 1 Wrong Marks : 0.25

Which of the following statement is correct?

- I. Length of a platform is 800 metres. If a 1200 meter train can cross it in 40 seconds, then speed of train is 180 km/hr.
- II. If a car can cover 400 meter in 25 seconds, then the speed of car is 45 km/hr.

Options :

1. ✔ Only I
2. ✘ Only II
3. ✘ Both I and II
4. ✘ Neither I nor II

Question Number : 54 Question Id : 54062614541 Question Type : MCQ Option Shuffling : Yes Is Question Mandatory : No Option Orientation : Vertical

Correct Marks : 1 Wrong Marks : 0.25

निम्नलिखित में से कौन सा कथन सही है?

- I. एक प्लेटफॉर्म की लम्बाई 800 मीटर है। यदि एक 1200 मीटर लंबी रेलगाड़ी इसे 40 सेकण्ड में पार कर सकती है, तो रेलगाड़ी की गति 180 कि.मी./घंटा है।
- II. यदि एक गाड़ी 25 सेकण्ड में 400 मीटर तय कर सकती है, तो गाड़ी की गति 45 कि.मी./घंटा है।

Options :

1. ✔ केवल I
2. ✘ केवल II
3. ✘ I तथा II दोनों
4. ✘ ना ही I ना ही II

Question Number : 55 Question Id : 54062614542 Question Type : MCQ Option Shuffling : Yes Is Question Mandatory : No Option Orientation : Vertical

Correct Marks : 1 Wrong Marks : 0.25

A and B together can do a work in 8 days. B and C together can do the work in 10 days. C and A together can do the work in 12 days. In how many days can B alone do the same work?

Options :

1. ✘ $\frac{120}{17}$

2. ✔ $\frac{240}{17}$

3. ✘ $\frac{120}{13}$

4. ✘ $\frac{240}{13}$

Question Number : 55 Question Id : 54062614542 Question Type : MCQ Option Shuffling : Yes Is Question Mandatory : No Option Orientation : Vertical

Correct Marks : 1 Wrong Marks : 0.25

A तथा B एक कार्य को 8 दिन में कर सकते हैं। B तथा C उसी कार्य को 10 दिन में कर सकते हैं। C तथा A उसी कार्य को 12 दिन में कर सकते हैं। B अकेला उसी कार्य को कितने दिन में कर सकता है?

Options :

1. ✘ $\frac{120}{17}$

2. ✔ $\frac{240}{17}$

3. ✘ $\frac{120}{13}$

4. ✘ $\frac{240}{13}$

Question Number : 56 Question Id : 54062614543 Question Type : MCQ Option Shuffling : Yes Is Question Mandatory : No Option Orientation : Vertical

Correct Marks : 1 Wrong Marks : 0.25

Length of a rectangle is 8 cm more than its breadth. If sum of length and breadth is 32 cm, then what will be the area of rectangle?

Options :

1. ✔ 240 cm²
2. ✘ 48 cm²
3. ✘ 96 cm²
4. ✘ 180 cm²

Question Number : 56 Question Id : 54062614543 Question Type : MCQ Option Shuffling : Yes Is Question Mandatory : No Option Orientation : Vertical

Correct Marks : 1 Wrong Marks : 0.25

एक आयत की लम्बाई उसकी चौड़ाई से 8 से.मी. अधिक है। यदि लम्बाई तथा चौड़ाई का योग 32 से.मी. है, तो आयत का क्षेत्रफल क्या होगा?

Options :

1. ✔ 240 से.मी.²
2. ✘ 48 से.मी.²
3. ✘ 96 से.मी.²
4. ✘ 180 से.मी.²

Question Number : 57 Question Id : 54062614544 Question Type : MCQ Option Shuffling : Yes Is Question Mandatory : No Option Orientation : Vertical

Correct Marks : 1 Wrong Marks : 0.25

Curved surface area of a cylinder is 880 cm^2 . If height of the cylinder is 10 cm, then what will be the total surface area of cylinder?

Options :

1. ✘ 1532 cm^2
2. ✘ 1760 cm^2
3. ✔ 2112 cm^2
4. ✘ 1872 cm^2

Question Number : 57 Question Id : 54062614544 Question Type : MCQ Option Shuffling : Yes Is Question Mandatory : No Option Orientation : Vertical

Correct Marks : 1 Wrong Marks : 0.25

एक बेलन का वक्र पृष्ठीय क्षेत्रफल 880 से.मी.^2 है। यदि बेलन की ऊँचाई 10 से.मी. है, तो बेलन का कुल पृष्ठीय क्षेत्रफल क्या होगा?

Options :

1. ✘ 1532 से.मी.^2
2. ✘ 1760 से.मी.^2
3. ✔ 2112 से.मी.^2
4. ✘ 1872 से.मी.^2

Question Number : 58 Question Id : 54062614545 Question Type : MCQ Option Shuffling : Yes Is Question Mandatory : No Option Orientation : Vertical

Correct Marks : 1 Wrong Marks : 0.25

The table given below shows the number of bottles in 9 shops.

Shops	Number of bottles
A	76
B	84
C	90
D	120
E	280
F	140
G	460
H	118
I	92

Which of the following statement is not correct?

Options :

- ✘ Average number of bottles in A, B, H and I are 92.5
- ✘ Ratio of total number of bottles in F and G to the total number of bottles in D and C is 20 : 7
- ✔ Total number of bottles in E, F, D and I are 612
- ✘ Number of bottles in D are 14.28 percent less than the number of bottles in F

Question Number : 58 Question Id : 54062614545 Question Type : MCQ Option Shuffling : Yes Is Question Mandatory : No Option Orientation : Vertical

Correct Marks : 1 Wrong Marks : 0.25

नीचे दी गयी तालिका 9 दुकानों में बोतलों की संख्या को दर्शाती है।

दुकानें	बोतलों की संख्या
A	76
B	84
C	90
D	120
E	280
F	140
G	460
H	118
I	92

निम्नलिखित में से कौन सा कथन सही नहीं है?

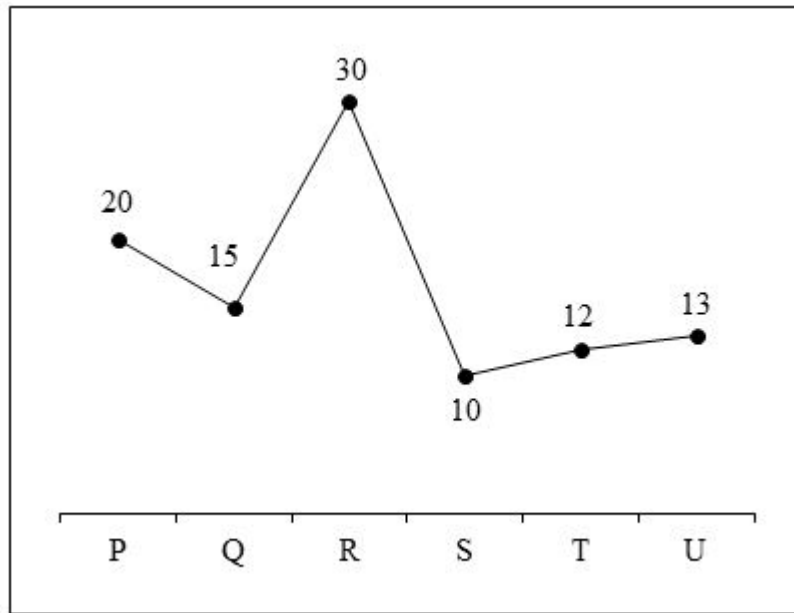
Options :

- ✘ A, B, H तथा I में बोतलों की औसत संख्या 92.5 है
- ✘ F तथा G में बोतलों की कुल संख्या का D तथा C में बोतलों की कुल संख्या का अनुपात 20 : 7 है
- ✔ E, F, D तथा I में बोतलों की कुल संख्या 612 है
- ✘ D में बोतलों की संख्या, F में बोतलों की संख्या से 14.28 प्रतिशत कम है

Question Number : 59 Question Id : 54062614546 Question Type : MCQ Option Shuffling : Yes Is Question Mandatory : No Option Orientation : Vertical

Correct Marks : 1 Wrong Marks : 0.25

The line chart given below shows the number of males in 6 states. Number of males in a particular state and shown as a percentage of total number of males in all 6 states.



Which of the following statement(s) is/are correct?

- I. Number of males in U are 13.33 percent less than the number of males in Q.
- II. Ratio of number of males in P to the number of males in T is 5 : 3.

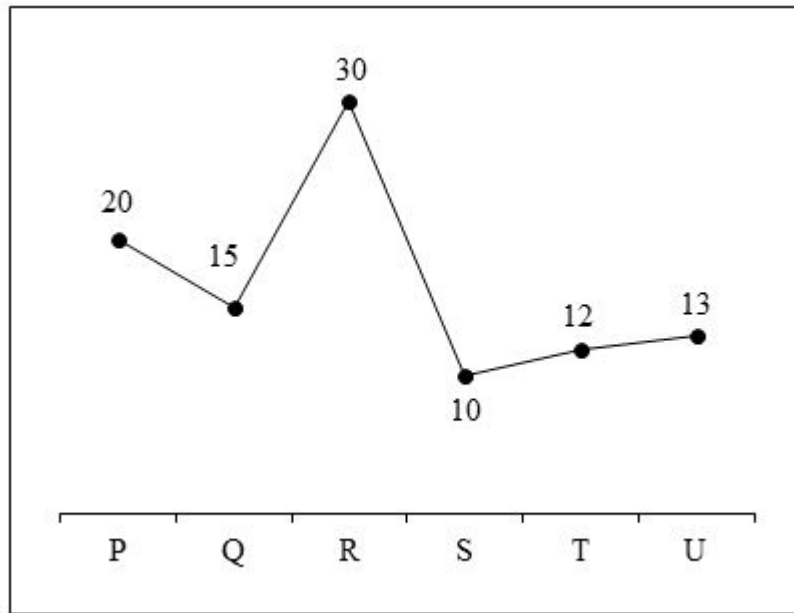
Options :

- 1. ✘ Only I
- 2. ✘ Only II
- 3. ✔ Both I and II
- 4. ✘ Neither I nor II

Question Number : 59 Question Id : 54062614546 Question Type : MCQ Option Shuffling : Yes Is Question Mandatory : No Option Orientation : Vertical

Correct Marks : 1 Wrong Marks : 0.25

नीचे दिया गया रेखा चित्र 6 राज्यों में पुरुषों की संख्या को दर्शाता है। एक विशिष्ट राज्य में पुरुषों की संख्या को सभी 6 राज्यों में पुरुषों की कुल संख्या के प्रतिशत के रूप में दर्शाया गया है।



निम्नलिखित में से कौन सा/से कथन सही है/हैं?

- I. U में पुरुषों की संख्या, Q में पुरुषों की संख्या से 13.33 प्रतिशत कम है।
- II. P में पुरुषों की संख्या का T में पुरुषों की संख्या से 5 : 3 का अनुपात है।

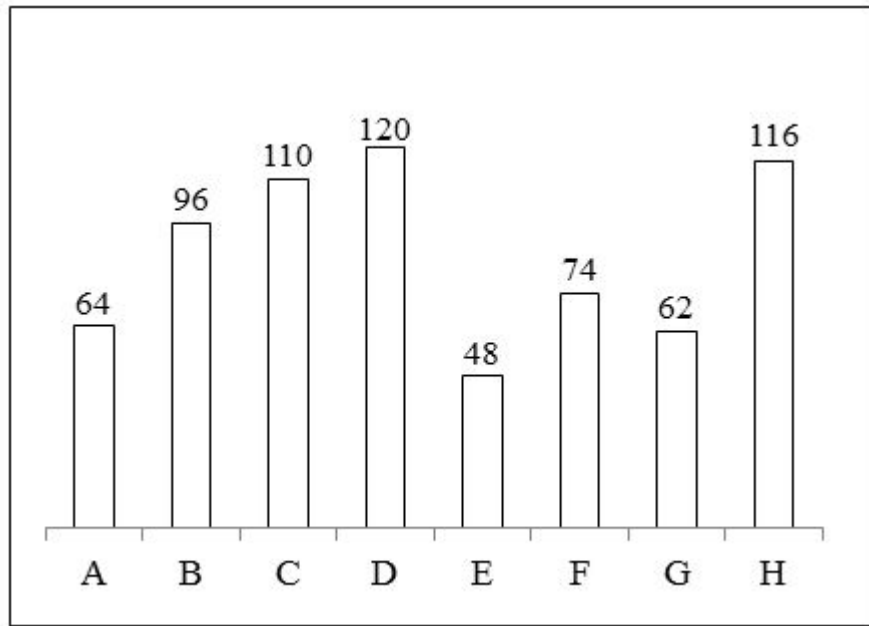
Options :

1. ✘ केवल I
2. ✘ केवल II
3. ✔ I तथा II दोनों
4. ✘ ना ही I ना ही II

Question Number : 60 Question Id : 54062614547 Question Type : MCQ Option Shuffling : Yes Is Question Mandatory : No Option Orientation : Vertical

Correct Marks : 1 Wrong Marks : 0.25

The bar graph given below shows the number of chairs in 8 classes.



Which of the following statement(s) is/are not correct?

- I. Number of chairs in B are 29.73 percent more than the number of chairs in F.
 II. Average number of chairs per shop are 88.25.

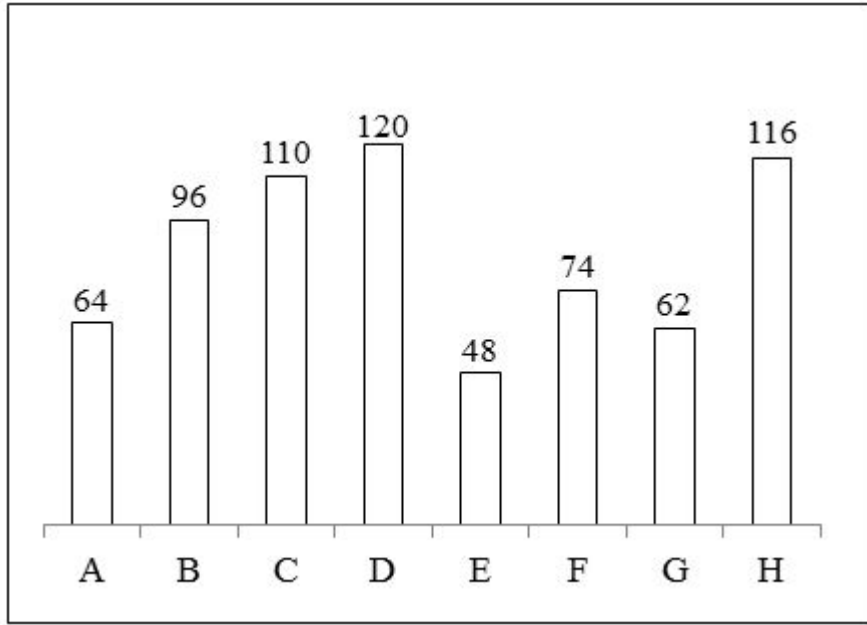
Options :

1. ✘ Only I
2. ✔ Only II
3. ✘ Both I and II
4. ✘ Neither I nor II

Question Number : 60 Question Id : 54062614547 Question Type : MCQ Option Shuffling : Yes Is Question Mandatory : No Option Orientation : Vertical

Correct Marks : 1 Wrong Marks : 0.25

नीचे दिया गया बार ग्राफ 8 कक्षाओं में कुर्सियों की संख्या को दर्शाता है।



निम्नलिखित में से कौन सा/से कथन सही नहीं है/हैं।

- I. B में कुर्सियों की संख्या, F में कुर्सियों की संख्या से 29.73 प्रतिशत अधिक है।
 II. प्रति दुकान कुर्सियों की औसत संख्या 88.25 है।

Options :

1. ✘ केवल I
2. ✔ केवल II
3. ✘ I तथा II दोनों
4. ✘ ना ही I ना ही II

General English

Group Number :	4
Group Id :	540626492
Group Maximum Duration :	0
Group Minimum Duration :	0
Show Attended Group? :	No
Edit Attended Group? :	No

Break time : 0
Group Marks : 20
Is this Group for Examiner? : No

General English

Section Id : 540626666
Section Number : 1
Section type : Online
Mandatory or Optional : Mandatory
Number of Questions : 16
Number of Questions to be attempted : 16
Section Marks : 20
Enable Mark as Answered Mark for Review and Clear Response : Yes
Sub-Section Number : 1
Sub-Section Id : 540626800
Question Shuffling Allowed : Yes

Question Number : 61 Question Id : 54062614548 Question Type : MCQ Option Shuffling : Yes Is Question Mandatory : No Option Orientation : Vertical

Correct Marks : 1 Wrong Marks : 0.25

Find the part of the given sentence that has an error in it. If there is no error, choose 'No error'.

With the growing (1)/ expenses, I am not able (2)/ to meet the both ends. (3)/ No error (4)

Options :

1. ✘ With the growing
2. ✘ expenses, I am not able
3. ✔ to meet the both ends.
4. ✘ No error

Question Number : 61 Question Id : 54062614548 Question Type : MCQ Option Shuffling : Yes Is Question Mandatory : No Option Orientation : Vertical

Correct Marks : 1 Wrong Marks : 0.25

Find the part of the given sentence that has an error in it. If there is no error, choose 'No error'.

With the growing (1)/ expenses, I am not able (2)/ to meet the both ends. (3)/ No error (4)

Options :

1. ✘ With the growing
2. ✘ expenses, I am not able
3. ✔ to meet the both ends.
4. ✘ No error

Question Number : 62 Question Id : 54062614549 Question Type : MCQ Option Shuffling : Yes Is Question Mandatory : No Option Orientation : Vertical

Correct Marks : 1 Wrong Marks : 0.25

Find the part of the given sentence that has an error in it. If there is no error, choose 'No error'.

Modern cities pulsate (1)/ of life, whatever the (2)/ time of the day. (3)/ No error (4)

Options :

1. ✘ Modern cities pulsate
2. ✔ of life, whatever the
3. ✘ time of the day.
4. ✘ No error

Question Number : 62 Question Id : 54062614549 Question Type : MCQ Option Shuffling : Yes Is Question Mandatory : No Option Orientation : Vertical

Correct Marks : 1 Wrong Marks : 0.25

Find the part of the given sentence that has an error in it. If there is no error, choose 'No error'.

Modern cities pulsate (1)/ of life, whatever the (2)/ time of the day. (3)/ No error (4)

Options :

1. ✘ Modern cities pulsate
2. ✔ of life, whatever the
3. ✘ time of the day.
4. ✘ No error

Question Number : 63 Question Id : 54062614550 Question Type : MCQ Option Shuffling : Yes Is Question Mandatory : No Option Orientation : Vertical

Correct Marks : 1 Wrong Marks : 0.25

Select the most appropriate option to substitute the underlined segment in the given sentence. If no substitution is required, select No improvement.

I am worried; I may be little protected against all these variant.

Options :

1. ✓ less
2. ✗ least
3. ✗ low
4. ✗ No Improvement

Question Number : 63 Question Id : 54062614550 Question Type : MCQ Option Shuffling : Yes Is Question Mandatory : No Option Orientation : Vertical

Correct Marks : 1 Wrong Marks : 0.25

Select the most appropriate option to substitute the underlined segment in the given sentence. If no substitution is required, select No improvement.

I am worried; I may be little protected against all these variant.

Options :

1. ✓ less
2. ✗ least
3. ✗ low
4. ✗ No Improvement

Question Number : 64 Question Id : 54062614551 Question Type : MCQ Option Shuffling : Yes Is Question Mandatory : No Option Orientation : Vertical

Correct Marks : 1 Wrong Marks : 0.25

The following sentence has been divided into four parts as given in options. Select the option that represents the grammatically erroneous part of the sentence.

The Department of Commerce(1)/ organised (2)/ a four days seminar (3)/ from 21st March to 24th March. (4)

Options :

- ✘ The Department of Commerce
- ✔ a four days seminar
- ✘ organised
- ✘ from 21st March to 24th March.

Question Number : 64 Question Id : 54062614551 Question Type : MCQ Option Shuffling : Yes Is Question Mandatory : No Option Orientation : Vertical

Correct Marks : 1 Wrong Marks : 0.25

The following sentence has been divided into four parts as given in options. Select the option that represents the grammatically erroneous part of the sentence.

The Department of Commerce(1)/ organised (2)/ a four days seminar (3)/ from 21st March to 24th March. (4)

Options :

- ✘ The Department of Commerce
- ✔ a four days seminar
- ✘ organised
- ✘ from 21st March to 24th March.

Question Number : 65 Question Id : 54062614552 Question Type : MCQ Option Shuffling : Yes Is Question Mandatory : No Option Orientation : Vertical

Correct Marks : 1 Wrong Marks : 0.25

A sentence has been given with a blank to be filled with an appropriate word. Choose the correct alternative.

Social workers are doing a great job by helping _____ children.

Options :

- ✘ notorious
- ✘ greedy
- ✔ unprivileged
- ✘ deficient

Question Number : 65 Question Id : 54062614552 Question Type : MCQ Option Shuffling : Yes Is Question Mandatory : No Option Orientation : Vertical

Correct Marks : 1 Wrong Marks : 0.25

A sentence has been given with a blank to be filled with an appropriate word. Choose the correct alternative.

Social workers are doing a great job by helping _____ children.

Options :

1. ✘ notorious
2. ✘ greedy
3. ✔ unprivileged
4. ✘ deficient

Question Number : 66 Question Id : 54062614553 Question Type : MCQ Option Shuffling : Yes Is Question Mandatory : No Option Orientation : Vertical

Correct Marks : 1 Wrong Marks : 0.25

A sentence has been given with a blank to be filled with an appropriate word/words. Choose the correct alternative.

The _____ chapter in the science book is related to diseases.

Options :

1. ✔ last
2. ✘ least
3. ✘ rear
4. ✘ older

Question Number : 66 Question Id : 54062614553 Question Type : MCQ Option Shuffling : Yes Is Question Mandatory : No Option Orientation : Vertical

Correct Marks : 1 Wrong Marks : 0.25

A sentence has been given with a blank to be filled with an appropriate word/words. Choose the correct alternative.

The _____ chapter in the science book is related to diseases.

Options :

1. ✔ last
2. ✘ least
3. ✘ rear
4. ✘ older

Question Number : 67 Question Id : 54062614554 Question Type : MCQ Option Shuffling : Yes Is Question Mandatory : No Option Orientation : Vertical

Correct Marks : 1 Wrong Marks : 0.25

Rearrange the parts of the sentence in correct order.

Fair Trade coffee, part of the

P: particularly in the poorer regions of the coffee-growing world, are paid a fair price

Q: ensure that coffee is harvested and processed without child

R: labour and dangerous herbicides and pesticides and that growers and exporters

S: larger Fair Trade movement, arose to

Options :

1. ✘ RPSQ
2. ✘ PSQR
3. ✔ SQRP
4. ✘ RQPS

Question Number : 67 Question Id : 54062614554 Question Type : MCQ Option Shuffling : Yes Is Question Mandatory : No Option Orientation : Vertical

Correct Marks : 1 Wrong Marks : 0.25

Rearrange the parts of the sentence in correct order.

Fair Trade coffee, part of the

P: particularly in the poorer regions of the coffee-growing world, are paid a fair price

Q: ensure that coffee is harvested and processed without child

R: labour and dangerous herbicides and pesticides and that growers and exporters

S: larger Fair Trade movement, arose to

Options :

1. ✘ RPSQ
2. ✘ PSQR
3. ✔ SQRP
4. ✘ RQPS

Question Number : 68 Question Id : 54062614555 Question Type : MCQ Option Shuffling : Yes Is Question Mandatory : No Option Orientation : Vertical

Correct Marks : 1 Wrong Marks : 0.25

Rearrange the parts of the sentence in the correct order.

P: and Great Britain have held sway—notably in
Q: Taiwan, South Korea, the Philippines, and India
R: flourished wherever the United States
S: a local comics industry in native languages has

Options :

1. ✓ SRPQ
2. ✗ SPQR
3. ✗ SRQP
4. ✗ PQSR

Question Number : 68 Question Id : 54062614555 Question Type : MCQ Option Shuffling : Yes Is Question Mandatory : No Option Orientation : Vertical

Correct Marks : 1 Wrong Marks : 0.25

Rearrange the parts of the sentence in the correct order.

P: and Great Britain have held sway—notably in
Q: Taiwan, South Korea, the Philippines, and India
R: flourished wherever the United States
S: a local comics industry in native languages has

Options :

1. ✓ SRPQ
2. ✗ SPQR
3. ✗ SRQP
4. ✗ PQSR

Question Number : 69 Question Id : 54062614556 Question Type : MCQ Option Shuffling : Yes Is Question Mandatory : No Option Orientation : Vertical

Correct Marks : 1 Wrong Marks : 0.25

Choose the word that means the same as the given word.

Bulky

Options :

1. ✗ Soothe

2. ✘ Tender
3. ✔ Enormous
4. ✘ Simplify

Question Number : 69 Question Id : 54062614556 Question Type : MCQ Option Shuffling : Yes Is Question Mandatory : No Option Orientation : Vertical

Correct Marks : 1 Wrong Marks : 0.25

Choose the word that means the same as the given word.

Bulky

Options :

1. ✘ Soothe
2. ✘ Tender
3. ✔ Enormous
4. ✘ Simplify

Question Number : 70 Question Id : 54062614557 Question Type : MCQ Option Shuffling : Yes Is Question Mandatory : No Option Orientation : Vertical

Correct Marks : 1 Wrong Marks : 0.25

Choose the word that is opposite in meaning to the given word.

Articulate

Options :

1. ✘ Loquacious
2. ✘ Photogenic
3. ✔ Halting
4. ✘ Voluble

Question Number : 70 Question Id : 54062614557 Question Type : MCQ Option Shuffling : Yes Is Question Mandatory : No Option Orientation : Vertical

Correct Marks : 1 Wrong Marks : 0.25

Choose the word that is opposite in meaning to the given word.

Articulate

Options :

1. ✘ Loquacious
2. ✘ Photogenic
3. ✔ Halting
4. ✘ Voluble

Question Number : 71 Question Id : 54062614558 Question Type : MCQ Option Shuffling : Yes Is Question Mandatory : No Option Orientation : Vertical

Correct Marks : 1 Wrong Marks : 0.25

In the given question, four words are given out of which one word is correctly spelt. Choose the correctly spelt word.

Options :

1. ✘ Straeght
2. ✔ Straight
3. ✘ Straightt
4. ✘ Steraight

Question Number : 71 Question Id : 54062614558 Question Type : MCQ Option Shuffling : Yes Is Question Mandatory : No Option Orientation : Vertical

Correct Marks : 1 Wrong Marks : 0.25

In the given question, four words are given out of which one word is correctly spelt. Choose the correctly spelt word.

Options :

1. ✘ Straeght
2. ✔ Straight
3. ✘ Straightt
4. ✘ Steraight

Question Number : 72 Question Id : 54062614559 Question Type : MCQ Option Shuffling : Yes Is Question Mandatory : No Option Orientation : Vertical

Correct Marks : 1 Wrong Marks : 0.25

In the given question, four words are given out of which one word is incorrectly spelt. Choose the incorrectly spelt word.

Options :

1. ✘ Hinge
2. ✘ Brussels
3. ✘ Drainage
4. ✔ Comprehension

Question Number : 72 Question Id : 54062614559 Question Type : MCQ Option Shuffling : Yes Is Question Mandatory : No Option Orientation : Vertical

Correct Marks : 1 Wrong Marks : 0.25

In the given question, four words are given out of which one word is incorrectly spelt. Choose the incorrectly spelt word.

Options :

1. ✘ Hinge
2. ✘ Brussels
3. ✘ Drainage
4. ✔ Comprehension

Question Number : 73 Question Id : 54062614560 Question Type : MCQ Option Shuffling : Yes Is Question Mandatory : No Option Orientation : Vertical

Correct Marks : 1 Wrong Marks : 0.25

In the following question, out of the given four alternatives, select the alternative which best expresses the meaning of the Idiom/Phrase.

To cry over split milk

Options :

1. ✘ To be careless
2. ✔ To lament over what cannot be changed
3. ✘ To weep heavily, suddenly
4. ✘ To die during war

Question Number : 73 Question Id : 54062614560 Question Type : MCQ Option Shuffling : Yes Is Question Mandatory : No Option Orientation : Vertical

Correct Marks : 1 Wrong Marks : 0.25

In the following question, out of the given four alternatives, select the alternative which best expresses the meaning of the Idiom/Phrase.

To cry over split milk

Options :

1. ✘ To be careless
2. ✔ To lament over what cannot be changed
3. ✘ To weep heavily, suddenly
4. ✘ To die during war

Question Number : 74 Question Id : 54062614561 Question Type : MCQ Option Shuffling : Yes Is Question Mandatory : No Option Orientation : Vertical

Correct Marks : 1 Wrong Marks : 0.25

In the following question, out of the given four alternatives, select the alternative which best expresses the meaning of the Idiom/Phrase.

A bull in a china shop

Options :

1. ✔ A rough and clumsy person where care and skill are needed
2. ✘ To endure the shock of
3. ✘ To make a wrong choice
4. ✘ To pass a judgment

Question Number : 74 Question Id : 54062614561 Question Type : MCQ Option Shuffling : Yes Is Question Mandatory : No Option Orientation : Vertical

Correct Marks : 1 Wrong Marks : 0.25

In the following question, out of the given four alternatives, select the alternative which best expresses the meaning of the Idiom/Phrase.

A bull in a china shop

Options :

1. ✔ A rough and clumsy person where care and skill are needed
2. ✘ To endure the shock of
3. ✘ To make a wrong choice
4. ✘ To pass a judgment

Question Number : 75 Question Id : 54062614562 Question Type : MCQ Option Shuffling : Yes Is Question Mandatory : No Option Orientation : Vertical

Correct Marks : 1 Wrong Marks : 0.25

Choose the word that can substitute the given sentence.

A group of applauders i.e. paid to clap

Options :

1. ✓ **Claque**
2. ✗ **Community**
3. ✗ **Brace**
4. ✗ **Decorum**

Question Number : 75 Question Id : 54062614562 Question Type : MCQ Option Shuffling : Yes Is Question Mandatory : No Option Orientation : Vertical

Correct Marks : 1 Wrong Marks : 0.25

Choose the word that can substitute the given sentence.

A group of applauders i.e. paid to clap

Options :

1. ✓ **Claque**
2. ✗ **Community**
3. ✗ **Brace**
4. ✗ **Decorum**

Sub-Section Number :

2

Sub-Section Id :

540626801

Question Shuffling Allowed :

Yes

Question Id : 54062614563 Question Type : COMPREHENSION Sub Question Shuffling Allowed : Yes Group Comprehension Questions : No

Question Numbers : (76 to 80)

Read the following passage carefully and answer the given questions.

Batten disease, also called Spielmeyer-Vogt-Sjogren-Batten disease or juvenile Batten disease, rare and fatal neurodegenerative disease that begins in childhood. The disease is named for British physician Frederick Batten, who in 1903 described the cerebral degeneration and macular changes characteristic of the condition.

Although Batten Disease is usually regarded as the juvenile form of NCL, it has now become the term to describe all forms of NCL. The basic cause, progression, and the outcome are the same. The forms of NCL are classified by age of onset, and eight different genes [CLN1 – CLN8]

have been identified as causing the disorder.

Batten disease is among the most commonly occurring of the neuronal ceroid lipofuscinoses (NCLs), a group of inherited lysosomal storage disorders, the primary feature of which is progressive neurodegeneration with cognitive decline, loss of motor ability, worsening seizures, and early death.

Batten disease manifests in childhood, typically between ages 4 and 10 years. One of the earliest symptoms is vision impairment, which is followed by a regression in development, often characterized initially by a loss of previously acquired speech skills and an inability to learn new skills.

As the disease progresses, the affected individual experiences a further loss of communication skills as well as a loss of motor function, causing slow and stiff movements and difficulty walking. Recurrent seizures, disordered sleep, cardiovascular problems, and behavioral problems also emerge. Affected individuals typically survive only into late adolescence or early adulthood.

Sub questions

Question Number : 76 Question Id : 54062614564 Question Type : MCQ Option Shuffling : Yes Is Question Mandatory : No Option Orientation : Vertical

Correct Marks : 1 Wrong Marks : 0.25

What can be the suitable title for the given passage?

Options :

1. ✘ Batten disease
2. ✔ Batten disease and its course
3. ✘ Characteristics of Batten disease
4. ✘ Symptoms of Batten disease

Question Number : 77 Question Id : 54062614565 Question Type : MCQ Option Shuffling : Yes Is Question Mandatory : No Option Orientation : Vertical

Correct Marks : 1 Wrong Marks : 0.25

As per the given passage, at which age Batten disease manifests in children?

Options :

1. ✘ 4 years
2. ✘ 10 years
3. ✘ 4 years and 10 years
4. ✔ Between ages 4 and 10 years.

Question Number : 78 Question Id : 54062614566 Question Type : MCQ Option Shuffling : Yes Is Question Mandatory : No Option Orientation : Vertical

Correct Marks : 1 Wrong Marks : 0.25

Which of the following is NOT the symptom of the Batten disease?

Options :

1. ✘ Vision impairment
2. ✘ Cardiovascular problems
3. ✘ Loss of voluntary function
4. ✔ Orderly sleep

Question Number : 79 Question Id : 54062614567 Question Type : MCQ Option Shuffling : Yes Is Question Mandatory : No Option Orientation : Vertical

Correct Marks : 1 Wrong Marks : 0.25

Which of the following word best expresses the antonym of 'progression'?

Options :

1. ✔ Relapse
2. ✘ Attainment
3. ✘ Advance
4. ✘ Nexus

Question Number : 80 Question Id : 54062614568 Question Type : MCQ Option Shuffling : Yes Is Question Mandatory : No Option Orientation : Vertical

Correct Marks : 1 Wrong Marks : 0.25

Which of the following statements is true according to the given passage?

Options :

1. ✘ Person suffering from this disease has a tendency to survive in old age.
2. ✘ Batten disease mostly begins at the age above 14 years.
3. ✔ The forms of NCL are classified into eight different genes.
4. ✘ Batten Disease is usually regarded as the traditional form of NCL.

Question Id : 54062614563 Question Type : COMPREHENSION Sub Question Shuffling Allowed : Yes Group Comprehension Questions : No

Question Numbers : (76 to 80)

Read the following passage carefully and answer the given questions.

Batten disease, also called Spielmeyer-Vogt-Sjogren-Batten disease or juvenile Batten disease, rare and fatal neurodegenerative disease that

begins in childhood. The disease is named for British physician Frederick Batten, who in 1903 described the cerebral degeneration and macular changes characteristic of the condition.

Although Batten Disease is usually regarded as the juvenile form of NCL, it has now become the term to describe all forms of NCL. The basic cause, progression, and the outcome are the same. The forms of NCL are classified by age of onset, and eight different genes [CLN1 – CLN8] have been identified as causing the disorder.

Batten disease is among the most commonly occurring of the neuronal ceroid lipofuscinoses (NCLs), a group of inherited lysosomal storage disorders, the primary feature of which is progressive neurodegeneration with cognitive decline, loss of motor ability, worsening seizures, and early death.

Batten disease manifests in childhood, typically between ages 4 and 10 years. One of the earliest symptoms is vision impairment, which is followed by a regression in development, often characterized initially by a loss of previously acquired speech skills and an inability to learn new skills.

As the disease progresses, the affected individual experiences a further loss of communication skills as well as a loss of motor function, causing slow and stiff movements and difficulty walking. Recurrent seizures, disordered sleep, cardiovascular problems, and behavioral problems also emerge. Affected individuals typically survive only into late adolescence or early adulthood.

Sub questions

Question Number : 76 Question Id : 54062614564 Question Type : MCQ Option Shuffling : Yes Is Question Mandatory : No Option Orientation : Vertical

Correct Marks : 1 Wrong Marks : 0.25

What can be the suitable title for the given passage?

Options :

1. ✘ Batten disease
2. ✔ Batten disease and its course
3. ✘ Characteristics of Batten disease
4. ✘ Symptoms of Batten disease

Question Number : 77 Question Id : 54062614565 Question Type : MCQ Option Shuffling : Yes Is Question Mandatory : No Option Orientation : Vertical

Correct Marks : 1 Wrong Marks : 0.25

As per the given passage, at which age Batten disease manifests in children?

Options :

1. ✘ 4 years
2. ✘ 10 years
3. ✘ 4 years and 10 years
4. ✔ Between ages 4 and 10 years.

Question Number : 78 Question Id : 54062614566 Question Type : MCQ Option Shuffling : Yes Is Question Mandatory : No Option Orientation : Vertical

Correct Marks : 1 Wrong Marks : 0.25

Which of the following is NOT the symptom of the Batten disease?

Options :

1. ✘ Vision impairment
2. ✘ Cardiovascular problems
3. ✘ Loss of voluntary function
4. ✔ Orderly sleep

Question Number : 79 Question Id : 54062614567 Question Type : MCQ Option Shuffling : Yes Is Question Mandatory : No Option Orientation : Vertical

Correct Marks : 1 Wrong Marks : 0.25

Which of the following word best expresses the antonym of 'progression'?

Options :

1. ✔ Relapse
2. ✘ Attainment
3. ✘ Advance
4. ✘ Nexus

Question Number : 80 Question Id : 54062614568 Question Type : MCQ Option Shuffling : Yes Is Question Mandatory : No Option Orientation : Vertical

Correct Marks : 1 Wrong Marks : 0.25

Which of the following statements is true according to the given passage?

Options :

1. ✘ Person suffering from this disease has a tendency to survive in old age.
2. ✘ Batten disease mostly begins at the age above 14 years.
3. ✔ The forms of NCL are classified into eight different genes.
4. ✘ Batten Disease is usually regarded as the traditional form of NCL.

General Hindi

Group Number :	5
Group Id :	540626493
Group Maximum Duration :	0
Group Minimum Duration :	0
Show Attended Group? :	No
Edit Attended Group? :	No
Break time :	0
Group Marks :	20
Is this Group for Examiner? :	No

General Hindi

Section Id :	540626667
Section Number :	1
Section type :	Online
Mandatory or Optional :	Mandatory
Number of Questions :	16
Number of Questions to be attempted :	16
Section Marks :	20
Enable Mark as Answered Mark for Review and Clear Response :	Yes
Sub-Section Number :	1
Sub-Section Id :	540626802
Question Shuffling Allowed :	Yes

Question Number : 81 Question Id : 54062614569 Question Type : MCQ Option Shuffling : Yes Is Question Mandatory : No Option Orientation : Vertical

Correct Marks : 1 Wrong Marks : 0.25

दिए गए शब्दों की संधि विच्छेद ज्ञात कीजिए।

उल्लास

Options :

1. ✖ उल + आस

2. ✘ उल्ल + ईस
3. ✔ उत् + लास
4. ✘ उघ + लास

Question Number : 81 Question Id : 54062614569 Question Type : MCQ Option Shuffling : Yes Is Question Mandatory : No Option Orientation : Vertical

Correct Marks : 1 Wrong Marks : 0.25

दिए गए शब्दों की संधि विच्छेद ज्ञात कीजिए।

उल्लास

Options :

1. ✘ उल + आस
2. ✘ उल्ल + ईस
3. ✔ उत् + लास
4. ✘ उघ + लास

Question Number : 82 Question Id : 54062614570 Question Type : MCQ Option Shuffling : Yes Is Question Mandatory : No Option Orientation : Vertical

Correct Marks : 1 Wrong Marks : 0.25

दिए गए शब्दों में अकर्मक क्रिया ज्ञात कीजिए।

Options :

1. ✘ बनाना
2. ✔ तैरना
3. ✘ धोना
4. ✘ लिखी

Question Number : 82 Question Id : 54062614570 Question Type : MCQ Option Shuffling : Yes Is Question Mandatory : No Option Orientation : Vertical

Correct Marks : 1 Wrong Marks : 0.25

दिए गए शब्दों में अकर्मक क्रिया ज्ञात कीजिए।

Options :

1. ✘ बनाना
2. ✔ तैरना
3. ✘ धोना
4. ✘ लिखी

Question Number : 83 Question Id : 54062614571 Question Type : MCQ Option Shuffling : Yes Is Question Mandatory : No Option Orientation : Vertical

Correct Marks : 1 Wrong Marks : 0.25

दिए गए वाक्य में अव्यय ज्ञात कीजिए।

मेरा मित्र ट्रेन से आने वाला था परन्तु वह नहीं आया।

Options :

1. ✘ संबंधबोधक
2. ✘ स्थानवाचक क्रिया-विशेषण
3. ✔ समुच्चयबोधक
4. ✘ परिमाणवाचक क्रिया-विशेषण

Question Number : 83 Question Id : 54062614571 Question Type : MCQ Option Shuffling : Yes Is Question Mandatory : No Option Orientation : Vertical

Correct Marks : 1 Wrong Marks : 0.25

दिए गए वाक्य में अव्यय ज्ञात कीजिए।

मेरा मित्र ट्रेन से आने वाला था परन्तु वह नहीं आया।

Options :

1. ✘ संबंधबोधक
2. ✘ स्थानवाचक क्रिया-विशेषण
3. ✔ समुच्चयबोधक
4. ✘ परिमाणवाचक क्रिया-विशेषण

Question Number : 84 Question Id : 54062614572 Question Type : MCQ Option Shuffling : Yes Is Question Mandatory : No Option Orientation : Vertical

Correct Marks : 1 Wrong Marks : 0.25

दिए गए शब्द का विलोम शब्द ज्ञात कीजिए।

इति

Options :

1. ✘ इच्छा
2. ✔ अथ
3. ✘ ईश
4. ✘ ईश्वर

Question Number : 84 Question Id : 54062614572 Question Type : MCQ Option Shuffling : Yes Is Question Mandatory : No Option Orientation : Vertical

Correct Marks : 1 Wrong Marks : 0.25

दिए गए शब्द का विलोम शब्द ज्ञात कीजिए।

इति

Options :

1. ✘ इच्छा
2. ✔ अथ
3. ✘ ईश
4. ✘ ईश्वर

Question Number : 85 Question Id : 54062614573 Question Type : MCQ Option Shuffling : Yes Is Question Mandatory : No Option Orientation : Vertical

Correct Marks : 1 Wrong Marks : 0.25

दिए गए शब्द का पर्यायवाची शब्द ज्ञात कीजिए।

वृक्ष

Options :

1. ✘ वम
2. ✘ गौरस
3. ✘ हरित
4. ✔ तरुवर

Question Number : 85 Question Id : 54062614573 Question Type : MCQ Option Shuffling : Yes Is Question Mandatory : No Option Orientation : Vertical

Correct Marks : 1 Wrong Marks : 0.25

दिए गए शब्द का पर्यायवाची शब्द ज्ञात कीजिए।

वृक्ष

Options :

1. ✘ वम
2. ✘ गौरस
3. ✘ हरित
4. ✔ तरुवर

Question Number : 86 Question Id : 54062614574 Question Type : MCQ Option Shuffling : Yes Is Question Mandatory : No Option Orientation : Vertical

Correct Marks : 1 Wrong Marks : 0.25

दिए गए वाक्यांश के लिए उचित शब्द का चयन कीजिए।

वह शासन प्रणाली जिसमें जन साधारण का शासन हो।

Options :

1. ✘ धर्मतंत्र
2. ✘ परितंत्र
3. ✘ कुलीनतंत्र
4. ✔ प्रजातंत्र

Question Number : 86 Question Id : 54062614574 Question Type : MCQ Option Shuffling : Yes Is Question Mandatory : No Option Orientation : Vertical

Correct Marks : 1 Wrong Marks : 0.25

दिए गए वाक्यांश के लिए उचित शब्द का चयन कीजिए।

वह शासन प्रणाली जिसमें जन साधारण का शासन हो।

Options :

1. ✘ धर्मतंत्र
2. ✘ परितंत्र
3. ✘ कुलीनतंत्र
4. ✔ प्रजातंत्र

Question Number : 87 Question Id : 54062614575 Question Type : MCQ Option Shuffling : Yes Is Question Mandatory : No Option Orientation : Vertical

Correct Marks : 1 Wrong Marks : 0.25

दिए गए शब्दों में शुद्ध वर्तनी का चयन कीजिए।

Options :

1. ✘ अधुरा
2. ✘ आधूरा
3. ✔ अधूरा
4. ✘ अद्दूरा

Question Number : 87 Question Id : 54062614575 Question Type : MCQ Option Shuffling : Yes Is Question Mandatory : No Option Orientation : Vertical

Correct Marks : 1 Wrong Marks : 0.25

दिए गए शब्दों में शुद्ध वर्तनी का चयन कीजिए।

Options :

1. ✘ अधुरा
2. ✘ आधूरा
3. ✔ अधूरा
4. ✘ अद्दूरा

Question Number : 88 Question Id : 54062614576 Question Type : MCQ Option Shuffling : Yes Is Question Mandatory : No Option Orientation : Vertical

Correct Marks : 1 Wrong Marks : 0.25

कौन सा शब्द स्त्रीलिंग नहीं है?

Options :

1. ✘ कमी

2. ✘ घबराहट
3. ✘ मित्रता
4. ✔ बलवान

Question Number : 88 Question Id : 54062614576 Question Type : MCQ Option Shuffling : Yes Is Question Mandatory : No Option Orientation : Vertical

Correct Marks : 1 Wrong Marks : 0.25

कौन सा शब्द स्त्रीलिंग नहीं है?

Options :

1. ✘ कमी
2. ✘ घबराहट
3. ✘ मित्रता
4. ✔ बलवान

Question Number : 89 Question Id : 54062614577 Question Type : MCQ Option Shuffling : Yes Is Question Mandatory : No Option Orientation : Vertical

Correct Marks : 1 Wrong Marks : 0.25

कौन सा शब्द एकवचन है?

Options :

1. ✔ पानी
2. ✘ दर्शन
3. ✘ आँसू
4. ✘ मित्रगण

Question Number : 89 Question Id : 54062614577 Question Type : MCQ Option Shuffling : Yes Is Question Mandatory : No Option Orientation : Vertical

Correct Marks : 1 Wrong Marks : 0.25

कौन सा शब्द एकवचन है?

Options :

1. ✔ पानी
2. ✘ दर्शन

3. ✘ आँसू
4. ✘ मित्रगण

Question Number : 90 Question Id : 54062614578 Question Type : MCQ Option Shuffling : Yes Is Question Mandatory : No Option Orientation : Vertical

Correct Marks : 1 Wrong Marks : 0.25

निम्नलिखित वाक्यों में से शुद्ध वाक्य का चयन कीजिए।

Options :

1. ✘ अरे, वह कब आया।
2. ✔ अरे! वह कब आया?
3. ✘ अरे, वो कब आया।
4. ✘ अरे! ये कौन गया।

Question Number : 90 Question Id : 54062614578 Question Type : MCQ Option Shuffling : Yes Is Question Mandatory : No Option Orientation : Vertical

Correct Marks : 1 Wrong Marks : 0.25

निम्नलिखित वाक्यों में से शुद्ध वाक्य का चयन कीजिए।

Options :

1. ✘ अरे, वह कब आया।
2. ✔ अरे! वह कब आया?
3. ✘ अरे, वो कब आया।
4. ✘ अरे! ये कौन गया।

Question Number : 91 Question Id : 54062614579 Question Type : MCQ Option Shuffling : Yes Is Question Mandatory : No Option Orientation : Vertical

Correct Marks : 1 Wrong Marks : 0.25

निम्नलिखित वाक्यों में से संयुक्त वाक्य ज्ञात कीजिए।

Options :

1. ✘ पैसा साध्य न होकर साधन है।
2. ✘ पैसा साध्य नहीं साधन है।
3. ✔ पैसा साध्य नहीं है, किन्तु साधन है।

4. ✖ पैसा साध्य नहीं है क्योंकि वह साधन है।

Question Number : 91 Question Id : 54062614579 Question Type : MCQ Option Shuffling : Yes Is Question Mandatory : No Option Orientation : Vertical

Correct Marks : 1 Wrong Marks : 0.25

निम्नलिखित वाक्यों में से संयुक्त वाक्य ज्ञात कीजिए।

Options :

1. ✖ पैसा साध्य न होकर साधन है।
2. ✖ पैसा साध्य नहीं साधन है।
3. ✔ पैसा साध्य नहीं है, किन्तु साधन है।
4. ✖ पैसा साध्य नहीं है क्योंकि वह साधन है।

Question Number : 92 Question Id : 54062614580 Question Type : MCQ Option Shuffling : Yes Is Question Mandatory : No Option Orientation : Vertical

Correct Marks : 1 Wrong Marks : 0.25

दिए गए वाक्य में उपयुक्त विराम चिह्न का चयन कीजिए।

मनु ने 10 12 बच्चों को स्कूल में पढ़ाने के लिए तैयार कर लिया।

Options :

1. ✖ []
2. ✖ ‘ ’
3. ✔ –
4. ✖ :-

Question Number : 92 Question Id : 54062614580 Question Type : MCQ Option Shuffling : Yes Is Question Mandatory : No Option Orientation : Vertical

Correct Marks : 1 Wrong Marks : 0.25

दिए गए वाक्य में उपयुक्त विराम चिह्न का चयन कीजिए।

मनु ने 10 12 बच्चों को स्कूल में पढ़ाने के लिए तैयार कर लिया।

Options :

1. ✖ []

2. ✘ ‘ ’
3. ✔ –
4. ✘ :-

Question Number : 93 Question Id : 54062614581 Question Type : MCQ Option Shuffling : Yes Is Question Mandatory : No Option Orientation : Vertical

Correct Marks : 1 Wrong Marks : 0.25

दिए गए वाक्य में उपयुक्त विराम चिह्न का चयन कीजिए।

बच्चों ने मास्टर जी को उपहार के रूप में क्या दिया

Options :

1. ✔ प्रश्नवाचक
2. ✘ पूर्णविराम
3. ✘ अल्पविराम
4. ✘ अर्द्धविराम

Question Number : 93 Question Id : 54062614581 Question Type : MCQ Option Shuffling : Yes Is Question Mandatory : No Option Orientation : Vertical

Correct Marks : 1 Wrong Marks : 0.25

दिए गए वाक्य में उपयुक्त विराम चिह्न का चयन कीजिए।

बच्चों ने मास्टर जी को उपहार के रूप में क्या दिया

Options :

1. ✔ प्रश्नवाचक
2. ✘ पूर्णविराम
3. ✘ अल्पविराम
4. ✘ अर्द्धविराम

Question Number : 94 Question Id : 54062614582 Question Type : MCQ Option Shuffling : Yes Is Question Mandatory : No Option Orientation : Vertical

Correct Marks : 1 Wrong Marks : 0.25

निम्नलिखित प्रश्न में, दिए गए चार विकल्पों में से, उस विकल्प का चयन करें जो दिए गए मुहावरे के अर्थ को सर्वश्रेष्ठ रूप से व्यक्त करता है।

अगस्त्य का समुद्र पान

Options :

1. ✘ हौसला पूरा करना
2. ✘ तिरस्कार करना
3. ✘ ध्यान न देना
4. ✔ असम्भव कार्य करना

Question Number : 94 Question Id : 54062614582 Question Type : MCQ Option Shuffling : Yes Is Question Mandatory : No Option Orientation : Vertical

Correct Marks : 1 Wrong Marks : 0.25

निम्नलिखित प्रश्न में, दिए गए चार विकल्पों में से, उस विकल्प का चयन करें जो दिए गए मुहावरे के अर्थ को सर्वश्रेष्ठ रूप से व्यक्त करता है।

अगस्त्य का समुद्र पान

Options :

1. ✘ हौसला पूरा करना
2. ✘ तिरस्कार करना
3. ✘ ध्यान न देना
4. ✔ असम्भव कार्य करना

Question Number : 95 Question Id : 54062614583 Question Type : MCQ Option Shuffling : Yes Is Question Mandatory : No Option Orientation : Vertical

Correct Marks : 1 Wrong Marks : 0.25

निम्नलिखित प्रश्न में, दिए गए चार विकल्पों में से, उस विकल्प का चयन करें जो दिए गए मुहावरे के अर्थ को सर्वश्रेष्ठ रूप से व्यक्त करता है।

इज्जत पर पानी फिरना

Options :

1. ✘ नुकसान न होना
2. ✘ भेद खोलना
3. ✘ भूखे रहना
4. ✔ इज्जत खराब करना

Question Number : 95 Question Id : 54062614583 Question Type : MCQ Option Shuffling : Yes Is Question Mandatory : No Option Orientation : Vertical

Correct Marks : 1 Wrong Marks : 0.25

निम्नलिखित प्रश्न में, दिए गए चार विकल्पों में से, उस विकल्प का चयन करें जो दिए गए मुहावरे के अर्थ को सर्वश्रेष्ठ रूप से व्यक्त करता है।

इज्जत पर पानी फिरना

Options :

1. ✖ नुकसान न होना
2. ✖ भेद खोलना
3. ✖ भूखे रहना
4. ✔ इज्जत खराब करना

Sub-Section Number :

2

Sub-Section Id :

540626803

Question Shuffling Allowed :

Yes

Question Id : 54062614584 Question Type : COMPREHENSION Sub Question Shuffling Allowed : Yes Group Comprehension Questions : No

Question Numbers : (96 to 100)

निम्नलिखित गद्यांश को ध्यानपूर्वक पढ़ें और दिए गए प्रश्न के उत्तर दें।

गुजरात भारत के पश्चिमी तट पर स्थित है। गुजरात का इतिहास ईसवी पूर्व लगभग 2000 वर्ष पुराना है यह भी माना जाता है कि भगवान कृष्ण मथुरा छोड़कर सौराष्ट्र के पश्चिमी तट पर जा बसे, जो द्वारका यानी प्रवेशद्वार कहलाया। बाद के वर्षों में मौर्य, गुप्त, प्रतिहार तथा अन्य अनेक राजवंशों ने इस प्रदेश पर राज किया। चालुक्य (सोलंकी) राजाओं का शासनकाल गुजरात में प्रगति और समृद्धि का युग था। आजादी से पहले गुजरात का वर्तमान क्षेत्र मुख्य रूप से दो भागों में बंटा था- एक ब्रिटिश क्षेत्र और दूसरा देसी रियासतें। राज्यों के पुनर्गठन के कारण सौराष्ट्र के राज्यों और कच्छ के केंद्रशासित प्रदेश के साथ पूर्व ब्रिटिश गुजरात को मिलाकर द्विभाषी बंबई राज्य का गठन हुआ। पहली मई, 1960 को वर्तमान गुजरात राज्य अस्तित्व में आया। गुजरात का क्षेत्रफल लगभग 196,024 वर्ग किलोमीटर है। महात्मा गांधी और वल्लभभाई पटेल जैसे भारत के कई प्रसिद्ध व्यक्तियों की जन्मभूमि होने के कारण इस जगह की सांस्कृतिक और पारंपरिक विरासत बहुत समृद्ध है और ये राज्य का गौरव बढ़ाती है। गुजरात कपास, तंबाकू और मूंगफली का उत्पादन करने वाला देश का प्रमुख राज्य है। यहां की अन्य महत्वपूर्ण नकदी फसलें हैं- इसबगोल, धान, गेहूं और बाजरा। राज्य में भूतलीय जल तथा भूमिगत जल द्वारा कुल सिंचाई क्षमता 64.88 लाख हेक्टेयर आंकी गई है जिसमें सरदार सरोवर (नर्मदा) परियोजना की 17.92 लाख हेक्टेयर क्षमता है। राज्य में जून 2010 तक कुल सिंचाई क्षमता 31.65 लाख हेक्टेयर तक पहुंच गई थी। जून 2010 तक अधिकतम उपयोग क्षमता 23.79 लाख हेक्टेयर आंकी गई।

Sub questions

Question Number : 96 Question Id : 54062614585 Question Type : MCQ Option Shuffling : Yes Is Question Mandatory : No Option

Orientation : Vertical

Correct Marks : 1 Wrong Marks : 0.25

गुजरात किस तट पर स्थित है?

Options :

1. ✘ दक्षिणी तट
2. ✘ उत्तरी तट
3. ✔ पश्चिमी तट
4. ✘ पूर्वी तट

Question Number : 97 Question Id : 54062614586 Question Type : MCQ Option Shuffling : Yes Is Question Mandatory : No Option

Orientation : Vertical

Correct Marks : 1 Wrong Marks : 0.25

गुजरात राज्य आस्तिव में कब आया था?

Options :

1. ✘ 2010
2. ✔ 1960
3. ✘ 2001
4. ✘ 1910

Question Number : 98 Question Id : 54062614587 Question Type : MCQ Option Shuffling : Yes Is Question Mandatory : No Option

Orientation : Vertical

Correct Marks : 1 Wrong Marks : 0.25

आजादी से पहले गुजरात को मुख्य रूप से कितने भागों में बाँटा गया था?

Options :

1. ✔ दो
2. ✘ पांच
3. ✘ चार
4. ✘ तीन

Question Number : 99 Question Id : 54062614588 Question Type : MCQ Option Shuffling : Yes Is Question Mandatory : No Option

Orientation : Vertical

Correct Marks : 1 Wrong Marks : 0.25

गुजरात का इतिहास कितना पुराना है?

Options :

1. ✘ लगभग 5000 ईसवी
2. ✘ लगभग 2500 ईसवी
3. ✘ लगभग 3000 ईसवी
4. ✔ लगभग 2000 ईसवी

Question Number : 100 Question Id : 54062614589 Question Type : MCQ Option Shuffling : Yes Is Question Mandatory : No Option Orientation : Vertical

Correct Marks : 1 Wrong Marks : 0.25

उपर्युक्त गद्यांश का उपयुक्त शीर्षक क्या होगा?

Options :

1. ✔ गुजरात की संस्कृति और विरासत
2. ✘ राजाओं का शासनकाल
3. ✘ समृद्धि का युग
4. ✘ पारंपरिक विरासत

Question Id : 54062614584 Question Type : COMPREHENSION Sub Question Shuffling Allowed : Yes Group Comprehension Questions : No

Question Numbers : (96 to 100)

निम्नलिखित गद्यांश को ध्यानपूर्वक पढ़ें और दिए गए प्रश्न के उत्तर दें।

गुजरात भारत के पश्चिमी तट पर स्थित है। गुजरात का इतिहास ईसवी पूर्व लगभग 2000 वर्ष पुराना है यह भी माना जाता है कि भगवान कृष्ण मथुरा छोड़कर सौराष्ट्र के पश्चिमी तट पर जा बसे, जो द्वारका यानी प्रवेशद्वार कहलाया। बाद के वर्षों में मौर्य, गुप्त, प्रतिहार तथा अन्य अनेक राजवंशों ने इस प्रदेश पर राज किया। चालुक्य (सोलंकी) राजाओं का शासनकाल गुजरात में प्रगति और समृद्धि का युग था। आजादी से पहले गुजरात का वर्तमान क्षेत्र मुख्य रूप से दो भागों में बंटा था- एक ब्रिटिश क्षेत्र और दूसरा देसी रियासतें। राज्यों के पुनर्गठन के कारण सौराष्ट्र के राज्यों और कच्छ के केंद्रशासित प्रदेश के साथ पूर्व ब्रिटिश गुजरात को मिलाकर द्विभाषी बंबई राज्य का गठन हुआ। पहली मई, 1960 को वर्तमान गुजरात राज्य अस्तित्व में आया। गुजरात का क्षेत्रफल लगभग 196,024 वर्ग किलोमीटर है। महात्मा गांधी और वल्लभभाई पटेल जैसे भारत के कई प्रसिद्ध व्यक्तियों की जन्मभूमि होने के कारण इस जगह की सांस्कृतिक और पारंपरिक विरासत बहुत समृद्ध है और ये राज्य का गौरव बढ़ाती है। गुजरात कपास, तंबाकू और मूंगफली का उत्पादन करने वाला देश का प्रमुख राज्य है। यहां की अन्य महत्वपूर्ण नकदी फसलें हैं- इसबगोल, धान, गेहूं और बाजरा। राज्य में भूतलीय जल तथा भूमिगत जल द्वारा कुल सिंचाई क्षमता 64.88 लाख हेक्टेयर आंकी गई है जिसमें सरदार सरोवर (नर्मदा) परियोजना की 17.92 लाख हेक्टेयर क्षमता है। राज्य में जून 2010 तक कुल सिंचाई क्षमता 31.65 लाख हेक्टेयर तक पहुंच गई थी। जून 2010 तक अधिकतम उपयोग क्षमता 23.79 लाख हेक्टेयर आंकी गई।

Sub questions

Question Number : 96 Question Id : 54062614585 Question Type : MCQ Option Shuffling : Yes Is Question Mandatory : No Option Orientation : Vertical

Correct Marks : 1 Wrong Marks : 0.25

गुजरात किस तट पर स्थित है?

Options :

1. ✘ दक्षिणी तट
2. ✘ उत्तरी तट
3. ✔ पश्चिमी तट
4. ✘ पूर्वी तट

Question Number : 97 Question Id : 54062614586 Question Type : MCQ Option Shuffling : Yes Is Question Mandatory : No Option Orientation : Vertical

Correct Marks : 1 Wrong Marks : 0.25

गुजरात राज्य आस्तिव में कब आया था?

Options :

1. ✘ 2010
2. ✔ 1960
3. ✘ 2001
4. ✘ 1910

Question Number : 98 Question Id : 54062614587 Question Type : MCQ Option Shuffling : Yes Is Question Mandatory : No Option Orientation : Vertical

Correct Marks : 1 Wrong Marks : 0.25

आजादी से पहले गुजरात को मुख्य रूप से कितने भागों में बाँटा गया था?

Options :

1. ✔ दो
2. ✘ पांच
3. ✘ चार
4. ✘ तीन

Question Number : 99 Question Id : 54062614588 Question Type : MCQ Option Shuffling : Yes Is Question Mandatory : No Option

Orientation : Vertical

Correct Marks : 1 Wrong Marks : 0.25

गुजरात का इतिहास कितना पुराना है?

Options :

1. ✘ लगभग 5000 ईसवी
2. ✘ लगभग 2500 ईसवी
3. ✘ लगभग 3000 ईसवी
4. ✔ लगभग 2000 ईसवी

Question Number : 100 Question Id : 54062614589 Question Type : MCQ Option Shuffling : Yes Is Question Mandatory : No Option

Orientation : Vertical

Correct Marks : 1 Wrong Marks : 0.25

उपर्युक्त गद्यांश का उपयुक्त शीर्षक क्या होगा?

Options :

1. ✔ गुजरात की संस्कृति और विरासत
2. ✘ राजाओं का शासनकाल
3. ✘ समृद्धि का युग
4. ✘ पारंपरिक विरासत

Discipline1

Group Number :	6
Group Id :	540626494
Group Maximum Duration :	0
Group Minimum Duration :	0
Show Attended Group? :	No
Edit Attended Group? :	No
Break time :	0
Group Marks :	20
Is this Group for Examiner? :	No

Discipline1

Section Id :	540626668
Section Number :	1
Section type :	Online
Mandatory or Optional :	Mandatory
Number of Questions :	20
Number of Questions to be attempted :	20
Section Marks :	20
Enable Mark as Answered Mark for Review and Clear Response :	Yes
Sub-Section Number :	1
Sub-Section Id :	540626804
Question Shuffling Allowed :	Yes

Question Number : 101 Question Id : 54062614590 Question Type : MCQ Option Shuffling : Yes Is Question Mandatory : No Option Orientation : Vertical

Correct Marks : 1 Wrong Marks : 0.25

When an Indian citizen works temporarily in Canada, his production will be part of _____.

Options :

1. ✘ Canada's GNP
2. ✔ India's GNP
3. ✘ Canada's NNP
4. ✘ India's GDP

Question Number : 101 Question Id : 54062614590 Question Type : MCQ Option Shuffling : Yes Is Question Mandatory : No Option Orientation : Vertical

Correct Marks : 1 Wrong Marks : 0.25

जब एक भारतीय नागरिक कनाडा में अस्थायी रूप से काम करता है, तो उसका उत्पादन _____ का हिस्सा होगा।

Options :

1. ✘ कनाडा के जी. एन. पी.
2. ✔ भारत के जी. एन. पी.
3. ✘ कनाडा के एन एन. पी.
4. ✘ भारत के जी. डी. पी.

Question Number : 102 Question Id : 54062614591 Question Type : MCQ Option Shuffling : Yes Is Question Mandatory : No Option Orientation : Vertical

Correct Marks : 1 Wrong Marks : 0.25

Net Domestic Product (NDP) is calculated using which of the following formulas?

Options :

1. ✘ GDP + Depreciation
2. ✘ GNP + Depreciation
3. ✔ GDP – Depreciation
4. ✘ GNP – Depreciation

Question Number : 102 Question Id : 54062614591 Question Type : MCQ Option Shuffling : Yes Is Question Mandatory : No Option Orientation : Vertical

Correct Marks : 1 Wrong Marks : 0.25

निवल घरेलू उत्पाद (एन. डी. पी.) की गणना निम्नलिखित में से किस सूत्र का उपयोग करके की जाती है?

Options :

1. ✘ जी. डी. पी. + मूल्यहास
2. ✘ जी. एन. पी. + मूल्यहास
3. ✔ जी. डी. पी. – मूल्यहास
4. ✘ जी. एन. पी. – मूल्यहास

Question Number : 103 Question Id : 54062614592 Question Type : MCQ Option Shuffling : Yes Is Question Mandatory : No Option Orientation : Vertical

Correct Marks : 1 Wrong Marks : 0.25

Technically, national income is also called _____.

Options :

1. ✘ NDP at factor cost
2. ✘ GDP at market price
3. ✔ NNP at factor cost
4. ✘ GNP at market price

Question Number : 103 Question Id : 54062614592 Question Type : MCQ Option Shuffling : Yes Is Question Mandatory : No Option Orientation : Vertical

Correct Marks : 1 Wrong Marks : 0.25

तकनीकी रूप से, राष्ट्रीय आय को _____ भी कहा जाता है।

Options :

1. ✘ कारक लागत पर एन. डी. पी.
2. ✘ बाजार कीमत पर जी. डी. पी.
3. ✔ कारक लागत पर एन. एन. पी.
4. ✘ बाजार कीमत पर जी. एन. पी.

Question Number : 104 Question Id : 54062614593 Question Type : MCQ Option Shuffling : Yes Is Question Mandatory : No Option Orientation : Vertical

Correct Marks : 1 Wrong Marks : 0.25

In the national income accounts, depreciation is called the:

Options :

1. ✘ Injection of real income
2. ✔ Consumption of fixed capital
3. ✘ Variable component of commerce
4. ✘ Leakages in capital investment

Question Number : 104 Question Id : 54062614593 Question Type : MCQ Option Shuffling : Yes Is Question Mandatory : No Option Orientation : Vertical

Correct Marks : 1 Wrong Marks : 0.25

राष्ट्रीय आय के लेखांकन में, मूल्यहास को कहा जाता है:

Options :

1. ✘ वास्तविक आय इंजेक्ट करना
2. ✔ अचल पूंजी की खपत
3. ✘ वाणिज्य का परिवर्तनीय घटक
4. ✘ पूंजी निवेश में कमी

Question Number : 105 Question Id : 54062614594 Question Type : MCQ Option Shuffling : Yes Is Question Mandatory : No Option Orientation : Vertical

Correct Marks : 1 Wrong Marks : 0.25

Which of the following is considered to be a better measure of economic well-being?

Options :

1. ✓ Real GDP
2. ✗ Potential GDP
3. ✗ Nominal GDP
4. ✗ Base GDP

Question Number : 105 Question Id : 54062614594 Question Type : MCQ Option Shuffling : Yes Is Question Mandatory : No Option Orientation : Vertical

Correct Marks : 1 Wrong Marks : 0.25

निम्नलिखित में से किसे आर्थिक कल्याण का एक बेहतर मापक माना जाता है?

Options :

1. ✓ वास्तविक जी. डी. पी.
2. ✗ संभावित जी. डी. पी.
3. ✗ मौद्रिक जी. डी. पी.
4. ✗ आधार जी. डी. पी.

Question Number : 106 Question Id : 54062614595 Question Type : MCQ Option Shuffling : Yes Is Question Mandatory : No Option Orientation : Vertical

Correct Marks : 1 Wrong Marks : 0.25

Who generates the mixed income?

Options :

1. ✗ Social entrepreneurs
2. ✓ Non-corporate enterprises
3. ✗ Government owned companies
4. ✗ Quasi-corporate group of enterprises

Question Number : 106 Question Id : 54062614595 Question Type : MCQ Option Shuffling : Yes Is Question Mandatory : No Option Orientation : Vertical

Correct Marks : 1 Wrong Marks : 0.25

मिश्रित आय किसके द्वारा उत्पन्न की जाती है?

Options :

1. ✘ सामाजिक उपक्रम
2. ✔ गैर-कॉर्पोरेट उपक्रम
3. ✘ सरकार के स्वामित्व वाली कंपनियां
4. ✘ उद्यमों का अर्ध-कॉर्पोरेट समूह

Question Number : 107 Question Id : 54062614596 Question Type : MCQ Option Shuffling : Yes Is Question Mandatory : No Option Orientation : Vertical

Correct Marks : 1 Wrong Marks : 0.25

Which of the following purposes is served by the income method of national income estimation?

Options :

1. ✘ It is useful in planning allocation of resources.
2. ✘ It predicts total remuneration available to an employee.
3. ✔ It is useful in planning the reduction of inequalities.
4. ✘ It indicates the potential of raising the standard of living in the future.

Question Number : 107 Question Id : 54062614596 Question Type : MCQ Option Shuffling : Yes Is Question Mandatory : No Option Orientation : Vertical

Correct Marks : 1 Wrong Marks : 0.25

निम्नलिखित में से कौन सा उद्देश्य राष्ट्रीय आय अनुमान की आय विधि द्वारा पूरा किया जाता है?

Options :

1. ✘ यह संसाधनों के आवंटन की योजना बनाने में उपयोगी है।
2. ✘ यह एक कर्मचारी को उपलब्ध कुल पारिश्रमिक की भविष्यवाणी करता है।
3. ✔ यह असमानताओं को कम करने की योजना बनाने में उपयोगी है।
4. ✘ यह भविष्य में जीवन स्तर को ऊपर उठाने की क्षमता को इंगित करता है।

Question Number : 108 Question Id : 54062614597 Question Type : MCQ Option Shuffling : Yes Is Question Mandatory : No Option Orientation : Vertical

Correct Marks : 1 Wrong Marks : 0.25

In which of the following conditions, inflation rate remains constant?

Options :

1. ✘ When GDP is more than GNP.
2. ✘ When natural real GDP is less than actual real GDP.
3. ✔ When natural real GDP is equal to actual real GDP.
4. ✘ When actual real GDP is less than natural real GDP.

Question Number : 108 Question Id : 54062614597 Question Type : MCQ Option Shuffling : Yes Is Question Mandatory : No Option Orientation : Vertical

Correct Marks : 1 Wrong Marks : 0.25

निम्नलिखित में से किस स्थिति में मुद्रास्फीति की दर स्थिर रहती है?

Options :

1. ✘ जब जी.डी.पी. जी.एन.पी. से ज्यादा हो।
2. ✘ जब प्राकृतिक वास्तविक जी.डी.पी. एक्चुअल वास्तविक जीडीपी से कम हो।
3. ✔ जब प्राकृतिक वास्तविक जी.डी.पी. एक्चुअल वास्तविक जीडीपी के सामान हो।
4. ✘ जब एक्चुअल वास्तविक जी.डी.पी. प्राकृतिक वास्तविक जीडीपी से कम हो।

Question Number : 109 Question Id : 54062614598 Question Type : MCQ Option Shuffling : Yes Is Question Mandatory : No Option Orientation : Vertical

Correct Marks : 1 Wrong Marks : 0.25

Which of the following is NOT one of the components of GDP?

Options :

1. ✘ Consumption
2. ✘ Government purchases
3. ✘ Net exports
4. ✔ Expenditure

Question Number : 109 Question Id : 54062614598 Question Type : MCQ Option Shuffling : Yes Is Question Mandatory : No Option Orientation : Vertical

Correct Marks : 1 Wrong Marks : 0.25

निम्नलिखित में से कौन सा जी.डी.पी. के घटकों में से एक नहीं है?

Options :

1. ✘ उपभोग
2. ✘ सरकारी खरीद
3. ✘ निवल निर्यात
4. ✔ व्यय

Question Number : 110 Question Id : 54062614599 Question Type : MCQ Option Shuffling : Yes Is Question Mandatory : No Option Orientation : Vertical

Correct Marks : 1 Wrong Marks : 0.25

Net value added at factor cost (NVA_{fc}) equals to:

Options :

1. ✘ Net value added at market price (NVA_{mp}) – Subsidies + Indirect taxes
2. ✘ Gross value added at market price (GVA_{mp}) + Subsidies – Indirect taxes
3. ✔ Net value added at market price (NVA_{mp}) – Indirect taxes + Subsidies
4. ✘ Gross value added at market price (GVA_{mp}) – Subsidies + Indirect taxes

Question Number : 110 Question Id : 54062614599 Question Type : MCQ Option Shuffling : Yes Is Question Mandatory : No Option Orientation : Vertical

Correct Marks : 1 Wrong Marks : 0.25

करक लागत पार निवल मूल्यवर्धित (NVA_{fc}) किसके सामान है:

Options :

1. ✘ बाजार मूल्य पर निवल मूल्यवर्धित (NVA_{mp}) – उपदान + अप्रत्यक्ष कर
2. ✘ बाजार मूल्य पर सकल मूल्यवर्धित (GVA_{mp}) + उपदान – अप्रत्यक्ष कर
3. ✔ बाजार मूल्य पर निवल मूल्यवर्धित (NVA_{mp}) – अप्रत्यक्ष कर + उपदान
4. ✘ बाजार मूल्य पर सकल मूल्यवर्धित (GVA_{mp}) – उपदान + अप्रत्यक्ष कर

Question Number : 111 Question Id : 54062614600 Question Type : MCQ Option Shuffling : Yes Is Question Mandatory : No Option Orientation : Vertical

Correct Marks : 1 Wrong Marks : 0.25

Which of the following statements is/are correct regarding personal income?

- I. It is the income that households and non-corporate businesses receive.
- II. It does not include sales tax and other corporate income taxes in the evaluation.
- III. Personal income includes the interest income that households receive from their holdings of government debt.

Options :

- 1. ✘ I and II
- 2. ✘ II and III
- 3. ✘ Only III
- 4. ✔ I, II and III

Question Number : 111 Question Id : 54062614600 Question Type : MCQ Option Shuffling : Yes Is Question Mandatory : No Option Orientation : Vertical

Correct Marks : 1 Wrong Marks : 0.25

वैयक्तिक आय के संदर्भ में निम्नलिखित में से कौन सा/से कथन सही है/हैं?

- I. यह वह आय है जो घरों और गैर-कॉर्पोरेट व्यवसायों को प्राप्त होती है।
- II. इसके मूल्यांकन में बिक्री कर और अन्य कॉर्पोरेट आय कर शामिल नहीं होते हैं।
- III. व्यक्तिगत आय में वह ब्याज आय शामिल होती है जो परिवारों को सरकारी ऋण की अपनी होल्डिंग से प्राप्त होती है।

Options :

- 1. ✘ I तथा II
- 2. ✘ II तथा III
- 3. ✘ केवल III
- 4. ✔ I, II तथा III

Question Number : 112 Question Id : 54062614601 Question Type : MCQ Option Shuffling : Yes Is Question Mandatory : No Option Orientation : Vertical

Correct Marks : 1 Wrong Marks : 0.25

Given below are two statements. One is labelled as Assertion (A) and the other is labelled as Reason (R).

Assertion (A): Child care provided in day-care centre is part of GDP.

Reason (R): GDP uses market prices to value goods and services and excludes the value of almost everything that takes place outside markets.

In the context of the above two statements, which of the following option is correct?

Options :

- 1. ✘ (A) is correct, but (R) is incorrect.

2. ✘ (A) is incorrect, but (R) is correct.
3. ✔ Both (A) and (R) are correct and (R) explains (A).
4. ✘ Both (A) and (R) are incorrect.

Question Number : 112 Question Id : 54062614601 Question Type : MCQ Option Shuffling : Yes Is Question Mandatory : No Option Orientation : Vertical

Correct Marks : 1 Wrong Marks : 0.25

नीचे दो कथन दिए गए हैं। एक को अभिकथन (A) और दूसरे को कारण (R) के रूप में लेबल किया गया है।

अभिकथन (A): डे-केयर सेंटर में प्रदान की जाने वाली बाल देखभाल जी.डी.पी. का हिस्सा है।

कारण (R): जी.डी.पी बाजार कीमतों का उपयोग वस्तुओं और सेवाओं के मूल्य के लिए करती है और बाजारों के बाहर होने वाली लगभग हर चीज के मूल्य को शामिल नहीं करती है।

उपरोक्त दो कथनों के संदर्भ में, निम्नलिखित में से कौन सा विकल्प सही है?

Options :

1. ✘ (A) सही है, लेकिन (R) गलत है।
2. ✘ (A) गलत है, लेकिन (R) सही है।
3. ✔ दोनों (A) तथा (R) सही हैं और (R), (A) की व्याख्या करता है।
4. ✘ (A) और (R) दोनों गलत हैं।

Question Number : 113 Question Id : 54062614602 Question Type : MCQ Option Shuffling : Yes Is Question Mandatory : No Option Orientation : Vertical

Correct Marks : 1 Wrong Marks : 0.25

For a particular year, the nominal GDP of India is 14,500 and real GDP is 5,000. What will be the value of GDP deflator?

Options :

1. ✘ 190
2. ✔ 290
3. ✘ 195
4. ✘ 185

Question Number : 113 Question Id : 54062614602 Question Type : MCQ Option Shuffling : Yes Is Question Mandatory : No Option Orientation : Vertical

Correct Marks : 1 Wrong Marks : 0.25

एक विशेष वर्ष के लिए, भारत की मौद्रिक जी.डी.पी. 14,500 है और वास्तविक जी.डी.पी. 5,000 है। जीडीपी अक्सरीतिक का मान क्या होगा?

Options :

1. ✘ 190
2. ✔ 290
3. ✘ 195
4. ✘ 185

Question Number : 114 Question Id : 54062614603 Question Type : MCQ Option Shuffling : Yes Is Question Mandatory : No Option Orientation : Vertical

Correct Marks : 1 Wrong Marks : 0.25

When Marginal Propensity to consume and Marginal Propensity to save are added, then it gives _____.

Options :

1. ✔ value equal to 1
2. ✘ a negative value
3. ✘ value more than 1
4. ✘ zero value

Question Number : 114 Question Id : 54062614603 Question Type : MCQ Option Shuffling : Yes Is Question Mandatory : No Option Orientation : Vertical

Correct Marks : 1 Wrong Marks : 0.25

जब सीमांत उपभोग प्रवृत्ति तथा बचत करने के लिए सीमांत बचत प्रवृत्ति को जोड़ा जाता है, तो यह _____ देता है।

Options :

1. ✔ 1 के बराबर मान
2. ✘ एक ऋणात्मक मान
3. ✘ 1 से अधिक मान
4. ✘ शून्य मान

Question Number : 115 Question Id : 54062614604 Question Type : MCQ Option Shuffling : Yes Is Question Mandatory : No Option Orientation : Vertical

Correct Marks : 1 Wrong Marks : 0.25

The total personal income that households receive consists of the income created from production and _____.

Options :

1. ✘ total expenditure on final product
2. ✘ private domestic investment
3. ✔ transfer payments from the government
4. ✘ consumption expenditures

Question Number : 115 Question Id : 54062614604 Question Type : MCQ Option Shuffling : Yes Is Question Mandatory : No Option Orientation : Vertical

Correct Marks : 1 Wrong Marks : 0.25

परिवारों को प्राप्त होने वाली कुल वैयक्तिक आय में उत्पादन से होने वाली आय और _____ शामिल होती है।

Options :

1. ✘ अंतिम उत्पाद पर कुल व्यय
2. ✘ निजी घरेलू निवेश
3. ✔ सरकार से भुगतान हस्तांतरण
4. ✘ उपभोग व्यय

Question Number : 116 Question Id : 54062614605 Question Type : MCQ Option Shuffling : Yes Is Question Mandatory : No Option Orientation : Vertical

Correct Marks : 1 Wrong Marks : 0.25

Which of the following results due to the decrease in Marginal Propensity to save?

Options :

1. ✘ Increase in tax value
2. ✔ Higher multiplier value
3. ✘ Decrease in tax value
4. ✘ Lower multiplier value

Question Number : 116 Question Id : 54062614605 Question Type : MCQ Option Shuffling : Yes Is Question Mandatory : No Option Orientation : Vertical

Correct Marks : 1 Wrong Marks : 0.25

सीमांत बचत प्रवृत्ति में कमी के कारण निम्नलिखित में से कौन सा परिणाम होता है?

Options :

- ✘ कर मूल्य में वृद्धि
- ✔ ज्यादा गुणक मान
- ✘ कर मूल्य में कमी
- ✘ कम गुणक मान

Question Number : 117 Question Id : 54062614606 Question Type : MCQ Option Shuffling : Yes Is Question Mandatory : No Option Orientation : Vertical

Correct Marks : 1 Wrong Marks : 0.25

Which of the following statements regarding LM curve is NOT correct?

Options :

- ✘ An increase in the price level will shift the LM curve to the left.
- ✘ The LM curve is drawn for a fixed real supply of money.
- ✘ On the LM curve the demand for money equals the supply of money.
- ✔ The LM curve shifts to the left when the money supply increases.

Question Number : 117 Question Id : 54062614606 Question Type : MCQ Option Shuffling : Yes Is Question Mandatory : No Option Orientation : Vertical

Correct Marks : 1 Wrong Marks : 0.25

LM वक्र के संदर्भ में निम्नलिखित में से कौन सा कथन सही नहीं है?

Options :

- ✘ मूल्य स्तर में एक वृद्धि एल.एम. वक्र को बाएं स्थानांतरित कर देगी।
- ✘ एल.एम. वक्र मुद्रा की एक निश्चित वास्तविक पूर्ति के लिए तैयार किया गया है।
- ✘ एल.एम. वक्र पर मुद्रा मांग मुद्रा पूर्ति के सामान होती है।
- ✔ जब पैसे की पूर्ति बढ़ जाती है तो एल.एम. वक्र बाईं ओर स्थानांतरित हो जाता है।

Question Number : 118 Question Id : 54062614607 Question Type : MCQ Option Shuffling : Yes Is Question Mandatory : No Option Orientation : Vertical

Correct Marks : 1 Wrong Marks : 0.25

According to New Keynesian economists, which of the following factors does NOT cause sticky prices?

Options :

- ✘ Aggregate demand externalities

2. ✘ Menu costs
3. ✘ Coordination failure
4. ✔ Consumption expenditure

Question Number : 118 Question Id : 54062614607 Question Type : MCQ Option Shuffling : Yes Is Question Mandatory : No Option Orientation : Vertical

Correct Marks : 1 Wrong Marks : 0.25

न्यू कीनेशीयन अर्थशास्त्रियों के अनुसार, निम्नलिखित में से कौन सा कारक स्टिकी कीमतों का कारण नहीं बनता है?

Options :

1. ✘ समग्र मांग के बाह्य कारण
2. ✘ मेनू लागत
3. ✘ समन्वय विफलता
4. ✔ उपभोग व्यय

Question Number : 119 Question Id : 54062614608 Question Type : MCQ Option Shuffling : Yes Is Question Mandatory : No Option Orientation : Vertical

Correct Marks : 1 Wrong Marks : 0.25

A family has an income of Rs. 8000 and spends Rs. 4000 on consumption. What will be the value of Average propensity consumption?

Options :

1. ✘ 2
2. ✔ 0.5
3. ✘ 0.025
4. ✘ 1.5

Question Number : 119 Question Id : 54062614608 Question Type : MCQ Option Shuffling : Yes Is Question Mandatory : No Option Orientation : Vertical

Correct Marks : 1 Wrong Marks : 0.25

एक परिवार की आय 8000 रुपये है तथा 4000 रुपये व्यय करता है। औसत उपभोग प्रवृत्ति मान क्या होगा?

Options :

1. ✘ 2
2. ✔ 0.5

3. ✘ 0.025

4. ✘ 1.5

Question Number : 120 Question Id : 54062614609 Question Type : MCQ Option Shuffling : Yes Is Question Mandatory : No Option Orientation : Vertical

Correct Marks : 1 Wrong Marks : 0.25

Which treasury bill replaced the 91-day tap treasury bill in 1997?

Options :

1. ✘ 270-day ITB

2. ✘ 182-day ITB

3. ✔ 14-day ITB

4. ✘ 31-day ITB

Question Number : 120 Question Id : 54062614609 Question Type : MCQ Option Shuffling : Yes Is Question Mandatory : No Option Orientation : Vertical

Correct Marks : 1 Wrong Marks : 0.25

1997 में किस ट्रेज़री बिल ने 91-दिवसीय टैप ट्रेज़री बिल की जगह ले ली?

Options :

1. ✘ 270- दिवसीय ITB

2. ✘ 182- दिवसीय ITB

3. ✔ 14- दिवसीय ITB

4. ✘ 31- दिवसीय ITB

Discipline2

Group Number :

7

Group Id :

540626495

Group Maximum Duration :

0

Group Minimum Duration :

0

Show Attended Group? :

No

Edit Attended Group? :

No

Break time : 0
Group Marks : 20
Is this Group for Examiner? : No

Discipline2

Section Id : 540626669
Section Number : 1
Section type : Online
Mandatory or Optional : Mandatory
Number of Questions : 20
Number of Questions to be attempted : 20
Section Marks : 20
Enable Mark as Answered Mark for Review and Clear Response : Yes
Sub-Section Number : 1
Sub-Section Id : 540626805
Question Shuffling Allowed : Yes

Question Number : 121 Question Id : 54062614610 Question Type : MCQ Option Shuffling : Yes Is Question Mandatory : No Option Orientation : Vertical

Correct Marks : 1 Wrong Marks : 0.25

Moral suasion is one of the techniques of _____.

Options :

1. ✘ regulating banks
2. ✔ monetary control
3. ✘ reserving cash
4. ✘ controlling inflation

Question Number : 121 Question Id : 54062614610 Question Type : MCQ Option Shuffling : Yes Is Question Mandatory : No Option Orientation : Vertical

Correct Marks : 1 Wrong Marks : 0.25

मोरल सुएशन _____ की तकनीकों में से एक है।

Options :

1. ✘ बैंकों को विनियमित करने
2. ✔ मौद्रिक नियंत्रण
3. ✘ नकद संचय
4. ✘ मुद्रास्फीति को नियंत्रित करने

Question Number : 122 Question Id : 54062614611 Question Type : MCQ Option Shuffling : Yes Is Question Mandatory : No Option Orientation : Vertical

Correct Marks : 1 Wrong Marks : 0.25

Which of the following implies that the bond is valued at discount?

Options :

1. ✔ coupon rate < discount rate
2. ✘ value of the bond > par value
3. ✘ coupon rate > discount rate
4. ✘ value of the bond = par value

Question Number : 122 Question Id : 54062614611 Question Type : MCQ Option Shuffling : Yes Is Question Mandatory : No Option Orientation : Vertical

Correct Marks : 1 Wrong Marks : 0.25

निम्नलिखित में से किसके लिए बांड का मूल्यांकन डिस्काउंट पर किया जाता है?

Options :

1. ✔ कूपन दर < डिस्काउंट दर
2. ✘ बांड का मूल्य > पार मूल्य
3. ✘ कूपन दर > डिस्काउंट दर
4. ✘ बांड का मूल्य = पार मूल्य

Question Number : 123 Question Id : 54062614612 Question Type : MCQ Option Shuffling : Yes Is Question Mandatory : No Option Orientation : Vertical

Correct Marks : 1 Wrong Marks : 0.25

Which of the following correctly expresses 'Nominal Interest Rate'?

Options :

1. ✘ Expected Inflation Rate ÷ Real Interest Rate
2. ✔ Real Interest Rate + Expected Inflation Rate
3. ✘ Expected Inflation Rate × Real Interest Rate
4. ✘ Real Interest Rate – Expected Inflation Rate

Question Number : 123 Question Id : 54062614612 Question Type : MCQ Option Shuffling : Yes Is Question Mandatory : No Option Orientation : Vertical

Correct Marks : 1 Wrong Marks : 0.25

निम्नलिखित में से कौन 'मौद्रिक ब्याज दर' को सही रूप से व्यक्त करता है?

Options :

1. ✘ अपेक्षित मुद्रास्फीति दर ÷ वास्तविक ब्याज दर
2. ✔ वास्तविक ब्याज दर + अपेक्षित मुद्रास्फीति दर
3. ✘ अपेक्षित मुद्रास्फीति दर × वास्तविक ब्याज दर
4. ✘ वास्तविक ब्याज दर – अपेक्षित मुद्रास्फीति दर

Question Number : 124 Question Id : 54062614613 Question Type : MCQ Option Shuffling : Yes Is Question Mandatory : No Option Orientation : Vertical

Correct Marks : 1 Wrong Marks : 0.25

Minimum reserves each bank must hold to customer deposits is called as _____.

Options :

1. ✔ Cash Reserve Ratio
2. ✘ Liquidity Adjustment Facility
3. ✘ Statutory Liquidity Ratio
4. ✘ Reverse Repo Rate

Question Number : 124 Question Id : 54062614613 Question Type : MCQ Option Shuffling : Yes Is Question Mandatory : No Option Orientation : Vertical

Correct Marks : 1 Wrong Marks : 0.25

प्रत्येक बैंक को ग्राहकों की जमा राशियों के लिए न्यूनतम अरक्षित को _____ कहा जाता है।

Options :

1. ✔ नकदी आरक्षित निधि अनुपात

2. ✖ चलनिधि समायोजन सुविधा
3. ✖ सांविधिक चलनिधि अनुपात
4. ✖ रिवर्स रेपो दर

Question Number : 125 Question Id : 54062614614 Question Type : MCQ Option Shuffling : Yes Is Question Mandatory : No Option Orientation : Vertical

Correct Marks : 1 Wrong Marks : 0.25

Which of the following was the first stock exchange in India to introduce screen-based automated ring less trading system?

Options :

1. ✖ National Stock Exchange of India
2. ✖ Bombay Stock Exchange
3. ✔ Over-the-Counter Exchange of India
4. ✖ Ahmedabad Stock Exchange Limited

Question Number : 125 Question Id : 54062614614 Question Type : MCQ Option Shuffling : Yes Is Question Mandatory : No Option Orientation : Vertical

Correct Marks : 1 Wrong Marks : 0.25

स्क्रीन आधारित स्वचालित रिंग लेस ट्रेडिंग सिस्टम शुरू करने वाला भारत का पहला स्टॉक एक्सचेंज निम्नलिखित में से कौन सा था?

Options :

1. ✖ नेशनल स्टॉक एक्सचेंज ऑफ इंडिया
2. ✖ बॉम्बे स्टॉक एक्सचेंज
3. ✔ ओवर-द-काउंटर एक्सचेंज ऑफ इंडिया
4. ✖ अहमदाबाद स्टॉक एक्सचेंज लिमिटेड

Question Number : 126 Question Id : 54062614615 Question Type : MCQ Option Shuffling : Yes Is Question Mandatory : No Option Orientation : Vertical

Correct Marks : 1 Wrong Marks : 0.25

Which of the following formulas is used to calculate return on assets?

Options :

1. ✖ Operating profit/ total assets
2. ✖ Interest paid on deposit/ total asset ratio

3. ✓ Net profit/ total asset ratio

4. ✗ Interest income/total assets

Question Number : 126 Question Id : 54062614615 Question Type : MCQ Option Shuffling : Yes Is Question Mandatory : No Option Orientation : Vertical

Correct Marks : 1 Wrong Marks : 0.25

परिसंपतियों पर प्रतिफल की गणना के लिए निम्नलिखित में से किस सूत्र का उपयोग किया जाता है?

Options :

1. ✗ प्रचालन लाभ/ कुल परिसंपतियाँ

2. ✗ जमा पर चुकाया गया ब्याज/ कुल परिसंपतियाँ अनुपात

3. ✓ निवल लाभ/ कुल परिसंपतियाँ अनुपात

4. ✗ ब्याज आय/ कुल परिसंपतियाँ

Question Number : 127 Question Id : 54062614616 Question Type : MCQ Option Shuffling : Yes Is Question Mandatory : No Option Orientation : Vertical

Correct Marks : 1 Wrong Marks : 0.25

Which of the following correctly expresses the valuation ratio 'Yield'?

Options :

1. ✗ $(\text{Dividend} - \text{price change}) / \text{Initial price}$

2. ✓ $(\text{Dividend} + \text{price change}) / \text{Initial price}$

3. ✗ $(\text{Dividend} / \text{price change}) + \text{Initial price}$

4. ✗ $(\text{Dividend} / \text{price change}) - \text{Initial price}$

Question Number : 127 Question Id : 54062614616 Question Type : MCQ Option Shuffling : Yes Is Question Mandatory : No Option Orientation : Vertical

Correct Marks : 1 Wrong Marks : 0.25

निम्नलिखित में से कौन मूल्यांकन अनुपात 'यील्ड' को सही ढंग से व्यक्त करता है?

Options :

1. ✗ $(\text{लाभांश} - \text{मूल्य परिवर्तन}) / \text{प्रारंभिक मूल्य}$

2. ✓ $(\text{लाभांश} + \text{मूल्य परिवर्तन}) / \text{प्रारंभिक मूल्य}$

3. ✗ $(\text{लाभांश} / \text{मूल्य परिवर्तन}) + \text{प्रारंभिक मूल्य}$

4. ✖ (लाभांश / मूल्य परिवर्तन) – प्रारंभिक मूल्य

Question Number : 128 Question Id : 54062614617 Question Type : MCQ Option Shuffling : Yes Is Question Mandatory : No Option Orientation : Vertical

Correct Marks : 1 Wrong Marks : 0.25

Which of the following is NOT one of the functions of SEBI?

Options :

1. ✖ To prohibit insider trading in securities.
2. ✖ To regulate the business in stock exchanges.
3. ✖ To protect the interest of investors in securities.
4. ✔ To review national trade policies.

Question Number : 128 Question Id : 54062614617 Question Type : MCQ Option Shuffling : Yes Is Question Mandatory : No Option Orientation : Vertical

Correct Marks : 1 Wrong Marks : 0.25

निम्नलिखित में से कौन सा सेबी (SEBI) के कार्यों में से एक नहीं है?

Options :

1. ✖ सिक््योरिटीज में इनसाइडर ट्रेडिंग को प्रतिबंधित करने के लिए।
2. ✖ स्टॉक एक्सचेंजों में व्यापार को विनियमित करने के लिए।
3. ✖ सिक््योरिटीज में निवेशकों के हितों की रक्षा करना।
4. ✔ राष्ट्रीय व्यापार नीतियों की समीक्षा करना।

Question Number : 129 Question Id : 54062614618 Question Type : MCQ Option Shuffling : Yes Is Question Mandatory : No Option Orientation : Vertical

Correct Marks : 1 Wrong Marks : 0.25

Which of the following statements is/are correct regarding Financial leverage?

- I. Financial leverage reduces earnings per share (EPS) and return on equity (ROE) when the return on assets is less than the cost of debt.
- II. Financial leverage raises the variability or volatility of both EPS and ROE.
- III. Financial leverage can have both positive and negative effects.

Options :

1. ✖ I and II

2. ✘ Only III
3. ✘ II and III
4. ✔ I,II and III

Question Number : 129 Question Id : 54062614618 Question Type : MCQ Option Shuffling : Yes Is Question Mandatory : No Option Orientation : Vertical

Correct Marks : 1 Wrong Marks : 0.25

वित्तीय उत्तोलन के संबंध में निम्नलिखित में से कौन सा/से कथन सही है/हैं?

- I. वित्तीय उत्तोलन प्रति शेयर आय (ई.पी.एस.) और इक्विटी पर प्रतिफल (आर.ओ.ई.) को कम करता है जब परिसंपत्तियों पर प्रतिफल ऋण की लागत से कम होता है।
- II. वित्तीय उत्तोलन ई.पी.एस. और आर.ओ.ई. दोनों की परिवर्तनशीलता या अस्थिरता को बढ़ाता है।
- III. वित्तीय उत्तोलन के सकारात्मक और नकारात्मक दोनों प्रभाव हो सकते हैं।

Options :

1. ✘ I तथा II
2. ✘ केवल III
3. ✘ II तथा III
4. ✔ I,II तथा III

Question Number : 130 Question Id : 54062614619 Question Type : MCQ Option Shuffling : Yes Is Question Mandatory : No Option Orientation : Vertical

Correct Marks : 1 Wrong Marks : 0.25

Suppose XYZ Ltd. paid a dividend of Rs. 4.00 per share for the last year. The dividend is expected to grow at the rate of 5 percent per year thereafter. If the required rate is 15 percent, then what will be the value per share?

Options :

1. ✔ Rs. 42
2. ✘ Rs. 47.11
3. ✘ Rs. 21
4. ✘ Rs. 38

Question Number : 130 Question Id : 54062614619 Question Type : MCQ Option Shuffling : Yes Is Question Mandatory : No Option Orientation : Vertical

Correct Marks : 1 Wrong Marks : 0.25

मान लीजिए XYZ लिमिटेड ने पिछले वर्ष के लिए 4.00 रुपये प्रति शेयर के लाभांश का भुगतान किया। इसके पश्चात् लाभांश प्रति वर्ष 5 प्रतिशत की दर से बढ़ने की उम्मीद है। यदि आवश्यक दर 15 प्रतिशत है, तो प्रति शेयर मूल्य क्या होगा?

Options :

1. ✓ 42 रुपये
2. ✗ 47.11 रुपये
3. ✗ 21 रुपये
4. ✗ 38 रुपये

Question Number : 131 Question Id : 54062614620 Question Type : MCQ Option Shuffling : Yes Is Question Mandatory : No Option Orientation : Vertical

Correct Marks : 1 Wrong Marks : 0.25

Which of the following categories of stocks and their capitalisation is/are correctly matched?

- I. Large Cap Stocks - More than Rs. 1000 crore
- II. Mid Cap Stocks - Rs. 500 crore to Rs. 1000 crore
- III. Small Cap Stocks - Less than Rs. 20 crore

Note: For this question, discrepancy is found in question/answer. So, this question is ignored for all candidates.

Options :

1. Only I
2. II and III
3. I and II
4. I, II and III

Question Number : 131 Question Id : 54062614620 Question Type : MCQ Option Shuffling : Yes Is Question Mandatory : No Option Orientation : Vertical

Correct Marks : 1 Wrong Marks : 0.25

निम्नलिखित में से कौन सी श्रेणी के स्टॉक और उनका पूंजीकरण सही सुमेलित है/हैं?

- I. लार्ज कैप स्टॉक - 1000 करोड़ रुपये से अधिक

II. मिड कैप स्टॉक्स - रुपये 500 करोड़ से रुपये 1000 करोड़

III. स्मॉल कैप स्टॉक - 20 करोड़ रुपये से कम

Note: For this question, discrepancy is found in question/answer. So, this question is ignored for all candidates.

Options :

1. केवल I
2. II तथा III
3. I तथा II
4. I, II तथा III

Question Number : 132 Question Id : 54062614621 Question Type : MCQ Option Shuffling : Yes Is Question Mandatory : No Option Orientation : Vertical

Correct Marks : 1 Wrong Marks : 0.25

In which year, IMF began its financial operations?

Options :

1. ✓ 1947
2. ✗ 1945
3. ✗ 1944
4. ✗ 1950

Question Number : 132 Question Id : 54062614621 Question Type : MCQ Option Shuffling : Yes Is Question Mandatory : No Option Orientation : Vertical

Correct Marks : 1 Wrong Marks : 0.25

IMF ने किस वर्ष में अपना वित्तीय संचालन शुरू किया?

Options :

1. ✓ 1947
2. ✗ 1945
3. ✗ 1944
4. ✗ 1950

Question Number : 133 Question Id : 54062614622 Question Type : MCQ Option Shuffling : Yes Is Question Mandatory : No Option Orientation : Vertical

Correct Marks : 1 Wrong Marks : 0.25

The opportunity cost theory of international trade was given by _____.

Options :

1. ✘ Adam Smith
2. ✔ Gottfried Haberler
3. ✘ David Ricardo
4. ✘ Jacob Viner

Question Number : 133 Question Id : 54062614622 Question Type : MCQ Option Shuffling : Yes Is Question Mandatory : No Option Orientation : Vertical

Correct Marks : 1 Wrong Marks : 0.25

अंतर्राष्ट्रीय व्यापार का अवसर लागत सिद्धांत _____ द्वारा दिया गया था।

Options :

1. ✘ एडम स्मिथ
2. ✔ गॉटफ्राइड हबेरलेर
3. ✘ डेविड रिकार्डो
4. ✘ जैकब विनर

Question Number : 134 Question Id : 54062614623 Question Type : MCQ Option Shuffling : Yes Is Question Mandatory : No Option Orientation : Vertical

Correct Marks : 1 Wrong Marks : 0.25

Intra-industry trade is dominant in _____.

Options :

1. ✘ South-north trade
2. ✘ South-south trade
3. ✔ North-north trade
4. ✘ East-West trade

Question Number : 134 Question Id : 54062614623 Question Type : MCQ Option Shuffling : Yes Is Question Mandatory : No Option Orientation : Vertical

Correct Marks : 1 Wrong Marks : 0.25

अंतर-उद्योग व्यापार _____ में प्रमुख है।

Options :

1. ✘ दक्षिण-उत्तर व्यापार
2. ✘ दक्षिण-दक्षिण व्यापार
3. ✔ उत्तर-उत्तर व्यापार
4. ✘ पूर्व-पश्चिम व्यापार

Question Number : 135 Question Id : 54062614624 Question Type : MCQ Option Shuffling : Yes Is Question Mandatory : No Option Orientation : Vertical

Correct Marks : 1 Wrong Marks : 0.25

The given expression represents the 'National output (Y) of a country'. What does 'M' represent in this expression?

$$Y = C + I + E + X - M$$

Options :

1. ✘ Exports
2. ✘ Domestic investment
3. ✘ Government expenditure
4. ✔ Imports

Question Number : 135 Question Id : 54062614624 Question Type : MCQ Option Shuffling : Yes Is Question Mandatory : No Option Orientation : Vertical

Correct Marks : 1 Wrong Marks : 0.25

दी गई अभिव्यक्ति किसी 'देश के राष्ट्रीय उत्पादन (Y)' का प्रतिनिधित्व करती है। इस व्यंजक में 'M' क्या दर्शाता है?

$$Y = C + I + E + X - M$$

Options :

1. ✘ निर्यात
2. ✘ घरेलू निवेश
3. ✘ सरकारी व्यय
4. ✔ आयात

Question Number : 136 Question Id : 54062614625 Question Type : MCQ Option Shuffling : Yes Is Question Mandatory : No Option Orientation : Vertical

Correct Marks : 1 Wrong Marks : 0.25

In which year, the GATT was expanded to form the WTO?

Options :

1. ✘ 1947
2. ✘ 1990
3. ✔ 1995
4. ✘ 1985

Question Number : 136 Question Id : 54062614625 Question Type : MCQ Option Shuffling : Yes Is Question Mandatory : No Option Orientation : Vertical

Correct Marks : 1 Wrong Marks : 0.25

डब्ल्यू टी. ओ. (WTO) बनाने के लिए जी. ए. टी. टी. (GATT) का विस्तार किस वर्ष में किया गया था?

Options :

1. ✘ 1947
2. ✘ 1990
3. ✔ 1995
4. ✘ 1985

Question Number : 137 Question Id : 54062614626 Question Type : MCQ Option Shuffling : Yes Is Question Mandatory : No Option Orientation : Vertical

Correct Marks : 1 Wrong Marks : 0.25

Payment of interest on loans and dividend payments are recorded in which of the following components of balance of payments?

Options :

1. ✘ Official reserves account
2. ✔ Current account
3. ✘ Unilateral transfers account
4. ✘ Capital account

Question Number : 137 Question Id : 54062614626 Question Type : MCQ Option Shuffling : Yes Is Question Mandatory : No Option Orientation : Vertical

Correct Marks : 1 Wrong Marks : 0.25

ऋणों पर ब्याज का भुगतान और लाभांश भुगतानों को अदायगी संतुलन के निम्नलिखित में से किस घटक में दर्ज किया जाता है?

Options :

1. ✘ अधिकृत अरक्षित खाता
2. ✔ चालू खाता
3. ✘ युनिलेटरल हस्तांतरण खाता
4. ✘ पूँजी खाता

Question Number : 138 Question Id : 54062614627 Question Type : MCQ Option Shuffling : Yes Is Question Mandatory : No Option Orientation : Vertical

Correct Marks : 1 Wrong Marks : 0.25

If the tariff on a product in a country is 10 percent, it means that the government charges customs duty at the:

Options :

1. ✘ rate less than 10 percent of the price
2. ✘ rate more than 10 percent of the price
3. ✘ rate of 5 percent of the price
4. ✔ rate of 10 percent of the price

Question Number : 138 Question Id : 54062614627 Question Type : MCQ Option Shuffling : Yes Is Question Mandatory : No Option Orientation : Vertical

Correct Marks : 1 Wrong Marks : 0.25

यदि किसी देश में किसी उत्पाद पर टैरिफ 10 प्रतिशत है, तो इसका मतलब है कि सरकार सीमा शुल्क वसूलती है:

Options :

1. ✘ कीमत के 10 प्रतिशत से कम दर से
2. ✘ कीमत के 10 प्रतिशत से अधिक दर से
3. ✘ कीमत के 5 प्रतिशत की दर से
4. ✔ कीमत के 10 प्रतिशत की दर से

Question Number : 139 Question Id : 54062614628 Question Type : MCQ Option Shuffling : Yes Is Question Mandatory : No Option Orientation : Vertical

Correct Marks : 1 Wrong Marks : 0.25

In which of the following condition a country has a comparative advantage in producing a good 'A'?

Options :

- ✘ If the overall cost of production of other competitive product is lower at home.
- ✔ If the opportunity cost of producing good 'A' is lower at home than in the other country.
- ✘ If the overall cost of producing good 'A' is higher at home than another country.
- ✘ If the opportunity cost of competitive product 'B' is higher at home than in the other country.

Question Number : 139 Question Id : 54062614628 Question Type : MCQ Option Shuffling : Yes Is Question Mandatory : No Option Orientation : Vertical

Correct Marks : 1 Wrong Marks : 0.25

निम्नलिखित में से किस स्थिति में किसी देश को एक वस्तु 'ए' उत्पादन करने में तुलनात्मक लाभ होता है?

Options :

- ✘ यदि घर पर अन्य प्रतिस्पर्धी वस्तु के उत्पादन की कुल लागत कम है।
- ✔ यदि वस्तु 'ए' के उत्पादन की अवसर लागत दूसरे देश की तुलना में घर पर कम है।
- ✘ यदि वस्तु 'ए' के उत्पादन की अवसर लागत दूसरे देश की तुलना में घर पर अधिक है।
- ✘ यदि विपरीत वस्तु 'बी' की अवसर लागत दूसरे देश की तुलना में घर पर अधिक है।

Question Number : 140 Question Id : 54062614629 Question Type : MCQ Option Shuffling : Yes Is Question Mandatory : No Option Orientation : Vertical

Correct Marks : 1 Wrong Marks : 0.25

Which of the following currencies is NOT used to set the (Special Drawing Right) SDR value?

Options :

- ✘ US Dollar
- ✘ Pound Sterling
- ✘ Japanese Yen
- ✔ Russian Ruble

Question Number : 140 Question Id : 54062614629 Question Type : MCQ Option Shuffling : Yes Is Question Mandatory : No Option Orientation : Vertical

Correct Marks : 1 Wrong Marks : 0.25

निम्नलिखित में से किस मुद्रा का उपयोग (स्पेशल ड्राइंग राइट) एस.डी.आर मूल्य निर्धारित करने के लिए नहीं किया जाता है?

Options :

1. ✖ अमेरिकी डॉलर
2. ✖ पाउंड स्टर्लिंग
3. ✖ जापानी येन
4. ✔ रूसी रूबल

Discipline3

Group Number :	8
Group Id :	540626496
Group Maximum Duration :	0
Group Minimum Duration :	0
Show Attended Group? :	No
Edit Attended Group? :	No
Break time :	0
Group Marks :	20
Is this Group for Examiner? :	No

Discipline3

Section Id :	540626670
Section Number :	1
Section type :	Online
Mandatory or Optional :	Mandatory
Number of Questions :	20
Number of Questions to be attempted :	20
Section Marks :	20
Enable Mark as Answered Mark for Review and Clear Response :	Yes
Sub-Section Number :	1
Sub-Section Id :	540626806
Question Shuffling Allowed :	Yes

Question Number : 141 Question Id : 54062614630 Question Type : MCQ Option Shuffling : Yes Is Question Mandatory : No Option

Orientation : Vertical

Correct Marks : 1 Wrong Marks : 0.25

Which of the following statements states the correct assumption of H-O model?

Options :

1. ✘ There are artificial barriers to trade.
2. ✔ There is no transport cost.
3. ✘ Factor supply is not fixed for each country.
4. ✘ Factors of production are immobile within each country.

Question Number : 141 Question Id : 54062614630 Question Type : MCQ Option Shuffling : Yes Is Question Mandatory : No Option

Orientation : Vertical

Correct Marks : 1 Wrong Marks : 0.25

निम्नलिखित में से कौन सा कथन H-O मॉडल की सही धारणा बताता है?

Options :

1. ✘ व्यापार के लिए कृत्रिम बाधाएं हैं।
2. ✔ कोई परिवहन लागत नहीं है।
3. ✘ प्रत्येक देश के लिए कारक आपूर्ति निश्चित नहीं है।
4. ✘ प्रत्येक देश के भीतर उत्पादन के कारक स्थिर होते हैं।

Question Number : 142 Question Id : 54062614631 Question Type : MCQ Option Shuffling : Yes Is Question Mandatory : No Option

Orientation : Vertical

Correct Marks : 1 Wrong Marks : 0.25

10 units of labour is used to produce one unit of good A in country X and 20 units of labour is used to produce one unit of good A in country Y. The unit of labour is reversed for both country X and Y to produce one unit of good B. Which of the following statement(s) is/are definitely correct?

- I. Country Y has an absolute advantage in producing good A.
- II. Country X has an absolute advantage in producing good A.
- III. Either Country X or Country Y has an absolute advantage in producing both products.

Options :

1. ✘ II and III
2. ✔ Only II
3. ✘ I and II

4. ✖ Only III

Question Number : 142 Question Id : 54062614631 Question Type : MCQ Option Shuffling : Yes Is Question Mandatory : No Option Orientation : Vertical

Correct Marks : 1 Wrong Marks : 0.25

श्रम की 10 इकाइयों का उपयोग देश X में वस्तु A की एक इकाई का उत्पादन करने के लिए किया जाता है और श्रम की 20 इकाइयों का उपयोग देश Y में वस्तु A की एक इकाई के उत्पादन के लिए किया जाता है। श्रम की इकाई देश X और Y दोनों वस्तु B का उत्पादन करने के लिए परस्पर रूप से बदल दी जाती है। निम्नलिखित में से कौन सा/से कथन निश्चित रूप से सही है/हैं?

- I. देश Y को वस्तु A उत्पादन करने में पूर्ण लाभ है।
- II. देश X को अच्छा A उत्पादन करने में पूर्ण लाभ है।
- III. दोनों उत्पादों के उत्पादन में या तो देश X या देश Y को पूर्ण लाभ है।

Options :

- 1. ✖ II तथा III
- 2. ✔ केवल II
- 3. ✖ I तथा II
- 4. ✖ केवल III

Question Number : 143 Question Id : 54062614632 Question Type : MCQ Option Shuffling : Yes Is Question Mandatory : No Option Orientation : Vertical

Correct Marks : 1 Wrong Marks : 0.25

In country A, supply of labour and supply of capital is 25 units and 20 units respectively. In country B, it is 12 units and 15 units respectively. Considering the H-O model of international trade, which country is richly endowed with capital and what is its capital-labour ratio?

Options :

- 1. ✔ Country B, 1.25
- 2. ✖ Country A, 0.8
- 3. ✖ Country B, 0.8
- 4. ✖ Country A, 1.25

Question Number : 143 Question Id : 54062614632 Question Type : MCQ Option Shuffling : Yes Is Question Mandatory : No Option Orientation : Vertical

Correct Marks : 1 Wrong Marks : 0.25

देश A में श्रम की आपूर्ति और पूंजी की आपूर्ति क्रमशः 25 इकाई और 20 इकाई है। देश B में, यह क्रमशः 12 इकाइयाँ और 15 इकाइयाँ हैं। अंतर्राष्ट्रीय व्यापार के H-O मॉडल को ध्यान में रखते हुए, कौन सा देश पूंजी के साथ समृद्ध है और इसका पूंजी-श्रम अनुपात क्या है?

Options :

1. ✓ देश B, 1.25
2. ✗ देश A, 0.8
3. ✗ देश B, 0.8
4. ✗ देश A, 1.25

Question Number : 144 Question Id : 54062614633 Question Type : MCQ Option Shuffling : Yes Is Question Mandatory : No Option Orientation : Vertical

Correct Marks : 1 Wrong Marks : 0.25

Which of the following scenarios does NOT violate the basic principles in the area of trade in goods in the WTO?

Options :

1. ✗ A member can give lower tariff on a product to a country as a reward for receiving some aid or investment from that country.
2. ✓ Developing countries may get special benefits from other countries and they may have special arrangements among themselves without others getting the benefits.
3. ✗ A member can ask for a particular packaging for an imported product even if it does not ask for similar packaging for a like domestic product.
4. ✗ Two countries or a group of countries cannot form regional trading arrangement among themselves and extend lower tariffs to one another.

Question Number : 144 Question Id : 54062614633 Question Type : MCQ Option Shuffling : Yes Is Question Mandatory : No Option Orientation : Vertical

Correct Marks : 1 Wrong Marks : 0.25

निम्नलिखित में से कौन सा परिदृश्य डब्ल्यू. टी. ओ. में वस्तुओं के व्यापार के क्षेत्र में बुनियादी सिद्धांतों का उल्लंघन नहीं करता है?

Options :

1. ✗ एक सदस्य किसी देश से कुछ सहायता या निवेश प्राप्त करने के लिए पुरस्कार के रूप में किसी देश को उत्पाद पर कम टैरिफ दे सकता है।
2. ✓ विकासशील देशों को अन्य देशों से विशेष लाभ मिल सकता है और दूसरों को लाभ दिए बिना वे आपस में विशेष व्यवस्था कर सकते हैं।
3. ✗ एक सदस्य आयातित उत्पाद के लिए एक विशेष पैकेजिंग की मांग कर सकता है, भले ही वह घरेलू उत्पाद के लिए समान पैकेजिंग की मांग न करे।
4. ✗ दो देश या देशों का समूह आपस में क्षेत्रीय व्यापार व्यवस्था नहीं बना सकते हैं और एक दूसरे के लिए कम टैरिफ का विस्तार नहीं कर सकते हैं।

Question Number : 145 Question Id : 54062614634 Question Type : MCQ Option Shuffling : Yes Is Question Mandatory : No Option Orientation : Vertical

Correct Marks : 1 Wrong Marks : 0.25

Which of the following is correct regarding classical linear regression model?

- I. Regressors are assumed to be non random.
- II. Regression coefficients are assumed to be fixed numbers.

Options :

- 1. ✘ Only I
- 2. ✘ Only II
- 3. ✔ Both I and II
- 4. ✘ Neither I nor II

Question Number : 145 Question Id : 54062614634 Question Type : MCQ Option Shuffling : Yes Is Question Mandatory : No Option Orientation : Vertical

Correct Marks : 1 Wrong Marks : 0.25

क्लासिकल लीनियर रिग्रेशन मॉडल के संदर्भ में कौन सा सही है?

- I. रेग्रेसर्स को नॉन रैंडम माना जाता है।
- II. रिग्रेशन गुणांक को निश्चित संख्या माना जाता है।

Options :

- 1. ✘ केवल I
- 2. ✘ केवल II
- 3. ✔ I तथा II दोनों
- 4. ✘ ना ही I ना ही II

Question Number : 146 Question Id : 54062614635 Question Type : MCQ Option Shuffling : Yes Is Question Mandatory : No Option Orientation : Vertical

Correct Marks : 1 Wrong Marks : 0.25

Confirmation or refutation of economic theories on the basis of sample evidence is based on a branch of statistical theory known as _____.

Options :

- 1. ✔ statistical inference
- 2. ✘ statistical postulates
- 3. ✘ statistical proofs
- 4. ✘ statistical interpretation

Question Number : 146 Question Id : 54062614635 Question Type : MCQ Option Shuffling : Yes Is Question Mandatory : No Option Orientation : Vertical

Correct Marks : 1 Wrong Marks : 0.25

नमूना साक्ष्य के आधार पर आर्थिक सिद्धांतों की पुष्टि या खंडन सांख्यिकीय सिद्धांत की एक शाखा पर आधारित है जिसे _____ कहा जाता है।

Options :

1. ✓ सांख्यिकीय अनुमान
2. ✗ सांख्यिकीय अभिधारणा
3. ✗ सांख्यिकीय प्रमाण
4. ✗ सांख्यिकीय विवेचन

Question Number : 147 Question Id : 54062614636 Question Type : MCQ Option Shuffling : Yes Is Question Mandatory : No Option Orientation : Vertical

Correct Marks : 1 Wrong Marks : 0.25

Which of the following is/are correct regarding the linear regression model?

- I. The regression model is linear in the parameters, though it may or may not be linear in the variables.
- II. The variance of the error, or disturbance term is the same regardless of the value of X.

Options :

1. ✗ Only I
2. ✗ Only II
3. ✓ Both I and II
4. ✗ Neither I nor II

Question Number : 147 Question Id : 54062614636 Question Type : MCQ Option Shuffling : Yes Is Question Mandatory : No Option Orientation : Vertical

Correct Marks : 1 Wrong Marks : 0.25

लीनियर रिग्रेशन मॉडल के संदर्भ में निम्नलिखित में से कौन सा सही है?

- I. रिग्रेशन मॉडल पैरामीटर्स में रैखिक है, हालांकि यह चरों में रैखिक हो भी सकता है और नहीं भी।
- II. X के मान पर ध्यान दिए बगैर एरर का वरिंस या डीसतर्बस टर्म सामान है।

Options :

1. ✘ केवल I
2. ✘ केवल II
3. ✔ I तथा II दोनों
4. ✘ ना ही I ना ही II

Question Number : 148 Question Id : 54062614637 Question Type : MCQ Option Shuffling : Yes Is Question Mandatory : No Option Orientation : Vertical

Correct Marks : 1 Wrong Marks : 0.25

Which of the following is correct about the standard error of regression?

Options :

1. ✔ $\sqrt{\frac{\sum \hat{u}_i^2}{n-2}}$

2. ✘ $\sqrt{\frac{\sum \hat{u}_i^2}{n-1}}$

3. ✘ $\sqrt{\frac{\sum \hat{u}_i}{n-2}}$

4. ✘ $\sqrt{\frac{\sum \hat{u}_i}{n-1}}$

Question Number : 148 Question Id : 54062614637 Question Type : MCQ Option Shuffling : Yes Is Question Mandatory : No Option Orientation : Vertical

Correct Marks : 1 Wrong Marks : 0.25

स्टैण्डर्ड एरर ऑफ रिग्रेशन के संदर्भ में निम्नलिखित में से कौन सा सही है?

Options :

1. ✓ $\sqrt{\frac{\sum \hat{u}_i^2}{n-2}}$

2. ✘ $\sqrt{\frac{\sum \hat{u}_i^2}{n-1}}$

3. ✘ $\sqrt{\frac{\sum \hat{u}_i}{n-2}}$

4. ✘ $\sqrt{\frac{\sum \hat{u}_i}{n-1}}$

Question Number : 149 Question Id : 54062614638 Question Type : MCQ Option Shuffling : Yes Is Question Mandatory : No Option Orientation : Vertical

Correct Marks : 1 Wrong Marks : 0.25

Which of the following is a property of OLS estimator under the normality assumption (u_i follows the normal distribution)?

- I. OLS estimators are unbiased.
- II. OLS estimators have minimum variance.

Options :

1. ✘ Only I

2. ✘ Only II

3. ✓ Both I and II

4. ✘ Neither I nor II

Question Number : 149 Question Id : 54062614638 Question Type : MCQ Option Shuffling : Yes Is Question Mandatory : No Option

Orientation : Vertical

Correct Marks : 1 Wrong Marks : 0.25

निम्नलिखित में से कौन नार्मल धारणा के तहत OLS अनुमानक का गुण है (u_i नार्मल डिस्ट्रीब्यूशन का अनुसरण करता है)?

- I. OLS अनुमानक निष्पक्ष हैं।
- II. OLS अनुमानकों का न्यूनतम विचरण होता है।

Options :

- 1. ✘ केवल I
- 2. ✘ केवल II
- 3. ✔ I तथा II दोनों
- 4. ✘ ना ही I ना ही II

Question Number : 150 Question Id : 54062614639 Question Type : MCQ Option Shuffling : Yes Is Question Mandatory : No Option

Orientation : Vertical

Correct Marks : 1 Wrong Marks : 0.25

Which of the following is correct regarding the Interval estimation?

- I. α – confidence coefficient
- II. $(1 - \alpha)$ – level of significance

Options :

- 1. ✘ Only I
- 2. ✘ Only II
- 3. ✘ Both I and II
- 4. ✔ Neither I nor II

Question Number : 150 Question Id : 54062614639 Question Type : MCQ Option Shuffling : Yes Is Question Mandatory : No Option

Orientation : Vertical

Correct Marks : 1 Wrong Marks : 0.25

इंटरवेल एस्टीमेशन के संदर्भ में निम्नलिखित में से कौन सा सही है?

- I. α – कॉन्फिडेंस कोएफिशिएंट
- II. $(1 - \alpha)$ – लेवल ऑफ़ सिग्निफिकेंस

Options :

1. ✖ केवल I
2. ✖ केवल II
3. ✖ I तथा II दोनों
4. ✔ ना ही I ना ही II

Question Number : 151 Question Id : 54062614640 Question Type : MCQ Option Shuffling : Yes Is Question Mandatory : No Option Orientation : Vertical

Correct Marks : 1 Wrong Marks : 0.25

Cobb–Douglas production function is given by $Y_i = \beta_1 X_{2i}^{\beta_2} X_{3i}^{\beta_3} e^{u_i}$. Which of the following is correct?

- I. X_2 = Labour input
- II. X_3 = Capital input

Options :

1. ✖ Only I
2. ✖ Only II
3. ✔ Both I and II
4. ✖ Neither I nor II

Question Number : 151 Question Id : 54062614640 Question Type : MCQ Option Shuffling : Yes Is Question Mandatory : No Option Orientation : Vertical

Correct Marks : 1 Wrong Marks : 0.25

कॉब-डगल्स उत्पादन फलन है $Y_i = \beta_1 X_{2i}^{\beta_2} X_{3i}^{\beta_3} e^{u_i}$. निम्नलिखित में से कौन सा सही है?

- I. X_2 = लेबर इनपुट
- II. X_3 = कैपिटल इनपुट

Options :

1. ✖ केवल I
2. ✖ केवल II
3. ✔ I तथा II दोनों
4. ✖ ना ही I ना ही II

Question Number : 152 Question Id : 54062614641 Question Type : MCQ Option Shuffling : Yes Is Question Mandatory : No Option Orientation : Vertical

Correct Marks : 1 Wrong Marks : 0.25

Which of the following is a factor of multi-collinearity?

- I. Data collection method employed
- II. Constraint on the model

Options :

- 1. ✘ Only I
- 2. ✘ Only II
- 3. ✔ Both I and II
- 4. ✘ Neither I nor II

Question Number : 152 Question Id : 54062614641 Question Type : MCQ Option Shuffling : Yes Is Question Mandatory : No Option Orientation : Vertical

Correct Marks : 1 Wrong Marks : 0.25

निम्नलिखित में से कौन मल्टी-कोल्लिनेअरिटी का कारक है?

- I. कार्यरत की गई डेटा संग्रह विधि
- II. मॉडल पर बाध्यता

Options :

- 1. ✘ केवल I
- 2. ✘ केवल II
- 3. ✔ I तथा II दोनों
- 4. ✘ ना ही I ना ही II

Question Number : 153 Question Id : 54062614642 Question Type : MCQ Option Shuffling : Yes Is Question Mandatory : No Option Orientation : Vertical

Correct Marks : 1 Wrong Marks : 0.25

Which of the following is a test to detect heteroscedasticity?

- I. Park Test
- II. Glejser Test
- III. Goldfeld–Quandt Test

Options :

1. ✘ I and II
2. ✘ II and III
3. ✘ I and III
4. ✔ I, II and III

Question Number : 153 Question Id : 54062614642 Question Type : MCQ Option Shuffling : Yes Is Question Mandatory : No Option Orientation : Vertical

Correct Marks : 1 Wrong Marks : 0.25

निम्नलिखित में से कौन हेटेरोसकेडेसिटिसिटी का पता लगाने के लिए एक टेस्ट है?

- I. पार्क टेस्ट
- II. ग्लेज़सेर टेस्ट
- III. गोल्डफेल्ड-क्रांड्ट टेस्ट

Options :

1. ✘ I तथा II
2. ✘ II तथा III
3. ✘ I तथा III
4. ✔ I, II तथा III

Question Number : 154 Question Id : 54062614643 Question Type : MCQ Option Shuffling : Yes Is Question Mandatory : No Option Orientation : Vertical

Correct Marks : 1 Wrong Marks : 0.25

Which of the following is correct regarding model specification errors?

- I. Underfitting a model – omitting relevant variables
- II. Overfitting a model – including unnecessary variables

Options :

1. ✘ Only I
2. ✘ Only II
3. ✔ Both I and II
4. ✘ Neither I nor II

Question Number : 154 Question Id : 54062614643 Question Type : MCQ Option Shuffling : Yes Is Question Mandatory : No Option Orientation : Vertical

Correct Marks : 1 Wrong Marks : 0.25

मॉडल स्पेसिफिकेशन त्रुटियों के संदर्भ में निम्नलिखित में से कौन सा सही है?

- I. मॉडल को कम आंकना - उचित चर को छोड़ना
- II. मॉडल को ओवरफिट करना - अनावश्यक चर को मिलाना

Options :

- 1. ✖ केवल I
- 2. ✖ केवल II
- 3. ✔ I तथा II दोनों
- 4. ✖ ना ही I ना ही II

Question Number : 155 Question Id : 54062614644 Question Type : MCQ Option Shuffling : Yes Is Question Mandatory : No Option Orientation : Vertical

Correct Marks : 1 Wrong Marks : 0.25

Which of the following methods is an orderly arrangement of data in columns and rows?

Options :

- 1. ✔ Tabulation
- 2. ✖ Classification
- 3. ✖ Editing
- 4. ✖ Coding

Question Number : 155 Question Id : 54062614644 Question Type : MCQ Option Shuffling : Yes Is Question Mandatory : No Option Orientation : Vertical

Correct Marks : 1 Wrong Marks : 0.25

निम्नलिखित में से कौन सी विधि कॉलम और रौ में डेटा को व्यवस्थित करती है?

Options :

- 1. ✔ सारणीकरण
- 2. ✖ वर्गीकरण
- 3. ✖ संपादन

4. ✖ कोडिंग

Question Number : 156 Question Id : 54062614645 Question Type : MCQ Option Shuffling : Yes Is Question Mandatory : No Option Orientation : Vertical

Correct Marks : 1 Wrong Marks : 0.25

Which of the following pictorial techniques uses a cartoon format?

Options :

1. ✖ Thematic apperception test
2. ✖ Tomkins-Horn picture arrangement test
3. ✖ Holtzman inkblot test
4. ✔ Rosenzweig test

Question Number : 156 Question Id : 54062614645 Question Type : MCQ Option Shuffling : Yes Is Question Mandatory : No Option Orientation : Vertical

Correct Marks : 1 Wrong Marks : 0.25

निम्नलिखित में से कौन सी चित्रात्मक तकनीक कार्टून प्रारूप का उपयोग करती है?

Options :

1. ✖ थीमैटिक एपेरसेप्शन टेस्ट
2. ✖ टॉमकिंस-हॉर्न पिक्चर अरेंजमेंट टेस्ट
3. ✖ होल्डज़मैन इंकब्लॉट टेस्ट
4. ✔ रोसेनज़वेग टेस्ट

Question Number : 157 Question Id : 54062614646 Question Type : MCQ Option Shuffling : Yes Is Question Mandatory : No Option Orientation : Vertical

Correct Marks : 1 Wrong Marks : 0.25

Which of the following formula was suggested by H.A. Sturges to determine the size of class interval while preparing data?

Options :

1. ✖ $i = R / (1 - 3.3 \log N)$
2. ✖ $i = R \times (1 + 3.3 \log N)$
3. ✔ $i = R / (1 + 3.3 \log N)$
4. ✖ $i = R \times (1 - 3.3 \log N)$

Question Number : 157 Question Id : 54062614646 Question Type : MCQ Option Shuffling : Yes Is Question Mandatory : No Option Orientation : Vertical

Correct Marks : 1 Wrong Marks : 0.25

डेटा तैयार करते समय अंतराल के वर्ग को निर्धारित करने के लिए एच.ए. स्टर्गेस ने निम्नलिखित में से किस सूत्र का सुझाव दिया गया था?

Options :

1. ✘ $i = R / (1 - 3.3 \log N)$
2. ✘ $i = R \times (1 + 3.3 \log N)$
3. ✔ $i = R / (1 + 3.3 \log N)$
4. ✘ $i = R \times (1 - 3.3 \log N)$

Question Number : 158 Question Id : 54062614647 Question Type : MCQ Option Shuffling : Yes Is Question Mandatory : No Option Orientation : Vertical

Correct Marks : 1 Wrong Marks : 0.25

How many printed cards of inkblots are used in the Rorschach test?

Options :

1. ✘ 45
2. ✔ 10
3. ✘ 20
4. ✘ 32

Question Number : 158 Question Id : 54062614647 Question Type : MCQ Option Shuffling : Yes Is Question Mandatory : No Option Orientation : Vertical

Correct Marks : 1 Wrong Marks : 0.25

रोस्कैच परीक्षण में इंकब्लॉट्स के कितने मुद्रित कार्ड उपयोग किए जाते हैं?

Options :

1. ✘ 45
2. ✔ 10
3. ✘ 20
4. ✘ 32

Question Number : 159 Question Id : 54062614648 Question Type : MCQ Option Shuffling : Yes Is Question Mandatory : No Option

Orientation : Vertical

Correct Marks : 1 Wrong Marks : 0.25

Which of the following is NOT one of the demerits of data collection through questionnaires?

Options :

1. ✘ This method is slower in comparison to the other available methods.
2. ✘ It can only be used for educated and cooperative respondents.
3. ✘ There is a possibility of ambiguous replies.
4. ✔ The cost increases as the number of respondent increases.

Question Number : 159 Question Id : 54062614648 Question Type : MCQ Option Shuffling : Yes Is Question Mandatory : No Option

Orientation : Vertical

Correct Marks : 1 Wrong Marks : 0.25

निम्नलिखित में से कौन प्रश्नावली के माध्यम से डेटा संग्रह के अवगुणों में से एक नहीं है?

Options :

1. ✘ यह विधि अन्य उपलब्ध विधियों की तुलना में धीमी है।
2. ✘ इसका उपयोग केवल शिक्षित और सहकारी उत्तरदाताओं के लिए किया जा सकता है।
3. ✘ अस्पष्ट उत्तरों की संभावना है।
4. ✔ उत्तरदाताओं की संख्या बढ़ने पर मूल्य बढ़ता है।

Question Number : 160 Question Id : 54062614649 Question Type : MCQ Option Shuffling : Yes Is Question Mandatory : No Option

Orientation : Vertical

Correct Marks : 1 Wrong Marks : 0.25

Which of the following is NOT a data adjusting method?

Options :

1. ✘ Weight-assigning
2. ✘ Scale Transformation
3. ✘ Variable respecification
4. ✔ Field editing

Question Number : 160 Question Id : 54062614649 Question Type : MCQ Option Shuffling : Yes Is Question Mandatory : No Option

Orientation : Vertical

Correct Marks : 1 Wrong Marks : 0.25

निम्नलिखित में से कौन सी एक डेटा समायोजन विधि नहीं है?

Options :

1. ✘ वेट-असाइनिंग
2. ✘ स्केल ट्रांसफॉर्मेशन
3. ✘ वेरिएबल रीस्पेसिफिकेशन
4. ✔ फील्ड एडिटिंग

Discipline4

Group Number :	9
Group Id :	540626497
Group Maximum Duration :	0
Group Minimum Duration :	0
Show Attended Group? :	No
Edit Attended Group? :	No
Break time :	0
Group Marks :	20
Is this Group for Examiner? :	No

Discipline4

Section Id :	540626671
Section Number :	1
Section type :	Online
Mandatory or Optional :	Mandatory
Number of Questions :	20
Number of Questions to be attempted :	20
Section Marks :	20
Enable Mark as Answered Mark for Review and Clear Response :	Yes
Sub-Section Number :	1
Sub-Section Id :	540626807
Question Shuffling Allowed :	Yes

Question Number : 161 Question Id : 54062614650 Question Type : MCQ Option Shuffling : Yes Is Question Mandatory : No Option Orientation : Vertical

Correct Marks : 1 Wrong Marks : 0.25

Which of the following statements is/are correct regarding the collection of secondary data?

- I. Secondary data may either be published data or unpublished data.
- II. Public records and historical documents act as a secondary data.
- III. Secondary data can never be unsuitable or inadequate for a given problem.

Options :

- 1. ✓ I and II
- 2. ✗ Only III
- 3. ✗ II and III
- 4. ✗ I, II and III

Question Number : 161 Question Id : 54062614650 Question Type : MCQ Option Shuffling : Yes Is Question Mandatory : No Option Orientation : Vertical

Correct Marks : 1 Wrong Marks : 0.25

सेकेंडरी डेटा के संग्रह के संबंध में निम्नलिखित में से कौन सा/से कथन सही है/हैं?

- I. सेकेंडरी डेटा या तो प्रकाशित डेटा या अप्रकाशित डेटा हो सकता है।
- II. सार्वजनिक रिकॉर्ड और ऐतिहासिक दस्तावेज सेकेंडरी डेटा के रूप में कार्य करते हैं।
- III. सेकेंडरी डेटा किसी समस्या के लिए अनुपयुक्त या अपर्याप्त नहीं हो सकते।

Options :

- 1. ✓ I तथा II
- 2. ✗ केवल III
- 3. ✗ II तथा III
- 4. ✗ I, II तथा III

Question Number : 162 Question Id : 54062614651 Question Type : MCQ Option Shuffling : Yes Is Question Mandatory : No Option Orientation : Vertical

Correct Marks : 1 Wrong Marks : 0.25

In monopsony, there is _____.

Options :

1. ✘ One seller
2. ✔ One buyer
3. ✘ Many seller
4. ✘ Many buyer

Question Number : 162 Question Id : 54062614651 Question Type : MCQ Option Shuffling : Yes Is Question Mandatory : No Option Orientation : Vertical

Correct Marks : 1 Wrong Marks : 0.25

मोनोपसोनी में _____ होता है।

Options :

1. ✘ एकल विक्रेता
2. ✔ एकल खरीदार
3. ✘ कई विक्रेता
4. ✘ कई खरीदार

Question Number : 163 Question Id : 54062614652 Question Type : MCQ Option Shuffling : Yes Is Question Mandatory : No Option Orientation : Vertical

Correct Marks : 1 Wrong Marks : 0.25

Pollution by a firm in the course of its production which causes nuisance or harm to others is an example of _____.

Options :

1. ✘ Positive Externalities
2. ✘ Technological externalities
3. ✔ Negative Externality
4. ✘ Tragedy of the commons

Question Number : 163 Question Id : 54062614652 Question Type : MCQ Option Shuffling : Yes Is Question Mandatory : No Option Orientation : Vertical

Correct Marks : 1 Wrong Marks : 0.25

एक फर्म द्वारा अपने उत्पादन के दौरान प्रदूषण जो दूसरों को नुकसान पहुंचाता है, _____ का एक उदाहरण है।

Options :

1. ✘ सकारात्मक बाह्यताएं
2. ✘ तकनीकी बाह्यताएं
3. ✔ नकारात्मक बाह्यताएं
4. ✘ सामान्य की त्रासदी

Question Number : 164 Question Id : 54062614653 Question Type : MCQ Option Shuffling : Yes Is Question Mandatory : No Option Orientation : Vertical

Correct Marks : 1 Wrong Marks : 0.25

Which of the following can be denoted as 'Benthamite welfare function'?

(W denotes social welfare and U_1, U_2 etc. represent the cardinal utilities)

Options :

1. ✘ $W = U_1 + U_2 - U_3 + \dots U_n$

2. ✔ $W = U_1 + U_2 + U_3 + \dots U_n$

3. ✘ $W = U_1 * U_2 * U_3 + \dots U_n$

4. ✘ $W = U_1 - U_2 + U_3 - \dots U_n$

Question Number : 164 Question Id : 54062614653 Question Type : MCQ Option Shuffling : Yes Is Question Mandatory : No Option Orientation : Vertical

Correct Marks : 1 Wrong Marks : 0.25

निम्नलिखित में से किसे 'बेन्थामाइट वेलफेयर फंक्शन' के रूप में निरूपित किया जा सकता है?

(W सामाजिक कल्याण को दर्शाता है और U_1, U_2 आदि कार्डिनल उपयोगिताओं का प्रतिनिधित्व करते हैं)

Options :

1. ✘ $W = U_1 + U_2 - U_3 + \dots U_n$

2. ✔ $W = U_1 + U_2 + U_3 \dots U_n$

3. ✘ $W = U_1 * U_2 * U_3 \dots U_n$

4. ✘ $W = U_1 - U_2 + U_3 - \dots U_n$

Question Number : 165 Question Id : 54062614654 Question Type : MCQ Option Shuffling : Yes Is Question Mandatory : No Option Orientation : Vertical

Correct Marks : 1 Wrong Marks : 0.25

Which criterion has used the loser's point of view for measuring the changes in social welfare?

Options :

1. ✘ Max-min Criterion
2. ✘ Samuelson's Criteria
3. ✘ Scitovsky double criteria
4. ✔ Hicks Criterion

Question Number : 165 Question Id : 54062614654 Question Type : MCQ Option Shuffling : Yes Is Question Mandatory : No Option Orientation : Vertical

Correct Marks : 1 Wrong Marks : 0.25

सामाजिक कल्याण में परिवर्तन को मापने के लिए हारने वाले के दृष्टिकोण का उपयोग किस मानदंड ने किया है?

Options :

1. ✘ मैक्स-मिन मानदंड
2. ✘ सैमुएलसन मानदंड
3. ✘ स्किटोव्स्की दोहरा मानदंड
4. ✔ हिक्स मानदंड

Question Number : 166 Question Id : 54062614655 Question Type : MCQ Option Shuffling : Yes Is Question Mandatory : No Option Orientation : Vertical

Correct Marks : 1 Wrong Marks : 0.25

A curve depicting all maximum output possibilities of two or more goods given a set of inputs is called _____.

Options :

1. ✓ Product possibility frontier
2. ✗ Contract curve
3. ✗ Community indifference curve
4. ✗ Laffer Curve

Question Number : 166 Question Id : 54062614655 Question Type : MCQ Option Shuffling : Yes Is Question Mandatory : No Option Orientation : Vertical

Correct Marks : 1 Wrong Marks : 0.25

दो या दो से अधिक वस्तुओं की सभी अधिकतम उत्पादन संभावनाओं को दर्शाने वाले इनपुट के एक सेट को _____ कहा जाता है।

Options :

1. ✓ उत्पाद संभावना सीमांत
2. ✗ अनुबंध वक्र
3. ✗ सामुदायिक उदासीनता वक्र
4. ✗ लाफ़र वक्र

Question Number : 167 Question Id : 54062614656 Question Type : MCQ Option Shuffling : Yes Is Question Mandatory : No Option Orientation : Vertical

Correct Marks : 1 Wrong Marks : 0.25

A natural monopoly occurs in a market where the:

Options :

1. ✓ average cost curve is decreasing over the entire relevant range of outputs
2. ✗ single company is not able to supply the entire market
3. ✗ marginal cost curve is constant for all the given outputs
4. ✗ capital cost is more than the average cost

Question Number : 167 Question Id : 54062614656 Question Type : MCQ Option Shuffling : Yes Is Question Mandatory : No Option Orientation : Vertical

Correct Marks : 1 Wrong Marks : 0.25

एक बाजार में एक प्राकृतिक एकाधिकार होता है जहां:

Options :

1. ✓ आउटपुट की संपूर्ण प्रासंगिक सीमा पर औसत लागत वक्र घट रहा है
2. ✗ एक कंपनी पूरे बाजार की आपूर्ति करने में सक्षम नहीं है
3. ✗ सभी दिए गए आउटपुट के लिए सीमांत लागत वक्र स्थिर है
4. ✗ पूंजी लागत औसत लागत से अधिक है

Question Number : 168 Question Id : 54062614657 Question Type : MCQ Option Shuffling : Yes Is Question Mandatory : No Option Orientation : Vertical

Correct Marks : 1 Wrong Marks : 0.25

Which of the following gives the correct example of common property resource type of externality?

Options :

1. ✗ A property tycoon buying up a large number of houses in a town, causing prices to rise.
2. ✗ A child buying a mobile phone for the first time and increasing its usefulness among other children.
3. ✓ The harvesting by one fishing company in the open sea depletes the stock of available fish for the other companies.
4. ✗ An individual planting an attractive garden in front of her house may benefit others living in the area.

Question Number : 168 Question Id : 54062614657 Question Type : MCQ Option Shuffling : Yes Is Question Mandatory : No Option Orientation : Vertical

Correct Marks : 1 Wrong Marks : 0.25

निम्नलिखित में से कौन सा सामान्य संपत्ति संसाधन प्रकार की बाह्य कारण का सही उदाहरण देता है?

Options :

1. ✗ एक प्रॉपर्टी टाइकून एक कस्बे में बड़ी संख्या में घर खरीदता है, जिससे कीमतें बढ़ती हैं।
2. ✗ एक बच्चा पहली बार मोबाइल फोन खरीद रहा है और अन्य बच्चों के बीच इसकी उपयोगिता बढ़ा रहा है।
3. ✓ खुले समुद्र में एक मछली पकड़ने वाली कंपनी द्वारा मछली पकड़ने से दूसरी कंपनियों के लिए उपलब्ध मछलियों का स्टॉक समाप्त हो जाता है।
4. ✗ एक व्यक्ति अपने घर के सामने एक आकर्षक बगीचा लगाता है जिससे उस क्षेत्र में रहने वाले अन्य लोगों को लाभ हो सकता है।

Question Number : 169 Question Id : 54062614658 Question Type : MCQ Option Shuffling : Yes Is Question Mandatory : No Option Orientation : Vertical

Correct Marks : 1 Wrong Marks : 0.25

Which of the following is an essential element of a game?

- I. Players
- II. Strategies
- III. Pay offs

Options :

- 1. ✘ I and II
- 2. ✘ II and III
- 3. ✘ I and III
- 4. ✔ I, II and III

Question Number : 169 Question Id : 54062614658 Question Type : MCQ Option Shuffling : Yes Is Question Mandatory : No Option Orientation : Vertical

Correct Marks : 1 Wrong Marks : 0.25

निम्नलिखित में से कौन-सा खेल का एक अनिवार्य तत्व है?

- I. खिलाड़ी
- II. रणनीतियाँ
- III. भुगतान

Options :

- 1. ✘ I तथा II
- 2. ✘ II तथा III
- 3. ✘ I तथा III
- 4. ✔ I, II तथा III

Question Number : 170 Question Id : 54062614659 Question Type : MCQ Option Shuffling : Yes Is Question Mandatory : No Option Orientation : Vertical

Correct Marks : 1 Wrong Marks : 0.25

Which of the following pair is correct?

- I. Cooperative games – joint action agreements are enforceable
- II. Non-cooperative games – joint action agreements are not enforceable

Options :

- 1. ✘ Only I

2. ✘ Only II
3. ✔ Both I and II
4. ✘ Neither I nor II

Question Number : 170 Question Id : 54062614659 Question Type : MCQ Option Shuffling : Yes Is Question Mandatory : No Option Orientation : Vertical

Correct Marks : 1 Wrong Marks : 0.25

निम्नलिखित में से कौन सा युग्म सही है?

- I. कोऑपरेटिव खेल - संयुक्त कार्रवाई समझौते प्रवर्तनीय हैं
- II. नॉन-कोऑपरेटिव खेल - संयुक्त कार्रवाई समझौते प्रवर्तनीय नहीं हैं

Options :

1. ✘ केवल I
2. ✘ केवल II
3. ✔ I तथा II दोनों
4. ✘ ना ही I ना ही II

Question Number : 171 Question Id : 54062614660 Question Type : MCQ Option Shuffling : Yes Is Question Mandatory : No Option Orientation : Vertical

Correct Marks : 1 Wrong Marks : 0.25

In zero sum games _____.

Options :

1. ✘ one's gain is another's gain
2. ✘ one's loss is another's loss
3. ✔ one's loss is another's gain
4. ✘ all players are at loss

Question Number : 171 Question Id : 54062614660 Question Type : MCQ Option Shuffling : Yes Is Question Mandatory : No Option Orientation : Vertical

Correct Marks : 1 Wrong Marks : 0.25

शून्य योग गेमों में _____।

Options :

- ✘ एक का लाभ दूसरों का लाभ होता है
- ✘ एक का हानि दूसरों की हानि होती है
- ✔ एक का नुकसान दूसरों का लाभ होता है
- ✘ सभी खिलाड़ी घाटे में होते हैं

Question Number : 172 Question Id : 54062614661 Question Type : MCQ Option Shuffling : Yes Is Question Mandatory : No Option Orientation : Vertical

Correct Marks : 1 Wrong Marks : 0.25

If rate of return is r , then _____ is the discount factor.

Options :

1. ✔ $\frac{1}{(1+r)}$

2. ✘ $(1+r)$

3. ✘ $\frac{1}{(1-r)}$

4. ✘ $(1-r)$

Question Number : 172 Question Id : 54062614661 Question Type : MCQ Option Shuffling : Yes Is Question Mandatory : No Option Orientation : Vertical

Correct Marks : 1 Wrong Marks : 0.25

यदि प्रतिफल दर r है, तो _____ छूट कारक है।

Options :

1. ✔ $\frac{1}{(1+r)}$

2. ✘ $(1 + r)$

3. ✘ $\frac{1}{(1 - r)}$

4. ✘ $(1 - r)$

Question Number : 173 Question Id : 54062614662 Question Type : MCQ Option Shuffling : Yes Is Question Mandatory : No Option Orientation : Vertical

Correct Marks : 1 Wrong Marks : 0.25

In a repeat game the initial game which is repeated in every time period is called the _____ game.

Options :

1. ✔ stage

2. ✘ zero

3. ✘ primary

4. ✘ origin

Question Number : 173 Question Id : 54062614662 Question Type : MCQ Option Shuffling : Yes Is Question Mandatory : No Option Orientation : Vertical

Correct Marks : 1 Wrong Marks : 0.25

रिपीट गेम में प्रारंभिक गेम जिसे हर समय अवधि में दोहराया जाता है, _____ गेम कहलाता है।

Options :

1. ✔ स्टेज

2. ✘ जीरो

3. ✘ प्राईमरी

4. ✘ ओरिजिन

Question Number : 174 Question Id : 54062614663 Question Type : MCQ Option Shuffling : Yes Is Question Mandatory : No Option Orientation : Vertical

Correct Marks : 1 Wrong Marks : 0.25

Which of the following is NOT a reason for higher productivity in industrial sector?

Options :

1. ✘ Existence of greater capital intensity
2. ✘ Continuity of production
3. ✔ No specialisation and no division of labour
4. ✘ Less dependence on natural factors

Question Number : 174 Question Id : 54062614663 Question Type : MCQ Option Shuffling : Yes Is Question Mandatory : No Option Orientation : Vertical

Correct Marks : 1 Wrong Marks : 0.25

निम्नलिखित में से कौन सा औद्योगिक क्षेत्र में उच्च उत्पादकता का कारण नहीं है?

Options :

1. ✘ ज्यादा पूंजी आधिक्य का होना
2. ✘ उत्पादन की निरंतरता
3. ✔ श्रम की कोई विशेषता तथा कोई विभाजन ना होना
4. ✘ प्राकृतिक कारकों पर कम निर्भरता

Question Number : 175 Question Id : 54062614664 Question Type : MCQ Option Shuffling : Yes Is Question Mandatory : No Option Orientation : Vertical

Correct Marks : 1 Wrong Marks : 0.25

Which of the following is an economic factor hindering the industrialisation in developing countries?

- I. Scarcity of capital
- II. Absence of industries to use the byproducts of existing industries
- III. Adequate infrastructure facilities

Options :

1. ✔ I and II
2. ✘ II and III
3. ✘ I and III
4. ✘ I, II and III

Question Number : 175 Question Id : 54062614664 Question Type : MCQ Option Shuffling : Yes Is Question Mandatory : No Option Orientation : Vertical

Correct Marks : 1 Wrong Marks : 0.25

निम्नलिखित में से कौन सा विकासशील देशों में औद्योगीकरण में बाधा डालने वाला एक आर्थिक कारक है?

- I. पूंजी की कमी
- II. मौजूदा उद्योगों के उपोत्पादों का उपयोग करने के लिए उद्योगों की अनुपस्थिति
- III. पर्याप्त बुनियादी सुविधाएं

Options :

1. ✓ I तथा II
2. ✗ II तथा III
3. ✗ I तथा III
4. ✗ I, II तथा III

Question Number : 176 Question Id : 54062614665 Question Type : MCQ Option Shuffling : Yes Is Question Mandatory : No Option Orientation : Vertical

Correct Marks : 1 Wrong Marks : 0.25

Which of the following pair of good – type is correct?

- I. Bicycle – Durable consumer good
- II. Beverages – Nondurable consumer good

Options :

1. ✗ Only I
2. ✗ Only II
3. ✓ Both I and II
4. ✗ Neither I nor II

Question Number : 176 Question Id : 54062614665 Question Type : MCQ Option Shuffling : Yes Is Question Mandatory : No Option Orientation : Vertical

Correct Marks : 1 Wrong Marks : 0.25

निम्नलिखित में से कौन सा वस्तु-प्रकार का युग्म सही है?

- I. साइकिल - टिकाऊ उपभोक्ता वस्तु
- II. पेय पदार्थ – गैर टिकाऊ उपभोक्ता वस्तु

Options :

- 1. ✘ केवल I
- 2. ✘ केवल II
- 3. ✔ I तथा II दोनों
- 4. ✘ ना ही I ना ही II

Question Number : 177 Question Id : 54062614666 Question Type : MCQ Option Shuffling : Yes Is Question Mandatory : No Option Orientation : Vertical

Correct Marks : 1 Wrong Marks : 0.25

In the presence of uncertain situations, people tend to show some behavioural traits. Which of the following is correct?

- I. People often do not want to play actuarially fair games.
- II. People won't necessarily play actuarially favourable games.

Options :

- 1. ✘ Only I
- 2. ✘ Only II
- 3. ✔ Both I and II
- 4. ✘ Neither I nor II

Question Number : 177 Question Id : 54062614666 Question Type : MCQ Option Shuffling : Yes Is Question Mandatory : No Option Orientation : Vertical

Correct Marks : 1 Wrong Marks : 0.25

अनिश्चित स्थितियों की उपस्थिति में, लोग कुछ व्यवहार संबंधी लक्षण दिखाते हैं। निम्नलिखित में से कौन सा सही है?

- I. लोग अक्सर बीमांकिक रूप से निष्पक्ष खेल नहीं खेलना चाहते हैं।
- II. जरूरी नहीं कि लोग बीमांकिक रूप से अनुकूल खेल खेलें।

Options :

- 1. ✘ केवल I
- 2. ✘ केवल II
- 3. ✔ I तथा II दोनों

4. ✖ ना ही I ना ही II

Question Number : 178 Question Id : 54062614667 Question Type : MCQ Option Shuffling : Yes Is Question Mandatory : No Option Orientation : Vertical

Correct Marks : 1 Wrong Marks : 0.25

Which of the following is a type of lottery?

- I. Simple
- II. Compound

Options :

- 1. ✖ Only I
- 2. ✖ Only II
- 3. ✔ Both I and II
- 4. ✖ Neither I nor II

Question Number : 178 Question Id : 54062614667 Question Type : MCQ Option Shuffling : Yes Is Question Mandatory : No Option Orientation : Vertical

Correct Marks : 1 Wrong Marks : 0.25

निम्नलिखित में से कौन सी एक प्रकार की लॉटरी है?

- I. सरल
- II. योजिक

Options :

- 1. ✖ केवल I
- 2. ✖ केवल II
- 3. ✔ I तथा II दोनों
- 4. ✖ ना ही I ना ही II

Question Number : 179 Question Id : 54062614668 Question Type : MCQ Option Shuffling : Yes Is Question Mandatory : No Option Orientation : Vertical

Correct Marks : 1 Wrong Marks : 0.25

Which of the following is correct regarding VNM expected utility theory?

- I. 'u' represents the von Neumann-Morgenstern utility function
II. 'U' represents the Bernoulli utility function

Options :

1. ✖ Only I
2. ✖ Only II
3. ✖ Both I and II
4. ✔ Neither I nor II

Question Number : 179 Question Id : 54062614668 Question Type : MCQ Option Shuffling : Yes Is Question Mandatory : No Option Orientation : Vertical

Correct Marks : 1 Wrong Marks : 0.25

VNM अपेक्षित उपयोगिता सिद्धांत के संदर्भ में निम्नलिखित में से कौन सा सही है?

- I. 'u' वॉन न्यूमैन-मॉर्गनस्टर्न उपयोगिता फ़ंक्शन का प्रतिनिधित्व करता है
II. 'U' बर्नौली उपयोगिता फ़ंक्शन का प्रतिनिधित्व करता है

Options :

1. ✖ केवल I
2. ✖ केवल II
3. ✖ I तथा II दोनों
4. ✔ ना ही I ना ही II

Question Number : 180 Question Id : 54062614669 Question Type : MCQ Option Shuffling : Yes Is Question Mandatory : No Option Orientation : Vertical

Correct Marks : 1 Wrong Marks : 0.25

Which of the following is the correct representation of Arrow-Pratt coefficient of risk aversion?

Note: For this question, discrepancy is found in question/answer. So, this question is ignored for all candidates.

Options :

1.
$$r_A(x; u) = \frac{u^1(x)}{u^x(x)}$$

2. $r_A(x; u) = \frac{u^x(x)}{u^1(x)}$

3. $r_A(x; u) = u^x(x) + u^1(x)$

4. $r_A(x; u) = u^x(x) - u^1(x)$

Question Number : 180 Question Id : 54062614669 Question Type : MCQ Option Shuffling : Yes Is Question Mandatory : No Option Orientation : Vertical

Correct Marks : 1 Wrong Marks : 0.25

निम्नलिखित में से कौन सा एरो-प्रेट रिस्क एवर्शन गुणांक का सही प्रतिनिधित्व है?

Note: For this question, discrepancy is found in question/answer. So, this question is ignored for all candidates.

Options :

1. $r_A(x; u) = \frac{u^1(x)}{u^x(x)}$

2. $r_A(x; u) = \frac{u^x(x)}{u^1(x)}$

3. $r_A(x; u) = u^x(x) + u^1(x)$

4. $r_A(x; u) = u^x(x) - u^1(x)$

Discipline5

Group Number :	10
Group Id :	540626498
Group Maximum Duration :	0
Group Minimum Duration :	0
Show Attended Group? :	No
Edit Attended Group? :	No
Break time :	0
Group Marks :	20
Is this Group for Examiner? :	No

Discipline5

Section Id :	540626672
Section Number :	1
Section type :	Online
Mandatory or Optional :	Mandatory
Number of Questions :	20
Number of Questions to be attempted :	20
Section Marks :	20
Enable Mark as Answered Mark for Review and Clear Response :	Yes
Sub-Section Number :	1
Sub-Section Id :	540626808
Question Shuffling Allowed :	Yes

Question Number : 181 Question Id : 54062614670 Question Type : MCQ Option Shuffling : Yes Is Question Mandatory : No Option Orientation : Vertical

Correct Marks : 1 Wrong Marks : 0.25

If we want to have more of one of the goods, we will have less of the other good. Thus, there is always a cost of having a little more of one good in terms of the amount of the other good that has to be forgone. This is known as the _____.

Options :

1. ✓ Opportunity cost
2. ✗ Actual cost
3. ✗ Marginal cost
4. ✗ Financing cost

Question Number : 181 Question Id : 54062614670 Question Type : MCQ Option Shuffling : Yes Is Question Mandatory : No Option Orientation : Vertical

Correct Marks : 1 Wrong Marks : 0.25

यदि हम चाहते हैं की हमारे पास एक वस्तु का अधिक हो, तो हमारे पास दूसरी वस्तु की मात्रा कम होगी। इस प्रकार, दूसरे वस्तु की मात्रा के संदर्भ में हमेशा एक वस्तु के थोड़ा अधिक होने की लागत होती है जिसे छोड़ना पड़ता है। इसे _____ के रूप में जाना जाता है।

Options :

1. ✓ अवसर लागत
2. ✗ वास्तविक लागत
3. ✗ सीमांत लागत
4. ✗ वित्तपोषण लागत

Question Number : 182 Question Id : 54062614671 Question Type : MCQ Option Shuffling : Yes Is Question Mandatory : No Option Orientation : Vertical

Correct Marks : 1 Wrong Marks : 0.25

Which one of the following is required for a person to make a rational decision?

Options :

1. ✗ Choices that don't have trade-offs
2. ✗ Choices that never change
3. ✓ Choices that are consistent with a similar goal every time
4. ✗ Logical choices without error

Question Number : 182 Question Id : 54062614671 Question Type : MCQ Option Shuffling : Yes Is Question Mandatory : No Option Orientation : Vertical

Correct Marks : 1 Wrong Marks : 0.25

किसी व्यक्ति को तर्कसंगत निर्णय लेने के लिए निम्नलिखित में से किसकी आवश्यकता होती है?

Options :

1. ✖ ऐसे विकल्प जिनमें ट्रेड-ऑफ़ नहीं हैं
2. ✖ विकल्प जो कभी नहीं बदलते
3. ✔ ऐसे विकल्प जो हर बार समान लक्ष्य के अनुरूप हों
4. ✖ त्रुटि के बिना तार्किक विकल्प

Question Number : 183 Question Id : 54062614672 Question Type : MCQ Option Shuffling : Yes Is Question Mandatory : No Option Orientation : Vertical

Correct Marks : 1 Wrong Marks : 0.25

Which of the following statement is correct?

- I. In positive economics we deal with scientific issues and questions
- II. In normative economics, disagreements among economists can never be resolved

Options :

1. ✖ Only I
2. ✖ Only II
3. ✔ Both I and II
4. ✖ Neither I nor II

Question Number : 183 Question Id : 54062614672 Question Type : MCQ Option Shuffling : Yes Is Question Mandatory : No Option Orientation : Vertical

Correct Marks : 1 Wrong Marks : 0.25

निम्नलिखित में से कौन सा कथन सही है?

- I. सकारात्मक अर्थशास्त्र में हम वैज्ञानिक मुद्दों और प्रश्नों को सुलझाते हैं
- II. प्रामाणिक अर्थशास्त्र में, अर्थशास्त्रियों के बीच असहमति को कभी भी हल नहीं किया जा सकता है

Options :

1. ✖ केवल I
2. ✖ केवल II
3. ✔ I तथा II दोनों
4. ✖ ना ही I ना ही II

Question Number : 184 Question Id : 54062614673 Question Type : MCQ Option Shuffling : Yes Is Question Mandatory : No Option

Orientation : Vertical

Correct Marks : 1 Wrong Marks : 0.25

Which one of the following is a disadvantage for allocating resources utilizing a market system?

- I. Profits will be less
- II. Uneven distribution of income may take place

Options :

- 1. ✘ Only I
- 2. ✔ Only II
- 3. ✘ Both I and II
- 4. ✘ Neither I nor II

Question Number : 184 Question Id : 54062614673 Question Type : MCQ Option Shuffling : Yes Is Question Mandatory : No Option Orientation : Vertical

Correct Marks : 1 Wrong Marks : 0.25

निम्नलिखित में से कौन सा एक बाजार प्रणाली का उपयोग कर संसाधनों के आवंटन के लिए एक प्रतिकूल परिस्थिति है?

- I. मुनाफा कम होगा
- II. आय का असमान वितरण हो सकता है

Options :

- 1. ✘ केवल I
- 2. ✔ केवल II
- 3. ✘ I तथा II दोनों
- 4. ✘ ना ही I ना ही II

Question Number : 185 Question Id : 54062614674 Question Type : MCQ Option Shuffling : Yes Is Question Mandatory : No Option Orientation : Vertical

Correct Marks : 1 Wrong Marks : 0.25

Which branch of economic theory is associated with the difficulty of resources allocation?

- I. Microeconomic theory
- II. Macroeconomic theory

Options :

1. ✓ Only I
2. ✗ Only II
3. ✗ Both I and II
4. ✗ Neither I nor II

Question Number : 185 Question Id : 54062614674 Question Type : MCQ Option Shuffling : Yes Is Question Mandatory : No Option Orientation : Vertical

Correct Marks : 1 Wrong Marks : 0.25

आर्थिक सिद्धांत की कौन सी शाखा संसाधनों के आवंटन की कठिनाई से संबंधित है?

- I. व्यष्टि अर्थशास्त्र सिद्धांत
- II. समष्टि अर्थशास्त्र सिद्धांत

Options :

1. ✓ केवल I
2. ✗ केवल II
3. ✗ I तथा II दोनों
4. ✗ ना ही I ना ही II

Question Number : 186 Question Id : 54062614675 Question Type : MCQ Option Shuffling : Yes Is Question Mandatory : No Option Orientation : Vertical

Correct Marks : 1 Wrong Marks : 0.25

The creation of choice is done by _____.

- I. scarcity of resources
- II. the urgency of needs

Options :

1. ✓ Only I
2. ✗ Only II
3. ✗ Both I and II
4. ✗ Neither I nor II

Question Number : 186 Question Id : 54062614675 Question Type : MCQ Option Shuffling : Yes Is Question Mandatory : No Option

Orientation : Vertical

Correct Marks : 1 Wrong Marks : 0.25

पसंद का निर्माण _____ द्वारा किया जाता है।

- I. संसाधनों के अभाव
- II. जरूरतों की तात्कालिकता

Options :

- 1. ✓ केवल I
- 2. ✗ केवल II
- 3. ✗ I तथा II दोनों
- 4. ✗ ना ही I ना ही II

Question Number : 187 Question Id : 54062614676 Question Type : MCQ Option Shuffling : Yes Is Question Mandatory : No Option

Orientation : Vertical

Correct Marks : 1 Wrong Marks : 0.25

Which law defines that the demand curve to slope downward?

Options :

- 1. ✗ diminishing total utility
- 2. ✗ total utility maximisation
- 3. ✗ total utility minimisation
- 4. ✓ diminishing marginal utility

Question Number : 187 Question Id : 54062614676 Question Type : MCQ Option Shuffling : Yes Is Question Mandatory : No Option

Orientation : Vertical

Correct Marks : 1 Wrong Marks : 0.25

माँग वक्र की निचे की ओर प्रवणता को परिभाषित करने वाला कौन सा नियम है?

Options :

- 1. ✗ हासमान कुल उपयोगिता
- 2. ✗ कुल उपयोगिता अधिकतमकरण
- 3. ✗ कुल उपयोगिता न्यूनीकरण
- 4. ✓ हासमान सीमांत उपयोगिता

Question Number : 188 Question Id : 54062614677 Question Type : MCQ Option Shuffling : Yes Is Question Mandatory : No Option Orientation : Vertical

Correct Marks : 1 Wrong Marks : 0.25

Why are indifference curves convex to the origin?

- I. Two goods are perfect complementary goods
- II. Two goods are imperfect substitutes

Options :

- 1. ✖ Only I
- 2. ✔ Only II
- 3. ✖ Both I and II
- 4. ✖ Neither I nor II

Question Number : 188 Question Id : 54062614677 Question Type : MCQ Option Shuffling : Yes Is Question Mandatory : No Option Orientation : Vertical

Correct Marks : 1 Wrong Marks : 0.25

अनधिमान वक्र मूल बिन्दु की ओर उत्तल क्यों होते हैं?

- I. दो वस्तुएँ पूर्ण पूरक वस्तुएँ हैं
- II. दो वस्तुएँ अपूर्ण विकल्प हैं

Options :

- 1. ✖ केवल I
- 2. ✔ केवल II
- 3. ✖ I तथा II दोनों
- 4. ✖ ना ही I ना ही II

Question Number : 189 Question Id : 54062614678 Question Type : MCQ Option Shuffling : Yes Is Question Mandatory : No Option Orientation : Vertical

Correct Marks : 1 Wrong Marks : 0.25

When the total utility is maximum, then the marginal utility is _____.

Options :

- 1. ✔ 0
- 2. ✖ 1

3. ✖ Infinite
4. ✖ minimum

Question Number : 189 Question Id : 54062614678 Question Type : MCQ Option Shuffling : Yes Is Question Mandatory : No Option Orientation : Vertical

Correct Marks : 1 Wrong Marks : 0.25

जब कुल उपयोगिता अधिकतम होती है, तो सीमांत उपयोगिता _____ होती है।

Options :

1. ✔ 0
2. ✖ 1
3. ✖ अनंत
4. ✖ न्यूनतम

Question Number : 190 Question Id : 54062614679 Question Type : MCQ Option Shuffling : Yes Is Question Mandatory : No Option Orientation : Vertical

Correct Marks : 1 Wrong Marks : 0.25

Elasticity of demand is a _____.

- I. Qualitative statement
- II. Quantitative statement

Options :

1. ✖ Only I
2. ✔ Only II
3. ✖ Both I and II
4. ✖ Neither I nor II

Question Number : 190 Question Id : 54062614679 Question Type : MCQ Option Shuffling : Yes Is Question Mandatory : No Option Orientation : Vertical

Correct Marks : 1 Wrong Marks : 0.25

मांग की लोच एक _____ है।

- I. गुणात्मक कथन
- II. मात्रात्मक कथन

Options :

1. ✘ केवल I
2. ✔ केवल II
3. ✘ I तथा II दोनों
4. ✘ ना ही I ना ही II

Question Number : 191 Question Id : 54062614680 Question Type : MCQ Option Shuffling : Yes Is Question Mandatory : No Option Orientation : Vertical

Correct Marks : 1 Wrong Marks : 0.25

For Giffin goods, price elasticity of demand is _____.

Options :

1. ✘ negative
2. ✔ positive
3. ✘ zero
4. ✘ not known

Question Number : 191 Question Id : 54062614680 Question Type : MCQ Option Shuffling : Yes Is Question Mandatory : No Option Orientation : Vertical

Correct Marks : 1 Wrong Marks : 0.25

गिफिन वस्तुओं के लिए, मांग की कीमत लोच _____ है।

Options :

1. ✘ ऋणात्मक
2. ✔ सकारात्मक
3. ✘ शून्य
4. ✘ ज्ञात नहीं

Question Number : 192 Question Id : 54062614681 Question Type : MCQ Option Shuffling : Yes Is Question Mandatory : No Option Orientation : Vertical

Correct Marks : 1 Wrong Marks : 0.25

Which of the following is the property of indifference curve?

- I. Two indifference curves can intersect each other.
II. Indifference curve is concave to origin.

Options :

1. ✖ Only I
2. ✖ Only II
3. ✖ Both I and II
4. ✔ Neither I nor II

Question Number : 192 Question Id : 54062614681 Question Type : MCQ Option Shuffling : Yes Is Question Mandatory : No Option Orientation : Vertical

Correct Marks : 1 Wrong Marks : 0.25

निम्नलिखित में से कौन सा अनधिमान वक्र का गुण है?

- I. दो अनधिमान वक्र एक दूसरे को प्रतिच्छेद कर सकते हैं।
II. अनधिमान वक्र उद्गम से अवतल है।

Options :

1. ✖ केवल I
2. ✖ केवल II
3. ✖ I तथा II दोनों
4. ✔ ना ही I ना ही II

Question Number : 193 Question Id : 54062614682 Question Type : MCQ Option Shuffling : Yes Is Question Mandatory : No Option Orientation : Vertical

Correct Marks : 1 Wrong Marks : 0.25

When the income of consumer rises, then the demand curve for an inferior good _____.

Options :

1. ✖ becomes a horizontal straight line
2. ✖ does not change
3. ✖ shifts to the right
4. ✔ shifts to the left

Question Number : 193 Question Id : 54062614682 Question Type : MCQ Option Shuffling : Yes Is Question Mandatory : No Option

Orientation : Vertical

Correct Marks : 1 Wrong Marks : 0.25

उपभोक्ता की आय में वृद्धि के परिणामस्वरूप मोटे अनाज (निम्नस्तरीय वस्तुएँ) के लिए मांग वक्र _____।

Options :

1. ✘ एक क्षैतिज सीधी रेखा बन जाता है
2. ✘ में कोई बदलाव नहीं आता
3. ✘ दायीं ओर खिसकता है
4. ✔ बाईं ओर खिसकता है

Question Number : 194 Question Id : 54062614683 Question Type : MCQ Option Shuffling : Yes Is Question Mandatory : No Option

Orientation : Vertical

Correct Marks : 1 Wrong Marks : 0.25

If supply curve is Perfectly Inelastic, the supply curve is _____.

Options :

1. ✔ vertical
2. ✘ horizontal
3. ✘ at an angle of 45 degrees from X axis
4. ✘ at an angle of 45 degrees from Y axis

Question Number : 194 Question Id : 54062614683 Question Type : MCQ Option Shuffling : Yes Is Question Mandatory : No Option

Orientation : Vertical

Correct Marks : 1 Wrong Marks : 0.25

यदि आपूर्ति वक्र पूर्णतः लोचहीन है, तो आपूर्ति वक्र _____ होता है।

Options :

1. ✔ लंबरूप
2. ✘ क्षैतिज
3. ✘ X अक्ष से 45 डिग्री के कोण पर
4. ✘ Y अक्ष से 45 डिग्री के कोण पर

Question Number : 195 Question Id : 54062614684 Question Type : MCQ Option Shuffling : Yes Is Question Mandatory : No Option

Orientation : Vertical

Correct Marks : 1 Wrong Marks : 0.25

Due to which of the following reasons the change in the supply of a good along with same supply curve may occur?

- I. change in the price of the good
- II. change in the prices of related goods

Options :

- 1. ✓ Only I
- 2. ✗ Only II
- 3. ✗ Both I and II
- 4. ✗ Neither I nor II

Question Number : 195 Question Id : 54062614684 Question Type : MCQ Option Shuffling : Yes Is Question Mandatory : No Option Orientation : Vertical

Correct Marks : 1 Wrong Marks : 0.25

निम्नलिखित में से किस कारण से समान आपूर्ति वक्र के साथ-साथ एक वस्तु की आपूर्ति में परिवर्तन हो सकता है?

- I. वस्तु की कीमत में परिवर्तन
- II. संबंधित वस्तुओं की कीमतों में बदलाव

Options :

- 1. ✓ केवल I
- 2. ✗ केवल II
- 3. ✗ I तथा II दोनों
- 4. ✗ ना ही I ना ही II

Question Number : 196 Question Id : 54062614685 Question Type : MCQ Option Shuffling : Yes Is Question Mandatory : No Option Orientation : Vertical

Correct Marks : 1 Wrong Marks : 0.25

If the supply of a commodity is perfectly elastic, an increase in demand will result in _____.

- I. Equilibrium price remaining constant
- II. Increase in equilibrium quantity

Options :

- 1. ✗ Only I

2. ✘ Only II
3. ✔ Both I and II
4. ✘ Neither I nor II

Question Number : 196 Question Id : 54062614685 Question Type : MCQ Option Shuffling : Yes Is Question Mandatory : No Option Orientation : Vertical

Correct Marks : 1 Wrong Marks : 0.25

यदि किसी वस्तु की आपूर्ति पूरी तरह से लोचदार है, तो मांग में वृद्धि के परिणामस्वरूप _____ होगी।

- I. साम्यवस्था कीमत स्थिर रहने पर
- II. साम्यवस्था मात्रा में वृद्धि

Options :

1. ✘ केवल I
2. ✘ केवल II
3. ✔ I तथा II दोनों
4. ✘ ना ही I ना ही II

Question Number : 197 Question Id : 54062614686 Question Type : MCQ Option Shuffling : Yes Is Question Mandatory : No Option Orientation : Vertical

Correct Marks : 1 Wrong Marks : 0.25

Expansion in supply refers to a situation when the producers are willing to supply a _____ quantity of a good at an _____ price.

Options :

1. ✔ larger, increased
2. ✘ larger, same
3. ✘ smaller, increase
4. ✘ Larger, decreased

Question Number : 197 Question Id : 54062614686 Question Type : MCQ Option Shuffling : Yes Is Question Mandatory : No Option Orientation : Vertical

Correct Marks : 1 Wrong Marks : 0.25

आपूर्ति में विस्तार उस स्थिति को संदर्भित करता है जब उत्पादक वस्तु _____ मात्रा की आपूर्ति _____ कीमत पर करने के लिए तैयार होते हैं।

Options :

1. ✓ बड़ी हुई, बड़ी हुई
2. ✗ बड़ी हुई, सामान
3. ✗ कम हुई, बड़ी हुई
4. ✗ बड़ी हुई, घटी हुई

Question Number : 198 Question Id : 54062614687 Question Type : MCQ Option Shuffling : Yes Is Question Mandatory : No Option Orientation : Vertical

Correct Marks : 1 Wrong Marks : 0.25

Production function shows _____ of a good.

Options :

1. ✗ a technological relationship between inputs and cost
2. ✗ the economic relationship between inputs and cost
3. ✓ a technological relationship between inputs and output
4. ✗ a technological relationship between inputs and price

Question Number : 198 Question Id : 54062614687 Question Type : MCQ Option Shuffling : Yes Is Question Mandatory : No Option Orientation : Vertical

Correct Marks : 1 Wrong Marks : 0.25

किसी वस्तु का उत्पादन फलन _____ दर्शाता है।

Options :

1. ✗ इनपुट और लागत के बीच एक तकनीकी संबंध
2. ✗ इनपुट और लागत के बीच आर्थिक संबंध
3. ✓ इनपुट और आउटपुट के बीच एक तकनीकी संबंध
4. ✗ इनपुट और कीमत के बीच एक तकनीकी संबंध

Question Number : 199 Question Id : 54062614688 Question Type : MCQ Option Shuffling : Yes Is Question Mandatory : No Option Orientation : Vertical

Correct Marks : 1 Wrong Marks : 0.25

Which of the following statements is correct?

- I. In perfect competition, firms produce identical goods.
- II. In monopolistic competition, firms produce slightly different goods.

Options :

1. ✖ Only I
2. ✖ Only II
3. ✔ Both I and II
4. ✖ Neither I nor II

Question Number : 199 Question Id : 54062614688 Question Type : MCQ Option Shuffling : Yes Is Question Mandatory : No Option Orientation : Vertical

Correct Marks : 1 Wrong Marks : 0.25

निम्नलिखित में से कौन सा कथन सही है?

- I. पूर्ण प्रतिस्पर्धा में, फर्म समान वस्तुओं का उत्पादन करती हैं।
- II. एकाधिकारी प्रतिस्पर्धा में, फर्म थोड़ी सी भिन्न वस्तुओं का उत्पादन करती हैं।

Options :

1. ✖ केवल I
2. ✖ केवल II
3. ✔ I तथा II दोनों
4. ✖ ना ही I ना ही II

Question Number : 200 Question Id : 54062614689 Question Type : MCQ Option Shuffling : Yes Is Question Mandatory : No Option Orientation : Vertical

Correct Marks : 1 Wrong Marks : 0.25

Which of the following is an example of a perfectly competitive firm's short-run decision?

- I. The profit-maximizing level of output
- II. How much to spend on advertising and sales promotion

Options :

1. ✔ Only I
2. ✖ Only II
3. ✖ Both I and II
4. ✖ Neither I nor II

Question Number : 200 Question Id : 54062614689 Question Type : MCQ Option Shuffling : Yes Is Question Mandatory : No Option Orientation : Vertical

Correct Marks : 1 Wrong Marks : 0.25

निम्नलिखित में से कौन एक पूर्ण प्रतिस्पर्धी फर्म के अल्पकालीन निर्णय का उदाहरण है?

- I. अधिकतम लाभ का उत्पादन का स्तर
- II. विज्ञापन और बिक्री प्रचार पर कितना खर्च करना है

Options :

- 1. ✓ केवल I
- 2. ✗ केवल II
- 3. ✗ I तथा II दोनों
- 4. ✗ ना ही I ना ही II

Discipline6

Group Number :	11
Group Id :	540626499
Group Maximum Duration :	0
Group Minimum Duration :	0
Show Attended Group? :	No
Edit Attended Group? :	No
Break time :	0
Group Marks :	20
Is this Group for Examiner? :	No

Discipline6

Section Id :	540626673
Section Number :	1
Section type :	Online
Mandatory or Optional :	Mandatory
Number of Questions :	20

Number of Questions to be attempted :	20
Section Marks :	20
Enable Mark as Answered Mark for Review and Clear Response :	Yes
Sub-Section Number :	1
Sub-Section Id :	540626809
Question Shuffling Allowed :	Yes

Question Number : 201 Question Id : 54062614690 Question Type : MCQ Option Shuffling : Yes Is Question Mandatory : No Option Orientation : Vertical

Correct Marks : 1 Wrong Marks : 0.25

Which of the following is a firm's over-riding objective?

- I. Maximise economic profit
- II. Avoid an economic loss

Options :

- 1. ✓ Only I
- 2. ✗ Only II
- 3. ✗ Both I and II
- 4. ✗ Neither I nor II

Question Number : 201 Question Id : 54062614690 Question Type : MCQ Option Shuffling : Yes Is Question Mandatory : No Option Orientation : Vertical

Correct Marks : 1 Wrong Marks : 0.25

निम्नलिखित में से कौन सा फर्म का ओवर-राइडिंग उद्देश्य है?

- I. अधिकतम आर्थिक लाभ
- II. आर्थिक नुकसान से बचना

Options :

- 1. ✓ केवल I
- 2. ✗ केवल II
- 3. ✗ I तथा II दोनों
- 4. ✗ ना ही I ना ही II

Question Number : 202 Question Id : 54062614691 Question Type : MCQ Option Shuffling : Yes Is Question Mandatory : No Option Orientation : Vertical

Correct Marks : 1 Wrong Marks : 0.25

Which of the following is correct regarding perfectly competitive market?

- I. It consists of large number of buyers and sellers.
- II. There are no barriers to entry.

Options :

- 1. ✘ Only I
- 2. ✘ Only II
- 3. ✔ Both I and II
- 4. ✘ Neither I nor II

Question Number : 202 Question Id : 54062614691 Question Type : MCQ Option Shuffling : Yes Is Question Mandatory : No Option Orientation : Vertical

Correct Marks : 1 Wrong Marks : 0.25

पूर्ण प्रतिस्पर्धी बाजार के संदर्भ में निम्नलिखित में से कौन सा सही है?

- I. इसमें बड़ी संख्या में खरीदार और विक्रेता शामिल हैं।
- II. प्रवेश में कोई बाधा नहीं है।

Options :

- 1. ✘ केवल I
- 2. ✘ केवल II
- 3. ✔ I तथा II दोनों
- 4. ✘ ना ही I ना ही II

Question Number : 203 Question Id : 54062614692 Question Type : MCQ Option Shuffling : Yes Is Question Mandatory : No Option Orientation : Vertical

Correct Marks : 1 Wrong Marks : 0.25

What does monopolistic competition have in common with monopoly?

- I. A large number of firms
- II. A downward sloping demand curve

Options :

1. ✘ Only I
2. ✔ Only II
3. ✘ Both I and II
4. ✘ Neither I nor II

Question Number : 203 Question Id : 54062614692 Question Type : MCQ Option Shuffling : Yes Is Question Mandatory : No Option Orientation : Vertical

Correct Marks : 1 Wrong Marks : 0.25

एकाधिकारी प्रतिस्पर्धा में एकाधिकार के साथ क्या समानता है?

- I. बड़ी संख्या में फर्म
- II. नीचे की ओर प्रवणता करता हुआ मांग वक्र

Options :

1. ✘ केवल I
2. ✔ केवल II
3. ✘ I तथा II दोनों
4. ✘ ना ही I ना ही II

Question Number : 204 Question Id : 54062614693 Question Type : MCQ Option Shuffling : Yes Is Question Mandatory : No Option Orientation : Vertical

Correct Marks : 1 Wrong Marks : 0.25

Firms in monopolistic competition have demand curves that are _____.

- I. U shaped
- II. Downward slopping

Options :

1. ✘ Only I
2. ✔ Only II
3. ✘ Both I and II
4. ✘ Neither I nor II

Question Number : 204 Question Id : 54062614693 Question Type : MCQ Option Shuffling : Yes Is Question Mandatory : No Option

Orientation : Vertical

Correct Marks : 1 Wrong Marks : 0.25

एकाधिकार प्रतियोगिता में फर्मों के मांग वक्र _____ के होते हैं।

I. U आकार

II. नीचे की ओर प्रवणता

Options :

1. ✘ केवल I
2. ✔ केवल II
3. ✘ I तथा II दोनों
4. ✘ ना ही I ना ही II

Question Number : 205 Question Id : 54062614694 Question Type : MCQ Option Shuffling : Yes Is Question Mandatory : No Option

Orientation : Vertical

Correct Marks : 1 Wrong Marks : 0.25

A cartel is designed to _____ output and _____ prices.

Options :

1. ✘ restrict; lower
2. ✘ expand; lower
3. ✔ restrict; raise
4. ✘ expand; raise

Question Number : 205 Question Id : 54062614694 Question Type : MCQ Option Shuffling : Yes Is Question Mandatory : No Option

Orientation : Vertical

Correct Marks : 1 Wrong Marks : 0.25

कार्टेल उत्पादन को _____ तथा मूल्य को _____ के लिए डिज़ाइन किया गया है।

Options :

1. ✘ प्रतिबंधित; कम करनें
2. ✘ बढ़ानें; कम करनें
3. ✔ प्रतिबंधित; बढ़ानें
4. ✘ बढ़ानें; बढ़ानें

Question Number : 206 Question Id : 54062614695 Question Type : MCQ Option Shuffling : Yes Is Question Mandatory : No Option Orientation : Vertical

Correct Marks : 1 Wrong Marks : 0.25

When firms in monopolistic competition are making an economic profit then _____.

- I. Firms will enter the industry
- II. Demand will decrease for the original firms

Options :

- 1. ✘ Only I
- 2. ✘ Only II
- 3. ✔ Both I and II
- 4. ✘ Neither I nor II

Question Number : 206 Question Id : 54062614695 Question Type : MCQ Option Shuffling : Yes Is Question Mandatory : No Option Orientation : Vertical

Correct Marks : 1 Wrong Marks : 0.25

जब एकाधिकारी प्रतिस्पर्धा में फर्म आर्थिक लाभ कमा रही हों तो _____।

- I. फर्म उद्योग में प्रवेश करेंगी
- II. मूल फर्मों के लिए मांग घट जाएगी

Options :

- 1. ✘ केवल I
- 2. ✘ केवल II
- 3. ✔ I तथा II दोनों
- 4. ✘ ना ही I ना ही II

Question Number : 207 Question Id : 54062614696 Question Type : MCQ Option Shuffling : Yes Is Question Mandatory : No Option Orientation : Vertical

Correct Marks : 1 Wrong Marks : 0.25

A single-price monopoly must _____ if it wants to increase its sales.

Options :

- 1. ✘ increase the price for all customers
- 2. ✘ lower its price for only a few selected consumers

3. ✘ do price discrimination
4. ✔ lower the price for all customers

Question Number : 207 Question Id : 54062614696 Question Type : MCQ Option Shuffling : Yes Is Question Mandatory : No Option Orientation : Vertical

Correct Marks : 1 Wrong Marks : 0.25

एक एकल-मूल्य वाली एकाधिकार को _____ करना होगा यदि उसे अपनी बिक्री बढ़ानी है।

Options :

1. ✘ सभी ग्राहकों के लिए कीमत बढ़ानी होगी
2. ✘ केवल कुछ चुनिंदा उपभोक्ताओं के लिए इसका मूल्य कम
3. ✘ मूल्य भेदभाव
4. ✔ सभी ग्राहकों के लिए कीमत कम करनी होगी

Question Number : 208 Question Id : 54062614697 Question Type : MCQ Option Shuffling : Yes Is Question Mandatory : No Option Orientation : Vertical

Correct Marks : 1 Wrong Marks : 0.25

Which of the following statements is correct?

- I. If a given quantity of a good is to be produced and supplied, the supply curve would indicate the minimum price of the good expected by each seller.
- II. The demand function which expresses the functional relationship between the quantity demanded of a good and its own price is based on ceteris paribus assumptions.

Options :

1. ✘ Only I
2. ✘ Only II
3. ✔ Both I and II
4. ✘ Neither I nor II

Question Number : 208 Question Id : 54062614697 Question Type : MCQ Option Shuffling : Yes Is Question Mandatory : No Option Orientation : Vertical

Correct Marks : 1 Wrong Marks : 0.25

निम्नलिखित में से कौन सा कथन सही है?

- I. यदि किसी वस्तु की दी गई मात्रा का उत्पादन और आपूर्ति की जानी है, तो आपूर्ति वक्र प्रत्येक विक्रेता द्वारा अपेक्षित वस्तु की न्यूनतम कीमत को इंगित करेगा।
II. मांग फलन जो किसी वस्तु की मांग की मात्रा और उसकी अपनी कीमत के बीच कार्यात्मक संबंध को व्यक्त करता है, वह सेटीरस परिबस मान्यताओं पर आधारित है।

Options :

1. ✘ केवल I
2. ✘ केवल II
3. ✔ I तथा II दोनों
4. ✘ ना ही I ना ही II

Question Number : 209 Question Id : 54062614698 Question Type : MCQ Option Shuffling : Yes Is Question Mandatory : No Option Orientation : Vertical

Correct Marks : 1 Wrong Marks : 0.25

A spray prevents mosquitos from biting. This spray is produced by competitive firms. Which of the following will be the outcome of the market?

Options :

1. ✘ The market will demonstrate second welfare theorem
2. ✔ Due to the uncaptured positive externality very small number of sprays are produced
3. ✘ Due to the uncaptured positive externality very large number of sprays are produced
4. ✘ Due to the uncaptured negative externality very large number of sprays are produced

Question Number : 209 Question Id : 54062614698 Question Type : MCQ Option Shuffling : Yes Is Question Mandatory : No Option Orientation : Vertical

Correct Marks : 1 Wrong Marks : 0.25

एक स्प्रे मच्छरों को काटने से रोकता है। इस स्प्रे का उत्पादन प्रतिस्पर्धी फर्मों द्वारा किया जाता है। निम्नलिखित में से कौन सा बाजार का परिणाम होगा?

Options :

1. ✘ बाजार दूसरा कल्याण प्रमेय प्रदर्शित करेगा
2. ✔ अप्रकाशित सकारात्मक बाहरीता के कारण बहुत कम संख्या में स्प्रे उत्पन्न होते हैं
3. ✘ अप्रकाशित सकारात्मक बाहरीता के कारण बहुत अधिक संख्या में स्प्रे उत्पन्न होते हैं
4. ✘ अप्रभावित नकारात्मक बाहरीता के कारण बहुत अधिक संख्या में स्प्रे उत्पन्न होते हैं

Question Number : 210 Question Id : 54062614699 Question Type : MCQ Option Shuffling : Yes Is Question Mandatory : No Option Orientation : Vertical

Correct Marks : 1 Wrong Marks : 0.25

Which of the following is required by the First Fundamental Theorem of Welfare Economics?

- I. Producers and consumers to be price takers.
- II. That there be an efficient market for every commodity.
- III. That the economy operates at some point on the utility possibility curve.

Options :

- 1. ✘ I and II
- 2. ✘ II and III
- 3. ✘ I and III
- 4. ✔ I, II and III

Question Number : 210 Question Id : 54062614699 Question Type : MCQ Option Shuffling : Yes Is Question Mandatory : No Option Orientation : Vertical

Correct Marks : 1 Wrong Marks : 0.25

कल्याण अर्थशास्त्र के पहले मौलिक प्रमेय के लिए निम्नलिखित में से क्या आवश्यक है?

- I. उत्पादकों और उपभोक्ताओं को कीमत लेने वाला होना चाहिए।
- II. हर वस्तु के लिए एक कुशल बाजार हो।
- III. अर्थव्यवस्था किसी बिंदु पर उपयोगिता संभावना वक्र पर संचालित होती है।

Options :

- 1. ✘ I तथा II
- 2. ✘ II तथा III
- 3. ✘ I तथा III
- 4. ✔ I, II तथा III

Question Number : 211 Question Id : 54062614700 Question Type : MCQ Option Shuffling : Yes Is Question Mandatory : No Option Orientation : Vertical

Correct Marks : 1 Wrong Marks : 0.25

Which of the following is correct regarding public goods?

- I. They are non-rival in consumption
- II. Consumers cannot be excluded altogether from them

Options :

1. ✘ Only I
2. ✘ Only II
3. ✔ Both I and II
4. ✘ Neither I nor II

Question Number : 211 Question Id : 54062614700 Question Type : MCQ Option Shuffling : Yes Is Question Mandatory : No Option Orientation : Vertical

Correct Marks : 1 Wrong Marks : 0.25

सार्वजनिक वस्तुओं के संदर्भ में निम्नलिखित में से कौन सा सही है?

- I. यह उपभोग में गैर-प्रतिद्वंद्वी होती है
- II. उपभोक्ताओं को उनसे पूरी तरह से बाहर नहीं किया जा सकता है

Options :

1. ✘ केवल I
2. ✘ केवल II
3. ✔ I तथा II दोनों
4. ✘ ना ही I ना ही II

Question Number : 212 Question Id : 54062614701 Question Type : MCQ Option Shuffling : Yes Is Question Mandatory : No Option Orientation : Vertical

Correct Marks : 1 Wrong Marks : 0.25

Due to which of the following reasons externalities can be positive?

- I. Utility can be impacted positively as well as negatively
- II. Subsidies are positive externalities

Options :

1. ✔ Only I
2. ✘ Only II
3. ✘ Both I and II
4. ✘ Neither I nor II

Question Number : 212 Question Id : 54062614701 Question Type : MCQ Option Shuffling : Yes Is Question Mandatory : No Option

Orientation : Vertical

Correct Marks : 1 Wrong Marks : 0.25

निम्नलिखित में से किस कारण से बाह्य कारण सकारात्मक हो सकती है?

- I. उपयोगिता सकारात्मक के साथ-साथ नकारात्मक रूप से प्रभावित हो सकती है
- II. सब्सिडी सकारात्मक बाह्य कारण हैं

Options :

- 1. ✓ केवल I
- 2. ✗ केवल II
- 3. ✗ I तथा II दोनों
- 4. ✗ ना ही I ना ही II

Question Number : 213 Question Id : 54062614702 Question Type : MCQ Option Shuffling : Yes Is Question Mandatory : No Option

Orientation : Vertical

Correct Marks : 1 Wrong Marks : 0.25

Which of the following is correct regarding Pigouvian subsidy?

- I. It is the same thing as a Pigouvian tax
- II. It moves production to the socially optimal level of output

Options :

- 1. ✗ Only I
- 2. ✓ Only II
- 3. ✗ Both I and II
- 4. ✗ Neither I nor II

Question Number : 213 Question Id : 54062614702 Question Type : MCQ Option Shuffling : Yes Is Question Mandatory : No Option

Orientation : Vertical

Correct Marks : 1 Wrong Marks : 0.25

निम्नलिखित में से कौन सा पिगौवियन सब्सिडी के संदर्भ में सही है?

- I. यह पिगौवियन टैक्स के समान है
- II. यह उत्पादन को उत्पादन के सामाजिक रूप से इष्टतम स्तर तक ले जाता है

Options :

1. ✘ केवल I
2. ✔ केवल II
3. ✘ I तथा II दोनों
4. ✘ ना ही I ना ही II

Question Number : 214 Question Id : 54062614703 Question Type : MCQ Option Shuffling : Yes Is Question Mandatory : No Option Orientation : Vertical

Correct Marks : 1 Wrong Marks : 0.25

Which method can help in obtaining a welfare improvement if externalities exist?

- I. Regulation
- II. Assigning property rights and permitting bargaining

Options :

1. ✘ Only I
2. ✘ Only II
3. ✔ Both I and II
4. ✘ Neither I nor II

Question Number : 214 Question Id : 54062614703 Question Type : MCQ Option Shuffling : Yes Is Question Mandatory : No Option Orientation : Vertical

Correct Marks : 1 Wrong Marks : 0.25

बाह्य कारण मौजूद होने पर कल्याण सुधार प्राप्त करने में कौन सी विधि मदद कर सकती है?

- I. विनियमन
- II. संपत्ति के अधिकार सौंपना और सौदेबाजी की अनुमति देना

Options :

1. ✘ केवल I
2. ✘ केवल II
3. ✔ I तथा II दोनों
4. ✘ ना ही I ना ही II

Question Number : 215 Question Id : 54062614704 Question Type : MCQ Option Shuffling : Yes Is Question Mandatory : No Option

Orientation : Vertical

Correct Marks : 1 Wrong Marks : 0.25

According to Keynes, which of the following is a component of demand for money?

- I. Transactions demand
- II. Precautionary demand
- III. Speculative demand

Options :

- 1. ✘ I and II
- 2. ✘ II and III
- 3. ✘ I and III
- 4. ✔ I, II and III

Question Number : 215 Question Id : 54062614704 Question Type : MCQ Option Shuffling : Yes Is Question Mandatory : No Option Orientation : Vertical

Correct Marks : 1 Wrong Marks : 0.25

कीन्स के अनुसार, निम्नलिखित में से कौन मुद्रा की माँग का एक घटक है?

- I. लेन-देन की माँग
- II. एहतियाती माँग
- III. परिकल्पी माँग

Options :

- 1. ✘ I तथा II
- 2. ✘ II तथा III
- 3. ✘ I तथा III
- 4. ✔ I, II तथा III

Question Number : 216 Question Id : 54062614705 Question Type : MCQ Option Shuffling : Yes Is Question Mandatory : No Option Orientation : Vertical

Correct Marks : 1 Wrong Marks : 0.25

An important mechanism through which sellers and buyers deal with the problem of asymmetric information is _____.

Options :

- 1. ✔ Market signaling

2. ✘ Insurance Markets
3. ✘ Moral Hazard
4. ✘ Principal-Agent Problem

Question Number : 216 Question Id : 54062614705 Question Type : MCQ Option Shuffling : Yes Is Question Mandatory : No Option Orientation : Vertical

Correct Marks : 1 Wrong Marks : 0.25

एक महत्वपूर्ण तंत्र जिसके माध्यम से विक्रेता और खरीदार असममित जानकारी की समस्या से निपटते हैं, _____ है।

Options :

1. ✔ बाजार संकेत
2. ✘ बीमा बाजार
3. ✘ नैतिक जोखिम
4. ✘ प्रिंसिपल-एजेंट समस्या

Question Number : 217 Question Id : 54062614706 Question Type : MCQ Option Shuffling : Yes Is Question Mandatory : No Option Orientation : Vertical

Correct Marks : 1 Wrong Marks : 0.25

The concept of market signaling was first developed by _____.

Options :

1. ✔ Michael Spence
2. ✘ Kaldor
3. ✘ Garrett Hardin
4. ✘ Pareto

Question Number : 217 Question Id : 54062614706 Question Type : MCQ Option Shuffling : Yes Is Question Mandatory : No Option Orientation : Vertical

Correct Marks : 1 Wrong Marks : 0.25

बाजार संकेतन की अवधारणा सबसे पहले _____ द्वारा विकसित की गई थी।

Options :

1. ✔ माइकल स्पेंस
2. ✘ काल्दोर

3. ✖ गैरेट हार्डिन
4. ✖ परेटी

Question Number : 218 Question Id : 54062614707 Question Type : MCQ Option Shuffling : Yes Is Question Mandatory : No Option Orientation : Vertical

Correct Marks : 1 Wrong Marks : 0.25

Which of the following is correct regarding money supply?

- I. Exogenous - Money supply is determined outside the system
- II. Endogenous - banking sector along with firms and households play an important role in influencing the money supply

Options :

1. ✖ Only I
2. ✖ Only II
3. ✔ Both I and II
4. ✖ Neither I nor II

Question Number : 218 Question Id : 54062614707 Question Type : MCQ Option Shuffling : Yes Is Question Mandatory : No Option Orientation : Vertical

Correct Marks : 1 Wrong Marks : 0.25

मुद्रा आपूर्ति के संदर्भ में निम्नलिखित में से कौन सा सही है?

- I. बहिर्जात - मुद्रा आपूर्ति प्रणाली के बाहर निर्धारित की जाती है
- II. अंतर्जात - बैंकिंग क्षेत्र, फर्मों और परिवारों के साथ, मुद्रा आपूर्ति को प्रभावित करने में महत्वपूर्ण भूमिका निभाते हैं

Options :

1. ✖ केवल I
2. ✖ केवल II
3. ✔ I तथा II दोनों
4. ✖ ना ही I ना ही II

Question Number : 219 Question Id : 54062614708 Question Type : MCQ Option Shuffling : Yes Is Question Mandatory : No Option Orientation : Vertical

Correct Marks : 1 Wrong Marks : 0.25

In which of the following conditions does a positive consumption externality occur?

- I. The social marginal cost is greater than the private marginal cost
- II. The social marginal benefit is greater than the private marginal benefit

Options :

- 1. ✘ Only I
- 2. ✔ Only II
- 3. ✘ Both I and II
- 4. ✘ Neither I nor II

Question Number : 219 Question Id : 54062614708 Question Type : MCQ Option Shuffling : Yes Is Question Mandatory : No Option Orientation : Vertical

Correct Marks : 1 Wrong Marks : 0.25

निम्नलिखित में से किस स्थिति में एक सकारात्मक खपत बाह्य कारण होता है?

- I. सामाजिक सीमांत लागत निजी सीमांत लागत से अधिक है
- II. सामाजिक सीमांत लाभ निजी सीमांत लाभ से अधिक है

Options :

- 1. ✘ केवल I
- 2. ✔ केवल II
- 3. ✘ I तथा II दोनों
- 4. ✘ ना ही I ना ही II

Question Number : 220 Question Id : 54062614709 Question Type : MCQ Option Shuffling : Yes Is Question Mandatory : No Option Orientation : Vertical

Correct Marks : 1 Wrong Marks : 0.25

Which of the following statements is NOT correct regarding the changes in the price of a product in free market?

- I. The change in the price is governed by the government
- II. The change can provide an incentive to reallocate resources

Options :

- 1. ✔ Only I
- 2. ✘ Only II
- 3. ✘ Both I and II

4. ✖ Neither I nor II

Question Number : 220 Question Id : 54062614709 Question Type : MCQ Option Shuffling : Yes Is Question Mandatory : No Option Orientation : Vertical

Correct Marks : 1 Wrong Marks : 0.25

मुक्त बाजार में उत्पाद की कीमत में परिवर्तन के संबंध में निम्नलिखित में से कौन सा कथन सही नहीं है?

- I. यह परिवर्तन सरकार के अधीन होते हैं
- II. यह परिवर्तन संसाधन पुनः आवंटित करने के लिए प्रोत्साहन प्रदान कर सकते हैं

Options :

- 1. ✔ केवल I
- 2. ✖ केवल II
- 3. ✖ I तथा II दोनों
- 4. ✖ ना ही I ना ही II

Discipline7

Group Number :	12
Group Id :	540626500
Group Maximum Duration :	0
Group Minimum Duration :	0
Show Attended Group? :	No
Edit Attended Group? :	No
Break time :	0
Group Marks :	20
Is this Group for Examiner? :	No

Discipline7

Section Id :	540626674
Section Number :	1
Section type :	Online

Mandatory or Optional :	Mandatory
Number of Questions :	20
Number of Questions to be attempted :	20
Section Marks :	20
Enable Mark as Answered Mark for Review and Clear Response :	Yes
Sub-Section Number :	1
Sub-Section Id :	540626810
Question Shuffling Allowed :	Yes

Question Number : 221 Question Id : 54062614710 Question Type : MCQ Option Shuffling : Yes Is Question Mandatory : No Option Orientation : Vertical

Correct Marks : 1 Wrong Marks : 0.25

Which of the following is correct regarding community surplus?

Options :

1. ✘ **Producer surplus – consumer surplus**
2. ✘ **Producer surplus + profit**
3. ✘ **Total utility + profit**
4. ✔ **Producer surplus + Consumer surplus**

Question Number : 221 Question Id : 54062614710 Question Type : MCQ Option Shuffling : Yes Is Question Mandatory : No Option Orientation : Vertical

Correct Marks : 1 Wrong Marks : 0.25

सामुदायिक अधिशेष के संदर्भ में निम्नलिखित में से कौन सा सही है?

Options :

1. ✘ **उत्पादक अधिशेष – उपभोक्ता अधिशेष**
2. ✘ **उत्पादक अधिशेष + लाभ**
3. ✘ **कुल उपयोगिता + लाभ**
4. ✔ **उत्पादक अधिशेष + उपभोक्ता अधिशेष**

Question Number : 222 Question Id : 54062614711 Question Type : MCQ Option Shuffling : Yes Is Question Mandatory : No Option Orientation : Vertical

Correct Marks : 1 Wrong Marks : 0.25

Which of the following is correct regarding monopoly power in a market?

- I. It leads to higher producer surplus
- II. It leads to lower prices

Options :

- 1. ✓ Only I
- 2. ✗ Only II
- 3. ✗ Both I and II
- 4. ✗ Neither I nor II

Question Number : 222 Question Id : 54062614711 Question Type : MCQ Option Shuffling : Yes Is Question Mandatory : No Option Orientation : Vertical

Correct Marks : 1 Wrong Marks : 0.25

बाजार में एकाधिकार शक्ति के संदर्भ में निम्नलिखित में से कौन सा सही है?

- I. यह उत्पादक अधिशेष अधिक करता है
- II. यह कीमतों कम करता है

Options :

- 1. ✓ केवल I
- 2. ✗ केवल II
- 3. ✗ I तथा II दोनों
- 4. ✗ ना ही I ना ही II

Question Number : 223 Question Id : 54062614712 Question Type : MCQ Option Shuffling : Yes Is Question Mandatory : No Option Orientation : Vertical

Correct Marks : 1 Wrong Marks : 0.25

Which of the following is correct regarding externality?

- I. The existence of externality prevents the achievement of Pareto optimality even when perfect competition prevails.
- II. An externality occurs when a decision causes benefits to individuals or groups other than the person making the decision.

Options :

- 1. ✗ Only I
- 2. ✗ Only II

3. ✓ Both I and II
4. ✗ Neither I nor II

Question Number : 223 Question Id : 54062614712 Question Type : MCQ Option Shuffling : Yes Is Question Mandatory : No Option Orientation : Vertical

Correct Marks : 1 Wrong Marks : 0.25

बाह्य कारण के संदर्भ में निम्नलिखित में से कौन सा सही है?

- I. बाह्य कारण का अस्तित्व पेरेटो इष्टतमता की उपलब्धि को तब भी रोकता है जब पूर्ण प्रतिस्पर्धा बनी रहती है।
II. एक बाह्य कारण तब होता है जब एक निर्णय से निर्णय लेने वाले व्यक्ति के अलावा अन्य व्यक्तियों या समूहों को लाभ होता है।

Options :

1. ✗ केवल I
2. ✗ केवल II
3. ✓ I तथा II दोनों
4. ✗ ना ही I ना ही II

Question Number : 224 Question Id : 54062614713 Question Type : MCQ Option Shuffling : Yes Is Question Mandatory : No Option Orientation : Vertical

Correct Marks : 1 Wrong Marks : 0.25

Which of the following does not provide an incentive to reduce a negative externality?

- I. A merger with affected firms
II. Bargaining among firms

Options :

1. ✗ Only I
2. ✗ Only II
3. ✗ Both I and II
4. ✓ Neither I nor II

Question Number : 224 Question Id : 54062614713 Question Type : MCQ Option Shuffling : Yes Is Question Mandatory : No Option Orientation : Vertical

Correct Marks : 1 Wrong Marks : 0.25

निम्नलिखित में से कौन नकारात्मक बाह्य कारण को कम करने के लिए प्रोत्साहन प्रदान नहीं करता है?

- I. प्रभावित फर्मों के साथ विलय
- II. फर्मों के बीच मोलभाव

Options :

- 1. ✘ केवल I
- 2. ✘ केवल II
- 3. ✘ I तथा II दोनों
- 4. ✔ ना ही I ना ही II

Question Number : 225 Question Id : 54062614714 Question Type : MCQ Option Shuffling : Yes Is Question Mandatory : No Option Orientation : Vertical

Correct Marks : 1 Wrong Marks : 0.25

A firm generating a negative externality has to reach an economically efficient output level. Which of the following condition is necessary?

Options :

- 1. ✘ excise tax imposed on firm = firm's marginal cost
- 2. ✘ excise tax imposed on firm = social marginal cost
- 3. ✔ excise tax imposed on firm = social marginal cost – firm's marginal cost
- 4. ✘ excise tax imposed on firm = social marginal cost + firm's marginal cost

Question Number : 225 Question Id : 54062614714 Question Type : MCQ Option Shuffling : Yes Is Question Mandatory : No Option Orientation : Vertical

Correct Marks : 1 Wrong Marks : 0.25

एक नकारात्मक बाह्य कारण उत्पन्न करने वाली फर्म को आर्थिक रूप से कुशल उत्पादन स्तर तक पहुंचना है। निम्नलिखित में से कौन सी स्थिति आवश्यक है?

Options :

- 1. ✘ फर्म पर लगाया गया उत्पाद शुल्क = फर्म की सीमांत लागत
- 2. ✘ फर्म पर लगाया गया उत्पाद शुल्क = सामाजिक सीमांत लागत
- 3. ✔ फर्म पर लगाया गया उत्पाद शुल्क = सामाजिक सीमांत लागत – फर्म की सीमांत लागत
- 4. ✘ फर्म पर लगाया गया उत्पाद शुल्क = सामाजिक सीमांत लागत + फर्म की सीमांत लागत

Question Number : 226 Question Id : 54062614715 Question Type : MCQ Option Shuffling : Yes Is Question Mandatory : No Option Orientation : Vertical

Correct Marks : 1 Wrong Marks : 0.25

The difference principle of justice requires that all economic inequalities be arranged so that they are _____.

- I. beneficial to the least advantaged
- II. attached to offices and positions open to all members under conditions of fair equality of opportunity

Options :

- 1. ✘ Only I
- 2. ✘ Only II
- 3. ✔ Both I and II
- 4. ✘ Neither I nor II

Question Number : 226 Question Id : 54062614715 Question Type : MCQ Option Shuffling : Yes Is Question Mandatory : No Option Orientation : Vertical

Correct Marks : 1 Wrong Marks : 0.25

न्याय के अंतर सिद्धांत की आवश्यकता है कि सभी आर्थिक असमानताओं को व्यवस्थित किया जाए ताकि वे _____ हों।

- I. न्यूनतम सुविधा वालों के लिए फायदेमंद
- II. अवसर की निष्पक्ष समानता की शर्तों के तहत सभी सदस्यों के लिए खुले और पदों कार्यालयों से जुड़े

Options :

- 1. ✘ केवल I
- 2. ✘ केवल II
- 3. ✔ I तथा II दोनों
- 4. ✘ ना ही I ना ही II

Question Number : 227 Question Id : 54062614716 Question Type : MCQ Option Shuffling : Yes Is Question Mandatory : No Option Orientation : Vertical

Correct Marks : 1 Wrong Marks : 0.25

Who gave the impossibility theorem?

Options :

- 1. ✔ Kenneth Arrow
- 2. ✘ Friedrich Hayek
- 3. ✘ David Ricardo
- 4. ✘ Ludwig von Mises

Question Number : 227 Question Id : 54062614716 Question Type : MCQ Option Shuffling : Yes Is Question Mandatory : No Option Orientation : Vertical

Correct Marks : 1 Wrong Marks : 0.25

असंभवता प्रमेय किसने दिया था?

Options :

1. ✓ केनेथ एरो
2. ✗ फ्रेडरिक हायेक
3. ✗ डेविड रिकार्डो
4. ✗ लुडविग वॉन मिसेस

Question Number : 228 Question Id : 54062614717 Question Type : MCQ Option Shuffling : Yes Is Question Mandatory : No Option Orientation : Vertical

Correct Marks : 1 Wrong Marks : 0.25

Who has written 'The Tragedy of Commons'?

Options :

1. ✓ Garrett Hardin
2. ✗ Thomas Robert Malthus
3. ✗ E. F. Schumacher
4. ✗ Irving Fisher

Question Number : 228 Question Id : 54062614717 Question Type : MCQ Option Shuffling : Yes Is Question Mandatory : No Option Orientation : Vertical

Correct Marks : 1 Wrong Marks : 0.25

'द ट्रेजडी ऑफ कॉमन्स' किसने लिखी है?

Options :

1. ✓ गैरेट हार्डिन
2. ✗ थॉमस रॉबर्ट माल्थस
3. ✗ ई.एफ. शूमाकर
4. ✗ इरविंग फिशर

Question Number : 229 Question Id : 54062614718 Question Type : MCQ Option Shuffling : Yes Is Question Mandatory : No Option Orientation : Vertical

Correct Marks : 1 Wrong Marks : 0.25

Which of the following is correct?

Options :

1. ✘ Real interest rate/Nominal Interest Rate = Expected Inflation Rate
2. ✘ Nominal interest rate = Real Interest Rate – Expected Inflation Rate
3. ✔ Real interest rate = Nominal Interest Rate – Expected Inflation Rate
4. ✘ Real interest rate = Nominal Interest Rate

Question Number : 229 Question Id : 54062614718 Question Type : MCQ Option Shuffling : Yes Is Question Mandatory : No Option Orientation : Vertical

Correct Marks : 1 Wrong Marks : 0.25

निम्नलिखित में से कौन सा सही है?

Options :

1. ✘ वास्तविक ब्याज दर/मौद्रिक ब्याज दर = अपेक्षित मुद्रास्फीति दर
2. ✘ मौद्रिक ब्याज दर = वास्तविक ब्याज दर – अपेक्षित मुद्रास्फीति दर
3. ✔ वास्तविक ब्याज दर = मौद्रिक ब्याज दर – अपेक्षित मुद्रास्फीति दर
4. ✘ वास्तविक ब्याज दर = मौद्रिक ब्याज दर

Question Number : 230 Question Id : 54062614719 Question Type : MCQ Option Shuffling : Yes Is Question Mandatory : No Option Orientation : Vertical

Correct Marks : 1 Wrong Marks : 0.25

Ronald Coase asserted that under perfect competition private and social cost will be equal and addressed a well-known problem of market externalities, known as the _____ effect.

Options :

1. ✘ razor
2. ✘ overflow
3. ✔ Spillover
4. ✘ Pareto

Question Number : 230 Question Id : 54062614719 Question Type : MCQ Option Shuffling : Yes Is Question Mandatory : No Option

Orientation : Vertical

Correct Marks : 1 Wrong Marks : 0.25

रोनाल्ड कोसे ने जोर देकर कहा कि पूर्ण प्रतिस्पर्धा के तहत निजी ओर सामाजिक लागत समान होगी और बाजार की बाह्य कारणों की एक प्रसिद्ध समस्या को संबोधित किया, जिसे _____ प्रभाव के रूप में जाना जाता है।

Options :

1. ✘ रेजर
2. ✘ ओवरफ्लो
3. ✔ स्पिलओवर
4. ✘ परेटो

Question Number : 231 Question Id : 54062614720 Question Type : MCQ Option Shuffling : Yes Is Question Mandatory : No Option Orientation : Vertical

Correct Marks : 1 Wrong Marks : 0.25

Which of the following is an example of adverse selection?

Options :

1. ✘ Purchasing a new air conditioner on basis of a friend's recommendation without seeing it
2. ✔ High car insurance premiums resulting from the poor maintenance of the cars by people who buy these policies
3. ✘ Pricing a high-quality wine more than the low-quality wine
4. ✘ To purchase a low-priced item even though its quality is inferior

Question Number : 231 Question Id : 54062614720 Question Type : MCQ Option Shuffling : Yes Is Question Mandatory : No Option Orientation : Vertical

Correct Marks : 1 Wrong Marks : 0.25

निम्नलिखित में से कौन सा प्रतिकूल चयन का उदाहरण है?

Options :

1. ✘ बिना देखे दोस्त की सिफारिश के आधार पर नया एयर कंडीशनर खरीदना
2. ✔ इन पॉलिसियों को खरीदने वाले लोगों द्वारा कारों के खराब रखरखाव के परिणामस्वरूप उच्च कार बीमा प्रीमियम
3. ✘ निम्न गुणवत्ता वाली वाइन की तुलना में उच्च गुणवत्ता वाली वाइन का मूल्य ज्यादा निर्धारित करना
4. ✘ कम कीमत की वस्तु खरीदना भले ही उसकी गुणवत्ता घटिया हो

Question Number : 232 Question Id : 54062614721 Question Type : MCQ Option Shuffling : Yes Is Question Mandatory : No Option

Orientation : Vertical

Correct Marks : 1 Wrong Marks : 0.25

Which of the following statement is correct regarding Capital Output Ratio?

- I. The Capital Output ratio shows the relationship between the Investment rates and GDP Growth in a country
- II. The higher capital output ratio denotes higher efficiency of the capital

Options :

- 1. ✓ Only I
- 2. ✗ Only II
- 3. ✗ Both I and II
- 4. ✗ Neither I nor II

Question Number : 232 Question Id : 54062614721 Question Type : MCQ Option Shuffling : Yes Is Question Mandatory : No Option Orientation : Vertical

Correct Marks : 1 Wrong Marks : 0.25

पूंजी उत्पादन अनुपात के संदर्भ में निम्नलिखित में से कौन सा कथन सही है?

- I. पूंजी उत्पादन अनुपात किसी देश में निवेश दरों और जी.डी.पी. वृद्धि के बीच संबंध को दर्शाता है
- II. उच्च पूंजी उत्पादन अनुपात पूंजी की उच्च दक्षता को दर्शाता है

Options :

- 1. ✓ केवल I
- 2. ✗ केवल II
- 3. ✗ I तथा II दोनों
- 4. ✗ ना ही I ना ही II

Question Number : 233 Question Id : 54062614722 Question Type : MCQ Option Shuffling : Yes Is Question Mandatory : No Option Orientation : Vertical

Correct Marks : 1 Wrong Marks : 0.25

What is the meaning of 'Evergreening of Loans'?

Options :

- 1. ✗ Waiving off the interest by the banks
- 2. ✓ Banks give additional loans to its existing borrowers
- 3. ✗ Loan approvals within 24 hours

4. ✖ Government providing loans to banks to meet their losses

Question Number : 233 Question Id : 54062614722 Question Type : MCQ Option Shuffling : Yes Is Question Mandatory : No Option Orientation : Vertical

Correct Marks : 1 Wrong Marks : 0.25

'ऋणों की एवरग्रीनिंग' का क्या अर्थ है?

Options :

1. ✖ बैंकों द्वारा ब्याज माफ करना
2. ✔ बैंक अपने मौजूदा कर्जदारों को अतिरिक्त कर्ज देते हैं
3. ✖ 24 घंटे के भीतर ऋण स्वीकृतियां
4. ✖ सरकार द्वारा बैंकों को उनके घाटे को पूरा करने के लिए ऋण प्रदान करना

Question Number : 234 Question Id : 54062614723 Question Type : MCQ Option Shuffling : Yes Is Question Mandatory : No Option Orientation : Vertical

Correct Marks : 1 Wrong Marks : 0.25

Which of the following is correct regarding the Outcome budget?

- I. It reflects the itemised allocation of resources reflected under the last General Budget and prepared by ministries of the Government.
- II. It was started in 2005.

Options :

1. ✖ Only I
2. ✖ Only II
3. ✔ Both I and II
4. ✖ Neither I nor II

Question Number : 234 Question Id : 54062614723 Question Type : MCQ Option Shuffling : Yes Is Question Mandatory : No Option Orientation : Vertical

Correct Marks : 1 Wrong Marks : 0.25

आउटकम बजट के संदर्भ में निम्नलिखित में से कौन सा सही है?

- I. यह पिछले आम बजट के तहत परिलक्षित और सरकार के मंत्रालयों द्वारा तैयार संसाधनों के मदबद्ध आवंटन को दर्शाता है।
- II. इसकी शुरुआत 2005 में हुई थी।

Options :

1. ✖ केवल I
2. ✖ केवल II
3. ✔ I तथा II दोनों
4. ✖ ना ही I ना ही II

Question Number : 235 Question Id : 54062614724 Question Type : MCQ Option Shuffling : Yes Is Question Mandatory : No Option Orientation : Vertical

Correct Marks : 1 Wrong Marks : 0.25

Which of the following is correct regarding the revision of the base year of National accounts from 2004-05 to 2011-12?

- I. Headline growth rate will now be measured by GDP at constant market prices.
- II. Earlier, growth was measured in terms of growth rate in GDP at factor cost at constant prices.

Options :

1. ✖ Only I
2. ✖ Only II
3. ✔ Both I and II
4. ✖ Neither I nor II

Question Number : 235 Question Id : 54062614724 Question Type : MCQ Option Shuffling : Yes Is Question Mandatory : No Option Orientation : Vertical

Correct Marks : 1 Wrong Marks : 0.25

2004-05 से 2011-12 तक राष्ट्रीय खातों के आधार वर्ष के संशोधन के संदर्भ में निम्नलिखित में से कौन सा सही है?

- I. हेडलाइन विकास दर अब स्थिर बाजार मूल्यों पर जी.डी.पी. द्वारा मापी जाएगी।
- II. इससे पहले, विकास को स्थिर कीमतों पर कारक लागत पर जी.डी.पी. में वृद्धि दर के संदर्भ में मापा जाता था।

Options :

1. ✖ केवल I
2. ✖ केवल II
3. ✔ I तथा II दोनों
4. ✖ ना ही I ना ही II

Question Number : 236 Question Id : 54062614725 Question Type : MCQ Option Shuffling : Yes Is Question Mandatory : No Option

Orientation : Vertical

Correct Marks : 1 Wrong Marks : 0.25

Which of the following is correct regarding the MCA21 initiative launched by the Ministry of corporate affairs?

- I. Easy and secure access to MCA services in an assisted manner for corporate entities, professionals, and general public.
- II. It is designed to fully automate all processes related to enforcement and compliance of the legal requirements under the Companies Act, 1956.

Options :

- 1. ✖ Only I
- 2. ✖ Only II
- 3. ✔ Both I and II
- 4. ✖ Neither I nor II

Question Number : 236 Question Id : 54062614725 Question Type : MCQ Option Shuffling : Yes Is Question Mandatory : No Option

Orientation : Vertical

Correct Marks : 1 Wrong Marks : 0.25

कार्पोरेट कार्य मंत्रालय द्वारा शुरू की गई MCA21 पहल के संदर्भ में निम्नलिखित में से कौन सा सही है?

- I. कॉर्पोरेट संस्थाओं, पेशेवरों और आम जनता के लिए सहायक तरीके से एम.सी.ए. सेवाएं आसानी और सुरक्षित तरीके से पहुंचें।
- II. इसे कंपनी अधिनियम, 1956 के तहत कानूनी आवश्यकताओं के प्रवर्तन और अनुपालन से संबंधित सभी प्रक्रियाओं को पूरी तरह से स्वचालित करने के लिए डिज़ाइन किया गया है।

Options :

- 1. ✖ केवल I
- 2. ✖ केवल II
- 3. ✔ I तथा II दोनों
- 4. ✖ ना ही I ना ही II

Question Number : 237 Question Id : 54062614726 Question Type : MCQ Option Shuffling : Yes Is Question Mandatory : No Option

Orientation : Vertical

Correct Marks : 1 Wrong Marks : 0.25

The difference between Gross Value of Output (GVO) and Gross Value Added (GVA) is called as _____.

Options :

- 1. ✔ intermediate consumption
- 2. ✖ final consumption

3. ✖ original consumption
4. ✖ marginal consumption

Question Number : 237 Question Id : 54062614726 Question Type : MCQ Option Shuffling : Yes Is Question Mandatory : No Option Orientation : Vertical

Correct Marks : 1 Wrong Marks : 0.25

आउटपुट के सकल मूल्य (जी.वी.ओ.) और सकल मूल्य वर्धित (जी.वी.ए.) के बीच के अंतर को _____ कहा जाता है।

Options :

1. ✔ मध्यवर्ती उपभोग
2. ✖ अंतिम उपभोग
3. ✖ मूल उपभोग
4. ✖ सीमांत उपभोग

Question Number : 238 Question Id : 54062614727 Question Type : MCQ Option Shuffling : Yes Is Question Mandatory : No Option Orientation : Vertical

Correct Marks : 1 Wrong Marks : 0.25

Which of the following is correct regarding Beti Bachao Beti Padhao (BBBP)?

- I. The programme was launched on 22nd January, 2015 at Panipat, Haryana for promoting survival, protection and education of girl child.
- II. It aims to address the issue of declining Child Sex Ratio (CSR) through a mass campaign targeted at changing social mind set and creating awareness about the criticality of the issue.
- III. The overall goal of the BBBP programme is to prevent gender biased sex selective elimination, ensure survival and protection of the girl child and to ensure education and participation of the girl child.

Options :

1. ✖ I and II
2. ✖ II and III
3. ✖ I and III
4. ✔ I, II and III

Question Number : 238 Question Id : 54062614727 Question Type : MCQ Option Shuffling : Yes Is Question Mandatory : No Option Orientation : Vertical

Correct Marks : 1 Wrong Marks : 0.25

बेटी बचाओ बेटी पढ़ाओ (बी.बी.बी.पी.) के संदर्भ में निम्नलिखित में से कौन सा सही है?

- I. यह कार्यक्रम 22 जनवरी, 2015 को पानीपत, हरियाणा में बालिकाओं के अस्तित्व, संरक्षण और शिक्षा को बढ़ावा देने के लिए शुरू किया गया था।
II. इसका उद्देश्य सामाजिक मानसिकता को बदलने और इस मुद्दे की गंभीरता के बारे में जागरूकता पैदा करने के लिए एक जन अभियान के माध्यम से बाल लिंग अनुपात (सी.एस.आर.) में गिरावट के मुद्दे को संबोधित करना है।
III. बी.बी.बी.पी. कार्यक्रम का समग्र लक्ष्य लिंग पक्षपाती लिंग चयनात्मक उन्मूलन को रोकना, बालिकाओं की उत्तरजीविता और सुरक्षा सुनिश्चित करना और बालिकाओं की शिक्षा और भागीदारी सुनिश्चित करना है।

Options :

1. ✘ I तथा II
2. ✘ II तथा III
3. ✘ I तथा III
4. ✔ I, II तथा III

Question Number : 239 Question Id : 54062614728 Question Type : MCQ Option Shuffling : Yes Is Question Mandatory : No Option Orientation : Vertical

Correct Marks : 1 Wrong Marks : 0.25

What is Effective Revenue Deficit?

Options :

1. ✘ It is obtained by adding Revenue Deficit with Capital Deficit
2. ✘ It is equal to difference of revenue receipt and revenue expenditure
3. ✔ It is the difference of revenue deficit and grant for the creation of capital assets
4. ✘ It is the total grant to the creation of capital asset and revenue expenditure

Question Number : 239 Question Id : 54062614728 Question Type : MCQ Option Shuffling : Yes Is Question Mandatory : No Option Orientation : Vertical

Correct Marks : 1 Wrong Marks : 0.25

प्रभावी राजस्व घाटा क्या है?

Options :

1. ✘ यह राजस्व घाटे को पूंजीगत घाटे के साथ जोड़कर प्राप्त किया जाता है
2. ✘ यह राजस्व प्राप्ति और राजस्व व्यय के अंतर के बराबर है
3. ✔ यह पूंजीगत संपत्ति के निर्माण के लिए राजस्व घाटे और अनुदान का अंतर है
4. ✘ यह पूंजीगत संपत्ति और राजस्व व्यय के निर्माण के लिए कुल अनुदान है

Question Number : 240 Question Id : 54062614729 Question Type : MCQ Option Shuffling : Yes Is Question Mandatory : No Option Orientation : Vertical

Correct Marks : 1 Wrong Marks : 0.25

Which of the following would lead a country to its ratings downgrade by the Rating Agencies?

- I. High Fiscal Deficit and debt burden
- II. High Current Account Deficit and low FOREX reserve
- III. Weak and volatile Stock Market

Options :

- 1. ✓ I and II
- 2. ✗ II and III
- 3. ✗ I and III
- 4. ✗ I, II and III

Question Number : 240 Question Id : 54062614729 Question Type : MCQ Option Shuffling : Yes Is Question Mandatory : No Option Orientation : Vertical

Correct Marks : 1 Wrong Marks : 0.25

निम्नलिखित में से कौन रेटिंग एजेंसियों द्वारा किसी देश को उसकी रेटिंग डाउनग्रेड की ओर ले जाएगा?

- I. उच्च राजकोषीय घाटा और ऋण का बोझ
- II. उच्च चालू खाता घाटा और कम विदेशी मुद्रा भंडार
- III. कमजोर और अस्थिर शेयर बाजार

Options :

- 1. ✓ I तथा II
- 2. ✗ II तथा III
- 3. ✗ I तथा III
- 4. ✗ I, II तथा III

Discipline8

Group Number :

13

Group Id :

540626501

Group Maximum Duration :

0

Group Minimum Duration :	0
Show Attended Group? :	No
Edit Attended Group? :	No
Break time :	0
Group Marks :	20
Is this Group for Examiner? :	No

Discipline8

Section Id :	540626675
Section Number :	1
Section type :	Online
Mandatory or Optional :	Mandatory
Number of Questions :	20
Number of Questions to be attempted :	20
Section Marks :	20
Enable Mark as Answered Mark for Review and Clear Response :	Yes
Sub-Section Number :	1
Sub-Section Id :	540626811
Question Shuffling Allowed :	Yes

Question Number : 241 Question Id : 54062614730 Question Type : MCQ Option Shuffling : Yes Is Question Mandatory : No Option Orientation : Vertical

Correct Marks : 1 Wrong Marks : 0.25

For the horizontal distribution of taxes among the states, which among the following criteria has been adopted by the 15th Finance Commission?

- I. Income Distance
- II. Population (2011 Census)

Options :

1. ✘ Only I
2. ✘ Only II
3. ✔ Both I and II
4. ✘ Neither I nor II

Question Number : 241 Question Id : 54062614730 Question Type : MCQ Option Shuffling : Yes Is Question Mandatory : No Option Orientation : Vertical

Correct Marks : 1 Wrong Marks : 0.25

राज्यों के बीच करों के क्षैतिज वितरण के लिए, निम्नलिखित में से कौन सा मानदंड 15वें वित्त आयोग द्वारा अपनाया गया है?

- I. आय दूरी
- II. जनसंख्या (2011 की जनगणना)

Options :

- 1. ✘ केवल I
- 2. ✘ केवल II
- 3. ✔ I तथा II दोनों
- 4. ✘ ना ही I ना ही II

Question Number : 242 Question Id : 54062614731 Question Type : MCQ Option Shuffling : Yes Is Question Mandatory : No Option Orientation : Vertical

Correct Marks : 1 Wrong Marks : 0.25

Which of the following statement is correct regarding Pradhan Mantri Garib Kalyan Yojana?

- I. Insurance scheme for healthcare workers
- II. Cash transfers to poor and vulnerable sections
- III. Benefits for the workers employed in organised sector

Options :

- 1. ✔ I and II
- 2. ✘ II and III
- 3. ✘ I and III
- 4. ✘ I, II and III

Question Number : 242 Question Id : 54062614731 Question Type : MCQ Option Shuffling : Yes Is Question Mandatory : No Option Orientation : Vertical

Correct Marks : 1 Wrong Marks : 0.25

प्रधानमंत्री गरीब कल्याण योजना के संदर्भ में निम्नलिखित में से कौन सा कथन सही है?

- I. स्वास्थ्य कर्मियों के लिए बीमा योजना
- II. गरीब और कमजोर वर्गों को नकद हस्तांतरण
- III. संगठित क्षेत्र में कार्यरत श्रमिकों के लिए लाभ

Options :

- 1. ✓ I तथा II
- 2. ✗ II तथा III
- 3. ✗ I तथा III
- 4. ✗ I, II तथा III

Question Number : 243 Question Id : 54062614732 Question Type : MCQ Option Shuffling : Yes Is Question Mandatory : No Option Orientation : Vertical

Correct Marks : 1 Wrong Marks : 0.25

Which of the following is correct regarding the Kisan Credit Card scheme?

- I. It was launched in 1988
- II. Only commercial banks can implement it

Options :

- 1. ✗ Only I
- 2. ✗ Only II
- 3. ✗ Both I and II
- 4. ✓ Neither I nor II

Question Number : 243 Question Id : 54062614732 Question Type : MCQ Option Shuffling : Yes Is Question Mandatory : No Option Orientation : Vertical

Correct Marks : 1 Wrong Marks : 0.25

किसान क्रेडिट कार्ड योजना के संदर्भ में निम्नलिखित में से कौन सा सही है?

- I. इसे 1988 में लॉन्च किया गया था
- II. केवल वाणिज्यिक बैंक ही इसे लागू कर सकते हैं

Options :

- 1. ✗ केवल I
- 2. ✗ केवल II

3. ✘ I तथा II दोनों
4. ✔ ना ही I ना ही II

Question Number : 244 Question Id : 54062614733 Question Type : MCQ Option Shuffling : Yes Is Question Mandatory : No Option Orientation : Vertical

Correct Marks : 1 Wrong Marks : 0.25

Which among the following is/are the initiatives started by NITI Aayog?

- I. Sustainable Action for Transforming Human Capital (SATH)
- II. Ek Bharat Shreshtha Bharat
- III. Composite Water Management Index

Options :

1. ✘ I and II
2. ✘ II and III
3. ✔ I and III
4. ✘ I, II and III

Question Number : 244 Question Id : 54062614733 Question Type : MCQ Option Shuffling : Yes Is Question Mandatory : No Option Orientation : Vertical

Correct Marks : 1 Wrong Marks : 0.25

निम्नलिखित में से कौन सी पहल नीति आयोग द्वारा शुरू की गई है?

- I. मानव पूंजी परिवर्तन के लिए संधारणीय कार्रवाई
- II. एक भारत श्रेष्ठ भारत
- III. समग्र जल प्रबंधन सूचकांक

Options :

1. ✘ I तथा II
2. ✘ II तथा III
3. ✔ I तथा III
4. ✘ I, II तथा III

Question Number : 245 Question Id : 54062614734 Question Type : MCQ Option Shuffling : Yes Is Question Mandatory : No Option Orientation : Vertical

Correct Marks : 1 Wrong Marks : 0.25

Which among the following International agencies publishes the Global Investment Trend Monitor Report?

Options :

1. ✘ World Economic Forum
2. ✔ United Nations Conference on Trade and Development
3. ✘ International Monetary Fund
4. ✘ World Bank

Question Number : 245 Question Id : 54062614734 Question Type : MCQ Option Shuffling : Yes Is Question Mandatory : No Option Orientation : Vertical

Correct Marks : 1 Wrong Marks : 0.25

निम्नलिखित में से कौन सी अंतर्राष्ट्रीय एजेंसी ग्लोबल इन्वेस्टमेंट ट्रेड मॉनिटर रिपोर्ट प्रकाशित करती है?

Options :

1. ✘ विश्व आर्थिक मंच
2. ✔ संयुक्त राष्ट्र व्यापार और विकास सम्मेलन
3. ✘ अंतर्राष्ट्रीय मुद्रा कोष
4. ✘ विश्व बैंक

Question Number : 246 Question Id : 54062614735 Question Type : MCQ Option Shuffling : Yes Is Question Mandatory : No Option Orientation : Vertical

Correct Marks : 1 Wrong Marks : 0.25

Which of the following statement is correct regarding the GST Compensation Mechanism?

- I. The GST Compensation cess is used to compensate the states for any loss they incur within the first five years of GST implementation.
- II. According to the GST Act, States are guaranteed compensation if the GST revenue growth is less than 14 percent.

Options :

1. ✘ Only I
2. ✘ Only II
3. ✔ Both I and II
4. ✘ Neither I nor II

Question Number : 246 Question Id : 54062614735 Question Type : MCQ Option Shuffling : Yes Is Question Mandatory : No Option

Orientation : Vertical

Correct Marks : 1 Wrong Marks : 0.25

जी.एस.टी. मुआवजा तंत्र के संदर्भ में निम्नलिखित में से कौन सा कथन सही है?

- I. जी.एस.टी. मुआवजा उपकर का उपयोग राज्यों को जीएसटी लागू होने के पहले पांच वर्षों के भीतर होने वाले किसी भी नुकसान की भरपाई के लिए किया जाता है।
- II. जी.एस.टी. अधिनियम के अनुसार, राज्यों को मुआवजे की गारंटी दी जाती है यदि जीएसटी राजस्व वृद्धि 14 प्रतिशत से कम है।

Options :

1. ✘ केवल I
2. ✘ केवल II
3. ✔ I तथा II दोनों
4. ✘ ना ही I ना ही II

Question Number : 247 Question Id : 54062614736 Question Type : MCQ Option Shuffling : Yes Is Question Mandatory : No Option

Orientation : Vertical

Correct Marks : 1 Wrong Marks : 0.25

Which of the following statements regarding Small Finance Banks (SFBs) is correct?

- I. The Small Finance Banks can accept deposits and lend loans only up to Rs. 1 lakh.
- II. They are required to extend 75 percent of their loans towards the priority sectors.

Options :

1. ✘ Only I
2. ✔ Only II
3. ✘ Both I and II
4. ✘ Neither I nor II

Question Number : 247 Question Id : 54062614736 Question Type : MCQ Option Shuffling : Yes Is Question Mandatory : No Option

Orientation : Vertical

Correct Marks : 1 Wrong Marks : 0.25

लघु वित्त बैंकों (एस.एफ.बी.) के संदर्भ में निम्नलिखित में से कौन सा कथन सही है?

- I. लघु वित्त बैंक जमा स्वीकार कर सकते हैं और केवल 1 लाख रुपये तक का ऋण दे सकते हैं।
- II. उन्हें अपने ऋण का 75 प्रतिशत प्राथमिकता वाले क्षेत्रों को देना आवश्यक होता है।

Options :

1. ✘ केवल I
2. ✔ केवल II
3. ✘ I तथा II दोनों
4. ✘ ना ही I ना ही II

Question Number : 248 Question Id : 54062614737 Question Type : MCQ Option Shuffling : Yes Is Question Mandatory : No Option Orientation : Vertical

Correct Marks : 1 Wrong Marks : 0.25

Which among the following are instruments of the RBI's Monetary policy?

- I. Open market operations
- II. Cash reserve ratio
- III. Bank rate
- IV. Reverse Repo rate

Options :

1. ✘ I, II and III
2. ✘ II, III and IV
3. ✘ I, III and IV
4. ✔ I, II, III, IV

Question Number : 248 Question Id : 54062614737 Question Type : MCQ Option Shuffling : Yes Is Question Mandatory : No Option Orientation : Vertical

Correct Marks : 1 Wrong Marks : 0.25

निम्नलिखित में से कौन आर.बी.आई. की मौद्रिक नीति के लिखतें हैं?

- I. खुले बाजार परिचालन
- II. नकद आरक्षित निधि अनुपात
- III. बैंक दर
- IV. रिवर्स रेपो दर

Options :

1. ✘ I, II तथा III
2. ✘ II, III तथा IV

3. ✘ I, III तथा IV

4. ✔ I, II, III, IV

Question Number : 249 Question Id : 54062614738 Question Type : MCQ Option Shuffling : Yes Is Question Mandatory : No Option Orientation : Vertical

Correct Marks : 1 Wrong Marks : 0.25

Which of the following can be the likely reason for slowdown in the economy?

- I. Rise in investment rates
- II. Decrease in consumption expenditure
- III. High policy rates

Options :

1. ✘ I and II

2. ✔ II and III

3. ✘ I and III

4. ✘ I, II and III

Question Number : 249 Question Id : 54062614738 Question Type : MCQ Option Shuffling : Yes Is Question Mandatory : No Option Orientation : Vertical

Correct Marks : 1 Wrong Marks : 0.25

निम्नलिखित में से कौन अर्थव्यवस्था में मंदी का संभावित कारण हो सकता है?

- I. निवेश दरों में वृद्धि
- II. उपभोग व्यय में कमी
- III. उच्च नीति दर

Options :

1. ✘ I तथा II

2. ✔ II तथा III

3. ✘ I तथा III

4. ✘ I, II तथा III

Question Number : 250 Question Id : 54062614739 Question Type : MCQ Option Shuffling : Yes Is Question Mandatory : No Option Orientation : Vertical

Correct Marks : 1 Wrong Marks : 0.25

Who has written the book 'Fault Lines'?

Options :

1. ✘ Bimal Jalan
2. ✘ Guru Charan Das
3. ✔ Raghuram G. Rajan
4. ✘ Satish Y. Deodhar

Question Number : 250 Question Id : 54062614739 Question Type : MCQ Option Shuffling : Yes Is Question Mandatory : No Option Orientation : Vertical

Correct Marks : 1 Wrong Marks : 0.25

'फॉल्ट लाइन्स' पुस्तक किसने लिखी है?

Options :

1. ✘ बिमल जालान
2. ✘ गुरु चरण दास
3. ✔ रघुराम जी. राजन
4. ✘ सतीश वाई. देवधर

Question Number : 251 Question Id : 54062614740 Question Type : MCQ Option Shuffling : Yes Is Question Mandatory : No Option Orientation : Vertical

Correct Marks : 1 Wrong Marks : 0.25

A 'closed economy' is an economy in which _____.

Options :

1. ✘ the money supply is fully controlled
2. ✘ deficit financing takes place
3. ✘ only exports take place
4. ✔ neither exports nor imports take places

Question Number : 251 Question Id : 54062614740 Question Type : MCQ Option Shuffling : Yes Is Question Mandatory : No Option Orientation : Vertical

Correct Marks : 1 Wrong Marks : 0.25

एक 'बंद अर्थव्यवस्था' एक ऐसी अर्थव्यवस्था है जिसमें _____।

Options :

1. ✖ मुद्रा की मांग पूरी तरह से नियंत्रित है
2. ✖ घाटे का वित्तपोषण होता है
3. ✖ केवल निर्यात होता है
4. ✔ न तो निर्यात होता है और न ही आयात होता है

Question Number : 252 Question Id : 54062614741 Question Type : MCQ Option Shuffling : Yes Is Question Mandatory : No Option Orientation : Vertical

Correct Marks : 1 Wrong Marks : 0.25

What does the term Free Market means?

- I. It is a market where pricing is driven by the laws of supply and demand.
- II. In free market things are available without restraints of the government.

Options :

1. ✖ Only I
2. ✖ Only II
3. ✔ Both I and II
4. ✖ Neither I nor II

Question Number : 252 Question Id : 54062614741 Question Type : MCQ Option Shuffling : Yes Is Question Mandatory : No Option Orientation : Vertical

Correct Marks : 1 Wrong Marks : 0.25

स्वतंत्र बाजार शब्द का क्या अर्थ है?

- I. यह एक ऐसा बाजार है जहां मूल्य निर्धारण आपूर्ति और मांग के नियमों द्वारा संचालित होता है।
- II. मुक्त बाजार में सरकार के प्रतिबंध के बिना चीजें उपलब्ध हैं।

Options :

1. ✖ केवल I
2. ✖ केवल II
3. ✔ I तथा II दोनों
4. ✖ ना ही I ना ही II

Question Number : 253 Question Id : 54062614742 Question Type : MCQ Option Shuffling : Yes Is Question Mandatory : No Option Orientation : Vertical

Correct Marks : 1 Wrong Marks : 0.25

What is disinvestment?

- I. Offloading of shares of private companies to government.
- II. Offloading of government shares to private companies.

Options :

- 1. ✘ Only I
- 2. ✔ Only II
- 3. ✘ Both I and II
- 4. ✘ Neither I nor II

Question Number : 253 Question Id : 54062614742 Question Type : MCQ Option Shuffling : Yes Is Question Mandatory : No Option Orientation : Vertical

Correct Marks : 1 Wrong Marks : 0.25

विनिवेश क्या है?

- I. सरकार को निजी कंपनियों के शेयरों की ऑफलोडिंग।
- II. निजी कंपनियों को सरकारी शेयरों की ऑफलोडिंग।

Options :

- 1. ✘ केवल I
- 2. ✔ केवल II
- 3. ✘ I तथा II दोनों
- 4. ✘ ना ही I ना ही II

Question Number : 254 Question Id : 54062614743 Question Type : MCQ Option Shuffling : Yes Is Question Mandatory : No Option Orientation : Vertical

Correct Marks : 1 Wrong Marks : 0.25

Which of following is correct about the Primary deficit?

Options :

- 1. ✘ Capital Receipts + Interest Payment
- 2. ✘ Capital Receipts – Interest Payment

3. ✓ Fiscal Deficit – Interest Payment

4. ✗ Fiscal Deficit + Interest Payment

Question Number : 254 Question Id : 54062614743 Question Type : MCQ Option Shuffling : Yes Is Question Mandatory : No Option Orientation : Vertical

Correct Marks : 1 Wrong Marks : 0.25

प्राथमिक घाटे के संदर्भ में निम्नलिखित में से कौन सा सही है?

Options :

1. ✗ पूंजी प्राप्तियों + ब्याज भुगतान

2. ✗ पूंजी प्राप्तियों – ब्याज भुगतान

3. ✓ राजकोषीय घाटा – ब्याज भुगतान

4. ✗ राजकोषीय घाटा + ब्याज भुगतान

Question Number : 255 Question Id : 54062614744 Question Type : MCQ Option Shuffling : Yes Is Question Mandatory : No Option Orientation : Vertical

Correct Marks : 1 Wrong Marks : 0.25

Which of the following are correct regarding the austerity measures taken by a country going through adverse economy conditions?

I. These measures include an increase in tax.

II. These measures include reduction in budget deficit.

Options :

1. ✗ Only I

2. ✗ Only II

3. ✓ Both I and II

4. ✗ Neither I nor II

Question Number : 255 Question Id : 54062614744 Question Type : MCQ Option Shuffling : Yes Is Question Mandatory : No Option Orientation : Vertical

Correct Marks : 1 Wrong Marks : 0.25

प्रतिकूल अर्थव्यवस्था की स्थिति से गुजर रहे देश द्वारा किए गए मितव्ययिता उपायों के संदर्भ में निम्नलिखित में से कौन सा सही है?

I. इन उपायों में कर में वृद्धि शामिल है।

II. इन उपायों में बजट घाटे में कमी शामिल है।

Options :

1. ✘ केवल I
2. ✘ केवल II
3. ✔ I तथा II दोनों
4. ✘ ना ही I ना ही II

Question Number : 256 Question Id : 54062614745 Question Type : MCQ Option Shuffling : Yes Is Question Mandatory : No Option Orientation : Vertical

Correct Marks : 1 Wrong Marks : 0.25

Which of the following is part of Human Development Index?

- I. Literacy rates
- II. Life expectancy at birth
- III. GNI per head at real purchasing power

Options :

1. ✘ I and II
2. ✔ II and III
3. ✘ I and III
4. ✘ I, II and III

Question Number : 256 Question Id : 54062614745 Question Type : MCQ Option Shuffling : Yes Is Question Mandatory : No Option Orientation : Vertical

Correct Marks : 1 Wrong Marks : 0.25

निम्नलिखित में से कौन सा मानव विकास सूचकांक का हिस्सा है?

- I. साक्षरता दर
- II. जन्म के समय जीवन प्रत्याशा
- III. वास्तविक क्रय शक्ति पर प्रति व्यक्ति जी.एन.आई.

Options :

1. ✘ I तथा II
2. ✔ II तथा III
3. ✘ I तथा III

4. ✖ I, II तथा III

Question Number : 257 Question Id : 54062614746 Question Type : MCQ Option Shuffling : Yes Is Question Mandatory : No Option Orientation : Vertical

Correct Marks : 1 Wrong Marks : 0.25

Which of the following will contribute to a higher current account deficit?

- I. Increased exports of rice
- II. Rise in import of mobile phones

Options :

- 1. ✖ Only I
- 2. ✔ Only II
- 3. ✖ Both I and II
- 4. ✖ Neither I nor II

Question Number : 257 Question Id : 54062614746 Question Type : MCQ Option Shuffling : Yes Is Question Mandatory : No Option Orientation : Vertical

Correct Marks : 1 Wrong Marks : 0.25

निम्न में से कौन उच्च चालू खाता घाटे में योगदान देगा?

- I. चावल के निर्यात में वृद्धि
- II. मोबाइल फोन के आयात में वृद्धि

Options :

- 1. ✖ केवल I
- 2. ✔ केवल II
- 3. ✖ I तथा II दोनों
- 4. ✖ ना ही I ना ही II

Question Number : 258 Question Id : 54062614747 Question Type : MCQ Option Shuffling : Yes Is Question Mandatory : No Option Orientation : Vertical

Correct Marks : 1 Wrong Marks : 0.25

Which of the following are components of internal debt in India?

- I. Compensation and Other Bonds
- II. 14 Day Intermediate Treasury Bills
- III. Securities issued to International Financial Institutions

Options :

- 1. ✘ I and II
- 2. ✘ II and III
- 3. ✘ I and III
- 4. ✔ I, II and III

Question Number : 258 Question Id : 54062614747 Question Type : MCQ Option Shuffling : Yes Is Question Mandatory : No Option Orientation : Vertical

Correct Marks : 1 Wrong Marks : 0.25

निम्नलिखित में से कौन भारत में आंतरिक ऋण के घटक हैं?

- I. मुआवजा और अन्य बांड
- II. 14 दिवसीय इंटरमीडिएट ट्रेजरी बिल
- III. अंतर्राष्ट्रीय वित्तीय संस्थानों को जारी प्रतिभूतियां

Options :

- 1. ✘ I तथा II
- 2. ✘ II तथा III
- 3. ✘ I तथा III
- 4. ✔ I, II तथा III

Question Number : 259 Question Id : 54062614748 Question Type : MCQ Option Shuffling : Yes Is Question Mandatory : No Option Orientation : Vertical

Correct Marks : 1 Wrong Marks : 0.25

In India, deficit financing is used for raising resources for _____.

- I. reducing the foreign debt
- II. economic development

Options :

- 1. ✘ Only I
- 2. ✔ Only II

3. ✖ Both I and II
4. ✖ Neither I nor II

Question Number : 259 Question Id : 54062614748 Question Type : MCQ Option Shuffling : Yes Is Question Mandatory : No Option Orientation : Vertical

Correct Marks : 1 Wrong Marks : 0.25

भारत में, घाटे के वित्तपोषण का उपयोग _____ के लिए संसाधन जुटाने के लिए किया जाता है।

- I. विदेशी ऋण को कम करने
- II. आर्थिक विकास

Options :

1. ✖ केवल I
2. ✔ केवल II
3. ✖ I तथा II दोनों
4. ✖ ना ही I ना ही II

Question Number : 260 Question Id : 54062614749 Question Type : MCQ Option Shuffling : Yes Is Question Mandatory : No Option Orientation : Vertical

Correct Marks : 1 Wrong Marks : 0.25

Which of the following reasons account for lower rural income in India?

- I. Lower investment in agriculture
- II. Lower prices of primary products

Options :

1. ✖ Only I
2. ✖ Only II
3. ✔ Both I and II
4. ✖ Neither I nor II

Question Number : 260 Question Id : 54062614749 Question Type : MCQ Option Shuffling : Yes Is Question Mandatory : No Option Orientation : Vertical

Correct Marks : 1 Wrong Marks : 0.25

निम्नलिखित में से कौन सा कारण भारत में कम ग्रामीण आय का कारण है?

- I. कृषि में कम निवेश
II. प्राथमिक उत्पादों की कम कीमत

Options :

1. ✘ केवल I
2. ✘ केवल II
3. ✔ I तथा II दोनों
4. ✘ ना ही I ना ही II

Discipline9

Group Number :	14
Group Id :	540626502
Group Maximum Duration :	0
Group Minimum Duration :	0
Show Attended Group? :	No
Edit Attended Group? :	No
Break time :	0
Group Marks :	20
Is this Group for Examiner? :	No

Discipline9

Section Id :	540626676
Section Number :	1
Section type :	Online
Mandatory or Optional :	Mandatory
Number of Questions :	20
Number of Questions to be attempted :	20
Section Marks :	20
Enable Mark as Answered Mark for Review and Clear Response :	Yes
Sub-Section Number :	1

Sub-Section Id :

540626812

Question Shuffling Allowed :

Yes

Question Number : 261 Question Id : 54062614750 Question Type : MCQ Option Shuffling : Yes Is Question Mandatory : No Option Orientation : Vertical

Correct Marks : 1 Wrong Marks : 0.25

Which of the following best explains the Cascading Effect of taxation?

- I. When tax imposition leads to a disproportionate increase in prices by an extent more than the rise in the tax.
- II. When tax imposition leads to a disproportionate decrease in prices by an extent more than the rise in the tax.

Options :

- 1. ✓ Only I
- 2. ✗ Only II
- 3. ✗ Both I and II
- 4. ✗ Neither I nor II

Question Number : 261 Question Id : 54062614750 Question Type : MCQ Option Shuffling : Yes Is Question Mandatory : No Option Orientation : Vertical

Correct Marks : 1 Wrong Marks : 0.25

निम्नलिखित में से कौन कराधान के व्यापक प्रभाव की सबसे अच्छी व्याख्या करता है?

- I. जब कर लगाने से कीमतों में कर में वृद्धि की तुलना में एक हद तक अधिक वृद्धि होती है।
- II. जब कर लगाने से कीमतों में कर में वृद्धि की तुलना में एक हद तक अधिक कमी हो जाती है।

Options :

- 1. ✓ केवल I
- 2. ✗ केवल II
- 3. ✗ I तथा II दोनों
- 4. ✗ ना ही I ना ही II

Question Number : 262 Question Id : 54062614751 Question Type : MCQ Option Shuffling : Yes Is Question Mandatory : No Option Orientation : Vertical

Correct Marks : 1 Wrong Marks : 0.25

GDP deflator is used to _____.

Options :

1. ✘ measure the relative reduction in GDP growth rate of a country
2. ✔ measure the inflation in a country
3. ✘ compare the GDP of a country vis- a- vis other countries of the world
4. ✘ estimate the purchasing power of the citizen of a country

Question Number : 262 Question Id : 54062614751 Question Type : MCQ Option Shuffling : Yes Is Question Mandatory : No Option Orientation : Vertical

Correct Marks : 1 Wrong Marks : 0.25

जी.डी.पी. अवस्फीतिक का उपयोग _____ के लिए किया जाता है।

Options :

1. ✘ किसी देश की जी.डी.पी. विकास दर में सापेक्ष कमी को मापनें
2. ✔ किसी देश में मुद्रास्फीति को मापनें
3. ✘ किसी देश के जी. डी. पी. की तुलना विश्व के अन्य देशों से करें
4. ✘ किसी देश के नागरिक की क्रय शक्ति का अनुमान लगाएं

Question Number : 263 Question Id : 54062614752 Question Type : MCQ Option Shuffling : Yes Is Question Mandatory : No Option Orientation : Vertical

Correct Marks : 1 Wrong Marks : 0.25

What is a benefit of implementing Goods and Services Tax (GST) in India?

- I. GST is expected to bring buoyancy to the Government Revenue by widening the tax base and improving the taxpayer compliance.
- II. The removal of cascading of taxes and increased transparency will make the citizens more informed about the taxes they pay while purchasing goods or services.

Options :

1. ✘ Only I
2. ✘ Only II
3. ✔ Both I and II
4. ✘ Neither I nor II

Question Number : 263 Question Id : 54062614752 Question Type : MCQ Option Shuffling : Yes Is Question Mandatory : No Option Orientation : Vertical

Correct Marks : 1 Wrong Marks : 0.25

भारत में वस्तु एवं सेवा कर (जीएसटी) को लागू करने से क्या लाभ है?

- I. जीएसटी से कर आधार को बढ़ाकर और करदाता अनुपालन में सुधार करके सरकारी राजस्व में बढ़ोतरी आने की उम्मीद है।
- II. करों के कैस्केडिंग को हटाने और बढ़ी हुई पारदर्शिता से नागरिकों को उन करों के बारे में अधिक जानकारी मिलेगी जो वे वस्तुओं या सेवाएं खरीदते समय भुगतान करते हैं।

Options :

1. ✘ केवल I
2. ✘ केवल II
3. ✔ I तथा II दोनों
4. ✘ ना ही I ना ही II

Question Number : 264 Question Id : 54062614753 Question Type : MCQ Option Shuffling : Yes Is Question Mandatory : No Option Orientation : Vertical

Correct Marks : 1 Wrong Marks : 0.25

What does the term 'Green shoots' represent in an Economy?

- I. Signs of economic recovery during an economy downturn
- II. Signs of growth of agriculture sector in a declining economy

Options :

1. ✔ Only I
2. ✘ Only II
3. ✘ Both I and II
4. ✘ Neither I nor II

Question Number : 264 Question Id : 54062614753 Question Type : MCQ Option Shuffling : Yes Is Question Mandatory : No Option Orientation : Vertical

Correct Marks : 1 Wrong Marks : 0.25

एक अर्थव्यवस्था में 'ग्रीन शूट्स' शब्द क्या दर्शाता है?

- I. अर्थव्यवस्था में मंदी के दौरान आर्थिक सुधार के संकेत
- II. गिरती अर्थव्यवस्था में कृषि क्षेत्र के विकास के संकेत

Options :

1. ✓ केवल I
2. ✗ केवल II
3. ✗ I तथा II दोनों
4. ✗ ना ही I ना ही II

Question Number : 265 Question Id : 54062614754 Question Type : MCQ Option Shuffling : Yes Is Question Mandatory : No Option Orientation : Vertical

Correct Marks : 1 Wrong Marks : 0.25

Which of the following is correct regarding poverty measurement?

- I. Head count ratio measures incidence of poverty.
- II. Poverty gap index measures both incidence as well as severity of poverty.

Options :

1. ✗ Only I
2. ✗ Only II
3. ✓ Both I and II
4. ✗ Neither I nor II

Question Number : 265 Question Id : 54062614754 Question Type : MCQ Option Shuffling : Yes Is Question Mandatory : No Option Orientation : Vertical

Correct Marks : 1 Wrong Marks : 0.25

निर्धनता मापन के संदर्भ में निम्नलिखित में से कौन सा सही है?

- I. हेड काउंट रेश्यो निर्धनता के पैमाने को मापता है।
- II. निर्धनता अंतराल सूचकांक निर्धनता के पैमाने घटना और गंभीरता दोनों को मापता है।

Options :

1. ✗ केवल I
2. ✗ केवल II
3. ✓ I तथा II दोनों
4. ✗ ना ही I ना ही II

Question Number : 266 Question Id : 54062614755 Question Type : MCQ Option Shuffling : Yes Is Question Mandatory : No Option

Orientation : Vertical

Correct Marks : 1 Wrong Marks : 0.25

Which of the following statements is true?

- I. Higher growth in GDP and population can occur together.
- II. Per capita income always decreases with high population growth.

Options :

- 1. ✓ Only I
- 2. ✗ Only II
- 3. ✗ Both I and II
- 4. ✗ Neither I nor II

Question Number : 266 Question Id : 54062614755 Question Type : MCQ Option Shuffling : Yes Is Question Mandatory : No Option Orientation : Vertical

Correct Marks : 1 Wrong Marks : 0.25

निम्नलिखित में सा कौन से कथन सत्य हैं?

- I. सकल घरेलू उत्पाद और जनसंख्या में उच्च वृद्धि एक साथ हो सकती है।
- II. उच्च जनसंख्या वृद्धि के साथ प्रति व्यक्ति आय हमेशा घटती है।

Options :

- 1. ✓ केवल I
- 2. ✗ केवल II
- 3. ✗ I तथा II दोनों
- 4. ✗ ना ही I ना ही II

Question Number : 267 Question Id : 54062614756 Question Type : MCQ Option Shuffling : Yes Is Question Mandatory : No Option Orientation : Vertical

Correct Marks : 1 Wrong Marks : 0.25

Price discrimination is said to be personal under which condition?

Options :

- 1. ✗ When different prices are charged for different uses for a commodity
- 2. ✓ When different prices are charged to different persons
- 3. ✗ When same prices are charged to different persons

4. ✖ When different prices are charged for the same person

Question Number : 267 Question Id : 54062614756 Question Type : MCQ Option Shuffling : Yes Is Question Mandatory : No Option Orientation : Vertical

Correct Marks : 1 Wrong Marks : 0.25

मूल्य भेदभाव को किस स्थिति में व्यक्तिगत कहा जाता है?

Options :

1. ✖ जब किसी वस्तु के विभिन्न उपयोगों के लिए अलग-अलग मूल्य वसूले जाते हैं
2. ✔ जब अलग-अलग लोगों से अलग-अलग मूल्य वसूले जाते हैं
3. ✖ जब अलग-अलग व्यक्तियों से समान मूल्य वसूले जाते हैं
4. ✖ जब एक ही व्यक्ति के लिए अलग-अलग मूल्य वसूले जाते हैं

Question Number : 268 Question Id : 54062614757 Question Type : MCQ Option Shuffling : Yes Is Question Mandatory : No Option Orientation : Vertical

Correct Marks : 1 Wrong Marks : 0.25

In the Cournot Duopoly model, Conjectural Variation (CV) of each firm is _____.

Options :

1. ✖ less than zero
2. ✖ more than one
3. ✖ one
4. ✔ zero

Question Number : 268 Question Id : 54062614757 Question Type : MCQ Option Shuffling : Yes Is Question Mandatory : No Option Orientation : Vertical

Correct Marks : 1 Wrong Marks : 0.25

कुर्नोट द्वि-अधिकार मॉडल में, प्रत्येक फर्म की कांजेक्चुरल वेरिएशन (सी. वी.) _____ है।

Options :

1. ✖ शून्य से कम
2. ✖ एक से अधिक
3. ✖ एक
4. ✔ शून्य

Question Number : 269 Question Id : 54062614758 Question Type : MCQ Option Shuffling : Yes Is Question Mandatory : No Option Orientation : Vertical

Correct Marks : 1 Wrong Marks : 0.25

In a monopolistic competition market structure _____.

Options :

1. ✘ there is a single buyer
2. ✘ the products are not different at all
3. ✔ there is free entry and exit
4. ✘ the size of the market is very small

Question Number : 269 Question Id : 54062614758 Question Type : MCQ Option Shuffling : Yes Is Question Mandatory : No Option Orientation : Vertical

Correct Marks : 1 Wrong Marks : 0.25

एकाधिकार प्रतिस्पर्धा बाजार संरचना में _____।

Options :

1. ✘ एक ही खरीदार होता है
2. ✘ उत्पाद बिल्कुल अलग नहीं होते हैं
3. ✔ निर्बाध प्रवेश और बहिर्गमन होता है
4. ✘ बाजार का आकार बहुत छोटा होता है

Question Number : 270 Question Id : 54062614759 Question Type : MCQ Option Shuffling : Yes Is Question Mandatory : No Option Orientation : Vertical

Correct Marks : 1 Wrong Marks : 0.25

In which of the following non-collusive oligopolistic model, one firm acts as the leader and the other as follower?

Options :

1. ✘ Sticky Price Model
2. ✘ Bertrand mode
3. ✔ Stackelberg model
4. ✘ Cournot model

Question Number : 270 Question Id : 54062614759 Question Type : MCQ Option Shuffling : Yes Is Question Mandatory : No Option

Orientation : Vertical

Correct Marks : 1 Wrong Marks : 0.25

निम्नलिखित में से किस गैर-सहयोगी अल्पाधिकार मॉडल में, एक फर्म नेता के रूप में और दूसरी अनुयायी के रूप में कार्य करती है?

Options :

1. ✘ निश्चल कीमत मॉडल
2. ✘ बट्टेड मॉडल
3. ✔ स्टैकेलबर्ग मॉडल
4. ✘ कुर्नोट मॉडल

Question Number : 271 Question Id : 54062614760 Question Type : MCQ Option Shuffling : Yes Is Question Mandatory : No Option

Orientation : Vertical

Correct Marks : 1 Wrong Marks : 0.25

Which of the following ways can be adopted by the monopolist to create entry barrier so that rivals cannot enter the industry, in the long run?

Options :

1. ✔ Product patent or process patent
2. ✘ Charging high prices
3. ✘ Maximising use of raw material
4. ✘ Sharing exclusive rights to few products

Question Number : 271 Question Id : 54062614760 Question Type : MCQ Option Shuffling : Yes Is Question Mandatory : No Option

Orientation : Vertical

Correct Marks : 1 Wrong Marks : 0.25

एकाधिकारी द्वारा प्रवेश बाधा उत्पन्न करने के लिए निम्नलिखित में से कौन सा तरीका अपनाया जा सकता है ताकि लंबे समय में प्रतिद्वंद्वी उद्योग में प्रवेश न कर सकें?

Options :

1. ✔ उत्पाद पेटेंट या प्रक्रिया पेटेंट
2. ✘ ऊंची कीमत वसूलना
3. ✘ कच्चे माल का अधिकतम उपयोग
4. ✘ कुछ उत्पादों पर विशेष अधिकार साझा करना

Question Number : 272 Question Id : 54062614761 Question Type : MCQ Option Shuffling : Yes Is Question Mandatory : No Option

Orientation : Vertical

Correct Marks : 1 Wrong Marks : 0.25

Which of the following statement is correct regarding bilateral monopoly?

- I. The market structure where there is a single seller and a single buyer for a product.
- II. With bilateral monopoly the market price and output are indeterminate.
- III. The price and quantity of the product is decided by negotiation.

Options :

- 1. ✘ I and III
- 2. ✘ Only II
- 3. ✘ I and II
- 4. ✔ I, II and III

Question Number : 272 Question Id : 54062614761 Question Type : MCQ Option Shuffling : Yes Is Question Mandatory : No Option Orientation : Vertical

Correct Marks : 1 Wrong Marks : 0.25

द्विपक्षीय एकाधिकार के संदर्भ में निम्नलिखित में से कौन सा कथन सही है?

- I. बाजार संरचना जहां एक उत्पाद के लिए एक विक्रेता और एक खरीदार होता है।
- II. द्विपक्षीय एकाधिकार के साथ बाजार मूल्य और उत्पादन अनिश्चित हैं।
- III. उत्पाद की कीमत और मात्रा मोल भाव से तय होती है।

Options :

- 1. ✘ I तथा III
- 2. ✘ केवल II
- 3. ✘ I तथा II
- 4. ✔ I, II तथा III

Question Number : 273 Question Id : 54062614762 Question Type : MCQ Option Shuffling : Yes Is Question Mandatory : No Option Orientation : Vertical

Correct Marks : 1 Wrong Marks : 0.25

According to Bertrand model of duopoly, if a firm B sets its price as P_B and firm A sets its price as P_A and C represents the marginal cost of each firm, then under which condition firm A will be losing the market to firm B?

Options :

1. ✓ When P_A is greater than P_B and both are greater than C .
2. ✗ When P_A is smaller than P_B and both are greater than C .
3. ✗ When P_A is greater than P_B and both are smaller than C .
4. ✗ When P_A is equal to P_B and both are smaller than C .

Question Number : 273 Question Id : 54062614762 Question Type : MCQ Option Shuffling : Yes Is Question Mandatory : No Option Orientation : Vertical

Correct Marks : 1 Wrong Marks : 0.25

द्वि-अधिकार के बर्ट्रेड मॉडल के अनुसार, यदि एक फर्म B अपनी कीमत P_B के रूप में निर्धारित करती है और फर्म A अपनी कीमत P_A के रूप में निर्धारित करती है और C प्रत्येक फर्म की सीमांत लागत का प्रतिनिधित्व करता है, तो किस स्थिति में फर्म A फर्म B को बाजार खो देगी?

Options :

1. ✓ जब P_A, P_B से बड़ा हो और दोनों C से बड़े हों।
2. ✗ जब P_A, P_B से छोटा है और दोनों C से बड़े हैं।
3. ✗ जब P_A, P_B से बड़ा हो और दोनों C से छोटे हों।
4. ✗ जब P_A, P_B के बराबर हो और दोनों C से छोटे हों।

Question Number : 274 Question Id : 54062614763 Question Type : MCQ Option Shuffling : Yes Is Question Mandatory : No Option Orientation : Vertical

Correct Marks : 1 Wrong Marks : 0.25

Given below are two statements, one labelled as Assertion (A) and the other labelled as Reason (R).

Assertion (A): The long-run equilibrium for the perfectly competitive firm occurs at the minimum point of LAC.

Reason (R): In perfect competition, any new firm is free to set up production in the market if it wishes to, and any existing firm can leave the industry.

In the context of the above two statements, which of the following is correct?

Options :

1. ✗ (A) is correct, but (R) is incorrect.
2. ✗ (A) is incorrect, but (R) is correct.
3. ✓ Both (A) and (R) are correct and (R) explains (A).
4. ✗ Both (A) and (R) are incorrect.

Question Number : 274 Question Id : 54062614763 Question Type : MCQ Option Shuffling : Yes Is Question Mandatory : No Option Orientation : Vertical

Correct Marks : 1 Wrong Marks : 0.25

नीचे दो कथन दिए गए हैं। एक को अभिकथन (A) और दूसरे को कारण (R) के रूप में लेबल किया गया है।

अभिकथन (A): पूर्ण प्रतिस्पर्धी फर्म के लिए दीर्घकालीन संतुलन एल. ए. सी. के न्यूनतम बिंदु पर होता है।

कारण (R): पूर्ण प्रतिस्पर्धी में, कोई भी नई फर्म यदि चाहे तो बाजार में उत्पादन स्थापित करने के लिए स्वतंत्र है और कोई भी मौजूदा फर्म उद्योग छोड़ सकती है।

उपरोक्त दो कथनों के संदर्भ में, निम्नलिखित में से कौन सा विकल्प सही है?

Options :

1. ✘ (A) सही है, लेकिन (R) गलत है।
2. ✘ (A) गलत है, लेकिन (R) सही है।
3. ✔ दोनों (A) तथा (R) सही हैं और (R), (A) की व्याख्या करता है।
4. ✘ (A) और (R) दोनों गलत हैं।

Question Number : 275 Question Id : 54062614764 Question Type : MCQ Option Shuffling : Yes Is Question Mandatory : No Option Orientation : Vertical

Correct Marks : 1 Wrong Marks : 0.25

According to Musgrave, the total social benefit is maximum, where the net social benefit is _____.

Options :

1. ✘ One
2. ✔ Zero
3. ✘ Maximum
4. ✘ Minimum

Question Number : 275 Question Id : 54062614764 Question Type : MCQ Option Shuffling : Yes Is Question Mandatory : No Option Orientation : Vertical

Correct Marks : 1 Wrong Marks : 0.25

मुसग्रेव के अनुसार, कुल सामाजिक लाभ अधिकतम है, जहां शुद्ध सामाजिक लाभ _____ है।

Options :

1. ✖ एक
2. ✔ शून्य
3. ✖ अधिकतम
4. ✖ न्यूनतम

Question Number : 276 Question Id : 54062614765 Question Type : MCQ Option Shuffling : Yes Is Question Mandatory : No Option Orientation : Vertical

Correct Marks : 1 Wrong Marks : 0.25

Which of the following is correct regarding the voluntary exchange theory?

- I. Resources should be allocated to the public sector in a manner analogous to that of the market and its pricing system.
- II. Every individual should get the public good for free.

Options :

1. ✔ Only I
2. ✖ Only II
3. ✖ Both I and II
4. ✖ Neither I nor II

Question Number : 276 Question Id : 54062614765 Question Type : MCQ Option Shuffling : Yes Is Question Mandatory : No Option Orientation : Vertical

Correct Marks : 1 Wrong Marks : 0.25

स्वैच्छिक विनिमय के संदर्भ में निम्नलिखित में से कौन सा सही है?

- I. सार्वजनिक क्षेत्र को संसाधनों का आवंटन बाजार और इसकी मूल्य निर्धारण प्रणाली के अनुरूप करना चाहिए।
- II. प्रत्येक व्यक्ति को मुफ्त में सार्वजनिक वस्तुएं मिलनी चाहिए।

Options :

1. ✔ केवल I
2. ✖ केवल II
3. ✖ I तथा II दोनों
4. ✖ ना ही I ना ही II

Question Number : 277 Question Id : 54062614766 Question Type : MCQ Option Shuffling : Yes Is Question Mandatory : No Option

Orientation : Vertical

Correct Marks : 1 Wrong Marks : 0.25

Which of the following statements is correct?

- I. According to the unanimity rule, only those public goods on which there is complete agreement should be produced.
- II. A voter externality cost, refers to the cost incurred by a voter who has voted against a fiscal choice which has been approved.

Options :

- 1. ✖ Only I
- 2. ✖ Only II
- 3. ✔ Both I and II
- 4. ✖ Neither I nor II

Question Number : 277 Question Id : 54062614766 Question Type : MCQ Option Shuffling : Yes Is Question Mandatory : No Option

Orientation : Vertical

Correct Marks : 1 Wrong Marks : 0.25

निम्नलिखित में से कौन सा कथन सही है?

- I. सर्वसम्मति के नियम के अनुसार, केवल वे सार्वजनिक सामान, जिन पर पूर्ण सहमति है, का उत्पादन किया जाना चाहिए।
- II. एक मतदाता बाह्य कारण लागत, एक मतदाता द्वारा खर्च की गई लागत को संदर्भित करता है जिसने एक वित्तीय विकल्प के खिलाफ मतदान किया है जिसे अनुमोदित किया गया है।

Options :

- 1. ✖ केवल I
- 2. ✖ केवल II
- 3. ✔ I तथा II दोनों
- 4. ✖ ना ही I ना ही II

Question Number : 278 Question Id : 54062614767 Question Type : MCQ Option Shuffling : Yes Is Question Mandatory : No Option

Orientation : Vertical

Correct Marks : 1 Wrong Marks : 0.25

Direct and Indirect taxes may be compared with each other in respect of _____.

- I. Allocation of resources
- II. Distributional effects

Options :

1. ✖ Only I
2. ✖ Only II
3. ✔ Both I and II
4. ✖ Neither I nor II

Question Number : 278 Question Id : 54062614767 Question Type : MCQ Option Shuffling : Yes Is Question Mandatory : No Option Orientation : Vertical

Correct Marks : 1 Wrong Marks : 0.25

_____ के संबंध में प्रत्यक्ष और अप्रत्यक्ष करों की एक दूसरे के साथ तुलना की जा सकती है।

- I. संसाधनों का आवंटन
- II. वितरण प्रभाव

Options :

1. ✖ केवल I
2. ✖ केवल II
3. ✔ I तथा II दोनों
4. ✖ ना ही I ना ही II

Question Number : 279 Question Id : 54062614768 Question Type : MCQ Option Shuffling : Yes Is Question Mandatory : No Option Orientation : Vertical

Correct Marks : 1 Wrong Marks : 0.25

Which of the following is a principle of public debt management?

- I. The cost of servicing public debt should be the minimum.
- II. If the debt is redeemed by issuing new currency, it may create inflation.

Options :

1. ✖ Only I
2. ✖ Only II
3. ✔ Both I and II
4. ✖ Neither I nor II

Question Number : 279 Question Id : 54062614768 Question Type : MCQ Option Shuffling : Yes Is Question Mandatory : No Option

Orientation : Vertical

Correct Marks : 1 Wrong Marks : 0.25

निम्नलिखित में से कौन सा सार्वजनिक ऋण प्रबंधन का एक सिद्धांत है?

- I. सार्वजनिक ऋण चुकाने की लागत न्यूनतम होनी चाहिए।
- II. यदि ऋण को नई मुद्रा जारी करके भुगतान करा जाता है, तो यह मुद्रास्फीति पैदा कर सकता है।

Options :

1. ✘ केवल I
2. ✘ केवल II
3. ✔ I तथा II दोनों
4. ✘ ना ही I ना ही II

Question Number : 280 Question Id : 54062614769 Question Type : MCQ Option Shuffling : Yes Is Question Mandatory : No Option

Orientation : Vertical

Correct Marks : 1 Wrong Marks : 0.25

Which of the following tax is levied by a municipal corporation?

- I. Property tax
- II. Octroi and terminal tax

Options :

1. ✘ Only I
2. ✘ Only II
3. ✔ Both I and II
4. ✘ Neither I nor II

Question Number : 280 Question Id : 54062614769 Question Type : MCQ Option Shuffling : Yes Is Question Mandatory : No Option

Orientation : Vertical

Correct Marks : 1 Wrong Marks : 0.25

निम्नलिखित में से कौन सा कर नगर निगम द्वारा लगाया जाता है?

- I. संपत्ति कर
- II. चुंगी और टर्मिनल कर

Options :

1. ✘ केवल I
2. ✘ केवल II
3. ✔ I तथा II दोनों
4. ✘ ना ही I ना ही II

Teaching Methodology

Group Number :	15
Group Id :	540626503
Group Maximum Duration :	0
Group Minimum Duration :	180
Show Attended Group? :	No
Edit Attended Group? :	No
Break time :	0
Group Marks :	20
Is this Group for Examiner? :	No

Teaching Methodology

Section Id :	540626677
Section Number :	1
Section type :	Online
Mandatory or Optional :	Mandatory
Number of Questions :	20
Number of Questions to be attempted :	20
Section Marks :	20
Enable Mark as Answered Mark for Review and Clear Response :	Yes
Sub-Section Number :	1
Sub-Section Id :	540626813
Question Shuffling Allowed :	Yes

Question Number : 281 Question Id : 54062614770 Question Type : MCQ Option Shuffling : Yes Is Question Mandatory : No Option

Orientation : Vertical

Correct Marks : 1 Wrong Marks : 0.25

Which of the following dominant approach(es) is/are followed by the theories and practices of teaching – learning processes?

I. Behaviour Modification

II. Problem Solving

Options :

1. ✘ Only I
2. ✘ Only II
3. ✔ Both I and II
4. ✘ Neither I nor II

Question Number : 281 Question Id : 54062614770 Question Type : MCQ Option Shuffling : Yes Is Question Mandatory : No Option

Orientation : Vertical

Correct Marks : 1 Wrong Marks : 0.25

शिक्षण-अधिगम प्रक्रियाओं के सिद्धांतों तथा अभ्यासों द्वारा निम्नलिखित में से कौन-से प्रमुख उपागम (उपागमों) का पालन किया जाता है/हैं?

I. व्यवहार का रूपांतरण

II. समस्या समाधान

Options :

1. ✘ केवल I
2. ✘ केवल II
3. ✔ I तथा II दोनों
4. ✘ ना ही I ना ही II

Question Number : 282 Question Id : 54062614771 Question Type : MCQ Option Shuffling : Yes Is Question Mandatory : No Option

Orientation : Vertical

Correct Marks : 1 Wrong Marks : 0.25

Learning of which of the following helps the child to perform different activities in their real life?

I. Mathematics

II. Science

III. Social Science

Options :

1. ✘ II and III
2. ✘ I and II
3. ✘ I and III
4. ✔ I, II and III

Question Number : 282 Question Id : 54062614771 Question Type : MCQ Option Shuffling : Yes Is Question Mandatory : No Option Orientation : Vertical

Correct Marks : 1 Wrong Marks : 0.25

निम्नलिखित में से किसका अधिगम बच्चों को अपने वास्तविक जीवन में विभिन्न गतिविधियों करने में मदद करता है?

- I. गणित
- II. विज्ञान
- III. सामाजिक विज्ञान

Options :

1. ✘ II तथा III
2. ✘ I तथा II
3. ✘ I तथा III
4. ✔ I, II तथा III

Question Number : 283 Question Id : 54062614772 Question Type : MCQ Option Shuffling : Yes Is Question Mandatory : No Option Orientation : Vertical

Correct Marks : 1 Wrong Marks : 0.25

Which of the following is not correct about Inclusive Education?

Options :

1. ✘ It is all about effective learning by all the children
2. ✘ It is based on social model of equality of opportunity
3. ✘ It is about mounting the confidence among the children
4. ✔ It is about building external strength

Question Number : 283 Question Id : 54062614772 Question Type : MCQ Option Shuffling : Yes Is Question Mandatory : No Option Orientation : Vertical

Correct Marks : 1 Wrong Marks : 0.25

समावेशी शिक्षा के बारे में निम्नलिखित में से कौन सा सही नहीं है?

Options :

1. ✘ यह सभी बच्चों द्वारा प्रभावी अधिगम के बारे में है
2. ✘ यह अवसर की समानता के सामाजिक मॉडल पर आधारित है
3. ✘ यह बच्चों में आत्मविश्वास बढ़ाने के बारे में है
4. ✔ यह बाहरी शक्ति के निर्माण के बारे में है

Question Number : 284 Question Id : 54062614773 Question Type : MCQ Option Shuffling : Yes Is Question Mandatory : No Option Orientation : Vertical

Correct Marks : 1 Wrong Marks : 0.25

If variety of materials are used, then any child would fully participate in the learning process. To satisfy the above statement which of the following material(s) a teacher can use to support learning?

- I. Visual materials in the form of pictures or photographs.
- II. Tactual materials in the form of real objects. For example, using a real mango to explain its qualities.

Options :

1. ✘ Only I
2. ✘ Only II
3. ✔ Both I and II
4. ✘ Neither I nor II

Question Number : 284 Question Id : 54062614773 Question Type : MCQ Option Shuffling : Yes Is Question Mandatory : No Option Orientation : Vertical

Correct Marks : 1 Wrong Marks : 0.25

यदि विभिन्न प्रकार की सामग्रियों का उपयोग किया जाता है, तो कोई भी बच्चा अधिगम प्रक्रिया में पूरी तरह से भाग लेगा। उपरोक्त कथन को संतुष्ट करने के लिए एक शिक्षक निम्नलिखित में से किस सामग्री (सामग्रियों) का उपयोग करके अधिगम का समर्थन कर सकता है?

- I. चित्रों या फोटोग्राफ के रूप में दृश्य सामग्री।
- II. वास्तविक वस्तुओं के रूप में स्पर्शसंबन्धी सामग्री। उदाहरण के लिए, एक असली आम का उपयोग उसके गुणों को समझाने के लिए करना।

Options :

1. ✘ केवल I
2. ✘ केवल II
3. ✔ I तथा II दोनों

4. ✖ ना ही I ना ही II

Question Number : 285 Question Id : 54062614774 Question Type : MCQ Option Shuffling : Yes Is Question Mandatory : No Option Orientation : Vertical

Correct Marks : 1 Wrong Marks : 0.25

How can a school modify the physical environment for the students?

- I. The student who has difficulty seeing in bright light should be seated in a place where direct light is not falling on the face.
- II. A student getting distracted easily must be given a place away from the corridor, window or door.

Options :

- 1. ✖ Only I
- 2. ✖ Only II
- 3. ✔ Both I and II
- 4. ✖ Neither I nor II

Question Number : 285 Question Id : 54062614774 Question Type : MCQ Option Shuffling : Yes Is Question Mandatory : No Option Orientation : Vertical

Correct Marks : 1 Wrong Marks : 0.25

एक विद्यालय छात्रों के लिए भौतिक वातावरण को कैसे रूपांतरित कर सकता है?

- I. जिस छात्र को तेज रोशनी में देखने में परेशानी होती है, उसे ऐसी जगह बैठाना चाहिए, जहां सीधी रोशनी चेहरे पर न पड़े।
- II. आसानी से विचलित होने वाले छात्र को गलियारे, खिड़की या दरवाजे से दूर जगह देनी चाहिए।

Options :

- 1. ✖ केवल I
- 2. ✖ केवल II
- 3. ✔ I तथा II दोनों
- 4. ✖ ना ही I ना ही II

Question Number : 286 Question Id : 54062614775 Question Type : MCQ Option Shuffling : Yes Is Question Mandatory : No Option Orientation : Vertical

Correct Marks : 1 Wrong Marks : 0.25

Which of the following is/are the fundamental principle(s) of the visual art?

- I. Perspective
- II. Balance
- III. Harmony
- IV. Rhythm

Options :

- 1. ✘ I, III and IV
- 2. ✘ I, II and IV
- 3. ✘ I, II and III
- 4. ✔ I, II, III and IV

Question Number : 286 Question Id : 54062614775 Question Type : MCQ Option Shuffling : Yes Is Question Mandatory : No Option Orientation : Vertical

Correct Marks : 1 Wrong Marks : 0.25

निम्नलिखित में से कौन से दृश्य कला के मौलिक सिद्धांत हैं?

- I. परिदृश्य
- II. संतुलन
- III. सामंजस्य
- IV. लय

Options :

- 1. ✘ I, III तथा IV
- 2. ✘ I, II तथा IV
- 3. ✘ I, II तथा III
- 4. ✔ I, II, III तथा IV

Question Number : 287 Question Id : 54062614776 Question Type : MCQ Option Shuffling : Yes Is Question Mandatory : No Option Orientation : Vertical

Correct Marks : 1 Wrong Marks : 0.25

By using different art materials as a means of expression, children should be encouraged to develop a sense of proportion, depth, light, shade and tactile feeling. Which of the following is/are those art material(s)?

- I. Pencil
- II. Colour
- III. Adhesive

Options :

1. ✘ I and III
2. ✘ II and III
3. ✔ I, II and III
4. ✘ Only II

Question Number : 287 Question Id : 54062614776 Question Type : MCQ Option Shuffling : Yes Is Question Mandatory : No Option Orientation : Vertical

Correct Marks : 1 Wrong Marks : 0.25

अभिव्यक्ति के साधन के रूप में विभिन्न कला सामग्रियों का उपयोग करके, बच्चों को अनुपात, गहराई, प्रकाश, छाया तथा स्पर्शसम्बन्धी भावना विकसित करने के लिए प्रोत्साहित किया जाना चाहिए। निम्नलिखित में से कौन-सी वह कला सामग्री/सामग्रियां है/हैं?

- I. पेंसिल
- II. रंग
- III. गोंद

Options :

1. ✘ I तथा III
2. ✘ II तथा III
3. ✔ I, II तथा III
4. ✘ केवल II

Question Number : 288 Question Id : 54062614777 Question Type : MCQ Option Shuffling : Yes Is Question Mandatory : No Option Orientation : Vertical

Correct Marks : 1 Wrong Marks : 0.25

Education should be _____ and _____.

Options :

1. ✘ continuous; restricted
2. ✔ continuous; comprehensive
3. ✘ comprehensive; discontinuous
4. ✘ discontinuous; restricted

Question Number : 288 Question Id : 54062614777 Question Type : MCQ Option Shuffling : Yes Is Question Mandatory : No Option

Orientation : Vertical

Correct Marks : 1 Wrong Marks : 0.25

शिक्षा _____ तथा _____ होनी चाहिए।

Options :

1. ✘ सतत; प्रतिबंधित
2. ✔ सतत; समग्र
3. ✘ समग्र; असतत
4. ✘ असतत; प्रतिबंधित

Question Number : 289 Question Id : 54062614778 Question Type : MCQ Option Shuffling : Yes Is Question Mandatory : No Option

Orientation : Vertical

Correct Marks : 1 Wrong Marks : 0.25

Which of the following statement(s) is/are not correct about Reading?

- I. Reading is to be able to understand the text, follow its logic and its premises.
- II. Reading is to be absorb meaning from the written information or symbols.

Options :

1. ✘ Only I
2. ✘ Only II
3. ✘ Both I and II
4. ✔ Neither I nor II

Question Number : 289 Question Id : 54062614778 Question Type : MCQ Option Shuffling : Yes Is Question Mandatory : No Option

Orientation : Vertical

Correct Marks : 1 Wrong Marks : 0.25

निम्नलिखित में से कौन सा/से कथन पठन के बारे में सही नहीं है/हैं?

- I. पठन पाठ को समझने में सक्षम होना है, उसके तर्क तथा उसके परिसर का पालन करना है।
- II. पठन लिखित सूचना या प्रतीकों से अर्थ ग्रहण करना है।

Options :

1. ✘ केवल I
2. ✘ केवल II

3. ✘ I तथा II दोनों
4. ✔ ना ही I ना ही II

Question Number : 290 Question Id : 54062614779 Question Type : MCQ Option Shuffling : Yes Is Question Mandatory : No Option Orientation : Vertical

Correct Marks : 1 Wrong Marks : 0.25

Which of the following is/are the major language abilities that a teacher may asses of the students?

- I. Listening and speaking
- II. Reading with comprehension
- III. Writing
- IV. Expression

Options :

1. ✘ II, III and IV
2. ✘ I and III
3. ✘ II and IV
4. ✔ I, II, III and IV

Question Number : 290 Question Id : 54062614779 Question Type : MCQ Option Shuffling : Yes Is Question Mandatory : No Option Orientation : Vertical

Correct Marks : 1 Wrong Marks : 0.25

छात्रों का/के निम्नलिखित में से कौन सा/से प्रमुख भाषा कौशल का एक शिक्षक आकलन कर सकता है?

- I. सुनना तथा बोलना
- II. पढ़कर समझना
- III. लिखना
- IV. अभिव्यक्ति

Options :

1. ✘ II, III तथा IV
2. ✘ I तथा III
3. ✘ II तथा IV
4. ✔ I, II, III तथा IV

Question Number : 291 Question Id : 54062614780 Question Type : MCQ Option Shuffling : Yes Is Question Mandatory : No Option Orientation : Vertical

Correct Marks : 1 Wrong Marks : 0.25

The defining feature(s) of inclusion that can be used to identify high quality early childhood programs and services is/are _____.

- I. Access
- II. Participation
- III. Supports

Options :

- 1. ✘ Only I
- 2. ✘ Only II
- 3. ✘ Only III
- 4. ✔ I, II and III

Question Number : 291 Question Id : 54062614780 Question Type : MCQ Option Shuffling : Yes Is Question Mandatory : No Option Orientation : Vertical

Correct Marks : 1 Wrong Marks : 0.25

समावेश के परिभाषित अभिलक्षण जिसका उपयोग उच्च गुणवत्ता वाले बचपन के कार्यक्रमों तथा सेवाओं की पहचान के लिए किया जा सकता है, _____ है/हैं।

- I. अभिगम
- II. सहभागिता
- III. समर्थन

Options :

- 1. ✘ केवल I
- 2. ✘ केवल II
- 3. ✘ केवल III
- 4. ✔ I, II तथा III

Question Number : 292 Question Id : 54062614781 Question Type : MCQ Option Shuffling : Yes Is Question Mandatory : No Option Orientation : Vertical

Correct Marks : 1 Wrong Marks : 0.25

Which of the following is/are the broad objective(s) of early childhood care and education programme?

- I. Imbibe good nutrition routines, health habits, hygiene practices and self help skills.
II. Enable children for effective communication and foster both receptive and expressive language.

Options :

1. ✖ Only I
2. ✖ Only II
3. ✔ Both I and II
4. ✖ Neither I nor II

Question Number : 292 Question Id : 54062614781 Question Type : MCQ Option Shuffling : Yes Is Question Mandatory : No Option Orientation : Vertical

Correct Marks : 1 Wrong Marks : 0.25

निम्नलिखित में से कौन-सा/से बाल्यावस्था पूर्व देखभाल तथा शिक्षा कार्यक्रम का/के व्यापक उद्देश्य है/हैं?

- I. अच्छी पोषण दिनचर्या, स्वास्थ्य संबंधी आदतें, स्वच्छता अभ्यास तथा स्वयं सहायता कौशल को आत्मसात करें।
- II. प्रभावी संचार के लिए बच्चों को सक्षम करें तथा ग्रहणशील एवं अभिव्यंजक भाषा दोनों को बढ़ावा दें।

Options :

1. ✖ केवल I
2. ✖ केवल II
3. ✔ I तथा II दोनों
4. ✖ ना ही I ना ही II

Question Number : 293 Question Id : 54062614782 Question Type : MCQ Option Shuffling : Yes Is Question Mandatory : No Option Orientation : Vertical

Correct Marks : 1 Wrong Marks : 0.25

Which of the following statement(s) shows the relation of mathematics with science?

- I. Trigonometry helps in finding the height of a mountain.
- II. With the increase in air pressure, the boiling point of water also increases.

Options :

1. ✖ Only I
2. ✔ Only II
3. ✖ Both I and II
4. ✖ Neither I nor II

Question Number : 293 Question Id : 54062614782 Question Type : MCQ Option Shuffling : Yes Is Question Mandatory : No Option Orientation : Vertical

Correct Marks : 1 Wrong Marks : 0.25

निम्नलिखित में से कौन सा/से कथन विज्ञान के साथ गणित के संबंध को दर्शाता/दर्शाती है/हैं?

- I. त्रिकोणमिति किसी पर्वत की ऊँचाई ज्ञात करने में मदद करती है।
- II. वायुदाब बढ़ने से पानी का क्वथनांक भी बढ़ जाता है।

Options :

1. ✘ केवल I
2. ✔ केवल II
3. ✘ I तथा II दोनों
4. ✘ ना ही I ना ही II

Question Number : 294 Question Id : 54062614783 Question Type : MCQ Option Shuffling : Yes Is Question Mandatory : No Option Orientation : Vertical

Correct Marks : 1 Wrong Marks : 0.25

The problem solving ability of the learner is dependent on the acquisition of _____ knowledge.

Options :

1. ✘ social
2. ✘ cultural
3. ✘ historical
4. ✔ mathematical

Question Number : 294 Question Id : 54062614783 Question Type : MCQ Option Shuffling : Yes Is Question Mandatory : No Option Orientation : Vertical

Correct Marks : 1 Wrong Marks : 0.25

शिक्षार्थी का समस्या समाधान कौशल _____ ज्ञान के अधिग्रहण पर निर्भर होता है।

Options :

1. ✘ सामाजिक
2. ✘ सांस्कृतिक
3. ✘ ऐतिहासिक

4. ✓ गणितीय

Question Number : 295 Question Id : 54062614784 Question Type : MCQ Option Shuffling : Yes Is Question Mandatory : No Option Orientation : Vertical

Correct Marks : 1 Wrong Marks : 0.25

When children start learning English, by which of the following ways a teacher can present a new language orally to the children?

I. Through the children

II. Using a mascot

III. Puppets

Options :

1. ✘ Only I

2. ✘ II and III

3. ✘ Only II

4. ✓ I, II and III

Question Number : 295 Question Id : 54062614784 Question Type : MCQ Option Shuffling : Yes Is Question Mandatory : No Option Orientation : Vertical

Correct Marks : 1 Wrong Marks : 0.25

जब बच्चे अंग्रेजी सीखना शुरू करते हैं, तो शिक्षक निम्नलिखित में से किस तरीके से बच्चों को मौखिक रूप से एक नई भाषा प्रस्तुत कर सकता है?

I. बच्चों के माध्यम से

II. शुभंकर का उपयोग करके

III. कठपुतलियां

Options :

1. ✘ केवल I

2. ✘ II तथा III

3. ✘ केवल II

4. ✓ I, II तथा III

Question Number : 296 Question Id : 54062614785 Question Type : MCQ Option Shuffling : Yes Is Question Mandatory : No Option Orientation : Vertical

Correct Marks : 1 Wrong Marks : 0.25

Which of the following is/are the similarity(es) between social sciences and social studies?

- I. Both are studied through pragmatic approach.
- II. Both seeks social utility.

Options :

- 1. ✘ Only I
- 2. ✘ Only II
- 3. ✘ Both I and II
- 4. ✔ Neither I nor II

Question Number : 296 Question Id : 54062614785 Question Type : MCQ Option Shuffling : Yes Is Question Mandatory : No Option Orientation : Vertical

Correct Marks : 1 Wrong Marks : 0.25

निम्नलिखित में से कौन सी सामाजिक विज्ञान तथा सामाजिक अध्ययन के बीच समानता/समानताएँ है/हैं?

- I. दोनों का अध्ययन प्रगतिवादी उपागम द्वारा किया जाता है।
- II. दोनों सामाजिक उपयोगिताओं की खोज करते है।

Options :

- 1. ✘ केवल I
- 2. ✘ केवल II
- 3. ✘ I तथा II दोनों
- 4. ✔ ना ही I ना ही II

Question Number : 297 Question Id : 54062614786 Question Type : MCQ Option Shuffling : Yes Is Question Mandatory : No Option Orientation : Vertical

Correct Marks : 1 Wrong Marks : 0.25

Which of the following subject(s) comes under the semi social sciences branch of social sciences?

- I. Philosophy
- II. Psychology
- III. Ethics

Options :

- 1. ✘ I and III

2. ✘ Only II
3. ✘ Only III
4. ✔ I, II and III

Question Number : 297 Question Id : 54062614786 Question Type : MCQ Option Shuffling : Yes Is Question Mandatory : No Option Orientation : Vertical

Correct Marks : 1 Wrong Marks : 0.25

निम्नलिखित में से कौन सा/से विषय सामाजिक विज्ञान की अर्ध सामाजिक विज्ञान शाखा के अंतर्गत आता/आते है/हैं?

- I. दर्शन शास्त्र
- II. मनोविज्ञान
- III. नैतिक

Options :

1. ✘ I तथा III
2. ✘ केवल II
3. ✘ केवल III
4. ✔ I, II तथा III

Question Number : 298 Question Id : 54062614787 Question Type : MCQ Option Shuffling : Yes Is Question Mandatory : No Option Orientation : Vertical

Correct Marks : 1 Wrong Marks : 0.25

Which of the following is the advantages of Expository approach of teaching?

Options :

1. ✘ Rote memorization is encouraged
2. ✘ Students depend on teacher all the time
3. ✘ There is no scope for the creativity of the students
4. ✔ Gestaltic view of the subject is presented to the students resulting into meaningful verbal learning

Question Number : 298 Question Id : 54062614787 Question Type : MCQ Option Shuffling : Yes Is Question Mandatory : No Option Orientation : Vertical

Correct Marks : 1 Wrong Marks : 0.25

निम्नलिखित में से कौन सा शिक्षण के वर्णात्मक उपागम का लाभ है?

Options :

1. ✘ रटने की आदत को बढ़ावा मिलता है
2. ✘ छात्र हर समय शिक्षक पर निर्भर रहते हैं
3. ✘ छात्रों की सृजनात्मकता को अवसर नहीं मिलता है
4. ✔ विषय का गेस्टाल्टिक व्यू छात्रों के सामने प्रस्तुत किया जाता है जिसके परिणामस्वरूप सार्थक मौखिक अधिगम होता है।

Question Number : 299 Question Id : 54062614788 Question Type : MCQ Option Shuffling : Yes Is Question Mandatory : No Option Orientation : Vertical

Correct Marks : 1 Wrong Marks : 0.25

Which of the following statement(s) is/are not correct about environment studies?

- I. It helps children develop a holistic understanding of their environment including socio-cultural environment.
- II. It helps children in maintaining a multidisciplinary perspective to understanding of our environmental issues.

Options :

1. ✘ Only I
2. ✘ Only II
3. ✘ Both I and II
4. ✔ Neither I nor II

Question Number : 299 Question Id : 54062614788 Question Type : MCQ Option Shuffling : Yes Is Question Mandatory : No Option Orientation : Vertical

Correct Marks : 1 Wrong Marks : 0.25

पर्यावरण अध्ययन के बारे में निम्नलिखित में से कौन सा/से कथन सही नहीं है/हैं?

- I. यह बच्चों को सामाजिक-सांस्कृतिक पर्यावरण सहित अपने पर्यावरण की समग्रतात्मक समझ विकसित करने में मदद करता है।
- II. यह बच्चों को हमारे पर्यावरणीय मुद्दों को समझने के लिए एक बहु अनुशासनिक परिप्रेक्ष्य बनाए रखने में मदद करता है।

Options :

1. ✘ केवल I
2. ✘ केवल II
3. ✘ I तथा II दोनों
4. ✔ ना ही I ना ही II

Question Number : 300 Question Id : 54062614789 Question Type : MCQ Option Shuffling : Yes Is Question Mandatory : No Option Orientation : Vertical

Correct Marks : 1 Wrong Marks : 0.25

Which of the following statement(s) is/are correct?

- I. '1 + 1 = 2; 1 + 3 = 4; 1 + 5 = 6; 3 + 5 = 8... here 1, 3, 5 are odd numbers and the result of their addition i.e 2, 4, 6, 8 are even numbers'. This statement represents Inductive Method.
- II. 'While teaching about profit and loss in the class, a teacher announced the formula of profit percentage i.e {P percent = $[P/CP] \times 100$ }'. This statement represents Deductive Method.

Options :

1. ✘ Only I
2. ✘ Only II
3. ✔ Both I and II
4. ✘ Neither I nor II

Question Number : 300 Question Id : 54062614789 Question Type : MCQ Option Shuffling : Yes Is Question Mandatory : No Option Orientation : Vertical

Correct Marks : 1 Wrong Marks : 0.25

निम्नलिखित में से कौन सा/से कथन सही है/हैं?

- I. '1 + 1 = 2; 1 + 3 = 4; 1 + 5 = 6; 3 + 5 = 8... यहाँ 1, 3, 5 विषम संख्याएँ हैं तथा उनके योग का परिणाम अर्थात् 2, 4, 6, 8 सम संख्याएँ हैं। यह कथन आगमन विधि को दर्शाता है।
- II. 'कक्षा में लाभ तथा हानि के बारे में पढ़ाते समय, एक शिक्षक ने लाभ प्रतिशत के सूत्र की घोषणा की अर्थात् {P प्रतिशत = $[P/CP] \times 100$ }'. यह कथन निगमन विधि को दर्शाता है।

Options :

1. ✘ केवल I
2. ✘ केवल II
3. ✔ I तथा II दोनों
4. ✘ ना ही I ना ही II