

Education Consultant India Ltd.

Notations :

- 1.Options shown in green color and with ✓ icon are correct.
- 2.Options shown in red color and with ✗ icon are incorrect.

Question Paper Name :	Junior Assistant 1
Subject Name :	Junior Assistant
Creation Date :	2021-08-21 11:50:57
Duration :	120
Total Marks :	200
Display Marks:	Yes
Calculator :	None
Magnifying Glass Required? :	No
Ruler Required? :	No
Eraser Required? :	No
Scratch Pad Required? :	No
Rough Sketch/Notepad Required? :	No
Protractor Required? :	No
Show Watermark on Console? :	Yes
Highlighter :	No
Auto Save on Console? (SA type of questions will be always auto saved) :	No

General Ability1

Group Number :	1
Group Id :	540626744
Group Maximum Duration :	0
Group Minimum Duration :	0

Show Attended Group? :	No
Edit Attended Group? :	No
Break time :	0
Group Marks :	20
Is this Group for Examiner? :	No

General Ability1

Section Id :	540626926
Section Number :	1
Section type :	Online
Mandatory or Optional :	Mandatory
Number of Questions :	20
Number of Questions to be attempted :	20
Section Marks :	20
Enable Mark as Answered Mark for Review and Clear Response :	Yes
Sub-Section Number :	1
Sub-Section Id :	5406261119
Question Shuffling Allowed :	Yes

Question Number : 1 Question Id : 54062619434 Question Type : MCQ Option Shuffling : Yes Is Question Mandatory : No Option Orientation : Vertical

Correct Marks : 1 Wrong Marks : 0.25

Find the missing term in the following series:

IGE, HFD, GEC, _____, ECA

Options :

1. ✘ FAD
2. ✔ FDB
3. ✘ FDA
4. ✘ FBD

Question Number : 1 Question Id : 54062619434 Question Type : MCQ Option Shuffling : Yes Is Question Mandatory : No Option

Orientation : Vertical

Correct Marks : 1 Wrong Marks : 0.25

निम्नलिखित श्रृंखला में लुप्त पद ज्ञात करें:

IGE, HFD, GEC, _____, ECA

Options :

1. ✘ FAD
2. ✔ FDB
3. ✘ FDA
4. ✘ FBD

Question Number : 2 Question Id : 54062619435 Question Type : MCQ Option Shuffling : Yes Is Question Mandatory : No Option

Orientation : Vertical

Correct Marks : 1 Wrong Marks : 0.25

Find the wrong term in the following series:

HKN, FIL, DGJ, BDH, ZCF

Options :

1. ✘ FIL
2. ✘ DGJ
3. ✔ BDH
4. ✘ ZCF

Question Number : 2 Question Id : 54062619435 Question Type : MCQ Option Shuffling : Yes Is Question Mandatory : No Option

Orientation : Vertical

Correct Marks : 1 Wrong Marks : 0.25

निम्नलिखित श्रृंखला में गलत पद ज्ञात करें:

HKN, FIL, DGJ, BDH, ZCF

Options :

1. ✘ FIL
2. ✘ DGJ
3. ✔ BDH

4. ✖ ZCF

Question Number : 3 Question Id : 54062619436 Question Type : MCQ Option Shuffling : Yes Is Question Mandatory : No Option Orientation : Vertical

Correct Marks : 1 Wrong Marks : 0.25

Some letters are numbered as 1,2,3,4,5 and 6. In the options, four possible arrangements of these numbers are given. Choose the option so that the letters form a meaningful word.

D	R	H	L	U	E
1	2	3	4	5	6

Options :

1. ✔ 352146
2. ✖ 254136
3. ✖ 453216
4. ✖ 124653

Question Number : 3 Question Id : 54062619436 Question Type : MCQ Option Shuffling : Yes Is Question Mandatory : No Option Orientation : Vertical

Correct Marks : 1 Wrong Marks : 0.25

कुछ अक्षरों को 1,2,3,4,5 और 6 में क्रमांकित किया गया है। विकल्पों में, इन संख्याओं की चार संभावित व्यवस्थाएँ दी गई हैं। उस विकल्प का चयन करें जिससे अक्षर एक सार्थक शब्द बन सकें।

D	R	H	L	U	E
1	2	3	4	5	6

Options :

1. ✔ 352146
2. ✖ 254136
3. ✖ 453216
4. ✖ 124653

Question Number : 4 Question Id : 54062619437 Question Type : MCQ Option Shuffling : Yes Is Question Mandatory : No Option Orientation : Vertical

Correct Marks : 1 Wrong Marks : 0.25

Complete the following series:

G2I, L4N, Q8S, V16X, _____

Options :

1. ✘ B24D
2. ✘ Z24B
3. ✘ Y32A
4. ✔ A32C

Question Number : 4 Question Id : 54062619437 Question Type : MCQ Option Shuffling : Yes Is Question Mandatory : No Option Orientation : Vertical

Correct Marks : 1 Wrong Marks : 0.25

निम्नलिखित श्रृंखला को पूरा करें:

G2I, L4N, Q8S, V16X, _____

Options :

1. ✘ B24D
2. ✘ Z24B
3. ✘ Y32A
4. ✔ A32C

Question Number : 5 Question Id : 54062619438 Question Type : MCQ Option Shuffling : Yes Is Question Mandatory : No Option Orientation : Vertical

Correct Marks : 1 Wrong Marks : 0.25

Out of the given options, three are similar in a certain manner. However, one option is NOT like the other three. Select the option which is different from the rest.

Options :

1. ✔ Rooster
2. ✘ Mare
3. ✘ Bull
4. ✘ Tiger

Question Number : 5 Question Id : 54062619438 Question Type : MCQ Option Shuffling : Yes Is Question Mandatory : No Option Orientation : Vertical

Correct Marks : 1 Wrong Marks : 0.25

दिए गए विकल्पों में से, तीन एक निश्चित तरीके से समान हैं। हालाँकि, एक विकल्प अन्य तीन की तरह नहीं है। उस विकल्प का चयन करें जो अन्य से अलग है।

Options :

1. ✓ मुर्गा
2. ✗ घोड़ी
3. ✗ बैल
4. ✗ बाघ

Question Number : 6 Question Id : 54062619439 Question Type : MCQ Option Shuffling : Yes Is Question Mandatory : No Option Orientation : Vertical

Correct Marks : 1 Wrong Marks : 0.25

Out of the given options, three are similar in a certain manner. However, one option is NOT like the other three. Select the option which is different from the rest.

Options :

1. ✗ FM : AR
2. ✗ TK : OP
3. ✗ PJ : KO
4. ✓ WI : RM

Question Number : 6 Question Id : 54062619439 Question Type : MCQ Option Shuffling : Yes Is Question Mandatory : No Option Orientation : Vertical

Correct Marks : 1 Wrong Marks : 0.25

दिए गए विकल्पों में से, तीन एक निश्चित तरीके से समान हैं। हालाँकि, एक विकल्प अन्य तीन की तरह नहीं है। उस विकल्प का चयन करें जो अन्य से अलग है।

Options :

1. ✗ FM : AR
2. ✗ TK : OP
3. ✗ PJ : KO
4. ✓ WI : RM

Question Number : 7 Question Id : 54062619440 Question Type : MCQ Option Shuffling : Yes Is Question Mandatory : No Option Orientation : Vertical

Correct Marks : 1 Wrong Marks : 0.25

Out of the given options, three are similar in a certain manner. However, one option is NOT like the other three. Select the option which is different from the rest.

Options :

1. ✘ Door : Window
2. ✔ Shoes : Shirt
3. ✘ Pencil : Eraser
4. ✘ Question : Answer

Question Number : 7 Question Id : 54062619440 Question Type : MCQ Option Shuffling : Yes Is Question Mandatory : No Option Orientation : Vertical

Correct Marks : 1 Wrong Marks : 0.25

दिए गए विकल्पों में से, तीन एक निश्चित तरीके से समान हैं। हालाँकि, एक विकल्प अन्य तीन की तरह नहीं है। उस विकल्प का चयन करें जो अन्य से अलग है।

Options :

1. ✘ दरवाज़ा : खिड़की
2. ✔ जूते : शर्ट
3. ✘ पेंसिल : रबड़
4. ✘ प्रश्न : उत्तर

Question Number : 8 Question Id : 54062619441 Question Type : MCQ Option Shuffling : Yes Is Question Mandatory : No Option Orientation : Vertical

Correct Marks : 1 Wrong Marks : 0.25

Out of the given options, three are similar in a certain manner. However, one option is NOT like the other three. Select the option which is different from the rest.

Options :

1. ✘ SPM
2. ✘ ZWT
3. ✘ OLI
4. ✔ WTP

Question Number : 8 Question Id : 54062619441 Question Type : MCQ Option Shuffling : Yes Is Question Mandatory : No Option Orientation : Vertical

Correct Marks : 1 Wrong Marks : 0.25

दिए गए विकल्पों में से, तीन एक निश्चित तरीके से समान हैं। हालाँकि, एक विकल्प अन्य तीन की तरह नहीं है। उस विकल्प का चयन करें जो अन्य से अलग है।

Options :

1. ✘ SPM
2. ✘ ZWT
3. ✘ OLI
4. ✔ WTP

Question Number : 9 Question Id : 54062619442 Question Type : MCQ Option Shuffling : Yes Is Question Mandatory : No Option Orientation : Vertical

Correct Marks : 1 Wrong Marks : 0.25

Select the option that is related to the third term on the same basis as the second term is related to the first term.

Cricket : Ball :: Badminton : ?

Options :

1. ✘ Pitch
2. ✘ Court
3. ✔ Shuttle
4. ✘ Flick

Question Number : 9 Question Id : 54062619442 Question Type : MCQ Option Shuffling : Yes Is Question Mandatory : No Option Orientation : Vertical

Correct Marks : 1 Wrong Marks : 0.25

उस विकल्प का चयन करें जो तीसरे पद से उसी प्रकार से संबंधित है जिस प्रकार से दूसरा पद पहले पद से संबंधित है।

क्रिकेट : गेंद :: बैडमिंटन : ?

Options :

1. ✘ पिच
2. ✘ कोर्ट
3. ✔ शटल

4. ✖ फ्लिक

Question Number : 10 Question Id : 54062619443 Question Type : MCQ Option Shuffling : Yes Is Question Mandatory : No Option Orientation : Vertical

Correct Marks : 1 Wrong Marks : 0.25

Select the pair that is related on the same basis to the pair given in the question.

ZOG : BQI :: ?

Options :

1. ✔ MFW : OHY
2. ✖ NFX : PIZ
3. ✖ LEV : KDU
4. ✖ RKB : QJA

Question Number : 10 Question Id : 54062619443 Question Type : MCQ Option Shuffling : Yes Is Question Mandatory : No Option Orientation : Vertical

Correct Marks : 1 Wrong Marks : 0.25

उस जोड़ी का चयन करें जो प्रश्न में दी गई जोड़ी से समान प्रकार से संबंधित है।

ZOG : BQI :: ?

Options :

1. ✔ MFW : OHY
2. ✖ NFX : PIZ
3. ✖ LEV : KDU
4. ✖ RKB : QJA

Question Number : 11 Question Id : 54062619444 Question Type : MCQ Option Shuffling : Yes Is Question Mandatory : No Option Orientation : Vertical

Correct Marks : 1 Wrong Marks : 0.25

Select the option that is related to the third term on the same basis as the second term is related to the first term.

MSG : RNL :: UGO : ?

Options :

1. ✘ YAS
2. ✔ ZBT
3. ✘ WYQ
4. ✘ XCS

Question Number : 11 Question Id : 54062619444 Question Type : MCQ Option Shuffling : Yes Is Question Mandatory : No Option Orientation : Vertical

Correct Marks : 1 Wrong Marks : 0.25

उस विकल्प का चयन करें जो तीसरे पद से उसी प्रकार से संबंधित है जिस प्रकार से दूसरा पद पहले पद से संबंधित है।

MSG : RNL :: UGO : ?

Options :

1. ✘ YAS
2. ✔ ZBT
3. ✘ WYQ
4. ✘ XCS

Question Number : 12 Question Id : 54062619445 Question Type : MCQ Option Shuffling : Yes Is Question Mandatory : No Option Orientation : Vertical

Correct Marks : 1 Wrong Marks : 0.25

Select the option that is related to the third term on the same basis as the second term is related to the first term.

Sink : Down :: Anger : ?

Options :

1. ✘ Pacify
2. ✔ Rage
3. ✘ Pleasure
4. ✘ Placate

Question Number : 12 Question Id : 54062619445 Question Type : MCQ Option Shuffling : Yes Is Question Mandatory : No Option Orientation : Vertical

Correct Marks : 1 Wrong Marks : 0.25

उस विकल्प का चयन करें जो तीसरे पद से उसी प्रकार से संबंधित है जिस प्रकार से दूसरा पद पहले पद से संबंधित है।

डूबना : नीचे :: गुस्सा : ?

Options :

1. ✘ शांत करना
2. ✔ क्रोध
3. ✘ आनंद
4. ✘ सांत्वना

Question Number : 13 Question Id : 54062619446 Question Type : MCQ Option Shuffling : Yes Is Question Mandatory : No Option Orientation : Vertical

Correct Marks : 1 Wrong Marks : 0.25

If yellow is pink, pink is orange, orange is black, black is white, white is violet, violet is blue, blue is indigo, then which among the following can be the colour of an ant?

Options :

1. ✔ White
2. ✘ Black
3. ✘ Violet
4. ✘ Blue

Question Number : 13 Question Id : 54062619446 Question Type : MCQ Option Shuffling : Yes Is Question Mandatory : No Option Orientation : Vertical

Correct Marks : 1 Wrong Marks : 0.25

यदि पीला गुलाबी है, गुलाबी नारंगी है, नारंगी काला है, काला सफ़ेद है, सफ़ेद बैंगनी है, बैंगनी नीला है, नीला इंडिगो है, तो निम्नलिखित में से कौन सा रंग चींटी का हो सकता है?

Options :

1. ✔ सफ़ेद
2. ✘ काला
3. ✘ बैंगनी
4. ✘ नीला

Question Number : 14 Question Id : 54062619447 Question Type : MCQ Option Shuffling : Yes Is Question Mandatory : No Option

Orientation : Vertical

Correct Marks : 1 Wrong Marks : 0.25

If BIRTH is coded as GDWOM, then what is the code for AWFUL?

Options :

1. ✘ GRBZF
2. ✘ GSBAH
3. ✘ FSAZH
4. ✔ FRKPQ

Question Number : 14 Question Id : 54062619447 Question Type : MCQ Option Shuffling : Yes Is Question Mandatory : No Option

Orientation : Vertical

Correct Marks : 1 Wrong Marks : 0.25

यदि BIRTH को GDWOM के रूप में कोडित किया गया है, तो AWFUL के लिए कोड क्या है?

Options :

1. ✘ GRBZF
2. ✘ GSBAH
3. ✘ FSAZH
4. ✔ FRKPQ

Question Number : 15 Question Id : 54062619448 Question Type : MCQ Option Shuffling : Yes Is Question Mandatory : No Option

Orientation : Vertical

Correct Marks : 1 Wrong Marks : 0.25

If BRAND is coded as 5-21-4-17-7, then what is the code for EMPTY?

Options :

1. ✘ 9-17-20-24-29
2. ✔ 8-16-19-23-28
3. ✘ 5-13-16-20-25
4. ✘ 6-14-17-21-26

Question Number : 15 Question Id : 54062619448 Question Type : MCQ Option Shuffling : Yes Is Question Mandatory : No Option

Orientation : Vertical

Correct Marks : 1 Wrong Marks : 0.25

यदि BRAND को 5-21-4-17-7 के रूप में कोडित किया गया है, तो EMPTY के लिए कोड क्या है?

Options :

1. ✘ 9-17-20-24-29
2. ✔ 8-16-19-23-28
3. ✘ 5-13-16-20-25
4. ✘ 6-14-17-21-26

Question Number : 16 Question Id : 54062619449 Question Type : MCQ Option Shuffling : Yes Is Question Mandatory : No Option Orientation : Vertical

Correct Marks : 1 Wrong Marks : 0.25

In a certain code language,
ma ba ca means kiwi is fruit,
za ja means fresh vegetable,
ja ba la means brinjal is vegetable,
what is the code for 'brinjal'?

Options :

1. ✘ ja
2. ✘ ba
3. ✔ la
4. ✘ ca

Question Number : 16 Question Id : 54062619449 Question Type : MCQ Option Shuffling : Yes Is Question Mandatory : No Option Orientation : Vertical

Correct Marks : 1 Wrong Marks : 0.25

एक निश्चित कोड भाषा में,
ma ba ca का अर्थ है kiwi is fruit,
za ja का अर्थ है fresh vegetable,
ja ba la का अर्थ है brinjal is vegetable,
'brinjal' के लिए कोड क्या है?

Options :

1. ✘ ja
2. ✘ ba
3. ✔ la

4. ✘ ca

Question Number : 17 Question Id : 54062619450 Question Type : MCQ Option Shuffling : Yes Is Question Mandatory : No Option Orientation : Vertical

Correct Marks : 1 Wrong Marks : 0.25

How is Gauri's brother's wife's mother-in-law's only daughter's son's father is related to her?

Options :

1. ✘ Brother
2. ✔ Husband
3. ✘ Father
4. ✘ Grandfather

Question Number : 17 Question Id : 54062619450 Question Type : MCQ Option Shuffling : Yes Is Question Mandatory : No Option Orientation : Vertical

Correct Marks : 1 Wrong Marks : 0.25

गौरी के भाई की पत्नी की सास की इकलौती बेटी के बेटे का पिता उससे कैसे संबंधित है?

Options :

1. ✘ भाई
2. ✔ पति
3. ✘ पिता
4. ✘ दादा/नाना

Question Number : 18 Question Id : 54062619451 Question Type : MCQ Option Shuffling : Yes Is Question Mandatory : No Option Orientation : Vertical

Correct Marks : 1 Wrong Marks : 0.25

In an examination, Ashmita scored more than Prachi but less than Rashi. Sakshi scored more than Prachi but less than Ashmita. Manjari scored more than Rashi. Who scored the least among all?

Options :

1. ✘ Rashi
2. ✘ Ashmita
3. ✘ Sakshi
4. ✔ Prachi

Question Number : 18 Question Id : 54062619451 Question Type : MCQ Option Shuffling : Yes Is Question Mandatory : No Option Orientation : Vertical

Correct Marks : 1 Wrong Marks : 0.25

एक परीक्षा में, अश्विनी ने प्राची से अधिक स्कोर किया लेकिन राशी से कम स्कोर किया। साक्षी ने प्राची से अधिक स्कोर किया लेकिन अश्विनी से कम स्कोर किया। मंजरी ने राशी से अधिक स्कोर किया। इन सब में सबसे कम स्कोर किसने किया?

Options :

1. ✘ राशी
2. ✘ अश्विनी
3. ✘ साक्षी
4. ✔ प्राची

Question Number : 19 Question Id : 54062619452 Question Type : MCQ Option Shuffling : Yes Is Question Mandatory : No Option Orientation : Vertical

Correct Marks : 1 Wrong Marks : 0.25

Arrange the following in a logical sequence:

1. Elephant
2. Rat
3. Cat
4. Lion
5. Sheep

Options :

1. ✘ 5, 3, 4, 1, 2
2. ✘ 1, 3, 2, 5, 4
3. ✔ 2, 3, 5, 4, 1
4. ✘ 2, 3, 4, 5, 1

Question Number : 19 Question Id : 54062619452 Question Type : MCQ Option Shuffling : Yes Is Question Mandatory : No Option Orientation : Vertical

Correct Marks : 1 Wrong Marks : 0.25

निम्नलिखित को तार्किक क्रम में व्यवस्थित करें:

1. हाथी
2. चूहा
3. बिल्ली
4. शेर
5. भेड़

Options :

1. ✘ 5, 3, 4, 1, 2
2. ✘ 1, 3, 2, 5, 4
3. ✔ 2, 3, 5, 4, 1
4. ✘ 2, 3, 4, 5, 1

Question Number : 20 Question Id : 54062619453 Question Type : MCQ Option Shuffling : Yes Is Question Mandatory : No Option Orientation : Vertical

Correct Marks : 1 Wrong Marks : 0.25

ABC Consultants are looking for candidates for the post of Sales Marketing Manager. The candidate must:

1. Be a graduate in any discipline with 75 percent marks.
2. Be an MBA in marketing.
3. Have 4 years of experience in sales and marketing.
4. Be between 30 and 40 years old as on 01/01/2020.

The following exceptions apply:

- A. If a candidate meets all other criteria except 3 above, but the candidate has 6 years of relevant experience, the candidate will be referred to the Manager.
- B. If a candidate meets all other criteria except 4, he will be referred to the Assistant Manager.

Sanjana is an economics graduate with 75 percent marks. She has done her MBA in marketing from XYZ Institute. She was born on 07/01/1988. She is working as the Sales Executive for last 12 years in TRS Company.

What decision should be taken about this candidate?

Options :

1. ✔ The candidate should be selected.
2. ✘ The candidate should be rejected.
3. ✘ The candidate should be referred to the Assistant Manager.
4. ✘ The candidate should be referred to the Manager.

Question Number : 20 Question Id : 54062619453 Question Type : MCQ Option Shuffling : Yes Is Question Mandatory : No Option Orientation : Vertical

Correct Marks : 1 Wrong Marks : 0.25

ABC कंसल्टेंट्स सेल्स मार्केटिंग प्रबंधक के पद के लिए उम्मीदवारों की खोज कर रहे हैं। उम्मीदवार को:

1. 75 प्रतिशत अंकों के साथ किसी भी विषय में स्नातक होना चाहिए।
2. मार्केटिंग में MBA होना चाहिए।
3. सेल्स और मार्केटिंग में 4 वर्ष का अनुभव होना चाहिए।
4. 01/01/2020 तक 30 से 40 वर्ष के बीच की आयु होनी चाहिए।

निम्नलिखित अपवाद लागू होते हैं:

- A. यदि उम्मीदवार उपरोक्त 3 को छोड़कर अन्य सभी मानदंडों को पूरा करता है, लेकिन उम्मीदवार को प्रासंगिक अनुभव के 6 वर्ष हैं, तो उम्मीदवार को प्रबंधक को संदर्भित किया जाएगा।
- B. यदि उम्मीदवार 4 को छोड़कर अन्य सभी मानदंडों को पूरा करता है, तो उसे सहायक प्रबंधक को संदर्भित किया जाएगा।

संजना 75 प्रतिशत अंकों के साथ एक अर्थशास्त्र स्नातक है। उसने XYZ संस्थान से मार्केटिंग में MBA किया है। उसका जन्म 07/01/1988 को हुआ था। वह TRS कंपनी में पिछले 12 वर्षों से बिक्री कार्यपालक के रूप में कार्यरत हैं।

इस उम्मीदवार के बारे में क्या निर्णय लिया जाना चाहिए?

Options :

1. ✓ उम्मीदवार का चयन किया जाना चाहिए।
2. ✗ उम्मीदवार को अस्वीकृत किया जाना चाहिए।
3. ✗ उम्मीदवार को सहायक प्रबंधक को संदर्भित किया जाना चाहिए।
4. ✗ उम्मीदवार को प्रबंधक को संदर्भित किया जाना चाहिए।

General Ability2

Group Number :	2
Group Id :	540626745
Group Maximum Duration :	0
Group Minimum Duration :	0
Show Attended Group? :	No

Edit Attended Group? :	No
Break time :	0
Group Marks :	20
Is this Group for Examiner? :	No

General Ability2

Section Id :	540626927
Section Number :	1
Section type :	Online
Mandatory or Optional :	Mandatory
Number of Questions :	20
Number of Questions to be attempted :	20
Section Marks :	20
Enable Mark as Answered Mark for Review and Clear Response :	Yes
Sub-Section Number :	1
Sub-Section Id :	5406261120
Question Shuffling Allowed :	Yes

Question Number : 21 Question Id : 54062619454 Question Type : MCQ Option Shuffling : Yes Is Question Mandatory : No Option Orientation : Vertical

Correct Marks : 1 Wrong Marks : 0.25

In the question one statement is given, followed by two conclusions, I and II. You have to consider the statements to be true even if it seems to be at variance from commonly known facts. You have to decide which of the given conclusions, if any, follows from the given statement.

Statement : Prices of fruits are increasing day by day.

Conclusion I : Fruits are a rare commodity and that is why price of fruits are rising.

Conclusion II : Demand for fruits have decreased leading to an increase in the price of fruits.

Options :

1. ✘ Only conclusion I follows
2. ✘ Only conclusion II follows
3. ✘ Both I and II conclusion follows
4. ✔ Neither I nor II conclusion follows

Question Number : 21 Question Id : 54062619454 Question Type : MCQ Option Shuffling : Yes Is Question Mandatory : No Option Orientation : Vertical

Correct Marks : 1 Wrong Marks : 0.25

प्रश्न में एक कथन दिया गया है, जिसके बाद दो निष्कर्ष I और II दिए गए हैं। आपको उन कथनों को सत्य मानना है, भले ही यह सामान्यतः ज्ञात तथ्य से भिन्न प्रतीत हो। आपको यह निर्णय लेना है कि दिए गए निष्कर्षों में से कौन सा, यदि कोई हो, तो दिए गए कथन का अनुसरण करता है।

कथन: फलों की कीमतें दिन-प्रतिदिन बढ़ रही हैं।

निष्कर्ष I: फल एक दुर्लभ वस्तु है और इसीलिए फलों की कीमत बढ़ रही है।

निष्कर्ष II: फलों की मांग में कमी आई है जिसके कारणवश फलों की कीमत में वृद्धि हुई है।

Options :

1. ✘ केवल निष्कर्ष I अनुसरण करता है
2. ✘ केवल निष्कर्ष II अनुसरण करता है
3. ✘ I और II दोनों निष्कर्ष अनुसरण करते हैं
4. ✔ न I और न ही II निष्कर्ष अनुसरण करते हैं

Question Number : 22 Question Id : 54062619455 Question Type : MCQ Option Shuffling : Yes Is Question Mandatory : No Option Orientation : Vertical

Correct Marks : 1 Wrong Marks : 0.25

In the question two statements are given, followed by two conclusions, I and II. You have to consider the statements to be true even if it seems to be at variance from commonly known facts. You have to decide which of the given conclusions, if any, follows from the given statements.

Statement 1 : All singers are dancers.

Statement 2 : Some dancers are teachers.

Conclusion I : Some singers are teachers.

Conclusion II : Some teachers are dancers.

Options :

1. ✘ Only conclusion I follows
2. ✔ Only conclusion II follows
3. ✘ Both I and II conclusion follows
4. ✘ Neither I nor II conclusion follows

Question Number : 22 Question Id : 54062619455 Question Type : MCQ Option Shuffling : Yes Is Question Mandatory : No Option Orientation : Vertical

Correct Marks : 1 Wrong Marks : 0.25

प्रश्न में दो कथन दिए गए हैं, जिसके बाद दो निष्कर्ष I और II दिए गए हैं। आपको उन कथनों को सत्य मानना है, भले ही यह सामान्यतः ज्ञात तथ्य से भिन्न प्रतीत हो। आपको यह निर्णय लेना है कि दिए गए निष्कर्षों में से कौन सा, यदि कोई हो, तो दिए गए कथनों में से अनुसरण करता है।

कथन 1: सभी गायक नर्तक हैं।

कथन 2: कुछ नर्तक शिक्षक हैं।

निष्कर्ष I: कुछ गायक शिक्षक हैं।

निष्कर्ष II: कुछ शिक्षक नर्तक हैं।

Options :

1. ✘ केवल निष्कर्ष I अनुसरण करता है
2. ✔ केवल निष्कर्ष II अनुसरण करता है
3. ✘ I और II दोनों निष्कर्ष अनुसरण करते हैं
4. ✘ न I और न ही II निष्कर्ष अनुसरण करते हैं

Question Number : 23 Question Id : 54062619456 Question Type : MCQ Option Shuffling : Yes Is Question Mandatory : No Option Orientation : Vertical

Correct Marks : 1 Wrong Marks : 0.25

In the question one statement is given, followed by two statements, I and II. You have to consider the statements to be true even if it seems to be at variance from commonly known facts. You have to decide which of the given statement, if any, is sufficient to answer the question statement.

Question statement : There are 30 students in a class. What is the sum total of the ages of students in the class?

Statement I : The average age of all the students in the class is 20 years.

Statement II : The age of the youngest student is 18 years and the eldest student is 22 years.

Options :

1. ✔ Only statement I is sufficient
2. ✘ Only statement II is sufficient
3. ✘ Both statement I and II are taken together to be sufficient
4. ✘ Neither statement I nor II is sufficient

Question Number : 23 Question Id : 54062619456 Question Type : MCQ Option Shuffling : Yes Is Question Mandatory : No Option

Orientation : Vertical

Correct Marks : 1 Wrong Marks : 0.25

प्रश्न में एक कथन दिया गया है, जिसके बाद दो कथन, I और II दिए गए हैं। आपको उन कथनों को सत्य मानना है, भले ही यह सामान्यतः ज्ञात तथ्य से भिन्न प्रतीत हो। आपको यह निर्णय लेना है कि दिए गए कथन में से कौन सा, यदि कोई हो, तो प्रश्न कथन का उत्तर देने के लिए पर्याप्त है।

प्रश्न कथन: एक कक्षा में 30 छात्र हैं। कक्षा में छात्रों की आयु का कुल योग क्या है?

कथन I: कक्षा के सभी छात्रों की औसत आयु 20 वर्ष है।

कथन II: सबसे छोटे छात्र की आयु 18 वर्ष है और सबसे बड़े छात्र की आयु 22 वर्ष है।

Options :

1. ✓ केवल कथन I पर्याप्त हैं
2. ✗ केवल कथन II पर्याप्त है
3. ✗ कथन I और II दोनों को पर्याप्त के रूप में एक साथ लिया गया है
4. ✗ न कथन I और न ही II पर्याप्त है

Question Number : 24 Question Id : 54062619457 Question Type : MCQ Option Shuffling : Yes Is Question Mandatory : No Option

Orientation : Vertical

Correct Marks : 1 Wrong Marks : 0.25

In the question one statement is given, followed by two course of actions, I and II. You have to consider the statements to be true even if it seems to be at variance from commonly known facts. You have to decide which of the given course of action, if any, follows from the given statement.

Statement: Pick-pocketing in public transports is increasing drastically day by day.

Courses of Action:

I : More CCTV Cameras should be installed where ever possible according to available budget.

II : Persons travelling through public transport should be taught via social media how to protect themselves from pick-pockets.

Options :

1. ✗ Only I follows
2. ✗ Only II follows
3. ✓ Both I and II follows
4. ✗ Neither I nor II follows

Question Number : 24 Question Id : 54062619457 Question Type : MCQ Option Shuffling : Yes Is Question Mandatory : No Option

Orientation : Vertical

Correct Marks : 1 Wrong Marks : 0.25

प्रश्न में एक कथन दिया गया है, जिसके बाद कार्रवाई के दो क्रम I और II दिए गए हैं। आपको उन कथनों को सत्य मानना है, भले ही यह सामान्यतः ज्ञात तथ्य से भिन्न प्रतीत हो। आपको यह निर्णय लेना है कि दिए गए कार्रवाई के क्रम में से कौन सा, यदि कोई हो, तो दिए गए कथन का अनुसरण करता है।

कथन: सार्वजनिक परिवहन में जेबकतरी दिन-ब-दिन बढ़ती जा रही है।

कार्रवाई का क्रम:

I: उपलब्ध बजट के अनुसार जहां संभव हो वहां अधिक CCTV कैमरे स्थापित किए जाने चाहिए।

II: सार्वजनिक परिवहन के माध्यम से यात्रा करने वाले व्यक्तियों को सोशल मीडिया के माध्यम से सिखाया जाना चाहिए कि जेबकतरो से स्वयं को कैसे बचाया जाए।

Options :

1. ✘ केवल I अनुसरण करता है
2. ✘ केवल II अनुसरण करता है
3. ✔ I और II दोनों अनुसरण करते हैं
4. ✘ न I और न ही II अनुसरण करता है

Question Number : 25 Question Id : 54062619458 Question Type : MCQ Option Shuffling : Yes Is Question Mandatory : No Option Orientation : Vertical

Correct Marks : 1 Wrong Marks : 0.25

Out of the given options, three are similar in a certain manner. However, one option is NOT like the other three. Select the option which is different from the rest.

Options :

1. ✘ 9-117
2. ✘ 14-238
3. ✔ 17-287
4. ✘ 6-132

Question Number : 25 Question Id : 54062619458 Question Type : MCQ Option Shuffling : Yes Is Question Mandatory : No Option Orientation : Vertical

Correct Marks : 1 Wrong Marks : 0.25

दिए गए विकल्पों में से, तीन एक निश्चित तरीके से समान हैं। हालाँकि, एक विकल्प अन्य तीन की तरह नहीं है। उस विकल्प का चयन करें जो अन्य से अलग है।

Options :

1. ✘ 9-117

2. ✘ 14-238

3. ✔ 17-287

4. ✘ 6-132

Question Number : 26 Question Id : 54062619459 Question Type : MCQ Option Shuffling : Yes Is Question Mandatory : No Option Orientation : Vertical

Correct Marks : 1 Wrong Marks : 0.25

Select the option that is related to the third term on the same basis as the second term is related to the first term.

9 : 162 :: 11 : ?

Options :

1. ✘ 121

2. ✔ 242

3. ✘ 143

4. ✘ 220

Question Number : 26 Question Id : 54062619459 Question Type : MCQ Option Shuffling : Yes Is Question Mandatory : No Option Orientation : Vertical

Correct Marks : 1 Wrong Marks : 0.25

उस विकल्प का चयन करें जो तीसरे पद से उसी प्रकार से संबंधित है जिस प्रकार से दूसरा पद पहले पद से संबंधित है।

9 : 162 :: 11 : ?

Options :

1. ✘ 121

2. ✔ 242

3. ✘ 143

4. ✘ 220

Question Number : 27 Question Id : 54062619460 Question Type : MCQ Option Shuffling : Yes Is Question Mandatory : No Option Orientation : Vertical

Correct Marks : 1 Wrong Marks : 0.25

Complete the following number series:

242, 254, 236, 248, 230, _____

Options :

1. ✘ 218
2. ✘ 248
3. ✘ 212
4. ✔ 242

Question Number : 27 Question Id : 54062619460 Question Type : MCQ Option Shuffling : Yes Is Question Mandatory : No Option Orientation : Vertical

Correct Marks : 1 Wrong Marks : 0.25

निम्नलिखित संख्या श्रृंखला को पूरा करें:

242, 254, 236, 248, 230, _____

Options :

1. ✘ 218
2. ✘ 248
3. ✘ 212
4. ✔ 242

Question Number : 28 Question Id : 54062619461 Question Type : MCQ Option Shuffling : Yes Is Question Mandatory : No Option Orientation : Vertical

Correct Marks : 1 Wrong Marks : 0.25

If $(x + 5) > (y - 9) + 26$, then which among the following is true?

Options :

1. ✔ $x - y > 12$
2. ✘ $x - y < 12$
3. ✘ $x - y > 22$
4. ✘ $x - y < 22$

Question Number : 28 Question Id : 54062619461 Question Type : MCQ Option Shuffling : Yes Is Question Mandatory : No Option Orientation : Vertical

Correct Marks : 1 Wrong Marks : 0.25

यदि $(x + 5) > (y - 9) + 26$, तो निम्नलिखित में से कौन सा सत्य है?

Options :

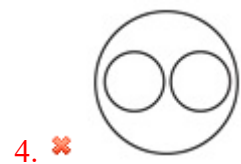
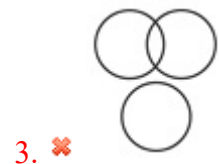
1. ✓ $x - y > 12$
2. ✗ $x - y < 12$
3. ✗ $x - y > 22$
4. ✗ $x - y < 22$

Question Number : 29 Question Id : 54062619462 Question Type : MCQ Option Shuffling : Yes Is Question Mandatory : No Option Orientation : Vertical

Correct Marks : 1 Wrong Marks : 0.25

Which of the following Venn diagrams best represents the relationship between uneducated, employed and males?

Options :


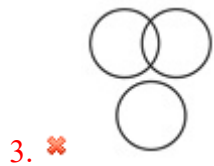
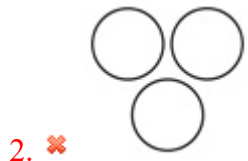


Question Number : 29 Question Id : 54062619462 Question Type : MCQ Option Shuffling : Yes Is Question Mandatory : No Option Orientation : Vertical

Correct Marks : 1 Wrong Marks : 0.25

निम्नलिखित में से कौन सा वेन आरेख अशिक्षित, नौकरीपेशा और पुरुषों के बीच के संबंधों को सबसे अच्छा दर्शाता है?

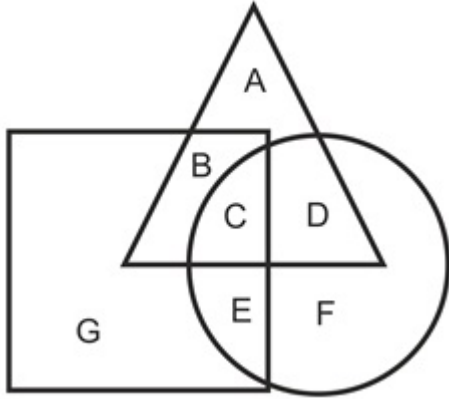
Options :



Question Number : 30 Question Id : 54062619463 Question Type : MCQ Option Shuffling : Yes Is Question Mandatory : No Option Orientation : Vertical

Correct Marks : 1 Wrong Marks : 0.25

In the following figure, triangle represents mothers, square represents teachers, circle represents sisters. Which area represents mothers who are sisters but not teachers?



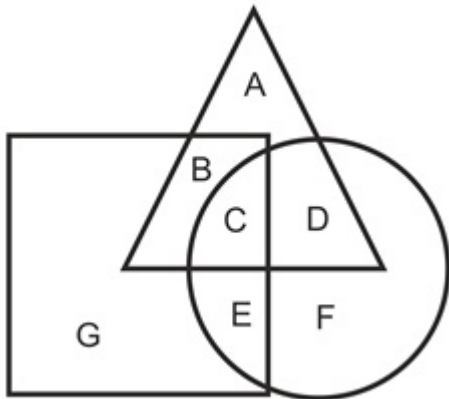
Options :

1. ✘ A
2. ✘ G
3. ✘ B
4. ✔ D

Question Number : 30 Question Id : 54062619463 Question Type : MCQ Option Shuffling : Yes Is Question Mandatory : No Option Orientation : Vertical

Correct Marks : 1 Wrong Marks : 0.25

निम्नलिखित आकृति में, त्रिभुज माताओं का प्रतिनिधित्व करता है, वर्ग शिक्षकों का प्रतिनिधित्व करता है, वृत्त बहनों का प्रतिनिधित्व करता है। कौन सा क्षेत्र माताओं का प्रतिनिधित्व करता है जो बहनें हैं लेकिन शिक्षक नहीं हैं?



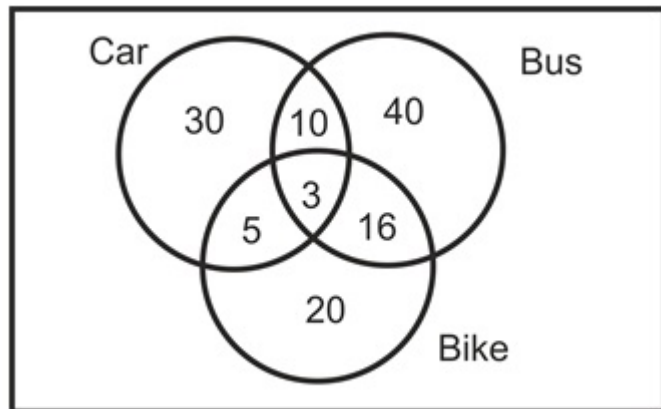
Options :

1. ✘ A
2. ✘ G
3. ✘ B
4. ✔ D

Question Number : 31 Question Id : 54062619464 Question Type : MCQ Option Shuffling : Yes Is Question Mandatory : No Option Orientation : Vertical

Correct Marks : 1 Wrong Marks : 0.25

The given Venn diagram shows the number of people in a colony who travels in car, bus and bike. How many of these people can travel in car as well as bus?



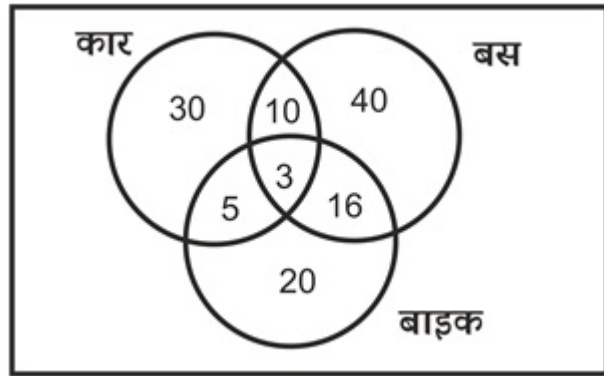
Options :

1. ✘ 16
2. ✔ 10
3. ✘ 3
4. ✘ 5

Question Number : 31 Question Id : 54062619464 Question Type : MCQ Option Shuffling : Yes Is Question Mandatory : No Option Orientation : Vertical

Correct Marks : 1 Wrong Marks : 0.25

दिए गए वेन आरेख में एक कॉलोनी के लोगों की संख्या दर्शायी गई है जो कार, बस और बाइक से यात्रा करते हैं। इनमें से कितने लोग कार के साथ-साथ बस से भी यात्रा कर सकते हैं?



Options :

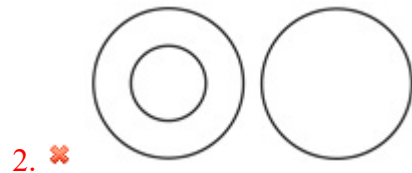
1. ✘ 16
2. ✔ 10
3. ✘ 3
4. ✘ 5

Question Number : 32 Question Id : 54062619465 Question Type : MCQ Option Shuffling : Yes Is Question Mandatory : No Option Orientation : Vertical

Correct Marks : 1 Wrong Marks : 0.25

Which of the following Venn diagrams best represents the relationship between rural, women and educated ?


Options :



3. ✘



4. ✘




Question Number : 32 Question Id : 54062619465 Question Type : MCQ Option Shuffling : Yes Is Question Mandatory : No Option Orientation : Vertical

Correct Marks : 1 Wrong Marks : 0.25

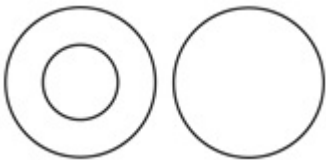
निम्नलिखित में से कौन सा वेन आरेख ग्रामीण, महिलाओं और शिक्षित के बीच के संबंध को सबसे अच्छा दर्शाता है?

Options :

1. ✔




2. ✘



3. ✘



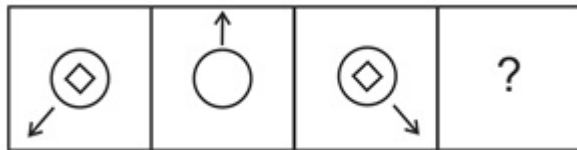


4. ✘

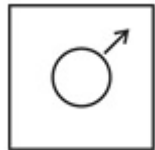
Question Number : 33 Question Id : 54062619466 Question Type : MCQ Option Shuffling : Yes Is Question Mandatory : No Option Orientation : Vertical

Correct Marks : 1 Wrong Marks : 0.25

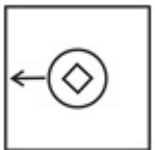
Which of the following answer figure completes the series of the question figure?



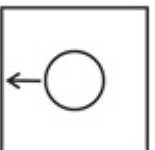
Options :



1. ✘

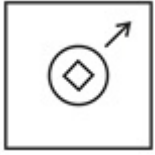


2. ✘



3. ✔

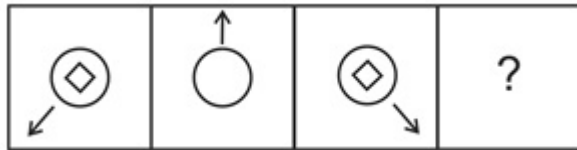
4. ✘



Question Number : 33 Question Id : 54062619466 Question Type : MCQ Option Shuffling : Yes Is Question Mandatory : No Option Orientation : Vertical

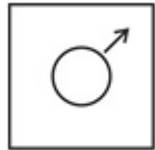
Correct Marks : 1 Wrong Marks : 0.25

निम्नलिखित में से कौन सी उत्तर आकृति प्रश्न आकृति की श्रृंखला को पूरा करती है?

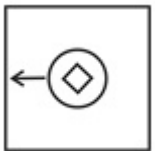


Options :

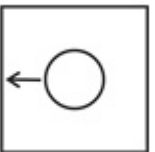
1. ✘



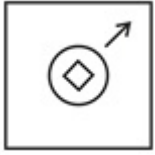
2. ✘



3. ✔



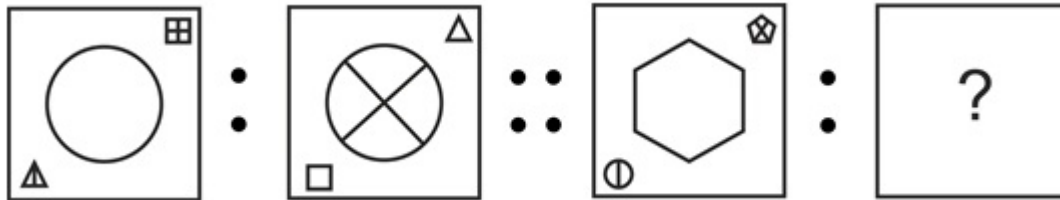
4. ✘



Question Number : 34 Question Id : 54062619467 Question Type : MCQ Option Shuffling : Yes Is Question Mandatory : No Option Orientation : Vertical

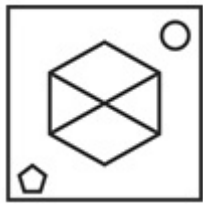
Correct Marks : 1 Wrong Marks : 0.25

Select the option that is related to the third image on the same basis as the second image is related to the first image.



Options :

1. ✔



2. ✘

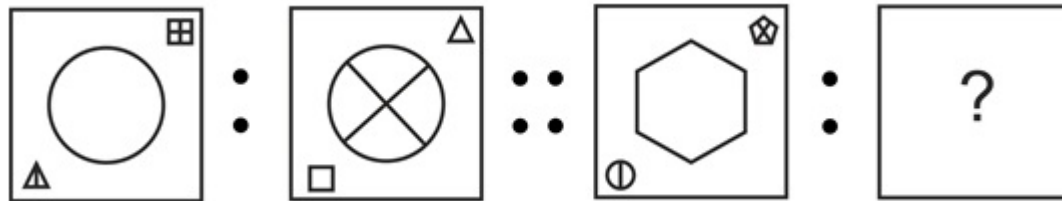




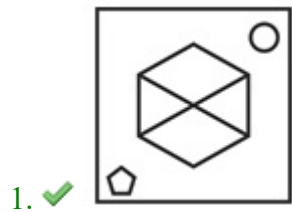
Question Number : 34 Question Id : 54062619467 Question Type : MCQ Option Shuffling : Yes Is Question Mandatory : No Option Orientation : Vertical

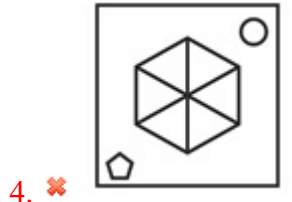
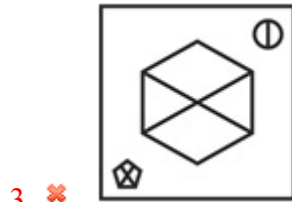
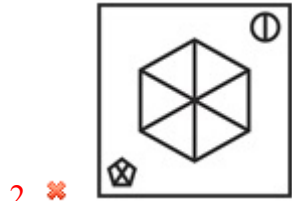
Correct Marks : 1 Wrong Marks : 0.25

उस विकल्प का चयन करें जो तीसरी छवि से उसी प्रकार से संबंधित है जिस प्रकार से दूसरी छवि पहली छवि से संबंधित है।



Options :





Question Number : 35 Question Id : 54062619468 Question Type : MCQ Option Shuffling : Yes Is Question Mandatory : No Option Orientation : Vertical

Correct Marks : 1 Wrong Marks : 0.25

Out of the given options, three are similar in a certain manner. However, one option is NOT like the other three. Select the option which is different from the rest.

Options :



2. ✘



3. ✘



4. ✔



Question Number : 35 Question Id : 54062619468 Question Type : MCQ Option Shuffling : Yes Is Question Mandatory : No Option Orientation : Vertical

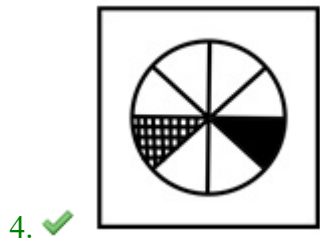
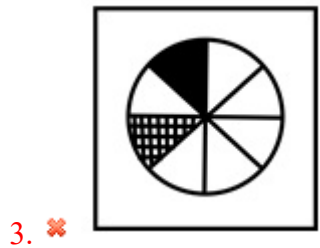
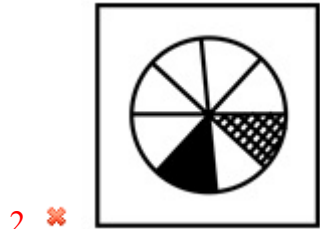
Correct Marks : 1 Wrong Marks : 0.25

दिए गए विकल्पों में से, तीन एक निश्चित तरीके से समान हैं। हालाँकि, एक विकल्प अन्य तीन की तरह नहीं है। उस विकल्प का चयन करें जो अन्य से अलग है।

Options :

1. ✘

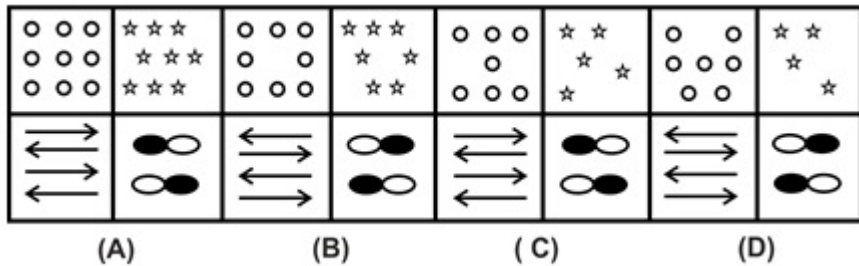




Question Number : 36 Question Id : 54062619469 Question Type : MCQ Option Shuffling : Yes Is Question Mandatory : No Option Orientation : Vertical

Correct Marks : 1 Wrong Marks : 0.25

Which of the following options is the wrong figure in the series?



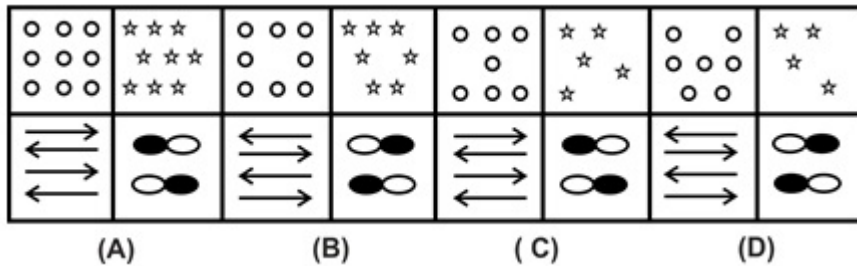
Options :

1. ✘ Image A
2. ✘ Image B
3. ✘ Image C
4. ✔ Image D

Question Number : 36 Question Id : 54062619469 Question Type : MCQ Option Shuffling : Yes Is Question Mandatory : No Option Orientation : Vertical

Correct Marks : 1 Wrong Marks : 0.25

निम्नलिखित में से कौन सा विकल्प श्रृंखला में गलत आकृति है?



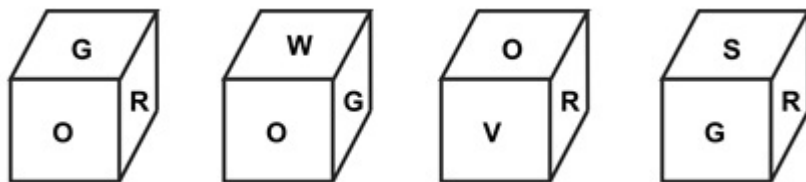
Options :

1. ✘ छवि A
2. ✘ छवि B
3. ✘ छवि C
4. ✔ छवि D

Question Number : 37 Question Id : 54062619470 Question Type : MCQ Option Shuffling : Yes Is Question Mandatory : No Option Orientation : Vertical

Correct Marks : 1 Wrong Marks : 0.25

In the following question, four position of the same dice is given. Which letter will be at the face opposite to the face having the letter G?



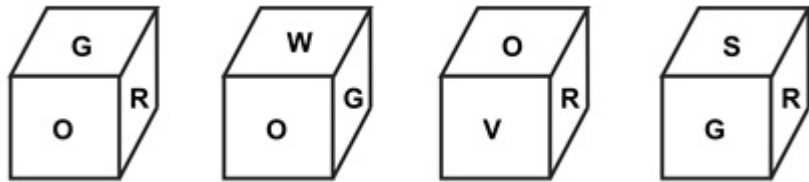
Options :

1. ✓ V
2. ✗ S
3. ✗ R
4. ✗ O

Question Number : 37 Question Id : 54062619470 Question Type : MCQ Option Shuffling : Yes Is Question Mandatory : No Option Orientation : Vertical

Correct Marks : 1 Wrong Marks : 0.25

निम्नलिखित प्रश्न में, एक ही पासे की चार स्थिति दी गई है। G अक्षर वाले फलक के विपरीत वाले फलक पर कौन सा अक्षर होगा?



Options :

1. ✓ V
2. ✗ S
3. ✗ R
4. ✗ O

Question Number : 38 Question Id : 54062619471 Question Type : MCQ Option Shuffling : Yes Is Question Mandatory : No Option Orientation : Vertical

Correct Marks : 1 Wrong Marks : 0.25

A cube is painted Red on two adjacent faces, Blue on other two adjacent faces and Green on the last two adjacent faces. This cube is cut into 16 smaller cubes. How many of these smaller cubes will have one face Blue, the other face Green and no colour on the remaining faces?

Options :

1. ✗ 9
2. ✗ 8
3. ✗ 4
4. ✓ 6

Question Number : 38 Question Id : 54062619471 Question Type : MCQ Option Shuffling : Yes Is Question Mandatory : No Option Orientation : Vertical

Correct Marks : 1 Wrong Marks : 0.25

एक घन को दो संलग्न फलकों (फेस) पर लाल, अन्य दो संलग्न फलकों (फेस) पर नीला और आखरी दो संलग्न फलकों (फेस) पर हरे से पेंट किया जाता है। इस घन को 16 छोटे घनों में काटा जाता है। इनमें से कितने छोटे घनों में एक फलक (फेस) नीला, दूसरा फलक (फेस) हरा और बाकी फलकों (फेस) पर कोई रंग नहीं होगा?

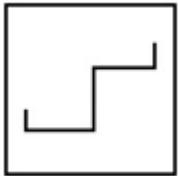
Options :

1. ✘ 9
2. ✘ 8
3. ✘ 4
4. ✔ 6

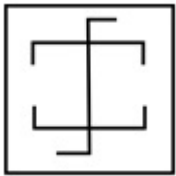
Question Number : 39 Question Id : 54062619472 Question Type : MCQ Option Shuffling : Yes Is Question Mandatory : No Option Orientation : Vertical

Correct Marks : 1 Wrong Marks : 0.25

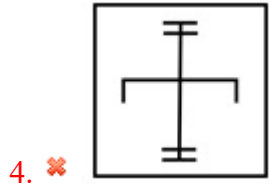
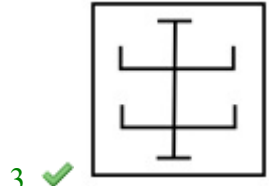
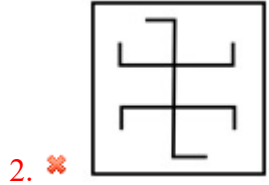
From the given answer figures, select the one in which the question figure is hidden/embedded.



Options :



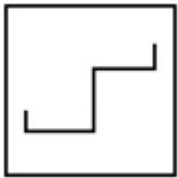
1. ✘



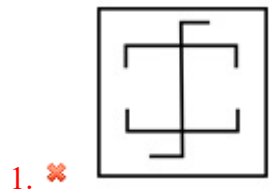
Question Number : 39 Question Id : 54062619472 Question Type : MCQ Option Shuffling : Yes Is Question Mandatory : No Option Orientation : Vertical

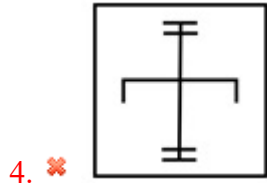
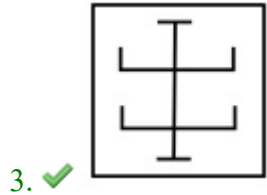
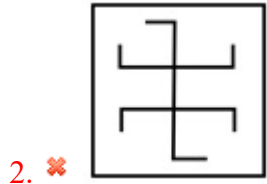
Correct Marks : 1 Wrong Marks : 0.25

दी गई उत्तर आकृति से, उस आकृति का चयन करें जिसमें प्रश्न आकृति छिपी/सन्निहित है।



Options :

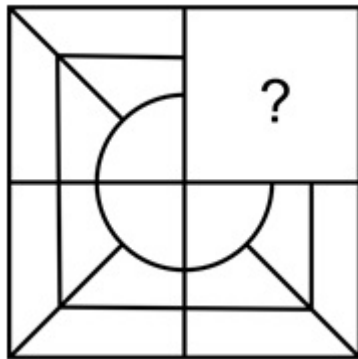




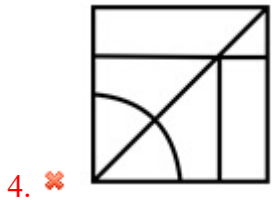
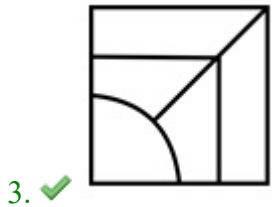
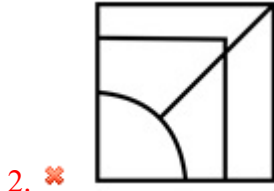
Question Number : 40 Question Id : 54062619473 Question Type : MCQ Option Shuffling : Yes Is Question Mandatory : No Option Orientation : Vertical

Correct Marks : 1 Wrong Marks : 0.25

Which of the following answer figure patterns can be combined to complete the question figure?



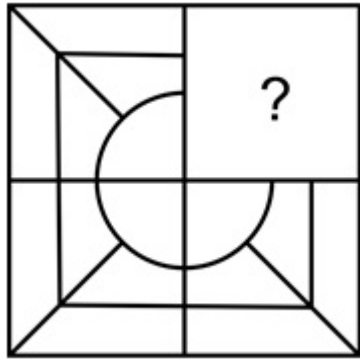
Options :



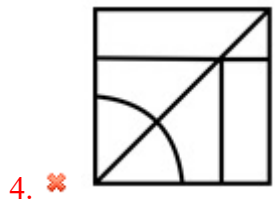
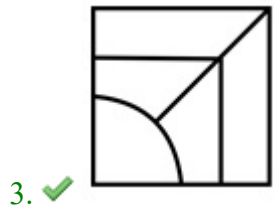
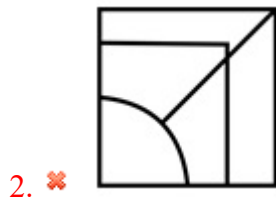
Question Number : 40 Question Id : 54062619473 Question Type : MCQ Option Shuffling : Yes Is Question Mandatory : No Option Orientation : Vertical

Correct Marks : 1 Wrong Marks : 0.25

निम्नलिखित में से कौन सी उत्तर आकृति पैटर्न, प्रश्न आकृति को पूरा करने के लिए जोड़ा जा सकता है?



Options :



General Awareness1

Group Number :	3
Group Id :	540626746
Group Maximum Duration :	0
Group Minimum Duration :	0
Show Attended Group? :	No
Edit Attended Group? :	No
Break time :	0
Group Marks :	20
Is this Group for Examiner? :	No

General Awareness1

Section Id :	540626928
Section Number :	1
Section type :	Online
Mandatory or Optional :	Mandatory
Number of Questions :	20
Number of Questions to be attempted :	20
Section Marks :	20
Enable Mark as Answered Mark for Review and Clear Response :	Yes
Sub-Section Number :	1
Sub-Section Id :	5406261121
Question Shuffling Allowed :	Yes

Question Number : 41 Question Id : 54062619474 Question Type : MCQ Option Shuffling : Yes Is Question Mandatory : No Option Orientation : Vertical

Correct Marks : 1 Wrong Marks : 0.25

Which among the following folk music of Madhya Pradesh is a heroic ballad song with intricate words?

Options :

1. ✓ Alha
2. ✗ Pandavani
3. ✗ Pai
4. ✗ Dadra

Question Number : 41 Question Id : 54062619474 Question Type : MCQ Option Shuffling : Yes Is Question Mandatory : No Option Orientation : Vertical

Correct Marks : 1 Wrong Marks : 0.25

मध्य प्रदेश के निम्नलिखित लोक संगीत में से कौन सा जटिल शब्दों के साथ एक वीर गाथा गीत है?

Options :

1. ✓ आल्हा
2. ✗ पंडवानी
3. ✗ पर्ई
4. ✗ दादरा

Question Number : 42 Question Id : 54062619475 Question Type : MCQ Option Shuffling : Yes Is Question Mandatory : No Option Orientation : Vertical

Correct Marks : 1 Wrong Marks : 0.25

Which among the following is also known as "Harmandir Sahib"?

Options :

1. ✗ Bangla Sahib, Delhi
2. ✓ Golden Temple, Punjab
3. ✗ San Sahib, Punjab
4. ✗ Jagannath Temple, Odisha

Question Number : 42 Question Id : 54062619475 Question Type : MCQ Option Shuffling : Yes Is Question Mandatory : No Option Orientation : Vertical

Correct Marks : 1 Wrong Marks : 0.25

निम्नलिखित में से किसे "हरमंदिर साहिब" के नाम से भी जाना जाता है?

Options :

1. ✗ बंगला साहिब, दिल्ली

2. ✓ स्वर्ण मंदिर, पंजाब
3. ✗ सैन साहिब, पंजाब
4. ✗ जगन्नाथ मंदिर, ओडिशा

Question Number : 43 Question Id : 54062619476 Question Type : MCQ Option Shuffling : Yes Is Question Mandatory : No Option Orientation : Vertical

Correct Marks : 1 Wrong Marks : 0.25

The Chhari Festival is celebrated in which of the following states/union territories of India?

Options :

1. ✗ Odisha
2. ✗ Haryana
3. ✗ Karnataka
4. ✓ Jammu and Kashmir

Question Number : 43 Question Id : 54062619476 Question Type : MCQ Option Shuffling : Yes Is Question Mandatory : No Option Orientation : Vertical

Correct Marks : 1 Wrong Marks : 0.25

भारत के निम्नलिखित राज्यों/केंद्र शासित प्रदेशों में से किस में छारी त्यौहार मनाया जाता है?

Options :

1. ✗ ओडिशा
2. ✗ हरियाणा
3. ✗ कर्नाटक
4. ✓ जम्मू और कश्मीर

Question Number : 44 Question Id : 54062619477 Question Type : MCQ Option Shuffling : Yes Is Question Mandatory : No Option Orientation : Vertical

Correct Marks : 1 Wrong Marks : 0.25

Which among the following dance forms of Gujarat was originally performed after the successful hunting of animals?

Options :

1. ✓ Siddi Dhamal
2. ✗ Padhar

3. ✘ Dandiya

4. ✘ Tippani

Question Number : 44 Question Id : 54062619477 Question Type : MCQ Option Shuffling : Yes Is Question Mandatory : No Option Orientation : Vertical

Correct Marks : 1 Wrong Marks : 0.25

गुजरात के निम्नलिखित नृत्य रूपों में से कौन सा जानवरों के शिकार की सफलता के बाद मूल रूप से किया जाता था?

Options :

1. ✔ सिद्दी धमाल

2. ✘ पधार

3. ✘ डांडिया

4. ✘ टिप्पनी

Question Number : 45 Question Id : 54062619478 Question Type : MCQ Option Shuffling : Yes Is Question Mandatory : No Option Orientation : Vertical

Correct Marks : 1 Wrong Marks : 0.25

Which among the following is defined as the minimum interest rate of a bank below which it cannot lend, except in some cases allowed by the RBI?

Options :

1. ✔ Base rate

2. ✘ Repo rate

3. ✘ Reverse repo rate

4. ✘ Call money rate

Question Number : 45 Question Id : 54062619478 Question Type : MCQ Option Shuffling : Yes Is Question Mandatory : No Option Orientation : Vertical

Correct Marks : 1 Wrong Marks : 0.25

निम्नलिखित में से किसे, RBI द्वारा अनुमत कुछ मामलों के अलावा, बैंक की न्यूनतम ब्याज दर के रूप में परिभाषित किया गया है जिसके नीचे वह उधार नहीं दे सकता है?

Options :

1. ✔ बेस रेट

2. ✘ रेपो रेट

3. ✘ रिवर्स रेपो रेट
4. ✘ कॉल मनी रेट

Question Number : 46 Question Id : 54062619479 Question Type : MCQ Option Shuffling : Yes Is Question Mandatory : No Option Orientation : Vertical

Correct Marks : 1 Wrong Marks : 0.25

Which among the following banks sponsored the first regional rural bank in India by name Prathama Bank?

Options :

1. ✘ Punjab National Bank
2. ✔ Syndicate Bank
3. ✘ Bank of India
4. ✘ State Bank of India

Question Number : 46 Question Id : 54062619479 Question Type : MCQ Option Shuffling : Yes Is Question Mandatory : No Option Orientation : Vertical

Correct Marks : 1 Wrong Marks : 0.25

निम्नलिखित में से कौन सी बैंक ने प्रथमा बैंक के नाम से भारत में पहला क्षेत्रीय ग्रामीण बैंक को प्रायोजित किया?

Options :

1. ✘ पंजाब नैशनल बैंक
2. ✔ सिंडिकेट बैंक
3. ✘ बैंक ऑफ़ इंडिया
4. ✘ भारतीय स्टेट बैंक

Question Number : 47 Question Id : 54062619480 Question Type : MCQ Option Shuffling : Yes Is Question Mandatory : No Option Orientation : Vertical

Correct Marks : 1 Wrong Marks : 0.25

Which among the following is not a method adopted by RBI to maintain the liquidity of economy?

Options :

1. ✘ Buying of government bonds
2. ✘ Maintaining cash reserve ratio
3. ✔ Buying of shares

4. ✖ Decreasing repo rate

Question Number : 47 Question Id : 54062619480 Question Type : MCQ Option Shuffling : Yes Is Question Mandatory : No Option Orientation : Vertical

Correct Marks : 1 Wrong Marks : 0.25

निम्नलिखित में से कौन सी एक विधि नहीं है जो RBI द्वारा अर्थव्यवस्था की निधि को बनाए रखने के लिए अपनाया जाता है?

Options :

1. ✖ सरकारी बांड की खरीद
2. ✖ नकद आरक्षी अनुपात को बनाए रखना
3. ✔ शेयरों की खरीद
4. ✖ घटती रेपो रेट

Question Number : 48 Question Id : 54062619481 Question Type : MCQ Option Shuffling : Yes Is Question Mandatory : No Option Orientation : Vertical

Correct Marks : 1 Wrong Marks : 0.25

Which among the following banks is authorised for providing credit for the development of agriculture?

Options :

1. ✔ NABARD
2. ✖ RBI
3. ✖ SBI
4. ✖ SIDBI

Question Number : 48 Question Id : 54062619481 Question Type : MCQ Option Shuffling : Yes Is Question Mandatory : No Option Orientation : Vertical

Correct Marks : 1 Wrong Marks : 0.25

निम्नलिखित में से कौन सी बैंक कृषि के विकास के लिए ऋण प्रदान करने के लिए अधिकृत है?

Options :

1. ✔ नाबार्ड (NABARD)
2. ✖ RBI
3. ✖ SBI
4. ✖ सिडबी (SIDBI)

Question Number : 49 Question Id : 54062619482 Question Type : MCQ Option Shuffling : Yes Is Question Mandatory : No Option Orientation : Vertical

Correct Marks : 1 Wrong Marks : 0.25

Which among the following is not a component of fiscal policies adopted by the Government?

Options :

1. ✓ Cash reserve ratio
2. ✗ Government spending
3. ✗ Taxes
4. ✗ Subsidies

Question Number : 49 Question Id : 54062619482 Question Type : MCQ Option Shuffling : Yes Is Question Mandatory : No Option Orientation : Vertical

Correct Marks : 1 Wrong Marks : 0.25

निम्नलिखित में से कौन सी सरकार द्वारा अपनाई गई राजकोषीय नीतियों का एक घटक नहीं है?

Options :

1. ✓ नकद आरक्षी अनुपात
2. ✗ सरकारी खर्च
3. ✗ करों
4. ✗ सब्सिडी

Question Number : 50 Question Id : 54062619483 Question Type : MCQ Option Shuffling : Yes Is Question Mandatory : No Option Orientation : Vertical

Correct Marks : 1 Wrong Marks : 0.25

Which among the following is not an example of abiotic natural resource?

Options :

1. ✗ Iron
2. ✓ Coal
3. ✗ Silver
4. ✗ Gold

Question Number : 50 Question Id : 54062619483 Question Type : MCQ Option Shuffling : Yes Is Question Mandatory : No Option

Orientation : Vertical

Correct Marks : 1 Wrong Marks : 0.25

निम्नलिखित में से कौन सा अजैविक प्राकृतिक संसाधन का उदाहरण नहीं है?

Options :

1. ✘ लोहा
2. ✔ कोयला
3. ✘ चाँदी
4. ✘ सोना

Question Number : 51 Question Id : 54062619484 Question Type : MCQ Option Shuffling : Yes Is Question Mandatory : No Option

Orientation : Vertical

Correct Marks : 1 Wrong Marks : 0.25

A type of motion in which all parts of an object move in the same direction in a given time is called _____ motion.

Options :

1. ✔ translation
2. ✘ rotational
3. ✘ periodic
4. ✘ oscillation

Question Number : 51 Question Id : 54062619484 Question Type : MCQ Option Shuffling : Yes Is Question Mandatory : No Option

Orientation : Vertical

Correct Marks : 1 Wrong Marks : 0.25

एक प्रकार की गति जिसमें किसी वस्तु के सभी भाग एक निश्चित समय में एक ही दिशा में चलते हैं, उसे _____ गति कहते हैं।

Options :

1. ✔ स्थानान्तरीय
2. ✘ घूर्णन
3. ✘ आवर्ती
4. ✘ दोलन

Question Number : 52 Question Id : 54062619485 Question Type : MCQ Option Shuffling : Yes Is Question Mandatory : No Option

Orientation : Vertical

Correct Marks : 1 Wrong Marks : 0.25

In which of the following states is the Jaldapara National Park located?

Options :

1. ✘ Tamil Nadu
2. ✘ Kerala
3. ✔ West Bengal
4. ✘ Madhya Pradesh

Question Number : 52 Question Id : 54062619485 Question Type : MCQ Option Shuffling : Yes Is Question Mandatory : No Option Orientation : Vertical

Correct Marks : 1 Wrong Marks : 0.25

जलदापाड़ा राष्ट्रीय उद्यान निम्नलिखित में से किस राज्य में स्थित है?

Options :

1. ✘ तमिल नाडु
2. ✘ केरल
3. ✔ पश्चिम बंगाल
4. ✘ मध्य प्रदेश

Question Number : 53 Question Id : 54062619486 Question Type : MCQ Option Shuffling : Yes Is Question Mandatory : No Option Orientation : Vertical

Correct Marks : 1 Wrong Marks : 0.25

Which among the following defects is also known as far-sightedness?

Options :

1. ✘ Myopia
2. ✘ Cataract
3. ✔ Hypermetropia
4. ✘ Presbyopia

Question Number : 53 Question Id : 54062619486 Question Type : MCQ Option Shuffling : Yes Is Question Mandatory : No Option Orientation : Vertical

Correct Marks : 1 Wrong Marks : 0.25

निम्नलिखित में से किस दोष को दूरदृष्टि के नाम से भी जाना जाता है?

Options :

1. ✘ निकटदृष्टि
2. ✘ मोतियाबिंद
3. ✔ हाइपरमेट्रोपिया
4. ✘ प्रेसबायोपिया

Question Number : 54 Question Id : 54062619487 Question Type : MCQ Option Shuffling : Yes Is Question Mandatory : No Option Orientation : Vertical

Correct Marks : 1 Wrong Marks : 0.25

Earthworms belongs to which of the following phyla?

Options :

1. ✘ Platyhelminthes
2. ✔ Annelida
3. ✘ Porifera
4. ✘ Arthropods

Question Number : 54 Question Id : 54062619487 Question Type : MCQ Option Shuffling : Yes Is Question Mandatory : No Option Orientation : Vertical

Correct Marks : 1 Wrong Marks : 0.25

केंचुआ निम्नलिखित में से किस संघ से संबंधित है?

Options :

1. ✘ प्लेटीहेल्मिन्थीज
2. ✔ ऐनेलिडा
3. ✘ पोरीफेरा
4. ✘ सन्धिपाद

Question Number : 55 Question Id : 54062619488 Question Type : MCQ Option Shuffling : Yes Is Question Mandatory : No Option Orientation : Vertical

Correct Marks : 1 Wrong Marks : 0.25

Which among the following is also known as "Salt Sea"?

Options :

1. ✓ Dead Sea
2. ✗ Caspian Sea
3. ✗ Red Sea
4. ✗ Mediterranean Sea

Question Number : 55 Question Id : 54062619488 Question Type : MCQ Option Shuffling : Yes Is Question Mandatory : No Option Orientation : Vertical

Correct Marks : 1 Wrong Marks : 0.25

निम्नलिखित में से किसे "खारा सागर" के नाम से भी जाना जाता है?

Options :

1. ✓ मृत सागर
2. ✗ कैस्पियन सागर
3. ✗ लाल सागर
4. ✗ भूमध्य सागर

Question Number : 56 Question Id : 54062619489 Question Type : MCQ Option Shuffling : Yes Is Question Mandatory : No Option Orientation : Vertical

Correct Marks : 1 Wrong Marks : 0.25

Mediterranean Sea is an intercontinental sea that stretches from the _____ Ocean on the west to Asia on the east and separates Europe from Africa.

Options :

1. ✓ Atlantic
2. ✗ Indian
3. ✗ Pacific
4. ✗ Arctic

Question Number : 56 Question Id : 54062619489 Question Type : MCQ Option Shuffling : Yes Is Question Mandatory : No Option Orientation : Vertical

Correct Marks : 1 Wrong Marks : 0.25

भूमध्य सागर एक अंतरमहाद्वीपीय सागर है जो पश्चिम में _____ महासागर से लेकर पूर्व में एशिया तक फैला हुआ है और यूरोप को अफ्रीका से अलग करता है।

Options :

1. ✓ अटलांटिक
2. ✗ हिन्द
3. ✗ प्रशान्त
4. ✗ उत्तरध्रुवीय

Question Number : 57 Question Id : 54062619490 Question Type : MCQ Option Shuffling : Yes Is Question Mandatory : No Option Orientation : Vertical

Correct Marks : 1 Wrong Marks : 0.25

Which among the following types of mountains is also known as "Horst"?

Options :

1. ✗ Volcanic Mountains
2. ✗ Fold Mountains
3. ✓ Block Mountains
4. ✗ Residual Mountains

Question Number : 57 Question Id : 54062619490 Question Type : MCQ Option Shuffling : Yes Is Question Mandatory : No Option Orientation : Vertical

Correct Marks : 1 Wrong Marks : 0.25

निम्नलिखित में से किस प्रकार के पर्वत को "होस्ट" के नाम से भी जाना जाता है?

Options :

1. ✗ ज्वालामुखी पर्वत
2. ✗ वलित पर्वत
3. ✓ खण्ड पर्वत
4. ✗ अवशिष्ट पर्वत

Question Number : 58 Question Id : 54062619491 Question Type : MCQ Option Shuffling : Yes Is Question Mandatory : No Option Orientation : Vertical

Correct Marks : 1 Wrong Marks : 0.25

Which among the following rivers was earlier known as Sadanira?

Options :

1. ✓ Gandak

2. ✘ Kosi
3. ✘ Chambal
4. ✘ Betwa

Question Number : 58 Question Id : 54062619491 Question Type : MCQ Option Shuffling : Yes Is Question Mandatory : No Option Orientation : Vertical

Correct Marks : 1 Wrong Marks : 0.25

निम्नलिखित नदियों में से किसे सदानीरा के नाम से पहले जाना जाता था?

Options :

1. ✔ गंडक
2. ✘ कोसी
3. ✘ चंबल
4. ✘ बेतवा

Question Number : 59 Question Id : 54062619492 Question Type : MCQ Option Shuffling : Yes Is Question Mandatory : No Option Orientation : Vertical

Correct Marks : 1 Wrong Marks : 0.25

In 1916, the Lucknow Pact was signed between _____.

Options :

1. ✘ Indian National Congress and British
2. ✔ Indian National Congress and Muslim League
3. ✘ British and Sikh
4. ✘ Sikh and Indian National Congress

Question Number : 59 Question Id : 54062619492 Question Type : MCQ Option Shuffling : Yes Is Question Mandatory : No Option Orientation : Vertical

Correct Marks : 1 Wrong Marks : 0.25

1916 में, लखनऊ समझौते पर _____ के बीच हस्ताक्षर किए गए थे।

Options :

1. ✘ भारतीय राष्ट्रीय कांग्रेस और ब्रिटिश
2. ✔ भारतीय राष्ट्रीय कांग्रेस और मुस्लिम लीग

3. ✘ ब्रिटिश और सिख
4. ✘ सिख और भारतीय राष्ट्रीय कांग्रेस

Question Number : 60 Question Id : 54062619493 Question Type : MCQ Option Shuffling : Yes Is Question Mandatory : No Option Orientation : Vertical

Correct Marks : 1 Wrong Marks : 0.25

Who among the following Mughal emperors was succeeded by Jahangir?

Options :

1. ✔ Akbar
2. ✘ Humayun
3. ✘ Babur
4. ✘ Aurangzeb

Question Number : 60 Question Id : 54062619493 Question Type : MCQ Option Shuffling : Yes Is Question Mandatory : No Option Orientation : Vertical

Correct Marks : 1 Wrong Marks : 0.25

निम्नलिखित मुगल सम्राटों में से किस का उत्तराधिकार जहाँगीर द्वारा लिया गया था?

Options :

1. ✔ अकबर
2. ✘ हुमायूँ
3. ✘ बाबर
4. ✘ औरंगजेब

General Awareness2

Group Number :	4
Group Id :	540626747
Group Maximum Duration :	0
Group Minimum Duration :	0
Show Attended Group? :	No
Edit Attended Group? :	No

Break time : 0
Group Marks : 20
Is this Group for Examiner? : No

General Awareness2

Section Id : 540626929
Section Number : 1
Section type : Online
Mandatory or Optional : Mandatory
Number of Questions : 20
Number of Questions to be attempted : 20
Section Marks : 20
Enable Mark as Answered Mark for Review and Clear Response : Yes
Sub-Section Number : 1
Sub-Section Id : 5406261122
Question Shuffling Allowed : Yes

Question Number : 61 Question Id : 54062619494 Question Type : MCQ Option Shuffling : Yes Is Question Mandatory : No Option Orientation : Vertical

Correct Marks : 1 Wrong Marks : 0.25

When did the Cripps Mission come to India?

Options :

1. ✘ 1935
2. ✘ 1912
3. ✘ 1928
4. ✔ 1942

Question Number : 61 Question Id : 54062619494 Question Type : MCQ Option Shuffling : Yes Is Question Mandatory : No Option Orientation : Vertical

Correct Marks : 1 Wrong Marks : 0.25

क्रिप्स मिशन भारत में कब आया?

Options :

1. ✘ 1935
2. ✘ 1912
3. ✘ 1928
4. ✔ 1942

Question Number : 62 Question Id : 54062619495 Question Type : MCQ Option Shuffling : Yes Is Question Mandatory : No Option Orientation : Vertical

Correct Marks : 1 Wrong Marks : 0.25

Who among the following was the founder of Utpala Dynasty?

Options :

1. ✘ Krishnavarman
2. ✘ Gopalavarman
3. ✔ Avantivarman
4. ✘ Sankaravarman

Question Number : 62 Question Id : 54062619495 Question Type : MCQ Option Shuffling : Yes Is Question Mandatory : No Option Orientation : Vertical

Correct Marks : 1 Wrong Marks : 0.25

निम्नलिखित में से कौन उत्पल वंश का संस्थापक था?

Options :

1. ✘ कृष्णावर्मन
2. ✘ गोपालवर्मन
3. ✔ अवन्तिवर्मन
4. ✘ शंकरवर्मन

Question Number : 63 Question Id : 54062619496 Question Type : MCQ Option Shuffling : Yes Is Question Mandatory : No Option Orientation : Vertical

Correct Marks : 1 Wrong Marks : 0.25

Ishwar Chandra Vidyasagar started the first school for girl's education in Calcutta in _____.

Options :

1. ✘ 1875

2. ✓ 1849

3. ✗ 1862

4. ✗ 1898

Question Number : 63 Question Id : 54062619496 Question Type : MCQ Option Shuffling : Yes Is Question Mandatory : No Option Orientation : Vertical

Correct Marks : 1 Wrong Marks : 0.25

ईश्वर चन्द्र विद्यासागर ने कलकत्ता में _____ में बालिका शिक्षा के लिए पहला विद्यालय शुरू किया।

Options :

1. ✗ 1875

2. ✓ 1849

3. ✗ 1862

4. ✗ 1898

Question Number : 64 Question Id : 54062619497 Question Type : MCQ Option Shuffling : Yes Is Question Mandatory : No Option Orientation : Vertical

Correct Marks : 1 Wrong Marks : 0.25

Chandrayaan-1 was India's first lunar probe. It was launched under the chairmanship of _____.

Options :

1. ✗ Krishnaswamy Kasturirangan

2. ✗ K. Radhakrishnan

3. ✗ A. S. Kiran Kumar

4. ✓ G. Madhavan Nair

Question Number : 64 Question Id : 54062619497 Question Type : MCQ Option Shuffling : Yes Is Question Mandatory : No Option Orientation : Vertical

Correct Marks : 1 Wrong Marks : 0.25

चंद्रयान -1 भारत का पहला चंद्र शोध यान था। इसका _____ की अध्यक्षता में प्रक्षेपण किया गया था।

Options :

1. ✗ कृष्णास्वामी कस्तूरीरंगन

2. ✗ के. राधाकृष्णन

3. ✘ ऐ. एस. किरण कुमार

4. ✔ जी. माधवन नायर

Question Number : 65 Question Id : 54062619498 Question Type : MCQ Option Shuffling : Yes Is Question Mandatory : No Option Orientation : Vertical

Correct Marks : 1 Wrong Marks : 0.25

Who among the following released a book titled 'Karmayoddha Granth' in New Delhi on 7 January 2020?

Options :

1. ✘ Narendra Modi

2. ✘ Arvind Kejriwal

3. ✔ Amit Shah

4. ✘ Rahul Gandhi

Question Number : 65 Question Id : 54062619498 Question Type : MCQ Option Shuffling : Yes Is Question Mandatory : No Option Orientation : Vertical

Correct Marks : 1 Wrong Marks : 0.25

निम्नलिखित में से किसने 7 जनवरी 2020 को नई दिल्ली में 'कर्मयोद्धा ग्रंथ' नामक पुस्तक को प्रकाशित किया?

Options :

1. ✘ नरेंद्र मोदी

2. ✘ अरविंद केजरीवाल

3. ✔ अमित शाह

4. ✘ राहुल गांधी

Question Number : 66 Question Id : 54062619499 Question Type : MCQ Option Shuffling : Yes Is Question Mandatory : No Option Orientation : Vertical

Correct Marks : 1 Wrong Marks : 0.25

Malala Yousafzai received the Nobel Prize for Peace at the age of _____.

Options :

1. ✘ 20

2. ✔ 17

3. ✘ 22

4. ✖ 19

Question Number : 66 Question Id : 54062619499 Question Type : MCQ Option Shuffling : Yes Is Question Mandatory : No Option Orientation : Vertical

Correct Marks : 1 Wrong Marks : 0.25

मलाला युसुफ़ज़ई को _____ की आयु में शांति के लिए नोबेल पुरस्कार मिला।

Options :

1. ✖ 20

2. ✔ 17

3. ✖ 22

4. ✖ 19

Question Number : 67 Question Id : 54062619500 Question Type : MCQ Option Shuffling : Yes Is Question Mandatory : No Option Orientation : Vertical

Correct Marks : 1 Wrong Marks : 0.25

Subrahmanyam Chandrasekhar received the Nobel Prize in 1983 for his contribution in the field of _____.

Options :

1. ✔ physics

2. ✖ literature

3. ✖ chemistry

4. ✖ peace

Question Number : 67 Question Id : 54062619500 Question Type : MCQ Option Shuffling : Yes Is Question Mandatory : No Option Orientation : Vertical

Correct Marks : 1 Wrong Marks : 0.25

सुब्रह्मण्यन् चन्द्रशेखर को _____ के क्षेत्र में उनके योगदान के लिए 1983 में नोबेल पुरस्कार मिला।

Options :

1. ✔ भौतिकी

2. ✖ साहित्य

3. ✖ रसायन विज्ञान

4. ✖ शांति

Question Number : 68 Question Id : 54062619501 Question Type : MCQ Option Shuffling : Yes Is Question Mandatory : No Option Orientation : Vertical

Correct Marks : 1 Wrong Marks : 0.25

The International Weightlifting Federation (IWF) has imposed disciplinary sanctions on _____ and banned both the countries from participating in weightlifting events at the Tokyo Olympics 2020.

Options :

1. ✘ Japan and Spain
2. ✘ Thailand and India
3. ✘ Malaysia and India
4. ✔ Thailand and Malaysia

Question Number : 68 Question Id : 54062619501 Question Type : MCQ Option Shuffling : Yes Is Question Mandatory : No Option Orientation : Vertical

Correct Marks : 1 Wrong Marks : 0.25

अंतर्राष्ट्रीय भारोत्तोलन महासंघ (IWF) ने _____ पर अनुशासनात्मक प्रतिबंध लगाए हैं और दोनों देशों को टोक्यो ओलम्पिक 2020 में भारोत्तोलन प्रतियोगिताओं में भाग लेने से प्रतिबंधित कर दिया है।

Options :

1. ✘ जापान और स्पेन
2. ✘ थाईलैण्ड और भारत
3. ✘ मलेशिया और भारत
4. ✔ थाईलैण्ड और मलेशिया

Question Number : 69 Question Id : 54062619502 Question Type : MCQ Option Shuffling : Yes Is Question Mandatory : No Option Orientation : Vertical

Correct Marks : 1 Wrong Marks : 0.25

Which among the following state governments has launched "Operation Shield" on 9th April 2020?

Options :

1. ✔ Delhi
2. ✘ Maharashtra
3. ✘ Gujarat
4. ✘ West Bengal

Question Number : 69 Question Id : 54062619502 Question Type : MCQ Option Shuffling : Yes Is Question Mandatory : No Option Orientation : Vertical

Correct Marks : 1 Wrong Marks : 0.25

निम्नलिखित में से किस राज्य सरकार ने 9 अप्रैल 2020 को "ऑपरेशन शील्ड" का शुभारंभ किया है?

Options :

1. ✓ दिल्ली
2. ✗ महाराष्ट्र
3. ✗ गुजरात
4. ✗ पश्चिम बंगाल

Question Number : 70 Question Id : 54062619503 Question Type : MCQ Option Shuffling : Yes Is Question Mandatory : No Option Orientation : Vertical

Correct Marks : 1 Wrong Marks : 0.25

The Central Reserve Police Force (CRPF) celebrated the 55th CRPF Valour Day (Shaurya Diwas) on _____ 2020.

Options :

1. ✗ 2 April
2. ✗ 20 March
3. ✓ 9 April
4. ✗ 12 March

Question Number : 70 Question Id : 54062619503 Question Type : MCQ Option Shuffling : Yes Is Question Mandatory : No Option Orientation : Vertical

Correct Marks : 1 Wrong Marks : 0.25

केन्द्रीय रिज़र्व पुलिस बल (CRPF) ने _____ 2020 को 55वाँ CRPF वीरता दिवस (शौर्य दिवस) मनाया।

Options :

1. ✗ 2 अप्रैल
2. ✗ 20 मार्च
3. ✓ 9 अप्रैल
4. ✗ 12 मार्च

Question Number : 71 Question Id : 54062619504 Question Type : MCQ Option Shuffling : Yes Is Question Mandatory : No Option Orientation : Vertical

Correct Marks : 1 Wrong Marks : 0.25

Which among the following states hosted the Global Potato Conclave 2020?

Options :

1. ✘ Rajasthan
2. ✔ Gujarat
3. ✘ Maharashtra
4. ✘ Madhya Pradesh

Question Number : 71 Question Id : 54062619504 Question Type : MCQ Option Shuffling : Yes Is Question Mandatory : No Option Orientation : Vertical

Correct Marks : 1 Wrong Marks : 0.25

निम्नलिखित राज्यों में से किसने वैश्विक आलू सम्मेलन (ग्लोबल पोटेटो कॉन्क्लेव) 2020 की मेजबानी की?

Options :

1. ✘ राजस्थान
2. ✔ गुजरात
3. ✘ महाराष्ट्र
4. ✘ मध्य प्रदेश

Question Number : 72 Question Id : 54062619505 Question Type : MCQ Option Shuffling : Yes Is Question Mandatory : No Option Orientation : Vertical

Correct Marks : 1 Wrong Marks : 0.25

Which among the following Constitutional Amendments is popularly known as "Anti-Defection Law"?

Options :

1. ✔ 52nd
2. ✘ 40th
3. ✘ 61st
4. ✘ 69th

Question Number : 72 Question Id : 54062619505 Question Type : MCQ Option Shuffling : Yes Is Question Mandatory : No Option Orientation : Vertical

Correct Marks : 1 Wrong Marks : 0.25

निम्नलिखित संवैधानिक संशोधनों में से किसे "दलबदल-विरोधी कानून" के नाम से जाना जाता है?

Options :

1. ✓ 52वां
2. ✗ 40वां
3. ✗ 61वां
4. ✗ 69वां

Question Number : 73 Question Id : 54062619506 Question Type : MCQ Option Shuffling : Yes Is Question Mandatory : No Option Orientation : Vertical

Correct Marks : 1 Wrong Marks : 0.25

Article 23 and 24 of the Indian Constitution deals with the _____.

Options :

1. ✗ Right to Freedom
2. ✗ Right to Equality
3. ✓ Right Against Exploitation
4. ✗ Cultural and Educational Rights

Question Number : 73 Question Id : 54062619506 Question Type : MCQ Option Shuffling : Yes Is Question Mandatory : No Option Orientation : Vertical

Correct Marks : 1 Wrong Marks : 0.25

भारतीय संविधान का अनुच्छेद 23 और 24 _____ से संबंधित है।

Options :

1. ✗ स्वतंत्रता का अधिकार
2. ✗ समानता का अधिकार
3. ✓ शोषण के खिलाफ अधिकार
4. ✗ सांस्कृतिक और शैक्षिक अधिकार

Question Number : 74 Question Id : 54062619507 Question Type : MCQ Option Shuffling : Yes Is Question Mandatory : No Option Orientation : Vertical

Correct Marks : 1 Wrong Marks : 0.25

How many members of the Rajya Sabha are nominated by the President?

Options :

1. ✘ 15
2. ✔ 12
3. ✘ 8
4. ✘ 18

Question Number : 74 Question Id : 54062619507 Question Type : MCQ Option Shuffling : Yes Is Question Mandatory : No Option Orientation : Vertical

Correct Marks : 1 Wrong Marks : 0.25

राज्यसभा के कितने सदस्य राष्ट्रपति द्वारा नामित किए जाते हैं?

Options :

1. ✘ 15
2. ✔ 12
3. ✘ 8
4. ✘ 18

Question Number : 75 Question Id : 54062619508 Question Type : MCQ Option Shuffling : Yes Is Question Mandatory : No Option Orientation : Vertical

Correct Marks : 1 Wrong Marks : 0.25

In which of the following years was the last meeting of the Constituent Assembly held?

Options :

1. ✘ 1940
2. ✘ 1947
3. ✘ 1959
4. ✔ 1950

Question Number : 75 Question Id : 54062619508 Question Type : MCQ Option Shuffling : Yes Is Question Mandatory : No Option Orientation : Vertical

Correct Marks : 1 Wrong Marks : 0.25

निम्नलिखित में से किस वर्ष में संविधान सभा की अंतिम बैठक आयोजित की गई थी?

Options :

1. ✘ 1940
2. ✘ 1947
3. ✘ 1959
4. ✔ 1950

Question Number : 76 Question Id : 54062619509 Question Type : MCQ Option Shuffling : Yes Is Question Mandatory : No Option Orientation : Vertical

Correct Marks : 1 Wrong Marks : 0.25

Which among the following teams holds the record of winning the Under 19 Cricket World Cup most number of times as of April 2020?

Options :

1. ✔ India
2. ✘ Australia
3. ✘ Pakistan
4. ✘ England

Question Number : 76 Question Id : 54062619509 Question Type : MCQ Option Shuffling : Yes Is Question Mandatory : No Option Orientation : Vertical

Correct Marks : 1 Wrong Marks : 0.25

निम्नलिखित में से कौन सी टीम ने अप्रैल 2020 तक सबसे अधिक बार अंडर 19 क्रिकेट विश्व कप जीतने का रिकॉर्ड बनाया है?

Options :

1. ✔ भारत
2. ✘ ऑस्ट्रेलिया
3. ✘ पाकिस्तान
4. ✘ इंग्लैण्ड

Question Number : 77 Question Id : 54062619510 Question Type : MCQ Option Shuffling : Yes Is Question Mandatory : No Option Orientation : Vertical

Correct Marks : 1 Wrong Marks : 0.25

Who among the following holds the record of most wins at the Women's World Team Badminton Championships for the Uber Cup as of 31st March 2020?

Options :

1. ✘ United States

2. ✘ Indonesia
3. ✘ Japan
4. ✔ China

Question Number : 77 Question Id : 54062619510 Question Type : MCQ Option Shuffling : Yes Is Question Mandatory : No Option Orientation : Vertical

Correct Marks : 1 Wrong Marks : 0.25

निम्नलिखित में से किसने 31 मार्च 2020 तक उबर कप के लिए महिला विश्व टीम बैडमिंटन चैंपियनशिप में सबसे अधिक जीत का रिकॉर्ड बनाया है?

Options :

1. ✘ संयुक्त राज्य
2. ✘ इंडोनेशिया
3. ✘ जापान
4. ✔ चीन

Question Number : 78 Question Id : 54062619511 Question Type : MCQ Option Shuffling : Yes Is Question Mandatory : No Option Orientation : Vertical

Correct Marks : 1 Wrong Marks : 0.25

The first three Cricket World Cups were also called _____ World Cups.

Options :

1. ✘ Ecstatic
2. ✔ Prudential
3. ✘ Primary
4. ✘ Historical

Question Number : 78 Question Id : 54062619511 Question Type : MCQ Option Shuffling : Yes Is Question Mandatory : No Option Orientation : Vertical

Correct Marks : 1 Wrong Marks : 0.25

पहले तीन क्रिकेट विश्व कप को _____ विश्व कप भी कहा जाता था।

Options :

1. ✘ एक्स्टैटिक
2. ✔ प्रूडेंशियल

3. ✘ प्राइमरी
4. ✘ हिस्टोरिकल

Question Number : 79 Question Id : 54062619512 Question Type : MCQ Option Shuffling : Yes Is Question Mandatory : No Option Orientation : Vertical

Correct Marks : 1 Wrong Marks : 0.25

Who among the following is the only batsman from England to score more than 10,000 runs in Test Cricket as of April 2020?

Options :

1. ✔ Alastair Cook
2. ✘ Kevin Pietersen
3. ✘ Andrew Strauss
4. ✘ Alec Stewart

Question Number : 79 Question Id : 54062619512 Question Type : MCQ Option Shuffling : Yes Is Question Mandatory : No Option Orientation : Vertical

Correct Marks : 1 Wrong Marks : 0.25

निम्नलिखित में से कौन अप्रैल 2020 तक टेस्ट क्रिकेट में 10,000 से अधिक रन बनाने वाला इंग्लैण्ड का एकमात्र बल्लेबाज है?

Options :

1. ✔ एलेस्टेयर कुक
2. ✘ केविन पीटरसन
3. ✘ एंड्रयू स्ट्रॉस
4. ✘ एलेक स्टीवर्ट

Question Number : 80 Question Id : 54062619513 Question Type : MCQ Option Shuffling : Yes Is Question Mandatory : No Option Orientation : Vertical

Correct Marks : 1 Wrong Marks : 0.25

Who among the following holds the record of winning the most Grand Slam titles as of April 2020?

Options :

1. ✘ Rafael Nadal
2. ✘ Novak Djokovic
3. ✔ Roger Federer

4. ✘ Andy Murray

Question Number : 80 Question Id : 54062619513 Question Type : MCQ Option Shuffling : Yes Is Question Mandatory : No Option Orientation : Vertical

Correct Marks : 1 Wrong Marks : 0.25

निम्नलिखित में से कौन अप्रैल 2020 तक सबसे अधिक ग्रैंड स्लैम खिताब जीतने का रिकॉर्ड रखता है?

Options :

1. ✘ रफ़ाएल नडाल
2. ✘ नोवाक जोकोविच
3. ✔ रोजर फ़ेडरर
4. ✘ एंडी मरे

Arithmetic Ability1

Group Number :	5
Group Id :	540626748
Group Maximum Duration :	0
Group Minimum Duration :	0
Show Attended Group? :	No
Edit Attended Group? :	No
Break time :	0
Group Marks :	20
Is this Group for Examiner? :	No

Arithmetic Ability1

Section Id :	540626930
Section Number :	1
Section type :	Online
Mandatory or Optional :	Mandatory
Number of Questions :	20
Number of Questions to be attempted :	20

Section Marks : 20
Enable Mark as Answered Mark for Review and Clear Response : Yes
Sub-Section Number : 1
Sub-Section Id : 5406261123
Question Shuffling Allowed : Yes

Question Number : 81 Question Id : 54062619514 Question Type : MCQ Option Shuffling : Yes Is Question Mandatory : No Option Orientation : Vertical

Correct Marks : 1 Wrong Marks : 0.25

What is the value of $(3.8 \times 12.7 + 3.8 \times 13.5 - 3.8 \times 6.2)$?

Options :

1. ✘ 380
2. ✘ 200
3. ✘ 98
4. ✔ 76

Question Number : 81 Question Id : 54062619514 Question Type : MCQ Option Shuffling : Yes Is Question Mandatory : No Option Orientation : Vertical

Correct Marks : 1 Wrong Marks : 0.25

$(3.8 \times 12.7 + 3.8 \times 13.5 - 3.8 \times 6.2)$ का मान क्या है?

Options :

1. ✘ 380
2. ✘ 200
3. ✘ 98
4. ✔ 76

Question Number : 82 Question Id : 54062619515 Question Type : MCQ Option Shuffling : Yes Is Question Mandatory : No Option Orientation : Vertical

Correct Marks : 1 Wrong Marks : 0.25

What is the greatest number that will divide 41, 91 and 126 so as to leave the same remainder in each case?

Options :

1. ✘ 4

2. ✘ 3
3. ✘ 6
4. ✔ 5

Question Number : 82 Question Id : 54062619515 Question Type : MCQ Option Shuffling : Yes Is Question Mandatory : No Option Orientation : Vertical

Correct Marks : 1 Wrong Marks : 0.25

सबसे बड़ी संख्या क्या है जो 41, 91 और 126 को विभाजित करेगी ताकि प्रत्येक स्थिति में वही समान शेषफल छोड़ें?

Options :

1. ✘ 4
2. ✘ 3
3. ✘ 6
4. ✔ 5

Question Number : 83 Question Id : 54062619516 Question Type : MCQ Option Shuffling : Yes Is Question Mandatory : No Option Orientation : Vertical

Correct Marks : 1 Wrong Marks : 0.25

Sum of three consecutive even numbers and three consecutive odd numbers is 333. Difference between the largest even number and the largest odd number is 21. What is the sum of smallest even number and smallest odd number?

Options :

1. ✔ 107
2. ✘ 111
3. ✘ 115
4. ✘ 105

Question Number : 83 Question Id : 54062619516 Question Type : MCQ Option Shuffling : Yes Is Question Mandatory : No Option Orientation : Vertical

Correct Marks : 1 Wrong Marks : 0.25

तीन क्रमागत सम संख्याओं और तीन क्रमागत विषम संख्याओं का योग 333 है। सबसे बड़ी सम संख्या और सबसे बड़ी विषम संख्या में अंतर 21 है। सबसे छोटी सम संख्या और सबसे छोटी विषम संख्या का योग क्या है?

Options :

1. ✔ 107

2. ✘ 111
3. ✘ 115
4. ✘ 105

Question Number : 84 Question Id : 54062619517 Question Type : MCQ Option Shuffling : Yes Is Question Mandatory : No Option Orientation : Vertical

Correct Marks : 1 Wrong Marks : 0.25

In a pair of fractions, Fraction P is thrice Fraction Q and the product of the two fractions is $\frac{3}{49}$. What is the value of Fraction P?

Options :

1. ✘ $\frac{1}{7}$
2. ✘ $\frac{2}{7}$
3. ✔ $\frac{3}{7}$
4. ✘ $\frac{4}{7}$

Question Number : 84 Question Id : 54062619517 Question Type : MCQ Option Shuffling : Yes Is Question Mandatory : No Option Orientation : Vertical

Correct Marks : 1 Wrong Marks : 0.25

भिन्न की एक जोड़ी में, भिन्न P, भिन्न Q का तीन गुना है और दो भिन्न का गुणनफल $\frac{3}{49}$ है। भिन्न P का मान क्या है?

Options :

1. ✘ $\frac{1}{7}$
2. ✘ $\frac{2}{7}$
3. ✔ $\frac{3}{7}$
4. ✘ $\frac{4}{7}$

Question Number : 85 Question Id : 54062619518 Question Type : MCQ Option Shuffling : Yes Is Question Mandatory : No Option Orientation : Vertical

Correct Marks : 1 Wrong Marks : 0.25

What is the equivalent single discount for two successive discounts of 5 percent and 15 percent?

Options :

1. ✔ 19.25 percent
2. ✘ 14.25 percent
3. ✘ 19 percent

4. ✖ 20 percent

Question Number : 85 Question Id : 54062619518 Question Type : MCQ Option Shuffling : Yes Is Question Mandatory : No Option Orientation : Vertical

Correct Marks : 1 Wrong Marks : 0.25

5 प्रतिशत और 15 प्रतिशत की दो क्रमिक छूट के लिए समकक्ष एकल छूट क्या है?

Options :

1. ✔ 19.25 प्रतिशत
2. ✖ 14.25 प्रतिशत
3. ✖ 19 प्रतिशत
4. ✖ 20 प्रतिशत

Question Number : 86 Question Id : 54062619519 Question Type : MCQ Option Shuffling : Yes Is Question Mandatory : No Option Orientation : Vertical

Correct Marks : 1 Wrong Marks : 0.25

The average monthly income of A and B is Rs. 10200. The average monthly income of B and C is Rs. 9800 and the average monthly income of A and C is Rs. 12250. What is the monthly income of B?

Options :

1. ✖ Rs. 12650
2. ✖ Rs. 11850
3. ✖ Rs. 10550
4. ✔ Rs. 7750

Question Number : 86 Question Id : 54062619519 Question Type : MCQ Option Shuffling : Yes Is Question Mandatory : No Option Orientation : Vertical

Correct Marks : 1 Wrong Marks : 0.25

A और B की औसत मासिक आय 10200 रुपए है । B और C की औसत मासिक आय 9800 रुपए है और A और C की औसत मासिक आय 12250 रुपए है । B की मासिक आय क्या है?

Options :

1. ✖ 12650 रुपए
2. ✖ 11850 रुपए
3. ✖ 10550 रुपए

4. ✓ 7750 रुपए

Question Number : 87 Question Id : 54062619520 Question Type : MCQ Option Shuffling : Yes Is Question Mandatory : No Option Orientation : Vertical

Correct Marks : 1 Wrong Marks : 0.25

A shopkeeper buys 60 pencils at the marked price of 48 pencils from a wholesaler. If he sells these pencils giving a discount of 0.5 percent then what is the profit percent?

Options :

1. ✘ 24 percent
2. ✘ 20.82 percent
3. ✓ 24.375 percent
4. ✘ 22.485 percent

Question Number : 87 Question Id : 54062619520 Question Type : MCQ Option Shuffling : Yes Is Question Mandatory : No Option Orientation : Vertical

Correct Marks : 1 Wrong Marks : 0.25

एक दुकानदार एक थोक व्यापारी से 48 पेंसिलों के चिह्नित मूल्य पर 60 पेंसिल खरीदता है। यदि वह 0.5 प्रतिशत की छूट देकर इन पेंसिलों को बेचता है तो लाभ प्रतिशत क्या है?

Options :

1. ✘ 24 प्रतिशत
2. ✘ 20.82 प्रतिशत
3. ✓ 24.375 प्रतिशत
4. ✘ 22.485 प्रतिशत

Question Number : 88 Question Id : 54062619521 Question Type : MCQ Option Shuffling : Yes Is Question Mandatory : No Option Orientation : Vertical

Correct Marks : 1 Wrong Marks : 0.25

A shopkeeper had some books, notebooks, pencils and erasers. He sells 55 percent of the total units and still has 180 units. How many units he had originally?

Options :

1. ✘ 500
2. ✓ 400

3. ✖ 450

4. ✖ 520

Question Number : 88 Question Id : 54062619521 Question Type : MCQ Option Shuffling : Yes Is Question Mandatory : No Option Orientation : Vertical

Correct Marks : 1 Wrong Marks : 0.25

एक दुकानदार के पास कुछ किताबें, नोटबुक, पेंसिल और रबड़ थे। वह कुल इकाइयों का 55 प्रतिशत बेचता है और अभी भी उसके पास 180 इकाइयाँ हैं। उसके पास मूल रूप से कितनी इकाइयाँ थीं?

Options :

1. ✖ 500

2. ✔ 400

3. ✖ 450

4. ✖ 520

Question Number : 89 Question Id : 54062619522 Question Type : MCQ Option Shuffling : Yes Is Question Mandatory : No Option Orientation : Vertical

Correct Marks : 1 Wrong Marks : 0.25

In a competition exam, Abhinav, Alok and Vikas got first, second and third prize respectively. The first prize was of Rs. 5000, second prize was of Rs. 3000 and third prize was of Rs. 2000. What percent of total prize money did Vikas got?

Options :

1. ✖ 30 percent

2. ✖ 24 percent

3. ✔ 20 percent

4. ✖ 25 percent

Question Number : 89 Question Id : 54062619522 Question Type : MCQ Option Shuffling : Yes Is Question Mandatory : No Option Orientation : Vertical

Correct Marks : 1 Wrong Marks : 0.25

एक प्रतियोगिता परीक्षा में, अभिनव, आलोक और विकास को क्रमशः पहला, दूसरा और तीसरा पुरस्कार मिला। पहला पुरस्कार 5000 रुपए का था, दूसरा पुरस्कार 3000 रुपए का था और तीसरा पुरस्कार 2000 रुपए का था। विकास को कुल पुरस्कार राशि का कितना प्रतिशत मिला?

Options :

1. ✖ 30 प्रतिशत

2. ✘ 24 प्रतिशत
3. ✔ 20 प्रतिशत
4. ✘ 25 प्रतिशत

Question Number : 90 Question Id : 54062619523 Question Type : MCQ Option Shuffling : Yes Is Question Mandatory : No Option Orientation : Vertical

Correct Marks : 1 Wrong Marks : 0.25

Two numbers A and B are such that, the sum of 1 percent of A and 1 percent of B is two-fifth of the difference of 5 percent of A and 2 percent of B. What is the ratio of A and B?

Options :

1. ✘ 4 : 9
2. ✘ 4 : 5
3. ✘ 5 : 4
4. ✔ 9 : 5

Question Number : 90 Question Id : 54062619523 Question Type : MCQ Option Shuffling : Yes Is Question Mandatory : No Option Orientation : Vertical

Correct Marks : 1 Wrong Marks : 0.25

दो संख्याएँ A और B ऐसी हैं कि, A के 1 प्रतिशत और B के 1 प्रतिशत का योग, A के 5 प्रतिशत और B के 2 प्रतिशत के अंतर का दो-पाँचवाँ हिस्सा है। A और B का अनुपात क्या है?

Options :

1. ✘ 4 : 9
2. ✘ 4 : 5
3. ✘ 5 : 4
4. ✔ 9 : 5

Question Number : 91 Question Id : 54062619524 Question Type : MCQ Option Shuffling : Yes Is Question Mandatory : No Option Orientation : Vertical

Correct Marks : 1 Wrong Marks : 0.25

What will be 220 percent of a number whose 180 percent is 135?

Options :

1. ✔ 165

2. ✘ 180
3. ✘ 175
4. ✘ 200

Question Number : 91 Question Id : 54062619524 Question Type : MCQ Option Shuffling : Yes Is Question Mandatory : No Option Orientation : Vertical

Correct Marks : 1 Wrong Marks : 0.25

संख्या का 220 प्रतिशत क्या होगा जिसका 180 प्रतिशत 135 है?

Options :

1. ✔ 165
2. ✘ 180
3. ✘ 175
4. ✘ 200

Question Number : 92 Question Id : 54062619525 Question Type : MCQ Option Shuffling : Yes Is Question Mandatory : No Option Orientation : Vertical

Correct Marks : 1 Wrong Marks : 0.25

Ravina purchases a fan and sells it for Rs. 2200. If she incurs a loss of 12 percent then what is the cost price of the fan?

Options :

1. ✘ Rs.2440
2. ✔ Rs. 2500
3. ✘ Rs. 2350
4. ✘ Rs. 2600

Question Number : 92 Question Id : 54062619525 Question Type : MCQ Option Shuffling : Yes Is Question Mandatory : No Option Orientation : Vertical

Correct Marks : 1 Wrong Marks : 0.25

रवीना एक पंखा खरीदती हैं और उसे 2200 रुपए में बेचती हैं। यदि वह 12 प्रतिशत का नुकसान उठाती है तो पंखे की लागत मूल्य क्या है?

Options :

1. ✘ 2440 रुपए
2. ✔ 2500 रुपए

3. ✖ 2350 रुपए

4. ✖ 2600 रुपए

Question Number : 93 Question Id : 54062619526 Question Type : MCQ Option Shuffling : Yes Is Question Mandatory : No Option Orientation : Vertical

Correct Marks : 1 Wrong Marks : 0.25

The owner of a mobile shop charges 15 percent more than the cost price. If a customer paid Rs. 9200 for a mobile phone then what is the cost price of the mobile phone?

Options :

1. ✔ Rs. 8000

2. ✖ Rs. 8800

3. ✖ Rs. 7900

4. ✖ Rs. 7800

Question Number : 93 Question Id : 54062619526 Question Type : MCQ Option Shuffling : Yes Is Question Mandatory : No Option Orientation : Vertical

Correct Marks : 1 Wrong Marks : 0.25

एक मोबाइल की दुकान का मालिक लागत मूल्य से 15 प्रतिशत अधिक शुल्क लेता है। यदि कोई ग्राहक मोबाइल फोन के लिए 9200 रुपए का भुगतान करता है तो मोबाइल फोन की लागत मूल्य क्या है?

Options :

1. ✔ 8000 रुपए

2. ✖ 8800 रुपए

3. ✖ 7900 रुपए

4. ✖ 7800 रुपए

Question Number : 94 Question Id : 54062619527 Question Type : MCQ Option Shuffling : Yes Is Question Mandatory : No Option Orientation : Vertical

Correct Marks : 1 Wrong Marks : 0.25

Rohan owns a field worth of Rs. 40000. He sells it to Kajal at a profit of 10 percent. After some time, Kajal sells it back to Rohan at 5 percent loss. What is the profit or loss percent of Rohan?

Options :

1. ✖ 5 percent loss

2. ✘ 5.5 percent loss
3. ✔ 5.5 percent profit
4. ✘ 5 percent profit

Question Number : 94 Question Id : 54062619527 Question Type : MCQ Option Shuffling : Yes Is Question Mandatory : No Option Orientation : Vertical

Correct Marks : 1 Wrong Marks : 0.25

रोहन के पास 40000 रुपए के मूल्य का खेत है। वह इसे 10 प्रतिशत के लाभ पर काजल को बेचता है। कुछ समय बाद, काजल इसे 5 प्रतिशत हानि पर वापस रोहन को बेच देती है। रोहन का लाभ या हानि प्रतिशत क्या है?

Options :

1. ✘ 5 प्रतिशत हानि
2. ✘ 5.5 प्रतिशत हानि
3. ✔ 5.5 प्रतिशत लाभ
4. ✘ 5 प्रतिशत लाभ

Question Number : 95 Question Id : 54062619528 Question Type : MCQ Option Shuffling : Yes Is Question Mandatory : No Option Orientation : Vertical

Correct Marks : 1 Wrong Marks : 0.25

What is the compounded ratio of (1 : 3), (5 : 11) and (22 : 25)?

Options :

1. ✘ 1 : 25
2. ✘ 3 : 5
3. ✘ 11 : 25
4. ✔ 2 : 15

Question Number : 95 Question Id : 54062619528 Question Type : MCQ Option Shuffling : Yes Is Question Mandatory : No Option Orientation : Vertical

Correct Marks : 1 Wrong Marks : 0.25

(1 : 3), (5 : 11) और (22 : 25) का चक्रवृद्धि अनुपात क्या है?

Options :

1. ✘ 1 : 25

2. ✘ 3 : 5
3. ✘ 11 : 25
4. ✔ 2 : 15

Question Number : 96 Question Id : 54062619529 Question Type : MCQ Option Shuffling : Yes Is Question Mandatory : No Option Orientation : Vertical

Correct Marks : 1 Wrong Marks : 0.25

A sum of money is to be distributed among Ram, Shayam, Hari and Mohan in the proportion of 5 : 7 : 8 : 11. If Hari gets Rs. 240 more than Ram then what is Mohan's share?

Options :

1. ✘ Rs. 440
2. ✘ Rs. 550
3. ✘ Rs. 660
4. ✔ Rs. 880

Question Number : 96 Question Id : 54062619529 Question Type : MCQ Option Shuffling : Yes Is Question Mandatory : No Option Orientation : Vertical

Correct Marks : 1 Wrong Marks : 0.25

5 : 7 : 8 : 11 के अनुपात में राम, श्याम, हरि और मोहन के बीच धन राशि का वितरण किया जाना है। यदि हरि को राम से 240 रुपए अधिक मिलते हैं तो मोहन का हिस्सा क्या है?

Options :

1. ✘ 440 रुपए
2. ✘ 550 रुपए
3. ✘ 660 रुपए
4. ✔ 880 रुपए

Question Number : 97 Question Id : 54062619530 Question Type : MCQ Option Shuffling : Yes Is Question Mandatory : No Option Orientation : Vertical

Correct Marks : 1 Wrong Marks : 0.25

Divide Rs. 6014 among X, Y and Z such that 2 times X's share, 3 times Y's share and 5 times Z's share are all equal. What are the shares of X, Y and Z respectively?

Options :

1. ✓ Rs. 2910, Rs. 1940, Rs. 1164
2. ✗ Rs. 2410, Rs. 2048, Rs. 1556
3. ✗ Rs. 3020, Rs. 1580, Rs. 1414
4. ✗ Rs. 2890, Rs. 1860, Rs. 1264

Question Number : 97 Question Id : 54062619530 Question Type : MCQ Option Shuffling : Yes Is Question Mandatory : No Option Orientation : Vertical

Correct Marks : 1 Wrong Marks : 0.25

6014 रुपए को X, Y और Z के बीच इस तरह से विभाजित करें कि 2 गुना X का हिस्सा, 3 गुना Y का हिस्सा और 5 गुना Z का हिस्सा सभी बराबर है। क्रमशः X, Y और Z का हिस्सा क्या है?

Options :

1. ✓ 2910 रुपए, 1940 रुपए, 1164 रुपए
2. ✗ 2410 रुपए, 2048 रुपए, 1556 रुपए
3. ✗ 3020 रुपए, 1580 रुपए, 1414 रुपए
4. ✗ 2890 रुपए, 1860 रुपए, 1264 रुपए

Question Number : 98 Question Id : 54062619531 Question Type : MCQ Option Shuffling : Yes Is Question Mandatory : No Option Orientation : Vertical

Correct Marks : 1 Wrong Marks : 0.25

Alloy P contains 70 percent Copper and 30 percent Zinc. Alloy Q contains 40 percent Copper, 25 percent Zinc and 35 percent aluminium. Alloy P and Q are mixed in the ratio of 1 : 3. What is the ratio of Copper and Zinc in the newly formed alloy?

Options :

1. ✗ 1 : 1
2. ✓ 38 : 21
3. ✗ 21 : 41
4. ✗ 41 : 30

Question Number : 98 Question Id : 54062619531 Question Type : MCQ Option Shuffling : Yes Is Question Mandatory : No Option Orientation : Vertical

Correct Marks : 1 Wrong Marks : 0.25

मिश्रातु P में 70 प्रतिशत तांबा और 30 प्रतिशत जस्ता होता है। मिश्रातु Q में 40 प्रतिशत तांबा, 25 प्रतिशत जस्ता और 35 प्रतिशत एल्युमिनियम होता है। मिश्रातु P और Q को 1 : 3 के अनुपात में मिश्रित किया गया है। नए बने मिश्रातु में तांबा और जस्ता का अनुपात क्या है?

Options :

1. ✘ 1 : 1
2. ✔ 38 : 21
3. ✘ 21 : 41
4. ✘ 41 : 30

Question Number : 99 Question Id : 54062619532 Question Type : MCQ Option Shuffling : Yes Is Question Mandatory : No Option Orientation : Vertical

Correct Marks : 1 Wrong Marks : 0.25

Anuradha lent Rs. 4000 to Ankit for 2 years and Rs. 6000 to Chitra for 3 years on simple interest at the same rate of interest and received Rs. 1560 in all from both of them as interest. What is the rate of interest per annum?

Options :

1. ✘ 4 percent
2. ✘ 5 percent
3. ✔ 6 percent
4. ✘ 10 percent

Question Number : 99 Question Id : 54062619532 Question Type : MCQ Option Shuffling : Yes Is Question Mandatory : No Option Orientation : Vertical

Correct Marks : 1 Wrong Marks : 0.25

अनुराधा ने अंकित को 2 वर्ष के लिए 4000 रुपए और चित्रा को 3 वर्ष के लिए 6000 रुपए ब्याज के समान दर पर साधारण ब्याज पर उधार दिया और दोनों से 1560 रुपए के रूप में ब्याज प्राप्त किया। प्रति वर्ष ब्याज दर क्या है?

Options :

1. ✘ 4 प्रतिशत
2. ✘ 5 प्रतिशत
3. ✔ 6 प्रतिशत
4. ✘ 10 प्रतिशत

Question Number : 100 Question Id : 54062619533 Question Type : MCQ Option Shuffling : Yes Is Question Mandatory : No Option Orientation : Vertical

Correct Marks : 1 Wrong Marks : 0.25

There is 50 percent increase in an amount in 5 years at simple interest. What will be the compound interest of Rs. 15000 after 2 years at the same

rate?

Options :

1. ✘ Rs. 8150
2. ✘ Rs. 6050
3. ✘ Rs. 4150
4. ✔ Rs. 3150

Question Number : 100 Question Id : 54062619533 Question Type : MCQ Option Shuffling : Yes Is Question Mandatory : No Option Orientation : Vertical

Correct Marks : 1 Wrong Marks : 0.25

साधारण ब्याज पर 5 वर्षों में एक राशि में 50 प्रतिशत की वृद्धि होती है। 2 वर्ष बाद उसी दर पर 15000 रुपए का चक्रवृद्धि ब्याज क्या होगा ?

Options :

1. ✘ 8150 रुपए
2. ✘ 6050 रुपए
3. ✘ 4150 रुपए
4. ✔ 3150 रुपए

Arithmetic Ability2

Group Number :	6
Group Id :	540626749
Group Maximum Duration :	0
Group Minimum Duration :	0
Show Attended Group? :	No
Edit Attended Group? :	No
Break time :	0
Group Marks :	20
Is this Group for Examiner? :	No

Arithmetic Ability2

Section Id :	540626931
Section Number :	1
Section type :	Online
Mandatory or Optional :	Mandatory
Number of Questions :	20
Number of Questions to be attempted :	20
Section Marks :	20
Enable Mark as Answered Mark for Review and Clear Response :	Yes
Sub-Section Number :	1
Sub-Section Id :	5406261124
Question Shuffling Allowed :	Yes

Question Number : 101 Question Id : 54062619534 Question Type : MCQ Option Shuffling : Yes Is Question Mandatory : No Option Orientation : Vertical

Correct Marks : 1 Wrong Marks : 0.25

What is the difference between simple interest and compound interest on Rs. 10000 for 1 year at 20 percent per annum compounded half-yearly?

Options :

1. ✓ Rs. 100
2. ✗ Rs. 125
3. ✗ Rs. 135
4. ✗ Rs. 150

Question Number : 101 Question Id : 54062619534 Question Type : MCQ Option Shuffling : Yes Is Question Mandatory : No Option Orientation : Vertical

Correct Marks : 1 Wrong Marks : 0.25

प्रतिवर्ष 20 प्रतिशत पर 1 वर्ष के लिए 10000 रुपए पर साधारण ब्याज और चक्रवृद्धि ब्याज के बीच क्या अंतर है जिसे अर्धवार्षिक रूप से चक्रवृद्धि किया गया है?

Options :

1. ✓ 100 रुपए
2. ✗ 125 रुपए
3. ✗ 135 रुपए
4. ✗ 150 रुपए

Question Number : 102 Question Id : 54062619535 Question Type : MCQ Option Shuffling : Yes Is Question Mandatory : No Option Orientation : Vertical

Correct Marks : 1 Wrong Marks : 0.25

At what rate of compound interest per annum will a sum of Rs. 75000 become Rs. 84364.80 in 3 years?

Options :

1. ✘ 10 percent
2. ✘ 12 percent
3. ✘ 8 percent
4. ✔ 4 percent

Question Number : 102 Question Id : 54062619535 Question Type : MCQ Option Shuffling : Yes Is Question Mandatory : No Option Orientation : Vertical

Correct Marks : 1 Wrong Marks : 0.25

3 वर्षों में, 75000 रुपए की धन राशि प्रति वर्ष चक्रवृद्धि ब्याज के किस दर पर 84364.80 रुपए हो जाएगी?

Options :

1. ✘ 10 प्रतिशत
2. ✘ 12 प्रतिशत
3. ✘ 8 प्रतिशत
4. ✔ 4 प्रतिशत

Question Number : 103 Question Id : 54062619536 Question Type : MCQ Option Shuffling : Yes Is Question Mandatory : No Option Orientation : Vertical

Correct Marks : 1 Wrong Marks : 0.25

Akash reaches office 30 minutes late by travelling at a speed of 2 Km/hr. If he travels at 4 Km/hr, he reaches 15 minutes earlier, then what is the distance Akash has to travel to reach office?

Options :

1. ✘ 5 Km
2. ✔ 3 Km
3. ✘ 10 Km
4. ✘ 8 Km

Question Number : 103 Question Id : 54062619536 Question Type : MCQ Option Shuffling : Yes Is Question Mandatory : No Option

Orientation : Vertical

Correct Marks : 1 Wrong Marks : 0.25

आकाश 2 Km/hr की गति से यात्रा करके 30 मिनट देरी से कार्यालय पहुंचता है। यदि वह 4 Km/hr की गति से यात्रा करता है, वह 15 मिनट पहले पहुंचता है, तो आकाश को कार्यालय पहुंचने के लिए कितनी दूरी तय करनी होगी?

Options :

1. ✘ 5 Km
2. ✔ 3 Km
3. ✘ 10 Km
4. ✘ 8 Km

Question Number : 104 Question Id : 54062619537 Question Type : MCQ Option Shuffling : Yes Is Question Mandatory : No Option

Orientation : Vertical

Correct Marks : 1 Wrong Marks : 0.25

What is the average speed of a body if it covers a particular distance at the rate of p Km/hr and another equal distance at the rate of q Km/hr?

Options :

1. ✘ $2p/(p+q)$ Km/hr
2. ✘ $2pq/(p-q)$ Km/hr
3. ✔ $2pq/(p+q)$ Km/hr
4. ✘ $2q/(p-q)$ Km/hr

Question Number : 104 Question Id : 54062619537 Question Type : MCQ Option Shuffling : Yes Is Question Mandatory : No Option

Orientation : Vertical

Correct Marks : 1 Wrong Marks : 0.25

एक निकाय की औसत गति क्या है यदि यह p Km/hr की गति से एक विशेष दूरी तय करता है और q Km/hr की गति से एक और समान दूरी तय करता है?

Options :

1. ✘ $2p/(p+q)$ Km/hr
2. ✘ $2pq/(p-q)$ Km/hr
3. ✔ $2pq/(p+q)$ Km/hr
4. ✘ $2q/(p-q)$ Km/hr

Question Number : 105 Question Id : 54062619538 Question Type : MCQ Option Shuffling : Yes Is Question Mandatory : No Option

Orientation : Vertical

Correct Marks : 1 Wrong Marks : 0.25

A brother and his sister start from point X with speed 9 Km/hr and 6 Km/hr respectively. If the brother starts 30 minutes after his sister and reaches a point Y, 30 minutes before his sister then what is the distance between X and Y?

Options :

1. ✘ 54 Km
2. ✘ 48 Km
3. ✘ 28 Km
4. ✔ 18 Km

Question Number : 105 Question Id : 54062619538 Question Type : MCQ Option Shuffling : Yes Is Question Mandatory : No Option Orientation : Vertical

Correct Marks : 1 Wrong Marks : 0.25

एक भाई और उसकी बहन बिंदु X से क्रमशः 9 Km/hr और 6 Km/hr की गति से शुरू करते हैं। यदि भाई अपनी बहन के 30 मिनट बाद शुरू करता है और अपनी बहन से 30 मिनट पहले एक बिंदु Y पर पहुंचता है, तो X और Y के बीच की दूरी क्या है?

Options :

1. ✘ 54 Km
2. ✘ 48 Km
3. ✘ 28 Km
4. ✔ 18 Km

Question Number : 106 Question Id : 54062619539 Question Type : MCQ Option Shuffling : Yes Is Question Mandatory : No Option Orientation : Vertical

Correct Marks : 1 Wrong Marks : 0.25

X can do a piece of work in 24 days. Y can do this work in 20 days. X started the work alone. After how many days should Y join him, so that the work is finished in 12 days?

Options :

1. ✔ 2 days
2. ✘ 5 days
3. ✘ 7 days
4. ✘ 10 days

Question Number : 106 Question Id : 54062619539 Question Type : MCQ Option Shuffling : Yes Is Question Mandatory : No Option

Orientation : Vertical

Correct Marks : 1 Wrong Marks : 0.25

X 24 दिनों में एक कार्य कर सकता है। Y यह कार्य 20 दिनों में कर सकता है। X ने अकेले कार्य शुरू किया। कितने दिनों के बाद Y को उसके साथ जुड़ना चाहिए, ताकि 12 दिनों में कार्य खत्म हो जाए?

Options :

1. ✓ 2 दिन
2. ✗ 5 दिन
3. ✗ 7 दिन
4. ✗ 10 दिन

Question Number : 107 Question Id : 54062619540 Question Type : MCQ Option Shuffling : Yes Is Question Mandatory : No Option Orientation : Vertical

Correct Marks : 1 Wrong Marks : 0.25

How many hectares can 14 men reap in 12 days, if 8 men can reap 90 hectares in 21 days?

Options :

1. ✗ 108 hectares
2. ✓ 90 hectares
3. ✗ 84 hectares
4. ✗ 78 hectares

Question Number : 107 Question Id : 54062619540 Question Type : MCQ Option Shuffling : Yes Is Question Mandatory : No Option Orientation : Vertical

Correct Marks : 1 Wrong Marks : 0.25

12 दिनों में 14 आदमी कितने हेक्टर की कटाई कर सकते हैं, यदि 8 आदमी 21 दिनों में 90 हेक्टर की कटाई कर सकते हैं?

Options :

1. ✗ 108 हेक्टर
2. ✓ 90 हेक्टर
3. ✗ 84 हेक्टर
4. ✗ 78 हेक्टर

Question Number : 108 Question Id : 54062619541 Question Type : MCQ Option Shuffling : Yes Is Question Mandatory : No Option

Orientation : Vertical

Correct Marks : 1 Wrong Marks : 0.25

25 men can do a piece of work in 35 days working 6 hours a day, then how many men will be required to complete the work in 21 days by working 5 hours a day?

Options :

1. ✘ 45 men
2. ✘ 35 men
3. ✔ 50 men
4. ✘ 48 men

Question Number : 108 Question Id : 54062619541 Question Type : MCQ Option Shuffling : Yes Is Question Mandatory : No Option

Orientation : Vertical

Correct Marks : 1 Wrong Marks : 0.25

25 आदमी एक दिन में 6 घंटे काम करके 35 दिनों में एक कार्य कर सकते हैं, तो 21 दिन में रोज 5 घंटे काम करके कार्य को पूरा करने में कितने आदमियों की आवश्यकता होगी?

Options :

1. ✘ 45 आदमी
2. ✘ 35 आदमी
3. ✔ 50 आदमी
4. ✘ 48 आदमी

Question Number : 109 Question Id : 54062619542 Question Type : MCQ Option Shuffling : Yes Is Question Mandatory : No Option

Orientation : Vertical

Correct Marks : 1 Wrong Marks : 0.25

25 men can do a piece of work in 35 days working 6 hours a day, then how many men will be required to complete the work in 21 days by working 5 hours a day?

Options :

1. ✘ 10 men
2. ✔ 50 men
3. ✘ 18 men
4. ✘ 60 men

Question Number : 109 Question Id : 54062619542 Question Type : MCQ Option Shuffling : Yes Is Question Mandatory : No Option Orientation : Vertical

Correct Marks : 1 Wrong Marks : 0.25

25 पुरुष एक दिन में 6 घंटे काम करके 35 दिनों में एक काम कर सकते हैं, फिर कितने पुरुषों को 5 घंटे काम करके 21 दिनों में काम पूरा करना होगा?

Options :

1. ✘ 10 पुरुष
2. ✔ 50 पुरुष
3. ✘ 18 पुरुष
4. ✘ 60 पुरुष

Question Number : 110 Question Id : 54062619543 Question Type : MCQ Option Shuffling : Yes Is Question Mandatory : No Option Orientation : Vertical

Correct Marks : 1 Wrong Marks : 0.25

The volume of a spherical ball is 113040 cu mm. What is the radius of the ball?

Options :

1. ✘ 60 mm
2. ✘ 40 mm
3. ✔ 30 mm
4. ✘ 15 mm

Question Number : 110 Question Id : 54062619543 Question Type : MCQ Option Shuffling : Yes Is Question Mandatory : No Option Orientation : Vertical

Correct Marks : 1 Wrong Marks : 0.25

गोलाकार गेंद का आयतन 113040 cu mm है। गेंद की त्रिज्या क्या है?

Options :

1. ✘ 60 mm
2. ✘ 40 mm
3. ✔ 30 mm
4. ✘ 15 mm

Question Number : 111 Question Id : 54062619544 Question Type : MCQ Option Shuffling : Yes Is Question Mandatory : No Option Orientation : Vertical

Correct Marks : 1 Wrong Marks : 0.25

What is the area of the lateral surface of a right circular cylinder, if the perimeter of the base is 22 cm and its height is four times of its radius?

Options :

1. ✘ 176 Sq. cm
2. ✘ 210 Sq. cm
3. ✔ 308 Sq. cm
4. ✘ 296 Sq. cm

Question Number : 111 Question Id : 54062619544 Question Type : MCQ Option Shuffling : Yes Is Question Mandatory : No Option Orientation : Vertical

Correct Marks : 1 Wrong Marks : 0.25

दाएं गोलाकार बेलन की पार्श्व पृष्ठीय क्षेत्रफल क्या है, यदि आधार का परिमाण 22 cm है और इसकी ऊंचाई इसकी त्रिज्या का चार गुना है?

Options :

1. ✘ 176 Sq. cm
2. ✘ 210 Sq. cm
3. ✔ 308 Sq. cm
4. ✘ 296 Sq. cm

Question Number : 112 Question Id : 54062619545 Question Type : MCQ Option Shuffling : Yes Is Question Mandatory : No Option Orientation : Vertical

Correct Marks : 1 Wrong Marks : 0.25

The volume of a cone is 462 cu cm and its base area is 154 sq. cm. What is the slant height of the cone?

Options :

1. ✘ $\sqrt{102}$ cm
2. ✘ $\sqrt{118}$ cm
3. ✘ $\sqrt{107}$ cm
4. ✔ $\sqrt{130}$ cm

Question Number : 112 Question Id : 54062619545 Question Type : MCQ Option Shuffling : Yes Is Question Mandatory : No Option Orientation : Vertical

Correct Marks : 1 Wrong Marks : 0.25

एक शंकु का आयतन 462 cu cm है और इसका आधार क्षेत्र 154 sq. cm है। शंकु की तिर्यक ऊँचाई क्या है?

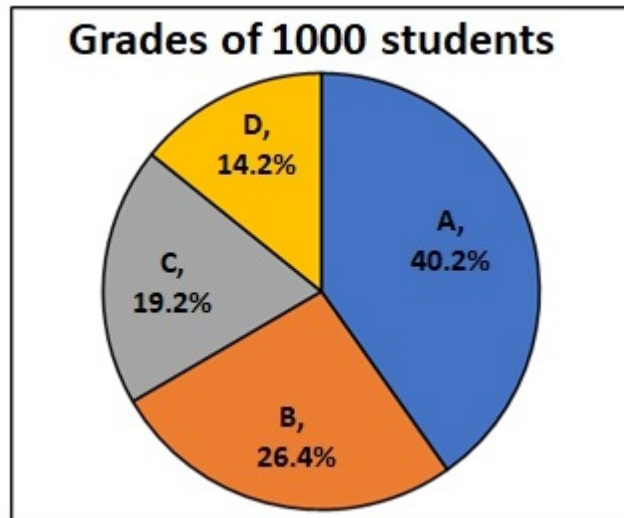
Options :

1. ✘ $\sqrt{102}$ cm
2. ✘ $\sqrt{118}$ cm
3. ✘ $\sqrt{107}$ cm
4. ✔ $\sqrt{130}$ cm

Question Number : 113 Question Id : 54062619546 Question Type : MCQ Option Shuffling : Yes Is Question Mandatory : No Option Orientation : Vertical

Correct Marks : 1 Wrong Marks : 0.25

There are 1000 students in a school. The following pie-chart shows the percentage of total students got grade in the annual exam. How many students get C grade in the exam?



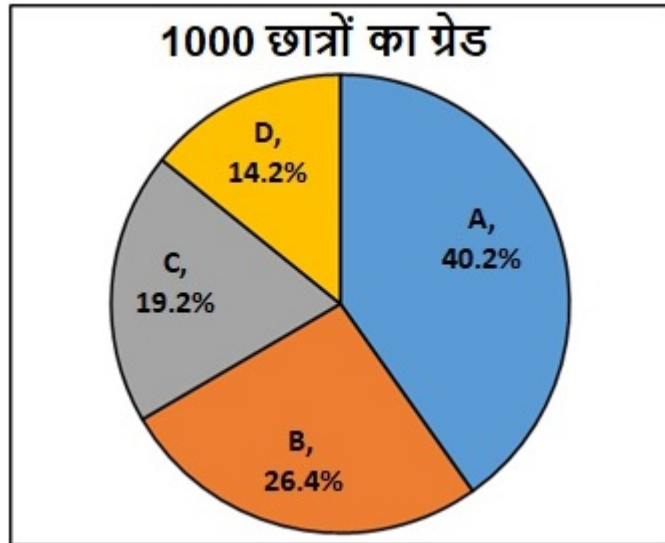
Options :

1. ✘ 402
2. ✘ 264
3. ✔ 192
4. ✘ 142

Question Number : 113 Question Id : 54062619546 Question Type : MCQ Option Shuffling : Yes Is Question Mandatory : No Option Orientation : Vertical

Correct Marks : 1 Wrong Marks : 0.25

एक विद्यालय में 1000 छात्र हैं। निम्नलिखित पाई-चार्ट वार्षिक परीक्षा में ग्रेड प्राप्त करने वाले कुल छात्रों का प्रतिशत दर्शाता है। कितने छात्रों को परीक्षा में C ग्रेड मिलता है?



Options :

- ✘ 402
- ✘ 264
- ✔ 192
- ✘ 142

Question Number : 114 Question Id : 54062619547 Question Type : MCQ Option Shuffling : Yes Is Question Mandatory : No Option Orientation : Vertical

Correct Marks : 1 Wrong Marks : 0.25

Marks of 3 friends are given. All the marks given are out of 100. What is the difference between average marks of English and Accounts of all the three?

Name/Subjects	English	Maths	Accounts	Economics
Avi	81	95	70	68
Piyush	90	65	70	76
Akash	75	78	82	70

Options :

1. ✖ 12
2. ✔ 8
3. ✖ 22
4. ✖ 7

Question Number : 114 Question Id : 54062619547 Question Type : MCQ Option Shuffling : Yes Is Question Mandatory : No Option Orientation : Vertical

Correct Marks : 1 Wrong Marks : 0.25

3 दोस्तों के अंक दिए गए हैं। सभी अंक 100 में से दिए गए हैं। तीनों के अंग्रेजी और अकाउंट्स के औसत अंकों में क्या अंतर है?

नाम/विषय	अंग्रेजी	गणित	अकाउंट्स	अर्थशास्त्र
अवि	81	95	70	68
पीयूष	90	65	70	76
आकाश	75	78	82	70

Options :

1. ✖ 12
2. ✔ 8
3. ✖ 22
4. ✖ 7

Question Number : 115 Question Id : 54062619548 Question Type : MCQ Option Shuffling : Yes Is Question Mandatory : No Option Orientation : Vertical

Correct Marks : 1 Wrong Marks : 0.25

The table shows the number of the ACs that were sold by the showroom from the year 2011 to 2015. How much percentage of ACs sold by showroom Q in 2012 was less than those sold by showroom S in 2014?

Showroom/Years	2011	2012	2013	2014	2015
P	60	54	80	72	80
Q	100	92	98	88	105
R	120	122	100	140	142
S	180	152	105	100	98

Options :

1. ✓ 8 percent
2. ✗ 9 percent
3. ✗ 10 percent
4. ✗ 11 percent

Question Number : 115 Question Id : 54062619548 Question Type : MCQ Option Shuffling : Yes Is Question Mandatory : No Option Orientation : Vertical

Correct Marks : 1 Wrong Marks : 0.25

तालिका, वर्ष 2011 से 2015 तक शोरूम द्वारा बेचे गए AC की संख्या को दर्शाता है। 2012 में शोरूम Q द्वारा बेचे गए AC का प्रतिशत 2014 में शोरूम S द्वारा बेचे गए की तुलना में कितना कम था?

शोरूम/वर्ष	2011	2012	2013	2014	2015
P	60	54	80	72	80
Q	100	92	98	88	105
R	120	122	100	140	142
S	180	152	105	100	98

Options :

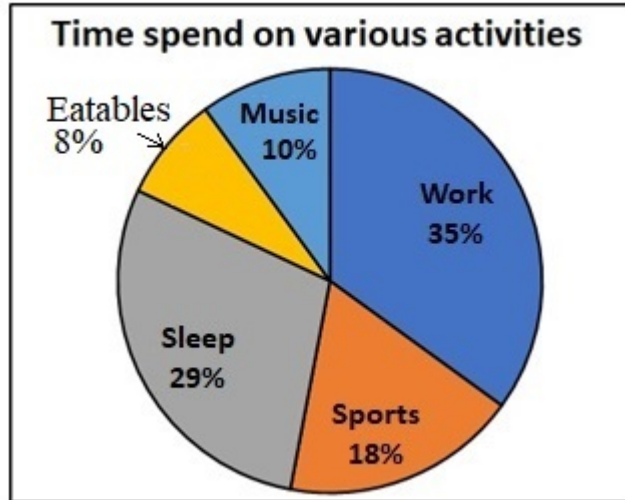
1. ✓ 8 प्रतिशत
2. ✗ 9 प्रतिशत
3. ✗ 10 प्रतिशत
4. ✗ 11 प्रतिशत

Question Number : 116 Question Id : 54062619549 Question Type : MCQ Option Shuffling : Yes Is Question Mandatory : No Option

Orientation : Vertical

Correct Marks : 1 Wrong Marks : 0.25

The pie chart shows the amount of time each day that Kapil spends on various activities. What is the angle for the sector of the pie-chart representing the time he spends on work and music respectively?



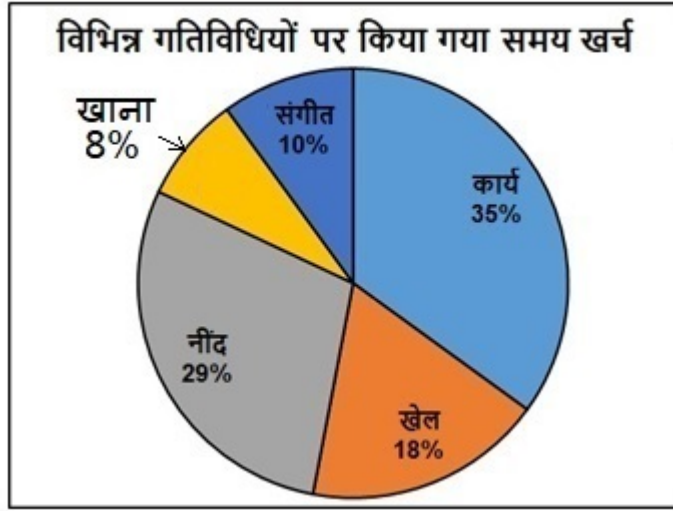
Options :

1. ✘ $168^\circ, 36^\circ$
2. ✔ $126^\circ, 36^\circ$
3. ✘ $135^\circ, 45^\circ$
4. ✘ $116^\circ, 64^\circ$

Question Number : 116 Question Id : 54062619549 Question Type : MCQ Option Shuffling : Yes Is Question Mandatory : No Option Orientation : Vertical

Correct Marks : 1 Wrong Marks : 0.25

पाई चार्ट हर दिन उस समय की मात्रा को दर्शाता है जो कपिल विभिन्न गतिविधियों पर बिताता है। पाई-चार्ट के क्षेत्र के लिए कोण क्या है जो वह क्रमशः काम और संगीत पर बिताता है?



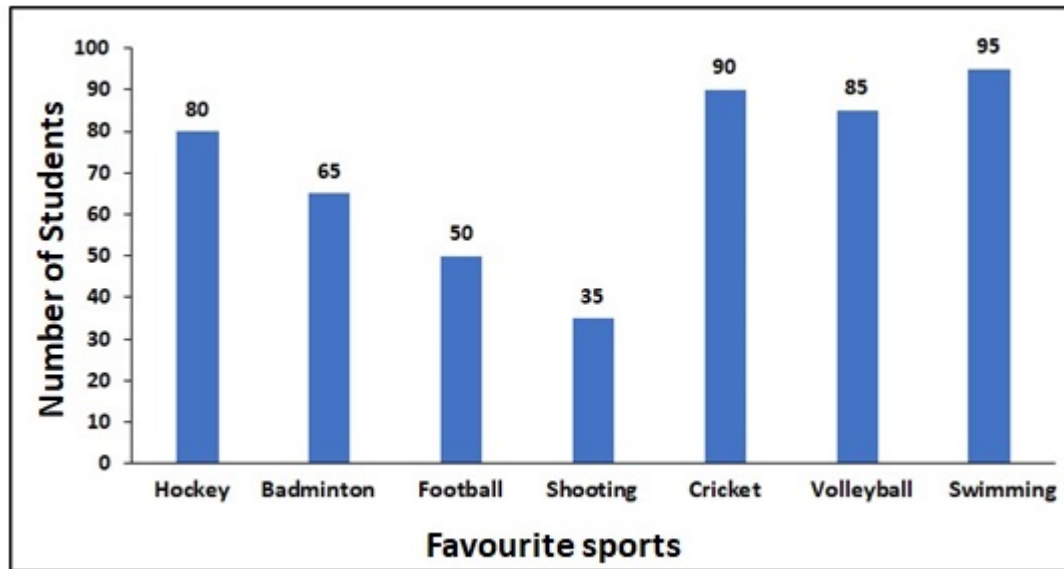
Options :

- ✘ $168^\circ, 36^\circ$
- ✔ $126^\circ, 36^\circ$
- ✘ $135^\circ, 45^\circ$
- ✘ $116^\circ, 64^\circ$

Question Number : 117 Question Id : 54062619550 Question Type : MCQ Option Shuffling : Yes Is Question Mandatory : No Option Orientation : Vertical

Correct Marks : 1 Wrong Marks : 0.25

The following bar graph shows the favourite sports of 500 students of a school. How much percent of the total students choose shooting as their favourite sport?



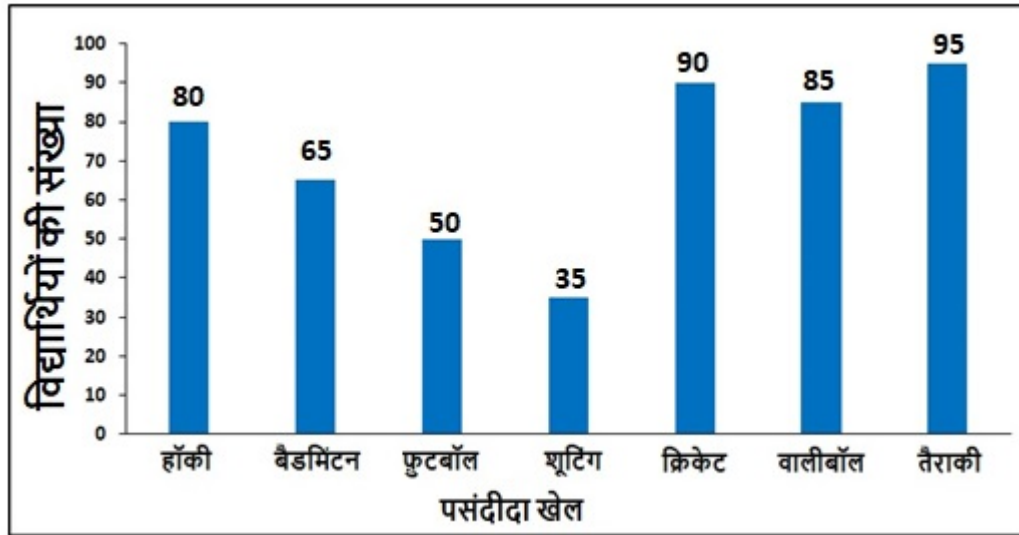
Options :

1. ✘ 10 percent
2. ✘ 8 percent
3. ✔ 7 percent
4. ✘ 5 percent

Question Number : 117 Question Id : 54062619550 Question Type : MCQ Option Shuffling : Yes Is Question Mandatory : No Option Orientation : Vertical

Correct Marks : 1 Wrong Marks : 0.25

निम्नलिखित बार ग्राफ एक विद्यालय के 500 छात्रों के पसंदीदा खेल को दर्शाता है। कुल छात्रों में से कितने प्रतिशत अपने पसंदीदा खेल के रूप में शूटिंग का चयन किया हैं?



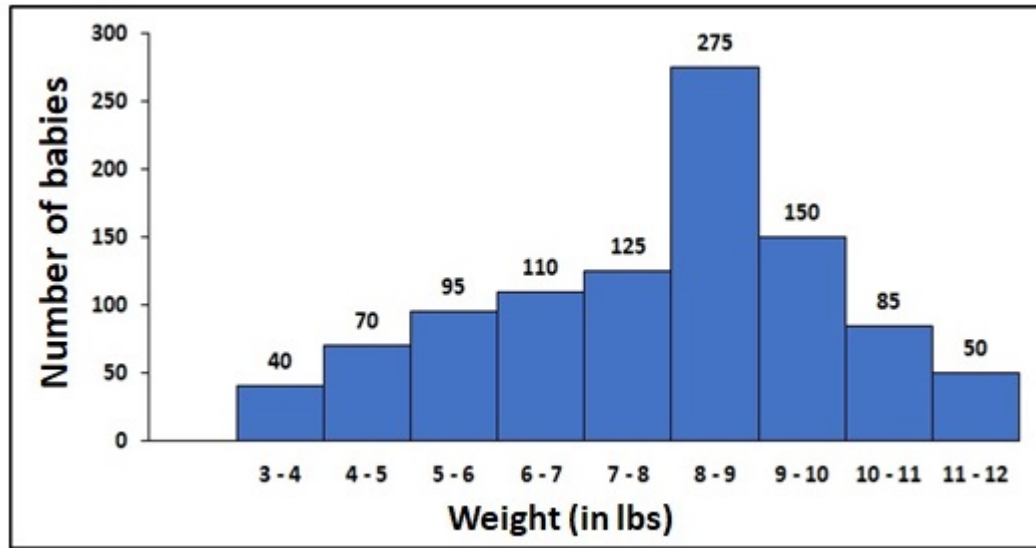
Options :

1. ✘ 10 प्रतिशत
2. ✘ 8 प्रतिशत
3. ✔ 7 प्रतिशत
4. ✘ 5 प्रतिशत

Question Number : 118 Question Id : 54062619551 Question Type : MCQ Option Shuffling : Yes Is Question Mandatory : No Option Orientation : Vertical

Correct Marks : 1 Wrong Marks : 0.25

The histogram shows the birth weight of 1000 new born babies. Babies who weigh less than 6 lb are considered to have low birth weight and babies who weigh 9 lb or more are considered to have a high birth weight. What percent of the babies had neither a low nor a high birth weight?



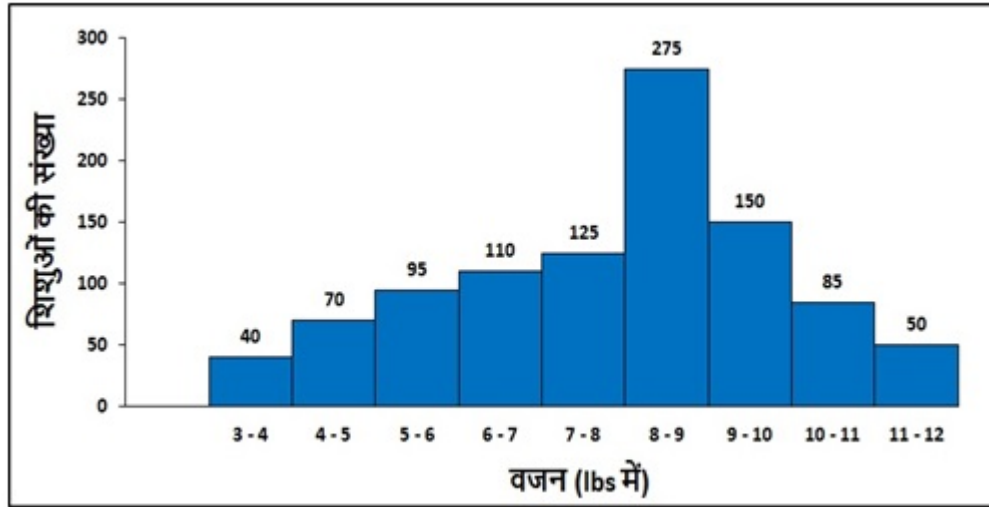
Options :

- ✘ 40 percent
- ✘ 37 percent
- ✘ 62 percent
- ✔ 51 percent

Question Number : 118 Question Id : 54062619551 Question Type : MCQ Option Shuffling : Yes Is Question Mandatory : No Option Orientation : Vertical

Correct Marks : 1 Wrong Marks : 0.25

आयतचित्र 1000 नवजात शिशुओं के जन्म के समय के वजन को दर्शाता है। जिन शिशुओं का वजन 6 lb से कम है, उन्हें जन्म के समय कम वजन वाला माना जाता है और जिन शिशुओं का वजन 9 lb या उससे अधिक होता है, उन्हें जन्म के समय अधिक वजन वाला माना जाता है। कितने प्रतिशत शिशुओं के जन्म के समय का वजन न तो कम और न ही अधिक था?



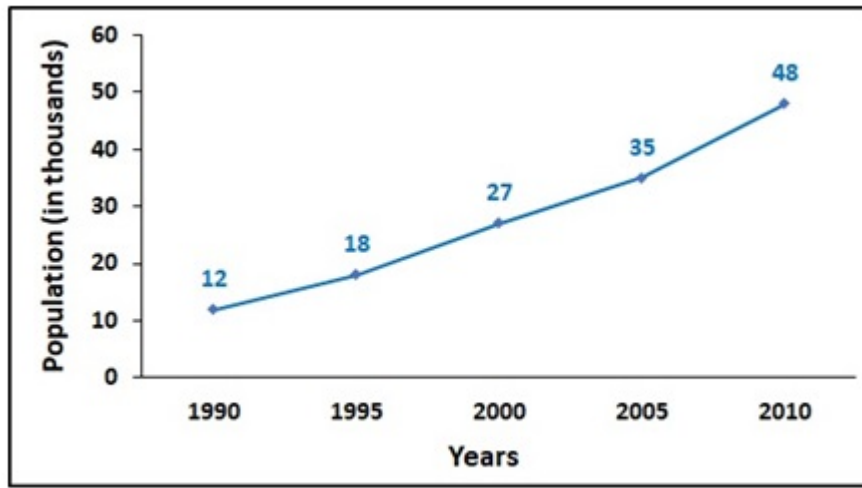
Options :

- ✘ 40 प्रतिशत
- ✘ 37 प्रतिशत
- ✘ 62 प्रतिशत
- ✔ 51 प्रतिशत

Question Number : 119 Question Id : 54062619552 Question Type : MCQ Option Shuffling : Yes Is Question Mandatory : No Option Orientation : Vertical

Correct Marks : 1 Wrong Marks : 0.25

The population of a city was recorded in every five years from 1990 to 2010. What is the increase in percent of the population from 1990 to 2010?



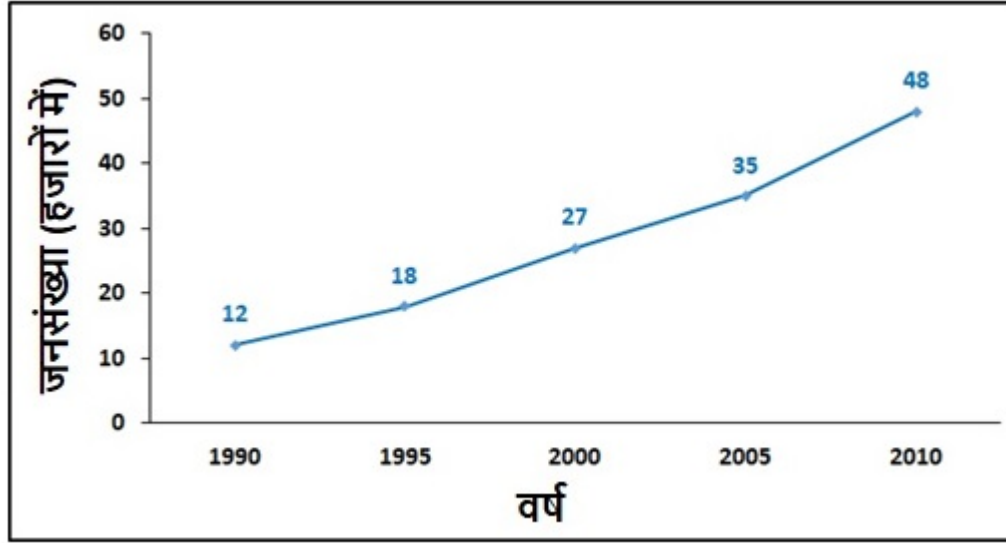
Options :

1. ✘ 480 percent
2. ✘ 400 percent
3. ✔ 300 percent
4. ✘ 280 percent

Question Number : 119 Question Id : 54062619552 Question Type : MCQ Option Shuffling : Yes Is Question Mandatory : No Option Orientation : Vertical

Correct Marks : 1 Wrong Marks : 0.25

1990 से 2010 तक हर पांच वर्ष में एक शहर की जनसंख्या दर्ज की गई थी। 1990 से 2010 तक जनसंख्या की प्रतिशत में कितनी वृद्धि हुई है?



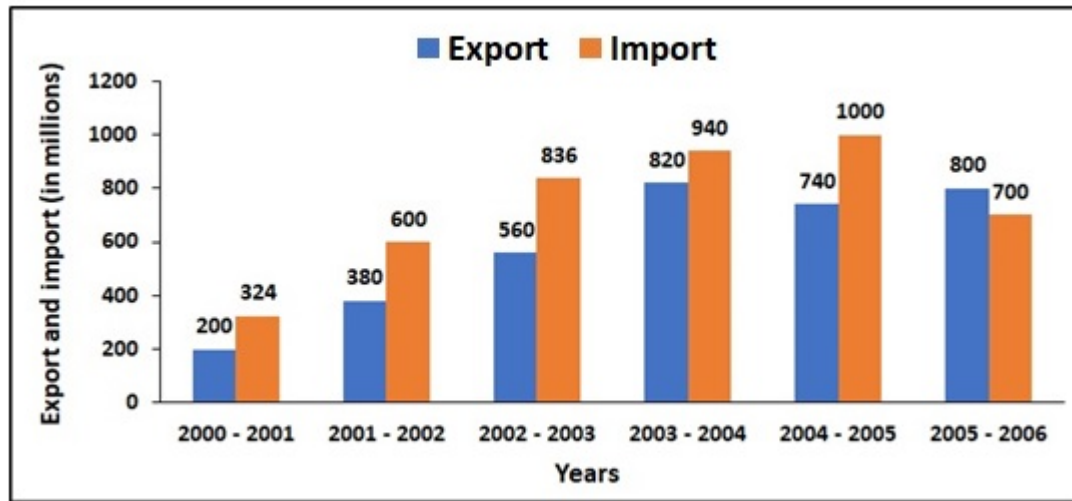
Options :

1. ✘ 480 प्रतिशत
2. ✘ 400 प्रतिशत
3. ✔ 300 प्रतिशत
4. ✘ 280 प्रतिशत

Question Number : 120 Question Id : 54062619553 Question Type : MCQ Option Shuffling : Yes Is Question Mandatory : No Option Orientation : Vertical

Correct Marks : 1 Wrong Marks : 0.25

The following graph shows exports and imports (in rupees) of India from 2000-2001 to 2005-2006. What is the ratio of exports in year 2002-2003 to imports in year 2004-2005?



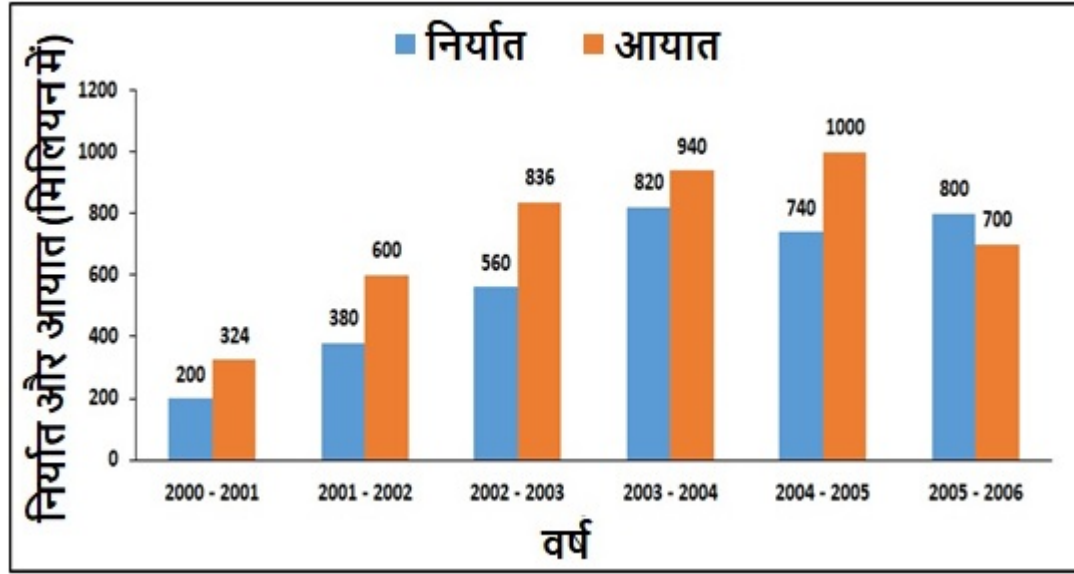
Options :

1. ✘ 19 : 30
2. ✔ 14 : 25
3. ✘ 41 : 47
4. ✘ 8 : 7

Question Number : 120 Question Id : 54062619553 Question Type : MCQ Option Shuffling : Yes Is Question Mandatory : No Option Orientation : Vertical

Correct Marks : 1 Wrong Marks : 0.25

निम्नलिखित ग्राफ 2000-2001 से 2005-2006 तक भारत के निर्यात और आयात (रुपए में) को दर्शाता है। वर्ष 2002-2003 में हुए निर्यात से वर्ष 2004-2005 में हुए आयात का अनुपात क्या है?



Options :

1. ✘ 19 : 30
2. ✔ 14 : 25
3. ✘ 41 : 47
4. ✘ 8 : 7

General English1

Group Number :	7
Group Id :	540626750
Group Maximum Duration :	0
Group Minimum Duration :	0
Show Attended Group? :	No
Edit Attended Group? :	No
Break time :	0
Group Marks :	20
Is this Group for Examiner? :	No

General English1

Section Id :	540626932
Section Number :	1
Section type :	Online
Mandatory or Optional :	Mandatory
Number of Questions :	20
Number of Questions to be attempted :	20
Section Marks :	20
Enable Mark as Answered Mark for Review and Clear Response :	Yes
Sub-Section Number :	1
Sub-Section Id :	5406261125
Question Shuffling Allowed :	Yes

Question Number : 121 Question Id : 54062619554 Question Type : MCQ Option Shuffling : Yes Is Question Mandatory : No Option Orientation : Vertical

Correct Marks : 1 Wrong Marks : 0.25

Find the part of the given sentence that has an error in it. If there is no error, choose 'No error'.

Every time a specie dies out, (1)/ we lose forever a part (2)/ of our natural world. (3)/ No Error (4)

Options :

1. ✓ Every time a specie dies out,
2. ✗ we lose forever a part
3. ✗ of our natural world.
4. ✗ No Error

Question Number : 121 Question Id : 54062619554 Question Type : MCQ Option Shuffling : Yes Is Question Mandatory : No Option Orientation : Vertical

Correct Marks : 1 Wrong Marks : 0.25

Find the part of the given sentence that has an error in it. If there is no error, choose 'No error'.

Every time a specie dies out, (1)/ we lose forever a part (2)/ of our natural world. (3)/ No Error (4)

Options :

1. ✓ Every time a specie dies out,
2. ✗ we lose forever a part
3. ✗ of our natural world.
4. ✗ No Error

Question Number : 122 Question Id : 54062619555 Question Type : MCQ Option Shuffling : Yes Is Question Mandatory : No Option Orientation : Vertical

Correct Marks : 1 Wrong Marks : 0.25

Find the part of the given sentence that has an error in it. If there is no error, choose 'No error'.

The show is about two couples (1)/ and the adventures of (2)/ their rebellious offsprings. (3)/ No Error (4)

Options :

1. ✗ The show is about two couples
2. ✗ and the adventures of
3. ✓ their rebellious offsprings.
4. ✗ No Error

Question Number : 122 Question Id : 54062619555 Question Type : MCQ Option Shuffling : Yes Is Question Mandatory : No Option Orientation : Vertical

Correct Marks : 1 Wrong Marks : 0.25

Find the part of the given sentence that has an error in it. If there is no error, choose 'No error'.

The show is about two couples (1)/ and the adventures of (2)/ their rebellious offsprings. (3)/ No Error (4)

Options :

1. ✗ The show is about two couples
2. ✗ and the adventures of
3. ✓ their rebellious offsprings.
4. ✗ No Error

Question Number : 123 Question Id : 54062619556 Question Type : MCQ Option Shuffling : Yes Is Question Mandatory : No Option Orientation : Vertical

Correct Marks : 1 Wrong Marks : 0.25

Find the part of the given sentence that has an error in it. If there is no error, choose 'No error'.

It met all our criterias; a stable (1)/ employment, reasonably priced homes, (2)/ a state college and a regional hospital. (3)/ No Error(4)

Options :

1. ✓ It met all our criterias; a stable
2. ✗ employment, reasonably priced homes,
3. ✗ a state college and a regional hospital.
4. ✗ No Error

Question Number : 123 Question Id : 54062619556 Question Type : MCQ Option Shuffling : Yes Is Question Mandatory : No Option Orientation : Vertical

Correct Marks : 1 Wrong Marks : 0.25

Find the part of the given sentence that has an error in it. If there is no error, choose 'No error'.

It met all our criterias; a stable (1)/ employment, reasonably priced homes, (2)/ a state college and a regional hospital. (3)/ No Error(4)

Options :

1. ✓ It met all our criterias; a stable
2. ✗ employment, reasonably priced homes,
3. ✗ a state college and a regional hospital.
4. ✗ No Error

Question Number : 124 Question Id : 54062619557 Question Type : MCQ Option Shuffling : Yes Is Question Mandatory : No Option Orientation : Vertical

Correct Marks : 1 Wrong Marks : 0.25

Find the part of the given sentence that has an error in it. If there is no error, choose 'No error'.

During this period, the championship rules were (1)/ changed frequently by the FIA with the intention (2)/ of improvement the on-track action and cutting costs. (3) No Error (4)

Options :

1. ✗ During this period, the championship rules were
2. ✗ changed frequently by the FIA with the intention
3. ✓ of improvement the on-track action and cutting costs.
4. ✗ No Error

Question Number : 124 Question Id : 54062619557 Question Type : MCQ Option Shuffling : Yes Is Question Mandatory : No Option Orientation : Vertical

Correct Marks : 1 Wrong Marks : 0.25

Find the part of the given sentence that has an error in it. If there is no error, choose 'No error'.

During this period, the championship rules were (1)/ changed frequently by the FIA with the intention (2)/ of improvement the on-track action and cutting costs. (3) No Error (4)

Options :

1. ✘ During this period, the championship rules were
2. ✘ changed frequently by the FIA with the intention
3. ✔ of improvement the on-track action and cutting costs.
4. ✘ No Error

Question Number : 125 Question Id : 54062619558 Question Type : MCQ Option Shuffling : Yes Is Question Mandatory : No Option Orientation : Vertical

Correct Marks : 1 Wrong Marks : 0.25

Find the part of the given sentence that has an error in it. If there is no error, choose 'No error'.

The Constitution Act, 1867, affirmed governance based (1)/ parliament precedent and divided powers (2)/ between the federal and provincial governments. (3) No Error (4)

Options :

1. ✘ The Constitution Act, 1867, affirmed governance based
2. ✔ parliament precedent and divided powers
3. ✘ between the federal and provincial governments.
4. ✘ No Error

Question Number : 125 Question Id : 54062619558 Question Type : MCQ Option Shuffling : Yes Is Question Mandatory : No Option Orientation : Vertical

Correct Marks : 1 Wrong Marks : 0.25

Find the part of the given sentence that has an error in it. If there is no error, choose 'No error'.

The Constitution Act, 1867, affirmed governance based (1)/ parliament precedent and divided powers (2)/ between the federal and provincial governments. (3) No Error (4)

Options :

1. ✘ The Constitution Act, 1867, affirmed governance based
2. ✔ parliament precedent and divided powers
3. ✘ between the federal and provincial governments.
4. ✘ No Error

Question Number : 126 Question Id : 54062619559 Question Type : MCQ Option Shuffling : Yes Is Question Mandatory : No Option Orientation : Vertical

Correct Marks : 1 Wrong Marks : 0.25

Select the word segment that substitutes (replaces) the bracketed word segment correctly and completes the sentence meaningfully. Select the option 'no correction required' if the sentence is correct as given.

Formal politics refers to the operation of a constitutional system of government and (publicly defining institutions or procedures).

Options :

1. ✘ publicly defining institutions, procedures.
2. ✔ publicly defined institutions and procedures.
3. ✘ publicly being defined as institutions and procedures.
4. ✘ No Correction Required

Question Number : 126 Question Id : 54062619559 Question Type : MCQ Option Shuffling : Yes Is Question Mandatory : No Option Orientation : Vertical

Correct Marks : 1 Wrong Marks : 0.25

Select the word segment that substitutes (replaces) the bracketed word segment correctly and completes the sentence meaningfully. Select the option 'no correction required' if the sentence is correct as given.

Formal politics refers to the operation of a constitutional system of government and (publicly defining institutions or procedures).

Options :

1. ✘ publicly defining institutions, procedures.
2. ✔ publicly defined institutions and procedures.
3. ✘ publicly being defined as institutions and procedures.
4. ✘ No Correction Required

Question Number : 127 Question Id : 54062619560 Question Type : MCQ Option Shuffling : Yes Is Question Mandatory : No Option Orientation : Vertical

Correct Marks : 1 Wrong Marks : 0.25

Select the word segment that substitutes (replaces) the bracketed word segment correctly and completes the sentence meaningfully. Select the option 'no correction required' if the sentence is correct as given.

More moderate forms of scepticism claim only that (nothing can be know with certainly), or that we can know little or nothing about the big questions in life.

Options :

1. ✓ nothing can be known with certainty
2. ✗ nothing could be know with certainly
3. ✗ nothing can be knew with certainty
4. ✗ No Correction Required

Question Number : 127 Question Id : 54062619560 Question Type : MCQ Option Shuffling : Yes Is Question Mandatory : No Option Orientation : Vertical

Correct Marks : 1 Wrong Marks : 0.25

Select the word segment that substitutes (replaces) the bracketed word segment correctly and completes the sentence meaningfully. Select the option 'no correction required' if the sentence is correct as given.

More moderate forms of scepticism claim only that (nothing can be know with certainly), or that we can know little or nothing about the big questions in life.

Options :

1. ✓ nothing can be known with certainty
2. ✗ nothing could be know with certainly
3. ✗ nothing can be knew with certainty
4. ✗ No Correction Required

Question Number : 128 Question Id : 54062619561 Question Type : MCQ Option Shuffling : Yes Is Question Mandatory : No Option Orientation : Vertical

Correct Marks : 1 Wrong Marks : 0.25

Select the word segment that substitutes (replaces) the bracketed word segment correctly and completes the sentence meaningfully. Select the option 'no correction required' if the sentence is correct as given.

The details of Buddha's life are mentioned in many Early Buddhist Texts (but is inconsistency), and his social background and life details are difficult to prove, the precise dates uncertain.

Options :

1. ✘ but are inconsistently
2. ✘ but is inconsistent
3. ✔ but are inconsistent
4. ✘ No Correction Required

Question Number : 128 Question Id : 54062619561 Question Type : MCQ Option Shuffling : Yes Is Question Mandatory : No Option Orientation : Vertical

Correct Marks : 1 Wrong Marks : 0.25

Select the word segment that substitutes (replaces) the bracketed word segment correctly and completes the sentence meaningfully. Select the option 'no correction required' if the sentence is correct as given.

The details of Buddha's life are mentioned in many Early Buddhist Texts (but is inconsistency), and his social background and life details are difficult to prove, the precise dates uncertain.

Options :

1. ✘ but are inconsistently
2. ✘ but is inconsistent
3. ✔ but are inconsistent
4. ✘ No Correction Required

Question Number : 129 Question Id : 54062619562 Question Type : MCQ Option Shuffling : Yes Is Question Mandatory : No Option Orientation : Vertical

Correct Marks : 1 Wrong Marks : 0.25

Select the word segment that substitutes (replaces) the bracketed word segment correctly and completes the sentence meaningfully. Select the option 'no correction required' if the sentence is correct as given.

When used by academics, an arbitrage is a transaction that (involve no negative cash flow with probability) or temporal state and a positive cash flow in at least one state; in simple terms, it is the possibility of a risk-free profit after transaction costs.

Options :

1. ✘ involving no negative cash flow at any probability
2. ✔ involves no negative cash flow at any probabilistic
3. ✘ involved no negative cash flow at any probability
4. ✘ No Correction Required

Question Number : 129 Question Id : 54062619562 Question Type : MCQ Option Shuffling : Yes Is Question Mandatory : No Option Orientation : Vertical

Correct Marks : 1 Wrong Marks : 0.25

Select the word segment that substitutes (replaces) the bracketed word segment correctly and completes the sentence meaningfully. Select the option 'no correction required' if the sentence is correct as given.

When used by academics, an arbitrage is a transaction that (involve no negative cash flow with probability) or temporal state and a positive cash flow in at least one state; in simple terms, it is the possibility of a risk-free profit after transaction costs.

Options :

1. ✘ involving no negative cash flow at any probability
2. ✔ involves no negative cash flow at any probabilistic
3. ✘ involved no negative cash flow at any probability
4. ✘ No Correction Required

Question Number : 130 Question Id : 54062619563 Question Type : MCQ Option Shuffling : Yes Is Question Mandatory : No Option Orientation : Vertical

Correct Marks : 1 Wrong Marks : 0.25

Fill in the blank with the appropriate word.

As a result of British colonisation, India has developed its own unique _____ of English known as Indian English.

Options :

1. ✘ delineation
2. ✘ contour
3. ✔ dialect
4. ✘ exemplification

Question Number : 130 Question Id : 54062619563 Question Type : MCQ Option Shuffling : Yes Is Question Mandatory : No Option Orientation : Vertical

Correct Marks : 1 Wrong Marks : 0.25

Fill in the blank with the appropriate word.

As a result of British colonisation, India has developed its own unique _____ of English known as Indian English.

Options :

1. ✘ delineation

2. ✘ contour
3. ✔ dialect
4. ✘ exemplification

Question Number : 131 Question Id : 54062619564 Question Type : MCQ Option Shuffling : Yes Is Question Mandatory : No Option Orientation : Vertical

Correct Marks : 1 Wrong Marks : 0.25

Fill in the blank with the appropriate word.

India's only Nobel _____ in literature was the Bengali writer Rabindranath Tagore, who wrote some of his work originally in English.

Options :

1. ✘ commended
2. ✔ laureate
3. ✘ celebrated
4. ✘ displaced

Question Number : 131 Question Id : 54062619564 Question Type : MCQ Option Shuffling : Yes Is Question Mandatory : No Option Orientation : Vertical

Correct Marks : 1 Wrong Marks : 0.25

Fill in the blank with the appropriate word.

India's only Nobel _____ in literature was the Bengali writer Rabindranath Tagore, who wrote some of his work originally in English.

Options :

1. ✘ commended
2. ✔ laureate
3. ✘ celebrated
4. ✘ displaced

Question Number : 132 Question Id : 54062619565 Question Type : MCQ Option Shuffling : Yes Is Question Mandatory : No Option Orientation : Vertical

Correct Marks : 1 Wrong Marks : 0.25

Fill in the blank with the appropriate word.

The predecessors of Wellesley _____ alliances with Indian Princes like the Nawab of Oudh and the Nizam of Hyderabad as now they had started receiving subsidies for the maintenance of their troops.

Options :

1. ✓ concluded
2. ✗ compassed
3. ✗ subjugated
4. ✗ convoluted

Question Number : 132 Question Id : 54062619565 Question Type : MCQ Option Shuffling : Yes Is Question Mandatory : No Option Orientation : Vertical

Correct Marks : 1 Wrong Marks : 0.25

Fill in the blank with the appropriate word.

The predecessors of Wellesley _____ alliances with Indian Princes like the Nawab of Oudh and the Nizam of Hyderabad as now they had started receiving subsidies for the maintenance of their troops.

Options :

1. ✓ concluded
2. ✗ compassed
3. ✗ subjugated
4. ✗ convoluted

Question Number : 133 Question Id : 54062619566 Question Type : MCQ Option Shuffling : Yes Is Question Mandatory : No Option Orientation : Vertical

Correct Marks : 1 Wrong Marks : 0.25

Fill in the blank with the appropriate word.

The Maurya Empire _____ most of the Indian subcontinent into one state, and was the largest empire ever to exist on the Indian subcontinent.

Options :

1. ✗ harrowed
2. ✗ tormented
3. ✗ ransacked
4. ✓ unified

Question Number : 133 Question Id : 54062619566 Question Type : MCQ Option Shuffling : Yes Is Question Mandatory : No Option Orientation : Vertical

Correct Marks : 1 Wrong Marks : 0.25

Fill in the blank with the appropriate word.

The Maurya Empire _____ most of the Indian subcontinent into one state, and was the largest empire ever to exist on the Indian subcontinent.

Options :

1. ✘ harrowed
2. ✘ tormented
3. ✘ ransacked
4. ✔ unified

Question Number : 134 Question Id : 54062619567 Question Type : MCQ Option Shuffling : Yes Is Question Mandatory : No Option Orientation : Vertical

Correct Marks : 1 Wrong Marks : 0.25

Some parts of a sentence have been jumbled up, and labelled P, Q, R and S. Select the option that gives the correct sequence in which these parts can be rearranged to form a meaningful and grammatically correct sentence.

Since the 1960s,

P: in the US and whisky for aged grain

Q: American writers have increasingly

R: used whiskey as the accepted spelling

S: for aged grain spirits made

spirits made outside the US.

Options :

1. ✔ QRSP
2. ✘ SPQR
3. ✘ QRPS
4. ✘ SPRQ

Question Number : 134 Question Id : 54062619567 Question Type : MCQ Option Shuffling : Yes Is Question Mandatory : No Option Orientation : Vertical

Correct Marks : 1 Wrong Marks : 0.25

Some parts of a sentence have been jumbled up, and labelled P, Q, R and S. Select the option that gives the correct sequence in which these parts can be rearranged to form a meaningful and grammatically correct sentence.

Since the 1960s,

P: in the US and whisky for aged grain

Q: American writers have increasingly

R: used whiskey as the accepted spelling

S: for aged grain spirits made

spirits made outside the US.

Options :

1. ✓ QRSP
2. ✗ SPQR
3. ✗ QRPS
4. ✗ SPRQ

Question Number : 135 Question Id : 54062619568 Question Type : MCQ Option Shuffling : Yes Is Question Mandatory : No Option Orientation : Vertical

Correct Marks : 1 Wrong Marks : 0.25

Some parts of a sentence have been jumbled up, and labelled P, Q, R and S. Select the option that gives the correct sequence in which these parts can be rearranged to form a meaningful and grammatically correct sentence.

Tourism brings large amounts

P: of payment for goods and services needed by tourists, accounting

Q: as of 2011 for 30 percent of the world's trade

R: of income into a local economy in the form

S: in services, and, as an invisible export

of goods and services.

Options :

1. ✗ RQSP
2. ✗ PQRS
3. ✗ QRSP
4. ✓ RPQS

Question Number : 135 Question Id : 54062619568 Question Type : MCQ Option Shuffling : Yes Is Question Mandatory : No Option Orientation : Vertical

Correct Marks : 1 Wrong Marks : 0.25

Some parts of a sentence have been jumbled up, and labelled P, Q, R and S. Select the option that gives the correct sequence in which these parts can be rearranged to form a meaningful and grammatically correct sentence.

Tourism brings large amounts

P: of payment for goods and services needed by tourists, accounting

Q: as of 2011 for 30 percent of the world's trade

R: of income into a local economy in the form

S: in services, and, as an invisible export

of goods and services.

Options :

1. ✘ RQSP
2. ✘ PQRS
3. ✘ QRSP
4. ✔ RPQS

Question Number : 136 Question Id : 54062619569 Question Type : MCQ Option Shuffling : Yes Is Question Mandatory : No Option Orientation : Vertical

Correct Marks : 1 Wrong Marks : 0.25

Some parts of a passage have been jumbled up, and labelled P, Q, R and S. Select the option that gives the correct sequence in which these parts can be rearranged to form a meaningful passage.

While we tend to use the terms "sociopath" and "psychopath" interchangeably, they mean different things.

P. every antisocial person does not have psychopathy

Q. psychopathy is the extreme end of the antisocial spectrum

R. while a psychopath is cold and calculating, sometimes even charming

S. when comparing sociopaths vs. psychopaths, most sociopaths are prone to impulsive behaviour and often seen as disturbed or unhinged

But virtually all psychopaths are antisocial.

Options :

1. ✘ PQSR
2. ✔ SRQP
3. ✘ QRSP
4. ✘ RQPS

Question Number : 136 Question Id : 54062619569 Question Type : MCQ Option Shuffling : Yes Is Question Mandatory : No Option Orientation : Vertical

Correct Marks : 1 Wrong Marks : 0.25

Some parts of a passage have been jumbled up, and labelled P, Q, R and S. Select the option that gives the correct sequence in which these parts can be rearranged to form a meaningful passage.

While we tend to use the terms "sociopath" and "psychopath" interchangeably, they mean different things.

P. every antisocial person does not have psychopathy

Q. psychopathy is the extreme end of the antisocial spectrum

R. while a psychopath is cold and calculating, sometimes even charming

S. when comparing sociopaths vs. psychopaths, most sociopaths are prone to impulsive behaviour and often seen as disturbed or unhinged

But virtually all psychopaths are antisocial.

Options :

1. ✘ PQSR
2. ✔ SRQP
3. ✘ QRSP
4. ✘ RQPS

Question Number : 137 Question Id : 54062619570 Question Type : MCQ Option Shuffling : Yes Is Question Mandatory : No Option Orientation : Vertical

Correct Marks : 1 Wrong Marks : 0.25

Some parts of a passage have been jumbled up, and labelled P, Q, R and S. Select the option that gives the correct sequence in which these parts can be rearranged to form a meaningful passage.

Chauvinism is a form of extreme patriotism and nationalism and a belief in national superiority and glory.

P. it can also be defined as "an irrational belief in the superiority or dominance of one's own group or people"

Q. male chauvinism is the belief that men are superior to women

R. it refers to the maintenance of fixed beliefs and attitudes of male superiority

S. moreover, the chauvinist's own people are seen as unique and special while the rest of the people are considered weak or inferior

It is associated with overt or covert depreciation of women.

Options :

1. ✘ PQRS
2. ✘ SQRP
3. ✘ SPQR
4. ✔ PSQR

Question Number : 137 Question Id : 54062619570 Question Type : MCQ Option Shuffling : Yes Is Question Mandatory : No Option Orientation : Vertical

Correct Marks : 1 Wrong Marks : 0.25

Some parts of a passage have been jumbled up, and labelled P, Q, R and S. Select the option that gives the correct sequence in which these parts can be rearranged to form a meaningful passage.

Chauvinism is a form of extreme patriotism and nationalism and a belief in national superiority and glory.

P. it can also be defined as "an irrational belief in the superiority or dominance of one's own group or people"

Q. male chauvinism is the belief that men are superior to women

R. it refers to the maintenance of fixed beliefs and attitudes of male superiority

S. moreover, the chauvinist's own people are seen as unique and special while the rest of the people are considered weak or inferior

It is associated with overt or covert depreciation of women.

Options :

1. ✘ PQRS
2. ✘ SQRP
3. ✘ SPQR
4. ✔ PSQR

Question Number : 138 Question Id : 54062619571 Question Type : MCQ Option Shuffling : Yes Is Question Mandatory : No Option Orientation : Vertical

Correct Marks : 1 Wrong Marks : 0.25

Select the word that is closest in meaning (SYNONYM) to the word given below.

SCARCITY

Options :

1. ✘ Haphazard
2. ✔ Dearth
3. ✘ Commonness
4. ✘ Caducity

Question Number : 138 Question Id : 54062619571 Question Type : MCQ Option Shuffling : Yes Is Question Mandatory : No Option Orientation : Vertical

Correct Marks : 1 Wrong Marks : 0.25

Select the word that is closest in meaning (SYNONYM) to the word given below.

SCARCITY

Options :

1. ✘ Haphazard
2. ✔ Dearth
3. ✘ Commonness
4. ✘ Caducity

Question Number : 139 Question Id : 54062619572 Question Type : MCQ Option Shuffling : Yes Is Question Mandatory : No Option Orientation : Vertical

Correct Marks : 1 Wrong Marks : 0.25

Select the word that is closest in meaning (SYNONYM) to the word given below.

DELETERIOUS

Options :

1. ✘ AIDING
2. ✘ DEXTEROUS
3. ✘ RETELLING
4. ✔ DAMAGING

Question Number : 139 Question Id : 54062619572 Question Type : MCQ Option Shuffling : Yes Is Question Mandatory : No Option Orientation : Vertical

Correct Marks : 1 Wrong Marks : 0.25

Select the word that is closest in meaning (SYNONYM) to the word given below.

DELETERIOUS

Options :

1. ✘ AIDING
2. ✘ DEXTEROUS
3. ✘ RETELLING
4. ✔ DAMAGING

Question Number : 140 Question Id : 54062619573 Question Type : MCQ Option Shuffling : Yes Is Question Mandatory : No Option Orientation : Vertical

Correct Marks : 1 Wrong Marks : 0.25

Select the word that is the opposite meaning (ANTONYM) to the word given below.

ANACHRONISTIC

Options :

1. ✘ OBSOLETE
2. ✘ ANTIQUATED
3. ✔ CONTEMPORARY
4. ✘ ASTOUNDING

Question Number : 140 Question Id : 54062619573 Question Type : MCQ Option Shuffling : Yes Is Question Mandatory : No Option Orientation : Vertical

Correct Marks : 1 Wrong Marks : 0.25

Select the word that is the opposite meaning (ANTONYM) to the word given below.

ANACHRONISTIC

Options :

1. ✘ OBSOLETE
2. ✘ ANTIQUATED
3. ✔ CONTEMPORARY
4. ✘ ASTOUNDING

General English2

Group Number :	8
Group Id :	540626751
Group Maximum Duration :	0
Group Minimum Duration :	0
Show Attended Group? :	No
Edit Attended Group? :	No
Break time :	0
Group Marks :	20
Is this Group for Examiner? :	No

General English2

Section Id :	540626933
Section Number :	1
Section type :	Online
Mandatory or Optional :	Mandatory
Number of Questions :	16
Number of Questions to be attempted :	16
Section Marks :	20
Enable Mark as Answered Mark for Review and Clear Response :	Yes
Sub-Section Number :	1
Sub-Section Id :	5406261126
Question Shuffling Allowed :	Yes

Question Number : 141 Question Id : 54062619574 Question Type : MCQ Option Shuffling : Yes Is Question Mandatory : No Option Orientation : Vertical

Correct Marks : 1 Wrong Marks : 0.25

Select the word that is the opposite meaning (ANTONYM) to the word given below.

OMINOUS

Options :

1. ✘ APOCALYPTIC
2. ✘ AUGURAL
3. ✘ PORTENTOUS
4. ✔ PROPITIOUS

Question Number : 141 Question Id : 54062619574 Question Type : MCQ Option Shuffling : Yes Is Question Mandatory : No Option Orientation : Vertical

Correct Marks : 1 Wrong Marks : 0.25

Select the word that is the opposite meaning (ANTONYM) to the word given below.

OMINOUS

Options :

1. ✘ APOCALYPTIC
2. ✘ AUGURAL
3. ✘ PORTENTOUS
4. ✔ PROPITIOUS

Question Number : 142 Question Id : 54062619575 Question Type : MCQ Option Shuffling : Yes Is Question Mandatory : No Option Orientation : Vertical

Correct Marks : 1 Wrong Marks : 0.25

Select the word that is closest in meaning (SYNONYM) to the word given below.

AMORPHOUS

Options :

1. ✘ DISTINCTIVE
2. ✘ LIVELY
3. ✔ NEBULOUS
4. ✘ LONELY

Question Number : 142 Question Id : 54062619575 Question Type : MCQ Option Shuffling : Yes Is Question Mandatory : No Option Orientation : Vertical

Correct Marks : 1 Wrong Marks : 0.25

Select the word that is closest in meaning (SYNONYM) to the word given below.

AMORPHOUS

Options :

1. ✘ DISTINCTIVE
2. ✘ LIVELY
3. ✔ NEBULOUS
4. ✘ LONELY

Question Number : 143 Question Id : 54062619576 Question Type : MCQ Option Shuffling : Yes Is Question Mandatory : No Option Orientation : Vertical

Correct Marks : 1 Wrong Marks : 0.25

Four words are given, out of which only one word is spelt correctly. Choose the correctly spelt word.

Options :

1. ✘ Shampain
2. ✔ Champagne
3. ✘ Champain
4. ✘ Champaine

Question Number : 143 Question Id : 54062619576 Question Type : MCQ Option Shuffling : Yes Is Question Mandatory : No Option Orientation : Vertical

Correct Marks : 1 Wrong Marks : 0.25

Four words are given, out of which only one word is spelt correctly. Choose the correctly spelt word.

Options :

1. ✘ Shampain
2. ✔ Champagne
3. ✘ Champain
4. ✘ Champaine

Question Number : 144 Question Id : 54062619577 Question Type : MCQ Option Shuffling : Yes Is Question Mandatory : No Option Orientation : Vertical

Correct Marks : 1 Wrong Marks : 0.25

Four words are given, out of which only one word is spelt correctly. Choose the correctly spelt word.

Options :

1. ✘ CAFEINE
2. ✘ CAFFIENE
3. ✔ CAFFEINE
4. ✘ CAFIENE

Question Number : 144 Question Id : 54062619577 Question Type : MCQ Option Shuffling : Yes Is Question Mandatory : No Option Orientation : Vertical

Correct Marks : 1 Wrong Marks : 0.25

Four words are given, out of which only one word is spelt correctly. Choose the correctly spelt word.

Options :

1. ✘ CAFEINE
2. ✘ CAFFIENE
3. ✔ CAFFEINE
4. ✘ CAFIENE

Question Number : 145 Question Id : 54062619578 Question Type : MCQ Option Shuffling : Yes Is Question Mandatory : No Option Orientation : Vertical

Correct Marks : 1 Wrong Marks : 0.25

Four words are given, out of which only one word is spelt correctly. Choose the correctly spelt word.

Options :

1. ✘ ACOMMODATE
2. ✔ ACCOMMODATE
3. ✘ ACCOMODATE
4. ✘ ACOMODATE

Question Number : 145 Question Id : 54062619578 Question Type : MCQ Option Shuffling : Yes Is Question Mandatory : No Option Orientation : Vertical

Correct Marks : 1 Wrong Marks : 0.25

Four words are given, out of which only one word is spelt correctly. Choose the correctly spelt word.

Options :

1. ✘ ACOMMODATE

2. ✓ ACCOMMODATE
3. ✗ ACCOMODATE
4. ✗ ACOMODATE

Question Number : 146 Question Id : 54062619579 Question Type : MCQ Option Shuffling : Yes Is Question Mandatory : No Option Orientation : Vertical

Correct Marks : 1 Wrong Marks : 0.25

Four words are given, out of which only one word is spelt correctly. Choose the correctly spelt word.

Options :

1. ✗ KNIKKNACK
2. ✗ KNIKKNACK
3. ✗ KNICKNACK
4. ✓ KNICKKNACK

Question Number : 146 Question Id : 54062619579 Question Type : MCQ Option Shuffling : Yes Is Question Mandatory : No Option Orientation : Vertical

Correct Marks : 1 Wrong Marks : 0.25

Four words are given, out of which only one word is spelt correctly. Choose the correctly spelt word.

Options :

1. ✗ KNIKKNACK
2. ✗ KNIKKNACK
3. ✗ KNICKNACK
4. ✓ KNICKKNACK

Question Number : 147 Question Id : 54062619580 Question Type : MCQ Option Shuffling : Yes Is Question Mandatory : No Option Orientation : Vertical

Correct Marks : 1 Wrong Marks : 0.25

Four words are given, out of which only one word is spelt correctly. Choose the correctly spelt word.

Options :

1. ✗ IMPERTURPABLE
2. ✗ IMPERTERBABLE
3. ✓ IMPERTURBABLE

4. ✘ IMPERTERPABLE

Question Number : 147 Question Id : 54062619580 Question Type : MCQ Option Shuffling : Yes Is Question Mandatory : No Option Orientation : Vertical

Correct Marks : 1 Wrong Marks : 0.25

Four words are given, out of which only one word is spelt correctly. Choose the correctly spelt word.

Options :

1. ✘ IMPERTURPABLE
2. ✘ IMPERTERBABLE
3. ✔ IMPERTURBABLE
4. ✘ IMPERTERPABLE

Question Number : 148 Question Id : 54062619581 Question Type : MCQ Option Shuffling : Yes Is Question Mandatory : No Option Orientation : Vertical

Correct Marks : 1 Wrong Marks : 0.25

Select the most appropriate meaning of the given phrase.

"As busy as a bee"

Options :

1. ✘ Running around doing things of less importance.
2. ✘ Focusing only on task you want to do.
3. ✘ Making work the most important part of life.
4. ✔ Very busy.

Question Number : 148 Question Id : 54062619581 Question Type : MCQ Option Shuffling : Yes Is Question Mandatory : No Option Orientation : Vertical

Correct Marks : 1 Wrong Marks : 0.25

Select the most appropriate meaning of the given phrase.

"As busy as a bee"

Options :

1. ✘ Running around doing things of less importance.
2. ✘ Focusing only on task you want to do.

3. ✘ Making work the most important part of life.

4. ✔ Very busy.

Question Number : 149 Question Id : 54062619582 Question Type : MCQ Option Shuffling : Yes Is Question Mandatory : No Option Orientation : Vertical

Correct Marks : 1 Wrong Marks : 0.25

Select the most appropriate meaning of the given phrase.

"A leopard cannot change its spots"

Options :

1. ✘ You cannot change your destiny.

2. ✔ Things cannot change their innate nature.

3. ✘ Nothing is perfect.

4. ✘ Cat family is known for keeping themselves clean.

Question Number : 149 Question Id : 54062619582 Question Type : MCQ Option Shuffling : Yes Is Question Mandatory : No Option Orientation : Vertical

Correct Marks : 1 Wrong Marks : 0.25

Select the most appropriate meaning of the given phrase.

"A leopard cannot change its spots"

Options :

1. ✘ You cannot change your destiny.

2. ✔ Things cannot change their innate nature.

3. ✘ Nothing is perfect.

4. ✘ Cat family is known for keeping themselves clean.

Question Number : 150 Question Id : 54062619583 Question Type : MCQ Option Shuffling : Yes Is Question Mandatory : No Option Orientation : Vertical

Correct Marks : 1 Wrong Marks : 0.25

Select the most appropriate meaning of the given phrase.

“Between the devil and the deep blue sea”

Options :

1. ✓ In difficulty, faced with two dangerous alternatives.
2. ✗ Invariably taking the difficult path every time.
3. ✗ Choosing between lying or facing the consequences of speaking the truth.
4. ✗ Not having enough space to walk.

Question Number : 150 Question Id : 54062619583 Question Type : MCQ Option Shuffling : Yes Is Question Mandatory : No Option Orientation : Vertical

Correct Marks : 1 Wrong Marks : 0.25

Select the most appropriate meaning of the given phrase.

“Between the devil and the deep blue sea”

Options :

1. ✓ In difficulty, faced with two dangerous alternatives.
2. ✗ Invariably taking the difficult path every time.
3. ✗ Choosing between lying or facing the consequences of speaking the truth.
4. ✗ Not having enough space to walk.

Question Number : 151 Question Id : 54062619584 Question Type : MCQ Option Shuffling : Yes Is Question Mandatory : No Option Orientation : Vertical

Correct Marks : 1 Wrong Marks : 0.25

Select the most appropriate meaning of the given phrase.

“A watched pot never boils”

Options :

1. ✗ Being angry with something but not letting it out
2. ✗ A child cannot be spoiled under proper guidance.
3. ✓ Time seems to go slower when you are anxiously waiting for something to happen.
4. ✗ Doing something slowly and steadily while taking proper safety measures.

Question Number : 151 Question Id : 54062619584 Question Type : MCQ Option Shuffling : Yes Is Question Mandatory : No Option Orientation : Vertical

Correct Marks : 1 Wrong Marks : 0.25

Select the most appropriate meaning of the given phrase.

“A watched pot never boils”

Options :

1. ✘ Being angry with something but not letting it out
2. ✘ A child cannot be spoilt under proper guidance.
3. ✔ Time seems to go slower when you are anxiously waiting for something to happen.
4. ✘ Doing something slowly and steadily while taking proper safety measures.

Question Number : 152 Question Id : 54062619585 Question Type : MCQ Option Shuffling : Yes Is Question Mandatory : No Option Orientation : Vertical

Correct Marks : 1 Wrong Marks : 0.25

Select the most appropriate 'one word' for the expressions given below.

To goad or urge someone to do something.

Options :

1. ✘ Dissuade
2. ✔ Instigate
3. ✘ Inane
4. ✘ Repress

Question Number : 152 Question Id : 54062619585 Question Type : MCQ Option Shuffling : Yes Is Question Mandatory : No Option Orientation : Vertical

Correct Marks : 1 Wrong Marks : 0.25

Select the most appropriate 'one word' for the expressions given below.

To goad or urge someone to do something.

Options :

1. ✘ Dissuade
2. ✔ Instigate
3. ✘ Inane
4. ✘ Repress

Question Number : 153 Question Id : 54062619586 Question Type : MCQ Option Shuffling : Yes Is Question Mandatory : No Option Orientation : Vertical

Correct Marks : 1 Wrong Marks : 0.25

Select the most appropriate 'one word' for the expressions given below.

Any foodstuff made by combining different ingredient

Options :

1. ✘ Commotion
2. ✘ Dour
3. ✔ Concoction
4. ✘ Gourmand

Question Number : 153 Question Id : 54062619586 Question Type : MCQ Option Shuffling : Yes Is Question Mandatory : No Option Orientation : Vertical

Correct Marks : 1 Wrong Marks : 0.25

Select the most appropriate 'one word' for the expressions given below.

Any foodstuff made by combining different ingredient

Options :

1. ✘ Commotion
2. ✘ Dour
3. ✔ Concoction
4. ✘ Gourmand

Question Number : 154 Question Id : 54062619587 Question Type : MCQ Option Shuffling : Yes Is Question Mandatory : No Option Orientation : Vertical

Correct Marks : 1 Wrong Marks : 0.25

Select the most appropriate 'one word' for the expressions given below.

To give a sketchy outline of

Options :

1. ✔ Adumbrate
2. ✘ Extricate

3. ✘ Exacerbate

4. ✘ Capitulate

Question Number : 154 Question Id : 54062619587 Question Type : MCQ Option Shuffling : Yes Is Question Mandatory : No Option Orientation : Vertical

Correct Marks : 1 Wrong Marks : 0.25

Select the most appropriate 'one word' for the expressions given below.

To give a sketchy outline of

Options :

1. ✔ Adumbrate

2. ✘ Extricate

3. ✘ Exacerbate

4. ✘ Capitulate

Question Number : 155 Question Id : 54062619588 Question Type : MCQ Option Shuffling : Yes Is Question Mandatory : No Option Orientation : Vertical

Correct Marks : 1 Wrong Marks : 0.25

Select the most appropriate 'one word' for the expressions given below.

Pertaining to a code of beliefs accepted as authoritative

Options :

1. ✘ Prophetic

2. ✘ Amenable

3. ✔ Dogmatic

4. ✘ Ventriloquist

Question Number : 155 Question Id : 54062619588 Question Type : MCQ Option Shuffling : Yes Is Question Mandatory : No Option Orientation : Vertical

Correct Marks : 1 Wrong Marks : 0.25

Select the most appropriate 'one word' for the expressions given below.

Pertaining to a code of beliefs accepted as authoritative

Options :

1. ✘ Prophetic
2. ✘ Amenable
3. ✔ Dogmatic
4. ✘ Ventriloquist

Sub-Section Number : 2
Sub-Section Id : 5406261127
Question Shuffling Allowed : Yes

Question Id : 54062619589 Question Type : COMPREHENSION Sub Question Shuffling Allowed : Yes Group Comprehension Questions : No

Question Numbers : (156 to 160)

Read the following information carefully and answer the given questions.

Sacrifice, a religious rite in which an object is offered to a divinity in order to establish, maintain, or restore a right relationship of a human being to the sacred order. It is possible to analyse the rite of sacrifice in terms of six different elements: the sacrificer, the material of the offering, the time and place of the rite, the method of sacrificing, the recipient of the sacrifice, and the motive or intention of the rite. In a sense, what is always offered in sacrifice is, in one form or another, life itself. Sacrifice is a celebration of life, a recognition of its divine and imperishable nature.

Often the act of sacrifice involves the destruction of the offering, but this destruction—whether by burning, slaughter, or whatever means—is not in itself the sacrifice. The killing of an animal is the means by which its consecrated life is “liberated” and thus made available to the deity, and the destruction of a food offering in an altar’s fire is the means by which the deity receives the offering.

The basic forms of sacrifice, however, seem to be some type of either sacrificial gift or sacramental meal. Sacrifice as a gift may refer either to a gift that should be followed by a return gift or to a gift that is offered in homage to a god without expectation of a return. Sacrifice as a sacramental communal meal may involve the idea of a ritual meal at which either some primordial event such as creation is repeated or the sanctification of the world is symbolically renewed.

Sub questions

Question Number : 156 Question Id : 54062619590 Question Type : MCQ Option Shuffling : Yes Is Question Mandatory : No Option Orientation : Vertical

Correct Marks : 1 Wrong Marks : 0.25

What is sacrifice meant to establish?

Options :

1. ✘ Right relationship of the human beings with the fellow beings.
2. ✘ Right relationship of human beings with other species on the planet.

3. ✓ Right relationship of a human being to the sacred order.
4. ✗ Right relationship of human beings with beings on other heavenly bodies.

Question Number : 157 Question Id : 54062619591 Question Type : MCQ Option Shuffling : Yes Is Question Mandatory : No Option Orientation : Vertical

Correct Marks : 1 Wrong Marks : 0.25

Which of the following is not an element of the rite of sacrifice?

Options :

1. ✓ The amount of effort put for sacrifice.
2. ✗ The material of the offering in the sacrifice.
3. ✗ The method of making the sacrifice.
4. ✗ The recipient of the sacrifice.

Question Number : 158 Question Id : 54062619592 Question Type : MCQ Option Shuffling : Yes Is Question Mandatory : No Option Orientation : Vertical

Correct Marks : 1 Wrong Marks : 0.25

What is the meaning of primordial as used in the passage?

Options :

1. ✗ An act of talking to the god.
2. ✓ Existing at or from the beginning of time.
3. ✗ The event of rebirth as talked about in mythologies.
4. ✗ The event of bringing back peace to the world.

Question Number : 159 Question Id : 54062619593 Question Type : MCQ Option Shuffling : Yes Is Question Mandatory : No Option Orientation : Vertical

Correct Marks : 1 Wrong Marks : 0.25

What is the 'destruction of the offering' symbolic of?

Options :

1. ✗ By destroying the offering, the offering is gone from the world.
2. ✓ By destroying the offering, the offering is made available to the deity.
3. ✗ By destroying the offering, the sacrificer destroys what was made by the god.
4. ✗ By destroying the offering, the sacrificer wants to show his strength to the deity.

Question Number : 160 Question Id : 54062619594 Question Type : MCQ Option Shuffling : Yes Is Question Mandatory : No Option Orientation : Vertical

Correct Marks : 1 Wrong Marks : 0.25

From the passage which of the following is incorrect with respect to a sacrifice that is made?

Options :

1. ✘ It is made as some type of either sacrificial gift or sacramental meal or both.
2. ✔ It is made to take something from god at present and as a promise to return a greater sacrifice in the future.
3. ✘ It is made as celebration of life, a recognition of its divine and imperishable nature.
4. ✘ It is made as a gift that is offered in homage to a god without expectation of a return.

Question Id : 54062619589 Question Type : COMPREHENSION Sub Question Shuffling Allowed : Yes Group Comprehension Questions : No

Question Numbers : (156 to 160)

Read the following information carefully and answer the given questions.

Sacrifice, a religious rite in which an object is offered to a divinity in order to establish, maintain, or restore a right relationship of a human being to the sacred order. It is possible to analyse the rite of sacrifice in terms of six different elements: the sacrificer, the material of the offering, the time and place of the rite, the method of sacrificing, the recipient of the sacrifice, and the motive or intention of the rite. In a sense, what is always offered in sacrifice is, in one form or another, life itself. Sacrifice is a celebration of life, a recognition of its divine and imperishable nature.

Often the act of sacrifice involves the destruction of the offering, but this destruction—whether by burning, slaughter, or whatever means—is not in itself the sacrifice. The killing of an animal is the means by which its consecrated life is “liberated” and thus made available to the deity, and the destruction of a food offering in an altar’s fire is the means by which the deity receives the offering.

The basic forms of sacrifice, however, seem to be some type of either sacrificial gift or sacramental meal. Sacrifice as a gift may refer either to a gift that should be followed by a return gift or to a gift that is offered in homage to a god without expectation of a return. Sacrifice as a sacramental communal meal may involve the idea of a ritual meal at which either some primordial event such as creation is repeated or the sanctification of the world is symbolically renewed.

Sub questions

Question Number : 156 Question Id : 54062619590 Question Type : MCQ Option Shuffling : Yes Is Question Mandatory : No Option Orientation : Vertical

Correct Marks : 1 Wrong Marks : 0.25

What is sacrifice meant to establish?

Options :

1. ✘ Right relationship of the human beings with the fellow beings.

2. ✘ Right relationship of human beings with other species on the planet.
3. ✔ Right relationship of a human being to the sacred order.
4. ✘ Right relationship of human beings with beings on other heavenly bodies.

Question Number : 157 Question Id : 54062619591 Question Type : MCQ Option Shuffling : Yes Is Question Mandatory : No Option Orientation : Vertical

Correct Marks : 1 Wrong Marks : 0.25

Which of the following is not an element of the rite of sacrifice?

Options :

1. ✔ The amount of effort put for sacrifice.
2. ✘ The material of the offering in the sacrifice.
3. ✘ The method of making the sacrifice.
4. ✘ The recipient of the sacrifice.

Question Number : 158 Question Id : 54062619592 Question Type : MCQ Option Shuffling : Yes Is Question Mandatory : No Option Orientation : Vertical

Correct Marks : 1 Wrong Marks : 0.25

What is the meaning of primordial as used in the passage?

Options :

1. ✘ An act of talking to the god.
2. ✔ Existing at or from the beginning of time.
3. ✘ The event of rebirth as talked about in mythologies.
4. ✘ The event of bringing back peace to the world.

Question Number : 159 Question Id : 54062619593 Question Type : MCQ Option Shuffling : Yes Is Question Mandatory : No Option Orientation : Vertical

Correct Marks : 1 Wrong Marks : 0.25

What is the 'destruction of the offering' symbolic of?

Options :

1. ✘ By destroying the offering, the offering is gone from the world.
2. ✔ By destroying the offering, the offering is made available to the deity.
3. ✘ By destroying the offering, the sacrificer destroys what was made by the god.
4. ✘ By destroying the offering, the sacrificer wants to show his strength to the deity.

Question Number : 160 Question Id : 54062619594 Question Type : MCQ Option Shuffling : Yes Is Question Mandatory : No Option Orientation : Vertical

Correct Marks : 1 Wrong Marks : 0.25

From the passage which of the following is incorrect with respect to a sacrifice that is made?

Options :

1. ✘ It is made as some type of either sacrificial gift or sacramental meal or both.
2. ✔ It is made to take something from god at present and as a promise to return a greater sacrifice in the future.
3. ✘ It is made as celebration of life, a recognition of its divine and imperishable nature.
4. ✘ It is made as a gift that is offered in homage to a god without expectation of a return.

General Hindi1

Group Number :	9
Group Id :	540626752
Group Maximum Duration :	0
Group Minimum Duration :	0
Show Attended Group? :	No
Edit Attended Group? :	No
Break time :	0
Group Marks :	20
Is this Group for Examiner? :	No

General Hindi1

Section Id :	540626934
Section Number :	1
Section type :	Online
Mandatory or Optional :	Mandatory
Number of Questions :	20
Number of Questions to be attempted :	20
Section Marks :	20

Enable Mark as Answered Mark for Review and Clear Response : Yes
Sub-Section Number : 1
Sub-Section Id : 5406261128
Question Shuffling Allowed : Yes

Question Number : 161 Question Id : 54062619595 Question Type : MCQ Option Shuffling : Yes Is Question Mandatory : No Option Orientation : Vertical

Correct Marks : 1 Wrong Marks : 0.25

निम्नलिखित प्रश्न में, चार विकल्पों में से, उस विकल्प का चयन करें जो क्रिया के भेद वाला सही विकल्प हो।

सबने बच्चों को हंसाया।

Options :

1. ✘ पूर्वकालिक क्रिया
2. ✔ प्रेरणार्थक क्रिया
3. ✘ नामधातु क्रिया
4. ✘ संयुक्त क्रिया

Question Number : 161 Question Id : 54062619595 Question Type : MCQ Option Shuffling : Yes Is Question Mandatory : No Option Orientation : Vertical

Correct Marks : 1 Wrong Marks : 0.25

निम्नलिखित प्रश्न में, चार विकल्पों में से, उस विकल्प का चयन करें जो क्रिया के भेद वाला सही विकल्प हो।

सबने बच्चों को हंसाया।

Options :

1. ✘ पूर्वकालिक क्रिया
2. ✔ प्रेरणार्थक क्रिया
3. ✘ नामधातु क्रिया
4. ✘ संयुक्त क्रिया

Question Number : 162 Question Id : 54062619596 Question Type : MCQ Option Shuffling : Yes Is Question Mandatory : No Option Orientation : Vertical

Correct Marks : 1 Wrong Marks : 0.25

निम्नलिखित प्रश्न में, चार विकल्पों में से, उस विकल्प का चयन करें जो अव्यय के भेद का सही विकल्प हो।

वाह! तुमने तो कमाल ही कर दिया।

Options :

1. ✘ क्रियाविशेषण अव्यय
2. ✘ समुच्चयबोधक अव्यय
3. ✔ विस्मयादिबोधक अव्यय
4. ✘ संबंधबोधक अव्यय

Question Number : 162 Question Id : 54062619596 Question Type : MCQ Option Shuffling : Yes Is Question Mandatory : No Option Orientation : Vertical

Correct Marks : 1 Wrong Marks : 0.25

निम्नलिखित प्रश्न में, चार विकल्पों में से, उस विकल्प का चयन करें जो अव्यय के भेद का सही विकल्प हो।

वाह! तुमने तो कमाल ही कर दिया।

Options :

1. ✘ क्रियाविशेषण अव्यय
2. ✘ समुच्चयबोधक अव्यय
3. ✔ विस्मयादिबोधक अव्यय
4. ✘ संबंधबोधक अव्यय

Question Number : 163 Question Id : 54062619597 Question Type : MCQ Option Shuffling : Yes Is Question Mandatory : No Option Orientation : Vertical

Correct Marks : 1 Wrong Marks : 0.25

निम्नलिखित प्रश्न में, चार विकल्पों में से, उस विकल्प का चयन करें जो भाववाचक संज्ञा का सही विकल्प नहीं है।

Options :

1. ✘ निर्धनता
2. ✘ सुखदायी
3. ✔ शूर
4. ✘ आसक्ति

Question Number : 163 Question Id : 54062619597 Question Type : MCQ Option Shuffling : Yes Is Question Mandatory : No Option Orientation : Vertical

Correct Marks : 1 Wrong Marks : 0.25

निम्नलिखित प्रश्न में, चार विकल्पों में से, उस विकल्प का चयन करें जो भाववाचक संज्ञा का सही विकल्प नहीं है।

Options :

1. ✘ निर्धनता
2. ✘ सुखदायी
3. ✔ शूर
4. ✘ आसक्ति

Question Number : 164 Question Id : 54062619598 Question Type : MCQ Option Shuffling : Yes Is Question Mandatory : No Option Orientation : Vertical

Correct Marks : 1 Wrong Marks : 0.25

निम्नलिखित प्रश्न में, चार विकल्पों में से, उस विकल्प का चयन करें जो कोष्ठक में दिए गए शब्द के अनुसार सर्वनाम के भेद का सही विकल्प हो।

पानी में (कुछ) गिर गया है।

Options :

1. ✘ निजवाचक
2. ✘ सम्बन्ध वाचक
3. ✘ उत्तम पुरुष
4. ✔ अनिश्चय वाचक

Question Number : 164 Question Id : 54062619598 Question Type : MCQ Option Shuffling : Yes Is Question Mandatory : No Option Orientation : Vertical

Correct Marks : 1 Wrong Marks : 0.25

निम्नलिखित प्रश्न में, चार विकल्पों में से, उस विकल्प का चयन करें जो कोष्ठक में दिए गए शब्द के अनुसार सर्वनाम के भेद का सही विकल्प हो।

पानी में (कुछ) गिर गया है।

Options :

1. ✘ निजवाचक
2. ✘ सम्बन्ध वाचक
3. ✘ उत्तम पुरुष

4. ✓ अनिश्चय वाचक

Question Number : 165 Question Id : 54062619599 Question Type : MCQ Option Shuffling : Yes Is Question Mandatory : No Option Orientation : Vertical

Correct Marks : 1 Wrong Marks : 0.25

निम्नलिखित प्रश्न में, चार विकल्पों में से, उस विकल्प का चयन करें जो कोष्ठक में दिए गए शब्द के अनुसार विशेषण के भेद वाला विकल्प हो।

(मेरी) समझ में कुछ भी नहीं आ रहा है।

Options :

1. ✓ सार्वनामिक
2. ✗ अनिश्चित परिमाण वाचक
3. ✗ निश्चित संख्यावाचक
4. ✗ गुणवाचक

Question Number : 165 Question Id : 54062619599 Question Type : MCQ Option Shuffling : Yes Is Question Mandatory : No Option Orientation : Vertical

Correct Marks : 1 Wrong Marks : 0.25

निम्नलिखित प्रश्न में, चार विकल्पों में से, उस विकल्प का चयन करें जो कोष्ठक में दिए गए शब्द के अनुसार विशेषण के भेद वाला विकल्प हो।

(मेरी) समझ में कुछ भी नहीं आ रहा है।

Options :

1. ✓ सार्वनामिक
2. ✗ अनिश्चित परिमाण वाचक
3. ✗ निश्चित संख्यावाचक
4. ✗ गुणवाचक

Question Number : 166 Question Id : 54062619600 Question Type : MCQ Option Shuffling : Yes Is Question Mandatory : No Option Orientation : Vertical

Correct Marks : 1 Wrong Marks : 0.25

निम्नलिखित प्रश्न में, चार विकल्पों में से, उस विकल्प का चयन करें जो देशज शब्द का सही विकल्प हो।

Options :

1. ✗ इलाज

2. ✓ छपाक
3. ✗ ज़िन्दगी
4. ✗ बहादुर

Question Number : 166 Question Id : 54062619600 Question Type : MCQ Option Shuffling : Yes Is Question Mandatory : No Option Orientation : Vertical

Correct Marks : 1 Wrong Marks : 0.25

निम्नलिखित प्रश्न में, चार विकल्पों में से, उस विकल्प का चयन करें जो देशज शब्द का सही विकल्प हो।

Options :

1. ✗ इलाज
2. ✓ छपाक
3. ✗ ज़िन्दगी
4. ✗ बहादुर

Question Number : 167 Question Id : 54062619601 Question Type : MCQ Option Shuffling : Yes Is Question Mandatory : No Option Orientation : Vertical

Correct Marks : 1 Wrong Marks : 0.25

निम्नलिखित प्रश्न में, चार विकल्पों में से, उस विकल्प का चयन करें जो दिए गए शब्द के लिए सही तत्पुरुष समास के विग्रह का विकल्प हो।

ठकुरसुहाती

Options :

1. ✗ ठाकुरों जैसी
2. ✗ ठाकुरों द्वारा ना पसंद की गई
3. ✓ ठाकुर के लिए रुचिकर बातें
4. ✗ ठाकुरों से सुहाना

Question Number : 167 Question Id : 54062619601 Question Type : MCQ Option Shuffling : Yes Is Question Mandatory : No Option Orientation : Vertical

Correct Marks : 1 Wrong Marks : 0.25

निम्नलिखित प्रश्न में, चार विकल्पों में से, उस विकल्प का चयन करें जो दिए गए शब्द के लिए सही तत्पुरुष समास के विग्रह का विकल्प हो।

ठकुरसुहाती

Options :

1. ✘ ठाकुरों जैसी
2. ✘ ठाकुरों द्वारा ना पसंद की गई
3. ✔ ठाकुर के लिए रुचिकर बातें
4. ✘ ठाकुरों से सुहाना

Question Number : 168 Question Id : 54062619602 Question Type : MCQ Option Shuffling : Yes Is Question Mandatory : No Option Orientation : Vertical

Correct Marks : 1 Wrong Marks : 0.25

निम्नलिखित प्रश्न में, चार विकल्पों में से, उस विकल्प का चयन करें जो दिए गए शब्द का तत्सम रूप हो।

सिंगार

Options :

1. ✘ शृंगाल
2. ✔ शृंगार
3. ✘ शाक
4. ✘ शिर

Question Number : 168 Question Id : 54062619602 Question Type : MCQ Option Shuffling : Yes Is Question Mandatory : No Option Orientation : Vertical

Correct Marks : 1 Wrong Marks : 0.25

निम्नलिखित प्रश्न में, चार विकल्पों में से, उस विकल्प का चयन करें जो दिए गए शब्द का तत्सम रूप हो।

सिंगार

Options :

1. ✘ शृंगाल
2. ✔ शृंगार
3. ✘ शाक
4. ✘ शिर

Question Number : 169 Question Id : 54062619603 Question Type : MCQ Option Shuffling : Yes Is Question Mandatory : No Option Orientation : Vertical

Correct Marks : 1 Wrong Marks : 0.25

निम्नलिखित प्रश्न में, चार विकल्पों में से, उस विकल्प का चयन करें जो दिए गए शब्द के पर्यायवाची शब्द का सही विकल्प नहीं है।

पल

Options :

1. ✓ पटल
2. ✗ निमिष
3. ✗ क्षण
4. ✗ लम्हा

Question Number : 169 Question Id : 54062619603 Question Type : MCQ Option Shuffling : Yes Is Question Mandatory : No Option Orientation : Vertical

Correct Marks : 1 Wrong Marks : 0.25

निम्नलिखित प्रश्न में, चार विकल्पों में से, उस विकल्प का चयन करें जो दिए गए शब्द के पर्यायवाची शब्द का सही विकल्प नहीं है।

पल

Options :

1. ✓ पटल
2. ✗ निमिष
3. ✗ क्षण
4. ✗ लम्हा

Question Number : 170 Question Id : 54062619604 Question Type : MCQ Option Shuffling : Yes Is Question Mandatory : No Option Orientation : Vertical

Correct Marks : 1 Wrong Marks : 0.25

निम्नलिखित प्रश्न में, चार विकल्पों में से, उस विकल्प का चयन करें जो विलोम शब्द का सबसे अच्छा विकल्प है।

गतिरोध

Options :

1. ✗ स्थिर
2. ✓ निर्विरोध
3. ✗ गतिमान

4. ✖ गण्य

Question Number : 170 Question Id : 54062619604 Question Type : MCQ Option Shuffling : Yes Is Question Mandatory : No Option Orientation : Vertical

Correct Marks : 1 Wrong Marks : 0.25

निम्नलिखित प्रश्न में, चार विकल्पों में से, उस विकल्प का चयन करें जो विलोम शब्द का सबसे अच्छा विकल्प है।

गतिरोध

Options :

1. ✖ स्थिर
2. ✔ निर्विरोध
3. ✖ गतिमान
4. ✖ गण्य

Question Number : 171 Question Id : 54062619605 Question Type : MCQ Option Shuffling : Yes Is Question Mandatory : No Option Orientation : Vertical

Correct Marks : 1 Wrong Marks : 0.25

निम्नलिखित प्रश्न में, चार विकल्पों में से, उस सही विकल्प का चयन करें जो वाक्यांशों के लिए एक शब्द का विकल्प हो।

जो कभी नष्ट न हो

Options :

1. ✖ निडर
2. ✖ अधीर
3. ✔ अनश्वर
4. ✖ अजेय

Question Number : 171 Question Id : 54062619605 Question Type : MCQ Option Shuffling : Yes Is Question Mandatory : No Option Orientation : Vertical

Correct Marks : 1 Wrong Marks : 0.25

निम्नलिखित प्रश्न में, चार विकल्पों में से, उस सही विकल्प का चयन करें जो वाक्यांशों के लिए एक शब्द का विकल्प हो।

जो कभी नष्ट न हो

Options :

1. ✘ निडर
2. ✘ अधीर
3. ✔ अनश्वर
4. ✘ अजेय

Question Number : 172 Question Id : 54062619606 Question Type : MCQ Option Shuffling : Yes Is Question Mandatory : No Option Orientation : Vertical

Correct Marks : 1 Wrong Marks : 0.25

निम्नलिखित प्रश्न में, चार विकल्पों में से, उस सही विकल्प का चयन करें जो दिए गए शब्द के सही अर्थ का उचित विकल्प हो।

परिणाम

Options :

1. ✘ दाम
2. ✘ प्राप्त
3. ✘ प्रमाण
4. ✔ फल

Question Number : 172 Question Id : 54062619606 Question Type : MCQ Option Shuffling : Yes Is Question Mandatory : No Option Orientation : Vertical

Correct Marks : 1 Wrong Marks : 0.25

निम्नलिखित प्रश्न में, चार विकल्पों में से, उस सही विकल्प का चयन करें जो दिए गए शब्द के सही अर्थ का उचित विकल्प हो।

परिणाम

Options :

1. ✘ दाम
2. ✘ प्राप्त
3. ✘ प्रमाण
4. ✔ फल

Question Number : 173 Question Id : 54062619607 Question Type : MCQ Option Shuffling : Yes Is Question Mandatory : No Option Orientation : Vertical

Correct Marks : 1 Wrong Marks : 0.25

निम्नलिखित प्रश्न में, चार विकल्पों में से, उस सही विकल्प का चयन करें जो रिक्त स्थान के लिए उपयुक्त शब्द का सही विकल्प है।

वह भटकता हुआ _____ में पहुँच गया।

Options :

1. ✘ व्यजन
2. ✘ व्यंजन
3. ✔ विजन
4. ✘ वहाँ

Question Number : 173 Question Id : 54062619607 Question Type : MCQ Option Shuffling : Yes Is Question Mandatory : No Option Orientation : Vertical

Correct Marks : 1 Wrong Marks : 0.25

निम्नलिखित प्रश्न में, चार विकल्पों में से, उस सही विकल्प का चयन करें जो रिक्त स्थान के लिए उपयुक्त शब्द का सही विकल्प है।

वह भटकता हुआ _____ में पहुँच गया।

Options :

1. ✘ व्यजन
2. ✘ व्यंजन
3. ✔ विजन
4. ✘ वहाँ

Question Number : 174 Question Id : 54062619608 Question Type : MCQ Option Shuffling : Yes Is Question Mandatory : No Option Orientation : Vertical

Correct Marks : 1 Wrong Marks : 0.25

निम्नलिखित प्रश्न में, चार विकल्पों में से, उस विकल्प का चयन करें जो शुद्ध शब्द का सही विकल्प है।

Options :

1. ✘ वीवारानिका
2. ✔ विवरणिका
3. ✘ विवरणीका
4. ✘ विवरणिक

Question Number : 174 Question Id : 54062619608 Question Type : MCQ Option Shuffling : Yes Is Question Mandatory : No Option Orientation : Vertical

Correct Marks : 1 Wrong Marks : 0.25

निम्नलिखित प्रश्न में, चार विकल्पों में से, उस विकल्प का चयन करें जो शुद्ध शब्द का सही विकल्प है।

Options :

1. ✘ वीवारानिका
2. ✔ विवरणिका
3. ✘ विवरणीका
4. ✘ विवरणिक

Question Number : 175 Question Id : 54062619609 Question Type : MCQ Option Shuffling : Yes Is Question Mandatory : No Option Orientation : Vertical

Correct Marks : 1 Wrong Marks : 0.25

निम्नलिखित प्रश्न में, चार विकल्पों में से, उस विकल्प का चयन करें जो शुद्ध शब्द का सही विकल्प है।

Options :

1. ✘ धवस्त
2. ✔ ध्वस्त
3. ✘ धव्स्त
4. ✘ ध्वसत

Question Number : 175 Question Id : 54062619609 Question Type : MCQ Option Shuffling : Yes Is Question Mandatory : No Option Orientation : Vertical

Correct Marks : 1 Wrong Marks : 0.25

निम्नलिखित प्रश्न में, चार विकल्पों में से, उस विकल्प का चयन करें जो शुद्ध शब्द का सही विकल्प है।

Options :

1. ✘ धवस्त
2. ✔ ध्वस्त
3. ✘ धव्स्त
4. ✘ ध्वसत

Question Number : 176 Question Id : 54062619610 Question Type : MCQ Option Shuffling : Yes Is Question Mandatory : No Option Orientation : Vertical

Correct Marks : 1 Wrong Marks : 0.25

निम्नलिखित प्रश्न में, चार विकल्पों में से, उस विकल्प का चयन करें जो दिए गए शब्द के समानार्थी शब्द का विकल्प नहीं है।

प्रयास

Options :

1. ✘ कोशिश
2. ✘ परिश्रम
3. ✘ प्रयत्न
4. ✔ गमन

Question Number : 176 Question Id : 54062619610 Question Type : MCQ Option Shuffling : Yes Is Question Mandatory : No Option Orientation : Vertical

Correct Marks : 1 Wrong Marks : 0.25

निम्नलिखित प्रश्न में, चार विकल्पों में से, उस विकल्प का चयन करें जो दिए गए शब्द के समानार्थी शब्द का विकल्प नहीं है।

प्रयास

Options :

1. ✘ कोशिश
2. ✘ परिश्रम
3. ✘ प्रयत्न
4. ✔ गमन

Question Number : 177 Question Id : 54062619611 Question Type : MCQ Option Shuffling : Yes Is Question Mandatory : No Option Orientation : Vertical

Correct Marks : 1 Wrong Marks : 0.25

निम्नलिखित प्रश्न में, चार विकल्पों में से, उस सही विकल्प का चयन करें जो दिए गए शब्द-युग्म के अर्थ का सही विकल्प हो।

दायी और दाई

Options :

1. ✘ दिशा और गरीब

2. ✘ देवता और नौकरानी
3. ✔ देनेवाला और नौकरानी
4. ✘ देनेवाला और भाग्य

Question Number : 177 Question Id : 54062619611 Question Type : MCQ Option Shuffling : Yes Is Question Mandatory : No Option Orientation : Vertical

Correct Marks : 1 Wrong Marks : 0.25

निम्नलिखित प्रश्न में, चार विकल्पों में से, उस सही विकल्प का चयन करें जो दिए गए शब्द-युग्म के अर्थ का सही विकल्प हो।

दायी और दाई

Options :

1. ✘ दिशा और गरीब
2. ✘ देवता और नौकरानी
3. ✔ देनेवाला और नौकरानी
4. ✘ देनेवाला और भाग्य

Question Number : 178 Question Id : 54062619612 Question Type : MCQ Option Shuffling : Yes Is Question Mandatory : No Option Orientation : Vertical

Correct Marks : 1 Wrong Marks : 0.25

निम्नलिखित प्रश्न में, चार विकल्पों में से, उस विकल्प का चयन करें जो सदैव स्त्रीलिंग रूप वाला विकल्प है।

Options :

1. ✔ संतान
2. ✘ आरोप
3. ✘ उपहास
4. ✘ खीरा

Question Number : 178 Question Id : 54062619612 Question Type : MCQ Option Shuffling : Yes Is Question Mandatory : No Option Orientation : Vertical

Correct Marks : 1 Wrong Marks : 0.25

निम्नलिखित प्रश्न में, चार विकल्पों में से, उस विकल्प का चयन करें जो सदैव स्त्रीलिंग रूप वाला विकल्प है।

Options :

1. ✓ संतान
2. ✗ आरोप
3. ✗ उपहास
4. ✗ खीरा

Question Number : 179 Question Id : 54062619613 Question Type : MCQ Option Shuffling : Yes Is Question Mandatory : No Option Orientation : Vertical

Correct Marks : 1 Wrong Marks : 0.25

निम्नलिखित प्रश्न में, चार विकल्पों में से, उस विकल्प का चयन करें जो सदैव बहुवचन शब्द का सबसे अच्छा विकल्प है।

Options :

1. ✗ घड़ी
2. ✓ दर्शन
3. ✗ कक्षा
4. ✗ अध्यापिका

Question Number : 179 Question Id : 54062619613 Question Type : MCQ Option Shuffling : Yes Is Question Mandatory : No Option Orientation : Vertical

Correct Marks : 1 Wrong Marks : 0.25

निम्नलिखित प्रश्न में, चार विकल्पों में से, उस विकल्प का चयन करें जो सदैव बहुवचन शब्द का सबसे अच्छा विकल्प है।

Options :

1. ✗ घड़ी
2. ✓ दर्शन
3. ✗ कक्षा
4. ✗ अध्यापिका

Question Number : 180 Question Id : 54062619614 Question Type : MCQ Option Shuffling : Yes Is Question Mandatory : No Option Orientation : Vertical

Correct Marks : 1 Wrong Marks : 0.25

निम्नलिखित प्रश्न में, चार विकल्पों में से, उस विकल्प का चयन करें जो कोष्ठक में दिए गए शब्द के अनुसार मध्यम पुरुष वाचक सर्वनाम का सबसे अच्छा विकल्प है।

Options :

1. ✓ क्या (तुम्हारे) पास कुछ रुपए हैं?
2. ✗ (उसे) यहाँ बुलाना ही नहीं चाहिए था।
3. ✗ (यह) काम काफी कठिन है।
4. ✗ (मैं) कुछ दिनों के लिए गाँव जा रहा हूँ।

Question Number : 180 Question Id : 54062619614 Question Type : MCQ Option Shuffling : Yes Is Question Mandatory : No Option Orientation : Vertical

Correct Marks : 1 Wrong Marks : 0.25

निम्नलिखित प्रश्न में, चार विकल्पों में से, उस विकल्प का चयन करें जो कोष्ठक में दिए गए शब्द के अनुसार मध्यम पुरुष वाचक सर्वनाम का सबसे अच्छा विकल्प है।

Options :

1. ✓ क्या (तुम्हारे) पास कुछ रुपए हैं?
2. ✗ (उसे) यहाँ बुलाना ही नहीं चाहिए था।
3. ✗ (यह) काम काफी कठिन है।
4. ✗ (मैं) कुछ दिनों के लिए गाँव जा रहा हूँ।

General Hindi2

Group Number :	10
Group Id :	540626753
Group Maximum Duration :	0
Group Minimum Duration :	120
Show Attended Group? :	No
Edit Attended Group? :	No
Break time :	0
Group Marks :	20
Is this Group for Examiner? :	No

General Hindi2

Section Id :	540626935
Section Number :	1
Section type :	Online
Mandatory or Optional :	Mandatory
Number of Questions :	16
Number of Questions to be attempted :	16
Section Marks :	20
Enable Mark as Answered Mark for Review and Clear Response :	Yes
Sub-Section Number :	1
Sub-Section Id :	5406261129
Question Shuffling Allowed :	Yes

Question Number : 181 Question Id : 54062619615 Question Type : MCQ Option Shuffling : Yes Is Question Mandatory : No Option Orientation : Vertical

Correct Marks : 1 Wrong Marks : 0.25

निम्नलिखित प्रश्न में, चार विकल्पों में से, उस विकल्प का चयन करें जो दिए गए वाक्य के काल का सही विकल्प हो।

बच्चे घर आते होंगे।

Options :

1. ✓ संदिग्ध वर्तमानकाल
2. ✗ आसन्न भूतकाल
3. ✗ सामान्य भविष्यकाल
4. ✗ सामान्य भूतकाल

Question Number : 181 Question Id : 54062619615 Question Type : MCQ Option Shuffling : Yes Is Question Mandatory : No Option Orientation : Vertical

Correct Marks : 1 Wrong Marks : 0.25

निम्नलिखित प्रश्न में, चार विकल्पों में से, उस विकल्प का चयन करें जो दिए गए वाक्य के काल का सही विकल्प हो।

बच्चे घर आते होंगे।

Options :

1. ✓ संदिग्ध वर्तमानकाल
2. ✗ आसन्न भूतकाल

3. ✖ सामान्य भविष्यकाल

4. ✖ सामान्य भूतकाल

Question Number : 182 Question Id : 54062619616 Question Type : MCQ Option Shuffling : Yes Is Question Mandatory : No Option Orientation : Vertical

Correct Marks : 1 Wrong Marks : 0.25

निम्नलिखित प्रश्न में, चार विकल्पों में से, उस विकल्प का चयन करें जो दिए गए वाक्य के लिए वृत्ति के भेद का सबसे अच्छा विकल्प है।

ज़रा मेरे साथ बाज़ार चलिए।

Options :

1. ✖ संकेतार्थ

2. ✖ संदेहार्थ

3. ✖ संभावनार्थ

4. ✔ विध्यर्थ

Question Number : 182 Question Id : 54062619616 Question Type : MCQ Option Shuffling : Yes Is Question Mandatory : No Option Orientation : Vertical

Correct Marks : 1 Wrong Marks : 0.25

निम्नलिखित प्रश्न में, चार विकल्पों में से, उस विकल्प का चयन करें जो दिए गए वाक्य के लिए वृत्ति के भेद का सबसे अच्छा विकल्प है।

ज़रा मेरे साथ बाज़ार चलिए।

Options :

1. ✖ संकेतार्थ

2. ✖ संदेहार्थ

3. ✖ संभावनार्थ

4. ✔ विध्यर्थ

Question Number : 183 Question Id : 54062619617 Question Type : MCQ Option Shuffling : Yes Is Question Mandatory : No Option Orientation : Vertical

Correct Marks : 1 Wrong Marks : 0.25

निम्नलिखित प्रश्न में, चार विकल्पों में से, उस विकल्प का चयन करें जो दिए गए वाक्य के लिए पक्ष के भेद का सबसे अच्छा विकल्प है।

पानी काफी भर चुका है!

Options :

1. ✓ पूर्णताद्योतक
2. ✗ नित्यताद्योतक
3. ✗ प्रगतिद्योतक
4. ✗ आरंभद्योतक

Question Number : 183 Question Id : 54062619617 Question Type : MCQ Option Shuffling : Yes Is Question Mandatory : No Option Orientation : Vertical

Correct Marks : 1 Wrong Marks : 0.25

निम्नलिखित प्रश्न में, चार विकल्पों में से, उस विकल्प का चयन करें जो दिए गए वाक्य के लिए पक्ष के भेद का सबसे अच्छा विकल्प है।

पानी काफी भर चुका है!

Options :

1. ✓ पूर्णताद्योतक
2. ✗ नित्यताद्योतक
3. ✗ प्रगतिद्योतक
4. ✗ आरंभद्योतक

Question Number : 184 Question Id : 54062619618 Question Type : MCQ Option Shuffling : Yes Is Question Mandatory : No Option Orientation : Vertical

Correct Marks : 1 Wrong Marks : 0.25

निम्नलिखित प्रश्न में, चार विकल्पों में से, उस विकल्प का चयन करें जो शुद्ध वाक्य का सबसे अच्छा विकल्प है।

Options :

1. ✗ गले में गुलामी की बेड़ियाँ पड़ गई।
2. ✓ पैरों में गुलामी की बेड़ियाँ पड़ गई।
3. ✗ पैरों में गुलामी की बेड़ियाँ गिर गई।
4. ✗ पैरों को गुलामी की बेड़ियाँ पड़ गई।

Question Number : 184 Question Id : 54062619618 Question Type : MCQ Option Shuffling : Yes Is Question Mandatory : No Option Orientation : Vertical

Correct Marks : 1 Wrong Marks : 0.25

निम्नलिखित प्रश्न में, चार विकल्पों में से, उस विकल्प का चयन करें जो शुद्ध वाक्य का सबसे अच्छा विकल्प है।

Options :

1. ✘ गले में गुलामी की बेड़ियाँ पड़ गई।
2. ✔ पैरों में गुलामी की बेड़ियाँ पड़ गई।
3. ✘ पैरों में गुलामी की बेड़ियाँ गिर गई।
4. ✘ पैरों को गुलामी की बेड़ियाँ पड़ गई।

Question Number : 185 Question Id : 54062619619 Question Type : MCQ Option Shuffling : Yes Is Question Mandatory : No Option Orientation : Vertical

Correct Marks : 1 Wrong Marks : 0.25

निम्नलिखित प्रश्न में, चार विकल्पों में से, उस विकल्प का चयन करें जो सही वाक्य भेद का विकल्प हो।

काम समाप्त करो और घर जाओ।

Options :

1. ✔ संयुक्त वाक्य
2. ✘ मिश्र वाक्य
3. ✘ संदेहवाचक वाक्य
4. ✘ सरल वाक्य

Question Number : 185 Question Id : 54062619619 Question Type : MCQ Option Shuffling : Yes Is Question Mandatory : No Option Orientation : Vertical

Correct Marks : 1 Wrong Marks : 0.25

निम्नलिखित प्रश्न में, चार विकल्पों में से, उस विकल्प का चयन करें जो सही वाक्य भेद का विकल्प हो।

काम समाप्त करो और घर जाओ।

Options :

1. ✔ संयुक्त वाक्य
2. ✘ मिश्र वाक्य
3. ✘ संदेहवाचक वाक्य
4. ✘ सरल वाक्य

Question Number : 186 Question Id : 54062619620 Question Type : MCQ Option Shuffling : Yes Is Question Mandatory : No Option Orientation : Vertical

Correct Marks : 1 Wrong Marks : 0.25

निम्नलिखित प्रश्न में, चार विकल्पों में से, उस विकल्प का चयन करें जो सही वाक्य भेद का विकल्प हो।

मैंने एक पक्षी देखा जो घायल था।

Options :

1. ✘ विधानवाचक वाक्य
2. ✘ सरल वाक्य
3. ✔ मिश्र वाक्य
4. ✘ संयुक्त वाक्य

Question Number : 186 Question Id : 54062619620 Question Type : MCQ Option Shuffling : Yes Is Question Mandatory : No Option Orientation : Vertical

Correct Marks : 1 Wrong Marks : 0.25

निम्नलिखित प्रश्न में, चार विकल्पों में से, उस विकल्प का चयन करें जो सही वाक्य भेद का विकल्प हो।

मैंने एक पक्षी देखा जो घायल था।

Options :

1. ✘ विधानवाचक वाक्य
2. ✘ सरल वाक्य
3. ✔ मिश्र वाक्य
4. ✘ संयुक्त वाक्य

Question Number : 187 Question Id : 54062619621 Question Type : MCQ Option Shuffling : Yes Is Question Mandatory : No Option Orientation : Vertical

Correct Marks : 1 Wrong Marks : 0.25

निम्नलिखित प्रश्न में, चार विकल्पों में से, उस विकल्प का चयन करें जो विराम चिह्न युक्त वाक्य का सही विकल्प हो।

Options :

1. ✘ सोनक ने कहा प्रभु, मुझे वरदान नहीं, परिश्रम का फल चाहिए।
2. ✔ सोनक ने कहा, "प्रभु, मुझे वरदान नहीं, परिश्रम का फल चाहिए।"

3. ✘ सोनक ने कहा, "प्रभु, मुझे वरदान नहीं-परिश्रम का फल चाहिए।"
4. ✘ सोनक ने कहा, "प्रभु मुझे वरदान नहीं परिश्रम का फल चाहिए।"

Question Number : 187 Question Id : 54062619621 Question Type : MCQ Option Shuffling : Yes Is Question Mandatory : No Option Orientation : Vertical

Correct Marks : 1 Wrong Marks : 0.25

निम्नलिखित प्रश्न में, चार विकल्पों में से, उस विकल्प का चयन करें जो विराम चिह्न युक्त वाक्य का सही विकल्प हो।

Options :

1. ✘ सोनक ने कहा प्रभु, मुझे वरदान नहीं, परिश्रम का फल चाहिए।
2. ✔ सोनक ने कहा, "प्रभु, मुझे वरदान नहीं, परिश्रम का फल चाहिए।"
3. ✘ सोनक ने कहा, "प्रभु, मुझे वरदान नहीं-परिश्रम का फल चाहिए।"
4. ✘ सोनक ने कहा, "प्रभु मुझे वरदान नहीं परिश्रम का फल चाहिए।"

Question Number : 188 Question Id : 54062619622 Question Type : MCQ Option Shuffling : Yes Is Question Mandatory : No Option Orientation : Vertical

Correct Marks : 1 Wrong Marks : 0.25

निम्नलिखित प्रश्न में, चार विकल्पों में से, उस विकल्प का चयन करें जो विराम चिह्न युक्त वाक्य का सही विकल्प हो।

Options :

1. ✘ उसने कहा क्यों जी, तुम लोगों ने मुझे क्यों पकड़ा है? उन्होंने जवाब दिया, "धन के लिए।"
2. ✘ उसने कहा, "क्यों जी, तुम लोगों ने मुझे क्यों पकड़ा है?" उन्होंने जवाब दिया धन के लिए
3. ✔ उसने कहा, "क्यों जी, तुम लोगों ने मुझे क्यों पकड़ा है?" उन्होंने जवाब दिया, "धन के लिए।"
4. ✘ उसने कहा- क्यों जी, तुम लोगों ने मुझे क्यों पकड़ा है?" उन्होंने जवाब दिया- धन के लिए।

Question Number : 188 Question Id : 54062619622 Question Type : MCQ Option Shuffling : Yes Is Question Mandatory : No Option Orientation : Vertical

Correct Marks : 1 Wrong Marks : 0.25

निम्नलिखित प्रश्न में, चार विकल्पों में से, उस विकल्प का चयन करें जो विराम चिह्न युक्त वाक्य का सही विकल्प हो।

Options :

1. ✘ उसने कहा क्यों जी, तुम लोगों ने मुझे क्यों पकड़ा है? उन्होंने जवाब दिया, "धन के लिए।"
2. ✘ उसने कहा, "क्यों जी, तुम लोगों ने मुझे क्यों पकड़ा है?" उन्होंने जवाब दिया धन के लिए
3. ✔ उसने कहा, "क्यों जी, तुम लोगों ने मुझे क्यों पकड़ा है?" उन्होंने जवाब दिया, "धन के लिए।"

4. ✘ उसने कहा- क्यों जी, तुम लोगों ने मुझे क्यों पकड़ा है?" उन्होंने जवाब दिया- धन के लिए।

Question Number : 189 Question Id : 54062619623 Question Type : MCQ Option Shuffling : Yes Is Question Mandatory : No Option Orientation : Vertical

Correct Marks : 1 Wrong Marks : 0.25

निम्नलिखित प्रश्न में, चार विकल्पों में से, उस विकल्प का चयन करें जो विराम चिह्न युक्त वाक्य का सही विकल्प हो।

Options :

1. ✘ 'ठीक है, मायके गई है।' शेख ने बताया
2. ✘ 'ठीक है मायके गई है' शेख ने बताया।
3. ✘ ठीक है, मायके गई है शेख ने बताया।
4. ✔ "ठीक है, मायके गई है।" शेख ने बताया।

Question Number : 189 Question Id : 54062619623 Question Type : MCQ Option Shuffling : Yes Is Question Mandatory : No Option Orientation : Vertical

Correct Marks : 1 Wrong Marks : 0.25

निम्नलिखित प्रश्न में, चार विकल्पों में से, उस विकल्प का चयन करें जो विराम चिह्न युक्त वाक्य का सही विकल्प हो।

Options :

1. ✘ 'ठीक है, मायके गई है।' शेख ने बताया
2. ✘ 'ठीक है मायके गई है' शेख ने बताया।
3. ✘ ठीक है, मायके गई है शेख ने बताया।
4. ✔ "ठीक है, मायके गई है।" शेख ने बताया।

Question Number : 190 Question Id : 54062619624 Question Type : MCQ Option Shuffling : Yes Is Question Mandatory : No Option Orientation : Vertical

Correct Marks : 1 Wrong Marks : 0.25

निम्नलिखित प्रश्न में, चार विकल्पों में से, उस विकल्प का चयन करें जो दिए गए मुहावरे का सही अर्थ वाला विकल्प है।

मिट्टी खराब करना

Options :

1. ✘ चापलूसी करना
2. ✘ हार मानना

3. ✓ बुरा हाल करना

4. ✗ उदास होना

Question Number : 190 Question Id : 54062619624 Question Type : MCQ Option Shuffling : Yes Is Question Mandatory : No Option Orientation : Vertical

Correct Marks : 1 Wrong Marks : 0.25

निम्नलिखित प्रश्न में, चार विकल्पों में से, उस विकल्प का चयन करें जो दिए गए मुहावरे का सही अर्थ वाला विकल्प है।

मिट्टी खराब करना

Options :

1. ✗ चापलूसी करना

2. ✗ हार मानना

3. ✓ बुरा हाल करना

4. ✗ उदास होना

Question Number : 191 Question Id : 54062619625 Question Type : MCQ Option Shuffling : Yes Is Question Mandatory : No Option Orientation : Vertical

Correct Marks : 1 Wrong Marks : 0.25

निम्नलिखित प्रश्न में, चार विकल्पों में से, उस विकल्प का चयन करें जो दिए गए मुहावरे का सही अर्थ वाला विकल्प है।

भाड़े का टट्टू

Options :

1. ✗ मूर्ख आदमी

2. ✓ पैसे लेकर ही काम करने वाला

3. ✗ बेकार रहने वाला

4. ✗ एक पक्ष का

Question Number : 191 Question Id : 54062619625 Question Type : MCQ Option Shuffling : Yes Is Question Mandatory : No Option Orientation : Vertical

Correct Marks : 1 Wrong Marks : 0.25

निम्नलिखित प्रश्न में, चार विकल्पों में से, उस विकल्प का चयन करें जो दिए गए मुहावरे का सही अर्थ वाला विकल्प है।

भाड़े का टट्टू

Options :

1. ✘ मूर्ख आदमी
2. ✔ पैसे लेकर ही काम करने वाला
3. ✘ बेकार रहने वाला
4. ✘ एक पक्ष का

Question Number : 192 Question Id : 54062619626 Question Type : MCQ Option Shuffling : Yes Is Question Mandatory : No Option Orientation : Vertical

Correct Marks : 1 Wrong Marks : 0.25

निम्नलिखित प्रश्न में, चार विकल्पों में से, उस विकल्प का चयन करें जो दिए गए मुहावरे का सही अर्थ वाला विकल्प है।

बाजार गर्म होना

Options :

1. ✔ काम-धंधा तेज होना
2. ✘ स्वयं को संकट में डालना
3. ✘ गुस्सा करना
4. ✘ नुकसान होना

Question Number : 192 Question Id : 54062619626 Question Type : MCQ Option Shuffling : Yes Is Question Mandatory : No Option Orientation : Vertical

Correct Marks : 1 Wrong Marks : 0.25

निम्नलिखित प्रश्न में, चार विकल्पों में से, उस विकल्प का चयन करें जो दिए गए मुहावरे का सही अर्थ वाला विकल्प है।

बाजार गर्म होना

Options :

1. ✔ काम-धंधा तेज होना
2. ✘ स्वयं को संकट में डालना
3. ✘ गुस्सा करना
4. ✘ नुकसान होना

Question Number : 193 Question Id : 54062619627 Question Type : MCQ Option Shuffling : Yes Is Question Mandatory : No Option Orientation : Vertical

Correct Marks : 1 Wrong Marks : 0.25

निम्नलिखित प्रश्न में, चार विकल्पों में से, उस विकल्प का चयन करें जो दी गई लोकोक्ति का सही अर्थ वाला विकल्प है।

कागज की नाव नहीं चलती

Options :

1. ✘ बुरी संगत में पड़ना
2. ✔ धोखेबाजी ज्यादा दिन नहीं चल सकती
3. ✘ दूसरों की चिंता में घुलना
4. ✘ समय बरबाद करना

Question Number : 193 Question Id : 54062619627 Question Type : MCQ Option Shuffling : Yes Is Question Mandatory : No Option Orientation : Vertical

Correct Marks : 1 Wrong Marks : 0.25

निम्नलिखित प्रश्न में, चार विकल्पों में से, उस विकल्प का चयन करें जो दी गई लोकोक्ति का सही अर्थ वाला विकल्प है।

कागज की नाव नहीं चलती

Options :

1. ✘ बुरी संगत में पड़ना
2. ✔ धोखेबाजी ज्यादा दिन नहीं चल सकती
3. ✘ दूसरों की चिंता में घुलना
4. ✘ समय बरबाद करना

Question Number : 194 Question Id : 54062619628 Question Type : MCQ Option Shuffling : Yes Is Question Mandatory : No Option Orientation : Vertical

Correct Marks : 1 Wrong Marks : 0.25

निम्नलिखित प्रश्न में, चार विकल्पों में से, उस विकल्प का चयन करें जो दी गई लोकोक्ति का सही अर्थ वाला विकल्प है।

काबुल में क्या गधे नहीं होते

Options :

1. ✘ अनपढ़ होना

2. ✘ कुछ कहने पर कुछ समझना
3. ✘ आवश्यक चिंताओं से दूर रहना
4. ✔ अच्छाई के साथ-साथ बुराई भी रहती है

Question Number : 194 Question Id : 54062619628 Question Type : MCQ Option Shuffling : Yes Is Question Mandatory : No Option Orientation : Vertical

Correct Marks : 1 Wrong Marks : 0.25

निम्नलिखित प्रश्न में, चार विकल्पों में से, उस विकल्प का चयन करें जो दी गई लोकोक्ति का सही अर्थ वाला विकल्प है।

काबुल में क्या गधे नहीं होते

Options :

1. ✘ अनपढ़ होना
2. ✘ कुछ कहने पर कुछ समझना
3. ✘ आवश्यक चिंताओं से दूर रहना
4. ✔ अच्छाई के साथ-साथ बुराई भी रहती है

Question Number : 195 Question Id : 54062619629 Question Type : MCQ Option Shuffling : Yes Is Question Mandatory : No Option Orientation : Vertical

Correct Marks : 1 Wrong Marks : 0.25

निम्नलिखित प्रश्न में, चार विकल्पों में से, उस विकल्प का चयन करें जो दी गई लोकोक्ति का सही अर्थ वाला विकल्प है।

किसी का घर जले कोई तापे

Options :

1. ✘ भरोसेमंद व्यक्ति का बेईमान हो जाना
2. ✘ कुछ भी बचत ना होना
3. ✔ किसी की हानि पर किसी अन्य का लाभान्वित होना
4. ✘ अपनी चीज की बड़ाई करना

Question Number : 195 Question Id : 54062619629 Question Type : MCQ Option Shuffling : Yes Is Question Mandatory : No Option Orientation : Vertical

Correct Marks : 1 Wrong Marks : 0.25

निम्नलिखित प्रश्न में, चार विकल्पों में से, उस विकल्प का चयन करें जो दी गई लोकोक्ति का सही अर्थ वाला विकल्प है।

किसी का घर जले कोई तापे

Options :

1. ✘ भरोसेमंद व्यक्ति का बेईमान हो जाना
2. ✘ कुछ भी बचत ना होना
3. ✔ किसी की हानि पर किसी अन्य का लाभान्वित होना
4. ✘ अपनी चीज की बड़ाई करना

Sub-Section Number :

2

Sub-Section Id :

5406261130

Question Shuffling Allowed :

Yes

Question Id : 54062619630 Question Type : COMPREHENSION Sub Question Shuffling Allowed : Yes Group Comprehension

Questions : No

Question Numbers : (196 to 200)

गद्यांश को ध्यान से पढ़ें और दिए गए प्रश्नों के उत्तर दें।

कबीर ने समाज में रहकर समाज का समीप से निरीक्षण किया। समाज में फैले बाह्याडंबर, भेदभाव, साम्प्रदायिकता आदि का उन्होंने पुष्ट प्रमाण लेकर ऐसा दृढ़ विरोध किया कि किसी की हिम्मत नहीं हुई जो उनके अकाट्य तर्कों को काट सके। कबीर का व्यक्तित्व इतना ऊँचा था कि उनके सामने टिक सकने की हिम्मत किसी में नहीं थी। इस प्रकार उन्होंने समाज तथा धर्म की बुराइयों को निकाल-निकालकर सबके सामने रखा, ऊँचा नाम रखकर संसार को ठगनेवालों के नकली चेहरों को सबको दिखाया और दीन-दलितों को ऊपर उठने का उपदेश देकर, अपने व्यक्तित्व को सुधारकर सबके सामने एक महान आदर्श प्रस्तुत कर सिद्धांतों का निरूपण किया। कर्म, सेवा, अहिंसा तथा निर्गुण मार्ग का प्रसार किया। कर्मकाण्ड व मूर्तिपूजा का विरोध किया। अपनी साखियों, रमैणियों तथा शब्दों को बोलचाल की भाषा में रखकर सबके सामने एक विशाल ज्ञानमार्ग खोला। इस प्रकार कबीर ने समन्वयवादी दृष्टिकोण अपनाया और कथनी-करनी एकता पर बल दिया। वे महान युगद्रष्टा, समाज सुधारक तथा महान कवि थे। उन्होंने हिन्दू-मुस्लिम के बीच समन्वय की धारा प्रवाहित कर दोनों को ही शीतलता प्रदान की।

Sub questions

Question Number : 196 Question Id : 54062619631 Question Type : MCQ Option Shuffling : Yes Is Question Mandatory : No Option

Orientation : Vertical

Correct Marks : 1 Wrong Marks : 0.25

कबीर के अकाट्य तर्कों को काटने की क्षमता किसी में क्यों नहीं थीं?

Options :

1. ✔ उन्होंने सामाजिक गतिविधियों का गहराई से निरीक्षण किया था
2. ✘ कबीर अपने समय के महान विद्वान थे
3. ✘ उन्होंने शास्त्रों का गंभीर अध्ययन किया था

4. ✖ वे वाद-विवाद में बड़े कुशल थे

Question Number : 197 Question Id : 54062619632 Question Type : MCQ Option Shuffling : Yes Is Question Mandatory : No Option Orientation : Vertical

Correct Marks : 1 Wrong Marks : 0.25

समाज सुधारक के रूप में कबीर का क्या योगदान था?

Options :

1. ✖ उन्होंने दीन-दलितों की मदद की
2. ✔ उन्होंने सामाजिक भेदभाव व साम्प्रदायिकता का दृढ़ता से विरोध किया
3. ✖ उन्होंने धर्म के प्रति अनास्था कायम की
4. ✖ उन्होंने आचरण की शुद्धता पर बल दिया

Question Number : 198 Question Id : 54062619633 Question Type : MCQ Option Shuffling : Yes Is Question Mandatory : No Option Orientation : Vertical

Correct Marks : 1 Wrong Marks : 0.25

कबीर ने किस प्रकार निर्गुण मार्ग का प्रसार किया?

Options :

1. ✖ प्राचीन सन्त-परम्परा का विरोध कर
2. ✖ व्यक्ति पूजा का खंडन करके
3. ✖ शास्त्रार्थ द्वारा
4. ✔ कर्मकांड और मूर्तिपूजा के विरोध द्वारा

Question Number : 199 Question Id : 54062619634 Question Type : MCQ Option Shuffling : Yes Is Question Mandatory : No Option Orientation : Vertical

Correct Marks : 1 Wrong Marks : 0.25

इनमें से कौन - सा विरोध का पर्यायवाची नहीं है?

Options :

1. ✖ विसंगति
2. ✖ अवरोध
3. ✔ साहचर्य
4. ✖ संघर्ष

Question Number : 200 Question Id : 54062619635 Question Type : MCQ Option Shuffling : Yes Is Question Mandatory : No Option Orientation : Vertical

Correct Marks : 1 Wrong Marks : 0.25

इस अनुच्छेद का कोई उपयुक्त शीर्षक:

Options :

1. ✘ समन्वयवादी सिद्धांत
2. ✔ कबीर का सामाजिक दृष्टिकोण
3. ✘ सांप्रदायिक समाज
4. ✘ संत और समाज

Question Id : 54062619630 Question Type : COMPREHENSION Sub Question Shuffling Allowed : Yes Group Comprehension Questions : No

Question Numbers : (196 to 200)

गद्यांश को ध्यान से पढ़ें और दिए गए प्रश्नों के उत्तर दें।

कबीर ने समाज में रहकर समाज का समीप से निरिक्षण किया। समाज में फैले बाह्याडंबर, भेदभाव, साम्प्रदायिकता आदि का उन्होंने पुष्ट प्रमाण लेकर ऐसा दृढ़ विरोध किया कि किसी की हिम्मत नहीं हुई जो उनके अकाट्य तर्कों को काट सके। कबीर का व्यक्तित्व इतना ऊँचा था कि उनके सामने टिक सकने की हिम्मत किसी में नहीं थी। इस प्रकार उन्होंने समाज तथा धर्म की बुराइयों को निकाल-निकालकर सबके सामने रखा, ऊँचा नाम रखकर संसार को ठगनेवालों के नकली चेहरों को सबको दिखाया और दीन-दलितों को ऊपर उठने का उपदेश देकर, अपने व्यक्तित्व को सुधारकर सबके सामने एक महान आदर्श प्रस्तुत कर सिद्धांतों का निरूपण किया। कर्म, सेवा, अहिंसा तथा निर्गुण मार्ग का प्रसार किया। कर्मकाण्ड व मूर्तिपूजा का विरोध किया। अपनी साखियों, रमैणियों तथा शब्दों को बोलचाल की भाषा में रखकर सबके सामने एक विशाल ज्ञानमार्ग खोला। इस प्रकार कबीर ने समन्वयवादी दृष्टिकोण अपनाया और कथनी-करनी एकता पर बल दिया। वे महान युगद्रष्टा, समाज सुधारक तथा महान कवि थे। उन्होंने हिन्दू-मुस्लिम के बीच समन्वय की धारा प्रवाहित कर दोनों को ही शीतलता प्रदान की।

Sub questions

Question Number : 196 Question Id : 54062619631 Question Type : MCQ Option Shuffling : Yes Is Question Mandatory : No Option Orientation : Vertical

Correct Marks : 1 Wrong Marks : 0.25

कबीर के अकाट्य तर्कों को काटने की क्षमता किसी में क्यों नहीं थीं?

Options :

1. ✔ उन्होंने सामाजिक गतिविधियों का गहराई से निरिक्षण किया था
2. ✘ कबीर अपने समय के महान विद्वान थे
3. ✘ उन्होंने शास्त्रों का गंभीर अध्ययन किया था
4. ✘ वे वाद-विवाद में बड़े कुशल थे

Question Number : 197 Question Id : 54062619632 Question Type : MCQ Option Shuffling : Yes Is Question Mandatory : No Option Orientation : Vertical

Correct Marks : 1 Wrong Marks : 0.25

समाज सुधारक के रूप में कबीर का क्या योगदान था?

Options :

1. ✘ उन्होंने दीन-दलितों की मदद की
2. ✔ उन्होंने सामाजिक भेदभाव व साम्प्रदायिकता का दृढ़ता से विरोध किया
3. ✘ उन्होंने धर्म के प्रति अनास्था कायम की
4. ✘ उन्होंने आचरण की शुद्धता पर बल दिया

Question Number : 198 Question Id : 54062619633 Question Type : MCQ Option Shuffling : Yes Is Question Mandatory : No Option Orientation : Vertical

Correct Marks : 1 Wrong Marks : 0.25

कबीर ने किस प्रकार निर्गुण मार्ग का प्रसार किया?

Options :

1. ✘ प्राचीन सन्त-परम्परा का विरोध कर
2. ✘ व्यक्ति पूजा का खंडन करके
3. ✘ शास्त्रार्थ द्वारा
4. ✔ कर्मकांड और मूर्तिपूजा के विरोध द्वारा

Question Number : 199 Question Id : 54062619634 Question Type : MCQ Option Shuffling : Yes Is Question Mandatory : No Option Orientation : Vertical

Correct Marks : 1 Wrong Marks : 0.25

इनमें से कौन - सा विरोध का पर्यायवाची नहीं है?

Options :

1. ✘ विसंगति
2. ✘ अवरोध
3. ✔ साहचर्य
4. ✘ संघर्ष

Question Number : 200 Question Id : 54062619635 Question Type : MCQ Option Shuffling : Yes Is Question Mandatory : No Option

Orientation : Vertical

Correct Marks : 1 Wrong Marks : 0.25

इस अनुच्छेद का कोई उपयुक्त शीर्षक:

Options :

1. ✖ समन्वयवादी सिद्धांत
2. ✔ कबीर का सामाजिक दृष्टिकोण
3. ✖ सांप्रदायिक समाज
4. ✖ संत और समाज